

تم تحميل هذا الملف من موقع المناهج الإماراتية



almanahj.com

موقع
المناهج الإماراتية

*للحصول على أوراق عمل لجميع الصفوف وجميع المواد اضغط هنا

<https://almanahj.com/ae>

* للحصول على أوراق عمل لجميع مواد الصف الثاني اضغط هنا <https://almanahj.com/ae/2>

* للحصول على جميع أوراق الصف الثاني في مادة اجتماعيات ولجميع الفصول, اضغط هنا [2social/ae/com.almanahj//:https](https://almanahj.com/ae/2social)

* للحصول على أوراق عمل لجميع مواد الصف الثاني في مادة اجتماعيات الخاصة بـ الفصل الأول اضغط هنا

<https://almanahj.com/ae/2social1>

* لتحميل كتب جميع المواد في جميع الفصول للـ الصف الثاني اضغط هنا [grade2/ae/com.almanahj//:https](https://almanahj.com/ae/grade2)

للتحدث إلى بوت المناهج على تلغرام: اضغط هنا [bot_almanahj/me.t//:https](https://t.me/bot_almanahj)

رقم الصفحة	33
------------	----

الوقت في الصور

اكتب جميع الكلمات التي على كوكب الأرض التي يمكن من خلالها وصف وقت كوكب الأرض
 مثل ليلته لا تطفئ ويتبع من صفاته ليلته التي تليها التي تسمى "الليل" والتوكب الذي
 مره سنوية يتبعها جميع السموات الأربعة



2



1

مع الكلمات التي بين القوسين في المكان المناسب من المبررات الآتية
 (الربيع - الصيف - الخار - الليل - اليوم)

أ يلى على الوقت في الشكل (2) _____

أ ستر الموه في الشكل (1) هو _____

يتبع الأعداد في الشكل (1) لا تتغير فصل _____

تس حركة الليل والنهار _____

تصل المدرسة في وقت _____

⦿ لاحظ الأشكال الآتية. ثم ضع إشارة (✓) أمام العبارة الصحيحة وإشارة (✗) أمام العبارة غير الصحيحة في كل مما يلي:





6. () يحتوي الماء العذب على الملح.
7. () نسبة المياه المالحة أكبر من المياه العذبة.
8. () يغطي الغلاف المائي 71% من سطح الأرض.
9. () البحار من أقسام المياه العذبة.
10. () جميع الكائنات الحية تحتاج إلى المياه.
11. اكتب فيما يلي عبارة توضح دورك في المحافظة على المياه.

المادة	الدراسات الاجتماعية	الصف	التالي	المسار	تسارح	الفصل	الأول	عدد الصفحات	5
--------	---------------------	------	--------	--------	-------	-------	-------	-------------	---

♦ ارسم شكلاً بسيطاً بوضع المطلوب في كل مما يلي:
26. عمل الأجداد بمهنة السيد للحصول على:

27. نحصل على الخوص من



♦ اكتب الحرف عند الكلمات الآتية في المربع المناسب من الأشكال التي توضح إنجازات بلادي الإمارات:

أ. المدرسة ب. الفخشاء ج. إكسبو 2020 د. برج خليفة



30. إنجازات اقتصادية وسياحية



29. إنجازات عمرانية



28. مسبار الأمل



31. إنجازات تعليمية

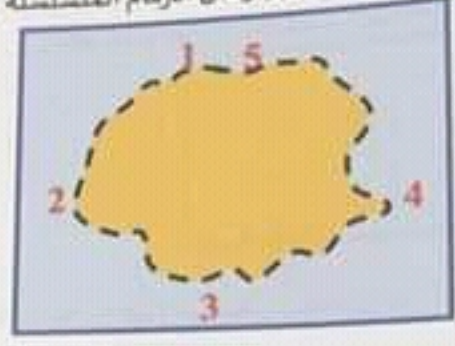
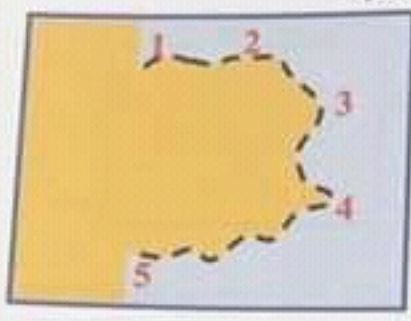
♦ عبر عن رأيك في المواقف الآتية، بكتابة كلمة (نعم) أو (لا) في المكان المناسب لكل منها:

.....	أقدر جهود أجدادنا واحترم المهن التي عملوا بها.	32
.....	أترك المصباح مضاءً في حجرتي عندما أنام ليلاً.	33
.....	أردد النشيد الوطني بحماس عند تحية العلم كل يوم.	34



انتهت الأسئلة، دعواتنا لكم بالتوفيق والنجاح

20. لاحظ الشكلين الآتيين وصل الأرقام المتسلسلة التي تميز الجزيرة:



21. استعن بخريطة دولة الإمارات العربية المتحدة واكتب فيما يلي اسم إحدى الجزر الإماراتية.

22. رتب الحروف الملونة في الجدول الآتي لتستكمل كتابة اسم المناسبة الوطنية التي تحتفل بها دولة الإمارات العربية المتحدة كل عام في يوم 30 نوفمبر.

ي م ل ي ي

ل	و	ح	ش	ط	ن
ي	ع	ا	ي	ز	د
ف	هـ	خ	ب	م	ص

34

ثالثاً: لاحظ الأشكال الآتية، ثم أجب:

◆ اكتب كلمة (الرجل أو المرأة) في المكان المناسب للأشكال الآتية لتوضح المهنة التي عمل بها

أجدادنا في الماضي:



صناعة النسيج



الصيد



صناعة القوص

..... 25

..... 24

..... 23

رسم خريطة دولة الإمارات العربية المتحدة التي هي



12. اسم عاصمة دولة الإمارات العربية المتحدة

13. اسم الإمارة التي تطل على بحر عمان

14. أمانا تطل عند المدن على السواحل الشرقية لدولة الإمارات العربية المتحدة

اختر الإجابة الصحيحة لكل عبارة مما يلي، وضع تحتها خطاً:

15. تطرف دولة الإمارات العربية المتحدة من جهة الشمال على:

د بحر عمان د الخليج العربي د البحر الأحمر

16. يعاود دولة الإمارات العربية المتحدة دول عربية منها:

د السعودية د الكويت د البحرين

17. أكثر أشكال التضاريس انتشاراً في دولة الإمارات:

د السهول د الجبال د الصحراء

18. اجتمع الشيخ زايد آل نهيان والشيخ راشد آل مكتوم -رحمهما الله- لتأسيس الاتحاد في:

د العين د عرقوب المديرة د دبي

19. يشترك الجبال على الخريطة باللون:

د البني د الأخضر د الأصفر