

تم تحميل هذا الملف من موقع المناهج العُمانية

*للحصول على أوراق عمل لجميع الصفوف وجميع المواد اضغط هنا

<https://almanahj.com/ae>

* للحصول على أوراق عمل لجميع مواد الصف الثاني اضغط هنا

<https://almanahj.com/ae/2>

* للحصول على جميع أوراق الصف الثاني في مادة اجتماعيات ولجميع الفصول, اضغط هنا

<https://almanahj.com/ae/2social>

* للحصول على أوراق عمل لجميع مواد الصف الثاني في مادة اجتماعيات الخاصة بـ الفصل الأول اضغط هنا

<https://almanahj.com/ae/2social1>

* لتحميل كتب جميع المواد في جميع الفصول للـ الصف الثاني اضغط هنا

<https://almanahj.com/ae/grade2>

* لتحميل جميع ملفات المدرس عمر حسن إبراهيم عطا الله اضغط هنا

للتحدث إلى بوت على تلغرام: اضغط هنا

https://t.me/almanahj_bot

Omar has anOmar has anOmar has anOmar has an



المعلم عمر حسن إبراهيم عطا الله
مادة الدراسات الاجتماعية

..... الاسم :



1

الصف الثاني

الدراسات الاجتماعية



Alhayer

Omar has anOmar has anOmar has anOmar has anOmar has an



دائرة التعليم والمعرفة
DEPARTMENT OF EDUCATION



وزارة التربية والتعليم
Ministry of Education

المراجعة النهائية

المعلم عم حسن إبراهيم عطا الله
مادة الدراسات الاجتماعية

الوحدة الأولى كوكبنا الأرض

2



الدراسات الاجتماعية



Alhayer

3

1 هي الحركة التي تقوم بها الأرض حول نفسها وحول الشمس

1



A ميل الأرض

B دوران الأرض

C ميل الشمس

D دوران الشمس

2 دوران الأرض حول نفسها مرة كل

2



A 24 ساعة

B 48 ساعة

C 72 ساعة

D 12 ساعة

3 تدور الأرض حول الشمس مرة كل :

3



A 365 يوم

B 254 يوم

C 300 يوم

D 220 يوم

4 ينتج عن دوران الأرض حول نفسها

4



A تعاقب الأشهر

B تعاقب الأيام

C تعاقب الفصول الأربعة

D تعاقب الليل والنهار

4

مظاهر الحياة على الأرض تشمل

5

4

A الحيوان

B النبات

C الانسان

D جميع ماذكر

يطلق على كوكب الارض لقب الكوكب

6



A الأحمر

B الأسود

C الأزرق

D البني

السبب الذي دفع العلماء إلى تسميته بهذا الاسم

7



A وجود التربة

B يغلب عليه الغاز

C يغلب عليه المياه

D لا سبب في ذلك

: كوكب الأرض يتكون من يابس و

8



A تراب

B رمل

C ماء

D غاز

5

: ينتج عن دوران الأرض حول الشمس

9



A تعاقب الليل والنهار

B تعاقب الفصول الأربعة

C تعاقب الأيام

D تعاقب السنوات

: تحلق في فضائي ولا تراني تحتاجني للتنفس أنا

10



A الماء

B التراب

C الشمس

D الهواء

: أنا أساس الحياة " وجعلنا من الماء كل شيء حي "

11



A الثلج

B الهواء

C النفط

D الماء

: تبدو الأرض زرقاء من الفضاء لأن

12



A اليابس تغطي معظم مساحة الكرة

B الماء يغطي معظم مساحة الكرة

C الهواء يغطي معظم مساحة الكرة

D جميع ماذكر

6

: خلقها الله عز وجل ويعيش عليها الانسان هي

13



كرة القدم

A

كرة السلة

B

كرة الطائرة

C

الأرض

D

:الوان اليابسة في الخريطة

14



البنّي والأسود والأحمر

A

البنّي والأخضر والأصفر

B

البنّي والأزرق والأخضر

C

الرمادي والبنّي والأخضر

D

:شكل الأرض

15



كروي

A

بيضاوي

B

شبه كروي

C

دائري

D

: الكوكب الذي يوجد فيه الماء

16



المريخ

A

الأرض

B

الزهرة

C

عطارد

D

7

: أنير الأرض في الليل

17



القمر

A

المريخ

B

الشمس

C

نبتون

D

:أشكل المصدر الرئيس للحرارة

18



الشمس

A

القمر

B

نبتون

C

عطار

D

:هو المكان الذي توجد فيه الأرض والشمس والقمر

19



السماء

A

القمر

B

الفضاء

C

الهواء

D

: ينام الانسان في

20



النهار

A

الليل

B

طول اليوم

C

طول السنة

D

8

: يعمل أبي في

21



A الليل

B النهار

C طول اليوم

D لا يعمل

: في النهار أذهب إلى

22



A السرير

B البقالة

C المدرسة

D المول

: التدور الأرض حول الشمس من جهة

23



A الشمال إلى الجنوب

B الشرق إلى الغرب

C الغرب إلى الشرق

D الشمال إلى الشرق

: الاعتدال الربيعي في

24



A 21 مارس

B 21 يونيو

C 23 ديسمبر

D 23 سبتمبر

9

: الانقلاب الشتوي في

25

21 مارس A21 يونيو B21 ديسمبر C23 سبتمبر D

: الاعتدال الخريفي في

26

21 مارس A21 يونيو B21 ديسمبر C23 سبتمبر D

: الانقلاب الصيفي

27

23 سبتمبر A21 ديسمبر B21 يونيو C21 مارس D

: تترك الحيوانات بيوتها لتعيش في مكان دافئ في فصل

28

الصيف Aالشتاء Bالخريف Cالربيع D

10

: جو معتدل تزهر فيه الأشجار فصل

29



A الربيع

B الخريف

C الشتاء

D الصيف

: تتساقط الأوراق عن الشجر في فصل

30



A الربيع

B الشتاء

C الخريف

D الصيف

تسقط الأمطار بغزارة في فصل

31



A الشتاء

B الصيف

C الربيع

D الخريف

: يكون الجو حار في فصل، نذهب فيه للبحر

32



A الربيع

B الخريف

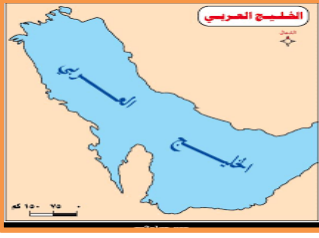
C الصيف

D الشتاء

11

الصورة المقابلة تدل على

33



بحر

A

محيط

B

خليج

C

نهر

D

مسطحات مائية أصغر من المحيطات في المساحة والعمق

34



نهر

A

بحر

B

بحيرة

C

يابس

D

مسطح كبير جدا من الماء المالح

35



النهر

A

البحر

B

المحيط

C

الخليج

D

: مسطح مائي تحيط به اليابس من ثلاث جهات

36



الخليج

A

البحر

B

النهر

C

المحيط

D

12

مخلوق يعيش في البحار

37



A بقر

B سمك

C ضفدع

D نمر

واحد من التالي ليس من المحيطات

38



A المحيط الهادي

B المحيط الاطلنطي

C المحيط الهندي

D قارة آسيا

وسيلة نقل في البحار والمحيطات

39



A السيارة

B الطائرة

C القطار

D السفينة

المخلفات والأكياس في البحار الأسماك

40



A تتعش

B تزيد

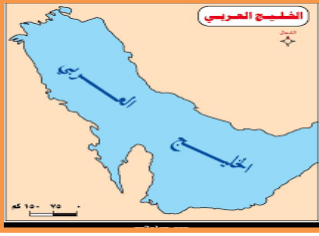
C تدمر

D تنوع

13

تشرف بلادي على الخليج

41



البنغالي

A

بهرنج

B

عدن

C

العربي

D

أكبر المحيطات مساحة هو

42



المحيط الهادي

A

المحيط الاطلنطي

B

المحيط الهندي

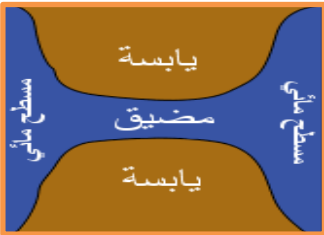
C

المتجمد الشمالي

D

هو عبارة عن ممر مائي ضيق يصل ماء بماء

43



البحر

A

الخليج

B

المضيق

C

النهر

D

: الغواص الإماراتي يغوص في البحار بحثاً عن

44



الذهب

A

اللؤلؤ

B

السماك

C

الفضة

D

14

عدد القارات في العالم هو

45

7

4

A

5

B

6

C

7

D

أكبر قارة في العالم هي قارة

46



اسيا

A

أوروبا

B

افريقيا

C

استراليا

D

ثاني اكبر القارات من حيث السكان والمساحة

47



اسيا

A

أوروبا

B

افريقيا

C

استراليا

D

جزيرة كبيرة محاطة بالماء وهي اصغر القارات من حيث المساحة هي

48



اسيا

A

أوروبا

B

افريقيا

C

استراليا

D

15

أنا ثاني أصغر القارات في العالم ومن أشهر جبالي جبال الألب أنا

49



آسيا

A

أوروبا

B

أمريكا الجنوبية

C

القارة المتجمدة الجنوبية

D

أنا ثالث قارات العالم من حيث المساحة تقع بين أحضاني كندا

50



اسيا

A

أوروبا

B

أمريكا الشمالية

C

استراليا

D

أنا رابع قارة من حيث المساحة يعيش على أرضي حيوان اللاما أنا

51



اسيا

A

أمريكا الجنوبية

B

افريقيا

C

استراليا

D

أنا قارة باردة يعيش معي طائر البطريق

52



اسيا

A

أوروبا

B

افريقيا

C

القارة القطبية الجنوبية

D

16

أي من الحيوانات تمثل هذه الصورة

53



الجمل

A

الخروف

B

البطريق

C

اللاما

D

أي من الحيوانات تمثل هذه الصورة

54



الجمل

A

الخروف

B

البطريق

C

اللاما

D

تقع بلادي دولة الإمارات في قارة

55



اسيا

A

أمريكا الجنوبية

B

افريقيا

C

استراليا

D

56 : هي قطعة كبيرة من اليابس تحتوي على عدد من الدول والجزر. مفهوم



الجزيرة

A

اليابسة

B

القارة

C

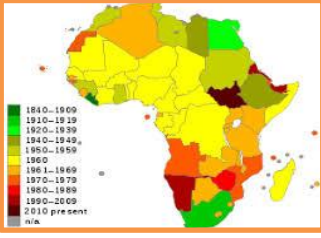
المحيط

D

17

القارة السوداء هي

57

أوروبا Aآسيا Bأفريقيا Cأمريكا الشمالية D

أي من الحيوانات تمثل هذه الصورة

58

الجمل Aالخروف Bالباندا Cاللاما D

تقع قمة أفرست في قارة

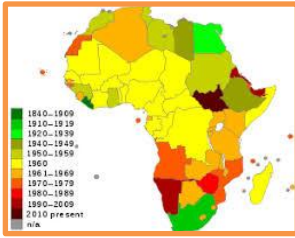
59

اسيا Aأمريكا الجنوبية Bافريقيا Cاستراليا D

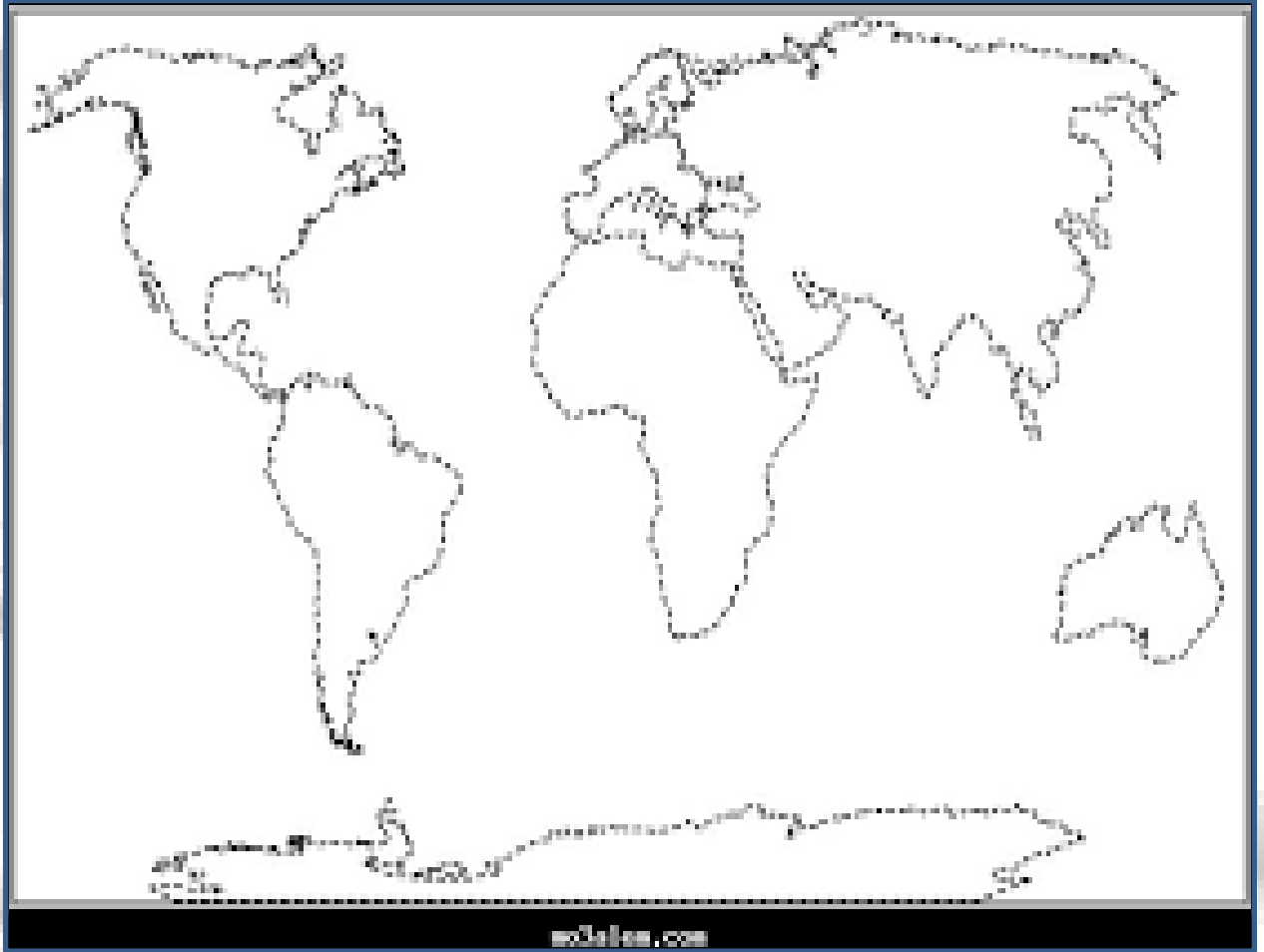
هي قطعة كبيرة من اليابس تحتوي على عدد من الدول والجزر. مفهوم

60

الجزيرة Aاليابسة Bالقارة Cالمحيط D



عين القارات والمحيطات في العالم مستخدم الالوان المختلفة



20

تتكون الأرض من

63



A يابس - والماء

B الغاز - الهواء

C التراب - الماء

D التراب والغاز

القسم الذي تغطيه المياه هو

64



A الغلاف الحيوي

B الغلاف الجوي

C الغلاف الأرضي

D الغلاف المائي

القسم الذي تغطيه اليابس يعرف بـ

65



A الغلاف الجوي

B الغلاف الأرضي

C الغلاف المائي

D الغلاف الحيوي

من الشكل التالي كم تبلغ نسبة اليابس على الكرة الأرضية

66



A 29%

B 89%

C 71%

D 61%

21

الماء العذب هو الماء

67



A الصالح للشرب

B الصالح للاستخدامات المنزلية

C لا يوجد فيه ملح

D A-C

من الشكل كم تبلغ نسبة المياه المالحة

68



A 3%

B 5%

C 6%

D 97%

من الشكل التالي كم تبلغ نسبة المياه العذبة

69



A 97%

B 6%

C 3%

D 90%

من الشكل التالي كم تبلغ نسبة المياه على الكرة الأرضية :

70



A 29%

B 89%

C 71%

D 61%

22

تتواجد المياه على شكل

71

4

A نهر

B بحر

C محيط

D جميع ماذكر

المياه المالحة توجد في شكل

72



A نهر

B بحيرة

C كتل جليدية

D بحر

توجد المياه العذبة على شكل

73



A بحر

B محيط

C بحيرة مالحة

D نهر

هو موقع المكان على سطح الأرض :

74



A الموقع النسبي

B الموقع الفلكي

C الموقع الجغرافي

D الموقع الاستراتيجي

23

قارات العالم القديم

75



A آسيا - أوروبا - أمريكا الجنوبية

B آسيا - أفريقيا - أمريكا الجنوبية

C آسيا - أوروبا - أفريقيا

D استراليا - أوروبا - أمريكا الجنوبية

تقع دولة الإمارات بالنسبة للعالم القديم في

76



A الشرق

B الغرب

C الشمال

D الوسط

تقع دولة الإمارات بالنسبة آسيا

77



A الشمال

B الغرب

C الجنوب الشرقي

D الجنوب الغربي

: هو موقع الدولة بالنسبة للدول المجاورة

78



A الموقع النسبي

B الموقع الفلكي

C الموقع الجغرافي

D الموقع الاستراتيجي



A آسيا - أوروبا - أمريكا الجنوبية

B آسيا - أفريقيا - أمريكا الجنوبية

C آسيا - أوروبا - أفريقيا

D استراليا - أوروبا - أمريكا الجنوبية

تقع دولة الإمارات بالنسبة لشبه الجزيرة

80



A الشرق

B الغرب

C الشمال

D الوسط

تقع دولة الإمارات بالنسبة للوطن العربي

81



A الشمال

B الغرب

C الشرق

D الجنوب الغربي

: هو موقع الدولة بالنسبة للخطوط الطول ودوائر العرض

82



A الموقع النسبي

B الموقع الفلكي

C الموقع الجغرافي

D الموقع الاستراتيجي

25

تجاور الإمارات من جهة الغرب

83



عُمان

A

الخليج العربي

B

بحر عُمان

C

السعودية

D

تجاور سلطنة عُمان من جهة

84



الشرق

A

الغرب

B

الشمال

C

الوسط

D

يجاور الخليج العربي الإمارات من جهة

85



الشمال

A

الغرب

B

الجنوب الشرقي

C

الجنوب الغربي

D

البحر الذي تشرف عليه الإمارات من جهة الشرق هو :

86



البحر الأحمر

A

بحر عُمان

B

البحر الميت

C

البحر المتوسط

D

26

أرض منخفضة مستوية تمتد بالقرب من البحر هذا مفهوم

87



السهول الساحلية

A

السهول

B

السهول الداخلية

C

المناطق المنخفضة

D

هي كثبان رملية تغطي مساحة كبيرة من أرض دولتي الحبيبية مفهوم

88



السهول

A

الجبال

B

الهضبة

C

الصحراء

D

أرض مرتفعة لها قمة مفهوم

89



السهول

A

الصحراء

B

الجبال

C

الوادي

D

أرض منخفضة وسط الصحراء تتوافر فيها المياه العذبة :

90



السهول

A

الواحة

B

الجبال

C

الصحراء

D

27

أرض منخفضة مستوية داخل الدولة هذا مفهوم

91



A السهول الساحلية


B السهول

C السهول الداخلية

D المناطق المنخفضة

السهول الساحلية الشرقية مقارنة مع الغربية

92



A قصيرة وواسعة

B واسعة وطويلة

C قصيرة وضيقة

D طويلة وضيقة

السهول الساحلية الغربية تشرف على

93



A بحر عُمان

B الخليج العربي

C البحر الأحمر

D البحر المتوسط

السهول الساحلية الشرقية تشرف على

94



A بحر عُمان

B الخليج العربي

C البحر المتوسط

D البحر الأحمر



A الفجيرة وكلباء ودبا

B العين وابوظبي

C دبي وعجمان

D الفجيرة ودبي



A كلباء والفجيرة ودبا ودبي والعين

B كلباء ودبي والرويس وعجمان والشارقة

C دبي والشارقة وعجمان

D راس الخيمة وام القيوين والشارقة وعجمان وأبوظبي ودبي



A دبي

B عجمان

C أبوظبي

D الشارقة



A بحر عُمان

B الخليج العربي

C البحر المتوسط

D البحر الأحمر



30

حدد الإمارة التي يقع فيه المعلم الموجود في الصورة

100



عجمان

A

أبوظبي

B

دبي

C

الشارقة

D

حدد الإمارة التي يقع فيه المعلم الموجود في الصورة

101



الشارقة

A

أبوظبي

B

الفجيرة

C

رأس الخيمة

D

حدد الإمارة التي يقع فيه المعلم الموجود في الصورة

102



دبي

A

عجمان

B

أبوظبي

C

الشارقة

D

حدد الإمارة التي يقع فيه المعلم الموجود في الصورة

103



عجمان

A

الفجيرة

B

رأس الخيمة

C

دبي

D

30

حدد الإمارة التي يقع فيه المعلم الموجود في الصورة

104



عجمان

A

أبوظبي

B

دبي

C

راس الخيمة

D

حدد الإمارة التي يقع فيه المعلم الموجود في الصورة

105



الشارقة

A

أبوظبي

B

الفجيرة

C

رأس الخيمة

D

حدد الإمارة التي يقع فيه المعلم الموجود في الصورة

106



دبي

A

عجمان

B

أم القيوين

C

الشارقة

D

هي أصغر إمارات الدولة

107



أم القيوين

A

الفجيرة

B

رأس الخيمة

C

عجمان

D

31

تعرف قديماً « جلفار »

108



عجمان

A

أبو ظبي

B

دبي

C

راس الخيمة

D

يوجد فيه سوق الجمعة

109



الشارقة

A

أبو ظبي

B

الفجيرة

C

رأس الخيمة

D

مشهورة تجارة اللؤلؤ قديماً

110



دبي

A

عجمان

B

أم القيوين

C

الشارقة

D

32

عاصمة الثقافة

111



عجمان

A

أبوظبي

B

الشارقة

C

راس الخيمة

D

عاصمة الدولة

112



الشارقة

A

أبوظبي

B

الفجيرة

C

رأس الخيمة

D

هي المدينة الاقتصادية في الدولة

113



دبي

A

عجمان

B

أم القيوين

C

الشارقة

D



دائرة التعليم والمعرفة
DEPARTMENT OF EDUCATION
AND KNOWLEDGE



وزارة التربية والتعليم
Ministry of Education

كتاب النشاط



المعلم عم حسن إبراهيم عطا الله
مادة الدراسات الاجتماعية

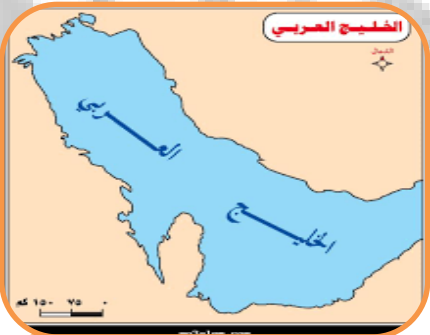
ملاحق الوحدة الأولى



الدراسات الاجتماعية

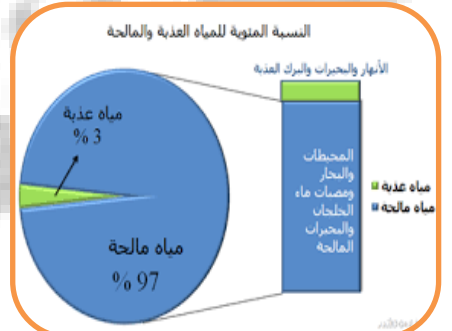
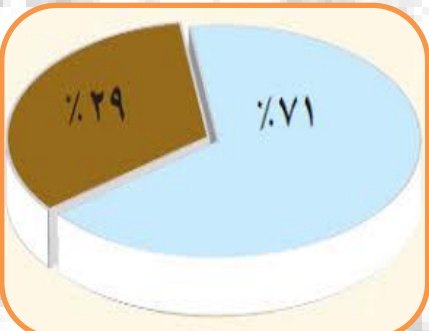
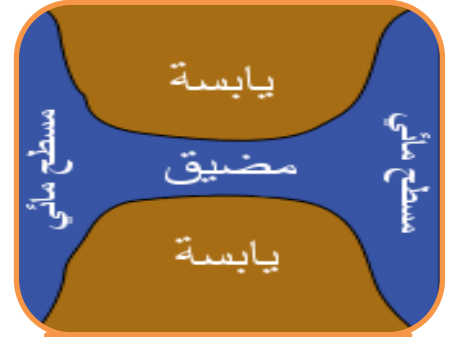


Alhayer




وضح دلالات الصور التالية التي تتعلق بكوكب الأرض والبحار والمحيطات

35



وضح طبيعة العلاقة بين الصور التالية

36





دائرة التعليم والمعرفة
DEPARTMENT OF EDUCATION
AND KNOWLEDGE



وزارة التربية والتعليم
Ministry of Education

كتاب النشاط



المعلم عمر حسن إبراهيم عطا الله
مادة الدراسات الاجتماعية

الوحدة الثانية قصة وطن



الدراسات الاجتماعية



Alhayer



A الغدر

B الخيانة

C الفرقة

D التعاون

دور الأم القديم الاساسي في المجتمع الإماراتي هو



A مهندسة

B طبيبة

C معلمة

D تربية الأبناء

عمل الرجل الإماراتي في القدم



A مهندس

B طيار

C الغوص

D الحدادة

كيف كان الأطفال يقضون أوقاتهم في السابق



A الألعاب

B العمل

C تنظيم البيت

D تربية اخوتهم

39

من صنع بلادي

5



A احترام الصغير والعطف على الكبير

B احترام الكبير والعطف على الصغير

C عقوق الوالدين

D القسوة على الصغار

الحمد لله الذي أنعم علينا بنعمة

6



A القيادة والاتحاد

B القيادة والعطف

C القيادة والفرقة

D الاتحاد

واحدة من التالي ليس من أعمال المرأة الإماراتية قديماً

7



A مهندسة

B ربة بيت

C صناعة الخوص

D صناعة التلي

قصص الجدات في القدم كانت تعرف باسم

8



A الكاجوجة

B الرحي

C الشعر

D الخروفة















القهوة - الكرم - التعاون - محبة الجار - احترام كبار السن - الغميضة - التلي -
الصقلة - الغوص - المطوع - الكتاتيب - المعلم الأول



41

يرجع الفضل في نشر العلم في القدم إلى

11



المهندس

A

الطبيب

B

المطوع

C

المعلم

D

يقول الشيخ زايد يجب أن يقترن المال بـ

12



القيادة

A

المال

B

العلم

C

القوة

D

واحدة من التالية ليس من المواضيع التي تدرس في الكتاب

13



الهندسة والطب والفلك والفيزياء واللغة الانجليزية

A

الحساب

B

القرآن


C

القراءة والكتابة

D

كان يطلق على حفلة ختم القرآن

14



الختمة

A

الحفظ

B

حفلة

C

التومينة أو التحميدة

D

















المناطق
الداخلية

4

البيئة
الصحراوية


3

البيئة
الجبلية

2

البيئة
الساحلية

1



44

نحصل على الصوف من

17



الماعز

A

الخروف

B

البقر

C

الجمال

D

نحصل على الشعر من

18



الخروف

A

الماعز

B

الجمال

C

البقر

D

نحصل على الحليب من

19



الأسد

A

الثعلب

B

البقر

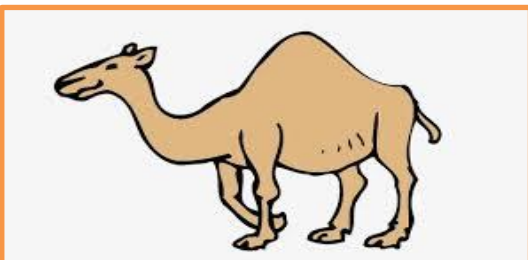
C

القط

D

سفينة الصحراء

20



الخروف

A

الجمال

B

الماعز

C

الأسد

D

44

واحدة من التالي تمثل سبب عمل الانسان

21



التعب

A

المشقة

B

الرفاهية

C

كسب الرزق

D

تختلف المهن باختلاف

22



المال

A

المزاج

B

البيئة

C

الجو

D

ماذا تمثل الصورة التالية

23



اجتماع دبي الأول

A

اجتماع دبي الثاني

B

عرقوب السديرة

C

قيام الاتحاد

D

صاحب فكرة قيام الاتحاد هو الشيخ

24



محمد

A

خالد

B

عبدالله

C

زايد

D

دبي الثاني

دبي الأول

عرقوب السديرة

إعلان الاتحاد



قام الاتحاد في عام (ضع دائرة)



1918

1932

1961

أول رئيس للدولة هو



أول نائب لرئيس للدولة هو

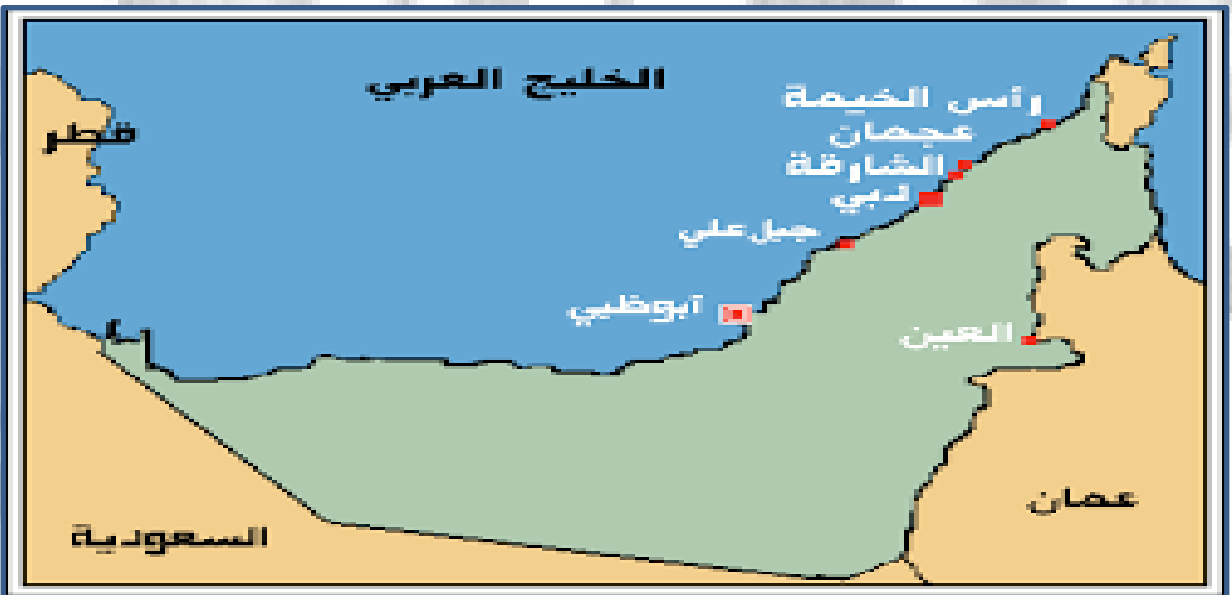


دبي الثاني

دبي الأول

قيام الدولة

السديرة



التعليمي

الصحي

العسكري

العمراني



انجازات حديثة (البيئة - الفضاء - الطاقة)



ضع دائرة على الصورة التي أحافظ فيها على انجازات بلادي



ضع دائرة على الصورة التي نستفيد من الرياح في توليدها

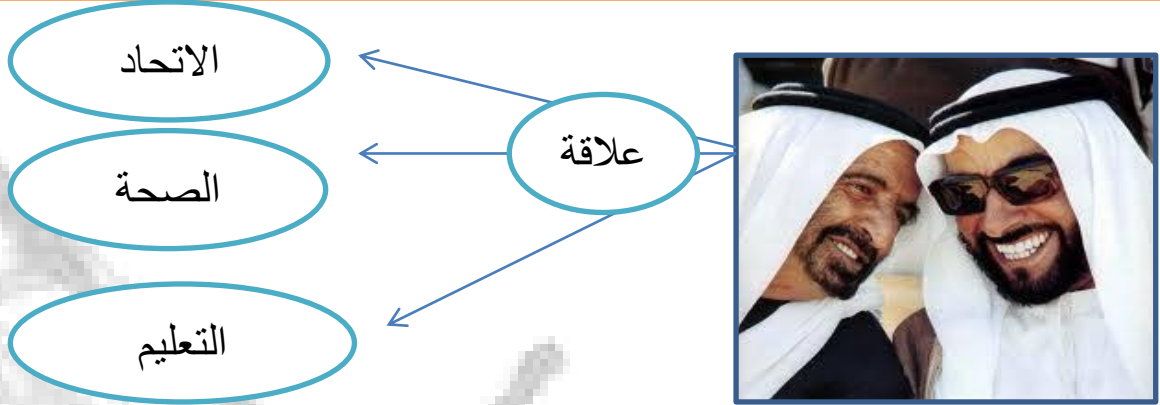


سلوك غير صحيح

سلوك صحيح



النشاط الأول : طبيعة العلاقة بين محتويات الصورة التالية



النشاط الثاني : ضلل رمز الإجابة الصحيحة :

فكر في قيام الاتحاد وتوحيد أركان الدولة ، هو صاحب السمو الشيخ
 محمد صقر زايد سعود

شارك الشيخ زايد رحمه الله في وضع بذور الوحدة هو الشيخ
 سعيد راشد خليفة محمد

كان تأسيس دولة الإمارات العربية في عام
 1971 1982 1981 1972

تل مرتفع من الرمال يقع بالصحراء هو
 الجبل الوادي العرقوب الهضبة

أول رئيس لدولة الإمارات العربية المتحدة هو الشيخ
 محمد راشد سعود زايد

إن رفع مستوى المواطن والدولة ككل هو رائدنا وفوق كل شيء،
 والدولة مثل الشجرة التي يجب أن تحظى بعناية مواطنيها وحرصهم
 على تنميتها، وكل مواطن عليه أن يحترم وطنه

من أقوال زايد
 رحمه الله

النشاط الأول: عزيزي المجهتد استخرج من الكلمات الموجودة في الصندوق إجابة الأسئلة التالية؟ من خلال اختيار الإجابة الصحيحة فيما يلي

ع	ز	ا	ل	ا	ي
ر	د	و	ا	ب	ب
ق	ب	ل	ن	ي	د
و	ي	ر	ا	ا	شد
ب	ا	ل	ث	1971	ة
ا	ل	س	د	ي	ر

الخطوة الأولى في قيام الاتحاد :
 دبي الأول دبي الثاني
 السديرة إعلان الاتحاد

الخطوة الثانية في قيام الاتحاد :
 دبي الأول دبي الثاني
 السديرة إعلان الاتحاد

الخطوة الرابعة في قيام الاتحاد :
 دبي الأول دبي الثاني
 السديرة إعلان الاتحاد

الخطوة الثالثة في قيام الاتحاد :
 دبي الأول دبي الثاني
 السديرة إعلان الاتحاد

أول نائب لرئيس للاتحاد :
 زايد راشد
 محمد صقر

أول رئيس للاتحاد :
 زايد راشد
 محمد صقر

تتكون دولة الإمارات من إمارات

سبع عشرة
 خمس تسع

.....-.....-2018m

.....-.....-1439h

لا بد من الحفاظ على تراثنا؛ لأنه الأصل والجذور، وعلينا أن نتمسك بأصولنا وجذورنا العميقة.

من أقوال زايد
رحمه الله



• حاكم أم القيوين

49

الهدف العام :حكام الإمارات



• حاكم راس الخيمة



• حاكم عجمان



• حاكم الفجيرة



• حاكم دبي



• حاكم الشارقة



• حاكم أبو ظبي

كم عدد أعضاء المجلس الأعلى

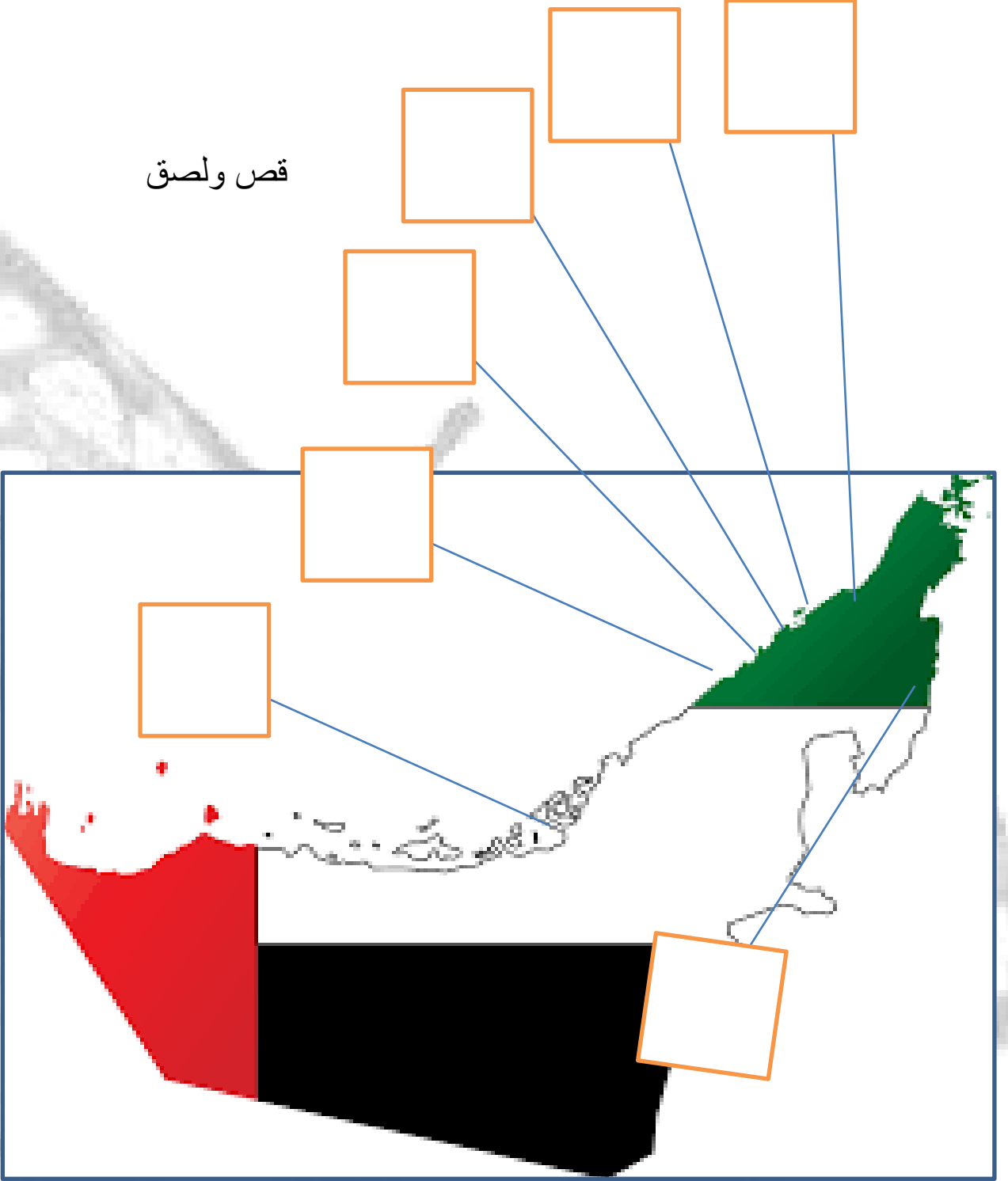
كم عدد إمارات الدولة

كم نصيب كل إمارة من المجلس الأعلى

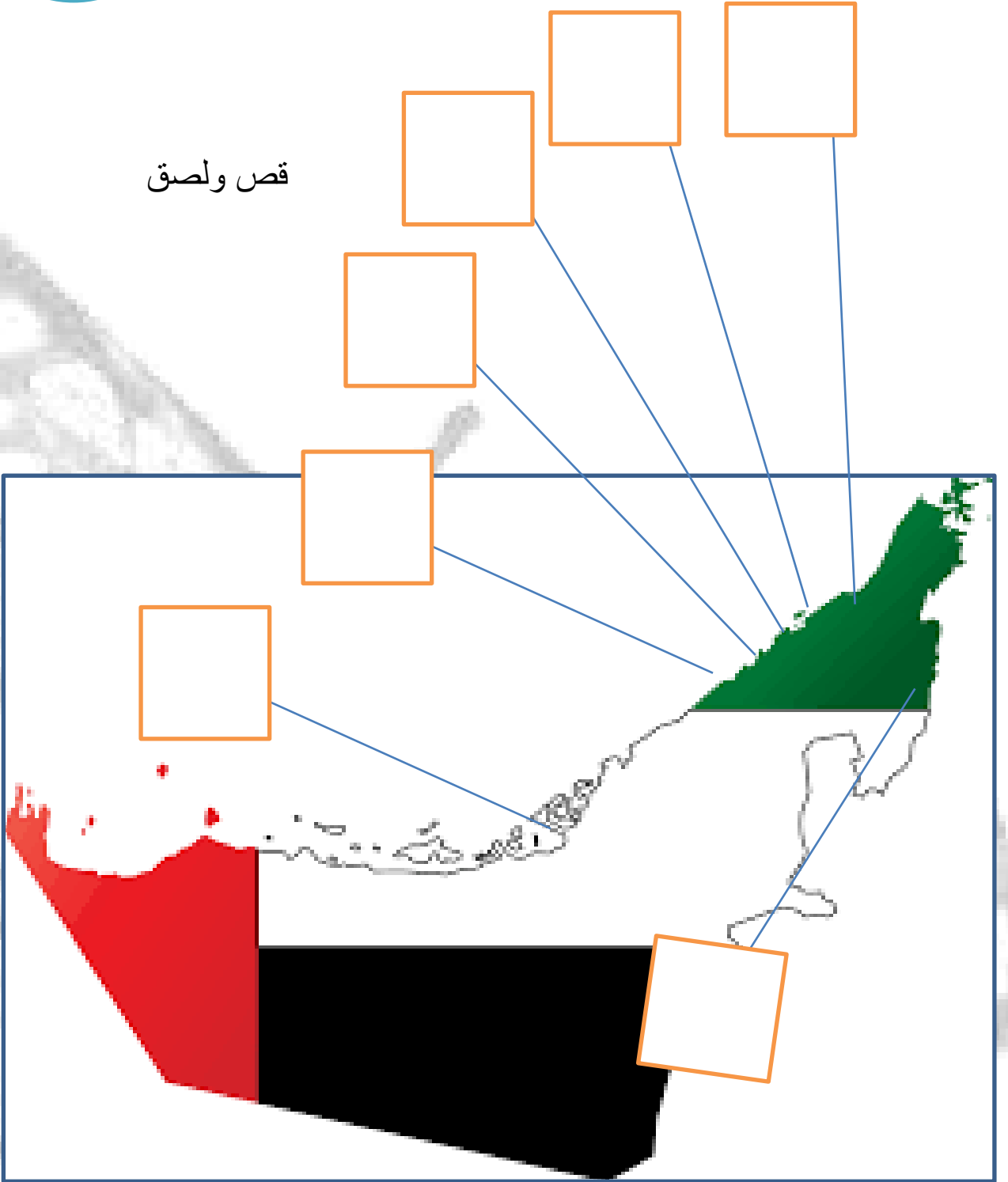
كم سنة يستمر الحاكم في رئاسة الدولة

الربط الصورة مع المعلومة

قص ولصق



قص ولصق





52



صاحب السمو الشيخ سلطان
بن محمد القاسمي
الشارقة

صاحب السمو محمد بن راشد
آل مكتوم
دبي

صاحب السمو الشيخ خليفة بن
زايد آل نهيان
أبوظبي

صاحب السمو الشيخ سعود بن
راشد المعلا
أم القيوين

صاحب السمو الشيخ حميد بن
راشد النعيمي
عجمان

صاحب السمو الشيخ سعود بن
صقر القاسمي
رأس الخيمة

صاحب السمو الشيخ حمد بن
محمد الشرقي
الفجيرة

النتائج التعليمي : يتعرف الموقع الجغرافي للجزر المحتلة

مستوى 1

الموضوع : الجزر الإماراتية

الاسم : الصف الثاني الشعبة

10

عام

ضع الرقم المناسب في الخانة الصحيحة

2شبه جزيرة

3 مضيق

1 جزيرة

جميع
الجهات

ثلاث
جهات

ممر مائي

ماء

ماء

ماء

ماء

ماء

يابس

ماء

ماء

ماء

يابس

يابس

ماء

ارسم جزيرة ولونها

الجزر
المحتلة

.....-.....-2018m

.....-.....-1439h

نؤمن بضرورة توفر المناخ الحر الذي لا يبد منه
لكي تخضب الأفكار وتتفاعل الآراء وصولاً
للأفضل

من أقوال زايد
رحمه الله

مستوى 2

الناجح التعليمي : يتعرف الموقع الجغرافي للجزر المحتلة

الموضوع : الجزر الاماراتية

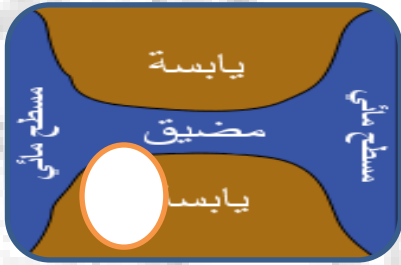
ضع الرقم المناسب في الخانة الصحيحة

2شبه جزيرة

3 جزيرة

1 مضيق

10



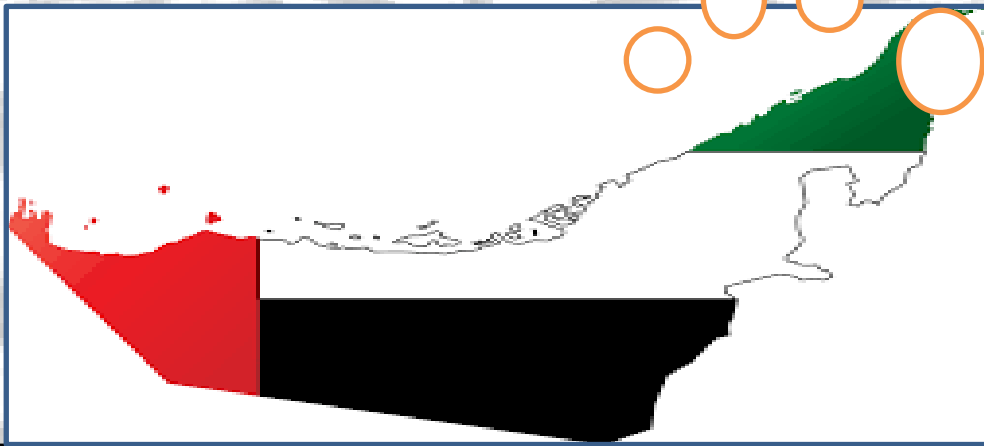
ضع الرقم المناسب في الخانة الصحيحة

4 طناب الصغرى

3 طناب الكبرى

2 أبو موسى

1 هرمز



.....-.....-2018m

.....-.....-1439h

العلاج بالعمل هو أحدث الوسائل للقضاء على الأمراض النفسية والتغلب على المشاكل التي تعترض إنسان هذا العصر.

من أقوال زايد رحمه الله

جَزِيرَةٌ - بَحْرٌ - صُخُورٌ - سَفِينَةٌ

كَلِمَاتُ الْمُسَاعِدَةِ



النشاط الأول : طبيعة العلاقة بين محتويات الصورة التالية



النشاط الثاني : ضلل رمز الإجابة الصحيحة :

من شهداء الوطن، سقط شهيد وقت العدوان الإيراني
 محمد سالم زايد سعود

الجزيرة التي سقط فيها أول شهيد هي جزيرة
 دلما أبو موسى طناب الكبرى طناب الصغرى

تم احتلال الجزر الامارتية في عام
 1971 1982 1981 1972

الاحتلال كان الاتحاد
 قبل بعد خلال جميع ما ذكر

عمل الشهيد سالم في مهنة
 الشرطي الطبيب المهندس المحامي

.....-.....-2018m

.....-.....-1439h

العلاج بالعمل هو أحدث الوسائل للقضاء على الأمراض النفسية
 والتغلب على المشاكل التي تعترض إنسان هذا العصر.

من أقوال زايد
 رحمه الله



عبدالله المعينة



الشيخ زايد



سالم سهيل



عارف الشيخ



يوم الشهيد



صممه



كتبه



أول من رفعه

58

اللون الأحمر في العلم يرمز إلى

35



الشهداء

A

البيئة

B

السلام

C

الشجاعة

D

اللون الأخضر في العلم يرمز إلى

36



الشهداء

A

الشجاعة

B

البيئة

C

السلام

D

اللون الأبيض في العلم يرمز إلى

37



البيئة

A

الشجاعة

B

الشهداء

C

السلام

D

اللون الأسود في العلم يرمز إلى

38

أحبك يا
وطنني

السلام

A

البيئة

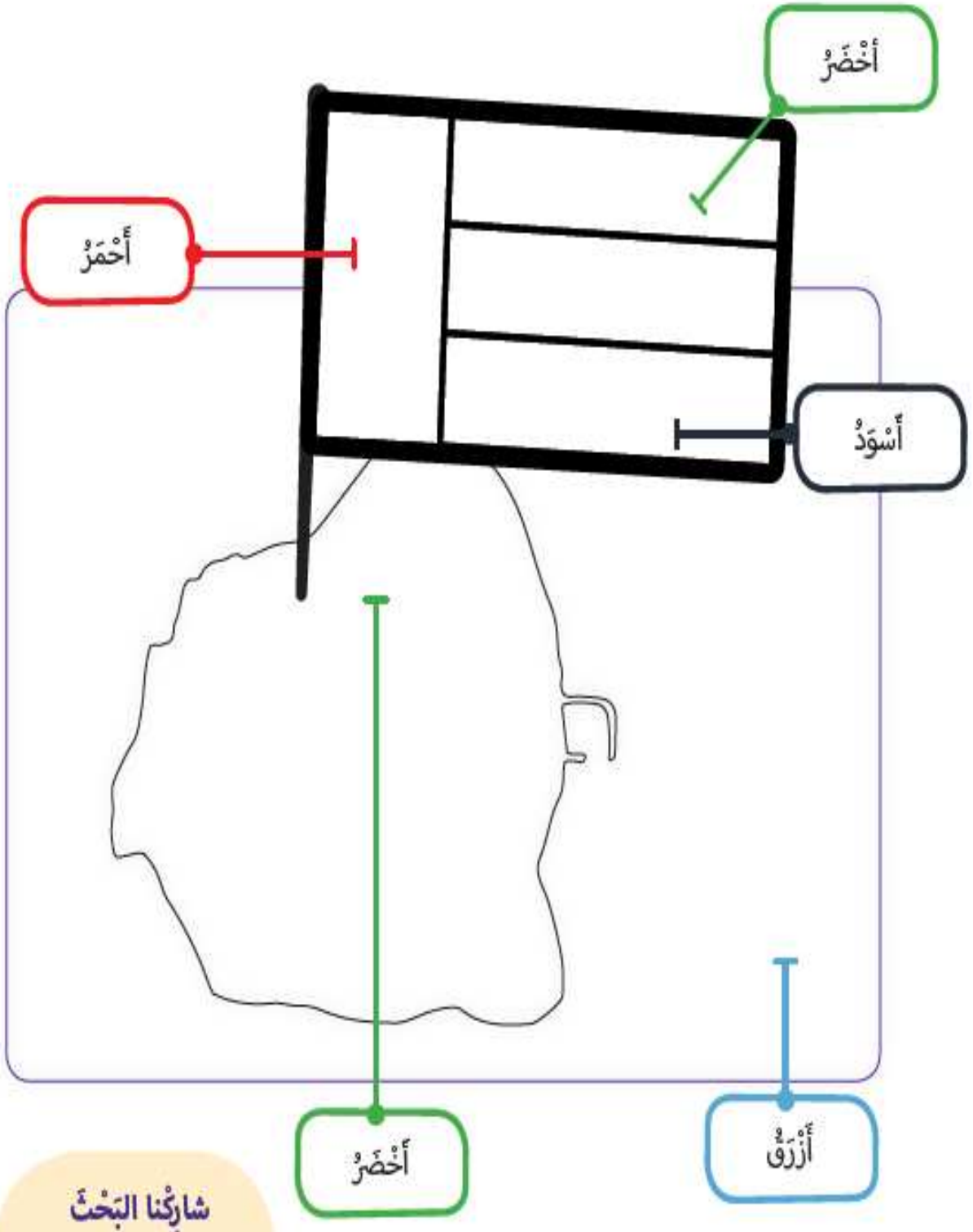
B

الشجاعة وحب الوطن

C

الشهداء

D



Omar has anOmar has anOmar has anOmar has an



المعلم عمر حسن إبراهيم عطا الله
مادة الدراسات الاجتماعية

الاجابات



1

الصف الثاني

الدراسات الاجتماعية



Alhayer

Omar has anOmar has anOmar has anOmar has anOmar has an

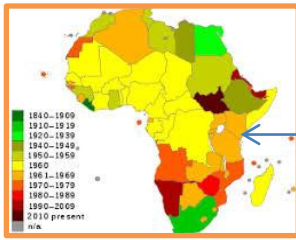
الاجابة	الرقم
C	33
B	34
C	35
A	36
B	37
D	38
D	39
C	40
D	41
A	42
C	43
B	44
D	45
A	46
C	47
D	48

الاجابة	الرقم
A	17
A	18
C	19
B	20
B	21
C	22
C	23
A	24
C	25
D	26
C	27
B	28
A	29
C	30
A	31
C	32

الاجابة	الرقم
B	1
A	2
A	3
D	4
D	5
C	6
C	7
C	8
B	9
D	10
D	11
B	12
D	13
B	14
C	15
B	16

الرقم	49	50	51	52	53	54	55	56	57
الاجابة	B	C	B	D	D	C	A	C	C

الرقم	58	59	60	61	62	63	64	65	66
الاجابة	C	A	C	صل	خريطة	A	D	B	A



عين القارات والمحيطات في العالم مستخدم الالوان المختلفة

المتجمد الشمالي



الاجابة	الرقم
خريطة	99
C	100
B	101
D	102
A	103
D	104
C	105
C	106
D	107
D	108
C	109
C	110
C	111
B	112
A	113

الاجابة	الرقم
D	83
A	84
A	85
B	86
A	87
D	88
C	89
B	90
C	91
C	92
B	93
A	94
A	95
D	96
C	97
A	98

الاجابة	الرقم
D	67
D	68
C	69
C	70
D	71
D	72
D	73
C	74
C	75
D	76
D	77
A	78
C	79
A	80
C	81
B	82

Omar has anOmar has anOmar has anOmar has an



المعلم عمر حسن إبراهيم عطا الله
مادة الدراسات الاجتماعية

الاجابات



1

الوحدة الثانية

الدراسات الاجتماعية



Alhayer

Omar has anOmar has anOmar has anOmar has anOmar has an



القهوة - الكرم - التعاون - محبة الجار - احترام كبار السن - الغميضة - التلي -
الصقلة - الغوص - المطوع - الكتاتيب - المعلم الأول



التلي



الغميضة



احترام الكبير



التعاون



القهوة



الكرم



محبة الجار




الغوص



الصقلة



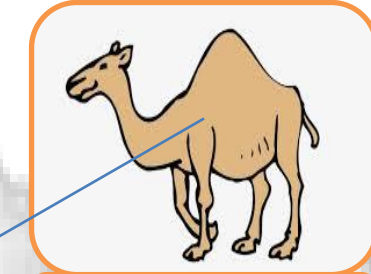
المعلم الأول



المطوع



الكتاب



المناطق
الداخلية

4

البيئة
الصحراوية

3

البيئة
الجبلية

2

البيئة
الساحلية

1




4



4



1



3



4



1

دبي الثاني

دبي الأول

عرقوب السديرة

إعلان الاتحاد



دبي الثاني



السديرة



دبي الأول



قيام الدولة

قام الاتحاد في عام (ضع دائرة)



1918

1932

1961

أول رئيس للدولة هو



أول نائب لرئيس للدولة هو



دبي الثاني

٣

دبي الأول

٢

قيام الدولة

٤

السديرة

١



٣



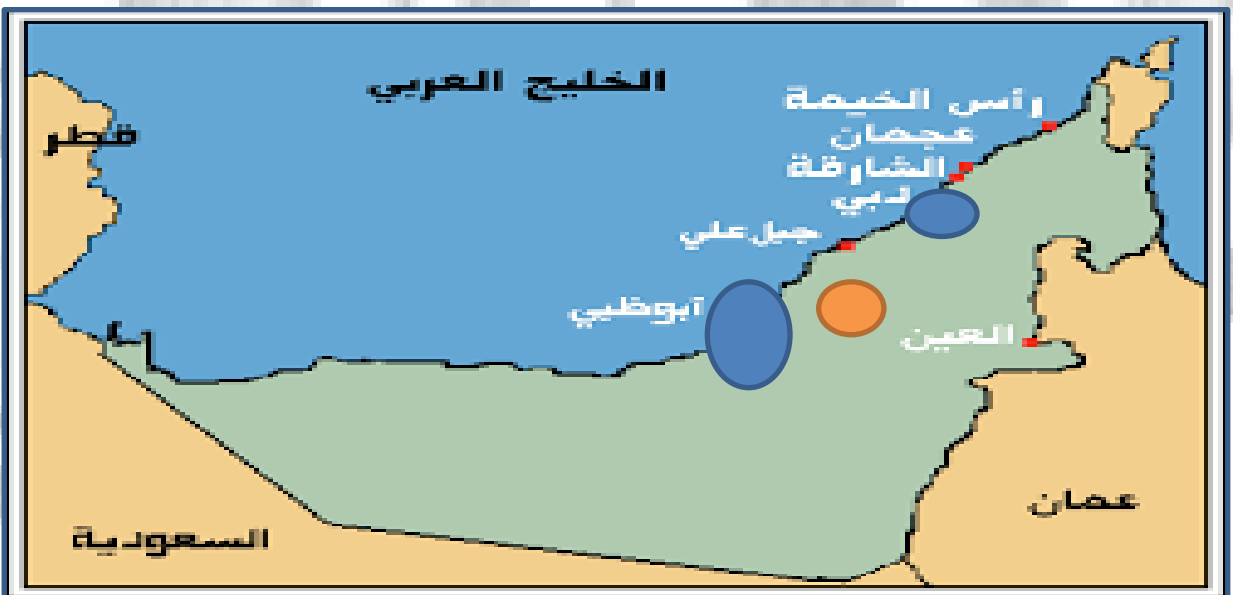
١



٢



٤



التعليمي

الصحي

العسكري

العمراني



عمراني



تعليمي



عسكري



صحي


انجازات حديثة (البيئة - الفضاء - الطاقة)



ضع دائرة على الصورة التي أحافظ فيها على انجازات بلادي



ضع دائرة على الصورة التي نستفيد من الرياح في توليدها



سلوك غير صحيح

سلوك صحيح



النشاط الأول: عزيزي المجتهد استخراج من الكلمات الموجودة في الصندوق إجابة الأسئلة التالية؟ من خلال اختيار الإجابة الصحيحة فيما يلي

ع	ز	ا	ل	ا	ي
ر	د	و	ا	يد	ب
ق	ب	ل	ن	ي	د
و	ي	ر	ا	ا	شد
ب	ا	ل	ث	1971	ة
ا	ل	س	د	ي	ر

الخطوة الأولى في قيام الاتحاد :
 دبي الأول دبي الثاني
 السديرة إعلان الاتحاد

الخطوة الثانية في قيام الاتحاد :
 دبي الأول دبي الثاني
 السديرة إعلان الاتحاد

الخطوة الرابعة في قيام الاتحاد :
 دبي الأول دبي الثاني
 السديرة إعلان الاتحاد

الخطوة الثالثة في قيام الاتحاد :
 دبي الأول دبي الثاني
 السديرة إعلان الاتحاد

أول نائب لرئيس للاتحاد :
 زايد راشد
 محمد صقر

أول رئيس للاتحاد :
 زايد راشد
 محمد صقر

تتكون دولة الإمارات من إمارات

سبع عشرة
 خمس تسع

.....-.....-2018m

.....-.....-1439h

لا بد من الحفاظ على تراثنا؛ لأنه الأصل والجذور، وعلينا أن نتمسك بأصولنا وجذورنا العميقة.

من أقوال زايد
رحمه الله

الهدف العام :حكام الإمارات



• حاكم أم القيوين



• حاكم راس الخيمة



• حاكم عجمان



• حاكم الفجيرة



• حاكم دبي



• حاكم الشارقة



• حاكم أبو ظبي

الربط الصورة مع المعلومة

كم عدد أعضاء المجلس الأعلى . **سبع**

كم عدد إمارات الدولة **سبع**

كم نصيب كل إمارة من المجلس الأعلى **واحد**

كم سنة يستمر الحاكم في رئاسة الدولة . **خمس**

مستوى 2

النتائج التعليمية : يتعرف الموقع الجغرافي للجزر المحتلة

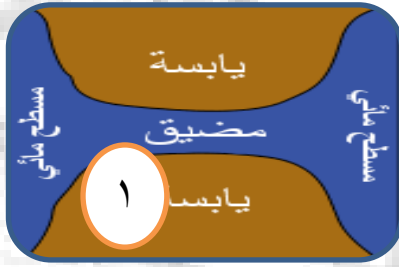
الموضوع : الجزر الاماراتية

ضع الرقم المناسب في الخانة الصحيحة

2شبه جزيرة

3 جزيرة

1 مضيق



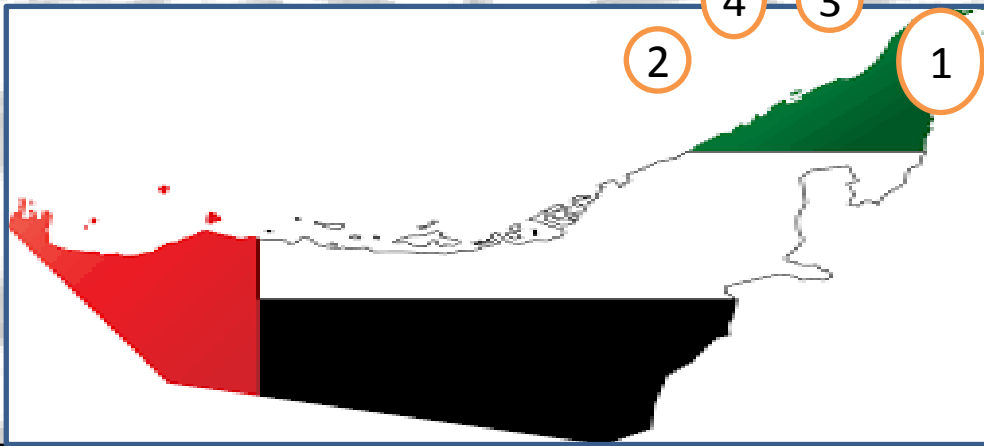
ضع الرقم المناسب في الخانة الصحيحة

طنب الصغرى 4

طنب الكبرى 3

أبو موسى 2

هرمز 1



.....-.....-2018m

.....-.....-1439h

العلاج بالعمل هو أحدث الوسائل للقضاء على
الأمراض النفسية والتغلب على المشاكل التي
تعترض إنسان هذا العصر.

من أقوال زايد
رحمه الله

النشاط الأول : طبيعة العلاقة بين محتويات الصورة التالية



النشاط الثاني : ضلل رمز الإجابة الصحيحة :

من شهداء الوطن، سقط شهيد وقت العدوان الإيراني
 محمد سالم زايد سعود

الجزيرة التي سقط فيها أول شهيد هي جزيرة
 دلما أبو موسى طناب الكبرى طناب الصغرى

تم احتلال الجزر الامارتية في عام
 1971 1982 1981 1972

الاحتلال كان الاتحاد
 قبل بعد خلال جميع ما ذكر

عمل الشهيد سالم في مهنة
 الشرطي الطبيب المهندس المحامي

.....-.....-2018m

.....-.....-1439h

العلاج بالعمل هو أحدث الوسائل للقضاء على الأمراض النفسية
 والتغلب على المشاكل التي تعترض إنسان هذا العصر.

من أقوال زايد
 رحمه الله



عبدالله المعينة



الشيخ زايد



سالم سهيل



عارف الشيخ



يوم الشهيد



صممه



كتبه



أول من رفعه

58

اللون الأحمر في العلم يرمز إلى

35



الشهداء

 A

البيئة

 B

السلام

 C

الشجاعة

 D

اللون الأخضر في العلم يرمز إلى

36



الشهداء

 A

الشجاعة

 B

البيئة

 C

السلام

 D

اللون الأبيض في العلم يرمز إلى

37



البيئة

 A

الشجاعة

 B

الشهداء

 C

السلام

 D

اللون الأسود في العلم يرمز إلى

38

أحبك يا
وطنني

السلام

 A

البيئة

 B

الشجاعة وحب الوطن

 C

الشهداء

 D

