



مراجعة شاملة لمادة العلوم

الصف الثاني

الفصل الدراسي الأول

www.almanahj.com

الاسم:

الصف: الثاني /

لوني الإجابة الصحيحة:

1- تثبت النبتة في التربة وتمتص الماء :



2- تحصل النباتات على ----- من التربة .

 أوراق عناصر غذائية ساق

3- تبيّن الصورة



دورة حياة النبات

دورة الماء

السلسلة الغذائية

4- عندما تصنع النباتات الغذاء يخرج غاز .

ثاني أكسيد الكربون

الأكسجين

الهيدروجين

www.almanahj.com

5 - المراحل التي تمر بها الحيوانات من الولادة إلى الممات تسمى

دورة الحياة

دورة الماء

دورة الحاسوب

6 - يتحول اليرقة داخل ----- إلى فراشة

البيضة

الشرنقة

اليرقة

7 - أجزاء من جسم السمكة تساعد على الحركة في الماء

الأرجل

الزعانف

الخياشيم

8- الحشرات لها ----- أرجل

3

6

5

هيا يا صغيرتي ضع علامة ✓ أو ✗ أمام العبارات التالية:

- 1- الكائنات الحية تنمو وتتغير ()
- 2- تقوم الحيوانات بصنع غذائها بنفسها ()
3. تتشابه الحيوانات في غطاء جسمها. ()
- 4- الشكل الذي تبدو عليه الحيوانات أو النباتات أو الطريقة التي تسلكها يسمى الصفة الوراثية ()

هيا يا صغيرتي حوِّط على الحيوان الذي لا ينتمي للمجموعة:

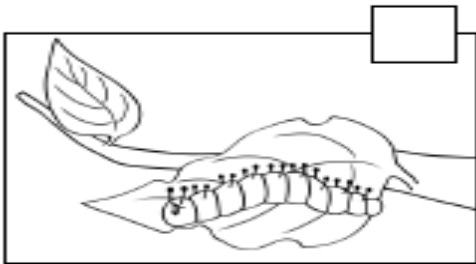
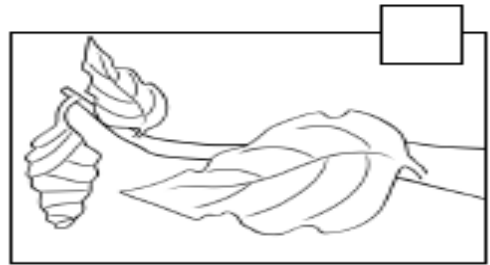
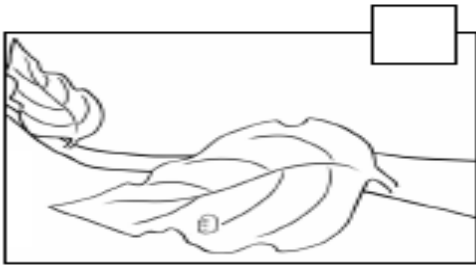
الجمال - الكلب - البقرة - التمساح

الثعبان - التمساح - الفراشة - السلحفاة


www.almanahj.com

البطة - الخروف - العصفور - الدجاجة

رتبي دورة حياة الفراشة بشكل صحيح



حوظى الحيوان الفقارى




صل بين المفردة وما يناسبها ..



الطيور




الزواحف



البرمائيات

ارسمى الجزء الذي يصنع الغذاء فى النباتات

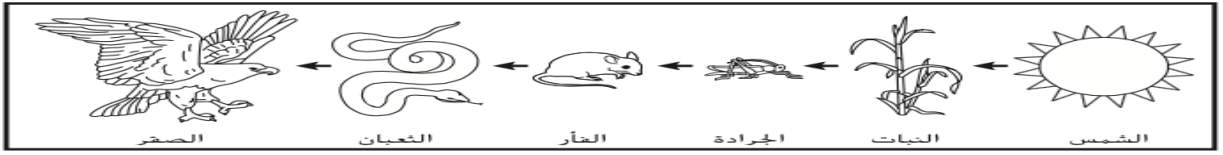


ماذا يأكل الصقر في السلسلة الغذائية التالية

العشب ○

الفأر ○

الثعبان ○



هيا يا صغيري ضع علامة ✓ أو ✗ أمام العبارات التالية:

1. السباحة في مجموعات كبيرة تساعد الأسماك في حماية نفسها ()
2. الفيضانات ليست من الأسباب الطبيعية التي تغير الموطن البيئي. ()
3. الأحفورة ما تبقى من كائن حي كان يعيش في الماضي. ()
4. الشبكة الغذائية عبارة عن اثنتين أو أكثر من السلاسل الغذائية المرتبطة ببعضها البعض. ()
5. تصبح الحيوانات مهددة بالانقراض إذا تغير موطنها البيئي ولم تعد تلبي حاجاتها. ()

www.almanahj.com

رتبى السلسلة الغذائية بوضع الارقام (1,2,3,4,5,6)




لوني الإجابة الصحيحة :

1- البقع الموجودة على النمر نوع من

- التمويه التكيف الغذاء

2- يساعد ----- الحيوان في البقاء على قيد الحياة في المكان الذي يعيش فيه .

- التمويه فقط التكيف والتمويه الغذاء فقط



3- أي جزء من الجسم يساعد السلحفاة بشكل أفضل على حماية نفسها من الأعداء؟

- الصدفة الأسنان القدم

4 - عندما لم تعد هناك أعداد كثيرة من أحد أنواع الحيوانات ، فإن هذا الحيوان يطلق عليه

- فريسة منقرض مهددا بالانقراض



5- عندما لا تمطر السماء لفترة طويلة ، فإن هناك

- جفاف فيضان حريق

6 - يطلق على المكان الذي تعيش فيه الحيوانات والنباتات معا اسم

- المأوى الموطن البيئي السلسلة الغذائية



7 - يطلق على حمار الوحش في الصورة التالية

- الفريسة المفترس المنقرض



8- توضح الصورة التالية

- الشبكة الغذائية السلسلة الغذائية الموطن البيئي



9- ما نوع الموطن البيئي في الصورة التالية

بارد ومثلج

عشبي ودافئ

حار وجاف

11- تساعد السباحة في مجموعات كبيرة في حماية نفسها



أصبح



12- هذا الحيوان

مهدد بالانقراض

غير منقرض

منقرضا

13- اذا وضعت بذور الفاصوليا الثلاثة على منشفة ورقية مبللة ، وأصقتها بلوح إعلانات أ- ما الجزء الذي ينمو أولاً .



أوراق

جذور

ساق

ب- إلى أين يتجه .

إلى أعلى

إلى أسفل

14- ما الذي يمكن أن يغير الطريقة التي تنمو بها النباتات ؟

موقع الضوء و أنواع التربة والرياح

أنواع التربة والرياح

أنواع التربة وموقع الضوء

15- عندما تصنع النباتات الغذاء يخرج غاز .

ثاني أكسيد الكربون

الأوكسجين

الهيدروجين

صنفي الحيوانات على حسب التكيف والتمويه الذي يتناسبها بكتابة الرقم المناسب لكل صورة



5



4



3



2



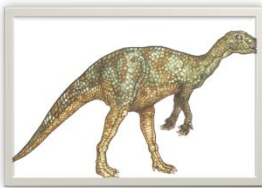
1

يتحول ريش الترحمان إلى اللون الأبيض في الشتاء	تصعب رؤية شكله بين الصخور	يتميز بعينين كبيرتين يستطيع الرؤية في الليل وأصابع طويلة للبحث عن الطعام	يمكن أن يصل أكل النمل إلى الحشرات الموجودة تحت سطح الأرض بواسطة أنفه الطويل	تتميز برقبة طويلة تساعد في الوصول إلى الأوراق أعلى الأشجار
www.almanahj.com				

صلي الصورة بما يناسبها .



أحفورة ديناصور



أحفورة سمكة

ضعى الكلمات التالية فى المكان المناسب:

الأحفورة	الموطن البيئي	الشبكة الغذائية
		1. المكان الذي تعيش فيه الحيوانات والنباتات
		2. اثنين أو أكثر من السلاسل الغذائية هي
		3. بقايا الحيوانات التي كانت تعيش في الماضي

انظر إلى السلسلة الغذائية و اختاري الاجابة الصحية :

www.almanahj.com



1- ماذا يأكل الضفدع؟

- الصقر - الجراد - العشب - الثعبان

2- يطلق على الصقر في الصورة

- فريسة - مفترس

3- إذا ماتت هذه الحيوانات ولم يبق منها إلا القليل فإنها تصبح

- منقرضة - مهددة بالانقراض - أحفورة

صل بين الصورة ونوع البيئة التي يمثلها :

عشبي دافئ

رطب بارد

بارد ثلجي

حار وجاف



www.almanahj.com

: رتبي السلسلة الغذائية

غزال

شمس

عشب

أسد

