

تم تحميل هذا الملف من موقع المناهج الإماراتية



\*للحصول على أوراق عمل لجميع الصفوف وجميع المواد اضغط هنا

<https://almanahj.com/ae>

\* للحصول على أوراق عمل لجميع مواد الصف الثاني اضغط هنا

<https://almanahj.com/ae/2>

\* للحصول على جميع أوراق الصف الثاني في مادة تربية بدنية ولجميع الفصول, اضغط هنا

<https://almanahj.com/ae/2sports>

\* للحصول على أوراق عمل لجميع مواد الصف الثاني في مادة تربية بدنية الخاصة بـ الفصل الأول اضغط هنا

<https://almanahj.com/ae/2sports1>

\* لتحميل كتب جميع المواد في جميع الفصول للـ الصف الثاني اضغط هنا

<https://almanahj.com/ae/grade2>

للتحدث إلى بوت المناهج على تلغرام: اضغط هنا

[https://t.me/almanahj\\_bot](https://t.me/almanahj_bot)




# Pop Quiz

Grade	2	Unit	2	Lesson	-	Coursebook Page	26-46
-------	---	------	---	--------	---	-----------------	-------

Student Name		Class		Date	
--------------	--	-------	--	------	--

1 Which one is balanced?




Balanced?

A                      B

A	
B	

2 Which pictures are moving?




Moving?

A                      B

A	
B	

3 How many points of balance are there?



A	2
B	3
C	4



# Pop Quiz

4

How many points of balance are there?



A 1

B 2

C 3

5

Are the boys making the same shape?



**SAME?**

A Yes

B No

Total Marks



# Pop Quiz

## Answer Key

Q1	A
Q2	B
Q3	4
Q4	2
Q5	A