

تم تحميل هذا الملف من موقع المناهج الإماراتية



almanahj.com

موقع  
المناهج الإماراتية

\*للحصول على أوراق عمل لجميع الصفوف وجميع المواد اضغط هنا

<https://almanahj.com/ae>

\* للحصول على أوراق عمل لجميع مواد الصف الثاني اضغط هنا <https://almanahj.com/ae/2>

\* للحصول على جميع أوراق الصف الثاني في مادة علوم ولجميع الفصول, اضغط هنا [2science/ae/com.almanahj//:https](https://almanahj.com/ae/2science)

\* للحصول على أوراق عمل لجميع مواد الصف الثاني في مادة علوم الخاصة بـ الفصل الثاني اضغط هنا

<https://almanahj.com/ae/2science2>

\* لتحميل كتب جميع المواد في جميع الفصول للـ الصف الثاني اضغط هنا [grade2/ae/com.almanahj//:https](https://almanahj.com/ae/grade2)

للتحدث إلى بوت المناهج على تلغرام: اضغط هنا [bot\\_almanahj/me.t//:https](https://t.me/bot_almanahj)

← ١٢٥١ من ١٢٥٢



3. الدبورة التي تسمى كائن حي




4. الماء المتحرك الذي يصب في بحيرة أو محيط




5. أداة لنحت الصخور منذ فترة طويلة



أحد استخدامات معدن الفلوريت



تأمل الصورة. العملية التي تسببت في تفتت الصخر وتغير الأرض



الترسيب

التعرية

التجوية

3 درجات

زال الثاني: اقرأ الجمل التالية ثم ضع كلمة (صح) أو (خطأ) بين القوسين.

1. (.....) الكائنات الحية لا تنمو ولا تتغير.

2. (.....) الفيروز هو المعدن الذي يستخدم في صنع قلم الرصاص.

3. (.....) الترسيب هو تجمع الصخور في أماكن بعيدة عن مكان تفتتها.

سؤال الثالث: صل بين الصورة وما يناسبها من كلمة.

5 درجات



المحيط

الجزيرة

الوادي

البحيرة

السهول

سؤال الرابع: صنف الصور الآتية إلى موارد طبيعية ومواد مصنعة بكتابة الأرقام المناسبة في الجدول.  
5 درجات



(5)



(4)



(3)



(2)



(1)

مواد مصنعة

موارد طبيعية

.....

.....

.....

.....

.....

انتهت الأسئلة .. بالتوفيق والنجاح