

$$245 + 374 = \dots\dots\dots$$

(13) أوجد ناتج الجمع.

a) 539

b) 519

c) 619

(14) أي جملة عددية يمكن أن تساعدك في حل $900 - 400$ ؟

a) $9 - 6$

b) $9 - 4$

c) $9 - 3$

$$456 - \dots\dots\dots = 356$$

(15) أوجد العدد الناقص.

a) 100

b) 10

c) 110

$$\begin{array}{r} 500 \\ - 500 \\ \hline \end{array}$$

(16) أوجد ناتج الطرح.

a) 1000

b) 100

c) 0

أعد كتابة المسائل . أوجد الناتج .

26)

$$458 + 273 =$$

$$\begin{array}{r} 458 \\ + 273 \\ \hline 616 \end{array}$$

27)

$$623 - 457 =$$

$$\begin{array}{r} 623 \\ - 457 \\ \hline 166 \end{array}$$

(28) يبيع متجر ما الكرات الزجاجية في عبوات فيها 240 أو 260 أو 265 كرة زجاجية.



يريد محمد شراء 500 كرة زجاجية . ما العبوتان اللتان سيشتريهما محمد ؟

العبوتان اللتان سيشتريهما محمد يوجد فيهما ~~150~~ 150 كرة زجاجية و ~~4~~ 4 كرة زجاجية

(29) تتابع ليلى حالة الطقس منذ 249 يوماً . كان الجو ممطرًا في 152 يوماً .

كم عدد الأيام التي لم يكن الجو فيها ممطرًا ؟



$$249 - 152 =$$

التهت الأسئلة
بالتوفيق والنجاح


السؤال الثاني

40

(21) اكتب عدد المئات والعشرات والآحاد في الجدول أدناه . ثم اكتب العدد .

الآحاد	العشرات	المئات
4	3	2

234



(22) لدى خالد 562 كتاباً .

كيف يمكن لخالد أن يوضح هذا العدد باستخدام الصيغة الموسعة؟



$$562 = 500 + 60 + 2$$

قارن . اكتب > ، أو < ، أو = في () .

23) 867 () 875

24) 601 () 106

(25) جمعت عفاف 215 صدفة بحرية وجمعت مريم 107 صدقات بحرية .

ما إجمالي عدد الصدقات التي جمعتها الفتاتان؟



صدفة بحرية _____

(17) أي مسائل الطرح التالية بحاجة إلى إعادة تجميع من أجل حلها؟

a) 456 - 321

b) 267 - 145

c) 423 - 215

(18) أوجد ناتج .
544 - 306 = 238

a) 238

b) 248

c) 950

	الآحاد	العشرات	المئات
	3	5	?
-	1	8	2
	2	7	3

(19) أوجد العدد الناقص .

a) 6

b) 15

c) 16

(20) في الحقل 700 زهرة . قطف المزارع 456 زهرة منها .

كم عدد الزهور المتبقية في الحقل؟



a) 244

b) 344

c) 239

الصف : الثاني


المسألة : الرياضيات
عدد صفحات الأسئلة : (7)

امتحان نهاية الفصل الدراسي الثاني
للعام الدراسي 2017 / 2018 م

السؤال الأول

ضع دائرة حول رمز الإجابة الصحيحة فيما يأتي :

1) اكتب عدد المئات .



a) 3 b) 4 c) 5

2) كم عدد العشرات في 800 ؟

a) 800 b) 8 c) 80

3) اكتب العدد 721 بالحروف.

a) سبعمائة وواحد وعشرون b) مئة وسبع وعشرون c) مئتان وسبعة وعشرون

4) اكتب العدد الناقص في النمط

520 , 530 , , 550

a) 510 b) 540 c) 560

امتحان الثاني لعمدة الرياضيات لتصف الثاني للعام الدراسي 2017-2018م

5) حدد نمط الأعداد الذي يمثل العد بمقدار 5 تنازلياً .


a) 125 , 120 , 115 b) 215 , 223 , 225 c) 330 , 320 , 310




6) ما العدد الأكبر من العدد ؟

a) 399 b) 440 c) 140

7) ما الشكل رقم 9 في النمط ؟

رسم



a)  b)  c) 

8) أوجد ناتج الجمع . $400 + 300 = \dots$

a) 100 b) 700 c) 600

2

9) حدد تفكيك العدد 138 لإيجاد حل الجملة العددية للجمع

$$138 + 94 = 232$$

a) $108 + 30$

b) $130 + 8$

c) $132 + 6$

$$967 + 10 = 977$$

10) أوجد الحد الجمعي الناقص.

a) 957

b) 857

c) 977

11) يوجد 164 حصاناً في المزرعة ، وتم نقل 100 حصان إلى المزرعة.
كم إجمالي عدد الأحصنة في المزرعة؟



a) 174

b) 165

c) 264

	المئات	العشرات	الأحاد
	2	3	8
+	1	3	4
	?	5	?

12) أوجد ناتج الجمع.

a) 362

b) 372

c) 364