

اختر الإجابة الصحيحة

حدد نمط الأعداد الذي يمثل العد بمقدار 10 تنازلياً :

710, 720 , 730 , 740



300 , 400 , 500 , 600



260 , 250 , 240 , 230



455 , 460, 465, 470



قارن بين الأعداد ثم اكتب > أو < أو =

661 < 665

321 < 345

754 = 754


990 > 900

512 < 519

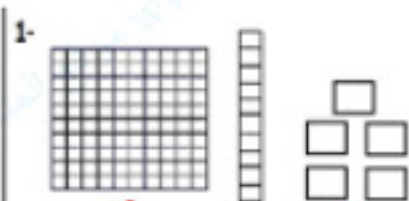
410 = 410

414 < 441

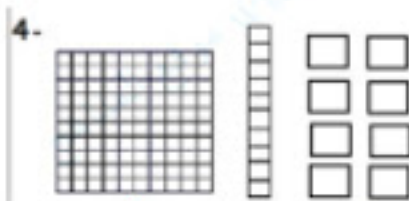
509 > 505



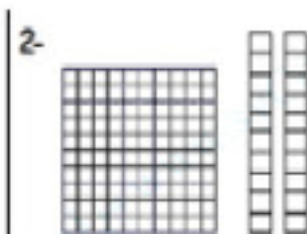
اكتب عدد المئات والعشرات والآحاد



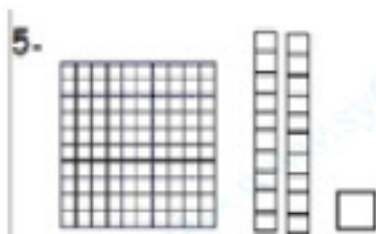
1 --- مئات  
1 --- عشرات  
5 --- آحاد



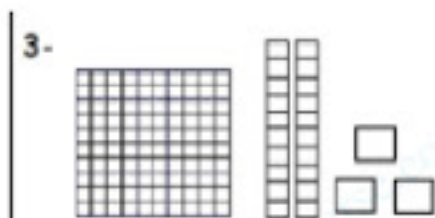
1 --- مئات  
1 --- عشرات  
8 --- آحاد



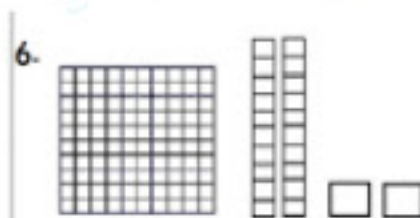
1 --- مئات  
2 --- عشرات  
0 --- آحاد



1 --- مئات  
2 --- عشرات  
1 --- آحاد




1 --- مئات  
2 --- عشرات  
3 --- آحاد




1 --- مئات  
2 --- عشرات  
2 --- آحاد

اكتب العدد



191



87

أعد كتابة المسألة . ا طرح .

$$764 - 214$$

7	6	4
— 2	1	4
5	7	0

$$831 - 548$$

7 <del>8</del>	12 <del>3</del>	11 <del>1</del>
— 5	4	8
2	8	2

ا طرح

$$\begin{array}{r} 346 \\ - 179 \\ \hline 167 \end{array}$$

$$\begin{array}{r} 887 \\ - 399 \\ \hline 488 \end{array}$$

$$\begin{array}{r} 202 \\ - 134 \\ \hline 068 \end{array}$$

جمعت هدى 524 درهم واشترت لعبة . والآن أصبح لديها 315 درهم . فكم عدد الدراهم المتبقية لدى هدى ؟

درهم 209

$$524 - 315 = 209$$

يوجد 236 حافلة مدرسة في موقف الحافلات ثم تحركت حافلات المدرسة وظلت 98 حافلة في الموقف كم عدد الحافلات المتحركة

$$236 - 98 = 138$$

139



137



136



138



اشرح

$$\begin{array}{r} 593 \\ + 200 \\ \hline 793 \end{array}$$

$$\begin{array}{r} 642 \\ - 10 \\ \hline 632 \end{array}$$

$$\begin{array}{r} 786 \\ - 100 \\ \hline 686 \end{array}$$

$$587 - \underline{200} = 387$$

$$954 - \underline{12} = 942$$

$$800 - 500 = \underline{300}$$

$$900 - 300 = \underline{600}$$

أوجد ناتج  $400 - 400$

900



800



0



100



أوجد ناتج  $700 - 200$

200



500



300



400



فك المنات للطرح :

$$\begin{array}{r} 500 - 98 \\ \swarrow \searrow \\ 400 \quad 100 \\ \hline 100 - 98 = 2 \\ \hline 400 + 2 = 402 \\ \hline 500 - 98 = \underline{402} \quad \text{إذا} \end{array}$$

$$\begin{array}{r} 324 - 96 \\ \swarrow \searrow \\ 224 \quad 100 \\ \hline 100 - 96 = 4 \\ \hline 224 + 4 = 228 \\ \hline 324 - 96 = \underline{228} \quad \text{إذا} \end{array}$$

كان في مسرح المدرسة 372 طالباً . غادر 99 طالباً . فكم عدد الطلاب الذين لا يزالون في المسرح ؟

$$372 - 99 = 273$$

طالباً 273

كيف يمكنك تفكيك 244 لحل 244 - 95

244 و 100



144 و 95



144 و 100



200 و 44



عدت مريم 328 كرة صغيرة . وعدت هند عدداً أكبر من الكرات الصغيرة التي عدتها مريم بمقدار 100 كرة صغيرة . كم عدد الكرات الصغيرة التي عدتها هند ؟

100



428



128



228



يجب على فهد قراءة أربع كتب بإجمالي 600 صفحة . ما الكتب الأربعة التي يجب عليه قراءتها ؟

الكتب رقم 1 و 2 و 3 و 5

الصفحات	الكتاب
180	1
130	2
135	3
100	4
155	5

أعد كتابة المسائل . اجمع

$$653 + 123$$

**653**

$$+ \quad \underline{\underline{123}}$$

**776**

$$433 + 272$$

**433**

$$+ \quad \underline{\underline{272}}$$

**705**

اجمع :

1	2	8
3	9	1
+	4	1
8	1	7

$$\begin{array}{r} 1 \\ 390 \\ + 133 \\ \hline 523 \end{array}$$

$$\begin{array}{r} 100 \\ + 600 \\ \hline 700 \end{array}$$

$$\begin{array}{r} 765 \\ + 20 \\ \hline 785 \end{array}$$

$$\begin{array}{r} 1 \\ 190 \\ + 143 \\ \hline 333 \end{array}$$

$$727 + 200 = \underline{927}$$

$$523 + 10 = \underline{533}$$

$$300 + 0 = \underline{300}$$

$$500 + 300 = \underline{800}$$

أوجد الحد الجمعي الناقص :

$$345 + \underline{14} = 359$$

$$789 + \underline{64} = 853$$

أوجد الحد الجمعي الناقص

$$387 + \text{---}70\text{---} = 457$$

$$\text{---}559\text{---} + 10 = 569$$

$$102 + \text{---}10\text{---} = 112$$

$$\text{---}732\text{---} + 100 = 832$$

أوجد ناتج الجمع

$$326 + 100 = \text{-----}$$

426

525

320

436



اجمع :

مئات	عشرات	آحاد
	1	
3	4	6
2	4	7
<b>5</b>	<b>9</b>	<b>3</b>

مئات	عشرات	آحاد
	1	
1	2	9
7	5	1
<b>8</b>	<b>8</b>	<b>0</b>



أعدت شيخة 135 قطة من الحلوى وأعدت فاطمة 166 قطعة من الحلوى .  
فكم عدد قطع الحلوى التي أعدتها كل من شيخة وفاطمة إجمالاً ؟

قطعة حلوى 301

$$\begin{array}{r} 135 \\ + 166 \\ \hline 301 \end{array}$$

كون مئة لإجراء عملية جمع :

$$\begin{array}{r} 234 + 99 \\ \swarrow \quad \searrow \\ 233 + \underline{1} + 99 \\ \swarrow \quad \searrow \\ 233 + \underline{100} = \underline{333} \end{array}$$

$234 + 99 = \underline{333}$  إذاً

$$\begin{array}{r} 75 + 195 \\ \swarrow \quad \searrow \\ \underline{70} + \underline{5} + 195 \\ \swarrow \quad \searrow \\ 70 + \underline{200} = \underline{270} \end{array}$$

$75 + 195 = \underline{270}$  إذاً

أوجد حاصل الجمع

$600 + 100 = \underline{\hspace{2cm}}$

800

700

7

80

اجمع :

$$\begin{array}{r} 200 \\ + 300 \\ \hline 500 \end{array}$$

$$\begin{array}{r} 500 \\ + 200 \\ \hline 700 \end{array}$$

$$\begin{array}{r} 600 \\ + 300 \\ \hline 900 \end{array}$$

$$\begin{array}{r} 134 \\ + 470 \\ \hline 604 \end{array}$$

$$\begin{array}{r} 543 \\ + 260 \\ \hline 803 \end{array}$$

$$\begin{array}{r} 207 \\ + 22 \\ \hline 229 \end{array}$$

أعد كتابة المسائل . اجمع

$$\begin{array}{r} 456 + 271 \\ \begin{array}{r} 456 \\ + 271 \\ \hline 727 \end{array} \end{array}$$

$$\begin{array}{r} 245 + 355 \\ \begin{array}{r} 245 \\ + 355 \\ \hline 600 \end{array} \end{array}$$

$$\begin{array}{r} 550 + 190 \\ \begin{array}{r} 550 \\ + 190 \\ \hline 740 \end{array} \end{array}$$

جمع أحمد 210 طابع بريدي . وجمع علي 100 طابع . فكم عدد الطوابع التي جمعها إجمالاً ؟

$$210 + 100 = 310$$

طابع بريدي 310



اقرأ العدد ثم اكتب العدد :

خمسمائة وعشرة

**510**

أربعمائة و عشرون

**420**

أربعمائة وأربعة وسبعون

**474**

مئتان وستة وثمانون

**286**

ألف

**1000**

خمسون

**50**

تسعة عشر

**19**

ستمائة و ثلاثة عشر

**613**

اقرأ العدد ثم اكتب العدد بالحروف :

432 أربعمائة واثنان وثلاثون

561 خمسمائة وواحد وستون

918 تسعمائة وثمانية عشر

231 مئتان وواحد وثلاثون

اكتب الأعداد الناقصة ، ثم اكتب نمط العد

400 , 410 , 420 , 430 , 440

10 تصاعدياً النمط هو

755 , 655 , 555 , 455 , 355

100 تنازلياً النمط هو

200 , 300 , 400 , 500 , 600

100 تصاعدياً النمط هو

135 , 140 , 145 , 150 , 155

5 تصاعدياً النمط هو

اكتب عدد المئات والعشرات والآحاد

876 = 8 مئات ، 7 عشرات ، 6 آحاد

463 = 4 مئات ، 6 عشرات ، 3 آحاد

105 = 1 مئات ، 0 عشرات ، 5 آحاد

يوجد 3 مئات و 1 آحاد وعدد العشرات هو الرقم الواقع بين عدد الآحاد و عدد  
المئات . فما العدد ؟

2 عشرات

321

كتب أحمد ملخص عن حالة الطقس وبلغ عدد الصفحات التي لديه 1 مئات و 4  
عشرات و 6 آحاد . كم عدد صفحات الملخص الذي كتبه ؟

146

اختر الإجابة الصحيحة :

يحتوي عدد على 7 عشرات و 3 آحاد و 9 مئات  
ما هذا العدد ؟

739



937



973



397



اكتب العدد بالصيغة الموسعة

5 مئات و 0 عشرات و 3 آحاد

$$\underline{500} + \underline{0} + \underline{3} = \underline{503}$$

7 مئات و 1 عشرات و 6 آحاد

$$\underline{700} + \underline{10} + \underline{6} = \underline{716}$$

$$723 = \underline{700} + \underline{20} + \underline{3}$$

$$691 = \underline{600} + \underline{90} + \underline{1}$$

حوظ حول قيمة الرقم الذي تحته خط

698

900

90

9

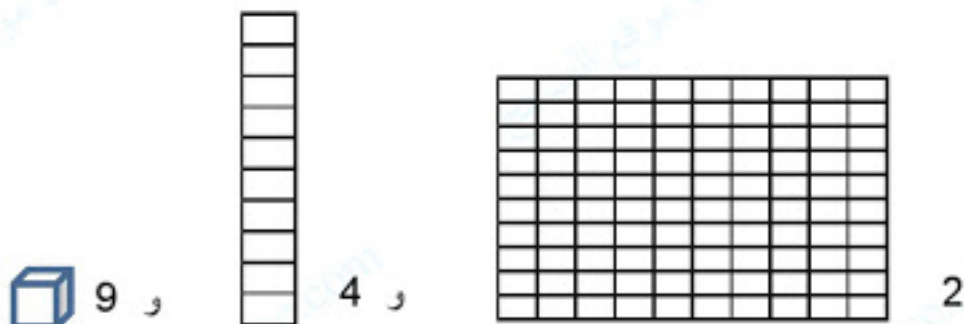
568

800

80

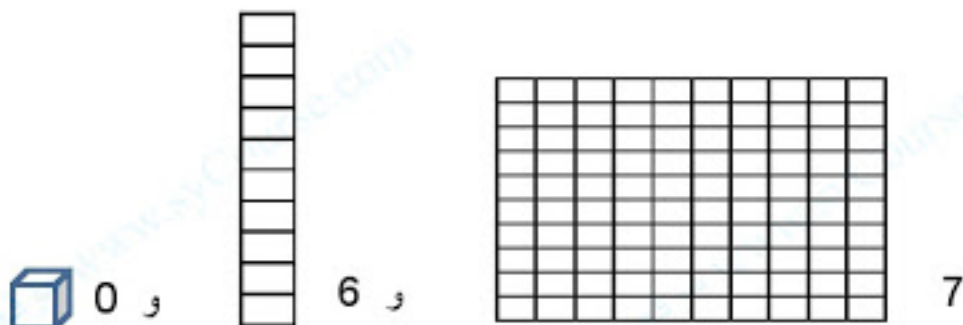
8

اكتب عدد المئات والعشرات والأحاد ثم اكتب العدد:



المئات	العشرات	الأحاد
2	4	9

249



المئات	العشرات	الأحاد
7	6	0

760

اكتب عدد المئات والعشرات والآحاد

$$\text{آحاد } \underline{\quad 300 \quad} = 300$$

$$\text{عشرات } \underline{\quad 60 \quad} = 600$$

$$\text{عشرات } \underline{\quad 90 \quad} = 900$$

$$\text{مئات } \underline{\quad 7 \quad} = 700$$

لدى هند 8 أكياس ويوجد بكل كيس 100 حبة خرز . كم عدد مئات حبات الخرز التي لدى هند ؟

$$\text{مئات } \underline{\quad 800 \quad}$$

710

حوظ حول الرقم الذي يمثل المئات

561

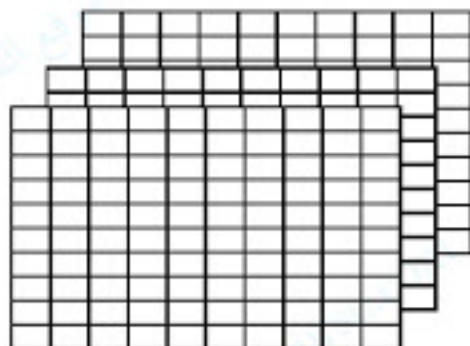
حوظ حول الرقم الذي يمثل العشرات

ضع خطاً على الآحاد وخطاً مزدوجاً على العشرات وحوظ حول الرقم الذي يمثل المئات

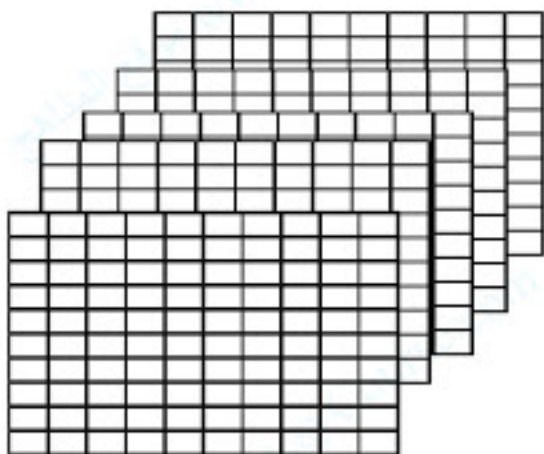
283



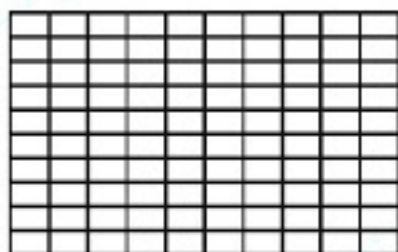
اكتب عدد المئات والعشرات والآحاد



330 = 3 مئات = 30 عشرات = 300 آحاد



550 = 5 مئات = 50 عشرات = 500 آحاد



110 = 1 مائة = 10 عشرات = 100 آحاد

انظر للمئات ثم اكتب العدد ثم اكتبه بالحروف



800

ثمانمائة



500

خمسمائة



900

تسعمائة



700

سبعمائة




600

ستمائة



300

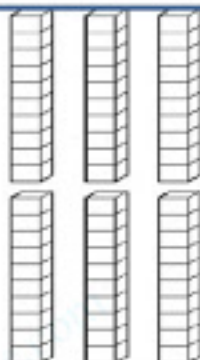

ثلاثمائة



200

مئتان

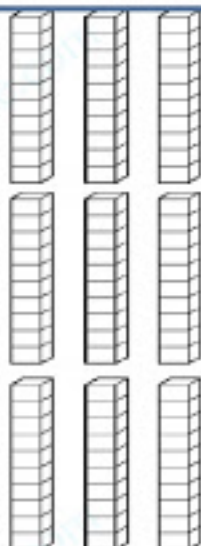


اكتب العدد



العدد هو :

**565**

اكتب العدد

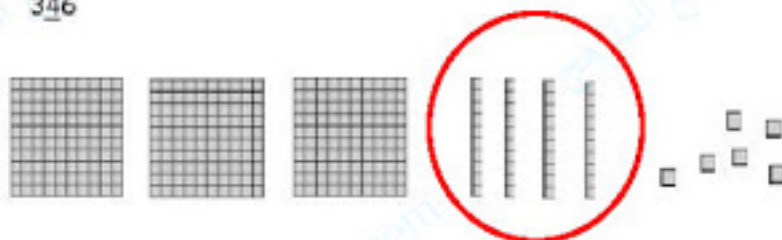


العدد هو :

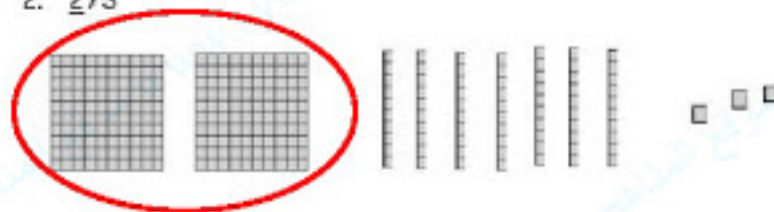
**999**

ضع دائرة على الشكل الذي يحدده الرقم

1. 346




2. 273



3. 146



4. 433



أعد كتابة المسألة . اطرح .

$$764 - 214$$



$$831 - 548$$



اطرح

$$\begin{array}{r} 346 \\ + 179 \\ \hline \end{array}$$

$$\begin{array}{r} 887 \\ - 399 \\ \hline \end{array}$$

$$\begin{array}{r} 202 \\ - 134 \\ \hline \end{array}$$

جمعت هدى 524 درهم واشترت لعبة . والآن أصبح لديها 315 درهم . فكم عدد الدراهم المتبقية لدى هدى ؟

درهم \_\_\_\_\_

يوجد 236 حافلة مدرسة في موقف الحافلات ثم تحركت حافلات المدرسة وظلت 98 حافلة في الموقف كم عدد الحافلات المتحركة

139



137



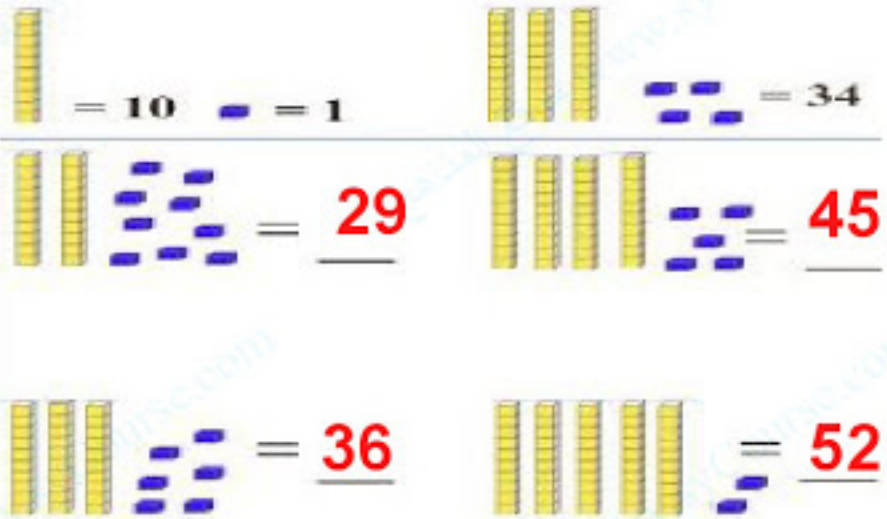
136



138




انظر الشكل ثم اكتب كما في المثال التالي :



انظر الشكل ثم اكتب العدد:

<b>20</b>	<b>30</b>	<b>3</b>



مئات	عشرات	آحاد
<b>3</b>	<b>4</b>	<b>8</b>

عدت مريم 328 كرة صغيرة . وعدت هند عدداً أكبر من الكرات الصغيرة التي عدتها مريم بمقدار 100 كرة صغيرة . كم عدد الكرات الصغيرة التي عدتها هند ؟

100



428



128



228



يجب على فهد قراءة أربع كتب بإجمالي 600 صفحة . ما الكتب الأربعة التي يجب عليه قراءتها ؟

الكتب رقم \_\_\_\_\_ و \_\_\_\_\_ و \_\_\_\_\_ و \_\_\_\_\_

الصفحات	الكتاب
180	1
130	2
135	3
100	4
155	5

أعد كتابة المسائل . اجمع

$$653 + 123$$

$$+ \underline{\hspace{2cm}}$$

$$433 + 272$$

$$+ \underline{\hspace{2cm}}$$

اجمع :

3	2	8
+ 4	9	1
<hr/>		

$$\begin{array}{r} 390 \\ + 133 \\ \hline \end{array}$$

$$\begin{array}{r} 100 \\ + 600 \\ \hline \end{array}$$

$$\begin{array}{r} 765 \\ + 20 \\ \hline \end{array}$$

$$\begin{array}{r} 190 \\ + 143 \\ \hline \end{array}$$

$$727 + 200 = \underline{\hspace{2cm}}$$

$$523 + 10 = \underline{\hspace{2cm}}$$

$$300 + 0 = \underline{\hspace{2cm}}$$

$$500 + 300 = \underline{\hspace{2cm}}$$

أوجد الحد الجمعي الناقص :

$$345 + \underline{\hspace{2cm}} = 359$$

$$789 + \underline{\hspace{2cm}} = 853$$



اطرح

$$\begin{array}{r} 593 \\ + 200 \\ \hline \end{array}$$

$$\begin{array}{r} 642 \\ - 10 \\ \hline \end{array}$$

$$\begin{array}{r} 786 \\ - 100 \\ \hline \end{array}$$

$$587 - \underline{\quad\quad\quad} = 387$$

$$954 - \underline{\quad\quad\quad} = 942$$

$$800 - 500 = \underline{\quad\quad\quad}$$

$$900 - 300 = \underline{\quad\quad\quad}$$

أوجد ناتج  $400 - 400$

900

800

0

100

أوجد ناتج  $700 - 200$

200

500

300

400

فك المئات للطرح :

$$500 - 98$$

-----

$$----- - 98 = -----$$

$$----- + ----- = -----$$

$$500 - 98 = ----- \text{ إذا}$$

$$324 - 96$$

-----

$$----- - 96 = -----$$

$$----- + ----- = -----$$

$$324 - 96 = ----- \text{ إذا}$$

كان في مسرح المدرسة 372 طالباً . غادر 99 طالباً . فكم عدد الطلاب الذين لا يزالون في المسرح ؟

طالباً \_\_\_\_\_

كيف يمكنك تفكيك 244 لحل  $244 - 95$

244 و 100



144 و 95



144 و 100



200 و 44



أوجد الحد الجمعي الناقص

$$387 + \text{-----} = 457$$

$$\text{-----} + 10 = 569$$

$$102 + \text{-----} = 112$$

$$\text{-----} + 100 = 832$$

أوجد ناتج الجمع

$$326 + 100 = \text{-----}$$

426

525

320

436



اجمع :

	مئات	عشرات	آحاد
		<input type="text"/>	
	3	4	6
+	2	4	7

	مئات	عشرات	آحاد
		<input type="text"/>	
	1	2	9
+	7	5	1

## مراجعة الوحدة 6

أعدت شيخة 135 قطة من الحلوى وأعدت فاطمة 166 قطعة من الحلوى .  
فكم عدد قطع الحلوى التي أعدتها كل من شيخة وفاطمة إجمالاً ؟

قطعة حلوى \_\_\_\_\_

كون منة لإجراء عملية جمع :

$$\begin{array}{r} 234 + 99 \\ \hline \end{array}$$

----- + ----- + 99

$$233 + \text{-----} = \text{-----}$$

234 + 99 = ----- إذاً

$$\begin{array}{r} 75 + 195 \\ \hline \end{array}$$

----- + ----- + 195

$$70 + \text{-----} = \text{-----}$$

75 + 195 = ----- إذاً

أوجد حاصل الجمع

600 + 100 = -----

800

700

7

80

## مراجعة الوحدة 6

اجمع :

$$\begin{array}{r} 200 \\ + 300 \\ \hline \end{array}$$

$$\begin{array}{r} 500 \\ + 200 \\ \hline \end{array}$$

$$\begin{array}{r} 600 \\ + 300 \\ \hline \end{array}$$

$$\begin{array}{r} 134 \\ + 470 \\ \hline \end{array}$$

$$\begin{array}{r} 543 \\ + 260 \\ \hline \end{array}$$

$$\begin{array}{r} 207 \\ + 22 \\ \hline \end{array}$$

أعد كتابة المسائل . اجمع

$$456 + 271$$

$$245 + 355$$

$$550 + 190$$

+ \_\_\_\_\_

+ \_\_\_\_\_

+ \_\_\_\_\_

جمع أحمد 210 طابع بريدي . وجمع علي 100 طابع . فكم عدد الطوابع التي  
جمعها إجمالاً ؟

طابع بريدي \_\_\_\_\_



## مراجعة الوحدة 5

اقرأ العدد ثم اكتب العدد بالحروف :

432

561

918

231

اكتب الأعداد الناقصة ، ثم اكتب نمط العد

400 , 410 , \_\_\_\_\_ , 430 , \_\_\_\_\_

النمط هو \_\_\_\_\_

755 , \_\_\_\_\_ , 555 , 455 , \_\_\_\_\_

النمط هو \_\_\_\_\_

200 , 300 , 400 , \_\_\_\_\_ , \_\_\_\_\_

النمط هو \_\_\_\_\_

134 , \_\_\_\_\_ , \_\_\_\_\_ , 164 , 174

النمط هو \_\_\_\_\_

## مراجعة الوحدة 5

اختر الإجابة الصحيحة

حدد نمط الأعداد الذي يمثل العد بمقدار 10 تنازلياً :

710, 720 , 730 , 740



300 , 400 , 500 , 600



260 , 250 , 240 . 230



455 , 460, 465, 470



قارن بين الأعداد ثم اكتب > أو < أو =

661  665

321  345

754  754

990  900

512  519

410  410

414  441

509  505

## مراجعة الوحدة 5

اكتب العدد بالصيغة الموسعة

5 مئات و 0 عشرات و 3 آحاد

$$\underline{\hspace{2cm}} + \underline{\hspace{2cm}} + \underline{\hspace{2cm}} = \underline{\hspace{2cm}}$$

7 مئات و 1 عشرات و 6 آحاد

$$\underline{\hspace{2cm}} + \underline{\hspace{2cm}} + \underline{\hspace{2cm}} = \underline{\hspace{2cm}}$$

$$723 = \underline{\hspace{2cm}} + \underline{\hspace{2cm}} + \underline{\hspace{2cm}}$$

$$691 = \underline{\hspace{2cm}} + \underline{\hspace{2cm}} + \underline{\hspace{2cm}}$$

حوظ حول قيمة الرقم الذي تحته خط

698

900

90

9

568

800

80

8



## مراجعة الوحدة 5

اكتب عدد المئات والعشرات والآحاد

876 = \_\_\_\_\_ مئات ، \_\_\_\_\_ عشرات ، \_\_\_\_\_ آحاد

463 = \_\_\_\_\_ مئات ، \_\_\_\_\_ عشرات ، \_\_\_\_\_ آحاد

105 = \_\_\_\_\_ مئات ، \_\_\_\_\_ عشرات ، \_\_\_\_\_ آحاد

يوجد 3 مئات و 1 آحاد وعدد العشرات هو الرقم الواقع بين عدد الآحاد و عدد  
المئات . فما العدد ؟

كتب أحمد ملخص عن حالة الطقس وبلغ عدد الصفحات التي لديه 1 مئات و 4  
عشرات و 6 آحاد . كم عدد صفحات الملخص الذي كتبه ؟

اختر الإجابة الصحيحة :

يحتوي عدد على 7 عشرات و 3 آحاد و 9 مئات  
ما هذا العدد ؟

739



937



973



397



## مراجعة الوحدة 5

اقرأ العدد ثم اكتب العدد :

خمسمائة و عشرة

-----

أربعمائة و عشرون

-----

أربعمائة وأربعة وسبعون

-----

مئتان وستة وثمانون

-----

ألف

-----

خمسون

-----

تسعة عشر

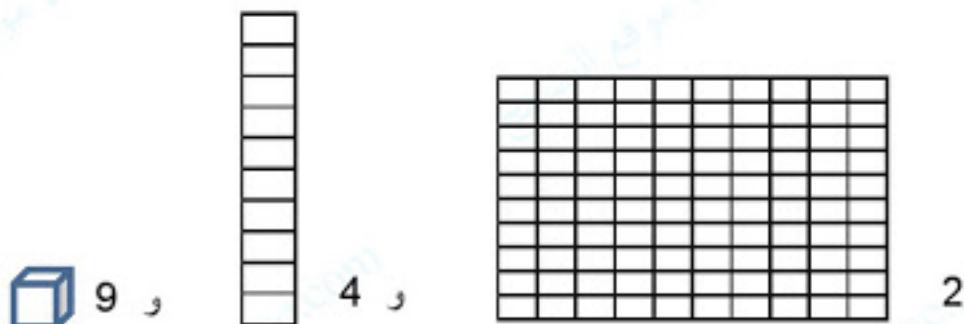
-----

ستمائة و ثلاثة عشر

-----

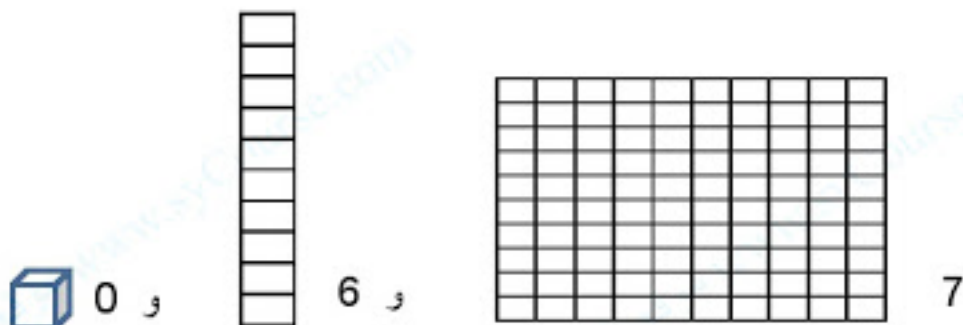
## مراجعة الوحدة 5

اكتب عدد المئات والعشرات والأحاد ثم اكتب العدد:



المئات	العشرات	الأحاد

---

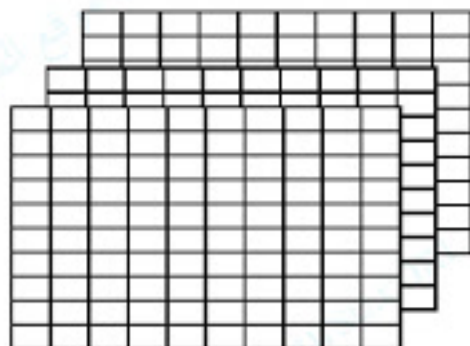


المئات	العشرات	الأحاد

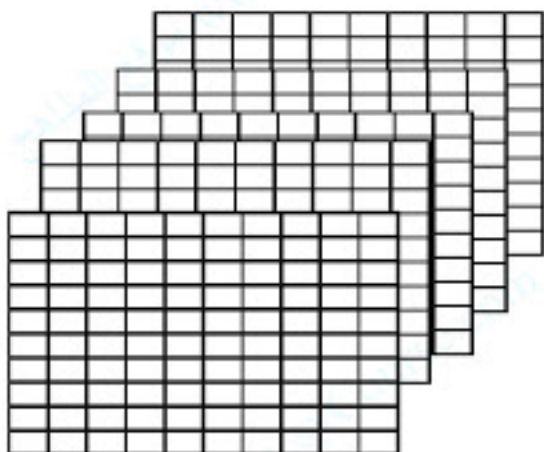
---

## مراجعة الوحدة 5

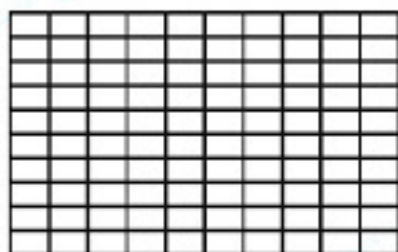
اكتب عدد المئات والعشرات والآحاد



----- مئات = ----- عشرات = ----- آحاد



----- مئات = ----- عشرات = ----- آحاد



----- مئات = ----- عشرات = ----- آحاد

## مراجعة الوحدة 5

اكتب عدد المئات والعشرات والآحاد

$$\text{آحاد} \text{-----} = 300$$

$$\text{عشرات} \text{-----} = 600$$

$$\text{عشرات} \text{-----} = 900$$

$$\text{مئات} \text{-----} = 700$$

لدى هند 8 أكياس ويوجد بكل كيس 100 حبة خرز . كم عدد مئات حبات الخرز التي لدى هند ؟

مئات -----

# 710


حوظ حول الرقم الذي يمثل المئات

# 561

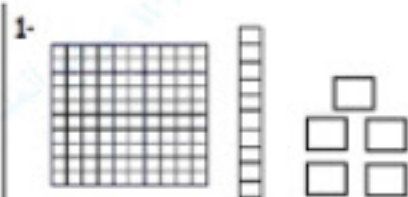
حوظ حول الرقم الذي يمثل العشرات

ضع خطاً على الآحاد وخطاً مزدوجاً على العشرات وحوظ حول الرقم الذي يمثل المئات

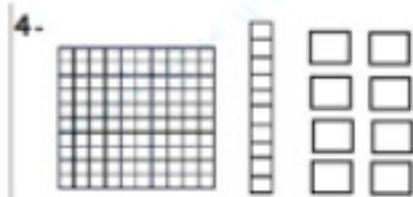
# 283



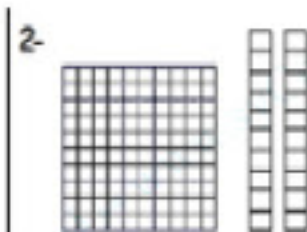
اكتب عدد المئات والعشرات والآحاد



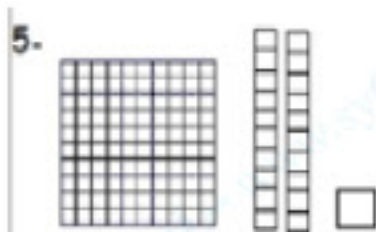
----- آحاد ----- عشرات ----- مئات



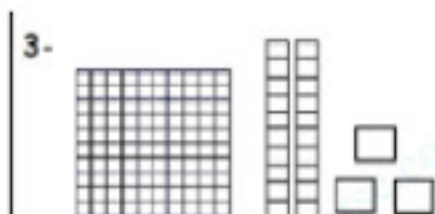
----- آحاد ----- عشرات ----- مئات



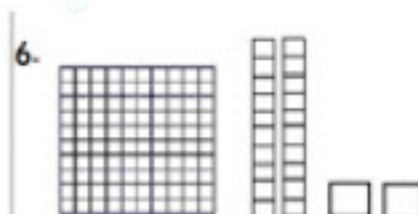
----- آحاد ----- عشرات ----- مئات



----- آحاد ----- عشرات ----- مئات





----- آحاد ----- عشرات ----- مئات



----- آحاد ----- عشرات ----- مئات

اكتب العدد



## مراجعة الوحدة 5

انظر للمئات ثم اكتب العدد ثم اكتبه بالحروف



\_\_\_\_\_



\_\_\_\_\_



\_\_\_\_\_



\_\_\_\_\_



\_\_\_\_\_



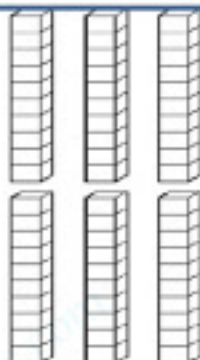

\_\_\_\_\_



\_\_\_\_\_

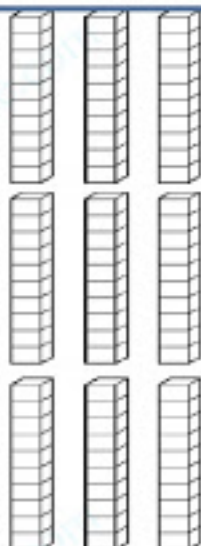


## مراجعة الوحدة 5

اكتب العدد



العدد هو :

اكتب العدد




العدد هو :



## مراجعة الوحدة 5

ضع دائرة على الشكل الذي يحدده الرقم

1.  $346$




2.  $273$



3.  $146$



4.  $433$




## مراجعة الوحدة 5

انظر الشكل ثم اكتب كما في المثال التالي :



انظر الشكل ثم اكتب العدد:

<input type="text"/>	<input type="text"/>	<input type="text"/>



مئات	عشرات	آحاد
<input type="text"/>	<input type="text"/>	<input type="text"/>