

كل ما يحتاجه الطالب في جميع الصفوف من أوراق عمل واختبارات ومذكرات، يجده هنا في الروابط التالية لأفضل مواقع تعليمي إماراتي 100 %

<u>تطبيق المناهج الإماراتية</u>	<u>الاجتماعيات</u>	<u>الرياضيات</u>
<u>الصفحة الرسمية على التلغرام</u>	<u>الاسلامية</u>	<u>العلوم</u>
<u>الصفحة الرسمية على الفيسبوك</u>	<u>الانجليزية</u>	
<u>التربية الاخلاقية لجميع الصفوف</u>	<u>اللغة العربية</u>	
<u>التربية الرياضية</u>		
مجموعات التلغرام.	مجموعات الفيسبوك	قنوات تلغرام
<u>الصف الأول</u>	<u>الصف الأول</u>	<u>الصف الأول</u>
<u>الصف الثاني</u>	<u>الصف الثاني</u>	<u>الصف الثاني</u>
<u>الصف الثالث</u>	<u>الصف الثالث</u>	<u>الصف الثالث</u>
<u>الصف الرابع</u>	<u>الصف الرابع</u>	<u>الصف الرابع</u>
<u>الصف الخامس</u>	<u>الصف الخامس</u>	<u>الصف الخامس</u>
<u>الصف السادس</u>	<u>الصف السادس</u>	<u>الصف السادس</u>
<u>الصف السابع</u>	<u>الصف السابع</u>	<u>الصف السابع</u>
<u>الصف الثامن</u>	<u>الصف الثامن</u>	<u>الصف الثامن</u>
<u>الصف التاسع عام</u>	<u>الصف التاسع عام</u>	<u>الصف التاسع عام</u>
<u>الصف التاسع متقدم</u>	<u>الصف التاسع متقدم</u>	<u>الصف التاسع متقدم</u>
<u>الصف العاشر عام</u>	<u>الصف العاشر عام</u>	<u>الصف العاشر عام</u>
<u>الصف العاشر متقدم</u>	<u>الصف العاشر متقدم</u>	<u>الصف العاشر متقدم</u>
<u>الحادي عشر عام</u>	<u>الحادي عشر عام</u>	<u>الحادي عشر عام</u>
<u>الحادي عشر متقدم</u>	<u>الحادي عشر متقدم</u>	<u>الحادي عشر متقدم</u>
<u>ثاني عشر عام</u>	<u>الثاني عشر عام</u>	<u>الثاني عشر عام</u>
<u>ثاني عشر متقدم</u>	<u>ثاني عشر متقدم</u>	<u>ثاني عشر متقدم</u>

<http://almanahj.com/ae/>

Term 3 Test 2017/2018

Science exam

Grade 2

Name : ...Mohammad eyad.....

Page no: (5)

Subject: Science

Grade 2D.....

Q1 : Circle the correct answer:




1. Where is the rabbit :

* below Chair

* above Chair

* under Chair

2. Motion up and down :



3. An object with a large mass feels :

* light

*Weak

*heavy

<http://almanahj.com/ae/>


4. Pulley help lift an object up high :



5. When adding heat to Ice It's



*stay ice



* turn to liquid



* turn to a gas

6. Mix of two or more things :




7. Help take apart a mixture of sand and iron fillings :



*magnet




*filter



*evaporated

8. Something that gives off heat when it burns :



*Sun



*Fuel




* Air

9. Tool to measure temperature :



*clock



* ruler



*thermometer

10. We can hear the voice by :



*Ear




* eye




* nose

11. Big vibrations make loud sounds:



*cat meow



*lion roar



*whisper

12. Source of light :



*Lamp

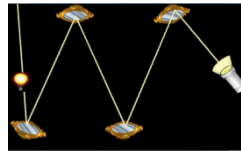


*Sand




*Stone


13. Kind of objects make rainbow:



*Light reflect



* Shadow



* Light bend

14. Get electricity from:



*wall



*Battery



* Wood

15. When we hear bus sound the sound moves through by:

*Air

* liquids

* Solid


16. Gold change from a solid to a liquid: * Melt * Evaporate * Condense

<http://almanahj.com/ac/>

Second : Write (Physical Changes – Chemical Changes)



Folding



heating



Rusting



Freeze

Q 2

1. Match between picture and kind of force :



Friction



Force



Gravity

2. Match:



Solid mixture



Solution

<http://almanahj.com/ae/>

3. Write the objects that magnet attracts and does not attract:



Paper bag



Screw



Paper clip



Crayon

Attracts	Does not attract
----- -----	----- -----

4. Circle the correct answer:

1. Which circuit the light goes on :



2. Static electricity :



3. Change electricity into heat :



5. Tick () or () in each sentence:

1. (.....) North poles and south poles is repel from each other.
2. (.....) Some animals move slowly as cheetahs.
3. (.....) Evaporate means to change from liquid to gas.
4. (.....) After a candle burns, the wax will cool and become solid.