

المادة : العلوم

التاريخ : 2018 / 4 / 23

: الموضوع

مراجعة للامتحان

اعداد المعلمة : عائشة راغب



العام الدراسي 2017 – 2018  
الفصل الدراسي الثالث



دولة الإمارات العربية المتحدة

دائرة التعليم والمعرفة

مدرسة الرؤية الخاصة

..... : الصف : الثاني الشعبة

( ورقة عمل رقم 6 )

الاسم : .....

: السؤال الأو



أعلى الزحليقة

يمين الزحليقة

أسفل الزحليقة

نصف موقع الفتاة رقم ( 1 ) بأنه 1)

نصف موقع الفتى رقم ( 2 ) بأنه 2)

يمين الزحليقة

أسفل الزحليقة

أعلى الزحليقة

[www.almanahj.com](http://www.almanahj.com)



B

A

دائري

متعرج

مستقيم

نوع الحركة على المسار (A) :

نوع الحركة على المسار (B) :

دائري

متعرج

مستقيم

: السؤال الثاني : اذكر القوة المناسبة فيما يلي



دفع - سحب



دفع - سحب



دفع - سحب



دفع - سحب



دفع - سحب



دفع - سحب


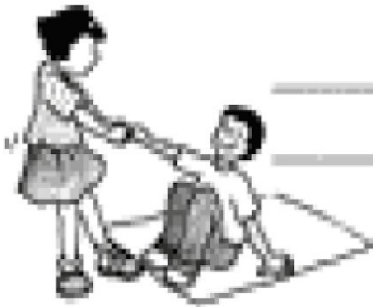


دفع - سحب

[www.almanahj.com](http://www.almanahj.com)

لتقليل سرعة الارجوحة وإيقافها

الاحتكاك - الجاذبية



: السؤال الثالث : صل بخط بين الكلمة و الصورة المناسبة لها

حركة دائرية

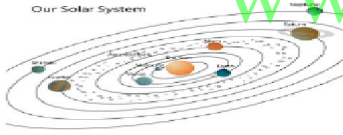


الرافعة

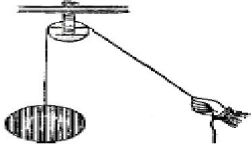


[www.almanahj.com](http://www.almanahj.com)

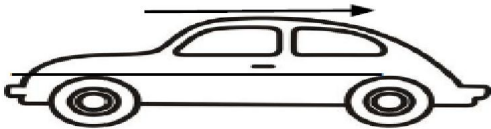
الحركة للخلف







بكرة



الحركة بشكل عشوائي



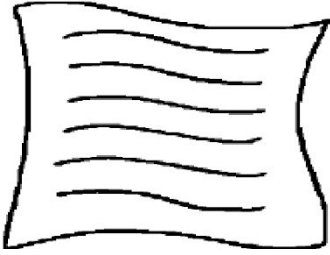
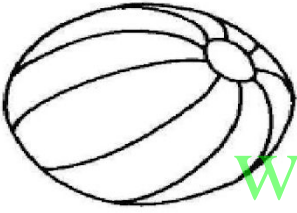
السؤال الرابع : أ ) اختر الاجابة الصحيحة و المناسبة لأقطاب المغناطيس



(تجاذب - تنافر )

(تجاذب - تنافر )

ب ) حو ط الأشياء التي يجذبها المغناطيس



أو إشارة ✓ السؤال الخامس : ضع إشارة X: أمام العبارات التالية

( ) . عندما تركل الكرة فأنت تجعلها تقف 1)

( ) . الجاذبية قوة تسحب كل شيء باتجاه الأرض 2)

( ) . يكون الإحتكاك أقل على الأسطح الخشنة 3)

( ) . الإحتكاك قوة تسرع الأجسام المتحركة 4)

( ) . عندما يقترب قطب شمالي و قطب جنوبي من بعضهما فإنهما يتنافران 5)

- ( ) . قوة السحب هي تحريك الجسم بعيدا عنك(6)
- ( ) . سرعة الطائرة أكبر من سرعة الحصان(7)
- ( ) . تتحرك الأجسام بعدة أشكال مختلفة(8)
- ( ) . للمغناطيس قطبان متشابهان(9)
- ( ) . المطرقة الة بسيطة تتحرك عكس نقطة الارتكاز(10)

[www.almanahj.com](http://www.almanahj.com)