



الإمارات العربية المتحدة
وزارة التربية والتعليم

الصفحة

2

مادة الدراسات الاجتماعية والتربية الوطنية

مراجعة الصف الثاني - الفصل الثالث

اسم المدرسة : الهيير للتعليم الاساسي والثانوي

اسم الطالب :

الصف والشعبة : الثاني : A - B

www.almarhji.com



- التعليمات :
1. سجل بياناتك قبل البدء في الاختبار
 2. أكتب بقلم الرصاص
 3. تتضمن ورقة الأسئلة (71) أسئلة (71) فقرة .
 4. اقرأ وأجب عن الأسئلة كلها بدقة

حسن
في المكتبة



التاريخ : 4 / 2018 /

©

1

الحقوق محفوظة للمعلم
عمر حسن مدرسة الهيير

100
درجة

1- هي الأشياء التي يحتاجها الإنسان وتكون مفيدة في حياته ، هذا مفهوم:



- A- السلع
- B- الحاجة
- C- الهواء
- D- الجهد

2-السلع التي نحصل عليها بدون ثمن هي سلع:



- A- طبيعية
- B- مصنعة
- C- أساسية
- D- غير أساسية

3-تتوافر السلع الغذائية في قسم :



- A- السمك
- B- القماش
- C- البقالة
- D- الصيدلية

4- من السلع الأساسية :



- A- الغذاء
- B- المنتجات
- C- الشوكولاتة
- D-أياد

5- من اسلع الغير أساسية :



- A- الغذاء
- B- الحذاء
- C- الملابس
- D-أياد

6- السلع تختلف عن بعضها في :

- A- الأهمية
- B- الأسعار
- C- الحجم
- D- جميع ماذكر

©

www.almanhajj.com

Omar

Omar

Omar

7- الغذاء الذي يحتوي على جميع العناصر الغذائية يسمى :



- A- الجيد
- B- الناقص
- C- الكامل
- D- المتميز

8- واحدة من التالي ليس من السلع الطبيعية :



- A- الهواء
- B- الماء
- C- الشمس
- D- الملابس

9- واحدة من التالي ليس من السلع المصنعة :



- A- الهواء
- B- الاثاث
- C- الطعام
- D- الملابس

10- هي ما تقدمها الدولة للمواطنين والمقيمين لتسهيل حياتهم :



- A- السلع
- B- الخدمات
- C- الجهد
- D- الماء

11- الحصول على الخدمة بدون ثمن هي الخدمة:

- A- المجانية
- B- الغير مجانية
- C- الأساسية
- D- الغير أساسية



12- الحصول على الخدمة بعد دفع الثمن هي الخدمة:

- A- المجانية
- B- الغير مجانية
- C- الأساسية
- D- الغير أساسية

13- واحدة من التالي ليس من الخدمات المجانية :

- A- التعليم
- B- الصحة
- C- الأمن
- D- الكهرباء

©

Omar

Omar

Omar

مصنوع للبيع أو الطباعة في المكتبة
ملك للمعلم عمر حسن

www.almanahj.com

14- واحدة من التالي ليس من الخدمات الغير مجانية :



A - المواصلات

B- الترفيهية

C- الأمن

D- الكهرباء

15- استخدام طاقة موفرة في إنارة الشوارع هي طاقة :



A- الغاز

B- النفط

C- الفحم

D- الشمس

16- أنا كنت اعلم الطلبة القران والحديث الشريف والحساب في القدم إذا أنا:



A- المداوي

B- المعلم

C- المطوع

D- المهندس

17- كان المطوع يعلم الذكور في :

A- البيت

B- المسجد

C- المدرسة

D- الجامعة

18- كان المطوعة تعلم الاناث في :

A- البيت

B- المسجد

C- المدرسة

D- الجامعة

19- ما يقابل المداوي في الوقت الحاضر :-



A- المعلم

B- الطبيب

C- المهندس

D- القاضي

20- ما يقابل المطوع في الوقت الحاضر :-



- A- المعلم
- B- الطبيب
- C- المهندس
- D- القاضي

21- المكان الذي كان يعلم فيه الطلبة في السابق يسمى :



- A- الجامعة
- B- المدرسة
- C- الصف
- D- الكتاب

22- كان المداوي يعتمد في السابق على :



- A- الدواء
- B- الأعشاب
- C- الجبس
- D- جميع ما ذكر

23- واحد من التالي ليس من الخدمات التعليمية :



- A- المدارس
- B- التطعيم
- C- الكتب
- D- الحافلات

24- واحد من التالي ليس من الخدمات الصحية :



- A- الدواء
- B- التطعيم
- C- علاج الاسنان
- D- الحافلات

25- -- انظف أسناني كل :

- A- يوم
- B- سنة
- C- شهر
- D- كل وجبة

26- يصرف الدواء بعد استشارة :

- A- المعلم
- B- الطبيب
- C- المهندس
- D- والدي

27- واحدة من التالية لا تمثل احترام النظام :

- A- العبث في ممتلكات المدرسة
- B- احافظ على الكتب
- C- احترام الوقت

©

www.almanahj.com

Omar

Omar

Omar

5

مصنوع البيوع أو الطباعة في
ملك للمعلم عمر حسن

- 28- () اخالف أنظمة المدرسة و لا أتبع التعليمات .
- 29- () من اقوال زايد رحمه الله العلم مثل النور يضيئ المستقبل .
- 30- () الإنتاج هو نشاط يمارسه الانسان لتوفير السلع والخدمات مقابل الحصول على المال .
- 31- () من عناصر الإنتاج راس المال والايدي العاملة والموارد الطبيعية .
- 32- () أهمية الإنتاج تكمن في تخلف الدول وعدم تقدمها
- 33- () الإنتاج يمنح الانسان الصحة والنشاط .
- 34- () الانتاج ليس من أهدافه الحصول على النقود .
- 35- () هناك علاقة قوية في العملية الانتاجية بين المزارع والنجار .
- 36- () من الأمثلة على الإنتاج البقالة ومحل الاثاث والكرسي .
- 37- () الثروة الحيوانية والنباتية من عناصر الانتاج عنصر الموارد الطبيعية .
- 38- () أحب أن أكون قدوة لكل من هو حولي .
- 39- () الاستهلاك هو استخدام السلع والخدمات التي يحتاجها الانسان .
- 40- () هناك سلع تستهلك بشل يومي فقط .
- 41- () يحتل الغذاء المرتبة الأولى في الاستهلاك في العالم .
- 42- () يجب المحافظة على الموارد الطبيعية .
- 43- () يجب أن نعمل على ترشيد الاستهلاك .

السؤال الثاني : ضع إشارة (v) أمام العبارة الصحيحة وإشارة (x) أمام الغير صحيحة :

اجابات
صفحة 6

- 28- (x) اخالف أنظمة المدرسة و لا أتبع التعليمات .
- 29- (v) من اقوال زايد رحمه الله العلم مثل النور يضيئ المستقبل .
- 30- (v) الإنتاج هو نشاط يمارسه الانسان لتوفير السلع والخدمات مقابل الحصول على المال .
- 31- (v) من عناصر الإنتاج راس المال والايدي العاملة والموارد الطبيعية .
- 32- (x) أهمية الإنتاج تكمن في تخلف الدول وعدم تقدمها .
- 33- (v) الإنتاج يمنح الانسان الصحة والنشاط .
- 34- (x) الانتاج ليس من أهدافه الحصول على النقود .
- 35- (v) هناك علاقة قوية في العملية الانتاجية بين المزارع والنجار .
- 36- (x) من الأمثلة على الإنتاج البقالة ومحل الاثاث والكرسي .
- 37- (v) الثروة الحيوانية والنباتية من عناصر الانتاج عنصر الموارد الطبيعية .
- 38- (v) أحب أن أكون قدوة لكل من هو حولي .
- 39- (v) الاستهلاك هو استخدام السلع والخدمات التي يحتاجها الانسان .
- 40- (x) هناك سلع تستهلك بشئ يومي فقط .
- 41- (v) يحتل الغذاء المرتبة الأولى في الاستهلاك في العالم .
- 42- (v) يجب المحافظة على الموارد الطبيعية .
- 43- (v) يجب أن نعمل على ترشيد الاستهلاك .

السؤال الثاني : ضع إشارة (v) أمام العبارة الصحيحة وإشارة (x) أمام الغير صحيحة :

- 44-) (ترشيد الاستهلاك مهم لانه يحافظ على أموال الدولة
- 45-) (توفير الطاقة من الأمور السلبية على المجتمع
- 46-) (ترك صنوبر الماء مفتوح عند الضوء ©
- 47-) (أساهم في ترشيد الاستهلاك من خلال إعادة التدوير
- 48-) (لترشيد الاستهلاك أهمية في توفير الماء والغذاء
- 49-) (الري بالتنقيط من أساليب ترشيد الاستهلاك
- 50-) (المادة الخام المستخدمة في صناعة المندوس هي الخشب
- 51-) (الصناعة توفر لنا ما نحتاج إليه من سلع وبضائع
- 52-) (الصناعة لا تحتاج إلى مواد خام
- 53-) (أحافظ على تراثنا القديم للأجيال القادمة
- 54-) (الصناعة هي تحويل المواد الخام إلى مواد يستفيد منها الانسان
- 55-) (الصناعة لاتوفر فرص عمل للمواطن والمقيم

www.almanahj.com

السؤال الثالث أ 56: صنف الكلمات التالية وفق الجدول :

أبياد - الحاسوب - الطعام - السيارة الفاخرة - المكياج - الماء -
الألعاب - حقيبة المدرسة - الفواكه

استهلاك يومي						
استهلاك على المدى البعيد						

السؤال الثاني : ضع إشارة (v) أمام العبارة الصحيحة وإشارة (x) أمام الغير صحيحة :

اجابات
صفحة 7

- 44- (v) ترشيد الاستهلاك مهم لانه يحافظ على أموال الدولة
- 45- (x) توفير الطاقة من الأمور السلبية على المجتمع
- 46- (x) ترك صنوبر الماء مفتوح عند الضوء
- 47- (v) أساهم في ترشيد الاستهلاك من خلال إعادة التدوير
- 48- (v) لترشيد الاستهلاك أهمية في توفير الماء والغذاء
- 49- (v) الري بالتنقيط من أساليب ترشيد الاستهلاك
- 50- (v) المادة الخام المستخدمة في صناعة المندوس هي الخشب
- 51- (v) الصناعة توفر لنا ما نحتاج إليه من سلع وبضائع
- 52- (x) الصناعة لا تحتاج الى مواد خام
- 53- (v) أحافظ على تراثنا القديم للأجيال القادمة
- 54- (v) الصناعة هي تحويل المواد الخام إلى مواد يستفيد منها الانسان
- 55- (x) الصناعة لاتوفر فرص عمل للمواطن والمقيم

السؤال الثالث أ 56: صنف الكلمات التالية وفق الجدول :

أبياد - الحاسوب - الطعام - السيارة الفاخرة - المكياج - الماء -
الألعاب - حقيبة المدرسة - الفواكه

استهلاك يومي	الطعام	الماء	الفواكه	المكياج	
استهلاك على المدى البعيد	أبياد	حاسوب	السيارة	الألعاب	حقيبة

السؤال الثالث ب: ترشيد استهلاك المياه في المنزل من الخطوات الهامة في ترشيد الموارد البيئية في ضوء ذلك ضع الكلمة المناسبة من صندوق المعرفة في الفراغ؟

الاستفادة - الضغط - تنتج - تدوير - الفضلات - استهلاكه

الصندوق

57-تقليل من كمية المياه التي يتم في المنزل.

58-تجنب التخلص من في مياه البحر .

59-إعادة المياه، سواء كانت مياه الأمطار، أو المياه الصناعية، أو المياه الجوفية.

60-استخدام إمدادات المياه البديلة لتقليل على الموارد المائية.

61-معالجة المياه التي من المنزل لاستخدامها في أغراض أخرى.

62-غسل السيارات أو الدراجات على العشب من أجل من المياه بنفس الوقت

السؤال الرابع أ: اربط بين الصناعة والمادة الخام المرتبطة بها؟ من خلال الصور؟

Omar

63



www.almanahj.com



64



©



Omar

65



8

مصنوع البيع أو الطباعة في المكتبة
ملك للمعلم عمر حسن

السؤال الثالث ب: ترشيد استهلاك المياه في المنزل من الخطوات الهامة في ترشيد الموارد البيئية في ضوء ذلك ضع الكلمة المناسبة من صندوق المعرفة في الفراغ؟

الاستفادة - الضغط - تنتج - تدوير - الفضلات - استهلاكه

الصندوق

اجابات
صفحة 8

57-تقليل من كمية المياه التي يتم.....**استهلاكها**. في المنزل.

58-تجنب التخلص من.....**الفضلات**..... في مياه البحر .

59-إعادة...**تدوير**.....المياه، سواء كانت مياه الأمطار، أو المياه الصناعية، أو المياه الجوفية.

60-استخدام إمدادات المياه البديلة لتقليل..**الضغط**..... على الموارد المائية.

61-معالجة المياه التي **استهلاكها**... من المنزل لاستخدامها في أغراض أخرى.

62-غسل السيارات أو الدراجات على العشب من أجل **الاستفادة**. من المياه بنفس الوقت

السؤال الرابع أ: اربط بين الصناعة والمادة الخام المرتبطة بها؟ من خلال الصور؟

Omar

63



www.almanahj.com



64



عمر في المكتبة
حسة حسن

Omar

65



8

66- نذهب إلى..... لشراء الحاجات :



A- المنزل

B- الملعب

C- الحديقة

D- الجمعية التعاونية

67- من الأمثلة على المنتجات الغذائية :

A- السيارة

B- الملابس

C- البيض والزيت

D- الإسمنت

68- من الأمثلة على الصناعات الكبيرة :

A- الحليب

B- الألبان

C- البيض والزيت

D- السيارة



69- قمر صناعي إماراتي من تصنيع الإمارات هو :

A- محمد سات

B- راشد سات

C- خليفة سات

D- منصور سات



70- واحدة من التالي ليس من المنتجات الغذائية الوطنية :

A- الحليب

B- الألبان

C- البيض والزبدة

D- الفول الصيني



71- سلعة واحدة من التالي يستورد من الخارج :-

A- النفط

B- السيارات

C- التمور

D- الملابس



السؤال	نوع السؤال	الفقرات
السؤال الأول	الاختيار من متعدد	1-27
الدرس الأول	أولاً	1-9
الدرس الأول	ثانياً	10-15
الدرس الأول	ثالثاً	16-27

السؤال	نوع السؤال	الفقرات
السؤال الثاني	(v) (x)	28-55
الدرس الأول	ثالثاً	28-29
الدرس الثاني	أولاً	30-38
الدرس الثاني	ثانياً	39-43
الدرس الثاني	ثالثاً	44-49
الدرس الثالث	أولاً	50-55

السؤال	نوع السؤال	الفقرات
السؤال الثالث أ	صنف الكلمات	56
الدرس الثاني	ثانياً	56

السؤال	نوع السؤال	الفقرات
السؤال الثالث ب	أستكمل الفراغ	57-62
الدرس الثاني	ثالثاً	57-62

السؤال	نوع السؤال	الفقرات
السؤال الرابع أ	أربط	63-75
الدرس الثالث	أولاً	63-65

السؤال	نوع السؤال	الفقرات
السؤال الرابع ب	صنف	66
الدرس الثالث	ثانياً	65

السؤال	نوع السؤال	الفقرات
السؤال الخامس	أجب	67-70
الدرس الثالث	ثالثاً	66-71

يتم اختيار الأسئلة وحذف ما تريد



الإمارات العربية المتحدة
وزارة التربية والتعليم

الصفحة

2

مادة الدراسات الاجتماعية والتربية الوطنية

مراجعة الصف الثاني - الفصل الثالث

اسم المدرسة : الهير للتعليم الاساسي والثانوي

اسم الطالب :

الصف والشعبة : الثاني : A - B

www.almanahj.com : التعليمات



- I. سجل بياناتك قبل البدء في الاختبار
- II. أكتب بقلم رصاص
- III. تتضمن ورقة الأسئلة (1) أسئلة (90) فقرة .
- IV. اقرأ وأجب عن الأسئلة كلها بدقة



التاريخ : 24/ 5/2018

©

1

الحقوق محفوظة للمعلم
عمر حسن مدرسة الهير

100
درجة

1- هي المكان الذي نعيش فيه وما يحيط به من كائنات حية وغير حية :



- A- المنزل
- B- الملعب
- C- الحديقة
- D- البيئة

2- دولتنا فيها ثلاث بيئات هي :



©

- A- الجبلية
- B- الساحلية
- C- الصحراوية
- D- جميع ما ذكر

3- تبنى البيوت من سعف النخيل في البيئة :



- A- الجبلية
- B- الساحلية
- C- الصحراوية
- D- جميع ما ذكر

4- تبنى البيوت من بيت الشعر في البيئة :




- A- الجبلية
- B- الساحلية
- C- الصحراوية
- D- جميع ما ذكر

5- تبنى البيوت من الحجارة والخشب في البيئة :



- A- الجبلية
- B- الساحلية
- C- الصحراوية
- D- جميع ما ذكر

6- كان يسمى البيت الذي يبني من سعف النخيل بـ:



- A- الطين
- B- بيت الشعر
- C- العريش
- D- الخيمة

7- كان بيت الشعر يصنع من شعر :



- A- الخروف
- B- الجمل
- C- الماعز
- D- البقرة

8- أكثر شجرة عتمد عليها الأجداد هي شجرة :

©



- A- الموز
- B- النخيل
- C- الغاف
- D- المنجا

9- مسكن خفيف يسهل حمله على الناقة هو :



- A- العريش
- B- بيت الشعر
- C- الحجر
- D- الطين

10- صنعت المرأة الإماراتية في الماضي الأدوات المنزلية من :-



- A- الكتان
- B- الحديد
- C- النحاس
- D- سعف النخيل

11- أنا أعرف أن بدو الصحراء يفضلون العيش في أرض الآباء والأجداد " من القائل:



- A- الشيخ زايد
- B- الشيخ خليفة
- C- الشيخ محمد
- D- الشيخ راشد

12- الحيوان الذي يكثر تواجده عند الأجداد هو :

- A- الأسد
- B- الجمل
- C- الثور
- D- الحصان

13- نحصل على ما نحتاج من مسكن وحياة كريمة :-

- A- الكسل
- B- النوم
- C- العمل
- D- الراحة

14- الشيخ زايد رحمه الله غير المسكن الإماراتي من العريش والخيمة إلى :



A- الحجارة

B- الطين

C- الماء

D- الحصى

15- يحوط الدار من الخارج :



A- الحوي

B- المخزن

C- البخار

D- المطبخ

16- هو غرفة تخزين الطعام :



A الحوي

B- المخزن

C -البخار

D- المطبخ

17- مخزن لحفظ مواد المعيشة :



A الحوي

B- المخزن

C -البخار

D- المطبخ

18- المكان الذي يعد فيه الطعام :



A الحوي

B- المخزن

C -البخار

D- المطبخ

19- هي غرفة النوم :-



A الحوي

B- الحجرة

C -البخار

D- المطبخ

ممنوع البيع أو الطباعة في المكتبة
ملك المعلم عمر حسن

www.almanahj.com

20- المكان الذي نستقبل فيه الضيوف :-



- A المجلس
- B- المخزن
- C -البخار
- D- المطبخ

21-المساحة التي تكون أمام غرف البيت :



- A الحوي
- B- المخزن
- C -الليوان
- D- المطبخ

22- تمد المصابيح بالضوء في الليل :



- A- الزيت
- B- الحناء
- C- الكهرباء
- D- الماء

23-كنت أفكر دائماً في سعادتهم من أقوال الشيخ :



- A- محمد
- B- راشد
- C- زايد
- D- خليفة

24-هو المكان الذي يسكن فيه الفرد في بلادي :



- A- المسكن
- B- الشارع
- C- الحي
- D- الجسر

25-- هي البيوت التي تبنيها الدولة للمواطن بالقرب من بيئته هي :

- A- البيوت الشعبية
- B- الأبراج
- C- الخيم
- D- العزبة

26- منازل سكنية تتكون من طابقين وفيها حديقة هي :

- A- - البيوت الشعبية
- B- الفلل السكنية
- C- الخيم
- D- العزبة

27- أصبحت المباني أكثر ارتفاع بعد اختراع :

- A- الاسمنت
- B- الحديد
- C- المصاعد
- D- السيارات

28- من الخدمات التي توفرها الدولة في الحي :



A- الحدائق

B- المساجد

C- المستشفيات

D- جميع ماذكر

29- عند بناء المنازل والأسواق لابد من توفر منحدر أمام المبنى من أجل :




A- أصحاب الهمم

B- البالغون

C- الأطفال

D- الشيوخ

30- العالم والطبيب الأول في وصف الأدوية هو:



A - الرازي

B- ابن سينا

C- الكندي

D- الفارابي

31- أطول برج في العالم برج :

A- الاتصالات

B- العرب

C- خليفة

D- ايفل



32- أكبر موسوعة في عالم الأدوية والطعام كتبها العالم المسلم:

A - الرازي

B- ابن سينا

C- الكندي

D- الفارابي



33- إن الإنسان هو العنصر الأساسي لكل تقدم من أقوال الشيخ :

A- الشيخ زايد

B- الشيخ خليفة

C- الشيخ محمد

D- الشيخ راشد



عام زايد

ممنوع البيع أو الطباعة في المكتبة
ملك المعلم عمر حسن

www.almanahj.com

34- أنا تجمع كبير للمياه المالحة :-



- A- النهر
- B- البحر
- C- البحيرة
- D- السد

35- نغوص في البحر لجمع :



- A- السمك
- B- الذهب
- C- المحار
- D- الملح

36- مهنة الغوص مهنة :



- A- آمنة
- B- خطيرة
- C- مشوقة
- D- جميع ماذكر

37- يوجد داخل المحار :



- A- السمك
- B- الذهب
- C- اللؤلؤ
- D- الملح

38- السفن الشراعية تعتمد في حركتها على :



- A- الماء
- B- الشمس
- C- القمر
- D- الرياح

39- هو مشبك يضعه الغواص على أنفه لمنع دخول الماء أنا :

- A- الدبين
- B- الفطام
- C- السفن
- D- الشبك

40- أن كيس يعلقني الغواص في رقبته ليضع معي المحار أنا :

- A- الدبين
- B- الفطام
- C- السفن
- D- الشبك

41- كان سكان الخليج يعتمدون في رزقهم على :

- A- الزراعة
- B- البحر
- C- الجبل
- D- النهر

42- الأسم القديم لرأس الخيمة :

- A- أم النار
- B- الوصل
- C- جلفار
- D- ليوا



43- لا بد من الحفاظ على تراثنا القديم من أقوال :

- A- الشيخ زايد
- B- الشيخ عبدالله
- C- الشيخ راشد
- D- الشيخ خليفة



44- كانت جلفار مركز :

- A- للصناعة
- B- التجارة
- C- الصيد والغوص
- D- الزراعة



45- القبيلة التي حكمت رأس الخيمة هي :

- A- آل نهيان
- B- القواسم
- C- النعيم
- D- الشرقي



46- عُرفت بهذا الاسم لوجود خيمة نصبت لمراقبة السفن أنا :

- A- الشارقة
- B- دبي
- C- عجمان
- D- رأس الخيمة



47- فن السفر في البحار يقصد به :

- A- القانون
- B- الصيدلة
- C- الملاحة
- D- الهندسة



48- من أبرز الملاحين في القرن الخامس عشر :-

- A- ابن بطوطة
- B- أحمد بن ماجد
- C- ابن سينا
- D- الرازي

49- تصنع السفن قديماً من :

- A- الحديد
- B- الخشب
- C- النحاس
- D- الورق



50- لقب جلفار هو :

- A - أسود البحر
- B- نمور البحر
- C- فهود البحر
- D- جميع ماذكر



51- لقد أسهم الإباء في بناء هذا الوطن من أقوال :

- A الشيخ زايد
- B- الشيخ عبدالله
- C -الشيخ راشد
- D- الشيخ خليفة



©

52- من هو أسد البحر :

- A- ابن بطوطة
- B- بن ماجد
- C- الرازي
- D- ابن سينا



53-- شهاب الدين احمد بن ماجد من :

- A- دبي
- B- جلفار
- C- ابوظبي
- D- الفجيرة



54- مشتقة من المصطلح أمير البحر وتعني قائد بحرياً:

- A - أدميرال
- B- ضابط
- C- محامي
- D- قاضي



55- عمل أحمد بن ماجد في مجال :

- A- الطب
- B- الملاحة
- C- الهندسة
- D- قاضي

56- من الروائع التي تساعدك في تحريك القارب :




- A- البوصلة
- B- المجداف
- C- الغواصة
- D- القارب

57- نهل بن ماجد من العلم من خلال :



- A- البحث
- B- التنقل والترحال
- C- التجريب
- D- جميع ماذكر

58- كان بن ماجد يقرأ كتب :



- A- الجغرافيا والفاك
- B- الطب والهندسة
- C- علوم
- D- رياضيات

59- سافر أحمد بن ماجد في البحر وهو في سن:



- A- العاشرة
- B- الحادي عشر
- C- الخامسة عشر
- D- التاسعة

60- طور ابن ماجد :



- A- البوصلة
- B- المجداف
- C- الغواصة
- D- القارب

61- وضع ابن ماجد على البوصلة :



- A- عدسة
- B- شاشة
- C- إطار
- D- إبرة مغناطيسية



62- أَلْف ابن ماجد كتاب :-

A- الحاوي

B- البصريات

C- الفلك

D- الفوائد في علم البحار

63- انسب وقت لصيد السمك عندما يكون البحر :

A- هائجاً

B- صافي

C- هادئاً

D- ممطر



64- من الخطر ممارسة السباحة عندما يكون البحر :

A- هائجاً

B- صافي

C- هادئاً

D- ممطر



65- تقوم برحلة بحرية عندما تكون السماء :

A- هائجاً

B- صافية

C- هادئاً

D- ممطرة



66- تقل رحلات الصيادين عندما تكون السماء :

A- هائجاً

B- صافية

C- هادئاً

D- ممطرة



67-- كان قائد مسلم للأسطول الصيني في القرن الخامس عشر بأكبر سفينة خشبية :

A- صن

B- يات

C- جان

D- زينغ هي



68- من صفات ابن ماجد :

A- الشهامة

B- الذكاء

C- النجدة

D- جميع ما ذكر

69- وسيلة نقل حديثة تطير في الجو هي :



- A- الطائرة
- B- السفينة
- C- السيارة
- D- الغواصة

70- طائرات تنقل الأفراد هي طائرات لنقل :



- A- المسافرين
- B- البضائع
- C- الجيش
- D- خاصة

71- طائرات تنقل البضائع هي طائرات لنقل :



- A- الاشخاص
- B- البضائع
- C- الجيش
- D- خاصة

72- طائرات تنقل الجنود هي طائرات لنقل :



- A- الاشخاص
- B- البضائع
- C- الجيش
- D- خاصة

73- طائرات نقل للشخصيات هي طائرات نقل :



- A- الاشخاص
- B- البضائع
- C- الجيش
- D- خاصة

74- أسرع أنواع النقل ، النقل :



- A- الجوي
- B- المائي
- C- البري
- D- جميع ما ذكر

75- أهمية الطيران تكمن في نقل الأفراد من اجل :-

- A- الترفيه
- B- التجارة
- C- السياحة
- D- جميع ما ذكر

ممنوع البيع أو الطباعة في المكتبة
ملك المعلم عمر حسن

76- أسرع الطيور هو طائر الذي يقطع مسافات طويلة دون توقف :



- A- الهدهد
- B- النورس
- C- الشنقب
- D- الحمام

77- المسافة التي يقطعها شيء ما في مدة زمنية معينة هو مفهوم :



- A - القوة
- B- السرعة
- C- الكتلة
- D- الحجم

78- انتقال الاشخاص من بلد إلى بلد آخر يسمى :



- A- الطائرة
- B- السفر
- C-العسكرية
- D- الهجرة

79- تحيط بالأرض طبقة من الغازات تسمى :

- A - المناخ
- B- الطقس
- C- الجو
- D- الحرارة

80 أول من جرب الطيران هو :

- A- عباس بن فرناس
- B- أبو بكر الرازي
- C- احمد بن ماجد
- D- الأخوان رايت



81 تجربتهما الناجحة مهدت للطيران في عام 1903 هما :

- A- عباس بن فرناس
- B- أبو بكر الرازي
- C- احمد بن ماجد
- D- الأخوان رايت



OMAR

OMAR

OMAR

مصنوع البيوع أو الطباعة في المكتبة
ملك المعلم عمر حسن

©

www.almanahj.com

82- كانت انطلاقة عباس بن فرناس من :



- A- قرطبة
- B- غرناطة
- C- مدريد
- D- طنجة

83- سبب فشل محاولة عباس بن فرناس حسب اعتقاده هو عدم استخدام :



- A - الجناح الايمن
- B- الجناح الأيسر
- C - الذيل
- D- الجسم

84- صنع عباس بن فرناس زي الطيران من :



- A- الصوف
- B- الجلد
- C- الحرير
- D- القطن

85- أسلوب الطيران الذي أتبعه عباس بن فرناس أسلوب :



- A- الطيران الشراعي
- B- الطيران المدني
- C -الطيران العسكري
- D- الطيران الحربي

86- شيء ما يطلق الحرارة عندما يتم حرقه هو :-



- A- الماء
- B-الهواء
- C- التربة
- D- الوقود

87- معبأً بالهواء الساخن الناتج عن حرق الخشب والقش هو :



- A- الصاروخ
- B- الطائرة
- C- الغواصة
- D- المنطاد

88- طائرة خفيفة تطير بدون محرك هي :

- A - الصاروخ
- B- الطائرة الشراعية
- C- الغواصة
- D- المنطاد

89- طائرة خفيفة تطير بدون محرك مغطى بالقماش او الورق هي :



- A - الصاروخ
- B- الطائرة الورقية
- C- الغواصة
- D- المنطاد

90 شركة وطنية تتخذ من مطار دبي مقراً لها :



- A- طيران الإمارات
- B- طيران الاتحاد
- C- طيران فلاي دبي
- D- طيران العربية

91- بدأ الطيران في بلادي في عام :



- A- 1966
- B- 1956
- C- 1976
- D- 1986

92- شركة وطنية تتخذ من مطار أبوظبي مقراً لها :



- A- طيران الإمارات
- B- طيران الاتحاد
- C- طيران فلاي دبي
- D- طيران العربية

93- هو المكان المخصص لصعود وهبوط الطائرات :



- A - الميناء البحري
- B- المطار
- C - الموقف
- D- برج

شرح فقرات الاختبار

رقم السؤال	نوع السؤال	الفقرات	الدرس	الفرع
1	اختيار من متعدد	1-13	الأول	رحلة إلى المسكن الإماراتي
		14-23		تطور المسكن الإماراتي
		24-33		رحلة المسكن الإماراتي حديثاً
		34-41	الثاني	خيرات البلاد
		42-51		جلفار
		52-68		اسد البحر
		69-79	الثالث	الطيران
		80-89		تاريخ نشأة الطيران
		90-93		الناقل الوطني في بلادي

ممنوع البيع أو الطباعة في المكتبة
ملك للمعلم عمر حسن



التاريخ : .../5/2018... التاريخ : .../...../1439...

Omar

الهِدْفُ مِنَ الْوَرَقَةِ: رحلة إلى المسكن الاماراتي

النَّشَاطُ رَقْمٌ وَاحِدٌ: ضع دائرة على الصورة المناسبة التي تمثل المعنى المطلوب فيما يلي ؟

1- البيئة الصحراوية تمثلها الصورة



2- طبيعة المساكن في البيئة الصحراوية تمثلها الصورة



3- الحيوان الذي يعيش في الصحراء تمثله الصورة



4- هي المكان الذي نعيش فيه



البيئة

A- البيت

omar

5- يبني بيت الشعر في الصحراء من شعر :



B- البقر

A- الجمل

D- الحصان

الماعز



التاريخ : .../5/2018... التاريخ : .../...../1439...

omar

الهِدْفُ مِنَ الْوَرَقَةِ: رحلة إلى المسكن الاماراتي

النَّشَاطُ رَقْمٌ وَاحِدٌ: ضع دائرة على الصورة المناسبة التي تمثل المعنى المطلوب فيما يلي ؟

6- البيئة الساحلية تمثلها الصورة




7- طبيعة المساكن في البيئة الساحلية والي تحمل اللون البني تمثلها الصورة



8- الحيوان الذي يعيش في البحر نمثله الصورة



9- من الصفات التي انتصف بها سكان الإمارات اتقان العمل و



B- الغضب

الصبر

omar

10- بيوت الساحل كانت تبني من الطين أو العريش الذي كان يصنع من :



A- الخشب

D- الورق

C- الشعر

سعف النخيل



التاريخ : .../5/2018... التاريخ : .../...../1439...

الهدَفُ مِنَ الوَرَقَةِ: رحلة إلى المسكن الاماراتي

النَّشَاطُ رَقْمٌ وَاحِدٌ: ضع دائرة على الصورة المناسبة التي تمثل المعنى المطلوب فيما يلي ؟

omar

11- البيئة الجبلية تمثلها الصورة




12- طبيعة المساكن في البيئة الجبلية تمثلها الصورة



13- الحيوان الذي يعيش في الجبل تمثله الصورة



14- نحصل على الخشب من



A- الحيوان B- الشجر

15- الثمار التي كانت غذاء للمسافر من شجرة :



omar

A- الموز B- النخيل
C- التفاح D- البرتقال

16- أنا أعرف أن بدو الصحراء يفضلون العيش في أرض الآباء والأجداد القائل الشيخ :



A- زايد B- خليفة
C- راشد D- محمد بن زايد

التاريخ : .../...../1439...

التاريخ : .../5/2018...



الهِدَفُ مِنَ الْوَرَقَةِ: تطور المسكن الإماراتي

omar

النَّشَاطُ رَفْمٌ وَاحِدٌ: ضع دائرة على الصورة المناسبة التي تمثل المعنى المطلوب فيما يلي ؟

17- تطورت المساكن في دولة الإمارات بعد قيام الاتحاد عام

1971

1981

1991

1973

18- من أقسام البيت الإمارات القديم الحُوي

©



19- من أقسام البيت الإمارات القديم اللِيوان



20- وجه الشيخ زايد والشيخ رحمهما الله بتطوير المساكن



omar

B- خليفة

راشد



21- هو في غاية الخفة ينقل على الجمل، بيت :



B- الحجر

A- الطين

D- العريش

الشعر



التاريخ : .../...../1439...

التاريخ : .../5/2018...



الهِدَفُ مِنَ الْوَرَقَةِ: تطور المسكن الإماراتي

omar

النَّشَاطُ رَفْمٌ وَاحِدٌ: ضع دائرة على الصورة المناسبة التي تمثل المعنى المطلوب فيما يلي ؟

22- من أقسام البيت الإمارات القديم المجلس



23- من أقسام البيت الإمارات القديم المطبخ



24- من أقسام البيت الإمارات القديم غرفة النوم



25- استخدم في البيوت قديماً من اجل الانارة من الزيت



omar

A- الكهرباء

المصابيح

26- كانت الاسوار قديماً عالية من أجل :

A- التفاخر

حماية الخصوصية

C- التبذير

D- الحرب



التاريخ : .../...../1439...

التاريخ : .../5/2018...



الهِدَفُ مِنَ الْوَرَقَةِ: المسكن الاماراتي حديثاً

omar

النَّشَاطُ رَفْمٌ وَاحِدٌ: ضع دائرة على الصورة المناسبة التي تمثل المعنى المطلوب فيما يلي ؟

27- هي مجموعة من البيوت تبنيتها الدولة بالقرب من بيئاتهم



©

28- منازل سكنية تتكون من طابقين وبها حديقة



29- عالية تتكون من ثلاث وأربع طوابق وتكون بدون حديقة تسمى عمارة



30- يتم عمله أمام المباني والأسواق لرعاية أصحاب الهمم في الدخول إلى المنزل أو السوق

omar



A- موقف المعاقين المنحدر

31- أعلى برج في الإمارات يصل ارتفاعه لـ 828 متر هو برج:



A- العرب خليفة
C- بيزا
D- إيفل

التاريخ : .../...../1439...

التاريخ : .../5/2018...



الهِدَفُ مِنَ الْوَرَقَةِ: خيرات البحار

omar

النَّشَاطُ رَفْمٌ وَاحِدٌ: ضع دائرة على الصورة المناسبة التي تمثل المعنى المطلوب فيما يلي ؟

32- تجمع كبير للمياه المالحة هو



33- يغوص الغوص في البحر لجمع المحار أي صورة تمثل مهنة الغوص



34- كانت وسيلة نقل تعتمد على قوة دفع الريح في الحركة أي من الصور التالية تمثل هذا المعنى



35- ان مشبك يضعه الغواص على أنفه ، من أنا



B- الدّيبين

الفطام


36- كيس يعلقه الغواص في رقبتة ليضع فيه المحار :

B- الفِطام

A- المحارة

D- اللؤلؤ

الدّيبين



omary
مخلوع البيع أو الطباخة في
ملك للمعلم عمر حسن
المكتبة

التاريخ : .../...../1439...

التاريخ : .../5/2018...



الهِدْفُ مِنَ الْوَرَقَةِ: خيرات البحار

omar

النَّشَاطُ رَقْمٌ وَاحِدٌ: ضع دائرة على الصورة المناسبة التي تمثل المعنى المطلوب فيما يلي ؟

37- كان سكان الخليج العربي يعتمدون في رزقهم قديماً



38- لابد من الحفاظ على تراثنا القديم من أقوال الشيخ ©




40- وسيلة نقل تغوص في أعماق البحر أي صورة تدل على ذلك



41- السفن الشراعية تتحرك بقوة

omar



الرياح

A- الشمس

42- الذي يغوص في البحر لجمع المحار يسمى :

B- الطواش

A- النوخذة

الغواص

C- الملاح



التاريخ : .../...../1439...

التاريخ : .../5/2018...



الهدف من الورقة: جلفار (راس الخيمة)

omar

النشاط رقم واحد: ضع دائرة على الصورة المناسبة التي تمثل المعنى المطلوب فيما يلي؟

43- هو مسطح مائي تحيط به اليابس من ثلاث جهات



44- رأس الخيمة تحكمها قبيلة



45- وسيلة نقل لصيد السمك



46- كانت جلفار قوة

omar



بحرية

A- برية

47- الاسم القديم لرأس الخيمة هو :

B- أم النار

A- الوصل

جلفار

C- القواسم



التاريخ : .../...../1439...

التاريخ : .../5/2018...



الهِدَفُ مِنَ الْوَرَقَةِ: جلفار (راس الخيمة)

omar

النَّشَاطُ رَفْمٌ وَاحِدٌ: ضع دائرة على الصورة المناسبة التي تمثل المعنى المطلوب فيما يلي ؟

48- توديع المسافر يجب أن يكون ب



49- وصفت جلفار بوصف البحار



50- الخشب يستخرج من



51- لقد أسهم الآباء في بناء هذا الوطن وواجبنا أن نبنى للأجيال القادمة القائل الشيخ

omar



B- زايد

A- خليفة

ممنوع البيع أو الطباعة في المكتبة
ملك للمعلم عمر حسن



التاريخ : .../...../1439...

التاريخ : .../5/2018...



الهِدْفُ مِنَ الْوَرَقَةِ: أسد البحار

omar

النَّشَاطُ رَفْمٌ وَاحِدٌ: ضع دائرة على الصورة المناسبة التي تمثل المعنى المطلوب فيما يلي ؟

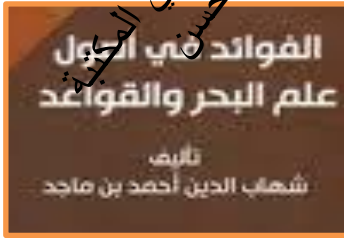
52- واحدة من الصور التالية تمثل شهاب الدين أحمد بن ماجد



53- شهاب الدين أحمد بن ماجد لقب ب ©... البحار



54- واحدة من التالي ليس من إنجازات أحمد بن ماجد



55- أدميرال يقصد بها

omar

B- أمير البحر

أ) أمير الجيش



56- من الروافع تساعد في تحريك القارب :

B- القارب

A- البوصلة

المجداف

C- السفينة



التاريخ : .../...../1439...

التاريخ : .../5/2018...



الهِدَفُ مِنَ الْوَرَقَةِ: أسد البحار

النَّشَاطُ رَقْمٌ وَاحِدٌ: ضع دائرة على الصورة المناسبة التي تمثل المعنى المطلوب فيما يلي ؟ omar

57- شارك ابن ماجد والده الرحلات وهو في سن

17

10

58- واحدة من التالي ليس من صفات ابن ماجد



59- أنسب وقت لصيد السمك عندما يكون البحر



60- تقوم برحلة بحرية عندما تكون السماء



61- من الروافع تساعد في تحريك القارب: من الخطر ممارسة السباحة والبحر



B- هادئاً

هائجاً

62- تقل رحلات الصيد عندما تكون السماء :

B- هادئة

A- صافية

D- جميع ما ذكر

ممطرة



omar

التاريخ : .../...../1439...

التاريخ : .../5/2018...



الهِدْفُ مِنَ الْوَرَقَةِ: الطيران

النَّشَاطُ رَقْمٌ وَاحِدٌ: ضع دائرة على الصورة المناسبة التي تمثل المعنى المطلوب فيما يلي ؟ omar

63- وسيلة نقل حديثة للوصول إلى الأماكن البعيدة بوقت قصير انا



64- طائرات نقل الاشخاص



65- طائرات نقل البضائع



66- طائرات نقل عسكري



67- الطائرة في الصورة تعني نقل



A- عام خاص

68- الطائرة المدنية لها اهمية كبيرة واحدة من التالي لا تمثل ذلك

A- التنزه B- التجارة
C- السياحة D- الحرب



omar

التاريخ : .../...../1439...

التاريخ : .../5/2018...



الهدف من الورقة: تاريخ نشأة الطيران

النشاط رقم واحد: ضع دائرة على الصورة المناسبة التي تمثل المعنى المطلوب فيما يلي ؟

omar

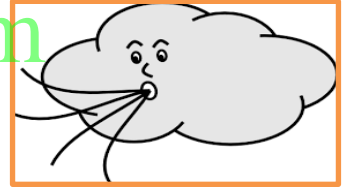
70- أول من جرب الطيران هو عباس بن فرناس



71- تاريخ تطور الطيران « رتب الصور التالية ما الأقدم إلى الأحدث »



72- الطائرات الحديثة تتحرك بـ



73- عباس بن فرناس من مدينة



74- يعبا المنطاد بالهواء الساخن الناجم على احتراق



A- الحديد

الخشب

75- هيكل خفيف الوزن مغطى بالورق والقماش انا طائرة

B- شراعية

D- العسكرية

ورقية

C- المنطاد

omar

التاريخ : .../...../1439...

التاريخ : .../5/2018...




الهِدَفُ مِنَ الْوَرَقَةِ: الناقل الوطني

النَّشَاطُ رَقْمٌ وَاحِدٌ: ضع دائرة على الصورة المناسبة التي تمثل المعنى المطلوب فيما يلي ؟ omar

76- الناقل الوطني في الدولة هو طيران



77- يقع طيران الامارات في إمارة «



78- كانت بداية الطيران في الامارات عام

1966

1981

1971

1973

79- هو المكان المخصص لصعود الطائرات



80- هناك خدمة الطائر تشمل نقل المؤمن



B- المهندس

الطبيب

81- هذه الطائرة هدفها من السفر

B- العمل

A- العلاج

D- الذهاب للبقالة

التنزه



omar