

تم تحميل هذا الملف من موقع المناهج الإماراتية



* للحصول على أوراق عمل لجميع الصفوف وجميع المواد اضغط هنا

<https://almanahj.com/ae>

* للحصول على أوراق عمل لجميع مواد الصف الرابع اضغط هنا

<https://almanahj.com/ae/4>

* للحصول على جميع أوراق الصف الرابع في مادة رياضيات ولجميع الفصول, اضغط هنا

<https://almanahj.com/ae/4math>

* للحصول على أوراق عمل لجميع مواد الصف الرابع في مادة رياضيات الخاصة بـ الفصل الأول اضغط هنا

<https://almanahj.com/ae/4math1>

* لتحميل كتب جميع المواد في جميع الفصول للـ الصف الرابع اضغط هنا

<https://almanahj.com/ae/grade4>

للتحدث إلى بوت المناهج على تلغرام: اضغط هنا

https://t.me/almanahj_bot

مادة الرياضيات

الصف الرابع

الوحدة 4

الضرب في أعداد مكونة من رقم واحد

الفصل الدراسي الأول

إعداد :



مراجعة الوحدة 4 الضرب في أعداد مكونة من رقم واحد / الصف الرابع / الفصل الدراسي الأول

$$5 \times 300 =$$

1- اوجد ناتج ضرب

- a) 1500 b) 15 c) 150 d) 15000

$$9 \times 100 =$$

2- اوجد ناتج ضرب

- a) 90 b) 900 c) 9 d) 9000

$$5 \times \dots\dots\dots = 3500$$

3- اوجد ناتج ضرب

- a) 70 b) 700 c) 7 d) 7000

4- يجني سالم 100 AED أسبوعيا مقابل تنظيف الحديقة . ما مقدار المال الذي سيجنيه في 6 أسابيع ؟

- a) 60 b) 6 c) 600 d) 6000

5- تريد خديجة شراء 3 علب تلوين بسعر 10 AED للعلبة فما المبلغ الذي ستحتاج إليه ؟

- a) 30 b) 300 c) 3 d) 3000

$$143 \times 2 = \dots\dots\dots$$

6- أوجد القيمة التقديرية لنتاج ضرب

- a) 100 b) 200 c) 300 d) 400

$$2,721 \times 4 = \dots\dots\dots$$

7- أوجد القيمة التقديرية لنتاج ضرب

- a) 11000 b) 12000 c) 13000 d) 1 4000

8- يسبح حميد لمسافة 575 مترا في كل مرة يتدرب فيها . إذا تدرب أيام الخميس والسبت والأحد

أحسب تقديريا عدد الأمتار التي سيقوم بسباحتها خلال هذا الاسبوع ؟

- a) 150 b) 1500 c) 1800 d) 180

9- قدرت هيام عدد المربعات الموجودة في الفسيفساء فتوجد 7 ألوان مختلفة كما يوجد 1,725

مربعا من كل لون . ما قيمة تقدير هيام ؟

- a) 170 b) 1700 c) 14000 d) 140

$$246 \times 8 = \dots$$

10- حدد ما إذا كان التقدير أكبر من أو أصغر من أو يساوي ناتج الضرب الفعلي لـ

- a. أصغر من b. أكبر من c. يساوي

$$4,528 \times 4 = \dots$$

11- حدد ما إذا كان التقدير أكبر من أو أصغر من أو يساوي ناتج الضرب الفعلي لـ

- a. أصغر من b. أكبر من c. يساوي

$$7 \times 5,499 = \dots$$

12- حدد ما إذا كان التقدير أكبر من أو أصغر من أو يساوي ناتج الضرب الفعلي لـ

- a. أصغر من b. أكبر من c. يساوي

$$4 \times 756 = \dots$$

13- حدد ما إذا كان التقدير أكبر من أو أصغر من أو يساوي ناتج الضرب الفعلي لـ

- a. أصغر من b. أكبر من c. يساوي

$$2 \times 22 = \dots$$

14- أوجد ناتج ضرب

- a) 22 b) 44 c) 33 d) 11

$$4 \times 12 = \dots$$

15- أوجد ناتج ضرب

- a) 48 b) 84 c) 36 d) 44

$$2 \times 43 = \dots$$

16- أوجد ناتج ضرب

- a) 68 b) 84 c) 86 d) 85

17- كل جائزة عبارة عن 3 تذاكر لمركز الالعاب . فما عدد التذاكر اللازمة لـ 23 جائزة ؟

- a) 96 b) 69 c) 230 d) 56

18- يوجد 32 كرسيًا في كل فصل . فما إجمالي عدد الكراسي الموجودة في فصلين ؟

- a) 34 b) 46 c) 64 d) 66

19- يريد سلطان شراء هدايا لأربعة من أصدقائه ويمكنه دفع 20 AED لكل هدية . فما مقدار

المال الذي بإمكان سلطان دفعه لإجمالي الهدايا ؟

- a) 80 b) 40 c) 34 d) 24

20- يمتلك مازن 3 مجموعات من القطارات ولكل قطار 18 عربة . فكم عدد عربات القطار

الموجودة مع مازن ؟

- a) 21 b) 45 c) 54 d) 34

$$22 \times 6 = \dots$$

21- أوجد ناتج ضرب

- a) 132 b) 123 c) 30 d) 28

$$n \times 2,019 = \dots$$

إذا كان $n = 5$ ؟

22- أوجد ناتج ضرب

- a) 10,095 b) 10,000 c) 10,500 d) 10,545

$$n \times 685$$

إذا كان $n = 3$ ؟

23- أوجد ناتج ضرب

- a) 2,000 b) 2,055 c) 2,550 d) 2,045

24- توجد 405 نافذة في مبنى المكتب . وتتضمن كل نافذة 9 ألواح زجاجية . كم عدد الألواح

الزجاجية الموجودة في المبنى إجمالاً ؟

- a) 4,059 b) 3,645 c) 3,600 d) 4,009

25- تخزن وفاء 1,024 لعبة في كل صندوق كبير في مصنع الألعاب . ما إجمالي عدد الألعاب

الموجودة في 7 صناديق كبيرة ؟

- a) 7,168 b) 7,681 c) 1,031 d) 1,017

26- قرأت سمية كتابين ويحتوي كل كتاب على 44 صفحة . فكم عدد الصفحات التي قرأتها ؟

- a) 88 b) 46 c) 42 d) 77

27- تصل تكلفة كل تذكرة تزلج إلى 109 AED كم تبلغ تكلفة خمس تذاكر تزلج ؟

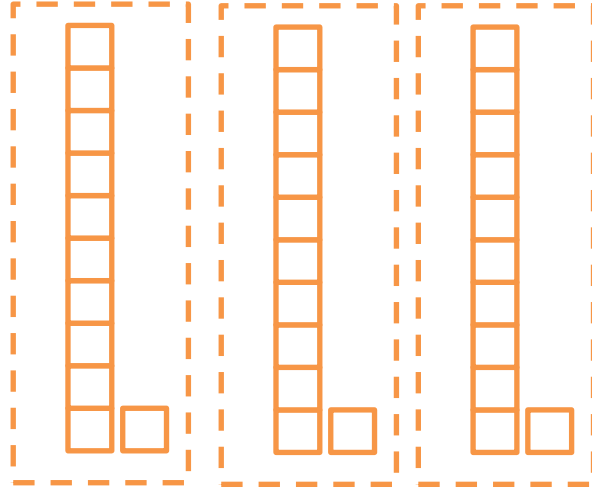
- a) 554 b) 545 c) 114 d) 104

28- تحمل طائرة 234 راكبا إذا كانت الطائرة تقوم بأربع رحلات في اليوم . فكم عدد الركاب الذين

تنقلهم الطائرة يوميا ؟

- a) 51 b) 800 c) 826 d) 936

29- حدد مسألة الضرب الموضحة في النموذج التالي :



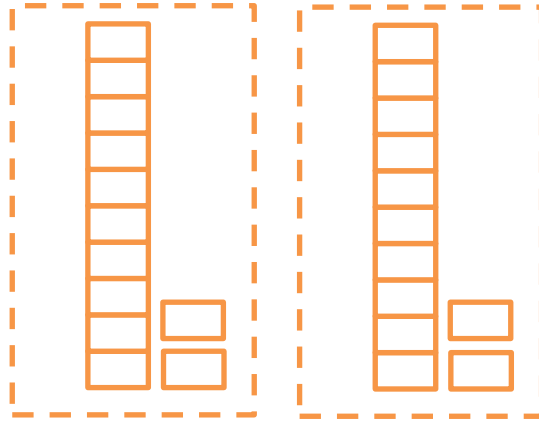
a) $33 \div 3 = 11$

b) $10 \times 3 = 30$

c). $3 \times 11 = 33$

d) $30 \div 10 = 3$

30- حدد مسألة الضرب الموضحة في النموذج التالي :



a) $2 \times 22 = 44$

b) $11 \times 2 = 22$

c). $20 \times 2 = 40$

d) $22 \div 2 = 11$

1- أوجد ناتج ضرب كل مما يلي :

$5 \times 500 = \dots\dots\dots$	$4 \times 90 = \dots\dots\dots$
$2 \times 4,000 = \dots\dots\dots$	$6 \times 3,000 = \dots\dots\dots$

2- أوجد القيمة التقديرية. وحوط ما إذا كان التقدير أكبر من أم أصغر من ناتج الضرب الفعلي :

$$1,478 \times 4$$



$$\dots\dots\dots \times 4 = \dots\dots\dots$$

أكبر من
أصغر من

$$6,625 \times 5$$



$$\dots\dots\dots \times 5 = \dots\dots\dots$$

أكبر من
أصغر من

$$2 \times 896$$



$$2 \times \dots\dots\dots = \dots\dots\dots$$

أكبر من
أصغر من

$$3 \times 420$$



$$3 \times \dots\dots\dots = \dots\dots\dots$$

أكبر من
أصغر من

3- اضرب كل مما يلي :

$$\begin{array}{r} 43 \\ \times 5 \\ \hline \end{array}$$

$$\begin{array}{r} 44 \\ \times 2 \\ \hline \end{array}$$

$$\begin{array}{r} 24 \\ \times 9 \\ \hline \end{array}$$

$$\begin{array}{r} 2,006 \\ \times 4 \\ \hline \end{array}$$

$$\begin{array}{r} 709 \\ \times 6 \\ \hline \end{array}$$

$$\begin{array}{r} 2,019 \\ \times 5 \\ \hline \end{array}$$

$$\begin{array}{r} 4,512 \\ \times 5 \\ \hline \end{array}$$

$$\begin{array}{r} 547 \\ \times 2 \\ \hline \end{array}$$

$$\begin{array}{r} 1,313 \\ \times 9 \\ \hline \end{array}$$

31- استخدم خاصية التوزيع لإيجاد ناتج الضرب :

$$27 \times 5 = (\dots \times 5) + (\dots \times 5)$$

$$= (\dots\dots\dots + \dots\dots\dots)$$

$$= \dots\dots\dots$$

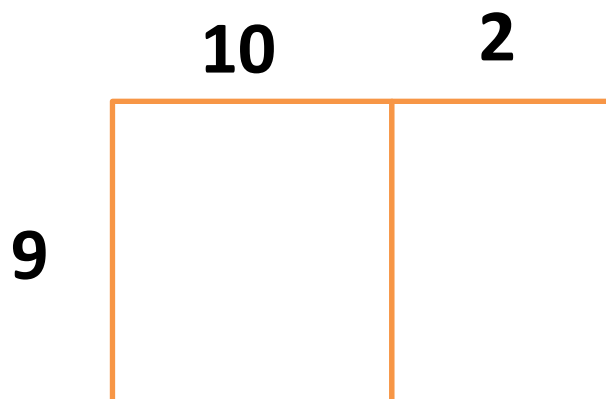
$$8 \times 16 = (8 \times \dots) + (8 \times \dots)$$

$$= (\dots\dots\dots + \dots\dots\dots)$$


$$= \dots\dots\dots$$

32- استخدم نموذج المساحة لإيجاد ناتج الضرب :

$$12 \times 9 = \dots\dots\dots$$



$$22 \times 6 = \dots\dots\dots$$



33- قرأت سمية كتابين ويحتوي كل كتاب على 33 صفحة . فكم عدد الصفحات التي قرأتها ؟

.....

34- توجد 8 حقائب هدايا وتتضمن كل حقيبة 12 عنصرا . هل من المنطقي قول أن جميع هذه

الحقائب تشمل 75 عنصرا ؟

.....

35- يوجد لدى منال خمس مجموعات ورق لعب . وتحتوي كل مجموعة على 51 بطاقة . فكم عدد

البطاقات التي لدى منال ؟

.....

36- تحمل طائرة 233 راكبا . إذا كانت الطائرة تقوم بثلاث رحلات في اليوم فكم عدد الركاب الذين

تنقلهم الطائرة يوميا ؟

.....