

تم تحميل هذا الملف من موقع المناهج الإماراتية



موقع  
المناهج الإماراتية

[www.alManahj.com/ae](http://www.alManahj.com/ae)

\*للحصول على أوراق عمل لجميع الصفوف وجميع المواد اضغط هنا

<https://almanahj.com/ae>

\* للحصول على أوراق عمل لجميع مواد الصف الرابع اضغط هنا

<https://almanahj.com/ae/4>

\* للحصول على جميع أوراق الصف الرابع في مادة اجتماعيات ولجميع الفصول, اضغط هنا

<https://almanahj.com/ae/4social>

\* للحصول على أوراق عمل لجميع مواد الصف الرابع في مادة اجتماعيات الخاصة بـ الفصل الأول اضغط هنا

<https://almanahj.com/ae/4social1>

\* لتحميل كتب جميع المواد في جميع الفصول للـ الصف الرابع اضغط هنا

<https://almanahj.com/ae/grade4>

\* لتحميل جميع ملفات المدرس أم دانة أحمد اضغط هنا

للحصول على جميع روابط الصفوف على تلغرام وفيسبوك من قنوات وصفحات: اضغط هنا

[https://t.me/UAElinks\\_bot](https://t.me/UAElinks_bot)

## رابع - الدراسات الإجتماعية والتربية الوطنية

صلي المصطلح بالمعنى المناسب:-

الموقع النسبي	أي موقع جسم ما على سطح الكرة الأرضية.
الموقع الجغرافي	موقع المكان بالنسبة لخطوط الطول ودوائر العرض.
خطوط الطول	هو خط الطول الرئيسي [خط الصفر] ويقسم العالم إلى نصفين متساويين.
خط جرينيتش	هي عبارة عن خطوط وهمية ترسم على نموذج الكرة الأرضية وتبدو على شكل دوائر تامة.
الموقع الفلكي	هو دائرة العرض الرئيسية، وتقسّم العالم إلى نصفين
دوائر العرض	هي خطوط طولية يوازي بعضها البعض.
خط الاستواء	موقع المكان بالنسبة لليابسة والماء.

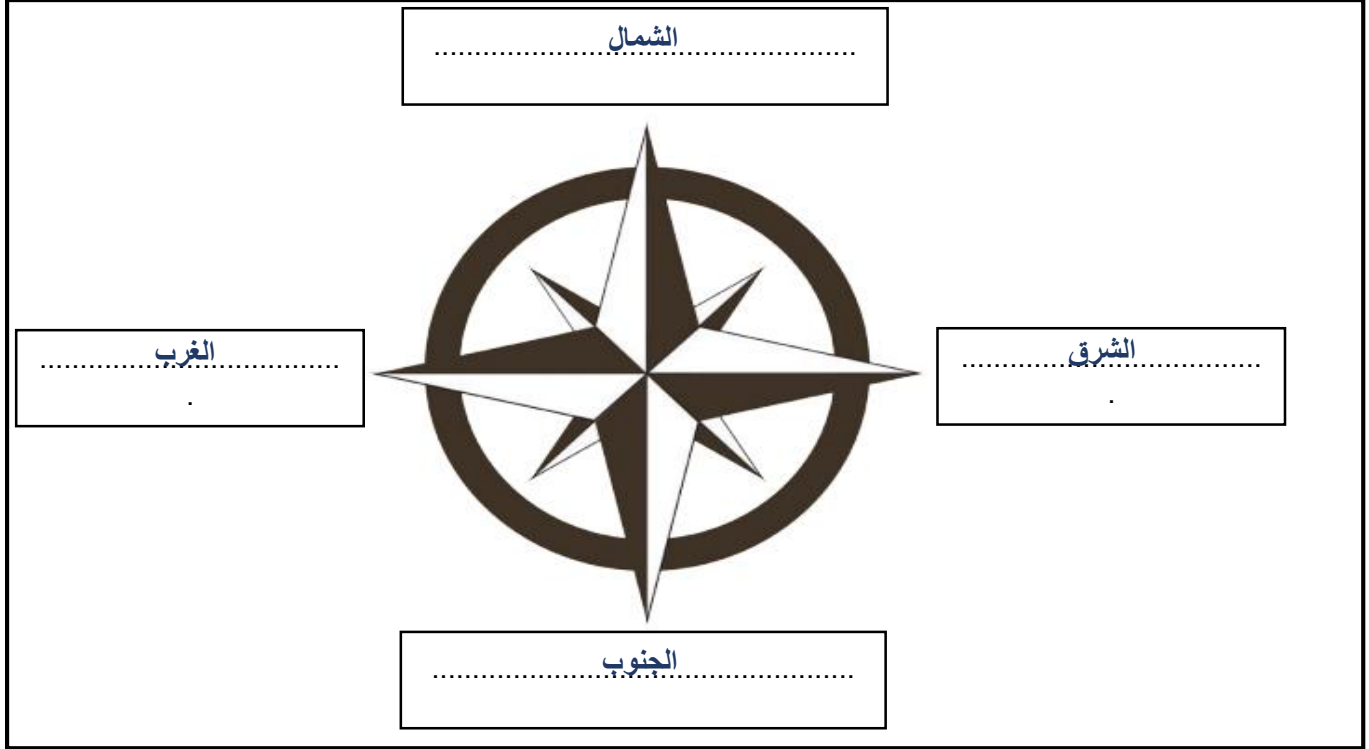
ضعي إشارة (✓) عند الإجابة الصحيحة وإشارة (✗) عند الإجابة الخاطئة:

1. ( ✓ ) اللون الأخضر يمثل اليابسة في الكرة الأرضية.
2. ( ✓ ) اللون الأزرق يمثل البحار والمحيطات في الكرة الأرضية.
3. ( ✗ ) المجموعة الشمسية: هي جميع الأجسام التي تدور حول القمر.
4. ( ✓ ) تقسم الخطوط الطولية للأرض إلى 180 خطاً شرقاً و 180 غرباً.
5. ( ✓ ) يقسم العالم إلى 24 منطقة زمنية اعتماداً على خط جرينيتش.
6. ( ✗ ) يقع مدار السرطان في جنوب خط الاستواء عند دائرة عرض 23.5 جنوباً.
7. ( ✗ ) يقع مدار الجدي في شمال خط الاستواء عند دائرة عرض 23.5 شمالاً.



ضعي الإجابة الصحيحة ما بين القوسين في المكان المناسب في الرسم التالية: (الشمال – الشرق –

الغرب – الجنوب)



إختاري الإجابة الصحيحة:

1. .... هي نقاط الاستدلال الجغرافية الأربعة وهي الشمال والجنوب والشرق والغرب.

(الموقع النسبي – خطوط الطول – الجهات الأصلية)

2. تقسم خطوط الطول على الأرض إلى ..... خط طول.

(360 – 180 – 120)

3. يقسم ..... العالم إلى نصفين متساويين.

(الموقع النسبي – خطوط الطول – خط جرينتش)

4. .... هي عبارة عن خطوط وهمية ترسم على نموذج الكرة الأرضية وتبدو على شكل دوائر تامة.

(الموقع النسبي – خطوط الطول – دوائر العرض)

5. .... هو دائرة العرض الرئيسية، وتقسم العالم إلى نصفين.

(الموقع النسبي - خط الاستواء - خط جرينتش)

6. يقع مدار السرطان عند دائرة عرض .....

(23.5 شمالاً - 23.5 جنوباً - 90 شمالاً - 90 جنوباً)

7. يقع مدار الجدي عند دائرة عرض .....

(23.5 شمالاً - 23.5 جنوباً - 90 شمالاً - 90 جنوباً)

### عددي الجهات الفرعية؟

..... الشمال الشرقي 1	..... الشمال الغربي 2
..... الجنوب الشرقي 3	..... الجنوب الغربي 4

لوني الإجابة الصحيحة:- يقسم خط جرينتش العالم إلى نصفين متساويين هما:

شمالي	شرقي
غربي	جنوبي

لوني الإجابة الصحيحة:- يقسم خط الاستواء العالم إلى نصفين متساويين هما:

شمالي	شرقي
غربي	جنوبي

- اَللُّونُ القَارَاتِ بِاللُّونِ ● وَالْبَحَارَ وَالْمُحِيطَاتِ بِاللُّونِ ● عَلَى خَرِيطَةِ العَالِمِ.



- اَسْتَكْمِلْ اَسْمَاءَ القَارَاتِ وَالْمُحِيطَاتِ وَفَقِّ الجَدُولِ الَاتِي:

المُحِيطَاتُ	القَارَاتُ	العَدَدُ
المُحِيطُ الْمُتَجَمِّدُ السَّمَالِيُّ	القَارَةُ القُطْبِيَّةُ الجَنُوبِيَّةُ	1
المحيط الهادي	قارة آسيا	2
المحيط الهندي	قارة أوروبا	3
المحيط الأطلسي	قارة أفريقيا	4
	قارة أمريكا الشمالية	5
	قارة أمريكا الجنوبية	6
	قارة أستراليا	7
عَدَدُ المُحِيطَاتِ 4.....	عَدَدُ القَارَاتِ 7.....	المَجْمُوعُ

- أتأمل الخريظة السياسية لقارة آسيا، ثم أجيب عما يأتي:



خريظة آسيا السياسية

- 1- تقع اليابان في قارة آسيا .....
- 2- يحد قارة آسيا من جهة الشمال المحيط المتجمد الشمالي
- 3- تطل الهند من جهة الجنوب على المحيط الهندي .....
- 4- تجاور دولة الصين من جهة الشمال دولة منغوليا .....

- أستنتج أهمية الخريظة السياسية:

لتعرف على أسماء الدول وحدودها

---



---



---

## أختبر معلوماتي

- أَسْتَكْمِلُ الْأَشْكَالَ الْآتِيَةَ بِالْكَلِمَاتِ الْمُنَاسِبَةِ لَهَا: [جرينتش - الطُّولُ - المَوْقِعُ الْفَلَكِيُّ]

يُسَمَّى مَوْقِعُ الْمَكَانِ بِالنَّسْبَةِ  
إِلَى خُطُوطِ الطُّولِ وَدَوَائِرِ  
الْعَرْضِ  
بِالمَوْقِعِ الْفَلَكِيِّ.....

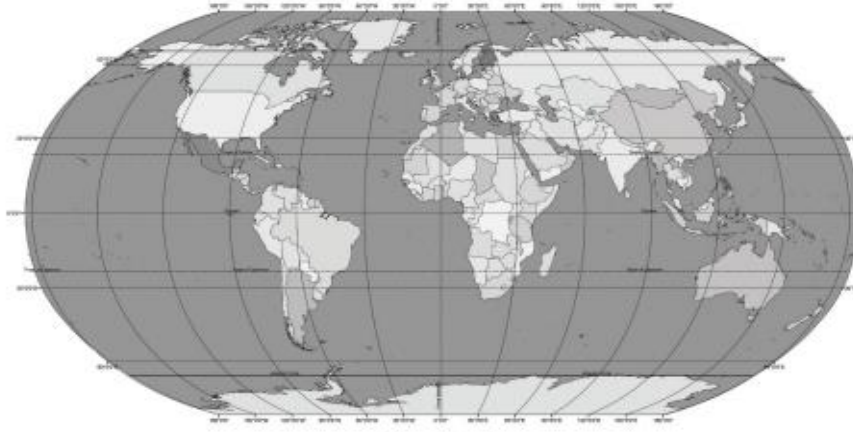
يُعْرَفُ خَطُّ الطُّولِ  
الرَّئِيسِ بِخَطِّ  
جْرِينْتِش.....



يُظَلَّقُ عَلَيْهَا خُطُوطُ  
الْإِسْتِوَاءِ.....

## أَحَدِّدْ وَأَلَوِّنْ

- أَحَدِّدْ عَلَى الْخَرِيطَةِ:  
- خَطَّ الطُّولِ الرَّئِيسِ بِاللَّوْنِ



خَرِيطَةُ الْعَالَمِ

## أَفَكِّرْ وَأَحْسِبْ

- أَتَوَصَّلُ إِلَى الْعَمَلِيَّةِ الْجِسَائِيَّةِ الْآتِيَةِ:

- أَجْمَعُ خُطُوطَ الطُّولِ: 180 خَطًّا شَرْقِيًّا

+ 180 خَطًّا غَرْبِيًّا

الْمَجْمُوعُ ..... 360 خَطًّا طَوِيلِيًّا

## ما أهمية خطوط الطول؟

تساعدنا في تحديد المواقع الجغرافية والزمن.

.....  
.....

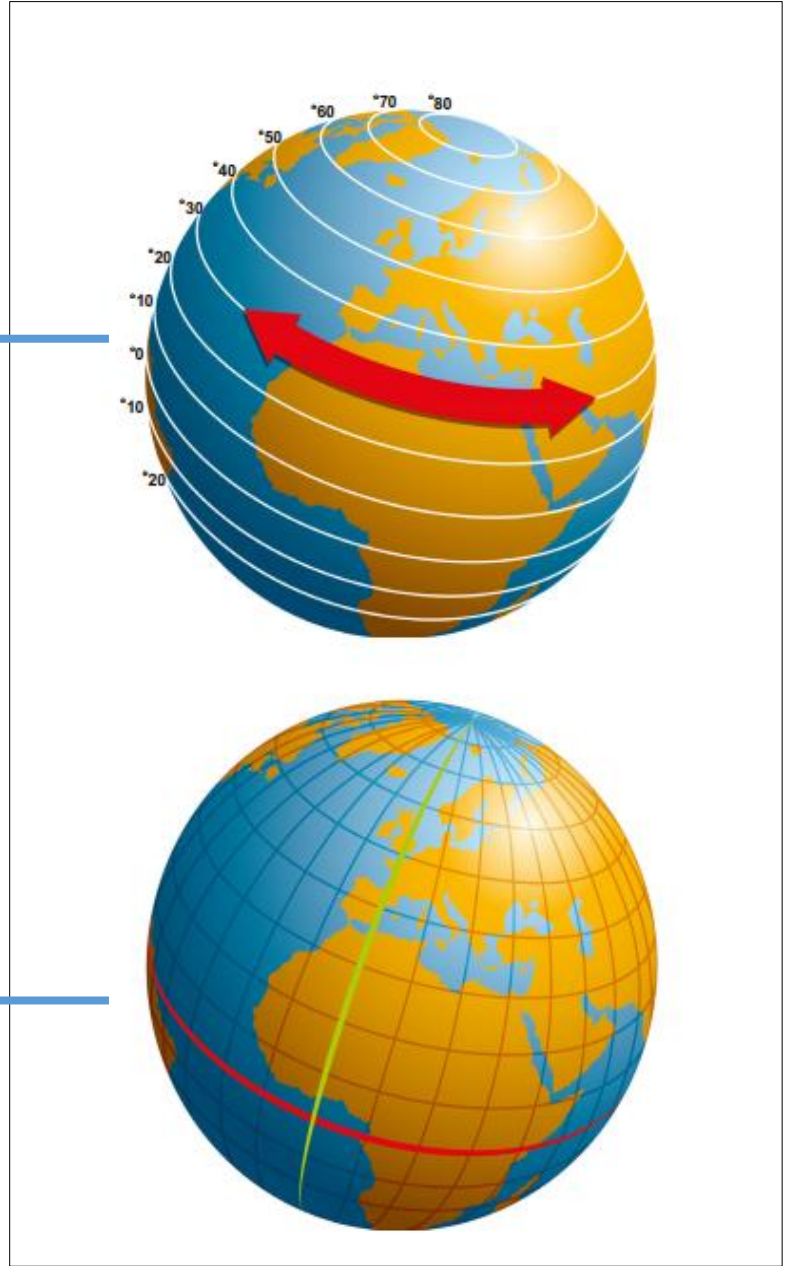




ضعي الإجابة الصحيحة ما بين القوسين في المكان المناسب في الرسم التالية: (دوائر العرض - خط

الاستواء)

دوائر العرض



خط الاستواء

ما أهمية دراسة دوائر العرض؟

نستطيع من خلالها أن نحدد مواقع الدول والمناطق المختلفة، ونتعرف على المناخ والنبات الطبيعي.



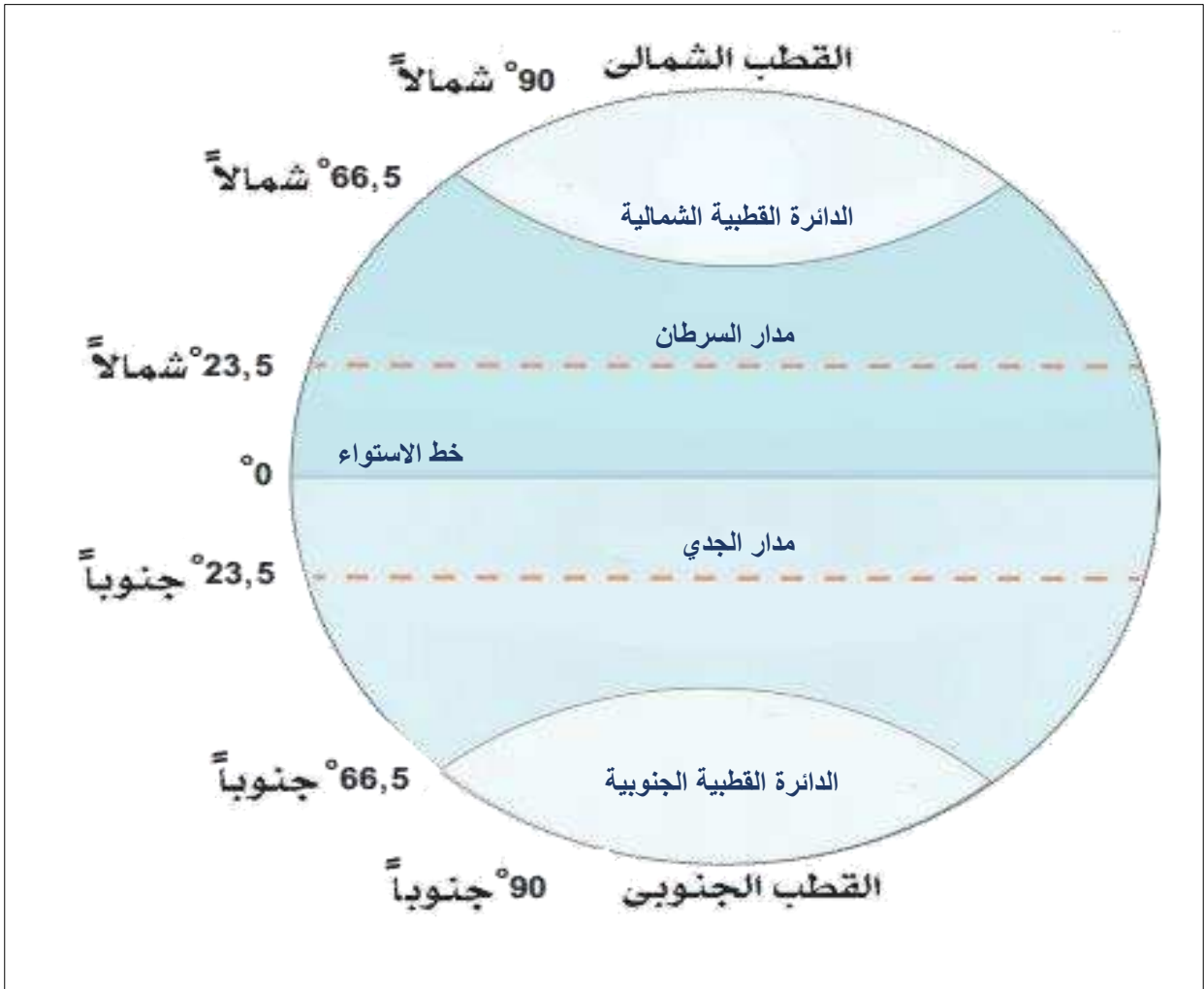
## أَلِحِظْ وَأَجِيبْ

- أَضَعُ عَلَامَةَ (√) أَمَامَ الْعِبَارَةِ الصَّحِيحَةِ وَعَلَامَةَ (x) أَمَامَ الْعِبَارَاتِ غَيْرِ الصَّحِيحَةِ فِيمَا تَلِي:

- 1- يَقَعُ مَدَارُ السَّرَطَانِ فِي نِصْفِ الْكُرَّةِ الْجَنُوبِيِّ. [ x ]
- 2- يُقَسَّمُ حَظُّ الاسْتِوَاءِ الْكُرَّةَ الْأَرْضِيَّةَ إِلَى نِصْفَيْنِ شَمَالِيٍّ وَجَنُوبِيِّ. [ √ ]
- 3- مَدَارُ الْجِدِيِّ يَقَعُ شَمَالَ حَظِّ الاسْتِوَاءِ. [ x ]
- 4- تُعَرَّفُ دَائِرَةُ الْعَرَضِ الرَّئِيسَةِ بِحَظِّ جَرِينْتَش. [ x ]
- 5- يَمُرُّ حَظُّ الاسْتِوَاءِ عِنْدَ دَائِرَةِ عَرَضِ صِفْرٍ. [ √ ]
- 6- الْقُطْبُ الشَّمَالِيُّ عِنْدَ دَائِرَةِ عَرَضِ 23,5 شَمَالًا. [ x ]

ضعي الإجابة الصحيحة ما بين القوسين في المكان المناسب في الرسم التالى: (مدار السرطان- مدار

الجدى - الدائرة القطبية الشمالية - الدائرة القطبية الجنوبية - خط الاستواء)



أختبر معلوماتي  
- أستكمل المحظوظ الذهني الآتي:

