



عام
زايد

YEAR OF
ZAYED

عدد الأوراق
10

تدريب

الاسم : الصف الرابع

المحصلة

التاريخ : 2018 / 10 /

40


www.almanahj.com

تعليق المعلم على النتائج				
لم يجتاز	اجتاز	مقبول	جيد	متميز

المعلم عم حسن إبراهيم عطا الله
مادة الدراسات الاجتماعية



الدراسات الاجتماعية



ALhayer



22

من المظاهر الطبيعية في دولة الإمارات العربية المتحدة ذات اللون البني على الخريطة

64



A السهول

B الجبال

C الوادي

D السهول الساحلية

65 المظاهر الطبيعية في دولة الإمارات العربية المتحدة ذات اللون البني على الخريطة



A السهول

B الجبال

C الوادي

D السهول الساحلية

من المظاهر الطبيعية في دولة الإمارات العربية المتحدة ذات اللون البني على الخريطة

66



A السهول

B الجبال

C الوادي

D السهول الساحلية

من المظاهر الطبيعية في دولة الإمارات العربية المتحدة ذات اللون البني على الخريطة

67



A السهول

B الجبال

C الوادي

D السهول الساحلية

23

أرض مرتفعة لها قمة وهي كتلة ضخمة من الصخور مفهومة

68



A السهول

B الجبال

C الوادي

D السهول الساحلية

من أرض منبسطة قليلة الارتفاع تقع داخل الدولة

69



A السهول

B الجبال

C الوادي

D السهول الساحلية

هي السهول المطلة على البحر

70



A السهول

B الجبال

C الوادي

D السهول الساحلية

منطقة منخفضة بين منطقتين مرتفعتين تجري فيها المياه في موسم المطر

71



A السهول

B الجبال

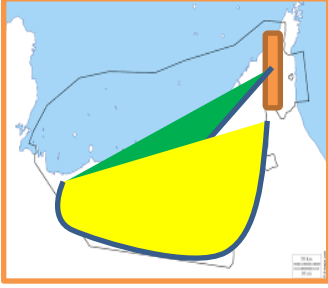
C الوادي

D السهول الساحلية

24

تتركز الجبال في دولة الإمارات في المنطقة

72



A الشرقية

B الغربية

C الشمالية

D الوسطى

تقسم الجبال إلى قسمين في الإمارات

73



A شمال وشرقي

B جنوبي وغربي

C شمالي وجنوبي

D شرقي وغربي

الجبال الجنوبية تنتهي قرب مدينة

74



A الظفرة

B مسافي

C العين

D الشارقة

واحدة من التالي ليس وادي

75

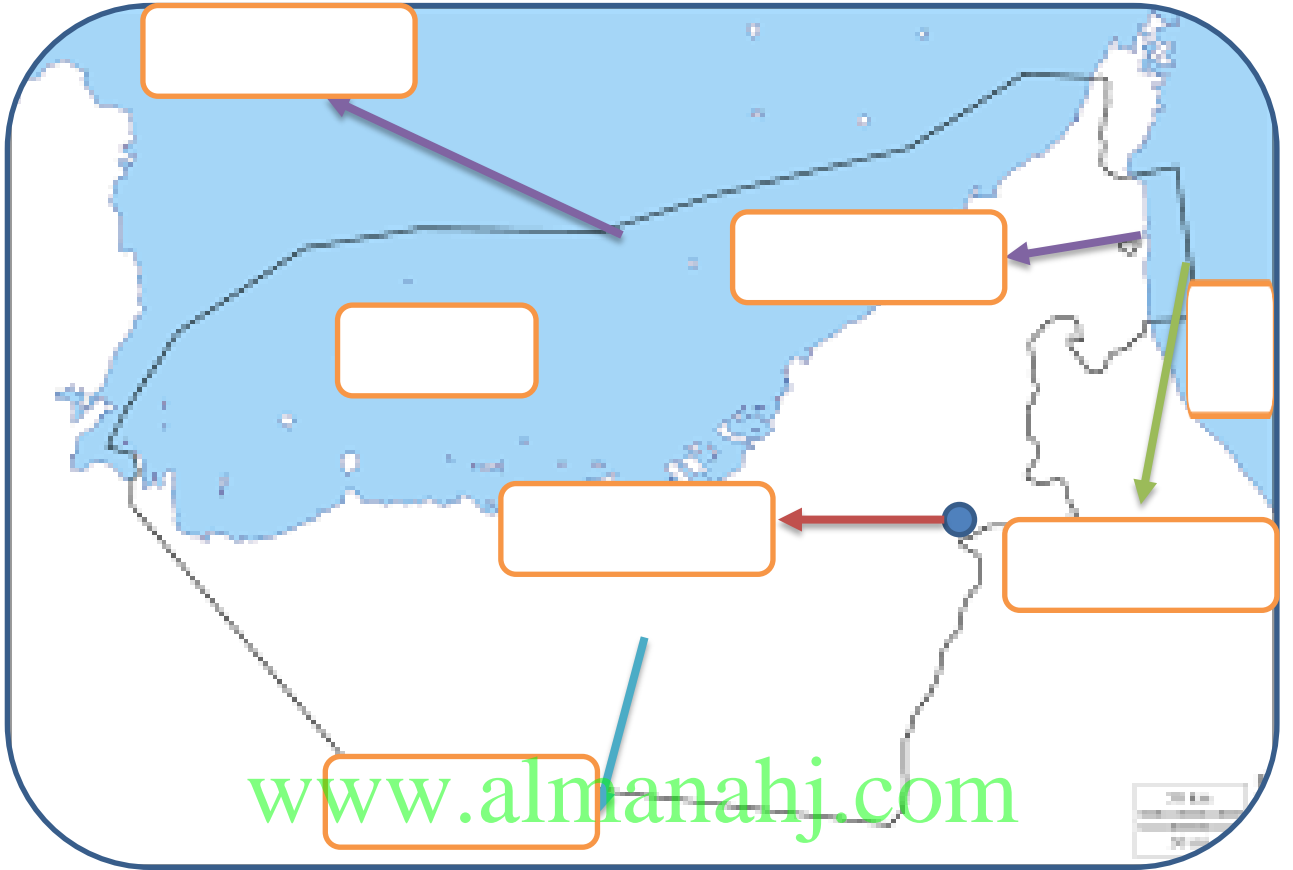


A حفيت

B سيجي

C حام

D شويب



..... المناطق المناطق

..... المناطق المناطق

26

علمتني الجبال في بلادي

79

الخوف Aالقلق Bضعف الشخصية Cالثبات D

النصيحة التي تقدم عند جريان الأودية

80

الاقتراب والسباحة Aالرعي بالثروة الحيوانية Bالابتعاد Cالعب مع الأطفال D

الجبال الجنوبية تنتهي قرب مدينة

81

الظفرة Aمسافي Bالعين Cالشارقة D

واحدة من التالي ليس وادي

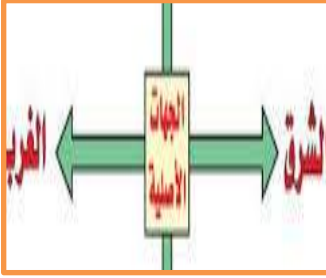
82

حفيت Aسيجي Bحام Cشويب D

27

تقسم السهول الساحلية في الإمارات إلى قسمين

83



A الحصوية والداخلية

B السهل الشرقي والشمالي

C السهل الغربي والشرقي

D السهل الجنوبي والغربي

الإمارة الوحيدة التي تقع على السهل الساحلي الشرقي هي

84



A عجمان

B الشارقة

C أبوظبي

D الفجيرة

يطل السهل الساحلي الشرقي على بحر

85



A عُمان

B العربي

C العرب

D الأحمر

السهل الساحلي الضيق هو

86



A الشرقي

B الغربي

C الشمالي

D الجنوبي

٢٨

السهل الساحلي الشرقي ضيق بسبب وجود

٨٧



A الجزائر

B الوادي

C الجبال

D الخور

من أشهر مدن الساحل الشرقي

88



A العين

B مسافي

C شويب

D خورفكان

يطل السهل الساحلي الغربي على

89



A خليج عدن

B الخليج العربي

C بحر العرب

D بحر عُمان

من صفات السهل الساحلي الغربي أنه

90

4

A واسع

B كبير

C كثير المدن

D جميع ماذكر

29

واحدة من التالي ليس من مدن السهل الساحلي الغربي

91



أبو ظبي والشارقة

A

دبي والفجيرة وعجمان

B

رأس الخيمة

C

الفجيرة

D

واحدة من التالي ليس من المظاهر الطبيعية في السهول الساحلية

92



الخور

A

الجزر

B

السيخة

C

الجبال

D

عاصمة الإمارات تقع على السهل الساحلي

93



الشرقي

A

الغربي

B

الشمالي

C

الجنوبي

D

من السهول الداخلية في الدولة سهل

94

4

الشرقي

A

الغربي

B

الدقاقة والمدام

C

الدقاقة والمدام والذيد

D



السهول الساحلية

1

www.almanahj.com

السهول الداخلية

2

96

ترك لنا الأسلاف من أجدادنا الكثير من التراث الثقافي من القائل





ترك لنا الأسلاف من أجدادنا الكثير من التراث الثقافي من القائل



33

الجزر المحتلة هي

101



A دلما

B بندق

C طناب الكبرى والصغرى

D طناب الكبرى والصغرى وأبو موسى

دولة قامت عام 1971 باحتلال الجزر الثلاثة . هي

102



A بريطانيا

B ايران

C فرنسا

D البرتغال

103 ضع الرقم المناسب تحت الصورة المناسبة والتي تدور حول أهمية الجزر

2 ميناء تصدير نفط

2

سكنية

1

4 محتلة

4

3 محمية

3

1 الأماكن السياحية في دلما



4 جمال الفنادق

فنادق متكاملة بتروس مميزة لاقامة مريحة وجمالية

تأرامنتج فلل اليم في جزيرة صير بني ياس

34

نحن شعب ترعرع على

104



السلام

A

الحرب

B

القصوة

C

الكراهية

D

أماكن تخصص لحماية الأنواع المهددة بالانقراض

105



الخور

A

الجزر

B

المحمية

C

حديقة الحيوان

D

طنب لكبرى

طنب الصغرى

أبو موسى

دلما

صير
بني ياسأبو
الأبيض

صل بين الخريطة والمعلومة

106

الجزر المحتلة

A

دلما

B

صير بني ياس

C

أبو الأبيض

D

أرض جافة قليلة المطر مفهوم

107



الأراضي الزراعية

A

الصحراء

B

السهول

C

السواحل

D

34

الصحراء هي المساحة الأكبر في دولتنا من أقوال الشيخ

108



زايد

A

محمد

B

راشد

C

خليفة

D

المياه الجوفي والزراعة توجد في مناطق منخفضة في الصحراء تعرف بـ

109



الجبل

A

المحمية

B

العزبة

C

الواحة

D

ضع الرقم المناسب أمام الصورة التي تمثل خصائص الصحراء

110

قلة الغطاء النباتي

2

ندرة الأمطار

1

الحرارة
العالية

4

قلة السكان

3



35

"لقد علمتني الصحراء أن نصبر طويلاً" من أقوال الشيخ

111



A زايد

B محمد

C راشد

D خليفة

112 قيل بين ماضي الأباء وحاضر الأبناء طريق يسمى

112



A التعب

B المشقة

C الغربية

D الصبر

113 ضع الرقم المناسب أمام الصورة التي تمثل الأهمية الاقتصادية للصحراء

113

سباق الهجن

2

الزراعة في الواحة


1

تربية
الحيوانات

4

النفط

3



4

A محمية ومنتزه القرم في أبوظبي

B محمية دبي الصحراوية

C محمية صير بني ياس

D جميع ما ذكر

115 حالة الجو لفترة طويلة خلال شهر أو فصل أو سنة هو مفهوم

115

A المطر

B الحرارة

C السحب

D المُنَاخ



www.almanahj.com

116 ضع الرقم المناسب أمام الصورة التي تمثل تضاريس بلادي

116

الصحراء

2

الجبل

1

الجزيرة

4

الوادي

3

الواحة

5



37

المدار الذي يقطع الإمارات من المنتصف هو

117



A الجدي

B الاستواء

C غرينتش

D السرطان

118 حدد الحالة الجوية بالنسبة للمناطق القريبة والبعيدة عن المسطحات المائية

4

A المناطق البعيدة (حارة - جافة-قليلة الرطوبة)

B المناطق البعيدة (حارة - ماطرة-قليلة الرطوبة)

C المناطق القريبة (حارة - جافة-قليلة الرطوبة)

D المناطق القريبة (أقل حرارة - ماطرة - عالية الرطوبة)

119 ضع الرقم المناسب أمام الصورة التي تمثل عامل من العوامل المؤثرة على المناخ

119

المسطحات المائية


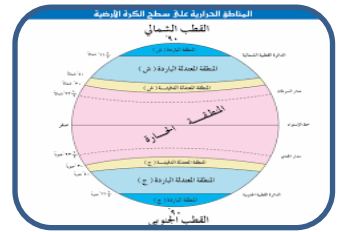
2

مرور مدار السرطان

1

الارتفاع والانخفاض

3



38

خصائص الصيف في دولة الإمارات

120



A ارتفاع الحرارة إنعدام الأمطار وارتفاع الرطوبة

B إعتدال الحرارة وتسقط بعض الأمطار

C ارتفاع الحرارة إنعدام الأمطار وارتفاع الرطوبة ومغبر

D إعتدال الحرارة وتسقط بعض الأمطار ومغبر

خصائص الشتاء في دولة الإمارات

121



A إعتدال الحرارة وتسقط بعض الأمطار

B ارتفاع الحرارة إنعدام الأمطار وارتفاع الرطوبة ومغبر

C ارتفاع الحرارة إنعدام الأمطار وارتفاع الرطوبة

D إعتدال الحرارة وتسقط بعض الأمطار ومغبر وقليل الرطوبة

ضع الرقم المناسب أمام الصورة التي تمثل تضاريس بلادي

122

الرطوبة

2

الحرارة

1

الرياح

4

المطر

3

الضباب

5



39

ما هو تأثير النمط المناخي الحار والجاف في بلادي

123



A تراجع الزراعة

B قلة عدد السكان

C التمرکز في الواحات

D جميع ما ذكر

خصائص الشتاء في دولة الإمارات

124



A إعتدال الحرارة وتسقط بعض الأمطار

B ارتفاع الحرارة إنعدام الأمطار وارتفاع الرطوبة ومغبر

C ارتفاع الحرارة إنعدام الأمطار وارتفاع الرطوبة

D إعتدال الحرارة وتسقط بعض الأمطار ومغبر وقليل الرطوبة

الانتخاب الطبيعي هو عبارة عن تغيرات في

125

1 الغابات صحراء

2

الكائنات الحية

3

جفت البحار

1



40

تتبع التدرج الحراري التالي وفسر الفرق في درجات الحرارة

126

الارتفاع	الحرارة
450M	20
300M	21
150M	22

A) تزداد الحرارة مع الأرتفاع

B) تقل الحرارة مع الأرتفاع

C) لا يحدث تغير على درجة الحرارة

D) لأشيء مما ذكر

ما هي المعادلة التي يتناولها الجدول

127

الارتفاع	الحرارة
450M	20
300M	21
150M	22

A) كلما ارتفعنا 150 متر تقل الحرارة درجة واحدة

B) كلما ارتفعنا 150 متر تقل الحرارة درجتان

C) كلما انخفضنا 150 متر تقل الحرارة درجة واحدة

D) كلما ارتفعنا 150 متر تزيد الحرارة درجة واحدة

كون تعميم من الصور التالية

128



41

أقل الأشهر من حيث درجة الحرارة

129

الشهر	الحرارة
يناير	18
مايو	35
أغسطس	52

- مايو A
- أبريل B
- أغسطس C
- يناير D

ما هو الشهر المناسب لزيارة الإمارات

130

الشهر	الحرارة
أبريل	25
أكتوبر	23
ديسمبر	19

- ديسمبر A
- أبريل B
- أكتوبر C
- يوليو D

ضع قائمة الأشهر تحت الفصل المناسب مستخدم الأرقام

131

ديسمبر
يناير
فبراير

1

مارس
أبريل
مايو

2

يونيو
يوليو
أغسطس

3

سبتمبر
أكتوبر
نوفمبر

4



الفصل.....



الفصل.....



الفصل.....



الفصل.....