



والتوفيق
تهنياتي لكم بالدجاج

www.almanahj.com



التدريبات
الفصل الدراسي الثاني
2017-2018

تدريبات لا تغني عن
الكتاب

مدرسة
علاء الدين

مادة الدراسات الاجتماعية والتربية الوطنية
الصف الرابع

عديفة

إعداد المعلمة : خديجة محمد الهندي

مدرسة : أحمد بن ماجد ح¹



علل؟

زيادة عدد الواليد وقلة عدد الوفيات؟



اختر الإجابة الصحيحة فيما يلي:

ظهر التنمية في دولة الإمارات بعد اكتشاف:

(المترو - النفط - الشوارع)

عدد السكان في دولة الإمارات في حالة:

(تراجع مستمر - ثبات - زيادة مستمرة)

www.almanahj.com

من أنا

عام زايد



YEAR OF ZAYED

أرض جافة قاحلة قليلة المطر
فمن أنا؟؟

امتداد لليابسة محاطة بالماء من
ثلاث جهات
فمن أنا؟؟

عملية التغير نحو الأحسن والأفضل
فمن أنا؟؟

ما هي أسباب النهو السكاني في دولة الإمارات




ارتفاع مستوى المعيشة



ماذا ينتج عن قلة الأمطار وارتفاع
درجات الحرارة في المناطق الصحراوية؟

.....
.....
.....

.....
.....
.....

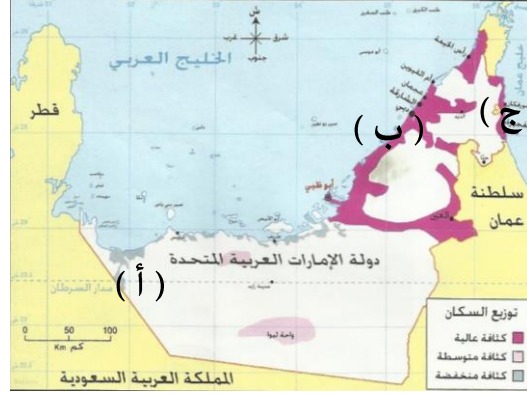




عن خلال الخريطة أحب عما يلي:

العوامل المؤثرة في توزيع السكان في دولة الإمارات؟

- لماذا يقل السكان في المنطقة المشار إليها بـ (أ)



اذكر اسم مناطق التركيز السكاني والمشار إليهم بـ:

(ب) السهل الساحلي

(ج) السهل الساحلي

● يتركز 70% من السكان في دولة الإمارات في:

الساحل الغربي

الساحل الشرقي

السهول الحصوية

● السهول الحصوية تضم بعض المدن الصغيرة مثل:

واحة ليوا

حما

الفجيرة

● تقع مدينة أم القيوين في:

الإقليم الصحراوي

الساحل الغربي

السهول الحصوية

● تقع مدينة كلباء في:

الإقليم الصحراوي

الساحل الشرقي

الساحل الشمالي

● تقع مدينة العين في:

الإقليم الصحراوي

الساحل الشرقي

الساحل الغربي

اختار الإجابة الصحيحة فيما يلي:

● توفر فرص العمل.



أهمية التعداد السكاني

.....

.....

.....

.....



ضع المفاهيم التالية في مكانها المناسب:

(التلوث - التعداد السكاني - بطاقة الهوية)

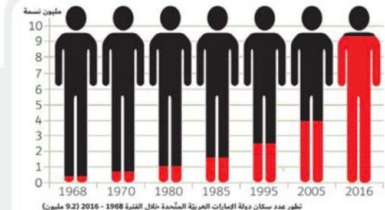
- عملية يقوم بها جهاز مختص داخل الدولة بهدف تسجيل عدد السكان المتواجدين في الدولة في يوم محدد وتاريخ محدد. (.....)
- إلحاق الضرر بالبيئة ناجم عن زيادة في عدد السكان. (.....)
- هي بطاقة إلكترونية تصدرها الدولة وترجع أهميتها إلى أنها تسهل لحاملها الحصول على الخدمات الحكومية جميعها وتثبت هويته. (.....)



من هي الجهة الرسمية في دولة الإمارات العربية المتحدة التي أنجزت مشروع بطاقة الهوية الذكية؟

.....

.....



الشكل في الكتاب المدرسي ص 25

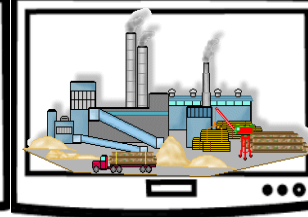




عن خلال الشكل الذي أمامك أجب عما يلي:

- يبلغ عدد السكان في عام 1980 م
- يبلغ عدد السكان في عام 2016 م
- اكتب حقيقة:
- أيهما أكثر الذكور أم الإناث في المجتمع الإماراتي



الأنشطة الاقتصادية في دولة الإمارات العربية المتحدة



الثروة.....

الثروة.....

الثروة.....

.....

.....

.....

اهتمام دولة الإمارات العربية المتحدة بتنوع مصادر الدخل؟

علل؟



تحويل الهادة..... إلى مادة.....

صنف الصناعات التالية حسب معطيات الجدول

الصناعة	صناعة تحويلية	صناعة استخراجية
الألمونيوم		
استخراج النفط		
الملابس		
استخراج الغاز		
الأدوية		

تنقسم الصناعة إلى نوعين

الصناعة

هي تحويل المواد الخام إلى منتجات مفيدة

الصناعة

هي استخراج المعادن والنفط والغاز من باطن الأرض

أنواع الصناعة

من أنا

حفر الأرض للحصول على موارد نافعة كالمعادن أو الفلزات أو الوقود

أولا «الصناعة والتجارة»






عام
زايد



YEAR OF
ZAYED

ضع دائرة على البضائع التي تستوردها بلادي من الخارج



من أنا

نشاط يقوم به
الإنسان من أعمال
البيع والشراء
للحصول على الأموال



وتنقسم إلى قسمين



1 (.....)

هي السلع والبضائع
التي تباع خارج
الدولة .

2 (.....)

السلع والبضائع التي
تشتري من خارج
الدولة

ضع علامة (√) أسفل صورة وسائل النقل المستخدمة
قديما في التجارة :



تانيا < الثروة الزراعية والثروة السمكية والحيوانية >> YEAR OF ZAYED



عام زايد واستمتع بالتلوين



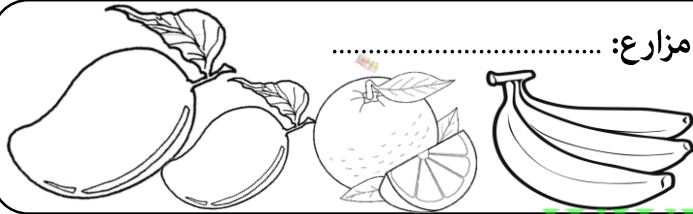
جهود الإمارات للنهوض بالثروة السمكية

أكمل بطاقة الهوية لأنواع المزروعات في دولة الإمارات:

مزارع:




مزارع:



مزارع:



مزارع:



من القائل " أعطوني زراعة أعطيكم حضارة "

الشيخ

اكتب أسماء أشهر الأسماك في بلادنا



#الانترنت_افضل_استخداما
_في_الامارات



من جهود دولة الإمارات للنهوض بالثروة الحيوانية



ضع الكلمات المساعدة التالية في مكانها المناسب
الصحراء / سويحان / الأمن الغذائي

- من أهم مناطق زراعة الزهور في دولة الإمارات
- توفير الغذاء بدون نقص هو
- يلقب الشيخ زايد بالرجل الذي روض



أنواع السياحة

أكمل الخطط التالي



السياحة بغرض تعرف على المعالم الأثرية والتراثية

السياحة.....



السياحة بهدف التسويق وشراء المنتجات

السياحة.....



السياحة بهدف العلاج والاستشفاء

السياحة.....



السياحة بهدف متابعة البطولات الرياضية

السياحة.....



السياحة بغرض الترويح عن النفس

السياحة.....

www.almanahj.com



برج في



جزيرة في



جزر في



جزيرة في

أكمل أهم المعالم السياحية في بلدنا؟

من أنا



السفر والانتقال من دولة إلى دولة أخرى بهدف

الترفيه والاستكشاف والترويح عن النفس



من مقومات السياحة في دولة الإمارات العربية المتحدة


-
-
-
-



فكر قبل أن تنشر




هوط الصور الدالة على الأسباب الطبيعية لتلوث



من أنا
هو أي تغير ضار يؤثر على الهواء أو الماء أو الأرض أو ما يضر بصحة الإنسان والكائنات الحية الأخرى

ما أضرار التلوث المترتبة على كل من:

الأضرار	
.....	الإنسان
.....	الحيوان
.....	الكائنات الحية



التلوث

التلوث









تلوث

تلوث

تلوث

أنواع التلوث



المحل	السبب	المشكلة
		المشكلة هي الهروي
		
		

من أنا

عدم قدرة مستخدمي الطرق على الانتقال
من مكان إلى آخر بالسرعة المناسبة

من أنا

أول مدينة خالية من الكربون والنفايات
الصناعية صديقة للبيئة، تعمل بطاقة الشمسية
مدينة
تقع في إمارة



ما هي أضرار الازدهام الهروي

1.....

2.....

3.....




الكلول التي تعتمد لها دولة الإمارات
العربية المتحدة لحماية البيئة



إنشاء

الاهتمام



تشجيع استخدام



إصدار

مشروع في دبي عمل على تشجيع وسائل النقل الجماعي وقلل
من تأثير الازدهام الهروي



أولا وثانيا < انتشار الإسلام في منطقة الإمارات وعدينة دبا >>

من رسائل الدعوة إلى الإسلام



أرسل إلى حامل الرسالة



يرافقه

أثر الإسلام في منطقة الإمارات وعمان ؟

ملكي
(..... و)

أبناء

سارع أهل عمان بالدخول إلى الإسلام

علل ،

سرعة دخول أهل عمان في الإسلام ؟

اختار الإجابة الصحيحة فيما يلي :

- دخل أهل الإمارات وعمان الإسلام

(طوعية - إكراه - إجبار)

- تسمى منطقة الإمارات وعمان قديما باسم:

(الساحل - الغبراء - الدهماء)

- فتح الرسول مكة المكرمة في السنة :

(7 هـ - 8 هـ - 9 هـ)

- دبا ثاني أكبر مدن إمارة :

(عجمان - رأس الخيمة - الفجيرة)

- دبا الحصن مدينة تابعة لإمارة :

(الشارقة - الفجيرة - دبي)

- المضيق الذي يكون قريبا من مدينة دبا :

(هرمز - باب المنذب - ملقا)

- تطل دبا على بحر:

(العرب - عمان - الأحمر)

هيزات رسائل الرسول لأهل الإمارات وعمان:

1..... 2..... 3.....

ضع الكلمات التالية في مكانها المناسب:

(ترانزيت - الأسرة - التكافل الاجتماعي)

التعاون بين أفراد المجتمع

دبا كانت تمثل مركزا تجاريا بين الشرق والغرب وهي ما يطلق عليه اليوم

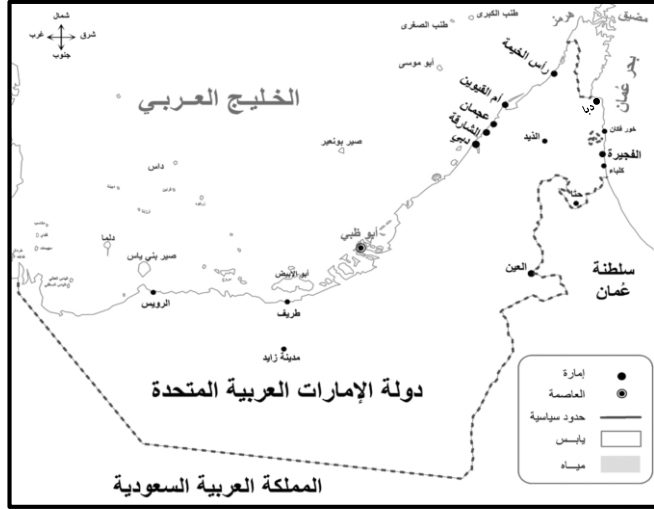
.....

نواة المجتمع

1..... 2..... 3.....



ثالثا < المهلب بن أبي صفرة >



على الخريطة التي أمامك :
- حوط المدينة التي ولد فيها.
- ما اسم المسطح المائي الذي تطل عليه المدينة التي ولد فيها ولونه.

مكان ولادتي



سنة ميلادي

اسمي

أولى غزواتي كانت لبلاد

كنيتي

مدينة

من هو الصحابي الذي أعجب بالمهلب بن أبي صفرة

من صفات المهلب بن أبي صفرة

www.almanahj.com



أنا المهلب بن أبي صفرة شخصية لا تنسها فأكمل مقتطفات من جوانب حياتي وإنجازاتي فيما يلي :



ولدت في 7 هـ وكانت
وفاتي في 82 هـ فكم عمره
عند وفاته ؟؟

الصحابي الجليل الذي
أطلق علي لقب " سيد
أهل العراق " هو



كانت أولى غزواتي إلى بلاد
.....
حيث حققت النصر


www.almanahj.com

ساهمت في حركة
الفتوحات الإسلامية في بلاد
.....
.....



ما النصيحة التي قدمتها
لأولادي

شاركت بالفتوحات
الإسلامية ومن المعركة التي
خضتها معركة
.....
ضد



حاربت فئته خرجت عن
الاسلام حتى حققت النصر
عليهم فمن هذه الفئة ؟
.....



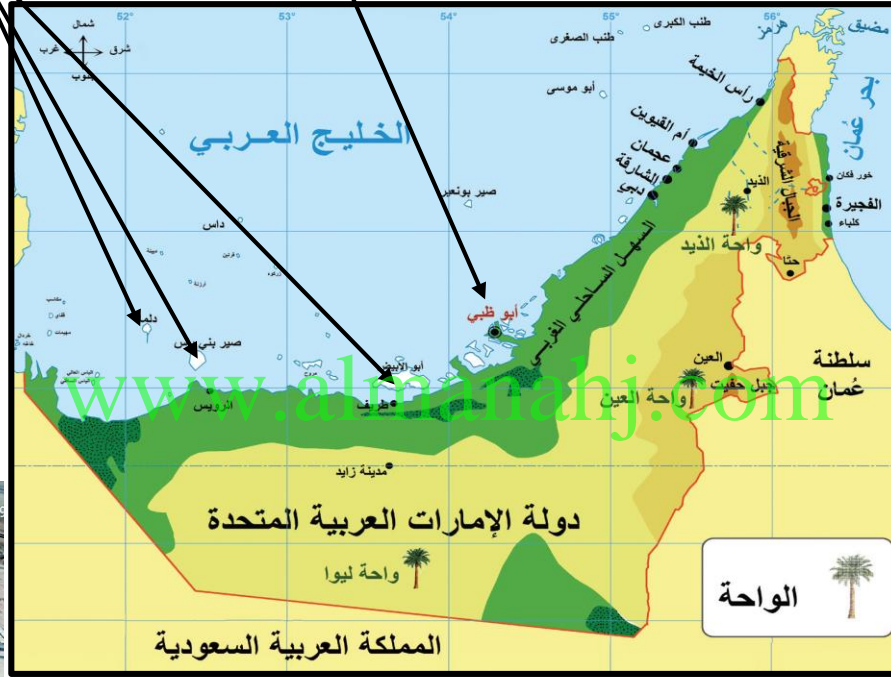
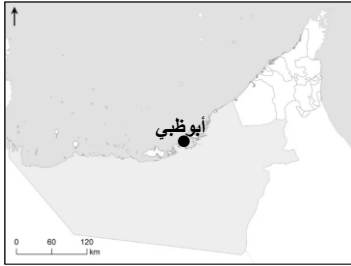
أصبحت واليا على ولاية
.....

عدد الجزر التابعة لإمارة أبوظبي
أكثر من جزيرة

تعتبر أبوظبي دولة الإمارات العربية المتحدة.

تعود تسمية أبوظبي بهذا الاسم
لكثرة حيوان

أبوظبي الإمارات
السبع من حيث المساحة



تسمى أبوظبي قديما

قبيلة التي استقرت بأبوظبي قبيلة

الشيخ
هو أول حاكم آل نهيان في أبوظبي



الذي شيد قلعة

هوط على الخريطة

الواحات التابعة لإمارة أبوظبي

وتعتبر من أجمل واحاتها



يقع في
أبوظبيي جسر



تقع فيها أكبر مدينة ألعاب مغطاه في
العالم وهي



من أبرز المعالم لإسلامية في أبوظبي
جامع



إكسبو 2020
دبي، الإمارات العربية المتحدة
DUBAI, UNITED ARAB EMIRATES
مدينة مرشحة

ستستضيف دبي في 2020 معرض



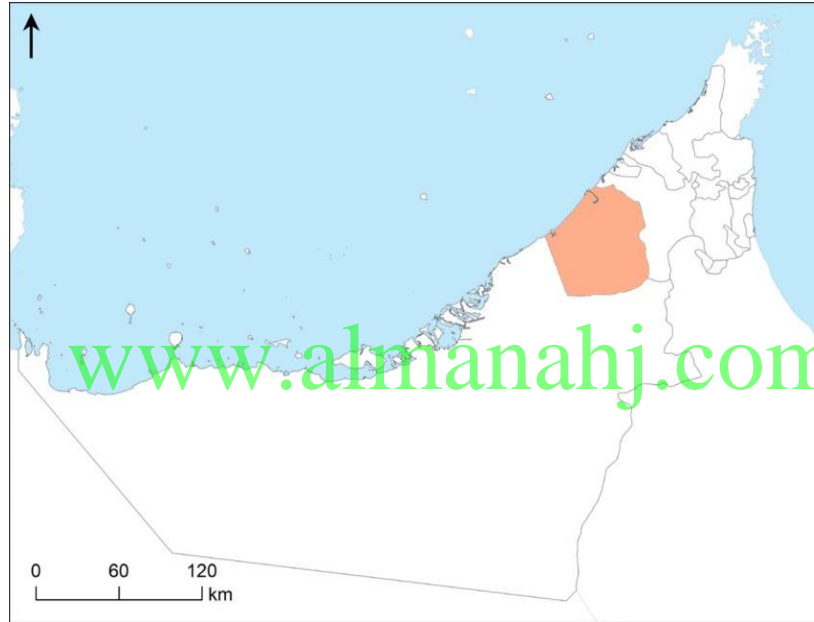
أشهر ميناء بحري في منطقة
الشرق الأوسط ميناء



يوجد بها أعلى برج هو برج

أستكمل العبارات التالية بها يناسبها

دبي الإمارات السبع من حيث المساحة



تعتبر أسرة (آل)
حكام إمارة دبي من فرع البوفلاسة
المنتمية إلى حلف بني ياس
من أهم الموارد الاقتصادية في دبي :



تتميز دبي بكثرة الجزر الصناعية مثل :



من المواقع الأثرية في دبي



الصف الرابع : (.....)

الاسم :

إمارة ومسمى

الوحدة الثانية : عراقه بلادي

تانيا : إمارتا الشارقة ورأس الخيمة



في الثاني من ديسمبر 1971م
ساهم الشيخ

في قيام الاتحاد

سميت رأس الخيمة بهذا
الاسم نسبة إلى

لإرشاد السفن للميناء

كانت تسمى رأس الخيمة
قدما

من الجزر الصناعية في
رأس الخيمة.....

أستكمل العبارات التالية بما يناسبها

الشارقة الإمارات

أهم ما يميز إمارة الشارقة

السبع من حيث المساحة



تعد رأس الخيمة الإمارة

لدولة الإمارات من حيث المساحة

هي الإمارة الوحيدة التي تملك سواحل على

بحر والخليج



أعلى جبل في الدولة
جبل



تشتهر رأس الخيمة بالقلع
مثل قصر



هي عاصمة

والكتب



تحمل لواء العلم والثقافة
بقيادة



حكمت الشارقة قبيلة

وظهرت كقوة

منطقة..... حيث
عيون المياه الحارة

ثالثا : الفجيرة وأم القيوين وعجمان

الاسم : الصف الرابع : (.....)



عرفت الفجيرة بالتاريخ القديم


 يصدر النفط الخام من أبوظبي
للأسواق العالمية

 من أشهر القلاع وأضخمها
.....

 أقدم مسجد باق في الإمارات
مسجد

الفجيرة

 تطل إمارة
الفجيرة على بحر
.....

اختار الإجابة الصحيحة فيما يلي :

- إمارة الاستجمام والراحة والطبيعة الخلابة :
- (عجمان - الشارقة - الفجيرة)
- كانت إمارة الفجيرة الموطن الأول لـ :
- (القواسم - الشرقيين - النعيم)
- أصغر إمارة من حيث المساحة :
- (رأس الخيمة - عجمان - أم القيوين)
- إمارة أهلها مشهورون بصيد السمك وتجارة اللؤلؤ :
- (رأس الخيمة - عجمان - أم القيوين)
- إمارة تقع بين إماراتي رأس الخيمة والشارقة :
- (دبي - عجمان - أم القيوين)


 من أكبر الجزر السياحية
.....

 مدينة أثرية
.....

 يحكمها الشيخ
.....

أم القيوين

 تسمية أم القيوين
بهذا الاسم
.....

- إمارة عرفت بأنها أكبر مركز لصناعة القوارب التقليدية :
- (الشارقة - دبي - عجمان)
- سادس إمارة من حيث المساحة :
- (عجمان - رأس الخيمة - أم القيوين)
- تطل الفجيرة على مسطح مائي وهو :
- (البحر الأحمر - بحر عمان - الخليج العربي)

أهم ما يميز عجمان



.....



.....


 يحكمها الشيخ
.....

عجمان

 أهم مدن عجمان
.....

من أنا

منطقة جغرافية محددة المساحة تخصص للمحافظة على الموارد البيئية المتجددة قد تحتوي على حيوانات أو نباتات مهددة بالإفراض (.....)

اختار الإجابة الصحيحة فيما يلي :

- كل ما خلفه الأجداد لكي يكون عبرة من الماضي ونهجا يستقي منه الأبناء الدروس ليعبروا بها من الحاضر إلى المستقبل :
(الحضارة - التراث - النهج)
- يشمل المباني والأماكن التاريخية والآثار والتحف :
(التراث - التراث الغير الهادي - التراث الهادي)
- يشمل التصرفات والممارسات وأشكال التعبير والمعارف والمهارات كالمهرجانات التقليدية والتقاليد الشفهية والملاحم والعادات وأساليب المعيشة والحرف التقليدية :
(التراث - التراث الغير الهادي - التراث الهادي)
- حوط الصورة التي لا تنتمي لتراث الغير الهادي:



- واحدة من التالي ليس من الأمثلة على التراث الهادي هي:
(القلاع - الهادي - الحرف)
- واحدة من التالي ليست من التراث الغير الهادي :
(التصرفات - التحف - المعارف)



أسباب الاهتمام بالتراث الهادي

المخطط التالي
أكمل

.....

.....

أسباب الاهتمام بالتراث الغير الهادي

.....

.....

أحدد التراث الهادي وغير الهادي من خلال الصور التالية



التراث



التراث



التراث



التراث

اختار الإجابة الصحيحة فيما يلي :

- مكان لجمع وحفظ الآثار القديمة وكل ما يتصل بالتراث الحضاري:

(المتحف - البيت - النادي)

- متاحف تصور حياة الماضي والوثائق والأدوات القديمة :

(الفنية - العلمية - التاريخية)

- متاحف تعرض أعمالاً فنية فقط :

(العلمية - التاريخية - الفنية)

- متاحف تقدم معروضات عن العلوم الطبيعية والتقنية:

(الفنية - العلمية - التاريخية)

- متحف أقيم بجانب دار الاتحاد التي تم توقيع وثيقة الاتحاد فيها:

(اللوفر - الاتحاد - رأس الخيمة الوطني)

- أقدم بناء تاريخي في أبوظبي:

(قصر الحصن - القاسمية - الفهيدي)

- يبلغ عدد المتاحف في الشارقة :

(14 - 15 - 16)

- أنشئ الأرشيف الوطني في إمارة :

(دبي - أبوظبي - الشارقة)

قلعة من أقدم المباني الصامدة في دولة الإمارات وكانت قديماً حامية لدبي ومقر للحاكم والحكومة:

(الفهيدي - الحصن - القاسمية)

صل صورة المتحف بالإمارة التي يقع فيها :



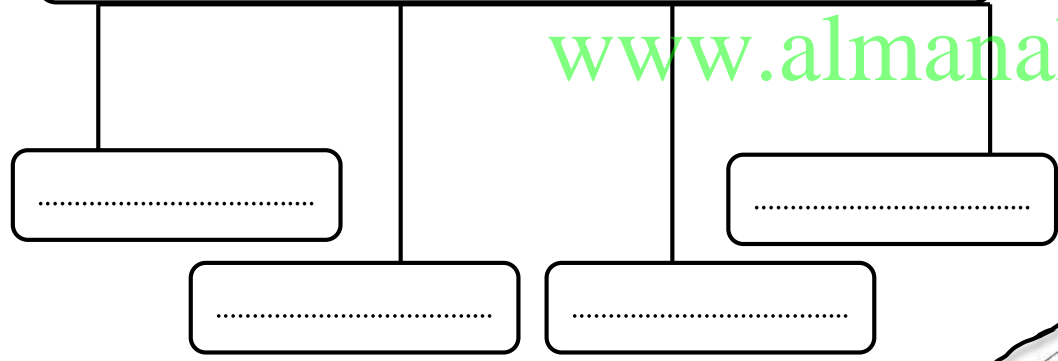
ضع الكلمات التالية في مكانها المناسب:

(الألعاب الشعبية - الهوية الوطنية - الطب الشعبي - الأحشام)

- إن العادات والتقاليد الإماراتية الأصيلة هي جزء من ملامح
- تظهر العادات والتقاليد بوضوح في الأعياد والزواج و.....و.....
- نتعلم العادات والتقاليد من التربية ومن مخالطة

أهم الآداب والعادات التي تكرر السلوكيات الطيبة قولاً وفعلاً

www.almanahj.com



صن سنع بلادي:

أبد بصب القهوة للجالسين والضيوف من اليمين إلى

ممسكا الدلة باليد

و باليد اليمنى



اختر الإجابة الصحيحة فيما يلي:

- جملة من العادات والتقاليد المتعارف عليها وتشمل معرفة القواعد والآداب العامة في التصرف مع الآخرين:
- (التراث - السنع - العادات والتقاليد)
- نتعلم السنع والعادات والتقاليد من مجالس:
- (الشباب - الكبار - الصغار)
- من ركائز العادات والتقاليد في دولة الإمارات:
- (الأخلاق الإسلامية - الحضارة - الزيارات)
- (الذرابة في الرمسة) تعني آداب:
- (الطعام - الحديث - السلام)
- الفزعة تعني:
- (التطوع - الأمانة - مساعدة المحتاج)
- اكتساب العادات والتقاليد يتم بـ:
- (التلقين - الممارسة - الاجتهاد)

على فاذا يدل صن
الفنجان



نهوذج حل

www.almanahj.com

التدريبات

مدرستنا
عندنا

مادة الدراسات الاجتماعية والتربية الوطنية
الصف الرابع

الطريق
الذي
حزينة

إعداد المعلمة : خديجة محمد الهندي

مدرسة : أحمد بن ماجد ح¹



علل؟

زيادة عدد الواليد وقلة عدد الوفيات؟



.....**بناء المستشفيات**.....



.....**التطعيم**.....



.....**توفير الأطباء**.....

اختر الإجابة الصحيحة فيما يلي:

ظهر التنمية في دولة الإمارات بعد اكتشاف:

(المترو - **النفط** - الشوارع)

عدد السكان في دولة الإمارات في حالة:

(تراجع مستمر - ثابت - **زيادة مستمرة**)

www.almanahj.com

من أنا

أرض جافة قاحلة قليلة المطر
فمن أنا؟؟


.....**الصحراء**.....

امتداد لليابسة محاطة بالماء من
ثلاث جهات
فمن أنا؟؟

.....**شبه الجزيرة**.....

عملية التغير نحو الأحسن والأفضل
فمن أنا؟؟

.....**التنمية**.....



ماذا ينتج عن قلة الأمطار وارتفاع
درجات الحرارة في المناطق الصحراوية؟

.....**قلة عدد السكان**.....



.....**استقدام العاملين**.....

ارتفاع مستوى المعيشة



.....**زيادة عدد الواليد**
.....**وقلة عدد الوفيات**.....



عن خلال الخريطة أحب عما يلي:

العوامل المؤثرة في توزيع السكان في دولة الإمارات؟

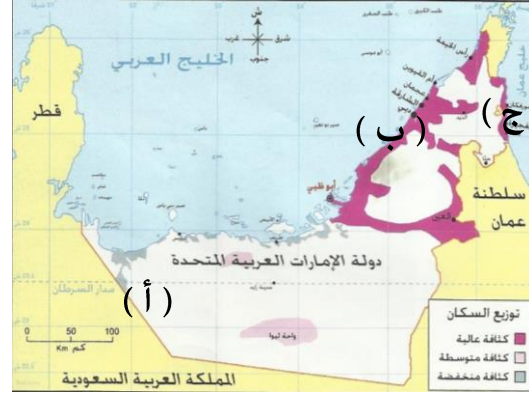
- لماذا يقل السكان في المنطقة المشار إليها بـ (أ)

..... **قلة فرص العمل**

اذكر اسم مناطق التركيز السكاني والمشار إليهم بـ:

..... (ب) السهل الساحلي... **الغربي**

..... (ج) السهل الساحلي... **الشرقي**



..... **الموقع على الساحل**



..... **توفر المياه الجوفية والتربة**



..... **سهولة المواصلات**



..... **توفر الموارد الطبيعية**



..... **توفر فرص العمل**

www.almanah.com

● يتركز 70% من السكان في دولة الإمارات في:

الساحل الغربي

السهول الحصوية

● السهول الحصوية تضم بعض المدن الصغيرة مثل:

واحة ليوا

حما

الفجيرة

● تقع مدينة أم القيوين في:

الإقليم الصحراوي

الساحل الغربي

السهول الحصوية

● تقع مدينة كلباء في:

الإقليم الصحراوي

الساحل الشرقي

الساحل الغربي

● تقع مدينة العين في:

الإقليم الصحراوي

الساحل الشرقي

الساحل الغربي

اختار الإجابة الصحيحة فيما يلي:



عام زايد

YEAR OF ZAYED

أكمل

المخطط التالي

أهمية التعداد السكاني

تجنب المشكلات السكانية
كالازدحام والتلوث

توفير الخدمات الصحية
والتعليمية والمرافق كافة



ضع المفاهيم التالية في مكانها المناسب:

(التلوث - التعداد السكاني - بطاقة الهوية)

عملية يقوم بها جهاز مختص داخل الدولة بهدف تسجيل عدد السكان المتواجدين

في الدولة في يوم محدد وتاريخ محدد. (التعداد السكاني)

إلحاق الضرر بالبيئة ناجم عن زيادة في عدد السكان. (التلوث.....)

هي بطاقة إلكترونية تصدرها الدولة وترجع أهميتها إلى أنها تسهل لحاملها

الحصول على الخدمات الحكومية جميعها وتثبت هويته. (بطاقة الهوية...)



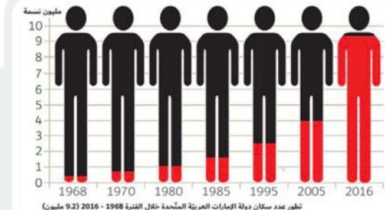
الهيئة الاتحادية

للهوية والجنسية



من هي الجهة الرسمية في دولة الإمارات العربية المتحدة التي

أنجزت مشروع بطاقة الهوية الذكية؟



الشكل في الكتاب
الدرسي ص 25



عن خلال الشكل الذي أمامك أجب عما يلي:

- يبلغ عدد السكان في عام 1980 م .. مليون نسمة
- يبلغ عدد السكان في عام 2016 م .. 9.1 مليون نسمة
- اكتب حقيقة:
- يبلغ عدد سكان دولة الإمارات في 2016 م 9.1 مليون نسمة
- أيهما أكثر الذكور أم الإناث في المجتمع الإماراتي الذكور...




الأنشطة الاقتصادية في دولة الإمارات العربية المتحدة

YEAR OF
ZAYED


عام
زايد



الصف الرابع: (.....)



الثروة السمكية



الثروة الحيوانية




الثروة الزراعية



السياحة



التجارة



الصناعة

اهتمام دولة الإمارات العربية المتحدة
بتنوع مصادر الدخل؟
لبناء اقتصاد قوي

علل؟



تحويل المادة الخام إلى مادة جديدة أكثر نفعاً للإنسان

تنقسم الصناعة إلى نوعين

الصناعة
التحويلية

هي تحويل المواد
الخام إلى منتجات
مفيدة

الصناعة
الاستخراجية

هي استخراج المعادن
والنفط والغاز من
باطن الأرض

أنواع الصناعة

من أنا

صنف الصناعات التالية حسب معطيات الجدول


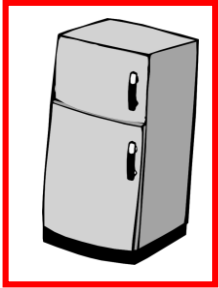
صناعة استخراجية	صناعة تحويلية	الصناعة
	✓	الألمونيوم
✓		استخراج النفط
	✓	الملابس
✓		استخراج الغاز
	✓	الأدوية

حفر الأرض للحصول على موارد نافعة كالمعادن أو الفلزات أو الوقود

التعدين



ضع دائرة على البضائع التي تستوردها بلادي من الخارج



من أنا

نشاط يقوم به
الإنسان من أعمال
البيع والشراء
للحصول على الأموال



وتنقسم إلى قسمين



1 (الصادرات...)

هي السلع والبضائع
التي تباع خارج
الدولة .

2 (الواردات...)

السلع والبضائع التي
تشتري من خارج
الدولة

ضع علامة (√) أسفل صورة وسائل النقل المستخدمة
قديماً في التجارة :



تانيا « الثروة الزراعية والثروة السمكية والحيوانية »

YEAR OF ZAYED

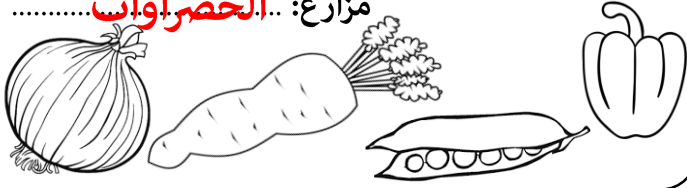


عام زايد واستمتع بالتلوين

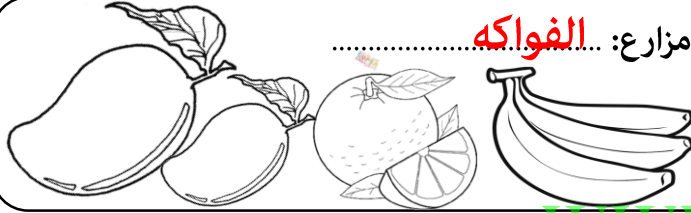


أكمل بطاقة الهوية لأنواع المزروعات في دولة الإمارات:

مزارع: **الخضراوات**




مزارع: **الفواكه**



مزارع: **الزهور**



مزارع: **النخيل**



من القائل " أعطوني زراعة أعطيكم حضارة "

الشيخ **زايد**

اكتب أسماء أشهر الأسماك في بلادنا



الهامور



الصافي



الكنعد

#الانترنت_افضل_استخداما
_في_الإمارات



جهود الإمارات للنهوض بالثروة السمكية

إقامة أسواق مخصصة لبيع الأسماك

توفير أدوات الصيد الحديثة



تقديم المساعدات المالية



من جهود دولة الإمارات للنهوض بالثروة الحيوانية



الرعاية البيطرية



توفير الأعلاف

ضع الكلمات المساعدة التالية في مكانها المناسب
الصحراء / سويحان / الأمن الغذائي

• من أهم مناطق زراعة الزهور في دولة الإمارات... **سويحان**

• توفير الغذاء بدون نقص هو **الأمن الغذائي**

يلقب الشيخ زايد بالرجل الذي روض **الصحراء**



عام زايد



YEAR OF ZAYED

ثالثاً «السياحة»

أنواع السياحة

أكمل الخطط التالي



السياحة بغرض تعرف على المعالم الأثرية والتراثية

السياحة التاريخية.....



السياحة بهدف التسويق وشراء المنتجات

السياحة التسويقية.....



السياحة بهدف العلاج والاستشفاء

السياحة العلاجية.....



دورة كأس الخليج العربي

السياحة بهدف متابعة البطولات الرياضية

السياحة الرياضية.....



السياحة بغرض الترويح عن النفس

السياحة الترفيهية.....



برج خليفة في دبي.....



جزيرة المرجان في رأس الخيمة.....



جزر العالم في دبي.....



جزيرة النخلة في دبي.....

أكمل أهم معالم الإمارات في بنهارك

من أنا



السفر والانتقال من دولة إلى دولة أخرى بهدف

الترفيه والاستكشاف والترويح عن النفس

السياحة.....

من مقومات السياحة في دولة الإمارات العربية المتحدة

• الأمن والاستقرار.....


• توفر مراكز التسوق.....

• توفر الخدمات كالفنادق والحدائق ووسائل النقل

فكر قبل أن تنشر



حط الصور الدالة على الأسباب الطبيعية لتلوث



من أنا
هو أي تغير ضار يؤثر على الهواء أو الماء أو الأرض أو ما يضر بصحة الإنسان والكائنات الحية الأخرى

التلوث

ما أضرار التلوث المترتبة على كل من:

الأضرار	
انتشار الأمراض	الإنسان
انقراض الحيوانات أو موتها	الحيوان
هلاك أعداد لا حصر لها من الكائنات الحية	الكائنات الحية



الكائنات الحية



تلوث السمعي

تلوث الاشعاعي

تلوث التربة

تلوث الماء

تلوث الهواء

أنواع التلوث

تانيا < الازدهام الهروي > تالتا < جهود دولة الإمارات في حماية البيئة >

أكمل الجدول حسب الععطيات فيما يلي:



من أنا

عدم قدرة مستخدمي الطرق على الانتقال
من مكان إلى آخر بالسرعة المناسبة
.....
الازدهام المروري.....



من أنا

أول مدينة خالية من الكربون والنفايات
الصناعية صديقة للبيئة، تعمل بطاقة الشمسية
مدينة... **مصدر**.....
تقع في إمارة... **أبو ظبي**.....



المحل	السبب	المشكلة
..... بناء طرق جديدة وتوسعتها	ضييق الشوارع	المشكلة هي الازدهام .. الهروي
..... استخدام النقل .. الجماعي	زيادة عدد السيارات
.....	

ما هي أضرار الازدهام الهروي

1. **الحوادث**.....




2. **تأخر الموظفين والطلاب**.....



3. **التلوث**.....



الحلول التي تعتمد عليها دولة الإمارات العربية المتحدة لحماية البيئة



إنشاء **المحميات الطبيعية**.....
تشجيع استخدام **النقل الجماعي**



.....
الاهتمام.....
الزراعة.....



.....
إصدار.....
القوانين.....

مشروع في دبي عمل على تشجيع وسائل النقل الجماعي وقلل
من تأثير الازدهام المروري.....
مترو دبي.....



أولا وثانيا « انتشار الإسلام في منطقة الإمارات ومدينة دبا»

من رسائل الدعوة إلى الإسلام

أرسل إلى حامل الرسالة



..... عمرو بن العاص

يرافقه

..... أبا زيد الأنصاري

..... ملكي عمان

..... (عبدو و جيفر)

..... أبناء الجلندي

سارع أهل عمان بالدخول إلى الإسلام .. طواعية

علل ،

سرعة دخول أهل عمان في الإسلام ؟

..... السماحة والعدل في الدين الاسلامي

أثر الإسلام في منطقة الإمارات وعمان ؟

1..... الاهتمام بالأسرة.....

2..... تشجيع العلم والعلماء.....

3..... إتقان العمل والكسب الحلال

العودة للكتاب المدرسي صفحة 56

اختار الإجابة الصحيحة فيما يلي :

- دخل أهل الإمارات وعمان الإسلام

(طواعية - إكراه - إجبار)

- تسمى منطقة الإمارات وعمان قديما باسم:

(الساحل - الغبراء - الدهماء)

- فتح الرسول مكة المكرمة في السنة :

(7 هـ - 8 هـ - 9 هـ)

- دبا ثاني أكبر مدن إمارة :

(عجمان - رأس الخيمة - الفجيرة)

- دبا الحصن مدينة تابعة لإمارة :

(الشارقة - الفجيرة - دبي)

- المضيق الذي يكون قريبا من مدينة دبا :

(هرمز - باب المنذب - ملقا)

- تطل دبا على بحر:

(العرب - عمان - الأحمر)

هيزات رسائل الرسول لأهل الإمارات وعمان:

1 الإيجاز 2 الحكمة والموعظة 3 الكلمة الطيبة

ضع الكلمات التالية في مكانها المناسب:

(ترانزيت - الأسرة - التكافل الاجتماعي)

التعاون بين أفراد المجتمع التكافل الاجتماعي

دبا كانت تمثل مركزا تجاريا بين الشرق والغرب وهي ما يطلق عليه اليوم

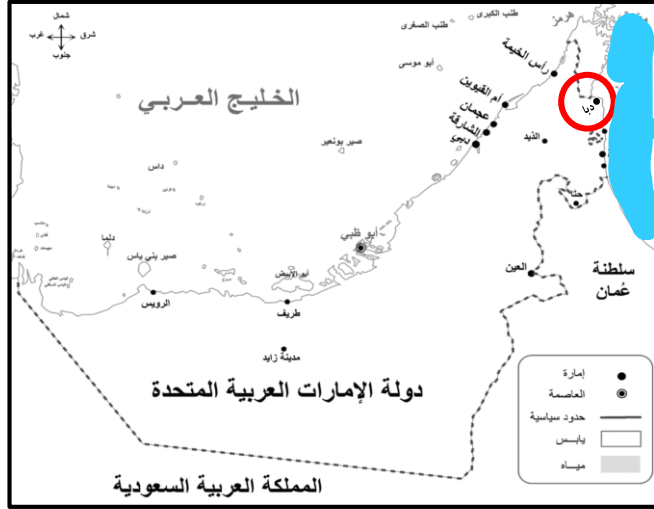
..... ترانزيت

نواة المجتمع الأسرة





ثالثا < المهلب بن أبي صفرة >



على الخريطة التي أمامك :
 - حوط المدينة التي ولد فيها.
 - ما اسم المسطح المائي الذي تطل عليه المدينة التي ولد فيها ولونه.
بحر عمان

سنة ميلادي
٦٩٧

مكان ولادتي

مدينة
دبا

اسمي

المهلب بن أبي صفرة الأزدي القحطاني

كنيتي

أبو سعيد

أولى غزواتي كانت لبلاد
السند

من هو الصحابي الذي أعجب بالمهلب بن أبي صفرة

عمر بن الخطاب

من صفات المهلب بن أبي صفرة

الكرم والحلم والشجاعة والقيادة وحسن التدبير

www.almanahj.com



أنا المهلب بن أبى صفرة شخصية لا تنسها فأكمل مقتطفات من جوانب حياتى وإنجازاتى فيها يلى :



ولدت فى 7 هـ وكانت
وفاتى فى 82 هـ فكفم كان
عمره عند وفاته ؟؟
.....75.عاما.....

الصحابى الجليل الذى
أطلق على لقب " سيد
أهل العراق " هو
.....عبدالله بن الزبير.....



كانت أولى غزواتى إلى بلاد
.....السند.....
حيث حققت النصر


www.almanahj.com

ساهمت فى حركة
الفتوحات الإسلامية فى بلاد
.....السند.....و.....تركستان.....



ما النصيحة التى قدمتها
لأولادى
فى الاتحاد قوة وفى
التفرق ضعف

شاركت بالفتوحات
الإسلامية ومن المعركة التى
خضتها معركة
.....القادسية ضد الفرس.....



حاربت فئته خرجت عن
الاسلام حتى حققت النصر
عليهم فمن هذه الفئة ؟
.....الخوارج.....

أصبحت واليا على ولاية
.....خراسان.....



تعود تسمية أبو ظبي بهذا الاسم
لكثرة حيوان**الظبي**.....



تسمى أبو ظبي قديما
.....**أم النار**.....

قبيلة التي استقرت بأبو ظبي قبيلة
.....**بني ياس**.....
الشيخ **ذياب بن عيسى**.....
هو أول حاكم آل نهيان في أبو ظبي

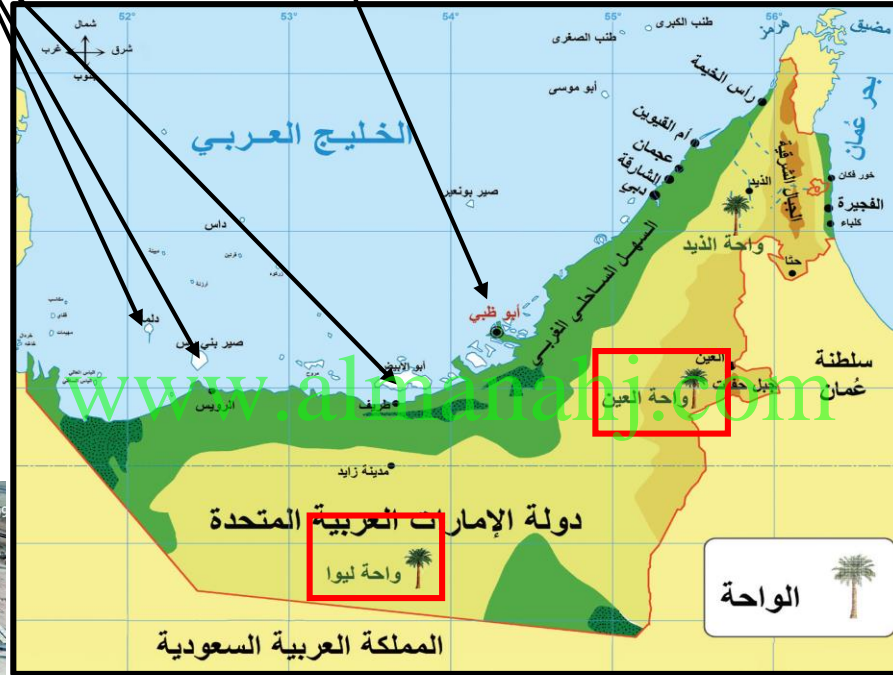


الذي شيد قلعة
.....**الحصن**.....



يقع في
أبو ظبي جسر
.....**المقطع**.....

تعتبر أبو ظبي**عاصمة**..... دولة الإمارات العربية المتحدة.



عدد الجزر التابعة لإمارة أبو ظبي
أكثر من**200**..... جزيرة

أبو ظبي**أكبر**..... الإمارات
السبع من حيث المساحة



تقع فيها أكبر مدينة ألعاب مغطاه في
العالم وهي**عالم فيراري**.....



من أبرز المعالم لإسلامية في أبو ظبي
جامع **الشيخ زايد**.....

هوط على الخريطة

الواحات التابعة لإمارة أبو ظبي
وتعتبر من أجمل واحاتها





إكسبو 2020
دبي، الإمارات العربية المتحدة
DUBAI, UNITED ARAB EMIRATES
مدينة مرشحة

ستستضيف دبي في 2020 معرض
إكسبو



أشهر ميناء بحري في منطقة
الشرق الأوسط ميناء

جبل علي

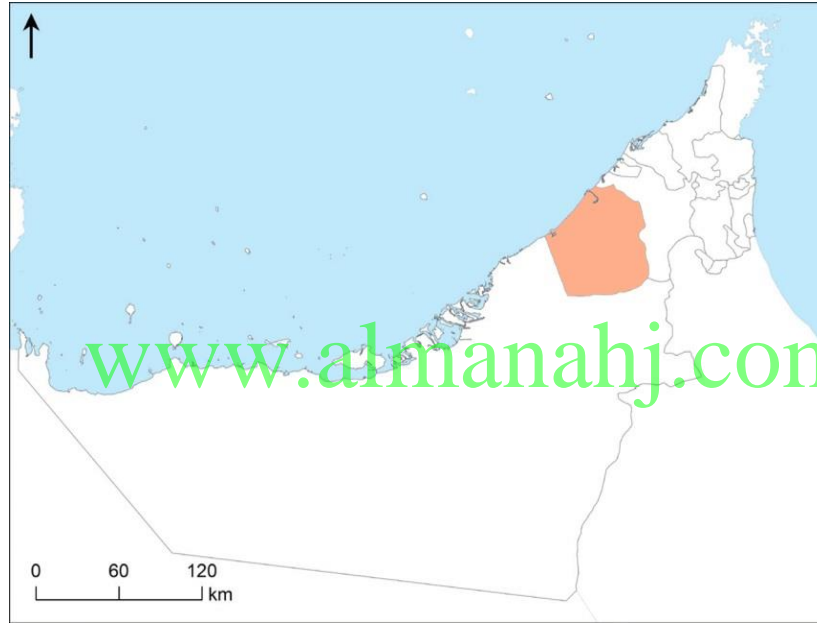


يوجد بها أعلى برج هو برج

خليفة

أستكمل العبارات التالية بها يناسبها

دبي ثاني الإمارات السبع من حيث المساحة



تعتبر أسرة (آل ... مكتوم)
حكام إمارة دبي من فرع البو فلاسة
المنتمية إلى حلف بني ياس
من أهم الموارد الاقتصادية في دبي :

السياحة



التجارة



العقارات



تتميز دبي بكثرة الجزر الصناعية مثل :



من المواقع الأثرية في دبي

جزر العالم

جزيرة النخلة جميرا

جميرا

القصيص



في الثاني من ديسمبر 1971م
ساهم الشيخ
خالد بن محمد القاسمي
في قيام الاتحاد

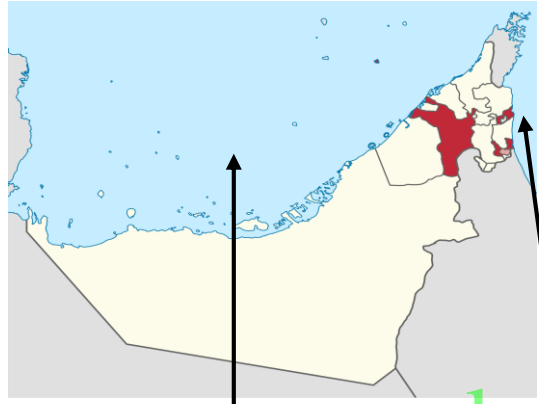
سميت رأس الخيمة بهذا
الاسم نسبة إلى
الخيمة التي كانت تنصب على الساحل
لإرشاد السفن للميناء
كانت تسمى رأس الخيمة
قدما
جلفار

من الجزر الصناعية في
رأس الخيمة **لمرجان**

أهم ما يميز إمارة الشارقة

أستكمل العبارات التالية بما يناسبها
الشارقة **ثالث** الإمارات

السبع من حيث المساحة



السوق المركزي

مشروع ثقافة بلا حدود
(مكتبة لكل بيت)


تعد رأس الخيمة الإمارة **الرابعة**

لدولة الإمارات من حيث المساحة

هي الإمارة الوحيدة التي تملك سواحل على
بحر **عمان** والخليج ... **العربي**




الشيخ **صقر القاسمي**



أعلى جبل في الدولة
جبل **جيس**



منطقة **خت** حيث
عيون المياه الحارة




هي عاصمة
الثقافة والكتب



تحمل لواء العلم والثقافة
بقيادة

سلطان بن محمد لقاسمي



حكمت الشارقة قبيلة
..... **القواسم**

وظهرت كقوة

بحرية

ثالثا : الفجيرة وأم القيوين وعجمان

الاسم :

الصف الرابع : (.....)



عرفت الفجيرة بالتاريخ القديم **أرض عمالقة البحار**



يصدر النفط الخام من أبوظبي
للأسواق العالمية **ميناء الفجيرة**

من أشهر القلاع وأضخمها
قلعة الفجيرة

أقد مسجد باق في الإمارات
مسجد **البدية**

الفجيرة

تطل إمارة
الفجيرة على بحر
عمان

اختار الإجابة الصحيحة فيما يلي :

- إمارة الاستجمام والراحة والطبيعة الخلابة :

(عجمان - الشارقة - **الفجيرة**)

- كانت إمارة الفجيرة الموطن الأول لـ :

(القواسم - **الشرقيين** - النعيم)

- أصغر إمارة من حيث المساحة :

(رأس الخيمة - **عجمان** - أم القيوين)

- إمارة أهلها مشهورون بصيد السمك وتجارة اللؤلؤ :

(رأس الخيمة - عجمان - **أم القيوين**)

- إمارة تقع بين إماراتي رأس الخيمة والشارقة :

(دبي - عجمان - **أم القيوين**)

- إمارة عرفت بأنها أكبر مركز لصناعة القوارب التقليدية :

(الشارقة - دبي - **عجمان**)

- سادس إمارة من حيث المساحة :

(عجمان - رأس الخيمة - **أم القيوين**)

- تطل الفجيرة على مسطح مائي وهو :

(البحر الأحمر - **بحر عمان** - الخليج العربي)



من أكبر الجزر السياحية
جزيرة السينية

مدينة أثرية
الدور

يحكمها الشيخ
سعود بن راشد المعلا

أم القيوين

تسمية أم القيوين

بهذا الاسم
بسبب **القوة**
البرية والبحرية

أهم ما يميز عجمان



محمية الزوراء

متحف عجمان

يحكمها الشيخ
حميد بن راشد النعيمي

عجمان

أهم مدن عجمان
مصفوت


المنامة

من أنا

منطقة جغرافية محددة المساحة تخصص للمحافظة على الموارد البيئية المتجددة قد تحتوي على حيوانات أو نباتات مهددة بالإفراض (**المحمية**)

اختار الإجابة الصحيحة فيما يلي :

- كل ما خلفه الأجداد لكي يكون عبرة من الماضي ونهجا يستقي منه الأبناء الدروس ليعبروا بها من الحاضر إلى المستقبل :
- (الحضارة - التراث - النهج)
- يشمل المباني والأماكن التاريخية والآثار والتحف :
- (التراث - التراث الغير الهادي - التراث الهادي)
- يشمل التصرفات والممارسات وأشكال التعبير والمعارف والمهارات كالمهرجانات التقليدية والتقاليد الشفهية والملاحم والعادات وأساليب المعيشة والحرف التقليدية :
- (التراث - التراث الغير الهادي - التراث الهادي)
- حوط الصورة التي لا تنتمي لتراث الغير الهادي :



- واحدة من التالي ليس من الأمثلة على التراث الهادي هي :
- (القلاع - المباني - الحرف)
- واحدة من التالي ليست من التراث الغير الهادي :
- (التصرفات - التحف - المعارف)



أسباب الاهتمام بالتراث الهادي

المخطط التالي
أكمل

.....الافتخار..بالماضي.....

.....لأنها..موروثات..مهمة.....

أسباب الاهتمام بالتراث الغير الهادي

.....يشجع على..الاحترام.....

يساعد على..الحوار..بين..الأفراد

أحدد التراث الهادي وغير الهادي من خلال الصور التالية

التراث
المادي



التراث
غير مادي
(معنوي)



التراث
غير مادي
(معنوي)



التراث
المادي



اختار الإجابة الصحيحة فيما يلي:

- مكان لجمع وحفظ الآثار القديمة وكل ما يتصل بالتراث الحضاري:

(المتحف - البيت - النادي)

- متاحف تصور حياة الماضي والوثائق والأدوات القديمة:

(الفنية - العلمية - التاريخية)

- متاحف تعرض أعمالا فنية فقط:

(العلمية - التاريخية - الفنية)

- متاحف تقدم معروضات عن العلوم الطبيعية والتقنية:

(الفنية - العلمية - التاريخية)

- متحف أقيم بجانب دار الاتحاد التي تم توقيع وثيقة الاتحاد فيها:

(اللوفر - الاتحاد - رأس الخيمة الوطني)

- أقدم بناء تاريخي في أبوظبي:

(قصر الحصن - القاسمية - الفهيدي)

- يبلغ عدد المتاحف في الشارقة:

(14 - 15 - 16)

- أنشئ الأرشيف الوطني في إمارة:

(دبي - أبوظبي - الشارقة)

قلعة من أقدم المباني الصامدة في دولة الإمارات وكانت قديما حامية لدبي ومقر للحاكم والحكومة:

(الفهيدي - الحصن - القاسمية)

صل صورة المتحف بالإمارة التي يقع فيها:



www.aminana.com

ضع الكلمات التالية في مكانها المناسب:

(الألعاب الشعبية - الهوية الوطنية - الطب الشعبي - الأحشام)

- إن العادات والتقاليد الإماراتية الأصيلة هي جزء من ملامح **الهوية الوطنية**
- تظهر العادات والتقاليد بوضوح في الأعياد والزواج و..... و..... **الألعاب الشعبية** و..... **الطب الشعبي**
- نتعلم العادات والتقاليد من التربية ومن مخالطة **الأحشام**.....

أهم الآداب والعادات التي تركز السلوكيات الطيبة قولاً وفعلاً

آداب صب القهوة

آداب الحديث

آداب الطعام

آداب السلام

من سنع بلادي:

أبد بصب القهوة للجالسين والضيوف من اليمين إلى **اليسار**.....ممسكا الدلة باليد **اليسرى**.....و..... **الفناجين**..... باليد اليمنىعلى فاذا يدل نص
الفناجان

دليل على الانتهاء من شرب القهوة



اختر الإجابة الصحيحة فيما يلي:

- جملة من العادات والتقاليد المتعارف عليها وتشمل معرفة القواعد والآداب العامة في التصرف مع الآخرين:
- (التراث - **السنع** - العادات والتقاليد)
- نتعلم السنع والعادات والتقاليد من مجالس:
- (الشباب - **الكبار** - الصغار)
- من ركائز العادات والتقاليد في دولة الإمارات:
- (**الأخلاق الإسلامية** - الحضارة - الزيارات)
- (الذرابة في الرمسة) تعني آداب:
- (الطعام - **الحديث** - السلام)
- الفزعة تعني:
- (التطوع - الأمانة - **مساعدة المحتاج**)
- اكتساب العادات والتقاليد يتم بـ:
- (التلقين - **الممارسة** - الاجتهاد)