

[www.almanahj.com](http://www.almanahj.com)

M03\_01

$$4809 - 532 =$$

الإجابة: \_\_\_\_\_

1

M051205

M03\_02

مع مريم 50 زداً.

سعر الكتاب الواحد 12 زداً.

ما أكبر عدد من الكتب تستطيع مريم شراءه؟

الإجابة: \_\_\_\_\_

2

M051039

[www.almanahj.com](http://www.almanahj.com)

M03\_03

يغادر القطار المدينة الجديدة الساعة 7:52 دقيقة صباحاً، ويصل إلى المدينة القديمة الساعة 11:06 قبل الظهر في اليوم نفسه.

كم تستغرق هذه الرحلة؟

الإجابة: \_\_\_\_\_ ساعات و \_\_\_\_\_ دقائق

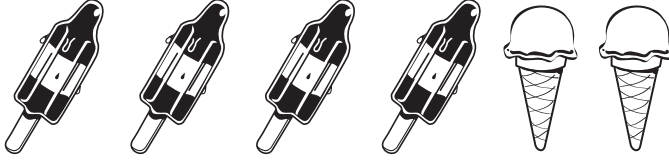
3

M051055



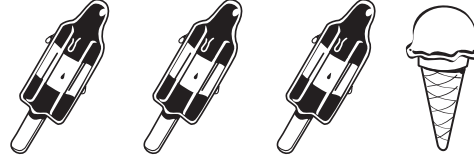
اشترى بلال:

السعر  
22 زدياً



اشترت جميلة:

السعر  
14 زدياً



واحدة؟



واحدة و



ما مجموع سعر

[www.almanahj.com](http://www.almanahj.com)

الإجابة: \_\_\_\_\_ زد

واحدة؟



ما ثمن

الإجابة: \_\_\_\_\_ زد

مع جميل 20 زد.  
اشترى جميل كتاباً بسعر 3.65 زد.  
واشترى أيضاً مجلة بسعر 2.70 زد.  
كم تبقى من النقود مع جلال؟

- (A) 6.35 زد  
(B) 13.65 زد  
(C) 14.65 زد  
(D) 16.35 زد

تتكرر نفس الأشكال كل 4 صور على التوالي في لفة الملصقات التالية، كما هو موضح أدناه.



أي صورة يجب أن تكون في الملصق رقم 39؟

- (A) ★  
(B) ☀  
(C) 😊  
(D) ○

أي من هذه الأشكال يمكن الحصول عليه بوضع مثلث ومستطيل بجانب بعضهما؟



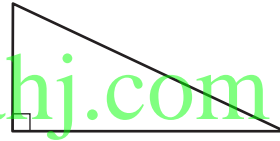
(A)



(B)

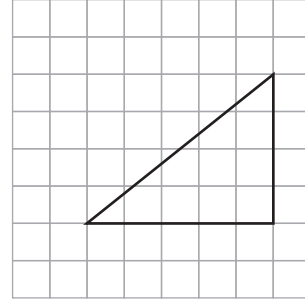
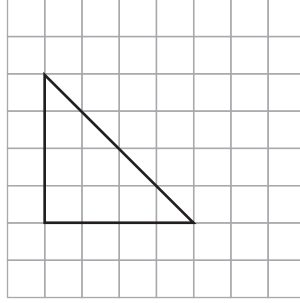


(C)



(D)

[www.almanahj.com](http://www.almanahj.com)



8

أي من العبارات التالية عن هذين المثلثين صحيحة ؟

- (A) في كل مثلث ضلعان متساويان.  
 (B) في كل مثلث ثلاثة أضلاع مختلفة الطول.  
 (C) في كل مثلث زاوية أكبر من الزاوية القائمة.  
 (D) في كل مثلث زاوية قائمة.

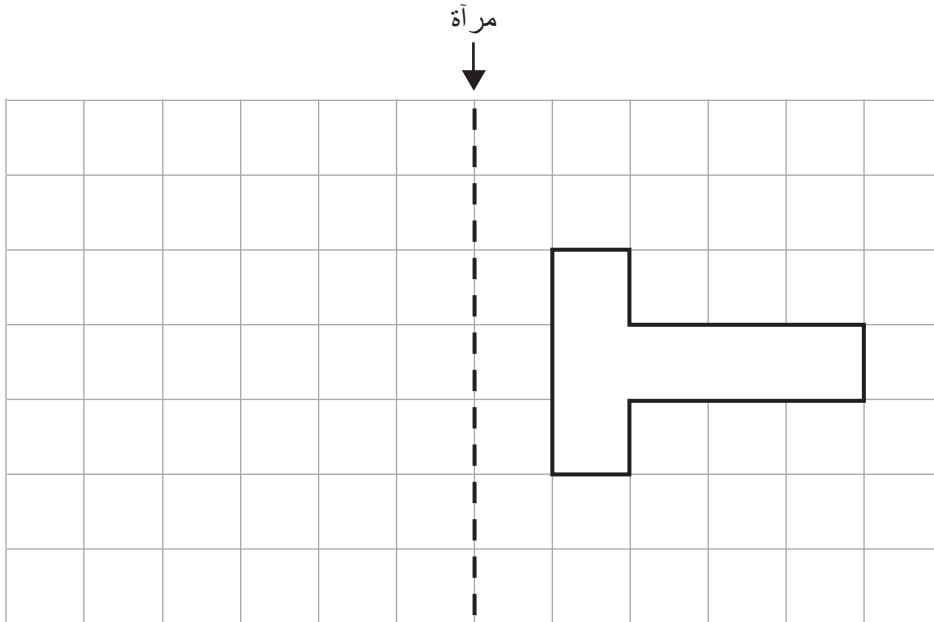
M051410



www.almanahj.com

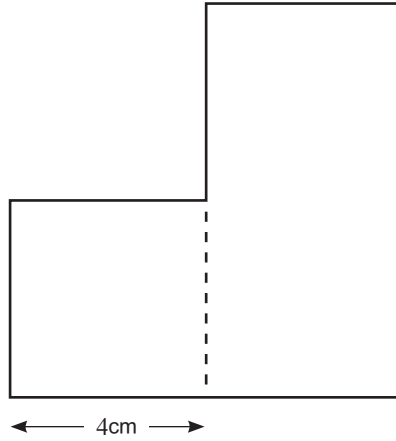
ارسم انعكاس الشكل التالي.

9



M051059

يتكوّن الشكل التالي من مربع ومستطيل.  
 يتساوى عرض كل من المستطيل والمربع.  
 علماً بأن طول المستطيل يساوي ضعف عرضه.  
 أوجد محيط الشكل.



- 28 cm (A)  
 32 cm (B)  
 36 cm (C)  
 40 cm (D)

[www.almanahj.com](http://www.almanahj.com)

دفع طارق في الأشهر الستة الأولى من عام 2008 المبالغ التالية لسداد فاتورة الهاتف.

### فاتورة هاتف طارق لعام 2008

الشهر	يناير	فبراير	مارس	أبريل	مايو	يونيو
التكلفة (بعملة زد)	65	20	60	40	60	45

دفع في الأشهر الستة الأولى من عام 2009 المبالغ التالية لتسديد فاتورة الهاتف.

### فاتورة هاتف طارق لعام 2009



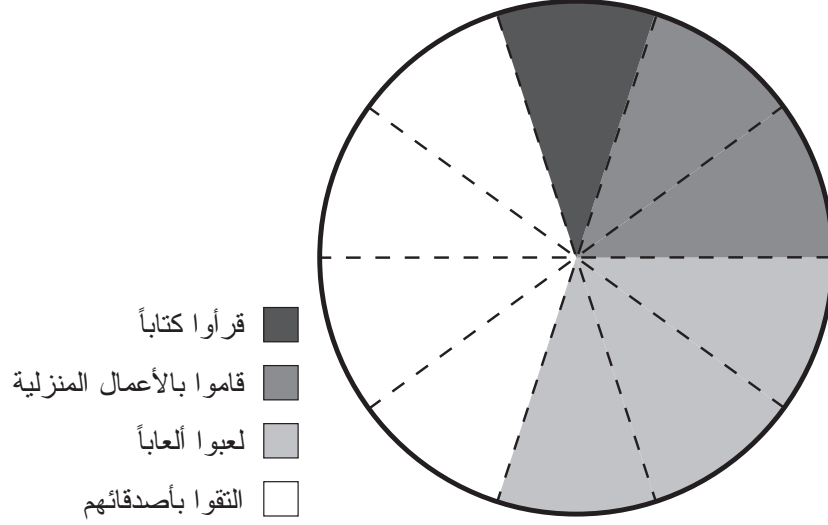
في بعض أشهر 2009 دفع طارق أقل مما دفع في 2008 لسداد فاتورة الهاتف.  
ما هي هذه الأشهر؟

الإجابة:



تشير الدائرة البيانية إلى ما قام به بعض التلاميذ من أنشطة بعد الدوام المدرسي.  
قسمت الدائرة إلى 10 أجزاء متساوية.

### نشاطات ما بعد المدرسة



20 من التلاميذ قرأوا كتاباً. كم عدد التلاميذ الذين التقوا بأصدقائهم؟

[www.almanahj.com](http://www.almanahj.com)

- 40 (A)  
60 (B)  
80 (C)  
100 (D)