



دائرة التعليم والمعرفة
DEPARTMENT OF EDUCATION
AND KNOWLEDGE



وزارة التربية والتعليم
MINISTRY OF EDUCATION

مراجعة عامة في مادة الدراسات الاجتماعية والتربية الوطنية للعام الدراسي 2017 - 2018 م



www.almanahj.com

الصف 4
الوحدة 1

مدرسة الصدارة



غرس
الإمارات
بيد

أم الإمارات

الفصل
3

مدير المدرسة
فريد ناصر الواحدي

المذكرة لا تغني عن الكتاب المدرسي
أ. سمية عبد الله / أ. جاسم محمد

اسم الطالب :

الشعبة :

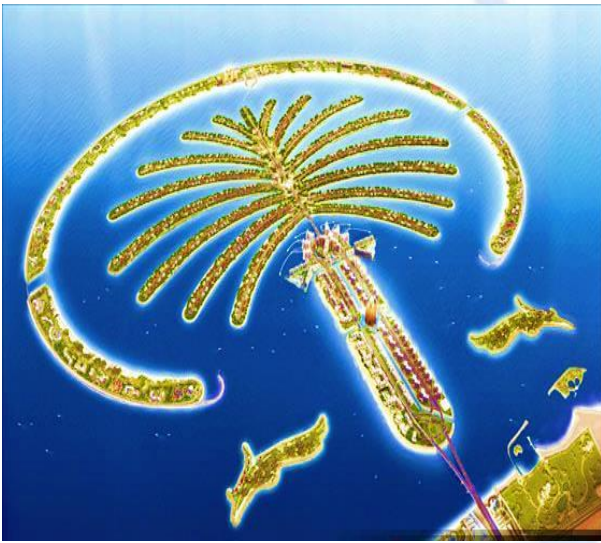
جميع الحقوق محفوظة لمدرسة الصدارة

الوحدة الأولى : النمو الاقتصادي والابتكار

الدرس الأول : (الميزانية الشخصية)

البيان التفصيلي للاختبار (الوحدة 1)

رقم السؤال	نوع السؤال	الفقرات	الدرس	الفرع
1	اختيار من متعدد	14 - 31	الأول	الميزانية الشخصية
		32 - 49	الثاني	إنجازات اقتصادية في بلادي
		50 - 67	الثالث	مشاريع رائدة في بلادي



1- الدخل

السؤال رقم 1 : ضع دائرة حول رمز الإجابة الصحيحة فيما يلي :

1- النقود التي تحصل عليها مقابل عمل تسمى :			
A: الدخل	B: الأجر	C: الراتب	D: جميع ما ذكر
2- الدخل وسيلة مهمة للفرد لأسباب :			
A: للشراء	B: تلبية الاحتياجات	C: للترفيه	D: جميع ما ذكر
3- الدخل يعد أساس الحياة			
A: الاقتصادية	B: الفلسفية	C: الاجتماعية	D: لا شيء مما ذكر
4- على مر العصور يعتبر الدخل مؤشر إيجابيالدول .			
A: معيار	B: تقدم	C: علامة	D: جميع ما ذكر
5- يحصل الأفراد على الدخل مقابل			
A: حديثهم	B: تسليتهم	C: أعمالهم	D: لا شيء مما ذكر
6- البعض يعمل بـ.....			
A: بالزراعة	B: بالتجارة	C: بالصناعة	D: جميع ما ذكر
7- ما يصنعه أو يزرعه الأفراد ويعرض في الأسواق يسمى :			
A: منتج	B: بضاعة	C: سلعة	D: لا شيء مما ذكر
8- يعمل البعض في أعمال تقدم المساعدة للناس تسمى الخدمات مثل :			
A: التعليم	B: الطب	C: السياحة	D: جميع ما ذكر
9 : أول عملة إماراتية في الإمارات هي الدرهم صدرت عام			
A: 1971	B: 1973	C: 1970	D: 1975

10: كلما زاد دخل الفرد زاد ما

A: يستهلكه B: يصرفه C: يدخره D: جميع ما ذكر

11: واجبي المحافظة على دخلي و

A: وحسن استخدامه B: تبذيره C: توزيعه D: جميع ما ذكر

12- احتلت دولة الإمارات المركز عالميا كأغنى دول العالم / نصيب دخل الفرد .

A: الخامس B: الثالث C: الرابع D: لا شيء مما ذكر

إجابة أسئلة الدرس الأول: (الميزانية الشخصية)



أولا : الدخل

رمز الإجابة	رقم السؤال	رمز الإجابة	رقم السؤال	رمز الإجابة	رقم السؤال	رمز الإجابة	رقم السؤال
B	4	A	3	D	2	D	1
D	8	C	7	D	6	C	5
C	12	A	11	D	10	D	9

2- الإنفاق والإدخار

السؤال رقم 1 : ضع دائرة حول رمز الإجابة الصحيحة فيما يلي :

1- مبلغ من النقود يقوم الفرد بإنفاقه للحصول على السلع والخدمات			
A: الإنفاق	B: الادخار	C: التوفير	D: لا شيء مما ذكر
2- يحث الإسلام على الاعتدال في الإنفاق وعدم والتبذير .			
A: التهور	B: الإسراف	C: الصرف	D: لا شيء مما ذكر
3- على الفرد مراعاة في أثناء الإنفاق والتوازن في ذلك .			
A: التنزيلات	B: العروض	C: الأولويات	D: الدعايات
4- يقام معرض للنخيل والتمور عالميا سنويا في إمارة			
A: أبوظبي	B: دبي	C: عجمان	D: الفجيرة
5- من فكر سمو الشيخ محمد بن راشد : (إن لم تكن فالثاني والأخير نفس المصير)			
A: المتقدم	B: الأول	C: الصدارة	D: البارز
6- تجاوز الحد في الإنفاق يطلق عليه مصطلح			
A: توفير	B: ادخار	C: تبذير	D: لا شيء مما ذكر
7- من أبواب الإنفاق (حاجات أساسية) مثل :			
A: الغذاء	B: المسكن	C: الملابس	D: جميع ما ذكر
7- من أبواب الإنفاق (حاجات ثانوية) مثل :			
A: النقل	B: السفر	C: الترفيه	D: جميع ما ذكر
9 : يحفظ معظم الناس نقودهم في :			
A: البنوك	B: الخزانات	C: السيارة	D: لا شيء مما ذكر

10 : ابدأ يومك بصدقة فإنها

A: تزيد مالك B: تقلل مالك C: تجعلك فقيرا D: جميع ما ذكر

11- احتلت دولة الإمارات المركز عالميا في مؤشر مشتريات الحكومة.

A: الأول B: الثالث C: الخامس D: لا شيء مما ذكر

12- من صنع الإمارات: (يود الحثحات لين يقولك الزمن)

A: خذ B: هات C: تعال D: لا شيء مما ذكر

إجابة أسئلة الدرس الأول: (الميزانية الشخصية)



ثانيا : الإنفاق والإدخار

رقم السؤال	رمز الإجابة	رقم السؤال	رمز الإجابة	رقم السؤال	رمز الإجابة	رقم السؤال	رمز الإجابة
1	A	2	B	3	C	4	A
5	B	6	C	7	D	8	D
9	A	10	A	11	B	12	B

3- المصروف الشخصي

السؤال رقم 1 : ضع دائرة حول رمز الإجابة الصحيحة فيما يلي :

1- المال وسيلة مهمة في حياتنا يجب استخدامه بصورة			
A: سليمة	B: عادية	C: كيفما نحب	D: وقتما نشاء
2- النقود تكشف جوانب الحياة وتساهم في كتابة التاريخ			
A: الاجتماعي	B: الاقتصادي	C: السياسي	D: لا شيء مما ذكر
3- حين أنظم وأدير ميزانيتي ، أستشير			
A: أصدقائي	B: لا أستشير أحد	C: أمي وأبي	D: الجيران
4- علي أن على المصروف الشخصي تقديرا لجهود أمي وأبي			
A: أحافظ	B: أهمل	C: أبذر	D: جميع ما ذكر
5- معنى الحاجات : كل ما يحتاجه الإنسان من			
A: هدايا	B: ألعاب	C: ضروريات	D: مكسرات وحلوى
6- أضع ما أوفره من مصروفي داخل			
A: تحت السرير	B: بحقيبة المدرسة	C: الحصالة	D: أسفل كتبي
7- تخطيط الميزانية والتوفير والادخار أفضل درس في الحياة			
A: نتعلمه	B: لا ينفعا	C: لا نحتاجه	D: مجرد كلام
8- إدارة المصروف الشخصي يعد			
A: خبرة	B: مهارة	C: تدريب	D: تجربة
9 : أفضل وقت لتدريب الطفل على البدء في الادخار هو :			
A: سن المراهقة	B: لحظة دخول المدرسة	C: الشباب	D: جميع ما ذكر

10 : وصل عطاء الشيخ زايد - رحمه الله - إلى كل :

A: صغير وكبير B: فقير وغني C: قريب وبعيد جميع ما ذكر

11- التبذير من عمل

A: الشيطان B: من صديق سيء C: عدم تخطيط D: لا شيء مما ذكر

12- المال نعمة وجد.....

A: للتباهي B: للتكبر C: لقضاء حاجة D: لا شيء مما ذكر

إجابة أسئلة الدرس الأول: (الميزانية الشخصية)



ثالثاً : المصروف الشخصي

رقم السؤال	رمز الإجابة	رقم السؤال	رمز الإجابة	رقم السؤال	رمز الإجابة	رقم السؤال	رمز الإجابة
1	A	2	B	3	C	4	A
5	C	6	C	7	A	8	B
9	B	10	D	11	A	12	C

الوحدة الأولى : النمو الاقتصادي والابتكار

الدرس الثاني : (إنجازات اقتصادية في بلادي)

البيان التفصيلي للاختبار (الوحدة 1)

رقم السؤال	نوع السؤال	الفقرات	الدرس	الفرع
1	اختيار من متعدد	14- 31	الأول	الميزانية الشخصية
		32- 49	الثاني	إنجازات اقتصادية في بلادي
		50- 67	الثالث	مشاريع رائدة في بلادي



10 : من أبرز العوامل البشرية المدعمة لنجاح المشاريع الاقتصادية هي :

A: الأيدي العاملة B: الإدارة الحكيمة C: المال والتكنولوجيا جميع ما ذكر

11- من أبرز المشروعات الاقتصادية الناجحة :

A: مدينة مصدر B: مترو القطارات C: الموانئ D: جميع ما ذكر

12- أطلق سمو الشيخ محمد بن زايد وسمو الشيخ محمد بن راشد برنامج الإمارات

A: الوطني للعلوم B: الوطني للتجارة C: الوطني للفضاء D: لا شئ مما ذكر

إجابة أسئلة الدرس الثاني : (إنجازات اقتصادية في بلادي)



أولا : المشروعات الاقتصادية

رقم السؤال	رمز الإجابة	رقم السؤال	رمز الإجابة	رقم السؤال	رمز الإجابة	رقم السؤال	رمز الإجابة
1	D	2	B	3	C	4	B
5	B	6	C	7	D	8	D
9	D	10	D	11	D	12	C

2- المشروعات السياحية (الجزر الصناعية)

السؤال رقم 1 : ضع دائرة حول رمز الإجابة الصحيحة فيما يلي :

1- تتميز الإمارات العربية بطبيعة خلابة من :

A: كثبان رملية B: بحار هادئة C: جبال وجزر D: جميع ما ذكر

2- الجزر التي تم بناؤها وتشكيلها بفعل الإنسان تعتبر جزر

A: طبيعية B: صناعية C: مستحدثة D: لا شيء مما ذكر

3- تحولت الجزر الصناعية لمشاريع تجذب السياح بإنشاء مشروعات..... داخلها .

A: سكنية B: تجارية C: سياحية D: كل ما ذكر

4- من يقدم على السفر داخل دولته أو خارجها يطلق عليه اسم

A: متنقل B: سائح C: مسافر D: لا شيء مما ذكر

5- إقامة الجزر الاصطناعية دليل على :

A: التطور B: التقدم C: عبقرية الإنسان D: كل ما ذكر

6- من أشهر الجزر الصناعية جزيرة :

A: النخلة B: العالم C: المرجان D: جميع ما ذكر

7- جزيرة النخلة من الجزر الاصطناعية الأجل في :

A: أبو ظبي B: دبي C: رأس الخيمة D: الفجيرة

8- مجموعة من الجزر الاصطناعية شكلت على شكل القارات هي :

A: جزر البحر B: جزر الخليج C: جزر العالم D: لا شيء مما ذكر

9 : فندق أتلانيس تم بناؤه في جزيرة

A: النخلة B: المرجان C: العالم D: لا شيء مما ذكر

10 : مجموعة جزر العالم تتألف من جزيرة

200 :D

300 :C

150 :B

500 :A

11- من أبرز نقاط الأهمية للجزر الصناعية :

D : جميع ما ذكر

C : مورد اقتصادي

B : اتساع مساحة الشواطئ

A : جذب السياح

12- تضم أكبر عدد من الجزر في الدولة .

D : لا شئ مما ذكر

C : دبي

B : أبوظبي

A : الشارقة

إجابة أسئلة الدرس الثاني : (إنجازات اقتصادية في بلادي)



ثانيا : المشروعات السياحية (الجزر الصناعية)

رمز الإجابة	رقم السؤال	رمز الإجابة	رقم السؤال	رمز الإجابة	رقم السؤال	رمز الإجابة	رقم السؤال
B	4	D	3	B	2	D	1
C	8	B	7	D	6	D	5
C	12	D	11	C	10	A	9

3- الزراعة المائية

السؤال رقم 1 : ضع دائرة حول رمز الإجابة الصحيحة فيما يلي :

1- نوع من أنواع الزراعة يعتمد على نمو النباتات في المحاليل المغذية يسمى الزراعة :

A: الطبيعية B: الرملية C: الكيماوية D: المائية

2- بدأت الزراعة المائية في دولة الإمارات قبلعاما

A: 20 B: 25 C: 30 D: لا شيء مما ذكر

3- الجزء العلوي من القشرة الأرضية مكون من خليط عضوي وماء وهواء يسمى :

A: الرمال B: الصخور C: التربة الزراعية D: القشرة الأرضية

4- تتغلب الزراعة المائية على :

A: شح المياه B: فقر التربة C: نقص المساحة D: جميع ما ذكر

5- مزايا الزراعة المائية أنها تقلل من :

A: استنزاف المياه B: استهلاك الأسمدة C: زراعة طوال العام D: جميع ما ذكر

6- تقدم الإمارات الدعم لمن يستخدم الزراعة المائية بتقديم :

A: دعم مالي B: الاستشارات C: التدريب D: جميع ما ذكر

7- ظهرت الزراعة المائية في القرن لكنها اشتهرت حديثا .

A: 18 B: 15 C: 19 D: 20

8- الزراعة المائية تقلص مخاطر

A: الأمن الصحي B: الأمن الغذائي C: الأمن النفسي D: الأمن الاقتصادي

9 : من المحاصيل التي تنمو بطريقة الزراعة المائية :

A: الغاف B: النخيل C: الخيار D: جميع ما ذكر

10 : يمكن بالزراعية المائية أن تتم

A: داخل البيوت B: سطح المنزل C: أنابيب معلقة D : جميع ما ذكر

11- يستخدم نظام الري في ري الزراعة المائية .

A: المضخات B: التنقيط C: الخراطيم D: جميع ما ذكر

12- حققت الإمارات مركزا متقدما في الابتكار العالمي من بين دولة .

A : 50 B : 45 C : 41 D : لا شئ مما ذكر

إجابة أسئلة الدرس الثاني : (إنجازات اقتصادية في بلادي)



ثالثا : الزراعة المائية

رمز الإجابة	رقم السؤال	رمز الإجابة	رقم السؤال	رمز الإجابة	رقم السؤال	رمز الإجابة	رقم السؤال
D	4	C	3	B	2	D	1
B	8	A	7	D	6	D	5
C	12	B	11	D	10	C	9

الوحدة الأولى : النمو الاقتصادي والابتكار

الدرس الثالث : (مشاريع رائدة في بلادي)

البيان التفصيلي للاختبار (الوحدة 1)

رقم السؤال	نوع السؤال	الفقرات	الدرس	الفرع
		14 - 31	الأول	الميزانية الشخصية
		32 - 49	الثاني	إنجازات اقتصادية في بلادي
1	اختيار من متعدد	50 - 67	الثالث	مشاريع رائدة في بلادي



1- السدود

السؤال رقم 1 : ضع دائرة حول رمز الإجابة الصحيحة فيما يلي :

1- إنشاء هندسي يقام فوق واد منخفض أو نهر يسمى :

A: معبر B: نفق C: جسر D: سد

2- تقام السدود بهدف :

A: منظر جمالي B: حجز المياه C: تقليل خطر الفيضان D: لا شيء مما ذكر

3- تعزز السدود الموارد

A: المائية B: الغذائية C: المالية D: السياحية

4- بلغ عدد السدود في الإمارات حتى عام 2015 م

A: 150 B: 160 C: 130 D: 140

5- تتوزع السدود في الإمارات ما بين المناطق

A: الشرقية B: الشمالية الشرقية C: الشمالية D: لا شيء مما ذكر

6- يقع سد وادي الببح في :

A: رأس الخيمة B: الفجيرة C: العين D: حتا

7- أنشئ سد وادي حام في إمارة الفجيرة عام

A: 1980 B: 1982 C: 1971 D: 1975

8- تم بناء سد الشويب في بعدما غرقت المنطقة بمياه الأمطار والأودية .

A: دبي B: أبوظبي C: العين D: الشارقة

9 : (مبروك عليكم الرحمة) عبارة من صنع الإمارات تقال

A: قبل سقوط المطر B: بعد سقوط المطر C: عند هبوب الرياح D: جميع ما ذكر

10 : تعمل السدود على تهدئة

A: السيول B: الأعاصير C: الفيضانات D : جميع ما ذكر

11- يتبخر الماء إلى أعلى بفعل ارتفاع درجات الحرارة على شكل

A: ذرات ماء B: بخار C: ضباب D: جميع ما ذكر

12- مثل إماراتي شائع : (الغيم والرّب رحوم) .

A: يدوم B: يدور C: يحوم D: لا شئ مما ذكر

إجابة أسئلة الدرس الثالث : (مشاريع رائدة في بلادي)



أولاً : السدود

رقم السؤال	رمز الإجابة	رقم السؤال	رمز الإجابة	رقم السؤال	رمز الإجابة	رقم السؤال	رمز الإجابة
1	D	2	B	3	A	4	C
5	B	6	A	7	B	8	C
9	B	10	A	11	B	12	C

2- الأنفاق

السؤال رقم 1 : ضع دائرة حول رمز الإجابة الصحيحة فيما يلي :

1- طريق تحت سطح الأرض أنشئ بهدف الربط بين منطقتين يسمى :			
A: النفق	B: المعبر	C: الطريق	D: الممر
2- إنشاء الأنفاق يعتبر من المشاريع الهندسية التي تعكس مظهرها			
A: جماليا	B: حضاريا	C: تنظيميا	D: جميع ما ذكر
3- قال سمو الشيخ محمد بن راشد : (إذا كانت العربية هي السياسة والحصان هو الاقتصاد يجب وضع الحصان			
A: جانب العربية	B: أمام العربية	C: خلف العربية	D: بلا حصان
4- المخلفات السائلة المصروفة من المجمعات السكنية والمباني التجارية تسمى :			
A: مياه التنقية	B: مياه المجاري	C: مياه الصرف الصحي	D: جميع ما ذكر
5- صممت أنفاق دبي بطريقة مستوحاة من			
A: الموروث الشعبي	B: تصاميم أوروبية	C: تصميم حضاري	D: لا شئ مما ذكر
6- تستخدم الأنفاق في الإمارات في أغراض :			
A: النقل البري	B: السلامة والتنظيم	C: حركة المشاة	D: كل ما ذكر
7- نفق الشندغة تم إنشاؤه عام 1975 م في إمارة			
A: دبي	B: أبو ظبي	C: الشارقة	D: عجمان
8- من أطول الأنفاق وأعرضها في دبي نفق			
A: الخوانيج	B: المطار	C: مكتوم	D: لا شئ مما ذكر
9 : إذا أخطأت بحق أحد فإنيمنه			
A: أخاصمه	B: أشتمه	C: أعتذر	D: جميع ما ذكر

10 : الأنفاق تساهم في حل المشكلات العامة مثل :

A: مياه الصرف B: أنابيب الغاز C: شبكات الكهرباء D : جميع ما ذكر

11- من الأقوال التراثية : (دربك درب) .

A: العافية B: السهالة C: الخير D: جميع ما ذكر

12- تعتمد مشاريع الإمارات الرائدة على :

A: الابتكار B: الإبداع C: التنوع D: جميع ما ذكر

إجابة أسئلة الدرس الثالث : (مشاريع رائدة في بلادي)


www.almanahj.com
أنت تسأل و نحن نجيب

ثانيا : الأنفاق

رقم السؤال	رمز الإجابة	رقم السؤال	رمز الإجابة	رقم السؤال	رمز الإجابة	رقم السؤال	رمز الإجابة
1	A	2	D	3	B	4	C
5	A	6	D	7	A	8	B
9	C	10	D	11	B	12	D

3- النقل والمواصلات

السؤال رقم 1 : ضع دائرة حول رمز الإجابة الصحيحة فيما يلي :

1- وسائل النقل والمواصلات تتنوع ما بين :			
A: برية	B: بحرية	C: جوية	D: جميع ما ذكر
2- الوسائط التي ابتكرها الإنسان وسخرها من أجل خدمة التنقل تسمى وسائل :			
A: نقل	B: تواصل	C: تعارف	D: لا شيء مما ذكر
3- وسائل النقل تستخدم في :			
A: نقل الأشخاص	B: نقل السلع	C: الاستخدام الشخصي	D: جميع ما ذكر
4- تتلخص أهمية النقل في :			
A: سهولة التواصل	B: سهولة نقل السلع	C: السياحة	D: جميع ما ذكر
5- المترو الذي دخل موسوعة جينيس هو مترو..... في الإمارات .			
A: أبوظبي	B: دبي	C: مترو الشارقة	D: مترو عجمان
6- مترو دبي يعد أطول شبكة مترو عالمي آلي بالكامل يمتد لمسافة....كيلومتر مربع.			
A: 80	B: 60	C: 75	D: 70
7- السير مشيا على الأقدام يحافظ على :			
A: رشاقة الجسم	B: خفض الوزن	C: لياقة العضلات	D: جميع ما ذكر
8- يستخدم قطار دبي الطاقة وتعد الحركة من أشكال الطاقة .			
A: الشمسية	B: الكهربائية	C: المائية	D: لا شيء مما ذكر
9 : وضعك لحزام الأمان ضمان لـ.....			
A: يقيد حركتك	B: يعيق حركتك	C: سلامتك	D: جميع ما ذكر

10 : وسائل النقل العام تتميز بأنها :

A: قليلة التكاليف B: تقلل الازدحام C: تقلل التلوث D : جميع ما ذكر

11- تم افتتاح مترو دبي عام

A: 2008 B: 2009 C: 2007 D: 2010

12- بعد قيام الاتحاد لم يكن في الإمارات سوى مطارات .

A: خمس B: سبع C: ثلاث D: لا شئ مما ذكر

إجابة أسئلة الدرس الثالث : (مشاريع رائدة في بلادي)



ثالثا : النقل والمواصلات

رقم السؤال	رمز الإجابة	رقم السؤال	رمز الإجابة	رقم السؤال	رمز الإجابة	رقم السؤال	رمز الإجابة
1	D	2	A	3	D	4	D
5	D	6	C	7	D	8	B
9	C	10	D	11	B	12	C



دائرة التعليم والمعرفة
DEPARTMENT OF EDUCATION
AND KNOWLEDGE



وزارة التربية والتعليم
MINISTRY OF EDUCATION

مراجعة عامة في مادة الدراسات الاجتماعية والتربية الوطنية للعام الدراسي 2017 - 2018 م



www.almanahj.com

الصف 4
الوحدة 2

مدرسة الصدارة



غرس
الإمارات
بيد

أم الإمارات

الفصل
3

مدير المدرسة
فريد ناصر الواحدي

المذكرة لا تغني عن الكتاب المدرسي
أ. سمية عبد الله / أ. جاسم محمد

اسم الطالب :

الشعبة :


جميع الحقوق محفوظة لمدرسة الصدارة

الوحدة الثانية : العراقة والإبداع

الدرس الأول : (إبداعات جدي)

البيان التفصيلي للاختبار (الوحدة 2)

رقم السؤال	نوع السؤال	الفقرات	الدرس	الفرع
1	اختبار من متعدد	70 - 87	الأول	إبداعات جدي
		88 - 105	الثاني	علم الطب



1- إبداعات الأجداد في الحرف

السؤال رقم 1 : ضع دائرة حول رمز الإجابة الصحيحة فيما يلي :

1- امتلك أجدادنا عقولا تمكنوا بها من التغلب على صعوبات الحياة .

A: مفكرة B: مبدعة C: مبتكرة D: جميع ما ذكر

2- كان أهل الإمارات وما زالوا الأكثر براعة في تربية وترويض

A: الصقر B: اليمامة C: الهدد D: لا شيء مما ذكر

3-العوامل التي ساعدت الأجداد على الإبداع هي :

A: الموقع الجغرافي B: المواد الخام C: الحاجة الماسة D: جميع ما ذكر

4- من الحرف التي مارسها أجدادي حرفة :

A: الصيد والغوص B: الرعي C: الزراعة D: جميع ما ذكر

5- من المواد الخام التي توافرت لأجدادي :

A: السعف والطين B: الإسمنت C: الحديد D: كل ما ذكر

6- أكثر الحرف التي برز فيها أجدادي :

A: التعدين B: الصيد والغوص C: النجارة D: لا شيء مما ذكر

7- أغلب البيوت بناها أجدادي من مواد

A: الحجارة B: الطابوق C: الطين والسهف D: الإسمنت

8- أدوات استخدمها أجدادي يوميا منها

A: الخيمة B: قربة الماء C: دلة القهوة D: جميع ما ذكر

9 : أحمد المزروعي اخترع جهاز روبوت لصيد

A: الحمام B: الطيور C: الصقور D: جميع ما ذكر

10 - قربة البدوي كان يستخدمها للماء وأيضا.....

A: للزيت B: للعصير C: للحليب D : جميع ما ذكر

11- استخدم أجدادي خشب في صناعة السفن

A: البلوط B: الساج C: الغاف D: السمر

12- استخدم أجدادي الشحوم للسفن واستخرجوها من شحم

A: البقر B: الجمل C: الحوت D: لا شئ مما ذكر

إجابة أسئلة الدرس الأول : (إبداعات جدي)



أولا : إبداعات الأجداد في الحرف

رقم السؤال	رمز الإجابة	رقم السؤال	رمز الإجابة	رقم السؤال	رمز الإجابة	رقم السؤال	رمز الإجابة
1	D	2	A	3	D	4	D
5	A	6	B	7	C	8	D
9	C	10	C	11	B	12	C

2- إبداعات الأجداد في الأدوات

السؤال رقم 1 : ضع دائرة حول رمز الإجابة الصحيحة فيما يلي :

1- من الأدوات المنزلية التي استخدمها أجدادي :

A: الحب والجفير B: السرود C: القدر D: جميع ما ذكر

2- استخدم أجدادي الحب في :

A: حفظ الماء B: تبريد الماء C: لنقل الماء D: جميع ما ذكر

3- مفرش استخدمه أجدادي لوضع الطعام عليه :

A: الغطاء B: السرود C: المهف D: لا شيء مما ذكر

4- البرمة مصطلح باللغة العربية يعني :

A: تبريد الماء B: تسخين الماء C: حفظ الماء D: جميع ما ذكر

5- القدر استخدمته جدتي في :

A: التبريد B: التسخين C: الطهي D: لا شيء مما ذكر

6- الوعاء المستخدم لوضع التمر والرطب يسمى

A: الجفير B: المكب C: الهاون D: لا شيء مما ذكر

7- من الأدوات التي استخدمتها المرأة للزينة قديما :

A: الإثمد B: الحناء C: البرقع D: كل ما ذكر

8- البرقع مصنوع من قماش يتم استيراده من :

A: باكستان B: الهند C: الصين D: المغرب

9 : أقابل أصدقائي حين أستقبلهم بـ

A: العصبية B: الغضب C: البشاشة D: جميع ما ذكر

10 : يحضر البثيث من مواد هي :

A: السمن B: الطحين C: التمر D : جميع ما ذكر

11- استطاع أجدادي التغلب على الشدائد بـ

A: عضلاتهم B: عقولهم C: العصبية D: الصراخ

12- استخدمت المرأة الحناء للزينة ووضعتة على

A: الشعر B: القدمين C: اليدين D: جميع ما ذكر

إجابة أسئلة الدرس الأول : (إبداعات جدي)



ثانيا : إبداعات الأجداد في الأدوات

رقم السؤال	رمز الإجابة	رقم السؤال	رمز الإجابة	رقم السؤال	رمز الإجابة	رقم السؤال	رمز الإجابة
1	D	2	D	3	B	4	A
5	C	6	A	7	A	8	B
9	C	10	D	11	B	12	D

3- شريعة فلج المعلا

السؤال رقم 1 : ضع دائرة حول رمز الإجابة الصحيحة فيما يلي :

1- الشريعة لغويا تعني :			
A: مورد الماء	B: مورد الإبل	C: مورد الغزلان	D: مورد البدو
2- الشريعة هي قناة يظهر الماء فيها منالأرض			
A: سطح	B: باطن	C: من الوادي	D: لا شيء مما ذكر
3- فلج المعلا تقع في إمارة			
A: الشارقة	B: الفجيرة	C: أم القيوين	D: رأس الخيمة
4- سميت فلج المعلا بهذا الاسم نسبة إلى كثرة فيها .			
A: غير مدروسة	B: لا تنظم لها محدد	C: محددة	D: جميع ما ذكر
5- كانت الأسواق تنعقد عن :			
A: القنوات	B: الأفلاج	C: الأودية	D: السدود
6- عادة تجر المياه في قنوات إلى			
A: الخيم	B: الواحات	C: البيوت	D: مزارع النخيل
7- بناء الشريعة جعل من فلج المعلا			
A: واحة خضراء	B: جميلة خلابة	C: مكانا سياحيا	D: كل ما ذكر
8- الأسواق قديما انعقادها يعد انعقادا :			
A: سنويا	B: فصلية	C: موسمية	D: نصف سنوية
9 : عرف أهل فلج المعلا بأنهم أهل			
A: كرم	B: وود	C: واحترام	D: جميع ما ذكر

10 : مميزات الشريعة :

A: مياه عذبة B: الماء طوال العام C: الماء مندفع بقوة D : جميع ما ذكر

11- أهمية الشريعة للمنطقة أنها وفرت :

A: مياه للسكان B: مياه للمزارع C: مياه للحيوانات D: جميع ما ذكر

12- بنى سكان المنطقة بالقرب من الشريعة

A: حمامات B: حدائق C: أسواق D: لا شئ مما ذكر

إجابة أسئلة الدرس الأول : (إبداعات جدي)



ثالثا : شريعة فلج المعلا


رقم السؤال	رمز الإجابة	رقم السؤال	رمز الإجابة	رقم السؤال	رمز الإجابة	رقم السؤال	رمز الإجابة
1	A	2	B	3	C	4	D
5	C	6	D	7	D	8	B
9	D	10	D	11	D	12	A

الوحدة الثانية : العراقة والإبداع

الدرس الثاني : (علم الطب)

البيان التفصيلي للاختبار (الوحدة 2)

رقم السؤال	نوع السؤال	الفقرات	الدرس	الفرع
1	اختبار من متعدد	70 - 87	الأول	إبداعات جدي
		88 - 105	الثاني	علم الطب



1- علم الطب عند العرب قديما

السؤال رقم 1 : ضع دائرة حول رمز الإجابة الصحيحة فيما يلي :

1- خلق الله - تعالى - الإنسان.....			
A: للعبادة	B: للتفكر والعلم	C: ليعمر الأرض	D: جميع ما ذكر
2- ديننا الإسلامي حث على			
A: طلب العلم	B: السعي	C: العمل	D: جميع ما ذكر
3- العوامل التي ساهمت في تفوق علماء المسلمين هي :			
A: الصبر	B: المثابرة	C: اهتمام الحكام وحرية الرأي	D: كل ما ذكر
4- أساس نهضة أوروبا هي العلوم التي أخذوها من			
A: اليونان	B: المسلمين	C: الأتراك	D: جميع ما ذكر
5- إذا مرض جاري فواجب عليومن صنع بلادي أن			
A: أزوره	B: أتصل فقط	C: لا أفكر فيه	D: لا شئ مما ذكر
6- ورث العلماء العرب القدامى			
A: الذهب	B: المال	C: الحكمة والخبرة	D: الأراضي
7- يستخدم العلماء المقياس السليزي لقياس			
A: درجة الحرارة	B: درجة البرودة	C: الوزن	D: لا شئ مما ذكر
8- علم يختص في دراسة الأمراض وأسبابها وعلاجها يسمى علم			
A: الفيزياء	B: الطب	C: الأحياء	D: لا شئ مما ذكر
9 : العلوم التي برع بها العلماء المسلمون منها :			
A: الفلك والرياضيات	B: الكيمياء والطب	C: الفيزياء	D: جميع ما ذكر

10 : من صفات الطبيب التي تؤهله ليمارس مهنته :

A: أخلاقه الحميدة B: حفظ الأسرار C: الاستماع للمريض D : جميع ما ذكر

11- أثبت العلماء المسلمون الحقائق بطريقة صحيحة .

A: علمية B: نظرية C: شفوية D: لا شئ مما ذكر

12- ابتكر العلماء المسلمون علوما جديدة لم تكن معروفة منها :

A: الرسم B: الكيمياء والفيزياء C: الفنون D: لا شئ مما ذكر

إجابة أسئلة الدرس الثاني : (علم الطب)



أولا : علم الطب عند العرب قديما

رقم السؤال	رمز الإجابة	رقم السؤال	رمز الإجابة	رقم السؤال	رمز الإجابة	رقم السؤال	رمز الإجابة
1	D	2	D	3	D	4	B
5	A	6	C	7	A	8	B
9	D	10	D	11	A	12	B

2- أبو بكر الرازي

السؤال رقم 1 : ضع دائرة حول رمز الإجابة الصحيحة فيما يلي :

1- يعد أبو بكر الرازي أبرز علماء المسلمين في :

A: الرياضيات B: الفيزياء C: الفلك D: الطب

2- ولد أبو بكر الرازي في مدينة (الري) في

A: فارس B: أفغانستان C: بخارى D: لا شيء مما ذكر

3- منذ صغر الرازي عرف عنه

A: الذكاء B: حبه للعلم C: قوة الذاكرة D: جميع ما ذكر

4- أحد العوامل التي ساهمت في تكوين شخصية الرازي

A: حبه للقراءة B: حبه للكتابة C: سرعة الفهم والحفظ D: جميع ما ذكر

5- من القيم التي تحلى بها الرازي :

A: بر الوالدين B: كريما عطوفا C: يعالج مجانا D: جميع ما ذكر

6- من إنجازات الرازي الخاصة به

A: ابتكر خيوط الجراحة B: التجريب بالحيوانات C: فرق بين الجدري والحصبة D: كل ذلك

7- نصح الرازي بالعلاج

A: الكيميائي B: بالغذاء والأعشاب C: بالكي D: بالحجامة

8- نبوغ الرازي أرشده لاختيار مكان لبناء

A: حديقة B: مستشفى C: مدرسة D: سوق

9: بنى الرازي المستشفى في

A: بغداد B: دمشق C: القاهرة D: لا شيء مما ذكر

10 : حين توفي الرازي كان عمره عاما .

70 : D

60 : C

55 : B

50 : A

11- عاش الرازي حياته لخدمة

D : جميع ما ذكر

C : البشرية

B : العلم

A : الإسلام

12- يستخدم في العلاج الشعبي كل من :

D : جميع ما ذكر

C : اللبان

B : المر

A : الكركم

إجابة أسئلة الدرس الثاني : (علم الطب)



ثانيا : أبو بكر الرازي

رمز الإجابة	رقم السؤال	رمز الإجابة	رقم السؤال	رمز الإجابة	رقم السؤال	رمز الإجابة	رقم السؤال
D	4	D	3	A	2	D	1
B	8	B	7	D	6	D	5
D	12	D	11	C	10	A	9

3- علم الطب في دولة الإمارات العربية المتحدة

السؤال رقم 1 : ضع دائرة حول رمز الإجابة الصحيحة فيما يلي :

1- حظي علم الطب في دولة الإمارات واهتمام من قاداتها وظهر ذلك في :

A: بناء الجامعات B: كليات الطب C: المختبرات D: جميع ما ذكر

2- من الجامعات التي تقوم بتدريس الطب في الدولة جامعة

A: الإمارات B: كلية دبي الطبية C: جامعة الشارقة D: جميع ما ذكر

3- الطبيب علي راشد الشامسي هو طبيب إماراتي .

A: أول B: خامس C: ثاني D: لا شيء مما ذكر

4- علي راشد الشامسي طبيب إماراتي نال الجائزة الأولى بأمراض

A: الرئة B: القلب والقسطرة C: الكبد D: جميع ما ذكر

5- جائزة الطبيب الإماراتي علي راشد الشامسي حصل عليها في

A: لندن B: ميونخ C: باريس D: روما

6- جامعة الإمارات العربية المتحدة مقرها الرئيسي في

A: عجمان B: أبوظبي C: دبي D: العين

7- أول بادرة طبية لأطباء إماراتيون كانت

A: عيادة صحراوية B: مختبر متحرك C: مستشفى متحرك للقلب D: لا شيء مما ذكر

8- صحة الجسم في، وصحة القلب في قلة الذنوب .

A: قلة الطعام B: قلة الكلام C: قلة الحركة D: لا شيء مما ذكر

9 : لقلب الإنسان (.....) حجات .

A: 3 B: 4 C: 5 D: 2

10: للتشجيع على علم الطب تم طرح مادة علمية للعلوم الصحية على طلبة

A: الحلقة 1 B: الحلقة 2 C: الثانوية D: جميع ما ذكر

11- ساهمت دولتي في دعم طلاب العلم عن طريق

A: دعم مالي B: البعثات للخارج C: توفير أجهزة D: جميع ما ذكر

12- أطلق سمو الشيخ محمد بن راشد مشروع تحدي القراءة ويعتبر

A: أكبر مشروع قرائي B: ثقافي C: تحدي عالمي D: جميع ما ذكر

إجابة أسئلة الدرس الثاني : (علم الطب)

www.almanahj.com
أنت تسأل و نحن نجيب

ثالثاً : علم الطب في دولة الإمارات العربية المتحدة

رمز الإجابة	رقم السؤال	رمز الإجابة	رقم السؤال	رمز الإجابة	رقم السؤال	رمز الإجابة	رقم السؤال
B	4	A	3	A	2	D	1
A	8	C	7	D	6	C	5
D	12	D	11	C	10	B	9

تم بحمد الله

نتمنى لكم التوفيق والنجاح

www.almanahj.com