



YEAR OF
ZAYED

عدد الأوراق
17

تدريب

الاسم : الصف الخامس

المحصلة

التاريخ : 4/11 /2018

60


تعليق المعلم على النتائج

متميز	جيد	مقبول	اجناز	لم يجناز

المعلم عم حسن إبراهيم عطا الله
مادة الدراسات الاجتماعية



الدراسات الاجتماعية



ALhayer



1

النشاط 1: تسارعت الدول الاستعمارية للسيطرة على دول

الخليج

C

جنوب اسيا

B

العالم

A

النشاط 2: أول من وصل للمنطقة هو الاستعمار

البريطاني

C

البرتغالي

B

الهولندي

A

النشاط 3: الهدف من قدومهم إلى المنطقة هو احتكار

الصناعة

C

التجارة

B

الزراعة في المنطقة

A

النشاط 4: أكمل الجمل التالية

- & - كان الهدف السيطرة على سواحل و..... و.....
- & - شجعهم على ذلك
- & - استولى البوكيرك عام على جزيرة.....
- & - تحول اهتمام البوكيرك إلى التي تسيطر على مدخل

النشاط 5: سيطر البرتغاليون على موانئ ومدن تجارية مثل

دمشق والرباط

C

جلفار و خورفكان

B

القاهرة وعمان

A

النشاط 6: لماذا تمت السيطرة على هذه المناطق لانها تمتاز بـ

الازدهار

C

التخلف

B

الازدهار والازدهام

A



النشاط 7: جلفار هو الاسم القديم كان يطلق على إمارة

عجمان

C

الشارقة

B

رأس الخيمة

A

النشاط 8: هو خور على هيئة فكين بين (جبلين) هذا يشير إلى

خور فكان

C

خور الشارقة

B

خور دبي

A

النشاط 9: بعد محاولة الاحتلال السيطرة على المنطقة كان موقف أهل المنطقة

مستسلم

C

مقاوم

B

متخاذل

A

النشاط 10: أكمل الجمل التالية

- & - العوامل التي ساعدت على دحر المحتل
- & - القوة التي برزن هي قوةشكالت تحدي خطير للمحتل
- & - من الشخصيات التي برزت في المنطقة عام 1820 الشيخ
- والذي لقب بـ..... جد الشيخ حاكم

النشاط 11: قوة القواسم كانت قوة

برية

C

بحرية

B

جوية

A

النشاط 12: معاهدة الحماية على المنطقة كانت عام

1720

C

1920

B

1820

A



النشاط 13: كان تاريخ الحملة الأولى البريطانية على رأس الخيمة عام

1819

C

1809

B

1805

A

النشاط 14: من أسباب الحملة الأولى

عاود القواسم النشاط البحري

C

مهاجمة القواسم

B

حماية العرب

A

النشاط 15: هدف الحملة الثانية كان

توقيع معاهدة حماية

C

تدمير القوة البحرية

B

فرض السيطرة الاستعمارية

A

النشاط 16: أكمل الجمل التالية

- & - أعلنت بريطانيا عام انها سوف تنسحب من المنطقة عام
 & - سارع قائدنا المغفور له الشيخ بهمة عالية نحو
 & - أهم حدث تاريخي في المنطقة هو
 & - التفكير في الوحدة هو عبارة عن التفكير في

النشاط 17: وقع القواسم معاهدة تعهدوا فيها احترام السفن التي تحمل الراية

الهولندية

C

البرتغالية

B

البريطانية

A

النشاط 18: من نتائج الحملة الثانية الحاق ضربة قاسمة بالقواسم

تدمير

C

فشل

B

نجاح

A



قارن بين الحملات الثلاثة من حيث (الأسباب والأهداف والنتائج)

النتائج	الأهداف	الأسباب	رقم الحملة
.....	الأولى
.....	التاريخ
.....	
.....	
.....	
.....	
.....	الثانية
.....	التاريخ
.....	
.....	
.....	
.....	
.....	الثالثة
.....	التاريخ
.....	
.....	
.....	
.....	

بعد قراءة النص التالي أجب عن الأسئلة التالية :

تحتوي البيئة الإماراتية على النباتات الصحراوية المعمرة كأشجار الغاف والسدر والسمر، وبما أن مواسم سقوط الأمطار متذبذبة في كمياتها ومرتبطة بفصل الشتاء فزراها مكسوة بالثلال الرملية الذهبية من شمس الصيف القوية وبعض من بيوت الشعر البدوية المتفرقة في الأماكن الصحراوية، وهنا يختلف الحال عن المناطق الساحلية حيث بيوت البراجيل القريبة من الساحل المصنوعة من الطين والتي صُممت من أجل التغلب على حرارة الجو بارتفاع البراجيل فيها

• النباتات المعمرة

• تسود في الإمارات البيئة

• تسقط الأمطار في فصل

• الصيف في الإمارات

• توجد البراجيل في البيئة

هدفها

النشاط الأول : طبيعة العلاقة بين محتويات الصورة التالية



النشاط الثاني : ضلل رمز الإجابة الصحيحة :

فكر في قيام الاتحاد وتوحيد أركان الدولة ، هو صاحب السمو الشيخ
 محمد صقر زايد سعود

شارك الشيخ زايد رحمه الله في وضع بذور الوحدة هو الشيخ
 سعيد راشد خليفة محمد

كان تأسيس دولة الإمارات العربية في عام
 1971 1982 1981 1972

تل مرتفع من الرمال يقع بالصحراء هو
 الجبل الوادي العرقوب الهضبة

أول رئيس لدولة الإمارات العربية المتحدة هو الشيخ
 محمد راشد سعود زايد

إن رفع مستوى المواطن والدولة ككل هو رائدنا وفوق كل شيء،
 والدولة مثل الشجرة التي يجب أن تحظى بعناية مواطنيها وحرصهم
 على تنميتها، وكل مواطن عليه أن يحترم وطنه

من أقوال زايد
 رحمه الله

النشاط 22 عزيزي المجتهد استخرج من الكلمات الموجودة في الصندوق إجابة الأسئلة التالية ؟ من خلال اختيار الإجابة الصحيحة فيما يلي

ع	ز	ا	ل	ا	ي
ر	د	و	ا	يد	ب
ق	ب	ل	ن	ي	د
و	ي	ر	ا	ا	شد
ب	ا	ل	ث	1971	ة
ا	ل	س	د	ي	ر

الخطوة الأولى في قيام الاتحاد :
 دبي الأول دبي الثاني
 السديرة إعلان الاتحاد

الخطوة الثانية في قيام الاتحاد :
 دبي الأول دبي الثاني
 السديرة إعلان الاتحاد

الخطوة الرابعة في قيام الاتحاد :
 دبي الأول دبي الثاني
 السديرة إعلان الاتحاد

الخطوة الثالثة في قيام الاتحاد :
 دبي الأول دبي الثاني
 السديرة إعلان الاتحاد

أول نائب لرئيس للاتحاد :
 زايد راشد
 محمد صقر

أول رئيس للاتحاد :
 زايد راشد
 محمد صقر

تتكون دولة الإمارات من إمارات

سبع عشرة
 خمس تسع

.....-.....-2018m

.....-.....-1439h

لا بد من الحفاظ على تراثنا؛ لأنه الأصل والجذور، وعلينا أن نتمسك بأصولنا وجذورنا العميقة.

من أقوال زايد
رحمه الله

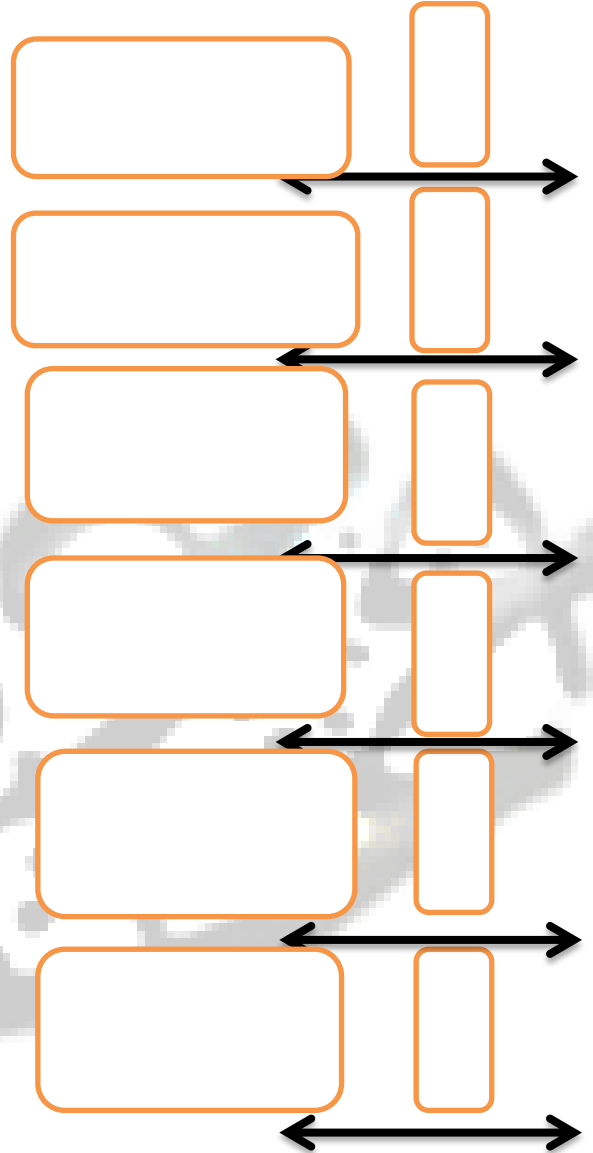
النشاط 23: (أ) صف البيئة المحلية في الإمارات من حيث

البيئة	المسكن	النبات	الشتاء والصيف	وجود البراجيل
الصحراوية				
الساحلية				

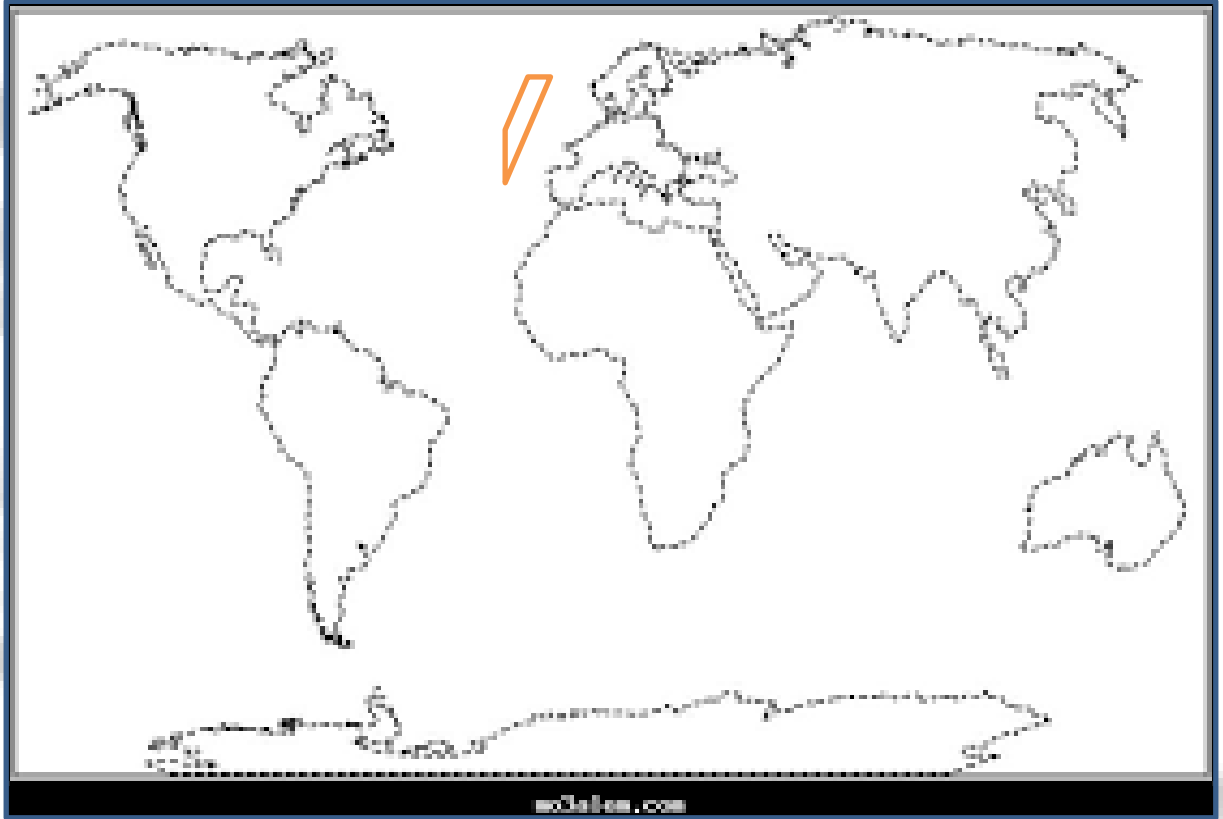
-10-2018m

-2-1440h


النشاط 23: (ب) استكمل الخط الزمني بما يناسب من الخطوة الأولى للاتحاد حتى تولي الشيخ خليفة الحكم؟ بالعودة للكتاب صفحة 63



عين على خريطة العالم كل من البرتغال وبريطانيا والخليج العربي



عين على خريطة الإمارات موقع أبوظبي ودبي و عرقوب السديرة



اقرأ النص التالي ثم أجب عن ما يأتي :

تعتبر منطقة الخليج العربي من المناطق ذات الموقع الاستراتيجي المهم ولقد زاد الاهتمام العالمي بمنطقة الخليج العربي بعد ظهور النفط بكميات اقتصادية مما جعل دول مجلس التعاون تركز الاهتمام على الاستقرار والأمن في المنطقة ولقد مرت فكرة قيام مجلس التعاون بعدة مراحل ، أولاً مقابلات بين القادة الخليجين عام 1980 ، و ثانياً جولة وزير خارجية الكويت في الدول الخليجية ، ثالثاً اجتماع وزراء خارجية دول مجلس التعاون ، رابعاً إعلان قيام مجلس التعاون الخليجي في 25 مايو . 1981

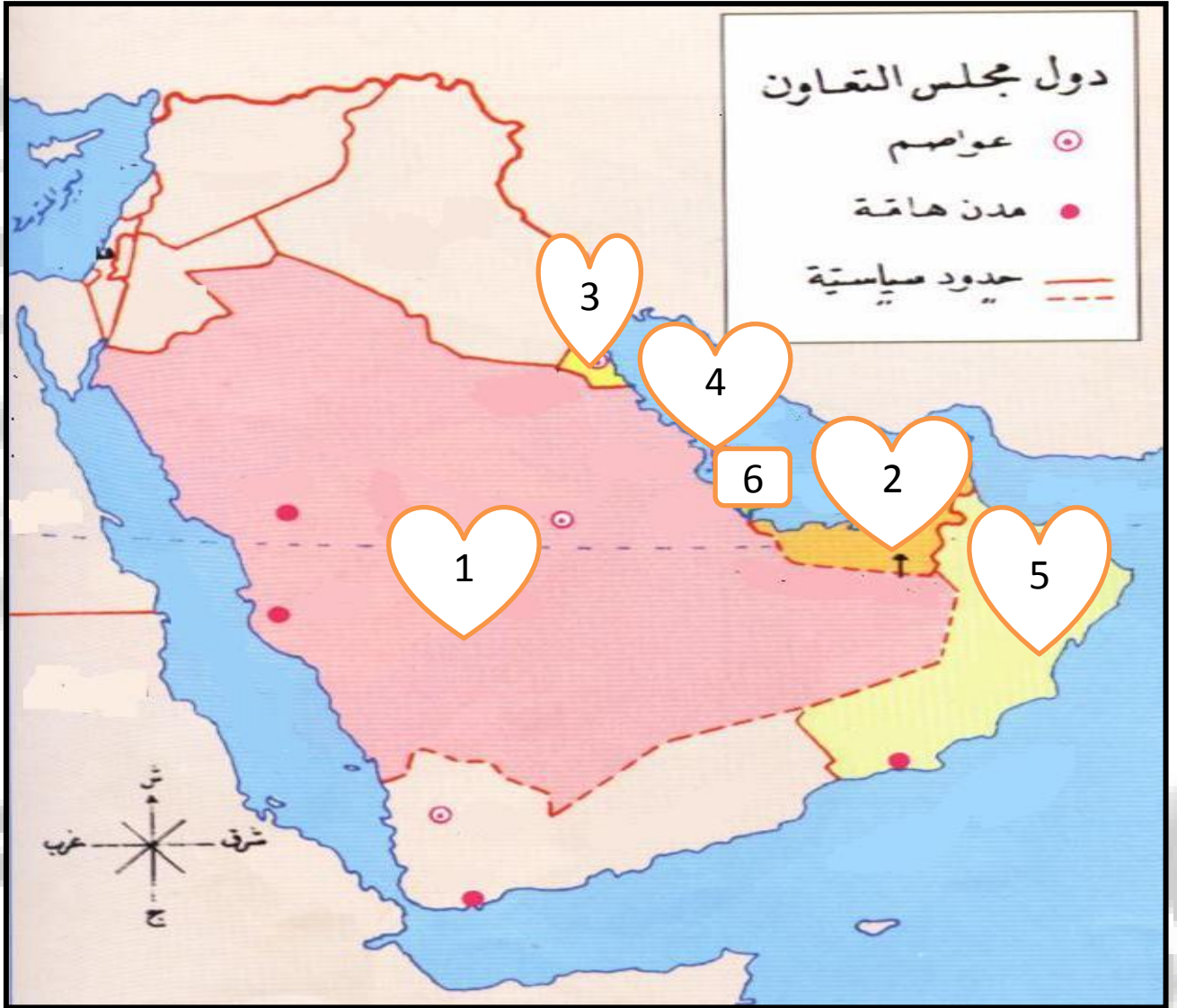
&متى زاد الاهتمام العالمي بمنطقة الخليج العربي ؟

&ماهي أول مراحل قيام مجلس التعاون الخليجي ؟

&متى أعلن عن قيام مجلس التعاون الخليجي ؟

&ما هي ثالث مرحلة في قيام مجلس التعاون الخليجي ؟

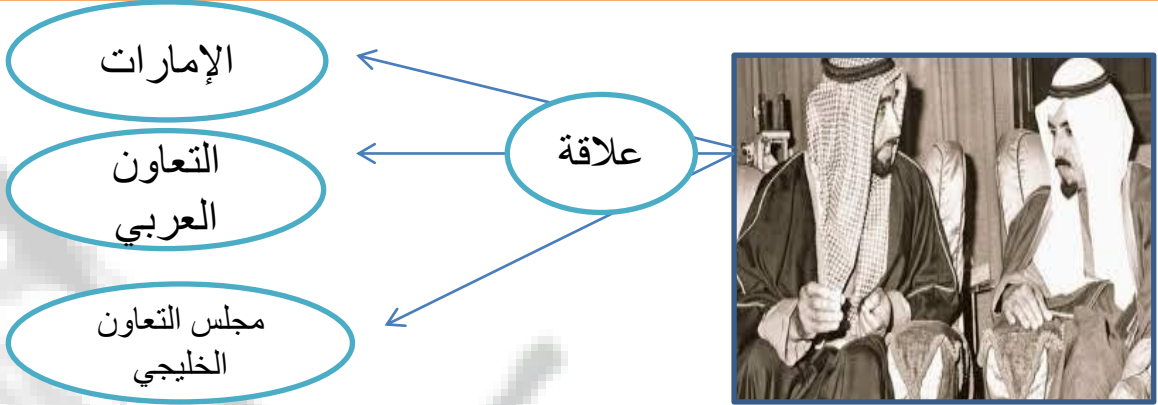
وضح ما تدل عليه الأرقام التالية وسجله على الخريطة :



6	5	4	3	2	1
---	---	---	---	---	---

الهدف العام : قيام الاتحاد (فكر وتطبيق)

النشاط الأول : طبيعة العلاقة بين محتويات الصورة التالية



النشاط الثاني : ضلل رمز الإجابة الصحيحة :

فكر في قيام مجلس التعاون الخليجي ، هو صاحب السمو الشيخ
 زايد وخالد زايد وجابر زايد جابر

أول اجتماع ثنائي بين زايد وجابر كان في أبوظبي عام
 1986 1976 1996 1980

كان تأسيس مجلس التعاون الخليجي في عام
 1971 1982 1981 1972

القمة الخامسة والعشرون لمجلس التعاون الخليجي عرفت بقمة
 خالد محمد زايد جابر

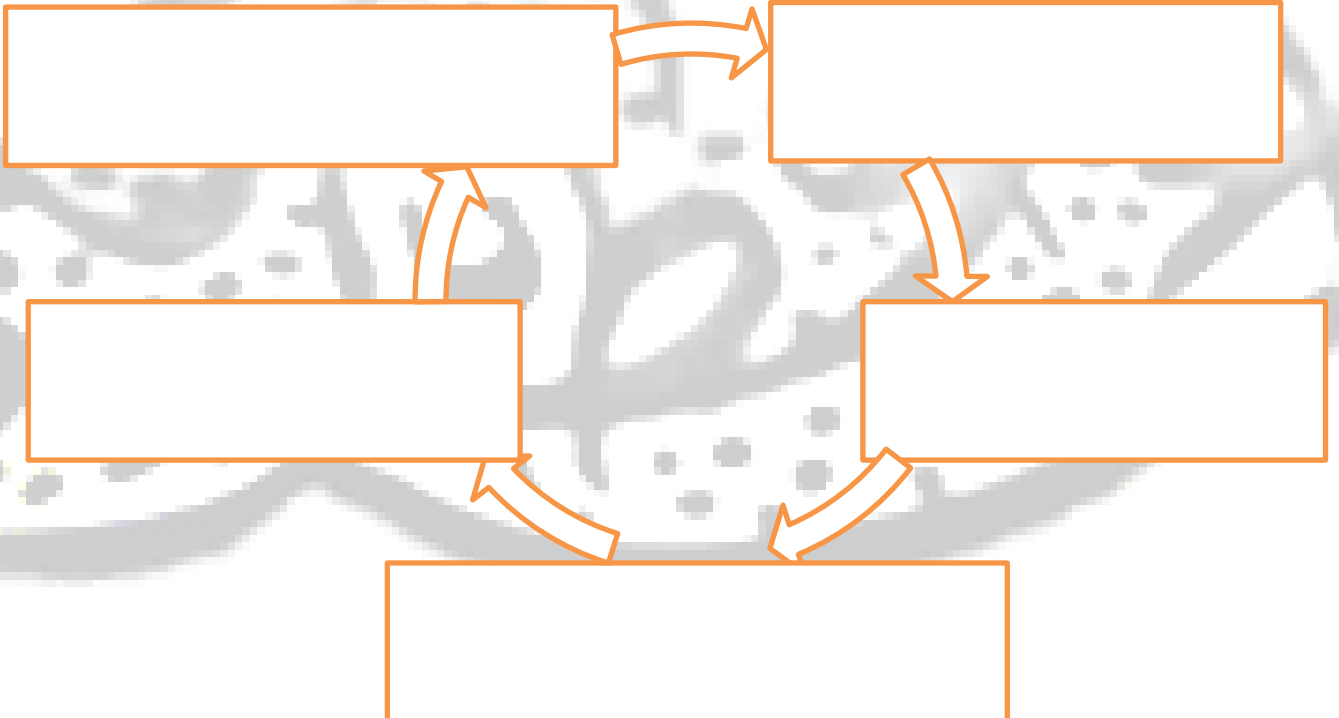
النشاط الثاني : ما هي روابط الوحدة بين دول المجلس :



اقرأ النص التالي ثم لخص إنجازات الشيخ زايد رحمه الله



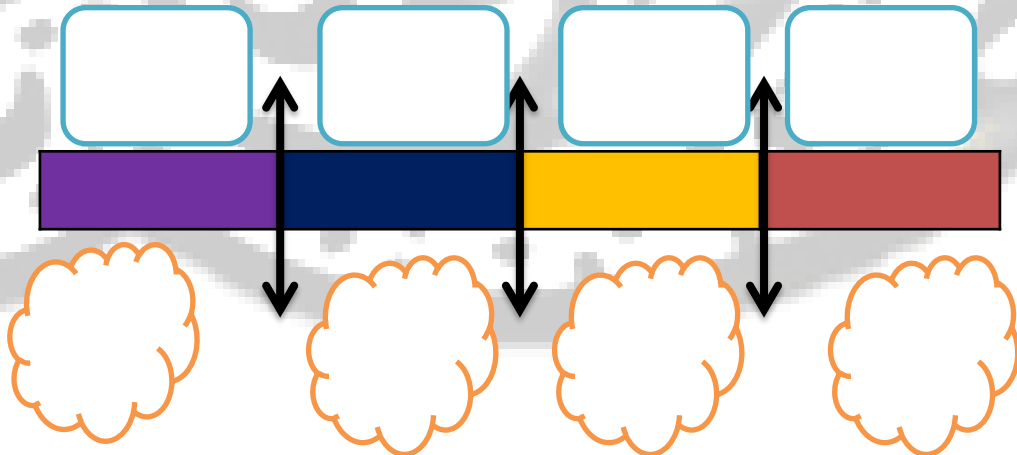
وقد نعى المجلس الأعلى لدول مجلس التعاون الخليجي في قَمَتِهِ الـ25 (قمة زايد) التي عُقدت في المنامة في 21 ديسمبر 2004م - المغفور له بإذن الله - الشيخ زايد بن سلطان آل نهيان - رحمه الله - معبراً عن عميق مشاعر الأسي والحزن، ومستذكراً رحلة حياته المليئة بالأعمال الجليلة والإنجازات الكبيرة، الحافلة بالعطاء الصادق والعمل المخلص الدؤوب لما فيه خير دولة الإمارات العربية المتحدة وتقدمها وازدهارها ورخاء شعبها، ودوره في تعزيز مسيرة مجلس التعاون لدول الخليج العربية وإسهامه الكبير في تأسيسه، وما قدمه من جهد كبير لخدمة قضايا الأمتين العربية والإسلامية وسلام المنطقة والعالم.



استكمل الخريطة الذهنية التالية التي تمثل خطوات قيام مجلس التعاون الخليجي

الخطوات

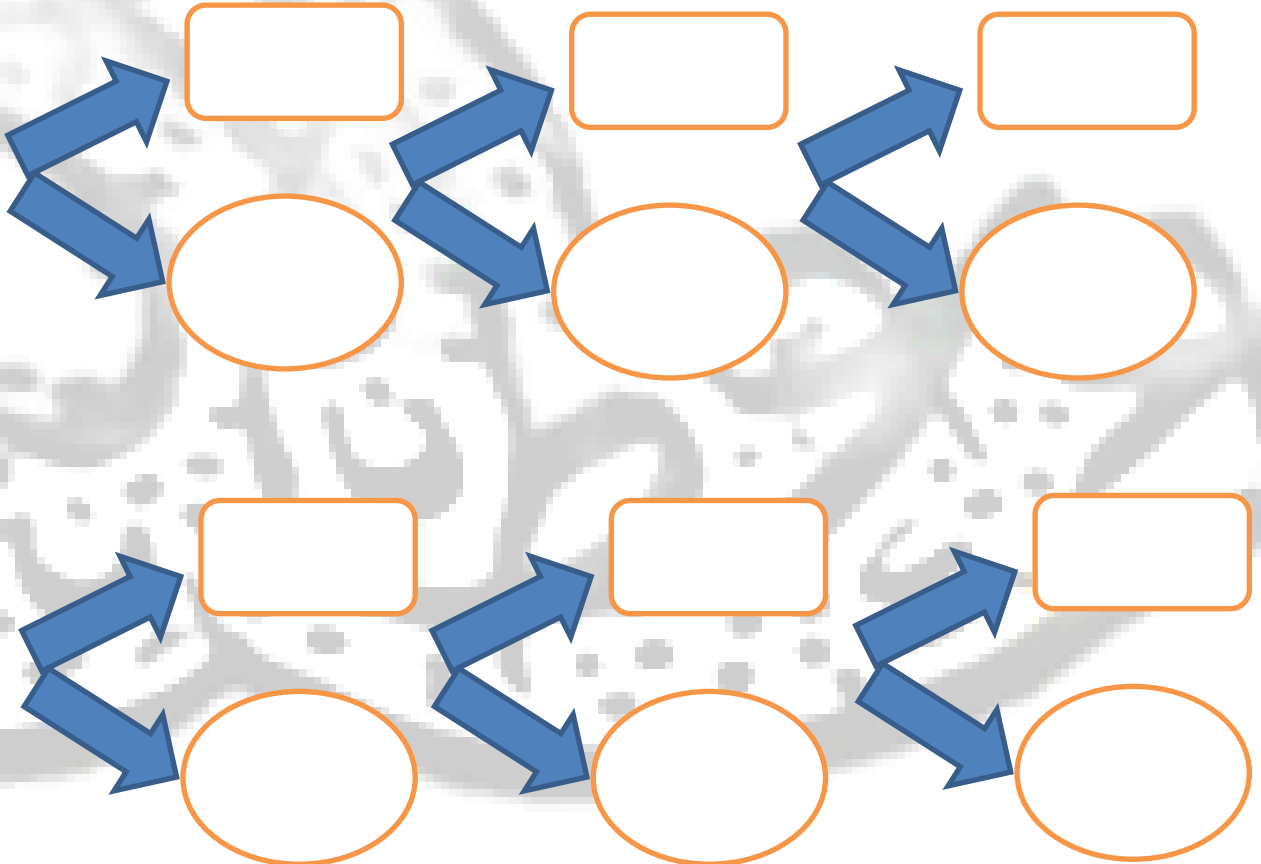
لديك مجموعة من الصور صمم خط زمني يمثل التسلسل الزمني لها « تصاعدي من اليمين » بالعودة للكتاب صفحة 68



ضع دائرة على الصورة التي تمثل شعار دول مجلس التعاون الخليجي



استكمل المخطط التالي الخاص بدول مجلس التعاون وقادة المجلس المربع القائد والدائرة الدولة



قارن بين اتحاد دولة الإمارات ومجلس التعاون الخليجي

دولة الإمارات	دول مجلس التعاون الخليجي	أوجه المقارنة
		عدد الأعضاء
		المؤسس
		تاريخ التأسيس
		الموقع
		الحاكم الحالي
		العمر
.....	الأهداف
.....	
.....	الروابط الوجدوية
.....	
.....	
.....	
.....	
		الخطوة الأولى في الاتحاد