

نشاط داعم الصف السادس : الوحدة الأولى.... الدرس / جمهورية كوريا الجنوبية

الاسم : الشعبة :

السؤال الأول

أولاً : ضع دائرة حول الإجابة الصحيحة التي تلى كل عبارة فيما يأتي:

١. تم احتلال شبه الجزيرة الكورية مدة خمسة وثلاثون عاماً من قبل

 - أ. روسيا.
 - ب. اليابان.
 - ج. الهند.

- ٢ - أطول أنهار جمهورية كوريا هو نهر.....

 - أ- ناكتونج .
 - ب- الفرات.
 - ج- يانجستي

- ٣- أكبر جزيرة تابعة لجمهورية كوريا الجنوبية هي جزيرة.....

 - أ. مدغشقر
 - ب - السعديات
 - ج- شي جو

- ٤- أكبر المدن سكاناً بكوريا الجنوبية

 - أ. سيؤول.
 - ب. بوسان .
 - ج- كوانج جو.

- ٥- يعد محصول المحصول الأول والأكثر أهمية بكوريا.

 - أ- القمح .
 - ب- الشعير .
 - ج- الأرز

- ٦- معظم السكان بكوريا الجنوبية يعيشون في المناطق

 - أ- الريفية .
 - ب- الحضرية .
 - ج- الجبلية.

- ٧- استطاعت كوريا الجنوبية تحقيق ما يسمى بـ

 - أ- المعجزة الفلكية.
 - ب- المعجزة الاقتصادية .
 - ج- المعجزة السياسية

ثانياً : وضع مايلي :

((أ)) اختيار موقع بركة لإقامة المفاعل النووي السلمي فيه :

..... **

..... **

..... **

((ب)) استخدام الطاقة النووية للأغراض السلمية.

.....

((ج)) رغم التقدم الصناعي الكوري إلا أن اقتصادها يواجه بعض المشكلات .

..... **

..... **

www.almanahj.com

..... **

..... **

((د)) وضح وجهة نظرك الشخصية حول استخدام الطاقة النووية للأغراض السلمية.

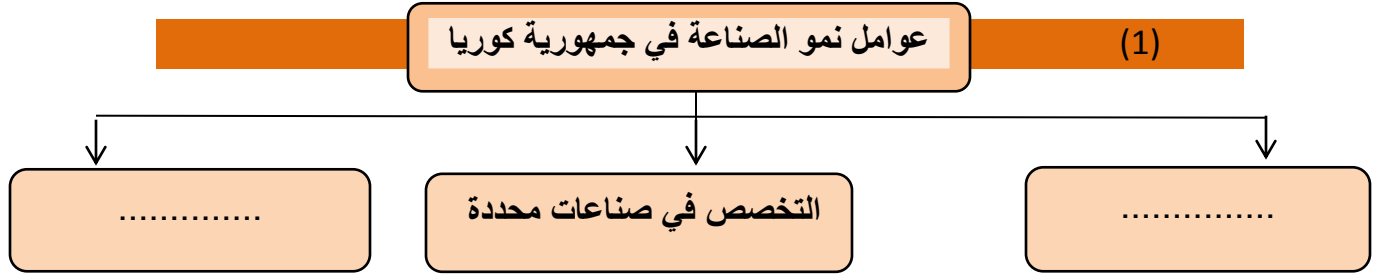
.....

((ه)) توقع الإجراءات التي اتبعتها جمهورية كوريا للتغلب على الفقر الذي كان يعيشه شعبها.

..... *

السؤال الثاني

أولاً : أتم بناء المخططات الذهنية الآتية بما يناسب



عوامل مؤثرة في قوة اقتصاد جمهورية كوريا

-٢

دخول كوريا عصر التكنولوجيا الصناعية

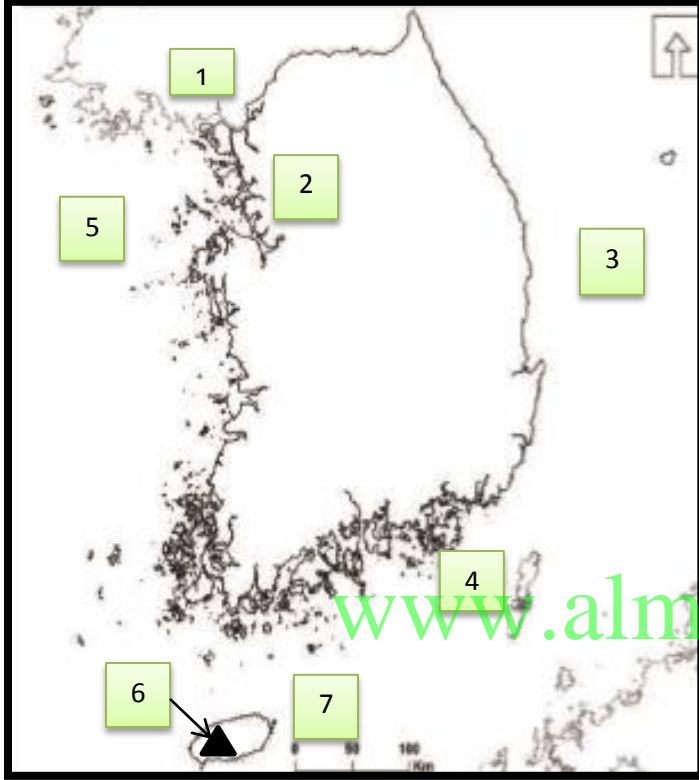
غزو مبيعات كوريا الأسواق الخارجية

المظاهر التضاريسية في جمهورية كوريا الجنوبية

3-

السهول

السؤال الثالث



أولاً : الأخط خريطة كوريا ثم اكتب

مدلولات الأحرف الموضحة عليها:

- 1 دولة مجاورة من الشمال
 - 2 عاصمة جمهورية كوريا
 - 3 مسطح مائي
 - 4 مضيق
 - 5 مسطح مائي
 - 6 جبال
 - 7 جزيرة
- دولة مجاورة من الشرق

** حدد على الخريطة الجبال الشرقية مشيراً إليها بالرمز ▲

والجبال الوسطى مشيراً إليها بالرمز ●

ثانياً : قدم تفسير لكل مما يلي:

((أ)) أفسر أهمية العاصمة سيؤول للقطاع السياحي بكوريا .

.....

((ب)) زيادة الصادرات إلى دولة الإمارات العربية المتحدة .

.....

((ج)) اتساع المساحة المزروعة بالأرز في جمهورية كوريا.

((د)) سبب نمو محصول الزيتون في جمهورية كوريا الجنوبية.

((هـ)) توجه دولة الإمارات العربية المتحدة للاستفادة من استخدام الطاقة النووية السلمية.

السؤال الرابع

www.almanahj.com

أولاً : صنف الظاهرات الجغرافية الآتية :

(هالاسان - ناكتونج - شي جو - سيؤول)

العاصمة	جزر	أنهار	جبال



ثانياً : مثل بيانياً بطريقة الأعمدة :

الصادرات	النسبة %
بشكل عام	26%
السيارات	18%

www.almanahj.com

ثالثاً : أتمم المخطط الذهني الآتي:



رابعاً : اقرأ النص الآتي ، ثم أجب :

تعد السياحة في جمهورية كوريا من القطاعات الحيوية ، ويتردد السياح إلى العديد من المناطق الهامة منها "سيؤول" العاصمة حيث تمزج ما بين الماضي والحاضر ، وتتجسد فيها القصور التاريخية ، بالإضافة إلى الآثار والبوابات القديمة ، والمتاحف المهمة كالمتحف الوطني ومتحف سيؤول التاريخي ، مع وجود مدن أخرى يقصدها السياح كمدينة " كوانج جو" و"بوسان" إلى جانب جزيرة "شي جو" والتي تعد منطقة طبيعية جميلة جدا ، فالسياحة في جمهورية كوريا – كما دولة الإمارات – تحتل أولوية من قبل الحكومة التي وفرت كافة المرافق والخدمات وكل ما يحتاج إليه السياح

(أ) فسر أهمية العاصمة سيؤول للقطاع السياحي .

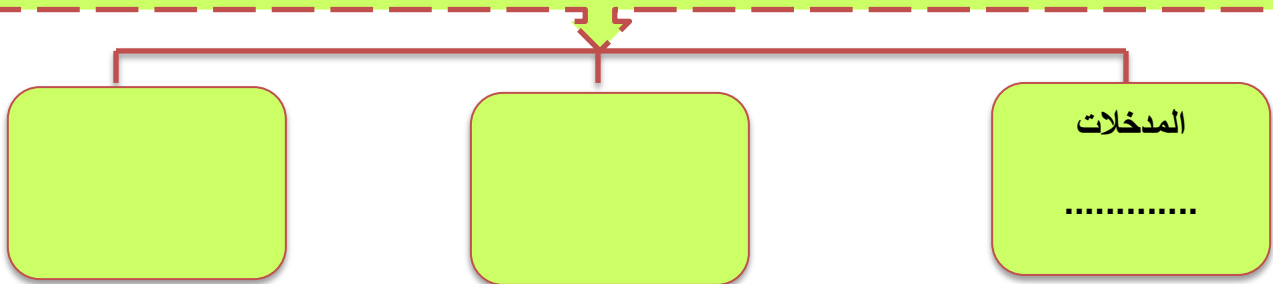
(ب) أسمي المدن والمناطق السياحية التي يقصدها السياح في جمهورية كوريا .

(ج) استخلص القاسم المشترك في جمهورية كوريا ودولة الإمارات العربية المتحدة.

(د) أبرز مظاهر اهتمام حكومة كوريا بالسياحة.

خامساً : أتمم المخطط الذهني الآتي :

الصناعة " عملية تحويل مادة من حالتها الأصلية إلى حالة أكثر نفعاً للإنسان" .. وتمر بمراحل



مع تمنياتي بالنجاح و التفوق