

ورقة عمل تقويمية .... الصف السادس : الوحدة الأولى.... الدرس / جمهورية الهند

الاسم : ..... الشعبة : .....

### السؤال الأول

**أولاً : اكتب (اسم المفهوم/ المصطلح) الموجود بين القوسين أمام كل تعريف يناسبه حسب معطيات الجدول :**

الدخل الفردي	الناتج المحلي الإجمالي	الأنشطة البشرية	الشرق الأوسط	الانفجار السكاني
--------------	------------------------	-----------------	--------------	------------------

م	التعريف	المفهوم أو المصطلح
١.	هي الأنشطة التي يقوم بها الإنسان في المجالات الاقتصادية المختلفة كالزراعة والرعي والصناعة.	.....
٢.	إجمالي ما يحصل عليه الإنسان من عمله الذي يعمل فيه أو من أي مصدر آخر ليستطيع أداء واجباته ومسئولياته والحصول على احتياجاته.	.....
٣.	زيادة أعداد السكان الكبيرة بالمقارنة مع الموارد المتاحة	.....
٤.	منطقة جغرافية تشمل بلدان غرب آسيا ومصر وتطل على البحر الأحمر والخليج العربي والبحر المتوسط.	.....

**ثانياً : ضع دائرة حول الإجابة الصحيحة التي تلي كل عبارة فيما يأتي:**

١. تقع جمهورية الهند.....قارة آسيا.  
أ. جنوب. ب. غرب. ج. شرق.
- ٢- خضعت الهند للاحتلال .....  
أ- البرتغالي . ب- البريطاني. ج- الفرنسي.
- ٣- يتميز مناخ جمهورية الهند بأنه.....  
أ. صحراوي. ب- استوائي. ج- موسمي.

٤- تهب على الهند رياح موسمية جنوبية غربية قادمة من المسطحات المائية في فصل .....

أ. الصيف. ب. الشتاء. ج. الربيع.

٥- قُدر عدد سكان الهند بنحو ..... نسمة.

أ. مليار وثلاثمئة وأربع وعشرون مليون. ب. مليون وثلاثمئة وأربع وعشرون ألف.  
ج. ثلاثمئة وخمسة وعشرون مليون.

٦- يمثل سكان الهند ..... من سكان العالم:

أ. ١٩% . ب. ١٧% . ج. ١٥%

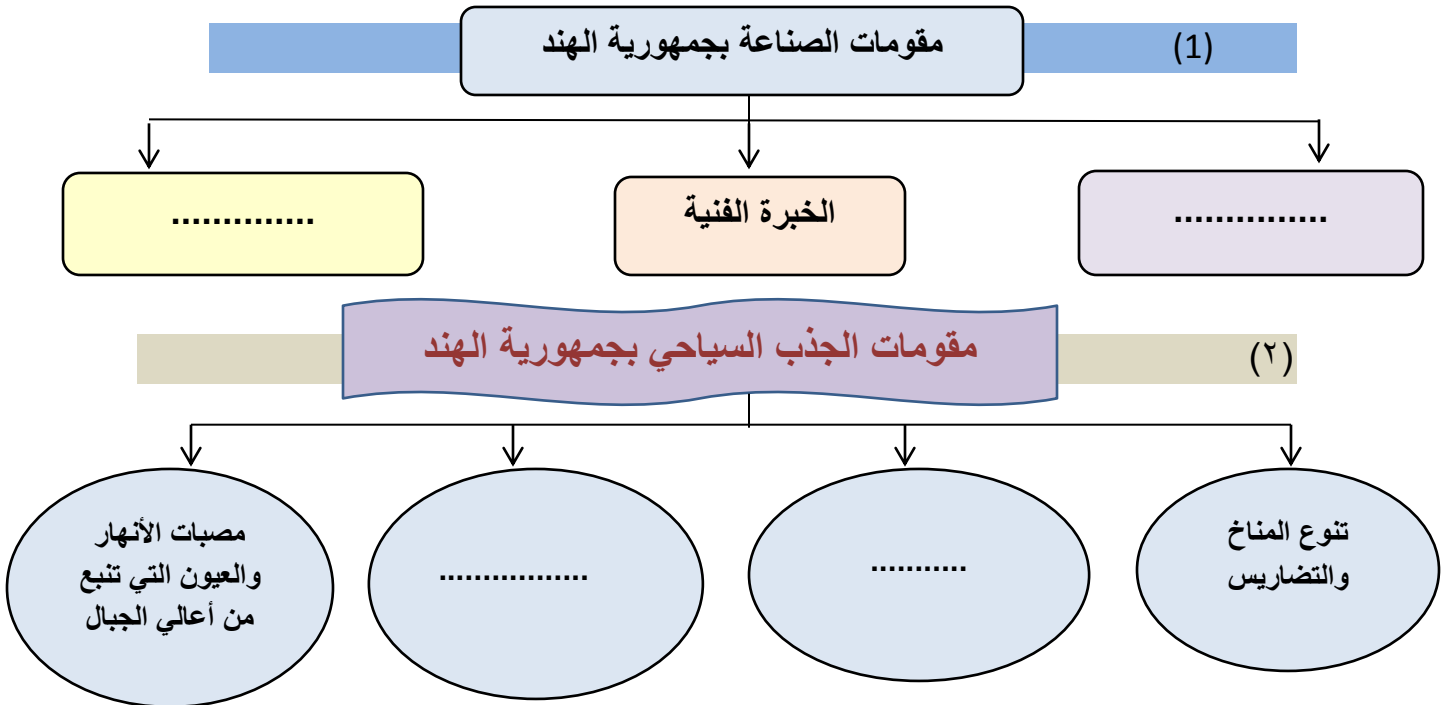
٧- أسرع القطاعات الاقتصادية نمواً بالهند هي .....

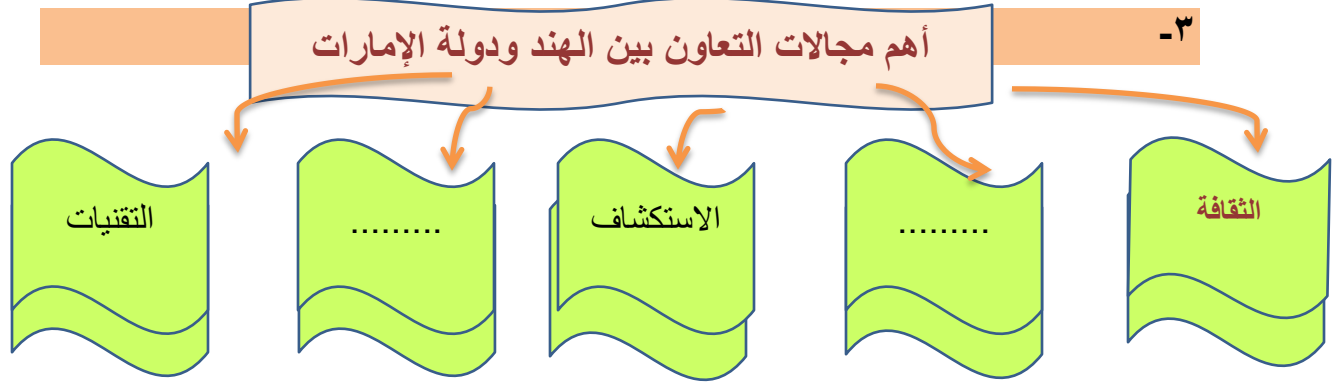
أ. الصناعة. ب. الزراعة. ج. تكنولوجيا المعلومات

www.almanahj.com

السؤال الثاني

أولاً : أتم بناء المخططات الذهنية الآتية بما يناسب



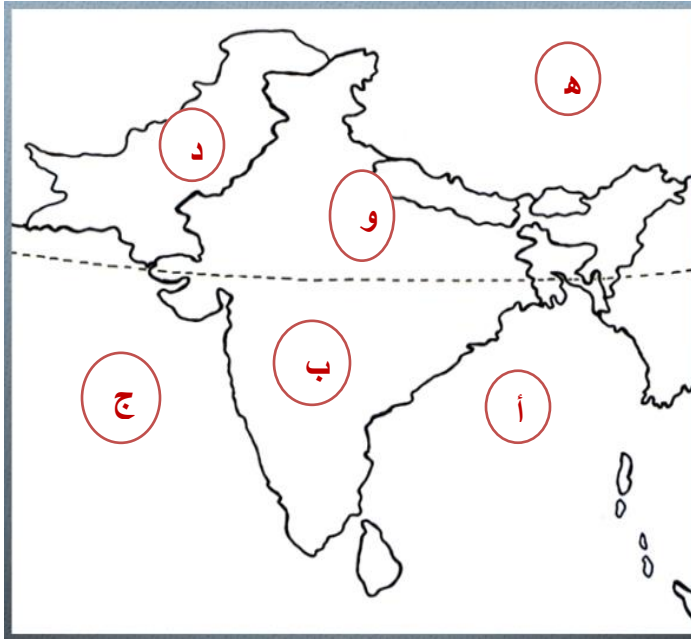


**ثانياً :- صنف المسميات التي بين القوسين وفق الجدول الآتي :**

( النفط الخام – المنسوجات – المنتجات الزراعية – المجوهرات – الآلات – الأسمدة الكيماوية )

أهم الصادرات بالهند	أهم الواردات بالهند
<a href="http://www.almanahj.com">www.almanahj.com</a>	

**السؤال الثالث**



**أولاً : ألاحظ خريطة الهند ثم اكتب مدلولات الأحرف الموضحة عليها:**

- أ- مسطح مائي .....
- ب - هضبة .....
- ج - مسطح مائي .....
- د - دولة .....
- هـ - دولة .....
- و- سهول .....

**ثانياً : قدم تفسير لكل مما يلي:**

١- لجوء الهند لاستيراد مصادر الطاقة والمعادن رغم وفرتها؟

.....

٢- سقوط الأمطار الغزيرة على الهند في فصل الصيف؟

.....

٣- أثر جبال الهيمالايا مناخياً على جمهورية الهند؟

.....

٤- سهولة اتصال الهند بقارة أفريقيا؟

.....

٥- تتميز سهول هندوستان بالازدحام البشري؟

[www.almanahj.com](http://www.almanahj.com)

.....

٦- استخدام بعض الحيوانات في تنشيط السياحة بالهند؟

.....

٧- يسود الجفاف معظم أراضي الهند في الشتاء؟

.....

٨- تعاني الهند من انخفاض الدخل السنوي للفرد رغم النمو الاقتصادي فيها؟

.....

٩- وجود ثروة حيوانية ضخمة بالهند؟

.....

**ثالثاً : استكمل الجداول التالية حسب المعطيات:**

المشكلة	أسباب المشكلة	النتائج	حلول مقترحة
الانفجار السكاني بالهند			

وجه المقارنة	جبال الهيمالايا	سهول هندوستان	هضبة الدكن
<u>الموقع</u>			
<u>المميزات</u>			

وجه المقارنة	فصل الصيف	فصل الشتاء
<u>الحرارة</u>		
<u>الأمطار</u>		
<u>الرياح الموسمية</u>		

-- أكتب ما يدل على العلاقات الوثيقة والروابط المشتركة بين دولة الإمارات العربية المتحدة وجمهورية الهند.

.....  
.....

**\* املأ الفراغ في العبارات التالية بما يناسب:**

- ١- تبلغ مساحة جمهورية الهند ..... كم<sup>٢</sup>
- ٢- من أشهر المعالم السياحية في الهند تاج ..... ومنطقة ..... والقلعة .....
- ٣- بدأت العلاقات الإماراتية الهندية بزيارة الشيخ ..... للهند.
- ٤- تتركز الاستثمارات الإماراتية في الهند في قطاعات رئيسة مثل ..... و.....
- ٥- تتعدد المحاصيل الزراعية في الهند حيث تزرع نصف أراضيها ب.....
- ٦- من مصادر الطاقة الغير تقليدية بالهند طاقة الرياح و..... و.....

**\* اكتب نتيجة تترتب على:**

الكثافة السكانية والازدحام في الهند ؟

.....  
.....

مع تمنياتي بالنجاح و التفوق