



دليل تصحيح امتحان مادة العلوم للصف السادس للفصل الدراسي الثالث

SN:10I20I0I251C1168570X89055D201906251459GK

SN:10I20I0I251C1168570X89055D201906251459GK

السؤال الأول:

رقم المفردة I.N	رمز الإجابة ANS	رقم المفردة I.N	رمز الإجابة ANS
1	d. الفجوة	11	c. الوقود الاحفوري
2	d. غشاء واقى	12	c. النفايات
3	a الصيف في نصف الكرة الشمالي	13	a. باطن الارض
4	(RNA).b	14	d. المحيطات
5	a.المريخ والمشتري	15	a زيادة كمية ثاني أكسيد الكربون في الغلاف الجوي
6	b. السكر		
7	b. أحمر		
8	c.يمكن توقع حدوث تيارات المد والجزر		
9	a. النفط		
10	c. غير متجددة		
تحسب 3 درجات لكل مفردة			
موجهات التصحيح:			
الإجابة محددة وغير ذلك لا يستحق أي درجة على المفردة.			
مجموع درجات السؤال الأول			
45			



دليل تصحيح امتحان مادة العلوم للصف السادس للفصل الدراسي الثالث

SN:10I20I0I251C1168570X89055D201906251459GK

SN:10I20I0I251C1168570X89055D201906251459GK





السؤال الثاني:			
رقم المفردة	الإجابة	الدرجة	موجهات التصحيح
16	رتب الاجرام التالية الموجودة في النظام الشمسي من الأصغر الى الأكبر النيازك - الكويكبات - الأقمار - الكواكب القزمة - الكواكب - الشمس	10	لكل جُرم في مكانه الصحيح درجتان
17	البناء الضوئي	2	كل إجابة صحيحة: درجتان
18	الانتشار	2	
19	التنفس الخلوي	2	
20	التزايد	2	
21	المجرة	2	
22	سرعة الضوء	2	
23	مزرعة الرياح	2	
24	الأمطار الحمضية	2	
25	الخامات	2	
26	الجماعة الاحيائية	2	
27	أكمل البيانات على الرسم A. (الميتوكوندريا) B: غشاء الخلية C.: النواة D: الشبكة البلازمية الداخلية	1 1 1 1	كل إجابة صحيحة: درجة



دليل تصحيح امتحان مادة العلوم للصف السادس للفصل الدراسي الثالث

SN:10120101251C1168570X89055D201906251459GK

SN:10120101251C1168570X89055D201906251459GK

كل إجابة صحيحة: درجة	التركيب	الحرف	أكتب الحروف المناسبة في الجدول	28
1	صخور غير منفذة	B		
1	ماء مابين فراغات الصخور	A		
1	نفط	D		
1	غاز طبيعي	C		
كل إجابة صحيحة: درجتان	<p>B</p> <p>يتميز زحل بوجود آلاف الحلقات الرفيعة المكوّنة من قطع الجليد التي يتراوح حجمها بين الحصى والجلاميد</p> <p>2</p> <p>يتكوّن في معظمه من الهيدروجين والهيليوم إلا أنّ كتلته أكبر من كتلة بقية الكواكب مجتمعة</p> <p>2</p> <p>تحتوي الصخور الموجودة على سطح المريخ على أكاسيد الحديد التي تكسبه لوناً يميل إلى الحمرة</p> <p>2</p> <p>الكوكب الوحيد المعروف بوجود حياة على سطحه و يتميز بوجود كميات كبيرة من الماء السائل على سطحه</p>	<p>A</p>    	29	



دليل تصحيح امتحان مادة العلوم للصف السادس للفصل الدراسي الثالث

SN:10I20I0I251C1168570X89055D201906251459GK

SN:10I20I0I251C1168570X89055D201906251459GK

	3	<p>فسر تفسيراً علمياً (علل) فقط 2</p> <ul style="list-style-type: none"> • محدودية الإمداد (غير متجددة) • التلوث • حدوث خلل في مواطن المعيشة (المواطن البيئية) 	30
	3	<p>2 فقط</p> <ul style="list-style-type: none"> • الماء يمثل جزءاً كبيراً من المكونات الداخلية للخلايا، فهو يحيط بالخلايا • ويساعد الماء الذي يُحيط بالخلايا في عزل جسمك، مما يحافظ على الاتزان الداخلي أو البيئة الداخلية المستقرة • تركيب جزيء الماء يجعل هذا الأخير مثاليًا لإذابة العديد من المواد الأخرى 	31
	3	<p>عندما تقترب المذنبات من الشمس، ينصهر الثلج ويشكل الماء ذيل خلف المذنب</p>	32
	55	مجموع درجات السؤال الثاني	
	100	مجموع درجات الامتحان	

SN:10I20I0I251C1168570X89055D201906251459GK

SN:10I20I0I251C1168570X89055D201906251459GK