



وزارة التربية والتعليم  
قطاع العمليات المدرسية  
مجلس الإمارات التعليمي /2 نطاق 5  
مدرسة القرانن للتعليم الأساسي /ح2 بنين

الإجابة النموذجية

سؤال وجواب في الدراسات الاجتماعية  
للسف الخامس  
الفصل الدراسي الثاني والثالث 2018-2019 م  
إعداد معلم المادة أ / وليد عبدالرحمن إبراهيم



عام التس

حوظ حول الإجابة الصحيحة من بين البدائل في العبارات التالية :-

- 1- تم تأسيس أول حديقة حيوان في دولة الإمارات العربية المتحدة في مدينة :  
( دبي - رأس الخيمة - العين )
- 2- الطاقة المولدة من اليورانيوم الموجودة في باطن الأرض تسمى الطاقة :  
( الشمسية - النووية - الكهرومائية )
- 3- يوجد مجمع محمد بن راشد آل مكتوم للطاقة الشمسية في إمارة :  
( دبي - الفجيرة - أم القيوين )
- 4- من مزايا استخدام الغاز الطبيعي :  
( غالي الثمن - أكثر تلويثاً للبيئة - أكثر أماناً )
- 5 - عملية تحويل المخلفات والمواد التالفة إلى منتجات جديدة ذات فوائد بيئية واقتصادية :  
( الشاحن الأخضر - تدوير النفايات - وقود المركبات )
- 6- اللون البني في الخريطة الطبيعية لدولة الإمارات العربية المتحدة يدل على :  
( الصحاري - الهضاب - الجبال )
- 7- يدل اللون الأخضر في الخريطة الطبيعية لدولة الإمارات العربية المتحدة على :  
( الجبال - السهول - الصحاري والكتبان الرملية )
- 8- يطلق على مساحة من الأرض ( برية أو بحرية ) تتوافر فيها الظروف الطبيعية لحماية الحيوانات من الانقراض اسم :  
( الإقليم المناخي - التضاريس - المحميات الطبيعية )
- 9- من الدول المليونية في مجلس التعاون لدول الخليج العربي :  
( المملكة العربية السعودية - سلطنة عمان - دولة الإمارات العربية المتحدة )
- 10- يجاور دول مجلس التعاون لدول الخليج العربي من جهة الشرق مسطح مائي اسمه :  
( البحر الأحمر - الخليج العربي - البحر المتوسط )
- 11- من السهول الساحلية في دول مجلس التعاون الخليجي :  
( سهول بحر عمان - سهول البحر المتوسط - سهول المحيط الأطلنطي )

- 12- تتعدد الرياح المحلية في دول مجلس التعاون الخليجي منها رياح :  
( الشمالية العربية – الجنوبية الغربية – الطوز )
- 13- من النباتات المعمرة التي توجد في دول مجلس التعاون الخليجي :  
( السدر – الحميض – الثمام )
- 14- المقر الدائم لمجلس التعاون الخليجي يوجد في مدينة :  
( أبوظبي – الرياض – الدوحة )
- 15- هو السلطة العليا لمجلس التعاون الخليجي ويتكون من رؤساء الدول الأعضاء ورناسته دورية :  
( الأمانة العامة – المجلس الوزاري – المجلس الأعلى )
- 16- يسمى الفرق بين عدد الموالي و عدد الوفيات خلال فترة زمنية محددة اسم :  
( النمو الطبيعي للسكان – النمو السكاني – النمو غير الطبيعي للسكان )
- 17 – تتعدد المشكلات الاجتماعية في دول مجلس التعاون الخليجي منها :  
( تلوث الهواء – ضعف اللغة العربية – تلوث المياه )
- 18- من الألقاب التي حصل عليها الشيخ زايد بن سلطان آل نهيان :  
( فارس الصحراء – درع العمل – الوثيقة الذهبية )
- 19- يدل اللون الأصفر في الخريطة الطبيعية لدولة الإمارات العربية المتحدة على :  
( الجبال – السهول – الصحاري والكثبان الرملية )
- 20- من المشكلات البيئية في دول مجلس التعاون الخليجي :  
( مشكلة التلوث – تغير العادات والتقاليد – ضعف اللهجة المحلية )
- 21- توجد محمية صير بنى ياس في إمارة :  
( دبي – أبوظبي – الشارقة )
- 22- من الأعمال التي تساهم في تدمير المحميات الطبيعية :  
( تلوث التربة أو المياه – وجود الطيور المهاجرة – وجود أشجار القرم )
- 23- يقصد بالموقع بالنسبة إلى دوائر العرض وخطوط الطول اسم :  
( الموقع المكاني – الموقع الفلكي – الموقع النسبي )

24- يقصد بموقع المكان باستخدام الجهات الأصلية والفرعية منسوباً إلى العالم أو القارة التي يوجد بها اسم :

( الموقع المكاني – الموقع الفلكي – الموقع النسبي )

25- تقع دول مجلس التعاون لدول الخليج العربي في أقصى جنوب غرب قارة :

( أفريقيا – أوروبا – آسيا )

26- يقصد بموقع المكان بالنسبة إلى المساحة التي يشغلها يسمى :

( الموقع المكاني – الموقع الفلكي – الموقع النسبي )

27- أصغر الدول مساحة في دول مجلس التعاون الخليجي :

( البحرين – قطر – الكويت )

28- تتعدد الأهمية الاستراتيجية لموقع دول مجلس التعاون الخليجي :

( مهبط الديانات السماوية – تشرف على مسطحات مائية – وجود الثروات المعدنية )

29- من الأهمية الاقتصادية لموقع دول مجلس التعاون الخليجي :

( وجود النفط والغاز الطبيعي – تتحكم في مضيق هرمز – نشأت الحضارات )

30- يوجد المسجد الحرام في مدينة :

( الرياض – المدينة المنورة – مكة المكرمة )

31- من الأهمية الدينية لموقع دول مجلس التعاون الخليجي :

( مهبط الديانات السماوية – تشرف على مسطحات مائية – وجود الثروات المعدنية )

32- يوجد المسجد النبوي في مدينة :

( الطائف – الدمام – المدينة المنورة )

33- يوجد الجبل الأخضر في دولة :

( سلطنة عمان – الإمارات العربية المتحدة – قطر )

34- من الهضاب الموجودة في مجلس التعاون لدول الخليج العربي هضبه :

( هضبة التبت – هضبة نجد – هضبة إيران )

35- تقع جبال البحر الأحمر في مجلس التعاون لدول الخليج العربي في جهة :

( الشرق – الشمال – الغرب )

36- من السهول الساحلية المطلة على البحر الأحمر سهول :

( الباطنة – تهامة – الإحساء )

37- يوجد وادي الدواسر في دولة :

( المملكة العربية السعودية – الكويت – الإمارات العربية المتحدة )

38- توجد واحة العين في دولة :

( قطر – الإمارات العربية المتحدة – البحرين )

39- حالة الجو في فترة زمنية طويلة تسمى :

( الطقس – الإقليم المناخي – المناخ )

40- تسقط الأمطار على معظم مجلس التعاون لدول الخليج العربي في فصل :

( الشتاء – الصيف – الخريف )

41 – من الرياح المحلية في دول مجلس التعاون الخليجي :

( رياح الطوز – الرياح الشمالية الغربية – الرياح الجنوبية الغربية )

42- تتعدد النباتات الحولية في مجلس التعاون لدول الخليج العربي منها :

( السدر – النخيل – الحميض )

43- من النباتات المعمرة في مجلس التعاون لدول الخليج العربي :

( الثمام – المانجروف – السمر )

44- وفرت الدولة لأصحاب الهمم :

( الرعاية الصحية – فرص العمل – النقل والمواصلات – جميع ما ذكر )

45 – أطلقت دولة الإمارات العربية المتحدة اسما جديدا لذوي الإعاقة :

( أصحاب الهمم – ذوى الاحتياجات – أصحاب الإعاقة – جميع ما ذكر )

46- مجموعة من الأفراد تربطهم علاقات تميزهم عن غيرهم من الجماعات ويعيشون في منزل مشترك :

( الدولة – الأسرة – أصحاب الهمم – كبار المواطنين )

47- من النتائج المترتبة على غياب الأمن :

( انتشار الجرائم – عدم الشعور بالخوف – أساس التنمية – تحقيق السلام )

48- يتمثل في القدرات الدفاعية والهجومية التي تمتلكها الدولة لحماية نفسها نوع من الأمن :

( السياسي – العسكري – الاقتصادي – البيئي )

49- يعني السلام والاستقرار التنظيمي الداخلي للدولة :

( الأمن الاجتماعي – الأمن الاقتصادي – الأمن السياسي – الأمن العسكري )

50 – من الحقوق التي يوفرها لي وطني :

( الخدمات التعليمية – الرعاية الصحية – الأمن – كل ما سبق صحيح )

51- من واجباتي تجاه ديني :

( أرتب حاجاتي – اعامل الناس بالحسنى – احترم قوانين وطني – احترم أنظمة المدرسة )

52- من الحقوق التي قدمتها الدولة لأصحاب الهمم :

( توفير فرص العمل – المسكن – الغذاء – التربية الصالحة )


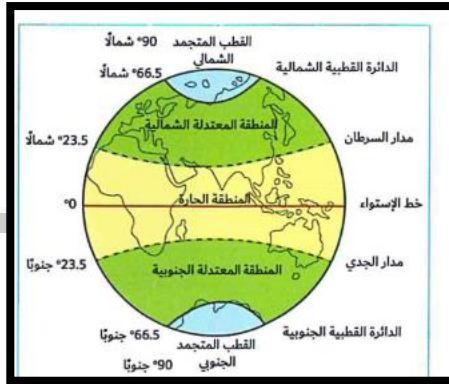
53- التزام أخلاقي يلزم بها الفرد نفسه تجاه المجتمع والوطن :

( الحقوق – الواجبات – القانون – الدستور )

54- كل ما يجب أن يتمتع بها الفرد ويكفلها المجتمع والقانون :

( الأسرة – الواجبات – الحقوق – أصحاب الهمم )

53 - من خلال الصور التي أمامك عدد العوامل المؤثرة في مناخ مجلس التعاون لدول الخليج العربي :



1- التضاريس

2- الموقع بالنسبة لدوائر العرض

3- المسطحات المائية

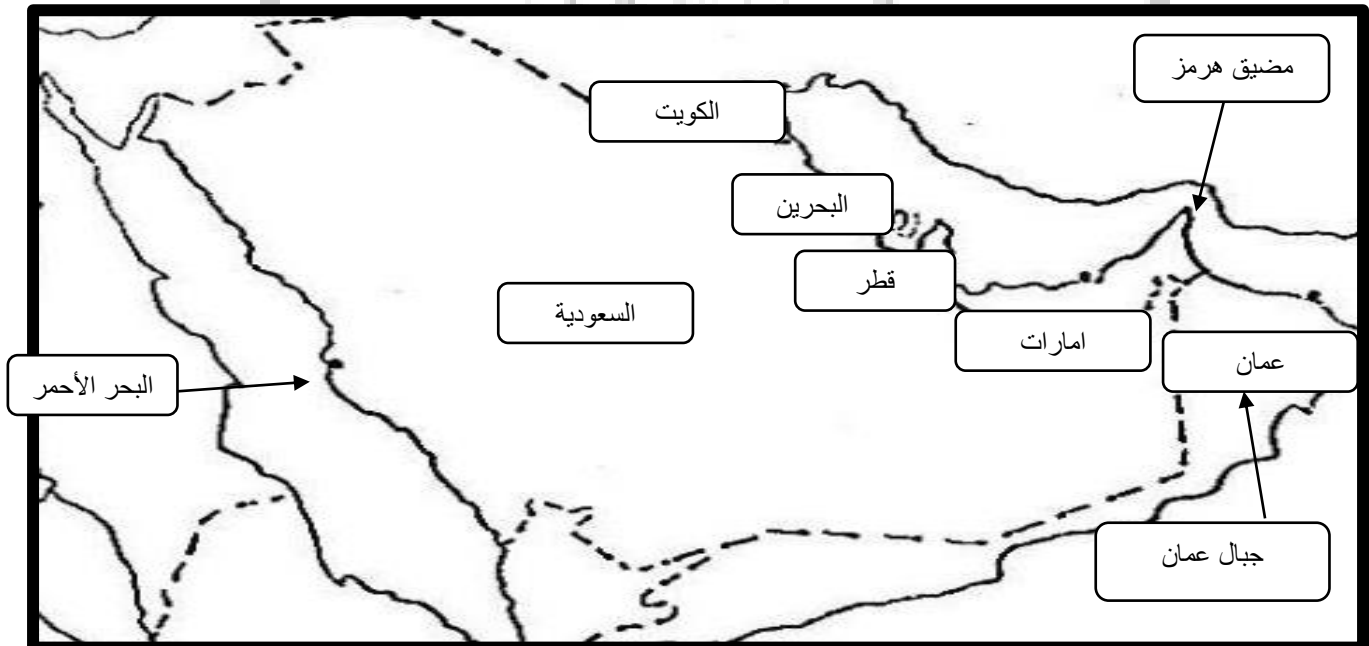
أمامك خريطة صماء لدول مجلس التعاون الخليجي ، والمطلوب منك ان تحدد عليها ما يلي :

1- دول مجلس التعاون الخليجي الست .

2- المسطحات المائية التي يسرف عليها دول مجلس التعاون .

4 - جبال عمان .

3- مضيق هرمز .





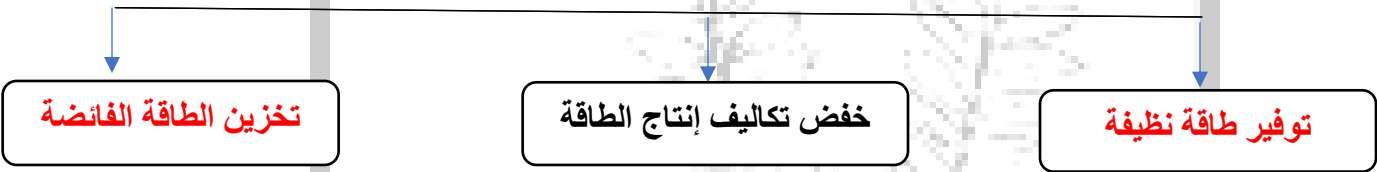
( أ ) اختر الكلمة المناسبة من بين الأقواس لاستكمال المخططات الذهنية التالية :-

( توفير طاقة نظيفة - حماية الحيوانات من الانقراض - تخزين الطاقة الفائضة - حماية الموارد الطبيعية )

1- من جهود الشيخ زايد في البيئة الإماراتية :



2- تتعدد أهداف مبادرة شمس دبي منها :



3- من فوائد تدوير النفايات في دولة الإمارات العربية المتحدة :



( ب ) صل بين الصورة والمفهوم الذي يدل عليها فيما يلي :-



تدوير النفايات



المحميات الطبيعية



الطاقة الشمسية



الشاحن الأخضر



السؤال الرابع

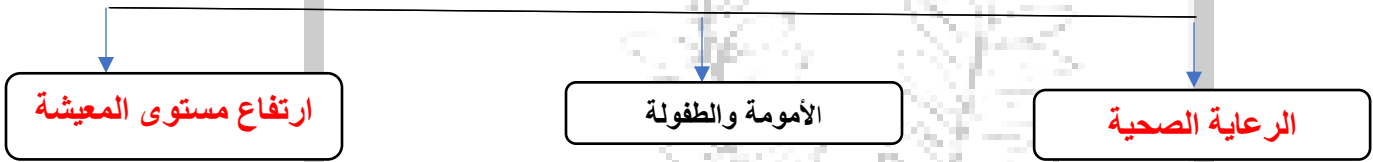
( أ ) اختر الكلمة المناسبة من بين الأقواس لاستكمال المخططات الذهنية التالية :-

( اللغة العربية – الرعاية الصحية – خارجية – ارتفاع مستوى المعيشة – العادات والتقاليد )

1- من مقومات الوحدة والترابط بين دول مجلس التعاون الخليجي :



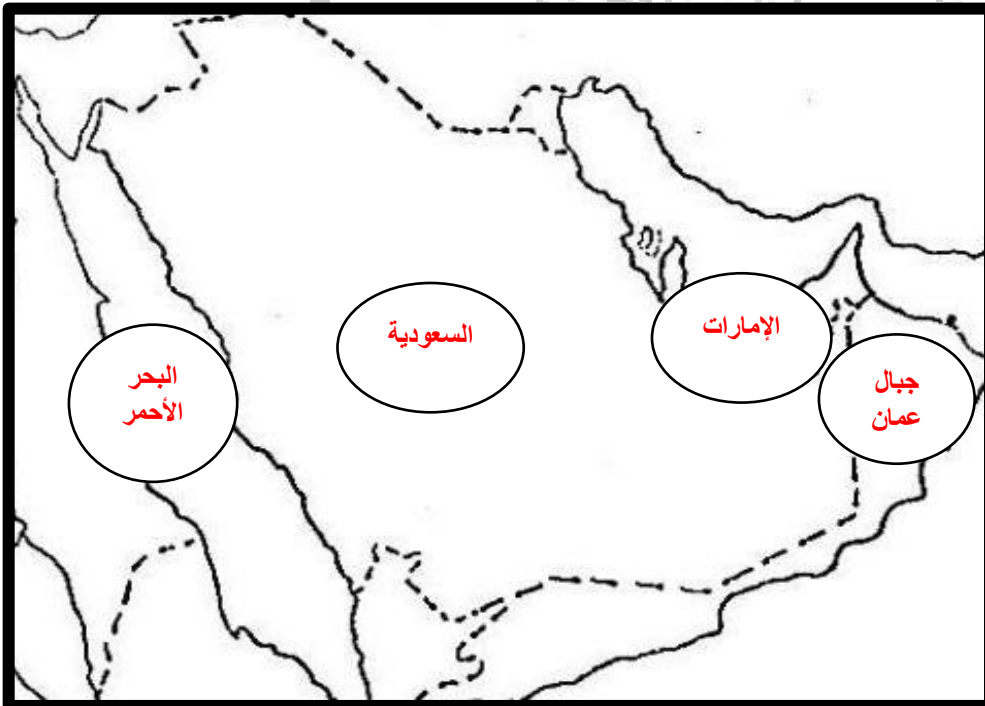
2- تتعدد أسباب انخفاض الوفيات في دول مجلس التعاون الخليجي منها :



3- تنقسم أنواع الهجرة في دول مجلس التعاون الخليجي :



( ب ) أمامك خريطة صماء لدول مجلس التعاون الخليجي ، والمطلوب منك ان تحدد عليها ما يلي :



1- دولة الإمارات العربية المتحدة

2- جبال عمان

3- المملكة العربية السعودية

4- البحر الأحمر

## السؤال الخامس

اكتب اثنين لكل مما يلي :-

1- فوائد تدوير النفايات بدولة الإمارات العربية المتحدة .

حماية الموارد الطبيعية

الحد من تراكم النفايات الضارة – تقليل نسب التلوث البيئي

2- أهداف مبادرة شمس دبي .

استخدام مصادر الطاقة النظيفة – توفير طاقة نظيفة

خفض تكاليف إنتاج الطاقة – تخزين الطاقة الفائضة

3- جهود الشيخ زايد في البيئة الإماراتية .

حماية الحيوانات من الانقراض – حماية المها العربي – إقامة المحميات الطبيعية

إدخال أنواع مختلفة من النباتات – إنشاء الحدائق والمتنزهات – زراعة غابات القرم

4- أهمية إنشاء المحميات الطبيعية .

صون وحفظ الأنواع النباتية والحيوانية من الانقراض – تطوير السياحة البيئية

زيادة الوعي لدى السكان بأهمية الكائنات الحية – الاستغلال المنظم للموارد الحيوية

5- الأعمال التي تسهم في تدمير المحميات الطبيعية .

صيد الكائنات البرية والبحرية

إقامة المباني والمنشآت وشق الطرق – تلوث التربة أو المياه أو الهواء

6- تتعدد واجبات تجاه ديني منها :

عبادة الله وحده

أداء فرائضه وعباداته – معاملة الناس معاملة حسنة

7- من الحقوق التي يوفرها لي وطني دولة الإمارات العربية المتحدة :

الخدمات العلاجية – الخدمات التعليمية

الأمن – المرافق العامة – أماكن الراحة والاسترخاء

ضع دائرة حول رمز الاجابة الصحيحة فيما يلي

1- يوجد سوق العرصة في امارة :

A ابوظبي B دبي C الشارقة D الفجيرة

2 - تبادل البضائع والخدمات بشكل مباشر بسلع اخرى يسمى :

A المقايضة B النقود C الاسواق D العملات

3 - النقود التي تتمتع بخفة وزنها وسهولة حملها هي النقود :

A الالكترونية B المعدنية C الورقية D المقايضة

4 - اول معدن تم سك النقود المعدنية منه هو :

A البرونز B الذهب C النحاس D الحديد

5 - الاسواق القديمة التي تحكي قصص البلاد وتاريخها هي الاسواق :

A الشعبية B التجارية C الالكترونية D Malls

6 - الاسواق التي توفر الجهد وتقلل الانتقال من مكان الى اخر هي :

A Malls B التجارية C الالكترونية D الشعبية

7 - العلم الذي يهتم بدراسة الاجرام السماوية مثل النجوم والكواكب هو علم :

A الطب B الرياضيات C الفلك D العلوم

8 من أجهزة الرصد الفلكي التي استخدمت لتحديد ساعات النهار من حركة ظل الشمس :

A التلسكوب B المزولة C الاسطرلاب D المسطرة

9 - من علماء العرب المسلمون مؤلف كتاب (درب التبانة) هو :

A الخوارزمي B البيروني C ابن الهيثم D ابن سينا

10 - فضاء شاسع يحتوي على أعداد لا نهائية من المجرات :

A علم الفلك B الكون C الكواكب D الشمس

11 - أهم إنجازات أبو الريحان البيروني :

A التلسكوب B كتاب درب التبانة C اختراع الاسطرلاب D حسابه محيط الأرض

12 - يهدف برنامج الإمارات لرواد الفضاء إلى :

A استكشاف الفضاء B تعزيز الاقتصاد C تأهيل الكوادر الوطنية D كل ما ذكر

13- أول قمر صناعي يصنع بأيدي إماراتية :

A خليفة سات B الياه3 C التلسكوب D برنامج الإمارات لرواد الفضاء

14 - النبات الذي ينمو من تلقاء نفسه دون تدخل الإنسان يعرف بـ :

A الصحراء B النبات الطبيعي C النبات الصناعي D كل ما ذكر

15 - من النباتات الحولية :

A السدر B السمر C الغاف D الحميض

16- استخدم أجدادنا النباتات الطبيعية في :

A الوقود B العلاج C الطعام D كل ما ذكر

17 - منطقة جغرافية قاحلة تتميز بندرة الأمطار

A الشواطئ B الصحراء C الغابات D الجبال

18 - شجرة معمرة يتم زراعتها في المنازل للاستفادة من ظلها و ثمرها و خشبها :

A الكمأ B الحميض C السدر D الغاف

19 - نبات ينمو بعد سقوط الأمطار و يحبه الناس :

A الفقع B الدغابيس C حماض الجبل D الغاف

20 - يطلق على العلم الذي تستخدم فيه الأعشاب كعلاج :

A علم الفلك B الطب الحديث C الفيزياء D الطب البديل

21 - يوجد مقر وكالة الإمارات للفضاء في إمارة :

A الفجيرة B أبو ظبي C رأس الخيمة D أم القيوين

22- نقود اتخذت شكلاً جديداً بسبب التقدم التكنولوجي في مجالات عدة منها الاتصالات والمعاملات التجارية :

A النقود المعدنية B النقود الورقية C النقود الالكترونية D المقايضة

24 - من السلع التي كان سكان الإمارات العربية المتحدة يستخدمونها في المقايضة :

A اللؤلؤ B الذهب C الحبوب الغذائية D الفضة

25 - من الجوائز التي حصل عليها الشيخ زايد بن سلطان - رحمه الله - في مجال البيئة عام 1997م جائزة :

A رجل العصر B الباندا الذهبية C جائزة نوبل D فارس الصحراء

26 - النبات الذي ينمو من تلقاء نفسه دون تدخل من الإنسان يعرف بـ \_\_\_\_\_ :

A الطبيعي B الصناعي C الزراعي D لا شيء مما ذكر

27 - من العوامل المؤثرة في كثافة ونوعية الحياة النباتية الطبيعية وتوزيعها في دولة الإمارات العربية المتحدة :

A السحب B الندي C الضغط الجوي D درجات الحرارة

28 - خيوط قطنية تستخدم لسد الفجوات بين الألواح في السفينة :

A الفتايل B المسامير C فن عين D حطب باقة

29 - نبات بري له العديد من الفوائد الطبية منها استخدامه كعلاج لسعات العقارب :

A الحميض B الفقع C اليعدة D السدر

30 - شجرة معمرة تتحمل درجات الحرارة العالية والجفاف ، وهي مصدر غذاء ودواء للإنسان والحيوان :

A شجرة الغاف B الرمث C الكافور D الحنظل

31 - تعرف مهنة صناعة السفن في الخليج العربي باسم :

A الطواش      B الجلافة      C الوليد      D لا شيء مما ذكر

32- المسؤول عن أداء مهمة ضرب المسامير :

A مسؤول الشلامين      B عامل      C ضارب المسامير      D الوليد

33 - يطلق على النباتات التي تنمو عقب سقوط الأمطار مباشرة وتمكث فترة قصيرة اسم :

A النبات الحولي      B النبات المعمر      C النبات الزراعي      D النبات الصناعي

34 - منطقة جغرافية قاحلة تتميز بندرة الأمطار :

A الإقليم المناخي      B الصحراء      C الغابات      D الشواطئ

35 - الجالوت سفينة خشبية كانت تستخدم في صيد :

A الأسماك      B ثعابين البحر      C اللؤلؤ      D التجارة

36 - خيوط قطنية تستخدم لسد الفجوات بين الألواح في السفينة :

A حبال السفينة      B المسامير      C الغزل      D الفتايل

37- من أنواع السفن التي كان يصنعها محمد سيف بالقيزي:

A العبرة      B اليخوت      C البغلة      D اللنج

38 - من النباتات الحولية :

A السدر      B السمر      C الغاف      D الحميض

39- استخدم أجدادنا النباتات الطبيعية في :

A الوقود      B العلاج      C الطعام      D كل ما ذكر

40 - تقاطع شوارع المدينة مع بعضها بزوايا قائمة :

A التخطيط الشبكي      B تخطيط المدن      C النمو الاقتصادي      D التخطيط الدائري



41 - من أنواع السفن التي تستخدم للأبحار لمسافات طويلة :

A القطاع B العبرة C السفار D الننج

42- من الكواكب التي رصدها ابن سينا بالعين المجردة كوكب :

A المشتري B بلوتو C الزهرة D زحل

43 - من الأمراض التي تظهر بسبب تلوث الهواء حسب رأي ابن سينا :

A أمراض الكلي B أمراض الحساسية C الزهايمر D أمراض الدم

44 - من أشهر مؤلفات ابن سينا : كتاب :

A القانون في الطب B الفيزياء النووية C بين السرايات D قصتي

45- من مميزات التخطيط الشريطي :

A قلة الازدحام المروري B صعوبة معرفة الاتجاهات C لا يستوعب أعداد سكانية

46 - من أمثلة مدن التخطيط الدائري :

A لندن B أم القيوين C أبو ظبي D عجمان

47 - من أمثلة التخطيط الشبكي :

A رأس الخيمة B باريس C الفجيرة D أبو ظبي

48- تتعدد أسباب نمو المدن منها :

A النمو الاقتصادي B قلة عدد السكان C قلة الازدحام المروري D لاشي مما ذكر

49 - أفضل أشكال التخطيط من حيث الاتصال بين مركز المدينة و الأطراف :

A التخطيط الشبكي B التخطيط الدائري C التخطيط العمراني D التخطيط الشريطي

50- ولد ابن سينا في قرية جميلة من قري بخاري وتقع في دولة :

A أفغانستان B أوزبكستان C إيران D الهند

## السؤال السادس

( أ ) لاحظ الصور التي أمامك ، ثم سجل أنواع الأسواق المتخصصة في دولة الإمارات العربية المتحدة أسفل كل صور باختيار الإجابة الصحيحة من بين القوسين :-

( سوق السمك – سوق الذهب – سوق الخضراوات – سوق الأقمشة )



سوق الذهب



سوق السمك



سوق الخضراوات

( ب ) - سجل اسم النبات الطبيعي الوارد بين القوسين في مكانة الصحيح تحت الصور الآتية :

( السمر – الحميض – الفقع )



السمر



الحميض



الفقع

( ج ) استكمل المخطط الذهني التالي

وظائف الأسرة

تكوين مجتمع صالح  
ملتزم متماسك

تحقيق الراحة  
للأفراد

اكساب الأبناء القيم  
والعادات الحميدة

( ج ) - أستكمل الجدول الآتي بما يناسبه وفق المفردات الواردة بين القوسين :-

( القطاع - الغوص - السفار - السيارة - القلافة - اليخوت - الهند )

م	بلدان	سفن	مهن	لا تنتمي
-1	الهند	السفار	الغوص	السيارة
-2		القطاع - اليخوت	القلافة	

( د ) استكمل بيانات الجدول الآتي بما يناسبه وفق المفردات الواردة بين القوسين :

( السفار - علاج الأمراض - البوم - حطب باقة - الحافظة على التربة من الانجراف - حطب الدوب )

فوائد النبات الطبيعي	سفن خشبية استخدمت في النقل	أنواع من الأخشاب استخدمت في صناعة السفن
علاج الأمراض	السفار	حطب الدوب
الحافظة على التربة من الانجراف	البوم	حطب باقة

عام التسامح

أَخْتَارَ لِلْمَجْمُوعَةِ (ب) رَقْمًا يُنَاسِبُهَا مِنَ الْمَجْمُوعَةِ (أ) وَأَصْعَقَ الرَّقْمَ الْمُنَاسِبَ  
بَيْنَ الْقَوْسَيْنِ:

م	المجموعة (أ)	الرقم المناسب	المجموعة (ب)
1	مَسْؤُولُ السَّلَامِينِ	( )	خُرُوطٌ قُطْرِيَّةٌ تُسْتَعْمَدُ لِسَدِّ الْفُجْوَانِ بَيْنَ الْأَوَاجِ فِي السَّفِينَةِ.
2	الْفَتَايِلُ	( )	سَفِينَةٌ تُسْتَعْمَدُ لِصَيْدِ الْأَلْوَالِ.
3	الْجَالِبُونَ	( )	مِهْنَةٌ صِنَاعَةُ السُّفُنِ فِي الْخَلِيجِ الْعَرَبِيِّ.
4	الْجَلْفَةُ	( )	يَعْمَلُ عَلَى تَشْدِيدِ الْأَوَاجِ السُّفُنِ.

- استكمل المخطط الذهني الآتي للمناصب السياسية التي شغلها ابن سينا :

حكيم الدولة

المستشار  
السياسي

منصب الوزير

- من أبرز العلوم التي نبغ فيها العالم المسلم ابن سينا :

العلوم والصيدلة

الفلك

الطب

أَصِلْ بَيْنَ الْمَفْهُومِ أَوِ الْمَصْطَلَحِ وَالْعِبْرَةِ الدَّالَّةِ عَلَيْهِ فِي كُلِّ مِمَّا يَأْتِي:

المفهوم/المصطلح	العبارَةُ
الهواء الفاسدُ	حَرَكَةٌ طَبِيعِيَّةٌ إِرَادِيَّةٌ تَعْتَمِدُ عَلَى النَّفْسِ.
الرِّيَاضَةُ	يَتَّصِمُنُ وَسَائِلُ مُتَعَدِّدَةٌ: كَوَقْفِ التَّنْزِيهِ، وَالْكَيْ بِالنَّارِ، وَإِدْخَالِ الْفَتَائِلِ.
الأمراضُ الْمُعْجِيَّةُ	يَحْتَوِي عَلَى مَوَادِّ مَلَوْتَةٍ تُؤَدِّي إِلَى الإِصَابَةِ بِالأمْرَاضِ.
عِلْمُ الجِرَاحَةِ	تَدْخُلُ عَنْ طَرِيقِ بَعْضِ الكَائِنَاتِ الدَّقِيقَةِ المَوْجُودَةِ فِي المَاءِ وَالجَوِّ.

## أَسْتَكْمِلُ بَيَانَاتِ الْمُخَطِّطِ الذُّهْنِيَّ الْآتِي:

انْتَقَلَتِ الْهَنْدَسَةُ الْمُعْمارِيَّةُ الْإِسْلَامِيَّةُ إِلَى أَسْوَاقِ الْعَالَمِ الْغَرْبِيِّ

[اجذب انتباه القارئ باستخدام اقتباس كبير من المستند أو استخدام هذه المساحة للتأكيد على نقطة أساسية. لوضع مربع النص هذا في أي مكان بالصفحة، فقط قم بسحبه.]

سَفَرِ الْأُورُوبِيِّينَ  
عَبْرَ الْمُدُنِ الْعَرَبِيَّةِ  
وَالْإِسْلَامِيَّةِ

الفتوحات الإسلامية

الحروب الصليبية

## أَسْتَكْمِلُ بَيَانَاتِ الْمُخَطِّطِ الذُّهْنِيَّ الْآتِي:

أَشْكَالُ تَخْطِيطِ الْمُدُنِ:

التخطيط الشريطي

التخطيط الشبكي

التخطيط الدائري



## أضع المفاهيم والمصطلحات في مكانها الصحيح أمام العبارات الآتية:

- التخطيط الشبكي. • تخطيط المدن • النمو الاقتصادي • التخطيط الدائري
- الشكل العام الذي تتخذه من حيث الإطار الخارجي، وشبكة الشوارع الداخلية (.....).
- تقاطع شوارع المدن مع بعضها بزوايا قائمة (.....).
- أفضل أشكال التخطيط من حيث الاتصال بين مركز المدينة والأطراف (.....).
- زيادة الدخل الحقيقي عبر فترة ممتدة من الزمن، مع توفير الخدمات الإنتاجية والاجتماعية (.....).

## أصوب ما تحته خط في العبارات الآتية:

1. الفسيفساء: هي بزج مُفرغ يلتقط الهواء. (.....)
2. المباني التقليدية: هي مجموعة من الممارسات التي تؤدي إلى كفاءة في استخدام الموارد من طاقة ومياه: (.....)
3. تأسست مدينة القاهرة في العصر الأموي: (.....)
4. أسس سعد بن أبي وقاص مدينة القيدوان: (.....)
5. الهمارستانك هي محطة استراحة للمسافرين. (.....)

## السؤال الثامن

- سجل اثنين لكل مما يلي :

1- إنجازات العالم المسلم ابن سينا .

برع في مجال الجراحة – له دراية بطب الأسنان

ذكر فوائد ممارسة الرياضة – كشف طرق عدوى بعض الأمراض - شرح العضلات الخاصة بالعين

2- مظاهر اهتمام دولة الإمارات العربية المتحدة بالهندسة المعمارية التراثية والتاريخية .

الاهتمام بالقلع والحصون التاريخية

3- العوامل التي ميزت فن العمارة الإسلامية عن غيره من المدارس الفنية .

العامل الديني

العامل الجغرافي

4 – استدعاء سلطان ( بخارى ) لابن سينا رغم حداثة سنه .

نجاحه

نبوغه - تفوقه

5 – أهمية خشب الساج في صناعة السفن .

لا يسرب المياه

لا يتشرب المياه – يقاوم التيارات البحرية

6 – أسباب اهتمام أهل الإمارات بصناعة السفن .

مصدر رزق – الغوص على اللؤلؤ

وسيلة للتنقل والسفر

7- أهمية النباتات الطبيعية .

علاج بعض الأمراض – غذاء للإنسان والحيوان

استخدام الخشب كوقود – المحافظة على التربة من الإنجراف – قيمة جمالية للبيئة

8 – أهداف وكالة الإمارات للفضاء .


ارسال أول مسبار عربي إسلامي إلى المريخ

تحقيق ريادة إماراتية في مجال الفضاء

- اسجل اسم أجهزة الرصد الفلكي تحت كل صورة مستخدما المفاهيم التي بين القوسين :-  
( المزولة الشمسية - التلسكوب - آلة الاسطرلاب )



آلة الاسطرلاب



التلسكوب



المزولة الشمسية

- أكتب أشكال النقود التي تمثلها الصور التالية :-



النقود الورقية



النقود الالكترونية



النقود المعدنية

- أمامك مجموعة من الصور، والمطلوب منك كتابه واجباتك تجاه أسرتك تحت كل صورة :-



أرتب حاجاتي



أقدم المساعدة



أبرهما في الكبر

- من مجموعة الصور التي أمامك سجل أكبر عدد ممكن من الحقوق التي توفرها لك الأسرة :



2- الغذاء


1- السكن

4 - التربية الصالحة

3- الرعاية الصحية



عام التسامح



عام التسامح





عام التسامح