



a)  $9+9$

b)  $8+8$

c)  $6+6$

أي من الأشكال الآتية يوضح المضاعفات ناقص 1 ؟



؟  $5 + 6 = \dots$

أي من الحدود الجمعية لها مجموع

a)  $6+6$

b)  $6+5$

c)  $5+5$

$7+4+3 = \dots$

أوجد ناتج جمع

a) 11

b) 13

c) 14



جمعت عائشة 6 برتقالات وجمعت خولة برتقالات تزيد بواحد عما جمعه عائشة .  
ما عدد البرتقالات التي جمعتها خولة ؟

a) 7

b) 5

c) 6



يوجد 8 بالونات خضراء و 4 بالونات حمراء .  
كم تقل البالونات الحمراء عن الخضراء ؟

a) 12

b) 4

c) 3

اكتب جملة جمع عددية .



$$\underline{\quad} \bigcirc \underline{\quad} + \bigcirc \underline{\quad} = \underline{\quad}$$

اكتب مقدار الزيادة .



هناك 8 قمصان وهناك 3 بناطيل .  
كم تزيد القمصان عن البناتيل ؟

$$\underline{\quad} \bigcirc \underline{\quad} = \underline{\quad}$$

قمصان أكثر

28) تمتلك خديجة 8 فلسات في جيبها الأيمن وتمتلك 5 فلسات في جيبها الأيسر .

فما عدد الفلوسات التي تمتلكها إجمالاً ؟

$$\begin{array}{r} \square \\ + \square \\ \hline \square \end{array} \rightarrow \begin{array}{r} 10 \\ + \square \\ \hline \square \end{array}$$

فلساً

-----



29) يرى محمد 7 عصافير على الشجرة . طارت 5 عصافير منها بعيداً .

كم عدد العصافير المتبقية ؟

عصفور

\_\_\_\_\_

21)

$$\begin{array}{r} 7 \\ + 6 \\ \hline \end{array}$$

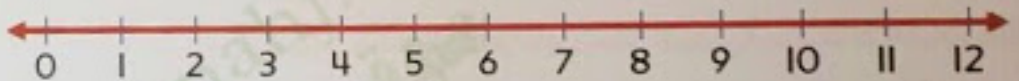
22)

$$\begin{array}{r} 4 \\ 3 \\ + 4 \\ \hline \end{array}$$

23)

$$\begin{array}{r} 10 \\ - 2 \\ \hline \end{array}$$

2) اكتب المجموع باستخدام خط الأعداد أدناه .



$$7 + 4 = \text{-----}$$

3) اكتب حقائق الطرح المترابطة .

$$4 + 5 = 9$$

$$\underline{\quad} - \underline{\quad} = \underline{\quad}$$


$$\underline{\quad} - \underline{\quad} = \underline{\quad}$$





(1) اكتب جملة الطرح العددية التي تمثل

- a)  $4 + 2 = 6$       b)  $6 - 4 = 2$       c)  $6 - 3 = 3$



(11) أي جملة الطرح توضح

- a) 
$$\begin{array}{r} 8 \\ - 2 \\ \hline 6 \end{array}$$
      b) 
$$\begin{array}{r} 2 \\ - 2 \\ \hline 0 \end{array}$$
      c) 
$$\begin{array}{r} 6 \\ - 2 \\ \hline 4 \end{array}$$

(12) اشترت هند 4 فطائر وأكلت 3 منها . كم عدد الفطائر المتبقية لديها ؟



(12) اشترت هند 4 فطائر وأكلت 3 منها . كم عدد الفطائر المتبقية لديها ؟

- a) 1      b) 0      c) 3

(13) أي من عبارات الطرح الآتية خطأ ؟

- a)  $4 - 4 = 0$       b)  $9 - 2 = 6$       c)  $2 - 1 = 1$



(14) عد مجموعة الفلاس

- a) 13      b) 12      c) 11

6) أي مما يلي ناتج جمعه يساوي 6 ؟



a)  $3+3$

b)  $3+4$

c)  $5+3$

أقلام تلوين .



لدى حصة

كم عدد الأقلام الإضافية التي يجب أن تحصل عليها حصة ليصبح لديها 9 أقلام تلوين ؟

a) 2

b) 3

c) 4

جزء	جزء
	3
الكل	
10	

7) أوجد الجزء الناقص من العدد 10 .

a) 6

b) 3

c) 7

8) أي من عبارات الجمع الآتية صحيحة ؟

a)  $8+2=9$

b)  $1+5=6$

c)  $2+0=0$

9) ما الفرق في جملة الطرح ؟  $5-2=3$

a) 5

b) 2

c) 3



المسألة : الرياضيات

عدد صفحات الأسئلة : ( 6 )

امتحان نهاية الفصل الدراسي الأول  
للعام الدراسي 2018 / 2017 م

الصف : الأول

60

السؤال الأول

ضع دائرة حول رمز الإجابة الصحيحة فيما يأتي :

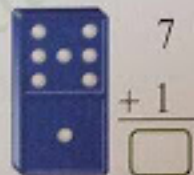


(1) كم عدد الأكواب الموجودة إجمالاً ؟

a) 6

b) 5

c) 2



(2) أوجد ناتج جمع

a) 7

b) 1

c) 8

$$4 + 0 = \dots\dots\dots$$

(3) أوجد ناتج جمع

a) 0

b) 4

c) 3

(4) أي مما يلي إحدى طرق تكوين العدد 5 ؟

- a)
- b)
- c)