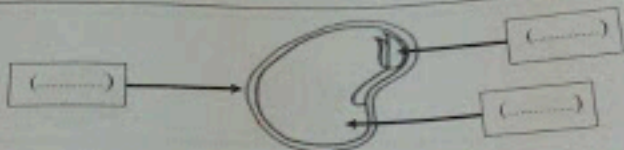


اربعاً: ماذا يأكل هذا الحيوان ليعيش ؟ حوطة لجانته



خاصةً: أكتب الرقم الصحيح لأجزاء البذرة في مكانها المناسب.

1- غشاء البذرة 2- غذاء البذرة 3- البنية الصغيرة



السؤال الثاني

حوط الإجابة الصحيحة.

25

1- جزء النبات الذي يصنع البذور هو.



2- كائن غير حي.



3- حيوان من الزواحف

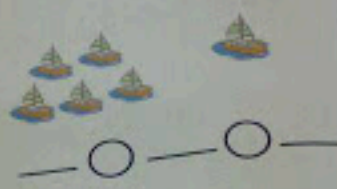


15

السؤال الثالث

أولاً:

(12) اكتب جملة جمع مناسبة.



ثانياً:

(13) اكتب الجزء الناقص من العدد 10.

الجزء	الجزء	الجزء
الجزء	3	الجزء
الجزء	10	الجزء

$3 + \square = 10$

(14) في بيت محمد 5 قطط وفي بيت حسن 3 قطط . كم عدد القطط الموجودة عندهما إجمالاً ؟



ثالثاً:

(15) في حفلة عيد ميلاد حصة كان هناك 7 باتونات . أهدت 5 من الباتونات إلى صديقاتها . كم عدد الباتونات المتبقية لديها ؟



_____ - _____ = _____
_____ + _____ = _____

انتهت الأسئلة بالتوفيق والنجاح



المسارات المعلوم
لدى الإجابة حسب الجدول المرفق
عدد صفحات الأسئلة: (3)

امتحان نهاية الفصل الدراسي الأول للصف الأول
للعام الدراسي 2016 / 2017 م
أجب عن جميع الأسئلة الآتية

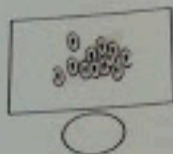

السؤال الأول

25

أولاً: ضع إشارة (✓) أمام العبارات الصحيحة وإشارة (×) أمام العبارات الخاطئة فيما يلي :

- (1) الكائنات الحية تنمو وتتغير. ()
- (2) تحتاج النباتات إلى الماء فقط. ()
- (3) أمدان الحروف حادة. ()
- (4) عندما يقف الطائر الصغير من البيضة يستلعب الطيران. ()
- (5) الطاولة والكرسي من الكائنات الحية. ()

ثانياً: رتب مراحل نمو الضفدع بكتابة الأرقام 1، 2، 3، 4 في مكانها المناسب:



رمل بخط مستقيم بين الحيوان والمجموعة التي ينتمي إليها.



الحشرات

الثدييات

الزواحف

الطيور

الأسماك