

تم تحميل هذا الملف من موقع المناهج الإماراتية



*للحصول على أوراق عمل لجميع الصفوف وجميع المواد اضغط هنا

<https://almanahj.com/ae>

* للحصول على أوراق عمل لجميع مواد الصف الأول اضغط هنا

<https://almanahj.com/ae/1>

* للحصول على جميع أوراق الصف الأول في مادة رياضيات وجميع الفصول, اضغط هنا

<https://almanahj.com/ae/1math>

* للحصول على أوراق عمل لجميع مواد الصف الأول في مادة رياضيات الخاصة بـ الفصل الثاني اضغط هنا

<https://almanahj.com/ae/1math2>

* لتحميل كتب جميع المواد في جميع الفصول للـ الصف الأول اضغط هنا

<https://almanahj.com/ae/grade1>

للتحدث إلى بوت المناهج على تلغرام: اضغط هنا

https://t.me/almanahj_bot

الرياضيات (الصف الأول)

جمع العشرات والاحاد مع اعادة
التجميع

نواتج التعلم:

جمع عدد مكون من رقم مع عدد مكون من رقمين مع اعادة
التجميع

I ♥
Math 😊



أوجد مجموع 8 + 13.

الخطوة 1

عدّ الآحاد.



الخطوة 2

حوّط 10 آحاد.



الخطوة 3

أعدّ جميع 10 آحاد في صورة عشرة واحدة.




إرشاد مفيد

انقل الآحاد إلى عمود العشرات.
10 آحاد = عشرة واحدة


عشرات 2 و آحاد 1 إذا يكون مجموعهما 21.

حَوِّطِ الأَحَادَ لِتَوْضِيحِ إِعَادَةِ التَّجْمِيعِ. اكْتُبْ إِجَابَتَكَ.

1. $15 + 5 = \underline{20}$

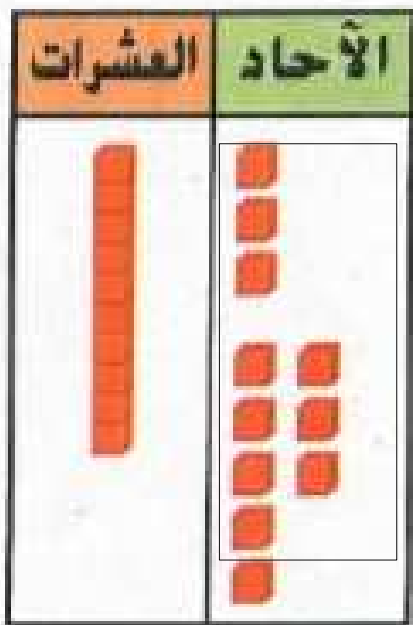


2. $19 + 4 = \underline{23}$

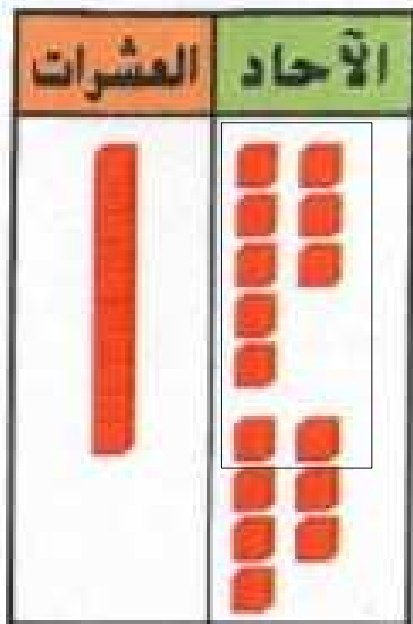


حَوِّطِ الْأَحَادَ لِتَوْضِيحِ إِعَادَةِ التَّجْمِيعِ. اكَتُبْ إِجَابَتَكَ.

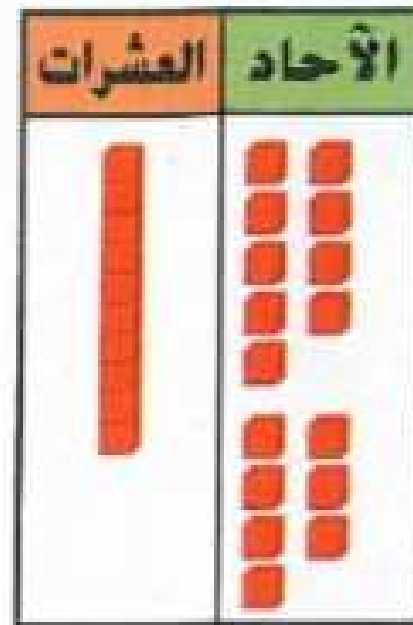
3. $13 + 8 = \underline{21}$



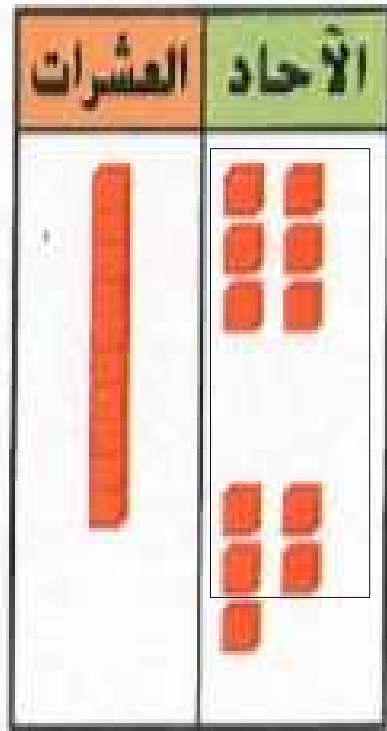
4. $18 + 7 = \underline{25}$



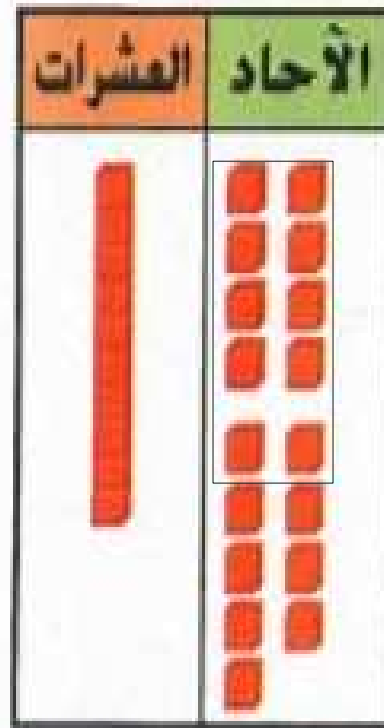
5. $19 + 7 = \underline{26}$




$$6. 16 + 5 = \underline{21}$$




$$7. 18 + 9 = \underline{27}$$




$$8. 12 + 8 = \underline{20}$$




$$9. 17 + 7 = \underline{24}$$



$$10. 19 + 9 = \underline{28}$$



$$11. 16 + 7 = \underline{23}$$



الممارسات
الرياضية



حَلُّ الْمَسَائِلِ

12. ذَهَبَ صَفٌّ مَنَى الدَّرَاسِيَّ إِلَى حَدِيقَةِ الْحَيَوَانَاتِ.
شَاهَدَ 16 طَالِبًا الْأَسْوَدَ. كَمَا شَاهَدَ 8 طُلَّابٍ آخَرِينَ
الْقُرُودَ. فَكَمْ عَدَدَ الطُّلَّابِ الَّذِينَ ذَهَبُوا إِلَى حَدِيقَةِ
الْحَيَوَانَاتِ إِجْمَالًا؟

$$16 + 8 = 24$$

طالِبًا _____

13. لَدَى فَارِسٍ 14 لُعْبَةً فِيدِيُو.
إشْتَرَى 9 أَلْعَابٍ فِيدِيُو أُخْرَى.
فَمَا عَدَدُ أَلْعَابِ الْفِيدِيُو الَّتِي لَدَى فَارِسٍ إِجْمَالًا؟

لُعْبَةً فِيدِيُو _____

$$14 + 9 = 23$$

2
3

23