

تم تحميل هذا الملف من موقع المناهج الإماراتية



almanahj.com

موقع  
المناهج الإماراتية

\*للحصول على أوراق عمل لجميع الصفوف وجميع المواد اضغط هنا

<https://almanahj.com/ae>

\* للحصول على أوراق عمل لجميع مواد الصف الأول اضغط هنا [1/ae/com.almanahj//:https](https://almanahj.com/ae/1)

\* للحصول على جميع أوراق الصف الأول في مادة رياضيات ولجميع الفصول, اضغط هنا [1math/ae/com.almanahj//:https](https://almanahj.com/ae/1math)

\* للحصول على أوراق عمل لجميع مواد الصف الأول في مادة رياضيات الخاصة بـ الفصل الثاني اضغط هنا

<https://almanahj.com/ae/1math2>

\* لتحميل كتب جميع المواد في جميع الفصول للـ الصف الأول اضغط هنا [grade1/ae/com.almanahj//:https](https://almanahj.com/ae/grade1)

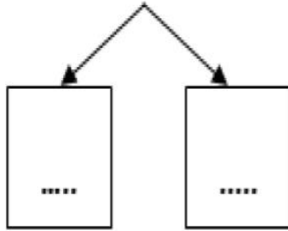
\* لتحميل جميع ملفات المدرس هند كامل وصفاة خير اضغط هنا

للتحدث إلى بوت المناهج على تلغرام: اضغط هنا [bot\\_almanahj/me.t//:https](https://t.me/bot_almanahj)

ورق عمل رياضيات  
الفصل الدراسي الثاني العام الدراسي 2018-2019

السؤال الاول : باستخدام تكوين **10** للطرح اوجد الناتج:

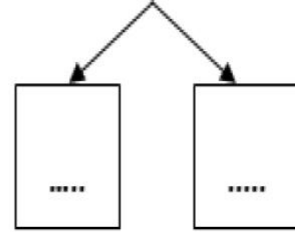
$$14 - 7 = \dots$$



$$14 - \dots = \dots$$

$$\dots - \dots = \dots$$

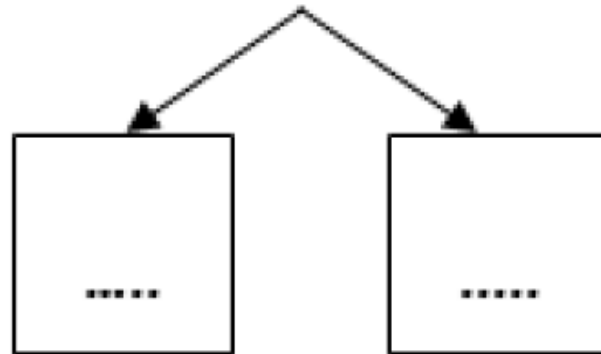
$$15 - 8 = \dots$$



$$15 - \dots = \dots$$

$$\dots - \dots = \dots$$

$$18 - 9 = \dots$$



$$18 - \dots = \dots$$

$$\dots - \dots = \dots$$