

احصل على جميع روابط الصفوف

وفق المنهاج الإماراتي

عبر بوت الروابط على تلغرام

t.me/uaelinks_bot

4) كم شخصًا اختار الجمعة والسبت؟



a) 5

b) 8

c) 7

5) حدد الجسم الأقصر.

a)



b)



c)



alManahj.com/ae



6) كم عملة معدنية يبلغ طول الجسم تقريبًا؟

a) 5

b) 2

c) 1



7) ما الوقت الموضح؟

a) 9 : 00

b) 12 : 00

c) 6 : 00

- يحظر تصوير أو تداول الورقة الامتحانية قبل أو أثناء أو بعد الامتحان من خلال البريد الالكتروني أو وسائل التواصل الاجتماعي أو أي وسيلة أخرى ومن يخالف ذلك سيتم في حقه الإجراءات القانونية المتبعة.
- على إدارات المدارس ولجان الامتحانات ومراكز التقدير مراعاة ذلك، ورصد المخالفات، واتخاذ الإجراءات اللازمة.



13) ما الشكل الذي له 3 أضلاع و3 رؤوس؟

- a) مربع b) دائرة c) مثلث

14) ما عدد المثلثات المكونة للشكل؟

- a) 2 b) 4 c) 3

15) أي الأشكال الهندسية مستخدمة في تكوين الشكل؟



alManahj.com/ae

- a)  b)  c) 

16) أي شكل يعرض الأجزاء المتساوية؟

- a)  b)  c) 

- يحظر تصوير أو تداول الورقة الإمتحانية قبل أو أثناء أو بعد الامتحان من خلال البريد الإلكتروني أو وسائل التواصل الاجتماعي أو أي وسيلة أخرى ومن يخالف ذلك سيعقد في حقه الإجراءات التأديبية المترتبة.
- على إدارات المدارس ولجان الإمتحانات ومراكز التقدير مراعاة ذلك. وبعد المحادثات واتخاذ الإجراءات اللازمة.



8) أي ساعة تظهر 6 ونصفاً؟



9) الوقت على الساعة يزيد بمقدار ساعة عن 1:00. كم الساعة؟



10) يقف عقرب الساعات بين 10 و11، وعقرب الدقائق يقف على 6. أي ساعة هذه؟



alManahj.com/ae

11) ما عدد أضلاع الشكل؟



a) 6

b) 4

c) 8

12) ما عدد رؤوس الشكل؟



a) 4

b) 8

c) 6

- يحظر تصوير أو تداول الورقة الامتحانية قبل أو أثناء أو بعد الامتحان من خلال البريد الإلكتروني أو وسائل التواصل الاجتماعي أو أي وسيلة أخرى ومن يخالف ذلك سيخضع في حقته الإجراءات القانونية المتبعة.
- على إدارات المدارس ولجان الامتحانات ومراكز التقدير مراعاة ذلك، ورصد المخالفين واتخاذ الإجراءات اللازمة.



(17) مع هداية بسكوته، ولها 3 أصدقاء يريدون مشاركتها البسكوته.
ما عدد الأجزاء المتساوية التي تحتاج هداية إليها؟

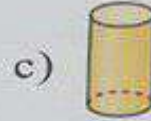
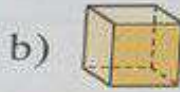


a) 2

b) 3

c) 4

(18) أنا شكل ثلاثي الأبعاد. أوجهي على شكل مربعات. أي شكل أنا؟



(19) ما عدد الأوجه في المكعب والأسطوانة إجمالاً؟

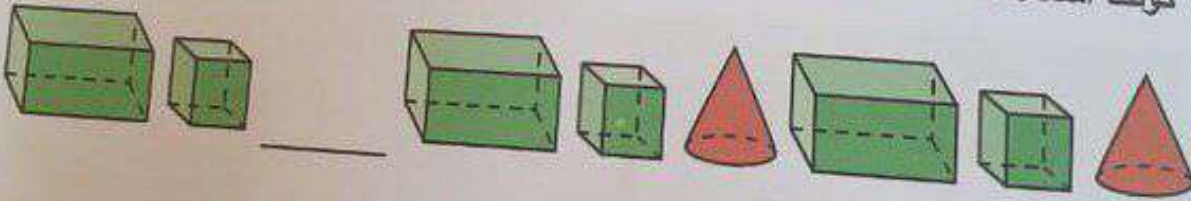


a) 8

b) 6

c) 7

(20) كونت أسماء هذا النمط. ما الشكل الناقص؟



- يحظر تصوير أو تداول الورقة الامتحانية قبل أو أثناء أو بعد الامتحان من خلال البريد الإلكتروني أو وسائل التواصل الاجتماعي أو أي وسيلة أخرى
ومن يخالف ذلك سيتم في حقه الإجراءات القانونية المتبعة
- على إدارات المدارس ولجان الامتحانات ومراكز التقدير مراعاة ذلك، وبعد المخالفات واتخاذ الإجراءات اللازمة



الجزء الأول

60

ضع دائرة حول رمز الإجابة الصحيحة فيما يأتي:

(1) كم شخصاً إجمالاً شاركوا في استطلاع الرأي؟

الرياضة المفضلة	
الرياضة	علامات الاحصاء
 كرة القدم	
 كرة السلة	

a) 12

b) 13

c) 10

(2) كم شخصاً اختار الأخضر؟

اللون المفضل	
 أزرق	     
 أخضر	    

a) 4

b) 10

c) 6

(3) ما الفاكهة التي حصلت على 3 أصوات؟

الفاكهة المفضلة	
 تفاح	    
 موز	  
 فراولة	     

a) فراولة

b) تفاح

c) موز

- يحظر تصوير أو تداول الورقة الامتحانية قبل أو أثناء أو بعد الامتحان من خلال البريد الإلكتروني أو وسائل التواصل الاجتماعي أو أي وسيلة أخرى
ومن يتطاف ذلك سيخضع في حقه الإجراءات القانونية المتبعة.

- على إدارات المدارس ولجان الامتحانات ومراكز التقدير مراعاة ذلك ورصد المقاطعات، واتخاذ الإجراءات اللازمة.

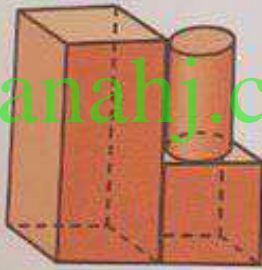


25 ما عدد أشباه المنحرفات التي تحتاج إليها من أجل تكوين هذا الشكل؟
ارسم خطوطاً مستقيمة لبيان أشباه المنحرفات.



أشباه منحرفات _____

26 حوِّط الأشكال المستخدمة لتكوين الشكل المركب.



alManahj.com/ae



انتهت الأسئلة
بالتوفيق والنجاح

- يحظر تصوير أو تداول الورقة الامتحانية قبل أو أثناء أو بعد الامتحان من قبل البريد الإلكتروني، أو وسائل التواصل الاجتماعي أو أي وسيلة أخرى
ومن يخالف ذلك سيخضع في حقه الإجراءات القانونية المنبئة.
- على إدارات المدارس ولجان الامتحانات ومراكز التفتيش مراعاة ذلك، ورصد المخالفات واتخاذ الإجراءات اللازمة.



تابع امتحان نهاية الفصل الدراسي الثالث لمادة الرياضيات للصف الأول للعام الدراسي 2018/2019م

(23) ارسم عقرب الدقائق لعرض الوقت، واكتب الوقت على الساعة الرقمية.

الساعة الثالثة والنصف



(24) رسم عماد الأشكال الموضحة أدناه.



(a) ما عدد الأشكال التي لها 4 أضلاع؟

أشكال _____

(b) ما عدد الأشكال التي لها 0 رؤوس؟

أشكال _____

يحظر تصوير أو تداول الورقة الامتحانية قبل أو أثناء أو بعد الامتحان من خلال البريد الإلكتروني أو وسائل التواصل الاجتماعي أو أي وسيلة أخرى ومن يخالف ذلك سيعتقد في حقه الإجراءات القانونية المتبعة على إدارات المدارس ولجان الامتحانات ومراكز التقدير مراعاة ذلك، ورصد المخالفات واتخاذ الإجراءات اللازمة

(21) اكتب القيم الإجمالية في جدول العلامات.

المركبة المنضلة		
المركبة	علامات الاحصاء	الإجمالي
 سيارة		---
 فان		---
 شاحنة		---

(b) استخدم جدول العلامات أعلاه في رسم تمثيل بياني بالأعمدة.

المركبة المنضلة										
 سيارة										
 فان										
 شاحنة										
	0	1	2	3	4	5	6	7	8	9

(22) ثمرة بطيخ تنمو بمقدار 1 مكعب كل يوم، وفي يوم الإثنين كان طولها 6 مكعبات. كم يبلغ طول الثمرة من المكعبات في يوم الأربعاء؟ أوجد الحل بإكمال الجدول.



الأيام	المكعبات
الاثنين	---
الثلاثاء	---
الأربعاء	---

يحظر تصوير أو تداول الورقة الامتحانية قبل أو أثناء أو بعد الامتحان من خلال البريد الإلكتروني أو وسائل التواصل الاجتماعي أو أي وسيلة أخرى ومن يخالف ذلك سيعقد في حقهِ الإجراءات القانونية المناسبة على إدارات المدارس ولجان الامتحانات ومراكز التقدير مراعاة ذلك وتبعد المخالفات واتخاذ الإجراءات اللازمة