

تم تحميل هذا الملف من موقع المناهج الإماراتية



almanahj.com

موقع  
المناهج الإماراتية

\*للحصول على أوراق عمل لجميع الصفوف وجميع المواد اضغط هنا

<https://almanahj.com/ae>

\* للحصول على أوراق عمل لجميع مواد الصف السابع اضغط هنا <https://almanahj.com/ae/7>

\* للحصول على جميع أوراق الصف السابع في مادة اجتماعيات ولجميع الفصول, اضغط هنا [7social/ae/com.almanahj//:https](https://almanahj.com/ae/7social)

\* للحصول على أوراق عمل لجميع مواد الصف السابع في مادة اجتماعيات الخاصة بـ الفصل الأول اضغط هنا

<https://almanahj.com/ae/7social1>

\* لتحميل كتب جميع المواد في جميع الفصول للـ الصف السابع اضغط هنا [grade7/ae/com.almanahj//:https](https://almanahj.com/ae/grade7)

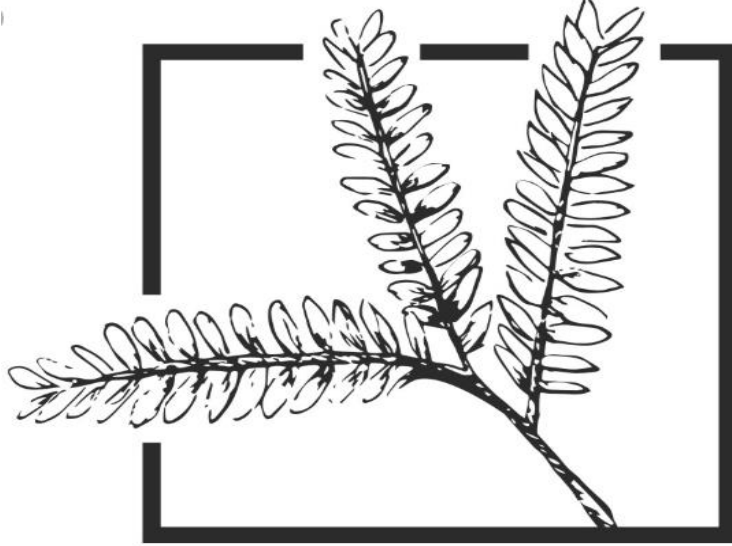
\* لتحميل جميع ملفات المدرس محمد سيد أحمد اضغط هنا

للتحدث إلى بوت المناهج على تلغرام: اضغط هنا [bot\\_almanahj/me.t//:https](https://t.me/bot_almanahj)



وزارة التربية والتعليم  
MINISTRY OF EDUCATION

وزارة التربية والتعليم  
دائرة التعليم والمعرفة  
مدرسة المتنبى ح 2  
قسم الاجتماعيات



عام التسامح  
YEAR OF TOLERANCE

مراجعة الفصل الدراسي الأول لمادة الدراسات  
الاجتماعية والتربية الوطنية للصف السابع

(العام الدراسي 2019 / 2020 م )

اعداد أ / محمد سيد أحمد

ملحوظة :- أوراق المراجعة لاتغني عن الكتاب المدرسي

## المجموعة الأولى :- اقرأ النص الآتي ثم أجب :-

اشتهرت شبه الجزيرة العربية منذ القدم بالصناعة، وبخاصة الصناعة الحرفية التي قامت على ركيزتين هما: الزراعة والتعدين، وقد اشتهرت اليمن بصناعة البرد اليمانية، وعرفت المدينة بصياغة الحلي، وصناعة السيوف والدروع، كما اشتهرت مكة بحرفة الحدادة، وصناعة البسط والخيام، ونتيجة لتوافر مقومات الصناعة في شبه الجزيرة العربية، فقد تطورت منذ مطلع السبعينيات من القرن الماضي، لأهميتها في تنويع الإنتاج ومن أبرز هذه المقومات الايدي العاملة و المواد الخام ورؤوس الأموال .

1 - ضع عنوانا مناسباً للنص

2 - استخرج أهم الصناعات التي اشتهرت بها كل من

اليمن ..... المدينة .....  
مكة .....

3 - وضح مقومات الصناعة في شبه الجزيرة العربية .



إن مشاركة دولة الإمارات العربية المتحدة في التحالف العربي لاستعادة الشرعية في اليمن الشقيق "عاصفة الحزم" وإعادة الأمن والاستقرار إليها حتمتها مجموعة من المبررات منها الدفاع عن المقدسات الإسلامية والوقوف إلى جانب المملكة العربية السعودية والحفاظ على عروبة اليمن، ووضع حد لخطر التوسع الإيراني في المنطقة.

1- استخلص الفكرة الرئيسية من النص .

2 - استخرج من النص اثنتين من القيم الايجابية .

3 - من خلال دراستك السابقة وضح الدول المشاركة في عاصفة الحزم

4 - فسر. مشاركة دولة الإمارات العربية المتحدة في عاصفة الحزم

دولة الإمارات العربية المتحدة دولة اتحادية اتحدت وتآلفت بفكر قيادتها الرشيدة وتماسك أبنائها، وحفاظهم على هويتهم الوطنية المستمدة من الدين الاسلامي واللغة العربية والعادات والتقاليد العربية الأصيلة، فحب الوطن قصة خالدة بين أبناء الدولة فهم من يضحوا بالغالي والنفيس من اجل سموه ورفعته وتحقيق أمنه واستقراره والحرص على التطور من اجله .

1 – استخرج الفكرة الرئيسية للنص

2 – استخرج اثنتين من القيم الوطنية

3 – وضح من النص روابط الوحدة في بلادي .

4 – اكتب مفهوم الوطنية كما فهمت من النص

تعد القبيلة دعامة الحياة السياسية عند العرب قبل الإسلام، ولم تنصهر القبائل في شعب واحد وإنما ظلت تحتفظ بتنظيمها القبلي، ولكن بعد ظهور الإسلام الذي وضع تشريعات عامة للحكم كالعدل والشورى انتشر الأمن والأمان في بلاد العرب وأمنت السبل وطرق التجارة، لذا تحرص الدول على إنشاء مجالس استشارية ومن أمثلة ذلك (المجلس الوطني الاتحادي) في دولة الإمارات العربية المتحدة

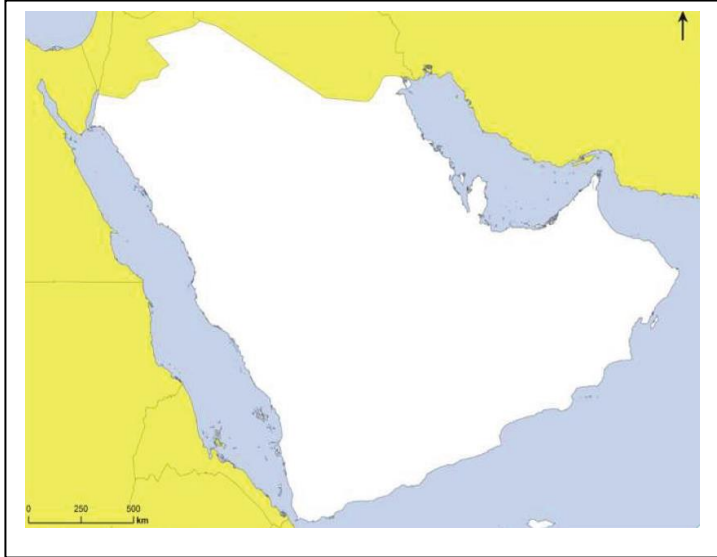
1- استخلص الفكرة الرئيسية من النص .

2 – استخرج من النص اثنتين من القيم السلوكية الإيجابية .

3 – أبين من النص أهمية العدل والشورى .

4 – اذكر مثال على المجالس الاستشارية في دولة الإمارات العربية المتحدة

## المجموعة الثانية ( قراءة الخرائط والصور والجدول )



أمامك خريطة صماء لدول شبه الجزيرة العربية

وضح عليها مايلي :

1 - الخليج العربي

2 - بحر عمان

3 - البحر الأحمر

4 - دولة الإمارات العربية المتحدة

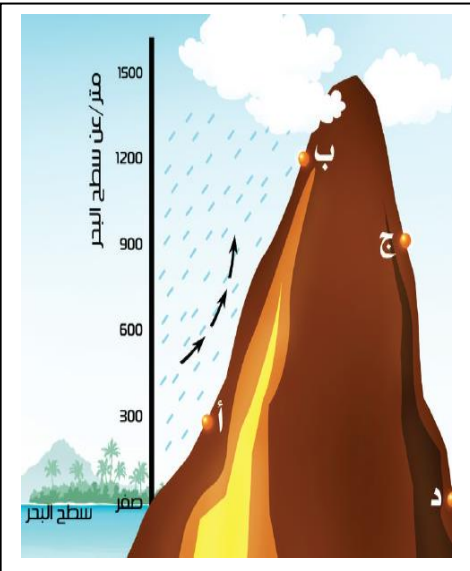
5 - مضيق هرمز

6 - مضيق باب المندب

9 - بحر العرب

8 - جبال مدين

7 - مملكة معين



1 - أبين أيهما أكثر أمطارا ، المنطقة (أ) أم المنطقة (ب) مع ذكر السبب

2 - أبين أيهما أكثر أمطارا ، السفح (ب) أم السفح (ج) مع ذكر السبب

أقرأ الجدول الذي يبين عدد سكان شبه الجزيرة العربية ثم أجب

1 - احسب الزيادة في مجموع عدد سكان

شبه الجزيرة العربية بين عامي 2008م و2015م

2 - نسبة سكان دولة الإمارات العربية المتحدة من جملة

سكان دول شبه الجزيرة العربية عام 2015 م

3 - من خلال الجدول استخرج حقيقة جغرافية

الدولة	عدد السكان عام 2008م (مليون نسمة)	عدد السكان عام 2015م (مليون نسمة)
دولة الإمارات العربية المتحدة	4.7	8.7
المملكة العربية السعودية	24.8	31.5
سلطنة عمان	2.8	4.1
دولة الكويت	3.4	4.2
دولة قطر	1.4	2.4
مملكة البحرين	1.1	1.3
الجمهورية اليمنية	24.3	26.6
المجموع / المعدل	62.5	78.8

⦿ ألاحظ خريطة أهم المناطق الزراعيّة في دول شبه الجزيرة العربيّة، وأستكمل الجدول الآتي:



أهم المناطق الزراعيّة في شبه الجزيرة العربيّة

الدولة	أبرز المناطق الزراعيّة
دولة الإمارات العربيّة المتّحدة	و
المملكة العربيّة السّعوديّة	و المدينة
سلطنة عمان	و ظفار
الجمهورية اليمنيّة	و مأرب

أقرأ خريطة توزيع حقول النفط والغاز الطبيعي في دول شبه الجزيرة العربيّة، وأستكمل الجدول الآتي :



التنفّط في دول الخليج العربيّة



التنفّط في جمهورية اليمن

الدولة	أهم الحقول
دولة الإمارات العربيّة المتّحدة	و باب
المملكة العربيّة السّعوديّة	و الغوار
سلطنة عمان	و ناطح
دولة الكويت	و
دولة قطر	و دخان
مملكة البحرين	و
الجمهورية اليمنيّة	و المهرة



○ أقرأ خريطة استقرار آل خليفة في البحرين، وأستكمل بيانات الجدول الآتي:



.....	المعركة
1783م	السنة
.....x.....	الأطراف
.....	النتائج

- تحرير البحرين من الفرس.

○ أستنتج أسماء البيئات الطبيعية في وطني من الصور الآتية، وأسجلها.

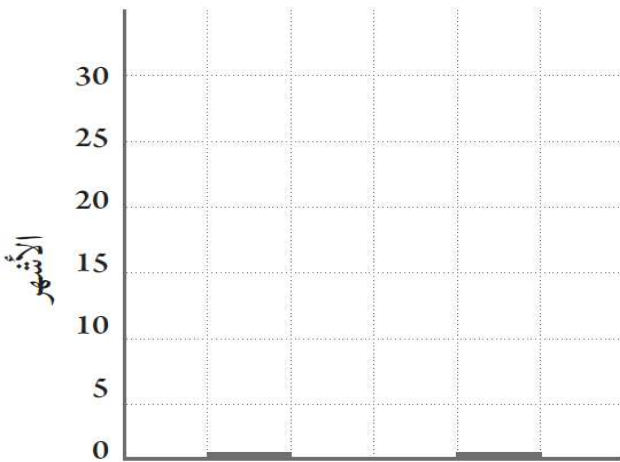


..... البيئة

..... البيئة

..... البيئة

..... البيئة الزراعيّة



○ أمثل بطريقة الأعمدة البيانية مدّة الخدمة الوطنيّة للذكور الحاصلين على الثانويّة العامّة والذين لم يحصلوا عليها:

- أحسب الفرق في مدّة الخدمة الوطنيّة بين الحاصلين على الثانويّة العامّة والذين لم يحصلوا عليها.

.....

.....



**المجموعة الثالثة :- اختر الإجابة الصحيحة من بين الأقواس فيما يلي :-**

1 - يقصد به موقع المكان بالنسبة لخطوط الطول ودوائر العرض هو.....

(الموقع النسبي - الموقع الفلكي - الموقع المكاني)

2- تقع شبه الجزيرة العربية بالنسبة لقارة آسيا في الركن.....

(الشمالي الشرقي - الجنوب الغربي - الجنوب الشرقي)

3 - دائرة العرض الرئيسية التي تمر بأراضي شبه الجزيرة العربية هي.....

(خط الاستواء - مدار الجدي - مدار السرطان)

4 - أعلى قمة جبلية في شبه الجزيرة العربية هي جبل.....

(طوبقال - النبي شعيب - الحجاز)

5 - الزيادة الناجمة عن هجرة السكان إما داخلياً من منطقة إلى أخرى أو من دولة إلى أخرى هي

(الزيادة غير الطبيعية - الزيادة الطبيعية - الكثافة السكانية)

6 - من المناطق التي تسقط عليها الأمطار صيفا في شبه الجزيرة العربية.....

(جبال عمان - مرتفعات اليمن - دولة الإمارات العربية المتحدة)

7 - توزيع السكان على حسب الفئات العمرية يعرف باسم.....

( التركيب العمري للسكان - التركيب النوعي للسكان - الهجرة )

8 - من النباتات الحولية في شبه الجزيرة العربية هو.....

( النخيل - الغاف - الحميض )

9 - من الممالك التي نشأت في جنوب شبه الجزيرة العربية.....

( تدمر - الأنباط - معين )

10 - الجهة المسؤولة عن إصدار النقود في دولة الإمارات العربية المتحدة هي.....

( بنك دبي الاسلامي - مصرف الإمارات المركزي - بنك ابوظبي الوطني )

11 - أحد من هذه الخيارات ليست من عيوب المقايض :

(تبادل سلعه بأخرى - صعوبة توافق رغبات الأفراد - صعوبة تجزئة السلع )

12 - السجل الذي تدون فيه الأعمال والأموال والقائمون بها أو عليها هو.....

( الوزارة - الملأ - الديوان )

13- مؤسس المملكة العربية السعودية هو الملك.....

( سلمان بن عبدالعزيز آل سعود - فهد بن عبدالعزيز آل سعود - عبدالعزيز آل سعود )





14 - عبارة عن أرخبيل جزري وتلقب بلؤلؤة الخليج هي .....

( دولة الكويت - مملكة البحرين - سلطنة عمان )

15 - الحاكم الحالي لدولة الكويت هو الشيخ .....

( صباح الأحمد الصباح - جابر بن أحمد الصباح - مبارك بن أحمد الصباح )

16 - موروث مشترك من المبادئ والقيم والعادات بين الأفراد في الدولة الواحدة تعرف باسم .....

( المواطنة الصالحة - الولاء - الانتماء )

17 - مدة الخدمة الوطنية للإناث بغض النظر عن المؤهل العلمي هي .....

( 18 شهر - 12 شهر - 24 شهر )

18 - مصمم علم دولة الإمارات العربية المتحدة هو .....

( الشيخ راشد رحمه الله - سعادة عبدالله محمد المعينة - الشيخ زايد - رحمه الله - )



19 - أول شهيد في دولة الإمارات العربية المتحدة هو .....

( سالم سهيل خميس - جمعة محمد الكعبي - أحمد راشد المزروعى )

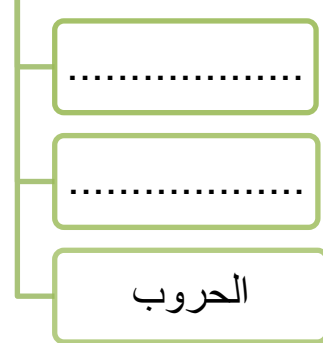
20 - تحتفل دولة الإمارات العربية المتحدة كل عام بيوم العلم في .....

( 2 ديسمبر - 30 نوفمبر - 3 نوفمبر )

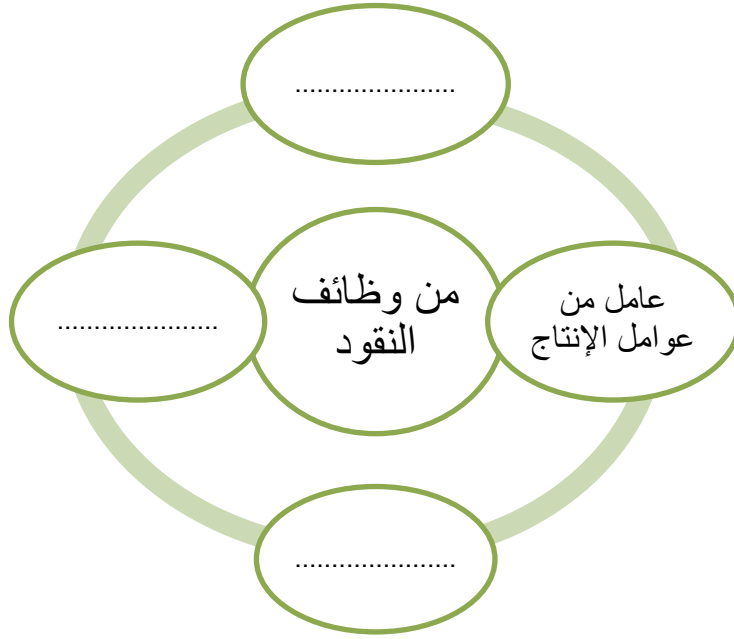
المجموعة الرابعة : - أكمل المخطط الذهني التالي : -



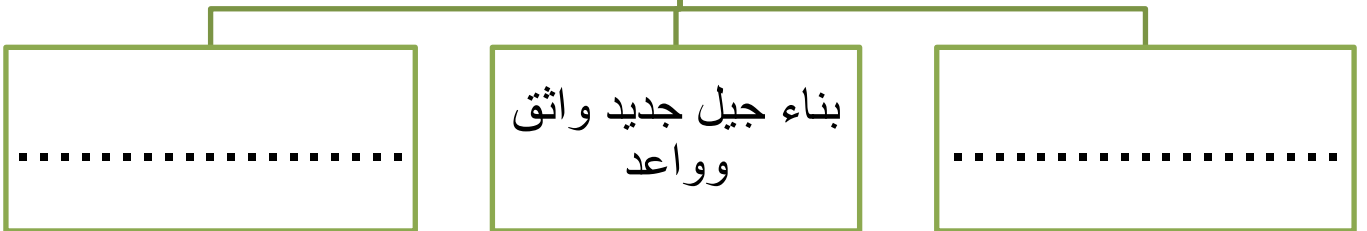
العوامل الطبيعية المؤثرة في  
توزيع السكان



العوامل الطبيعية المؤثرة في  
توزيع السكان



من الأهداف التي تسعى  
الخدمة الوطنية لتحقيقها



انتهت الأسئلة

مع تمنياتي لكم بالتفوق والنجاح

معلم المادة أ/ محمد سيد أحمد