

أجب عن جميع الأسئلة الآتية:

السؤال الأول:

□- ضع إشارة ( ✓ ) في مربع الإجابة الصحيحة من بين البدائل التالية:

1- يقصد بموقع المكان بالنسبة لخطوط الطول ودوائر العرض الموقع:

□- النسبي □- المكاني □- الفلكي □- الإقليمي

2- تسمى الرياح المحلية التي تهب على دول شبه الجزيرة العربية بعدة مسميات منها:

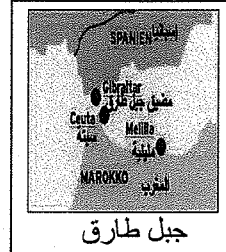
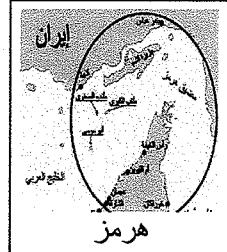
□- الطوز □- السيروكو □- الهبوب □- السولانو

3- كي تتم عملية المقايضة لأبد من توافر شروط عدة منها:

□- الرغبة لدى المتعاملين □- عدم احتياج الشخص الأول لسلعة الشخص الثاني

□- اتمام عملية المقايضة في وقت النهار فقط □- عدم تنوع السلع والخدمات في المجتمع

4- الممر المائي الذي يصل بين البحر الأحمر وبحر العرب هو مضيق :



5- يطلق على عملية استخراج المعادن من باطن الأرض وتنقيتها وإعدادها للتصنيع:

□- صقل المعادن □- الصناعة □- التعدين □- تكرير النفط

6- أحد ألوان علم الإمارات يرمز إلى عمل الخير والعطاء ومنهج الدولة لدعم الأمن والسلام في العالم هو اللون:

□- الأحمر □- الأبيض □- الأخضر □- الأسود

7- الجبال الانكسارية الموازية للبحر الأحمر وتشغل القسم الأوسط من سواحل في المملكة العربية السعودية هي جبال:

□- عمان □- الحجاز □- اليمن □- مدين

8- يوجد في دول شبه الجزيرة العربية أماكن دينية مقدسة منها:



- يحظر تصوير أو تداول الورقة الامتحانية قبل أو أثناء أو بعد الامتحان من خلال البريد الإلكتروني أو وسائل التواصل الاجتماعي أو أي وسيلة أخرى ومن يخالف ذلك سيتخذ في حقه الإجراءات القانونية المتبعة.

- على إدارات المدارس ولجان الامتحانات ومراكز التقدير مراعاة ذلك، ورسد المخالفات، واتخاذ الإجراءات اللازمة.




9- شاركت دولة الإمارات العربية المتحدة مع دول التحالف العربي في الحفاظ على عروبة اليمن من خلال عملية عاصفة:

- الصحراء  - الحزم  - النصر  - الصقر

10- هضبة تقع وسط شبه الجزيرة العربية بين صحراء النفوذ وصحراء الربع الخالي هي هضبة:

- حضرموت  - بادية الشام  - الأناضول  - نجد

11- تنافس الدول الأجنبية منذ القدم للسيطرة على شبه الجزيرة العربية واستغلال ثرواتها بعد اكتشاف:




المياه



النفط الغاز الطبيعي



النباتات الطبيعية



المعادن

12- يطلق على من نشأ في وطن واحد وترعرع فيه وينتمي إليه وله حقوق وعليه واجبات تجاه دولته التي يعيش فيها هو:

- الوافد المهاجر  - التاجر  - المواطن  - الوطن

13- يقصد بمجموع متوسطات درجات الحرارة الشهرية في السنة مقسومة على 12 بـ:

- المدى الحراري السنوي  - المتوسط الحراري اليومي

- المدى الحراري اليومي  - المتوسط الحراري السنوي

14- الزيادة الناجمة عن هجرة السكان إما داخلياً من منطقة إلى أخرى أو من دولة إلى أخرى تعني:

- الزيادة الطبيعية  - النمو السكاني  - الزيادة غير الطبيعية  - تركيب السكان

15- أهتمت دولة الإمارات العربية المتحدة عام 2015م بإصدار أول عملة ورقية تقرأ بلغة برايل لفئة:

- الأطفال  - غير المتعلمين  - أصحاب الهمم  - المقيمين

16- خدمة تجب على كل من تقرر تجنيده لأدائها في سبيل الوطن لمدة زمنية محددة وفقاً لأحكام القانون تعني:

- الخدمة الإنسانية  - الخدمة التطوعية  - الخدمة الاجتماعية  - الخدمة الوطنية

17- العامل الديني له دوراً كبيراً في ارتفاع معدلات المواليد حيث يحث ديننا الإسلامي الحنيف عليه هو:

- الطلاق  - تحديد النسل  - تحديد عدد الأطفال  - الزواج المبكر والانجاب

18- الحرفة تدهورت نتيجة اكتشاف النفط في دول شبه الجزيرة العربية هي حرفة:



الزراعة



التجارة



الغوص على اللؤلؤ



الصناعات الحديثة

- يحظر تصوير أو تداول الورقة الامتحانية قبل أو أثناء أو بعد الامتحان من خلال البريد الإلكتروني أو وسائل التواصل الاجتماعي أو أي وسيلة أخرى ومن يخالف ذلك سيتخذ في حقه الإجراءات القانونية المتبعة.  
- على إدارات المدارس ولجان الامتحانات ومراكز التقدير مراعاة ذلك، وبرد المخالفات، واتخاذ الإجراءات اللازمة.



19- ميناء تصدير نفط الحقول البرية في دولة الإمارات العربية المتحدة هو:

- جبل الظنة  - رأس تنورة  - الأحمدى  - سترة

20- تتعدد أشكال الارتباط بالوطن ومنها:

- حب الوطن  - السلوكيات السلبية  - اتلاف الممتلكات العامة  - عدم تطبيق القانون

21- استشهد سالم سهيل بن خميس أول جندي إماراتي عام 1971م دفاعاً عن علم الوطن في جزيرة:

- طناب الصغرى  - أبو موسى  - طناب الكبرى  - صير بني ياس

22- اشتهرت مملكة البحرين بلؤلؤها الجميل ولقبت بـ:

- لؤلؤة الخليج  - جوهرة الخليج  - حصباة الخليج  - دانة الخليج

23- أحد الصور التالية تتجلى فيها أحد المواقف الوطنية:



مشروع سقيا الماء



أفدى وطني بدمي



شحن البطارية بالكهرباء



متحف دبي

24- موعد سنوي نستذكر فيه التضحيات الجسام التي قدمها أبناء الوطن والأمة العربية هو:

- اليوم الوطني  - يوم العلم  - يوم الشهيد  - وقفة عرفات

25- جزء من سطح الأرض له خصائص مناخية أو صفات وسمات معينة تميزه عما يحيط به من أقاليم أخرى يقصد به:

- المناخ  - الطقس  - الاقليم المناخي  - الضغط الجوي

26- ترتفع نسبة كبار السن وصغار السن غير القادرين على العمل في اليمن مما أدى إلى ارتفاع نسبة:





- التضخم  - الهجرة  - الزواج  - الإعالة

27- الملك السعودي الذي قام بدور فاعل لحماية شبه الجزيرة العربية بالتعاون مع دولة الإمارات العربية المتحدة

ودول التحالف هو الملك:

- فهد بن عبدالعزيز  - سلمان بن عبدالعزيز  - فيصل بن عبدالعزيز  - عبدالله بن عبدالعزيز

28- إحدى هذه الصور عبارة عن أراضي منخفضة مستوية السطح تنقسم إلى ساحلية وقيضية:



29- مصمم علم دولة الإمارات العربية المتحدة هو:


- عبد الله محمد المعينة  - عارف الشيخ  - محمد درويش  - سعد عبد الوهاب

- يحظر تصوير أو تداول الورقة الامتحانية قبل أو أثناء أو بعد الامتحان من خلال البريد الالكتروني أو وسائل التواصل الاجتماعي أو أي وسيلة أخرى ومن يخالف ذلك سيتخذ في حقه الإجراءات القانونية المتبعة.  
- على إدارات المدارس ولجان الامتحانات ومراكز التقدير مراعاة ذلك، ورصد المخالفات، واتخاذ الإجراءات اللازمة.

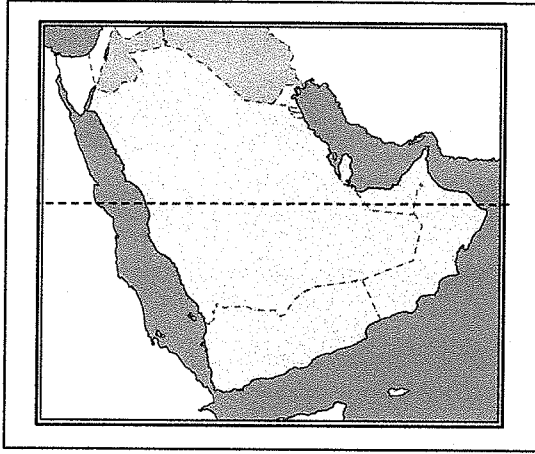


30- مبالغ نقدية مودعة في المصارف يقوم أصحابها بتحريكها من خلال بطاقة إلكترونية في الصرافات الآلية المنتشرة تعرف بالنقود:

- المصرفية       - الورقية       - المعدنية       - الإلكترونية



□- اقرأ خريطة شبه الجزيرة العربية التي أمامك ثم أجب :  
**السؤال الثاني :**



31- سجل اسم دائرة العرض الرئيسية التي تقطع أراضي بعض دول شبه الجزيرة العربية .

□- .....

32- أحسب عدد خطوط الطول التي تمتد عليها شبه الجزيرة العربية إذا علمت أنها تمتد بين خطي طول (34° - 60° شرق جرينتش).

□- عدد خطوط الطول : .....

33- حدد على الخريطة التي أمامك الآتي بكتابة المسمى عليها:

□- جمهورية اليمن      □- دولة الكويت

34- أنسب المناطق التالية حسب موسم سقوط الأمطار عليها:

□- جبال عمان : .....

□- جنوب عسير: .....

**انتهت الأسئلة، دعواتنا لكم بالتوفيق والنجاح**

- يحظر تصوير أو تداول الورقة الامتحانية قبل أو أثناء أو بعد الامتحان من خلال البريد الإلكتروني أو وسائل التواصل الاجتماعي أو أي وسيلة أخرى ومن يخالف ذلك سيخضع في حقه للإجراءات القانونية المتبعة.  
- على إدارات المدارس ولجان الامتحانات ومراكز التقدير مراعاة ذلك، ورصد المخالفات، واتخاذ الإجراءات اللازمة.

