

لم تصوم هذا التبريم لتصبح
لمحطات مهمة من الزمن. تسمى
تحويل أنك تستكشف في جبل
تمامًا. وقد قمت باستكشاف
المنطقة ولكنك الآن اكتشفت



تضمن المهمة التالية استخدام مخطط الخريطة.

سورة التين

- 1.
- 2.
- 3.
- 4.
- 5.
- 6.
- 7.
- 8.
- 9.
- 10.

التغير المناخي من (8000-10000) ق.م

تغير المناخ بعد عام 10000 قبل الميلاد

أ	ب	ت	ث	ج	ح	خ	د	ذ	ر	ز	س	ش	ص	ض	ط	ظ	ع	غ	ف	ق	ك	ل	م	ن	هـ	و	ي	ة
29	5	5	20	10	6	25	2	5	21	26	16	11	22	17	28	3	7	18	18	23	12	12	8	12	13	11	30	
م	ا	ب	ي	ن	ع	ا	م	ي	م	ي	م	م	م	م	م	م	م	م	م	م	م	م	م	م	م	م	م	
12	9	14	4	8	3	12	9	4	19	9	15	15	15	15	15	15	15	15	15	15	15	15	15	15	15	15	15	
ق	و	ل	ن	ا	ل	م	ي	ل	ا	د	و	ت	ر	ا	د	م	ت	ط	ب	ق	ة							
27	14	19	9	9	12	4	9	9	2	5	9	9	9	9	9	9	9	9	9	9	9	9	9	9	9	9	9	9
ث	ن	ل	ا	ن	م	ن	ن	ن	ن	ن	ن	ن	ن	ن	ن	ن	ن	ن	ن	ن	ن	ن	ن	ن	ن	ن	ن	ن
20	6	4	8	12	8	12	8	12	8	12	8	12	8	12	8	12	8	12	8	12	8	12	8	12	8	12	8	12
ا	ل	ف	ا	ي	و	ذ	ا	م	ا	د	ل	م	ا	د	ل	م	ا	د	ل	م	ا	د	ل	م	ا	د	ل	م
9	18	9	4	24	4	24	4	24	4	24	4	24	4	24	4	24	4	24	4	24	4	24	4	24	4	24	4	
ان	ال	ط	ق	س	ف	ي	ذ	ل	ك	ال	و	ق	ت	ف	ا													
8	29	9	19	17	26	27	17	18	4	25	19	25	19	23	9	13	19	13	19	9	13	19	9	13	19	9	13	
ف	ش	د	ي	د	ال	ح	ر	ا	ر	ة	و	ال	ج	ف	ا	ف	م											
8	16	2	4	2	9	10	19	9	15	9	15	9	15	9	15	9	15	9	15	9	15	9	15	9	15	9	15	
م	ا	ب	ي	ن	ع	ا	م	ي	ل	ا	د	و	ت	ر	ا	د	م	ت	ط	ب	ق	ة						
12	9	4	8	3	11	3	11	3	11	3	11	3	11	3	11	3	11	3	11	3	11	3	11	3	11	3	11	
م	ن	ط	ق	ة	ال	م	ا	ر	ا	ر	ا	ر	ا	ر	ا	ر	ا	ر	ا	ر	ا	ر	ا	ر	ا	ر	ا	ر
12	8	17	30	27	9	12	9	12	9	12	9	12	9	12	9	12	9	12	9	12	9	12	9	12	9	12	9	

في الفترة الممتدة بعد 10.000 سنة مضت، ظهر الكثير من الأدلة التي توحى بأن البشر كانوا يعيشون في أجزاء مما يعرف اليوم بدولة الإمارات العربية المتحدة.

المهمة 2:

أجب عن الأسئلة الآتية:

1. قم بشرح اثنين من الأسباب المحتملة عن سبب محدودية الأدلة لدينا على ما حدث حوالي 10.000 قبل الميلاد.
السبب 1:

المشاكل

المشاكل التي تواجهها الشركات الصغيرة والمتوسطة

في استراتيجياتها
> لا يزال الاعلان الرقمي عن الاعلان التقليدي يعتبر متغيره كمنه مع بيئه متعامل بهم الخاصة الصبر اسهل على البشر تعديل الاعلان على الانترنت

وغيره

وغيره

صحة للتخفيف من الاعراض
> صف طريقتين يمكن قهرهما ان يتغير فهما اما في الاعراض تتخذ للصحة.

التقسيم

جانباً من جهة أخرى، فإننا نجد أن هناك بعض المصنّعين الذين يهتمون بالبيئة.

النتيجة:

1. تنظيم الصادات بالتربيت الذي تصدق به.
2. حسم ضلع أو ضميم أو شكل من قبل المبتدع.
3. وضع الألية في مضموعات وفي الألية جمع.
4. منحصر من المصنوعة من مادة واحدة أو مادة صخرية أو مادة صخرية إلى مادة صخرية.
5. مساهمة الأراض الأراض التي يمكن استخدامها.

- 3. التصديق العلمي والسياسي في منطقة في منطقة من الأراض: البحث عن مواقع مستقلة للتثقيف.
 - 7. دراسة وتصنيف النتائج من معطيات الحفر: ألقم أملا والفرص والتشكيل والتشكل.
 - 6. استكشاف موقع أثري من خلال عملية متقدمة للحفر والتسجيل.
- استخدم العمل المتكامل لتلبية احتياجات البحث، ثم اكتبها في أملاكها الصحيحة:

ي ف ن م

ي ف ن م

ي ف ن م

ي ف ن م

المناخ 8000 قبل الميلاد:

المعلومات بالصفحات 14-16 من كتابك المدرسي عنوان (التوسع).

4: مهمة

على الفقرة التالية بإدراج الكلمة أو الكلمات (حوث الإضافية لمساعدتك في ملء الفراغات

امتدت فترة

عني

عني «الحجر»

الآن طلق على العلماء الذين يدرسون الأثر دورات والتقنيات لتحليل التغيرات في درجات تقيس الضغط الجوي، التي تقيس الضغط الجوي، طبقات الرواسب، والصخور والتربة

المناخ في دولة الإمارات العربية المتحدة من المرجح أن يكون المناخ

رئيس في ذلك هو تأثير

2: السبب

ما التفسير الذي

وجود الإنسان في المنطقة، ما التفسير الذي

في ذلك الزمن؟

والمؤرخون حول قدرة الناس على العيش في المنطقة في ذلك الزمن؟

وأن الأثر صارت أكثر

أخذ يذير صحتها

الناس عليها

حتى جمعنا

السبب الذي أعطته أن البشر كانوا أكثر قدرة على البقاء في

السبب الذي أعطته أن البشر كانوا أكثر قدرة على البقاء في

السبب الذي أعطته أن البشر كانوا أكثر قدرة على البقاء في

السبب الذي أعطته أن البشر كانوا أكثر قدرة على البقاء في

السبب الذي أعطته أن البشر كانوا أكثر قدرة على البقاء في

السبب الذي أعطته أن البشر كانوا أكثر قدرة على البقاء في

السبب الذي أعطته أن البشر كانوا أكثر قدرة على البقاء في

السبب الذي أعطته أن البشر كانوا أكثر قدرة على البقاء في

ات والتقنيات لتحليل ال
التي تقيس ال
والصخور، والعضو
خ في دولة الإمارات
من المرجح أن يكون
س في ذلك هو ت
وم .
تفوا بقايا ما كان
ت عليه الحال في

المهمة 3:
العمل على الخريطة
انظر إلى الخريطة في الصفحة 14 من كتابك المدرسي، باستخدام الخريطة الصماء، حدد على الخريطة



- يأتي:
- الأكامب.
 - جبل بعيص.
 - أم الزبول.
 - مرج.
 - دلما.

ب

المادة 18
كل من كتب على الأثر
مادة

ط ا ل ب

ب ا ط ل

كل من يقرأ في مدرسة

مدرسة لولت نام دي

أ د ا ه ا و ا ه

أ د ا ه

ت ح ل ه ل ه ل

ح ل ل ت ي

م و ق ع م و ق ع

ع و ق م

ح ح ر ك ي ح ح ر ك ي

ح ح ي ر

ح ف ر ي ا ت ح ف ر ي ا ت

ر ف ا ي ح

ا ه ن ق ه ا ا ه ا ه ن ق ه ا

ه ا ا ق ت م

ت ح ن ي ق ت ح ن ي ق

ي ف ن ت م

تسطير زمني

- استخدام الجمل المفصلة التارخية لتعريف كلمات المفرد، ثم الكتابة في أمكانها الصحيحة.
- استكمال موقع أري من خلال عملية متبوية للسطر والتسجيل.
- دراسة وتصنيف السماع من محطات السفر؛ ألهم أصليا والفرص والتشكيل والهيكل.
- التحقق الفني والمهني في منطقة من الأرض، البحث عن مواقع مستخدمة للتقطيع.

أحافير الإمارات الهامة عالمياً:

قرأ المعلومات الواردة في الصفحات 3 إلى 7 من العنوان (أحافير الإمارات الهامة عالمياً) إلى لجليدي والصحاري)؛ (الفترة الرباعية في دولة الإمارات العربية المتحدة). "لا تهتم بقراءة المربعات لرئيس في هذه المرحلة". وعندما تقرأ النص، خذ بعض الملاحظات. على شكل نقاط تحدها في الند لي تذكرها وتعلمها ثم أجب عن الأسئلة في مربع المهمة 2 أدناه.

لمهمة 2:

استخدم المعلومات الموجودة في النص لحل ما يلي:

أ. يبلغ عمر الأرض حوالي 4.5 مليار سنة. وبدأت الصحاري تتشكل في آخر 20 ألف سنة. ما الفترة يمثلها تشكل الصحاري؟

ظهرت الصحراء بعد الجبال بما بين الشين

ب. كم كان طول حقبة الميوسين تقريباً؟

امتدت من 23 مليون سنة إلى 2.5 مليون سنة مضت



المهمة 3:

تخيل أنك في أجزاء من جنوب آسيا قبل عشرات الآلاف من السنين، وعلى الرغم من كونك إنسانًا قديمًا، إلا أن لديك القدرة على الكتابة. افترض أنك أحد الأشخاص القلائل الذين تمكنوا من النجاة من الانفجار البركاني في إندونيسيا الحالية. اكتب قصة تصف الحدث وأفكارك ومشاعرك وأنت تشهد هذا الحدث الكبير. يمكنك أيضًا توضيح قصتك بالصور.

عند انفجار البركان كان حدث كبير فكان من الصعب النجاة منه
فكان من الصعب إيجاه ~~هوا~~ مأوى، وتبقى فقط ما بين 2500 و
3000 شخص على قيد الحياة وكان من الصعب إيجاء الطعام بعد
هذه الكارثة

ة للنظر في الأدلة
ت والعظام البشرية

مختلف تقاسير

اقرأ المعلومات الموجودة في المربع في الصفحة 6 من كتاب الطالب تحت عنوان (ما الأحفورة) واملأ لإكمال الجمل في المهمة 3.

المهمة 3:

الأحافير هي بقايا الكائنات الحية والتي تحولت إلى أحجار على مدار السنين. عندما تموت الحيوانات والنباتات، فإن غالبيتها العظمى تتحلل ولن يكون هناك أي أثر واضح لوجودها بعضها يخضع لعملية التحفر. وفي هذه العملية تتسرب المياه إلى العظام والأنسجة التي تم دفنها. المواد الكيميائية مع العظام المتحللة مشكلة صخور جديدة والتي تأخذ شكل عظام الأنسجة. والأحفورة في الأساس مثل سبيكة مصبوبة التي تم إنتاجها على مدى ملايين السنين. ويسمى العلماء الذين يدرسون الأحافير مستحثات.

والآن انظر فيما لو كان بإمكانك إيجاد المزيد عن الأحافير، وحل المهمة 4.

المهمة 4:

ضع علامة (✓) أو علامة (✗) بجانب الخيار الذي تعتقد أنه مناسب:

1. جميع الأحافير كانت نباتات وحيوانات حية.
2. يحتفظ التحجر دائماً بجميع أجزاء الحيوان أو النبات.
3. تميل الأحافير إلى التشكل في الصخور الرسوبية في الصحاري أو بالقرب من الأنهار.
4. توجد الأحافير دائماً تحت الأرض.
5. يمكن العثور على الأحافير في الصخور والحصى والوحل.

✓
✗
✓
✓
✓

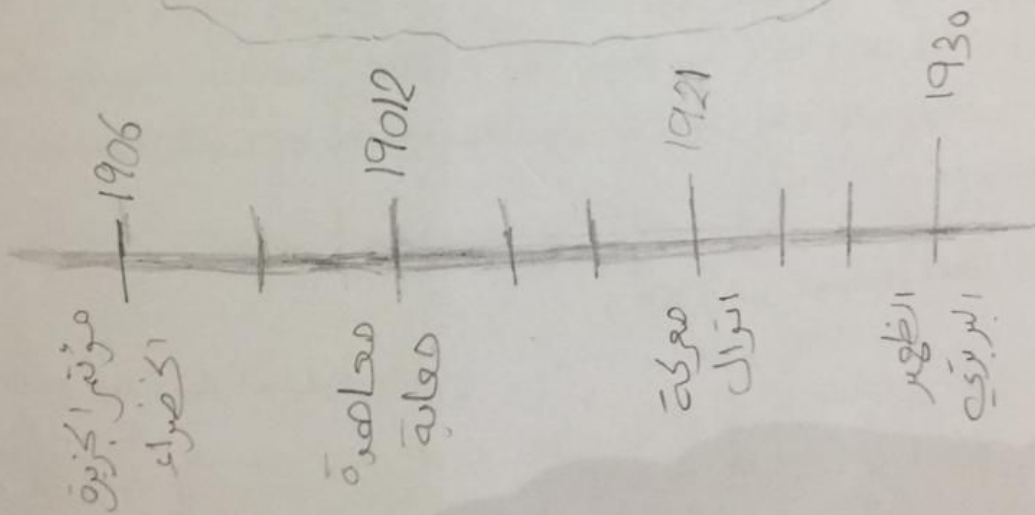

اقرأ المعلومات في المربع الذي يحمل عنوان (عصر الميوسينية والتاريخ الجيولوجي في العالم) في الصفحة من كتابك المدرسي. أنت بصدد القيام بحل تمرين "فرز البطاقات" لمطابقة الكلمات الأساسية من المعلومات الموجودة في المربع مع تعريفها أو شرح موجز لها. والبطاقات موجودة أدناه، ولكن معلمك سوف يعطيك نصائح لاستخدامها في الدرس.

نشاط:

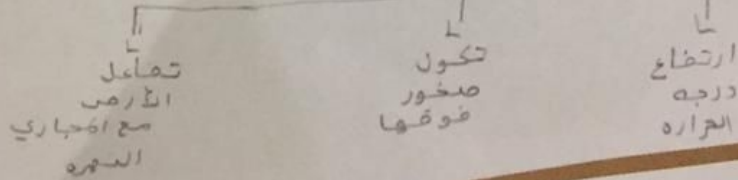
صورة

جد صورة لأحفورة، وارسم صورة لها.
ارسم خطأ زمنياً؛ لعرض الأحداث الرئيسة التي حدثت خلال الفترة التي غطاها هذا الدرس.


مراحل تشكل التضاريس الطبيعية في الأحفورة



مراحل شكل التضاريس في الامارات



المهمة 5:
العصر الجليدي والصحاري



6. الفترة (بين الجليدية) الح
- منذ حوالي 15000 سنة.
7. التغيرات المنتظمة في ح
- الكرة الأرضية.
8. التضاريس التي تحتوي علو
- الجبال.

- أفقياً:
1. الفترة التي تتراجع فيها الأنهار الجليدية، والمناخ يصبح أكثر دفئاً ورطوبة. عمودياً:
 2. دراسة المناخات القديمة.
 3. نهران.

3. متى بدأت أعمال التنقيب في موقع كهف «قفزة»؟ ومن الذي كان مسؤولاً في البداية عن الحفريات؟

سنة 1926 كان اسمه نوبل

4. لماذا توقف استكشاف موقع كهوف «قفزة» ومن قام بتجديد استكشافات الموقع؟ ومتى؟

بسبب قلة اهتمام المستكشفين

(1965)

5. من بدأ باستكشاف موقع كهوف «سخول»؟ ومتى؟

دوروثي غارود في 1928

6. بين من الذي وجد بقايا بشرية في كهوف «سخول» عام 1939.

البركيري

7. ما نوع الأشياء التي تم العثور عليها أيضًا في الموقعين السابقين، بالإضافة إلى البقايا البشرية فيهما؟

قفزة :- بقايا كضام الحيوانات

السخول :- مايكوليت :- الأدوات من الحجارة / بقايا المنزئير

ساعدت أدلة من هذه الاكتشافات علماء الآثار والمؤرخين على فهم المزيد حول كيفية انتقال البشر الأوائل عبر الشرق الأوسط ومتى عاشوا في أجزاء مختلفة من العالم. يمكن العثور على أحد المصادر التي ساعدت في اكتشاف أدلة على الاستيطان البشري في جبل «الفايه».

اكتشف أين يقع جبل «الفايه»، وحدد مكانه على خريطة دولة الإمارات العربية المتحدة التي استخدمتها في الدروس السابقة.

كانت مشابهة لتلك الموجودة في أفريقيا وخلصت إلى أن الأشخاص الذين استخدموا
أفريقيا. ورأيت أيضًا أن علماء آخرين اعتقدوا أن الأدوات لم تثبت أن البشر الأوائل
إلى مجموعة عاشت في شبه الجزيرة العربية لسنوات عديدة.

كان هذا مثالًا على كيفية بحث المؤرخين والباحثين الآخرين عن أدلة لمحاولة تبي
يكشفون عن أدلة جديدة يمكن أن تساعد في تغيير ما نعتقد أنه حدث في الماضي
بمزيد من التفصيل عملية كيفية استخدام الأدلة.

المهمة 1:

انظر إلى الأمثلة التالية للأدلة التي قد يكشف عنها المؤرخون وعلماء الآثار، واكتب جملة
البند قد يساعد في فهم كيفية تصرف البشر الأوائل وحياتهم.
1. مجموعة من حجر الصوان التي تم نحتها في رؤوس الأسهم.

بسبب صلويتها

2. أجزاء مما قد كان وعاءً كبيرًا.

جلب الماء

لوضع حاجياتهم مثل وضع الطعام

ذلك، بدأوا في الانتقال و
1000 سنة مضت. ولكن، النتائج التي توصل إليها المور
ة، على الرغم من أننا سنرى، أنه لا يتفق الجميع على ذلك!

وقام علماء الآثار بالتحقق من النتائج واستنتجوا أن عمر هذه الأدوات يعني أن البشر كانوا في شبه الجزيرة العربية
حوالي 20000 سنة مما كان يعتقد سابقًا. وتشير النتائج التي توصل إليها الباحثون في جبل «الفايه» إلى وجود
بشر في دولة الإمارات العربية المتحدة منذ حوالي 125 ألف سنة.

ويعتقد أيضًا أن الطريق الذي سلكه هؤلاء البشر الأوائل كان مختلفًا عن الطريق الذي كان مقبولًا من قبل. ويعتقد
لعديد من المؤرخين وعلماء الآثار أن البشر ربما انتقلوا على مسافة قريبة جدًا من البحر ولم ينتقلوا بعيدًا في
المناطق الداخلية. وهذا يعني أن البشر قد اتبعوا نهر النيل ونحو الخليج العربي. وتشير هذه الأدلة الجديدة إلى أن
البشر قد يكونوا قد انتقلوا عبر المناطق الداخلية.

ويعتقد أن السبب الذي جعل البشر قادرين على التنقل داخل البلاد هو أن المناخ كان مختلفًا قبل 125000 عامًا
وكانت دولة الإمارات العربية المتحدة في ذلك الوقت أكثر خضرة وقد وفرت مصادر للغذاء للحيوانات. وهذا يعني
أيضًا أنه من الممكن أن البشر اصطادوا الحيوانات لطعامهم وملبسهم واستخدموا أيضًا النباتات لمأواهم.

المهمة 2 أ:

1. ما عالم الآثار؟

فن يختص بدراسة البقايا العائدة، كتحليلها إلى لسان

5. تش

الم

المهمة

بعد قراء

1. بم ت

2. لماذا

حقوق الطبع © محف

التقييم:

1. لخص ما تعلمته اليوم بخمس نقاط.

أ. هناك أحافير كثيرة في دولة الإمارات

ب. يجب الاهتمام بالأحافير

ت. اهتمام دولة الإمارات بالأحافير

ث. سبب نكوة رفق والغاز طبيعي

ج.


2. جد صورة لأحفورة، وارسم صورة لها.

3. ارسم خطأ زمنياً؛ لعرض الأحداث الرئيسة التي حدثت خلال الفترة التي غطاها هذا الدرس.

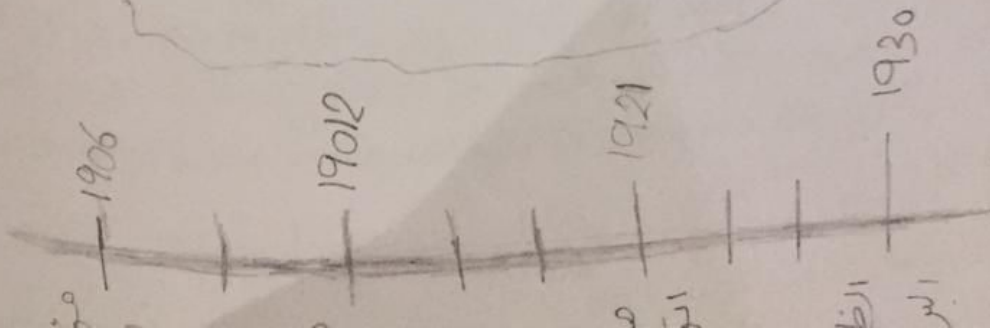
صورة

مراحل تشكل التضاريس الطبقيية في الأحفورة

②



③



كيفية استخدام الأدلة

3. جلد حيوان محفوظ بدا كأنه قطعة من الملابس.

للتدفئة

أثاث للمنزل / لآخاف الحيوانات

4. بقايا حرائق تضمنت رماد عظام حيوانات كبيرة.

من الأحتراق جسم الحيوان

5. هيكل عظمي لإنسان، محفوظ مع مجموعة من قرون غزلان موضوعة على صدره.

لآخاف الحيوانات

6. رسومات على جدران كهف.

للتواصل

لتدوين التاريخ / تزيين الكهف

الإنسان الأول
ي تم اكتشافها
ما هاجروا من
ما كانوا ينتمون

في الماضي. فيه
في هذا الدرس

ف تعتقد أن هنا

2. كيف تمكن الإنسان الأول من صنع أدوات من الحجارة؟

عن طريق الحجر

3. كيف عرف المؤرخون أن البشر الأوائل كانوا موجودين في أفريقيا قبل حوالي 300 ألف سنة؟

لسبب وجود مستحاثات بشرية مكتشفة تدل على انتقالهم (أدوات الحجارة في شرق أفريقيا)

4. إذا كانت الأدوات التي وجدت في جبل «الفايه» مختلفة عن تلك الموجودة في أفريقيا، فلماذا يعني هذا أن مجموعتي البشر اللتين تستخدمان هذه الأدوات ربما كانتا مختلفتين؟

بسبب وجود أماكن مختلفة

5. تشير نتائج الباحثين إلى أن البشر الأوائل ربما كانوا قد سافروا برًا بدلًا من اتباع الطرق الساحلية. لماذا سمح المناخ في ذلك الوقت للناس بالسفر برًا بدلًا من استخدام الطرق الساحلية؟

لسبب ارتفاع معدل الأمطار

بسبب المناخ

المهمة 2 ب:

بعد قراءة المعلومات عن جبل «الفايه»، أجب عن الأسئلة الآتية:
1. بم تفسر أن اكتشاف عمر الأدوات كان مهمًا؟

معرفة وقت هجرة البشر

التنقل و هجره البشر

2. لماذا تعتقد أن البشر لم ينتقلوا من إفريقيا لسنوات عديدة؟ ما الذي قد دفعهم إلى البدء في الخروج من إفريقيا؟

بسبب كل ما يحثنا جواره وجود / بسبب الجفاف

3. اعتقد علماء الآثار الذين عملوا على استكشاف جبل «الفايه» أن الأدوات التي عثروا عليها هـ في أجزاء من أفريقيا. لماذا تعتقد أن هذا قد يوحي بأنه يجب أن يكون الناس قد انتقلوا الجزيرة العربية؟

لأنهم عاشوا في فترة زمنية واحدة

4. كان من المعتقد أنه إذا هاجر البشر من أفريقيا، فقد أقاموا على الأرجح بالقرب من الساحل. لماذا كان مهمًا؟

لصيد السمك والموتور على الماء

سهول النقل / لتوفير حاجياتهم

تتضمن المهمة التالية استخدام مخطط الخريطة.



2. في حقبة الميوسين، كانت الأرض المشكّلة لدولة الإمارات العربية المتحدة اليوم تحتوي على أراضٍ عشبية. اشرح باختصار سبب تشكل الأراضي العشبية.

بسبب ارتفاع درجات الحرارة

ظهور تضاريس جديدة

3. يمكن للمؤرخين استخدام معلومات يقدمها الجيولوجيون وخبراء آخرون لفهم كيفية تغير تشكل طبقات سطح الأرض. نعلم

أ. كيف تساعد بقايا أنواع مختلفة من الحيوانات على شرح ما حدث لأشكال الأرض في حقبة الميوسين؟

إنها تحول إلى أحافير

ب. تم العثور على بقايا الحيوانات في منطقة الظفرة في أبو ظبي. استخدم مخطط خريطة بدأت العمل عليها في الدرس 1 لتحديد هذا على خريطةك. حدد أيضاً على خريطةك جبل الظنة وجبل بركة.

4. ما أنواع الحيوانات التي عاشت في الإمارات خلال حقبة الميوسين؟

المرجان - الضياء - البقر الوحشي - الزرافات

5. لماذا تعتقد أننا نعرف القليل عن أنواع النباتات التي وجدت في الإمارات خلال حقبة الميوسين؟

لأن حدثت تحولات بالجنس كملد

حدثت تحولات على سطح الأرض

سنظر الآن في المعلومات الموجودة في المربعات في الصفحتين 3 و 6 من كتابك المدرسي.

المستحاثات / الأحافير:

المستحاثات / الأحافير مصدر هام للمعلومات التي تعطينا أدلة حول ما حدث قبل ملايين السنين. وتساعد الأحافير النباتات والحيوانات وحتى آثار الأقدام علماء الأحافير على فهم نوع الحيوانات التي عاشت في منطقة معينة، وكيف كان المناخ، وما نوع مصادر الغذاء المتوفرة، وما الطبيعة التي عاشت فيها هذه الحيوانات والنباتات. تساعد هذه العوامل مجتمعة في تشكيل صورة لما كانت عليه الأرض منذ ملايين السنين.

وعندما نستخدم مصطلح "homo sapiens" مختلطة مع البشر، لكن الأدلة على ما يطلق عليه وهناك أدلة على وجود نوع من أنواع البشر لملايين السنين، بدأ البشر يتحركون ويقطنون موجودة منذ حوالي 300000 عام. ويعتقد أنه في ذلك الوقت، بدأ البشر يتحركون ويقطنون وسننظر في تقدم هذه الهجرة عبر شبه الجزيرة العربية وكيف يعرف العلماء والمؤرخون تحر حول الأرض.

المهمة 1:

الحفريات الأثرية في كهوف «قفزة» و«سخول»

تم البحث في كهوف «قفزة» و«سخول» من قبل العلماء الذين اكتشفوا بقايا بشرية.

ابحث حول هذه الاكتشافات لمساعدتك في الإجابة عن الأسئلة أدناه:

1. باستخدام محرك بحث، اكتشف أين تقع كهوف «قفزة» و«سخول».

يقع كهف السخول في جبل كرمل في فلسطين

ويقع كهف القفزة في مدينة الناصرة في فلسطين

2. كم عدد البقايا البشرية التي عثر عليها في كهوف «قفزة»؟، وكم منها في «سخول»؟

قفزة: 29 - 31

السخول = 14