

كل ما يحتاجه الطالب في جميع الصفوف من أوراق عمل واختبارات ومذكرات، يجده هنا في الروابط التالية لأفضل مواقع تعليمي إماراتي 100 %


<u>تطبيق المناهج الإماراتية</u>	<u>الاجتماعيات</u>	<u>الرياضيات</u>
<u>الصفحة الرسمية على التلغرام</u>	<u>الاسلامية</u>	<u>العلوم</u>
<u>الصفحة الرسمية على الفيسبوك</u>	<u>الانجليزية</u>	
<u>التربية الاخلاقية لجميع الصفوف</u>	<u>اللغة العربية</u>	
<u>التربية الرياضية</u>		
<b>مجموعات التلغرام.</b>	<b>مجموعات الفيسبوك</b>	<b>قنوات تلغرام</b>
<u>الصف الأول</u>	<u>الصف الأول</u>	<u>الصف الأول</u>
<u>الصف الثاني</u>	<u>الصف الثاني</u>	<u>الصف الثاني</u>
<u>الصف الثالث</u>	<u>الصف الثالث</u>	<u>الصف الثالث</u>
<u>الصف الرابع</u>	<u>الصف الرابع</u>	<u>الصف الرابع</u>
<u>الصف الخامس</u>	<u>الصف الخامس</u>	<u>الصف الخامس</u>
<u>الصف السادس</u>	<u>الصف السادس</u>	<u>الصف السادس</u>
<u>الصف السابع</u>	<u>الصف السابع</u>	<u>الصف السابع</u>
<u>الصف الثامن</u>	<u>الصف الثامن</u>	<u>الصف الثامن</u>
<u>الصف التاسع عام</u>	<u>الصف التاسع عام</u>	<u>الصف التاسع عام</u>
<u>الصف التاسع متقدم</u>	<u>الصف التاسع متقدم</u>	<u>الصف التاسع متقدم</u>
<u>الصف العاشر عام</u>	<u>الصف العاشر عام</u>	<u>الصف العاشر عام</u>
<u>الصف العاشر متقدم</u>	<u>الصف العاشر متقدم</u>	<u>الصف العاشر متقدم</u>
<u>الحادي عشر عام</u>	<u>الحادي عشر عام</u>	<u>الحادي عشر عام</u>
<u>الحادي عشر متقدم</u>	<u>الحادي عشر متقدم</u>	<u>الحادي عشر متقدم</u>
<u>ثاني عشر عام</u>	<u>الثاني عشر عام</u>	<u>الثاني عشر عام</u>
<u>ثاني عشر متقدم</u>	<u>ثاني عشر متقدم</u>	<u>ثاني عشر متقدم</u>

<http://almanahj.com/ae/>

مراجعة وحدة المجالات المغناطيسية  
الصف الثاني عشر عام / العام الدراسي 2018-2019

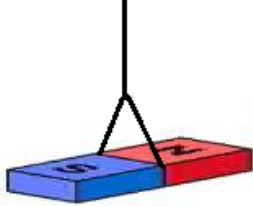
السؤال الأول: اختر الإجابة الصحيحة لكل من الأسئلة التالية

1- أي مما يلي لا يمثل خاصية من خصائص المغناطيس؟



- A. المغناطيس قطبي.
- B. الأقطاب المتماثلة تتنافر إذا اقتربت من بعضها.
- C. الأقطاب المختلفة تتجاذب إذا اقتربت من بعضها.
- D. يمكن فصل القطب الشمالي عن القطب الجنوبي .

2- إذا علق مغناطيس بشكل حر، سيدور المغناطيس ثم يوقف ليشير إلى اتجاهات محددة، ما هي الاتجاهات التي تشير إليها أقطاب المغناطيس الحر الحركة؟



- A. الأعلى والأسفل.
- B. الشرق والغرب.
- C. الشمال والجنوب.
- D. اليمين واليسار.

3- أي العبارات التالية تصف أقطاب مغناطيس الأرض بشكل صحيح؟

- A. يقع القطب المغناطيسي الشمالي للأرض في الشمال الجغرافي.
- B. يقع القطب المغناطيسي الشمالي للأرض في الجنوب الجغرافي.
- C. يقع القطب المغناطيسي الجنوبي للأرض في الجنوب الجغرافي.
- D. أقطاب المغناطيس الأرضي تقع عند خط الإستواء.

4- أي المعادن التالية يمكن للمغناطيس أن يجذبها؟

- A. الألمنيوم.
- B. النحاس.
- C. القصدير.
- D. النيكل.

5- عند انجذاب مسمار حديدي لمغناطيس، يتحول المسمار لمغناطيس مؤقت، ماذا تسمى هذه الطريقة للمغطة؟

- A. المغطة بالحث.
- B. المغطة بالتلامس.
- C. المغطة الدائمة.
- D. المغطة التدريجية.

6- أي مما يلي يمثل تعريفاً صحيحاً للنطاقات المغناطيسية؟

- A. إلكترونات تدور في اتجاهات عشوائية.
- B. مجموعة من الذرات المتجاورة المتوازية الأقطاب.
- C. مناطق عالية النفاذية المغناطيسية.
- D. ترتيب لذرات المادة الواحدة بحسب قدرتها على التمغنط.

7- عند تعرض مادة عالية النفاذية المغناطيسية لتأثير مجال مغناطيسي قوي، ما التغيير الذي يطرأ على اتجاهات النطاقات المغناطيسية لتلك المادة؟

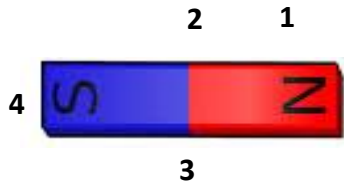
- A. تصبح النطاقات المغناطيسية عشوائية الاتجاهات.
- B. تصطف معظم النطاقات لتشير إلى اتجاه واحد.
- C. تتجمع النطاقات على أطراف المادة.
- D. تتحرك النطاقات بشكل دائري بوجود ذلك المجال.

8- أي العبارات التالية ليست صحيحة في وصف المجال المغناطيسي لقضيب مغناطيسي؟



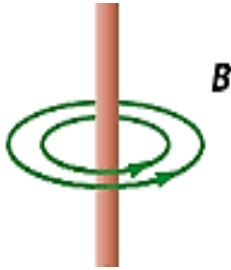
- A. تخرج من القطب الشمالي وتدخل في القطب الجنوبي.
- B. تكون على شكل خطوط مستقيمة.
- C. تكون على شكل حلقات مغلقة.
- D. وهمية لا يمكن رؤيتها .

9- من الشكل المجاور، ما هي المنطقة التي يكون عندها التدفق المغناطيسي أكبر؟

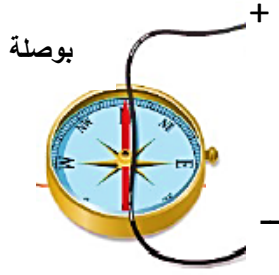


- A. المنطقة 1
- B. المنطقة 2
- C. المنطقة 3
- D. المنطقة 4

10- معتمداً على الشكل المجاور، حدد اتجاه التيار الكهربائي المار في السلك؟



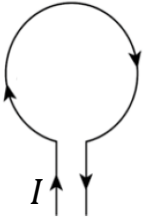
- A. نحو أعلى مستوى الصفحة.
- B. نحو أسفل مستوى الصفحة.
- C. نحو داخل مستوى الصفحة.
- D. نحو خارج مستوى الصفحة.



11- معتمداً على الشكل المجاور ، حدد اتجاه انحراف ابرة البوصلة عند مرور تيار كهربائي في السلك (البوصلة أسفل السلك)؟

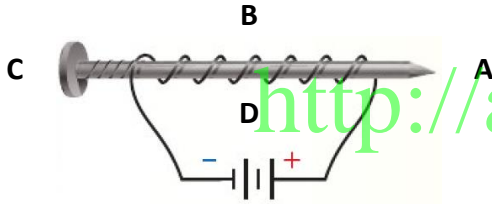
- A. تنحرف نحو اليمين.
- B. تنحرف نحو اليسار.
- C. تتحرك نحو الأسفل باتجاه التيار.
- D. تتحرك نحو الأعلى بعكس اتجاه التيار.

12- حدد اتجاه المجال المغناطيسي داخل الحلقة الموضحة في الشكل المجاور؟



- A. نحو خارج مستوى الصفحة.
- B. نحو أعلى مستوى الصفحة.
- C. نحو داخل مستوى الصفحة.
- D. نحو أسفل مستوى الصفحة.

13- يمر تيار كهربائي في الملف اللولبي المجاور، أي النقاط المحدد تمثل القطب الجنوبي للمغناطيسي الكهربائي المتولد؟



- A. النقطة A
- B. النقطة B
- C. النقطة C
- D. النقطة D

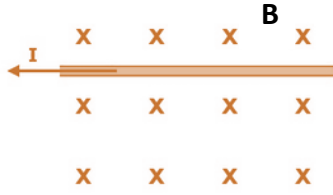
14- أي العبارات التالية غير صحيحة في وصف المجال المغناطيسي المتولد حول سلك يمر فيه تيار كهربائي؟

- A. خطوط المجال المغناطيسي عبارة عن حلقات متحدة المركز.
- B. تزداد شدة المجال المغناطيسي كلما إبتعدنا عن السلك.
- C. شدة المجال المغناطيسي بالقرب من السلك تكون الأكبر.
- D. خطوط وهمية لا يمكن رؤيتها بالعين.

15- عند مرور تيار كهربائي في ملف لولبي يتولد داخل الملف مجال مغناطيسي، أي مما يلي يسبب نقصان في شدة هذا المجال المغناطيسي؟

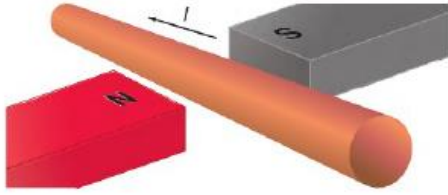
- A. وضع قلب حديدي داخل الملف.
- B. زيادة عدد لفات الملف.
- C. زيادة شدة التيار المار في الملف.
- D. زيادة المسافة بين لفات الملف.

16- من الشكل المجاور ، ما هو اتجاه القوة المغناطيسية المؤثرة في السلك عند مرور تيار كهربائي فيه في الاتجاه الموضح؟



- A. نحو أعلى مستوى الصفحة.
- B. نحو أسفل مستوى الصفحة.
- C. نحو يمين مستوى الصفحة.
- D. نحو داخل مستوى الصفحة.

17- من الشكل المجاور، ما هو اتجاه القوة المغناطيسية المؤثرة في السلك عند مرور تيار كهربائي فيه في الاتجاه الموضح؟



- A. نحو أعلى مستوى الصفحة.
- B. نحو أسفل مستوى الصفحة.
- C. نحو يمين مستوى الصفحة.
- D. نحو يسار مستوى الصفحة.

18- يتموضع سلك طوله 0.3 m بشكل موازي لمجال مغناطيسي شدته 0.2 T ، فإذا مر في السلك تيار شدته 2.0 A ، ما مقدار القوة المغناطيسية المؤثرة في السلك؟

- A. 0.18 N
- B. 0.15 N
- C. 0.12 N
- D. 0.00 N

19- أي مما يلي يؤدي إلى زيادة مقدار القوة المغناطيسية المؤثرة في سلك؟

- A. زيادة شدة المجال المغناطيسي المؤثر في السلك.
- B. زيادة شدة التيار الكهربائي المار في السلك.
- C. زيادة طول السلك داخل المجال المغناطيسي.
- D. جميع ما سبق.

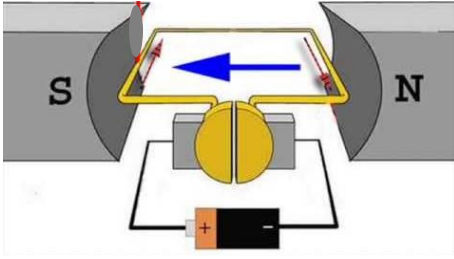
20- عند أي زاوية بين اتجاه التيار الكهربائي المار في سلك واتجاه المجال المغناطيسي ، تكون قيمة القوة المغناطيسية أكبر ما تكون؟

- A. عندما تكون الزاوية بين  $\vec{B}$  ,  $\vec{I}$  تساوي الصفر.
- B. عندما تكون الزاوية بين  $\vec{B}$  ,  $\vec{I}$  تساوي 180°.
- C. عندما تكون الزاوية بين  $\vec{B}$  ,  $\vec{I}$  تساوي 45°.
- D. عندما تكون الزاوية بين  $\vec{B}$  ,  $\vec{I}$  تساوي 90°.

21- جلفانو ميتر، هو جهاز لقياس التيارات الصغيرة جداً، كيف يمكن تحويل جلفانو ميتر إلى أميتر؟

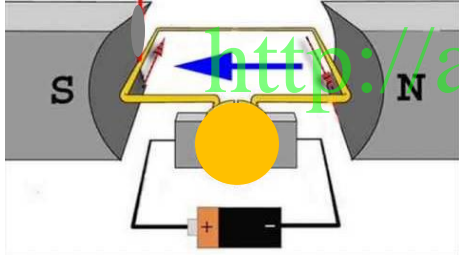
- A. بتوصيله على التوالي مع مقاومة صغيرة جداً.
- B. بتوصيله على التوالي مع مقاومة كبيرة جداً.
- C. بتوصيله على التوازي مع مقاومة كبيرة جداً.
- D. بتوصيله على التوازي مع مقاومة صغيرة جداً.

22- يمثل الشكل المجاور لفة من ملف محرك كهربائي، حدد اتجاه دوران اللفة بناءً على المعطيات الموضحة على الشكل.



- A. عكس دوران عقارب الساعة.
- B. مع دوران عقارب الساعة.
- C. تتذبذب بين القطبين الشمالي والجنوبي.
- D. لن تدور اللفة في هذه الحالة.

23- يمثل الشكل المجاور لفة من ملف محرك كهربائي، حدد اتجاه دوران اللفة بناءً على المعطيات الموضحة على الشكل.



- A. عكس دوران عقارب الساعة.
- B. مع دوران عقارب الساعة.
- C. تتذبذب بين القطبين الشمالي والجنوبي.
- D. لن تدور اللفة في هذه الحالة.

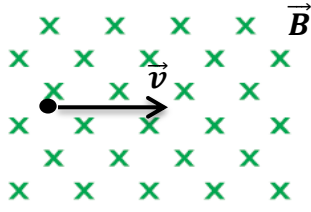
24- ما هي وظيفة الحلقة المقسومة في المحرك الكهربائي؟

- A. توصيل التيار الكهربائي إلى ملف المحرك.
- B. عكس اتجاه التيار في الملف كل 180° من دورانه.
- C. تثبيت اتجاه التيار في ملف المحرك.
- D. عكس أقطاب البطارية المشغلة للمحرك.

25- أي من الأجهزة التالية يعمل على تحويل الطاقة الكهربائية إلى طاقة ميكانيكية؟

- A. مولد التيار المتردد.
- B. محرك التيار المستمر.
- C. المايكروفون.
- D. الجلفانوميتر.

26- حدد اتجاه القوة المغناطيسية المؤثرة في الإلكترون المتحرك المبين في الشكل المجاور.



A. نحو داخل مستوى الصفحة.

B. نحو خارج مستوى الصفحة.

C. نحو أعلى مستوى الصفحة.

D. لا توجد قوة مغناطيسية تؤثر في الإلكترون.

### السؤال الثاني: حل المسائل التالية

1- سلك مستقيم يحمل تياراً مقداره 7.2 A يقع في مجال مغناطيسي مقداره  $8.9 \times 10^{-3} \text{ T}$  عمودي عليه، ما طول السلك في المجال الذي سيتعرض لقوة تبلغ 2.1 N؟

.....  
.....  
.....  
.....

2- يتحرك إلكترون شحنته  $1.6 \times 10^{-19} \text{ C}$  بسرعة  $7.4 \times 10^5 \text{ m/s}$  عمودياً على مجال مغناطيسي، ويتعرض لقوة تبلغ  $2.0 \times 10^{-13} \text{ N}$ ، ما شدة المجال المغناطيسي المؤثر في الإلكترون؟

.....  
.....  
.....  
.....

3- يتحرك بروتون نحو اليمين بسرعة  $2.3 \times 10^5 \text{ m/s}$  في مجال مغناطيسي شدته 0.4 T ويتجه نحو الأعلى.

• حدد اتجاه القوة المغناطيسية المؤثرة في البروتون.

.....

• أحسب مقدار القوة المغناطيسية المؤثرة في البروتون؟

.....  
.....