

الرابطة التساهمية

الفكرة الرئيسية تتكون الروابط التساهمية عندما تشارك الذرات الإلكترونات.

LaunchLAB

ما هو نوع المركب الذي يستخدم لعمل كرة كبيرة؟

الغرض سوف يبني الطلاب بوليمر من السليكون والإيثانول الذي يمكن أن يبرد عندما يصنع على شكل كرة.

تدابير السلامة ناقش مخاوف السلامة من هذه التجربة قبل بدء العمل. راجع صحيفة بيانات سلامة المادة عن الإيثانول وسيليكاك الصوديوم مع الطلاب قبل التنفيذ بالعمل. الإيثانول قابل جدًا للاشتعال وأبخرته قابلة للاحتراق - اتخذ الحذر واستخدم التهوية المناسبة. سيليكاك الصوديوم قوي جداً ومهيجة للجلد. يجب على الطلاب ارتداء نظارات واقية وقفازات عند التعامل مع البوليمر.

التخلص غلف المنتج الزائد والجباير الخشبية في قصاصات جراند. ضع قطع قصاصات الجراند في صندوق أو حاوية بلاستيكية وأغلقها. ضع الصندوق المغفول أو حاوية التصريف في موقع طمر النفايات التي تتولى المواد الكيميائية أو مواد النفايات الخطرة.

استراتيجيات التعليم

- اطلب من مجموعات طلابية تنوع كمية الإيثانول المستخدمة في صنع الكرة. باستخدام بين 5 و 15 مل. اطلب من الطلاب مراقبة آثار هذا الأمر على النتائج وافترض سبب ذلك.
- قد تصبح الكرة هشّة وتفتت. اطلب من الطلاب تحديد سبب هذا.

النتائج المتوقعة يجب أن يكون الطلاب قادرين على تشكيل كرة تبرد. قد يكون المنتج هش وربما ممقت ولكن يمكن إصلاحه بتشكيله بالأيدي بعد ارتداء القفازات.

الأقسام

- 1 الرابطة التساهمية
- 2 تسمية الجزيئات
- 3 الهياكل الجزيئية
- 4 الأشكال الجزيئية
- 5 السالبية الكهربية والقطبية

تجربة استهلاكية

ما نوع المركب المستخدم في صنع الكرة المطاطية؟

تصنع الكرات المطاطية من مركب سيلكون يُسمى أكسيد السيليكون العضوي $(\text{Si}(\text{OCH}_2\text{CH}_3)_2\text{O})$ وستفان في هذه التجربة بين خصائص أكسيد السيليكون العضوي وخصائص المركبات الأيونية والتي درستها سلفاً.



خصائص الرابطة

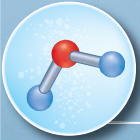
قم بعمل كتيب على شكل طبقات داخل بعضها البعض. ميزها بالأسماء على النحو الموضح. استخدمه لمساعدتك على تنظيم دراستك لأنواع الروابط الثلاثة الرئيسية.

الرابطة
رابطة تساهمية قطبية
رابطة تساهمية غير قطبية
رابطة أيونية

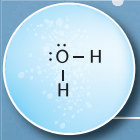
100



نموذج جزيء الماء



نموذج الكرة والسنت



شكل لويس

Image Work amanaimage age fotostock

تحذير، أبقى الإيثانول بعيداً عن مصادر اللهب والشرارة، كما يمكن أن تكون أبخرته مواد متفجرة.

4. باستخدام المناشف الورقية، صب الخليط على إحدى يديك المغفلة بالقفازات. اخرج بلطف السائل الزائد حيث الخليط يتجمد.
5. لف الخليط المتجمد بين الأيدي المغفلة بقفاز وشكل كرة. أسقطها على الأرض وراقب ما يحدث.
6. احفظ الكرة في وعاء محكم. ستحتاج إلى إعادة تشكيل الكرة قبل استخدامها مرة أخرى



الإجراء

1. حدد مخاوف السلامة في هذا المختبر قبل بدء العمل.
2. اشر عدة مناشف ورقية على المكتب أو عبر منطقة عمل المختبر. ارتدي قفازات المختبر. ضع كوب ورقي على المناشف الورقية.
3. استخدم أسطوانة مدرجة، قياس 20 مل من محلول سلكيات الصوديوم، واسكبها في الكوب. أضف قطرة واحدة من ملون غذائي و 10.0 مل من الإيثانول في الكوب. قلب الخليط في اتجاه عقارب الساعة باستخدام جبهة خشبية لمدة 3 ثواني

الحكمة العامة

عرض

تقاسم الإلكترونات لتقديم الفكرة الرئيسية لهذا الفصل. اطلب من الطلاب رسم تركيب لويس لذرات الهيدروجين والأكسجين. أسألهم عن كم عدد الإلكترونات الإضافية تحتاجها ذرة الهيدروجين لتكتسب نفس هيكل الهيليوم. **١. إلكتروني إضافي** أسأل الطلاب عن كم عدد الإلكترونات التي تحتاجها ذرة الأوكسجين للحصول على ترتيب الغازات الخاملة لنيون. **٢. إلكترونات إضافية** أسأل الطلاب كيف ذرات الهيدروجين والأكسجين قادرين على الترابط لتكوين الماء H_2O . **يجب أن يتقاسموا الإلكترونات.** تتقاسم اثنين من ذرات الهيدروجين إلكترونين مع ذرة أوكسجين واحدة.

اعتمد على معرفتك السابقة

هل قام الطلاب باستعراض المفاهيم التالية قبل دراسة الفصل.

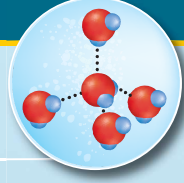
- تركيب الذرة
- الترتيب الإلكتروني
- الاتجاهات الدورية
- الخصائص الدورية للعناصر
- رابطة أيونية

استخدم الصورة

إقامة علاقات

يظهر الرسم في افتتاح الفصل عدة طرق مختلفة لوصف أو توضيح جزيء الماء: تركيب لويس، ونموذج الكرة والعصا، ونموذج ملء الفراغ، وأخيرًا بعرض مجموعة من هذه الجزيئات في فطرة ماء. اطلب من الطلاب وصف الاختلافات بين كل نموذج الموضح للجزيئات. **ستتوقع الإجابة، ولكن يجب أن تركز على الأغراض المختلفة التي يقدمها كل نهج.**

قطرات الماء
الكروية



التحليلات

1. **الوصف** خصائص الكرة التي يمكنك ملاحظتها. **فقدت الكرة الشكل عندما وقعت، ولكن عندما سُكّلت على شكل كرة ارتدت، وحينها تجف الكرة، فإنها تصبح هشة وممتننة.**

2. **مقارنة** الخصائص التي لاحظتها في تلك المركبات الأيونية. **تشكل مركبات الأيونات البلورات، وتذوب في الماء، وتحتوي على نقطة انصهار عالية. صُنعت الكرة من سائلين في درجة حرارة الغرفة، إنه تبرد، ولا تذوب في الماء وتفتقد شكلها بمرور الوقت.**

التحقيق كم عدد الإلكترونات تحتاجها ذرات السليكون والأكسجين لتشكيل الثماني؟ إذا كان يجب أن تكتسب كلتا الذرتين إلكترونات، فكيف يمكنهما تشكيل رابطة مع بعضهما البعض؟ **يحتوي السليكون على ٤ إلكترونات تكافؤ والأكسجين على ٦ إلكترونات تكافؤ. ولتشكيل الثماني، يجب أن يكتسب السليكون ٤ إلكترونات والأكسجين إلكترونين، ولتشكيل رابطة، يجب أن تشارك هذه الذرات الإلكترونات.**

الرابطة التساهمية

الفكرة الرئيسية: تتكسب الذرات حالة الاستقرار عندما تشارك إلكترونات وتكوّن روابط تساهمية.

هل شاركت من قبل في سباق الثلاثة أرجل؟ يشارك كل شخص في السباق قدمًا من أقدامه مع دبل يمكن فريق واحد من ثلاثة أرجل بطريقة ما. يعكس سباق الثلاثة أرجل طريقة مشاركة الذرات للإلكترونات وربطها سوياً كوحدة.

الكيمياء في حياتنا

لماذا ترتبط الذرات؟

بغية أن الروابط في المركبات ضرورية لتطوير تقنيات ومواد كيميائية جديدة، ولتفهم سبب تكوين مركبات جديدة، نذكر ما تعلمته عن العناصر التي لا تميل إلى تكوين مركبات جديدة - الغازات النبيلة. تعلمت أن جميع الغازات النبيلة لها ترتيبات إلكترونية مستقرة. يتكون هذا الترتيب المستقر من مستوى طاقة خارجي مكتمل وطاقة كامنة أقل مقارنة بترتيبات الإلكترونات الأخرى. نادراً ما تكوّن الغازات النبيلة أي مركبات وذلك بسبب توزيعاتها المستقرة.

اكتساب حالة الاستقرار يرتبط استقرار الذرة أو الأيون أو المركب بطاقته، ولهذا، فإن مستويات الطاقة الأقل تكون أكثر استقراراً. أنت تعلم، بناء على دراسة الروابط الأيونية أن الطرقات واللافلترات تتكسب حالة الاستقرار عن طريق نقل (اكتساب أو فقدان) الإلكترونات لتكوين أيونات. تمتلك الأيونات الناتجة توزيعات إلكترونية مستقرة للغاز النبيل. تعلم استناداً إلى قاعدة الثمانية أن الذرات التي لها ثمانية مكتملة - توزيع إلكترونات التكافؤ الثمانية - مستقرة. في هذا الوحدة سنتعلم أن مشاركة إلكترونات التكافؤ هي طريقة أخرى يمكن للذرات فيها الحصول على توزيع إلكتروني مستقر للغازات النبيلة. تتألف قطرات الماء الموضحة في الشكل 1 من جزيئات الماء المكوّنة بفعل مشاركة ذرات الهيدروجين والأكسجين الإلكترونات.



الشكل 1 تتكون كل قطرة ماء من جزيئات الماء، وتتكون كل جزيء ماء من ذرتي هيدروجين وذرة أكسجين مربوطة مع بعضها بفعل خاصية مشاركة الإلكترونات. نرجع أشكال القطرات إلى القوى بين الجزيئية التي تُمارس على سطح جزيئات الماء.

القسم 1

الأستلة الرئيسية

- كيف يمكن تطبيق قاعدة الثمانية على الذرات التي تكوّن روابط تساهمية؟
- لماذا تكوّن الذرات روابط تساهمية أحادية وثلاثية؟
- ما المقصود بروابط سيجما وباي وكيف يتناقض؟
- ما مدى قوة الرابطة التساهمية وطولها وطاقة تفككها المرتبطة؟

مراجعة المفردات

الرابطة الكهربية القوة التي تربط ذرتين سوياً.
(Chemical bond)

المفردات الجديدة

الرابطة التساهمية (Covalent bond)
جزيء (Molecule)
هيكل لويس (Lewis Structure)
رابطة سيجما (Sigma bond)
رابطة باي (Pi bond)
تفاعل ماص للحرارة (Endothermic reaction)
تفاعل طارد للحرارة (Exothermic reaction)

قسم 1

1 التركيز

الفكرة الرئيسية

الروابط المتكافئة - ارسم هياكل لويس للفلورين والكلورين والأكسجين والفلور والبرومين على اللوحة. اطلب من الطلاب تحديد تلك العناصر على الجدول الدوري وتحديد أيهما شائع. جميعهم لافلزات وتكتسب إلكترونات لتكوّن الأيونات السالبة. إذا كوّنت ذرتين من تلك الذرات مركب واحد، ما الذي يجب فعله لتكوّن مجموعة الثمانية؟ يجب أن يشاركون الإلكترونات. ارسم هيكل لويس الكربوني ووضح للطلاب النموذج الذري للكربون. وعلى حد سواء، وضّح الأماكن الأربعة للكربون التي يمكن أن تكون رابطة تساهمية مفردة. اربط ذرة الهيدروجين في كل مكان. اسأل الطلاب ماذا الذي صور. يعرض النموذج الإلكتروني المشاركة بين ذرة الكربون المركزية وذرات الهيدروجين الطرفية في جزيء CH_4 OL

2- تدريس

عرض توضيحي سريع

الطاقة المحتملة استخدم هذا العرض للإشارة إلى الطاقة المحتملة للاستقرار. انشئ بندول الساعة باستخدام كرة مطاط الرغوة ورباط أو زنبرك. اسأل الطلاب أين ستكون الطاقة المحتملة الأكبر للبندول. عندما يُسحب البندول إلى أقصى ارتفاع اسأل الطلاب أين ستكون الطاقة المحتملة الأقل للبندول. عندما يتدلى البندول للأسفل اشرح أن الطاقة المحتملة الأقل تحدث عندما يكون البندول في النقطة الأقل في الحركة. اطلب من الطلاب ملاحظة أن البندول المتدلي في آخر مرة يأتي من ليتوقف في مكان الطاقة المحتملة الأقل. أشر إلى أن أماكن الطاقة المحتملة الأعلى للبندول غير مستقرة. OL

102 الوحدة 8 • الرابطة التساهمية

دفتر الكيمياء

الرابطة التبريكية اقرأ على الطلاب للتبريكية التالية:

من الممكن أن تكون تكوينات الرابطة جيدة (الإلكترونات الداخلة في الهيكل) وبالنسبة لذلك فإنها لا تبدو جيدة لتقول بأنها مركبة عندما علمنا جيداً بأنها ستطرد.

اطلب من الطلاب تأليف لمركب أو فساد أو نظم يصور بعض جوانب الروابط المتكافئة. OL

102 الفصل الثامن • الرابطة المتكافئة

Program: UAE Project Bridge	Component: Science TE General	PDF Pass
Vendor: MPS Limited	Grade: 10	



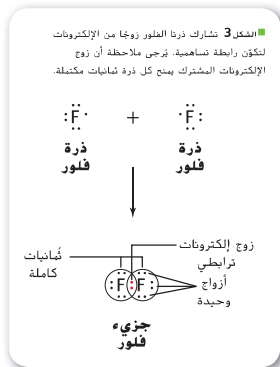
■ **النقطة 2:** توضح الأسمم على هذا المخطط صافي قوى الجذب والإرتداد التي تُمارس على ذرتي فلور عند حركتهما تجاه بعضهما البعض. وتعتبر القوى الإيجابية بين ذرتين هي نتاج إرتداد الإلكترون مع الإلكترون وإرتداد النواة مع النواة وجذب الإلكترون مع النواة. وعند موضع قوة الجذب الصافية الغضوية، تتكون رابطة تساهمية. ربط كيف ترتبط حالة استقرار الرابطة بالقوى الممارسة على الذرات؟

ما المقصود بالرابطة التساهمية؟

فُرات للذرات يمكنها مشاركة الإلكترونات لتكون توزيعات إلكترونية مستقرة. كيف يحدث ذلك؟ هل هناك طرق أخرى يمكن من خلالها مشاركة الإلكترونات؟ كيف تختلف خصائص هذه المركبات عن تلك المكوّنة عن طريق الأيونات؟ واصل القراءة للإجابة عن هذه الأسئلة.

الإلكترونات المشتركة: تُشارك الذرات في المركبات غير الأيونية الإلكترونات. الرابطة الأيونية تنتج عن مشاركة إلكترونات التكافؤ في **رابطة تساهمية**. يتكوّن **الجزء** عند ارتباط ذرتين أو أكثر تساهمياً. في أي رابطة تساهمية، تعتبر الإلكترونات المشاركة جزءاً من مستويات الطاقة الخارجية لكلا الذرتين الداخلتين في التفاعل. يمكن أن تحدث الرابطة التساهمية بين العناصر القريبة من بعضها البعض على الجدول الدوري. تتكون معظم الروابط التساهمية بين ذرات العناصر اللافلزية.

تكوّن **الرابطة التساهمية** تتكون الجزيئات ثنائية الذرة، مثل الهيدروجين (H_2) والنتروجين (N_2) والأكسجين (O_2) والفلور (F_2) والكلور (Cl_2) والبرومين (Br_2) واليود (I_2) عندما تشارك ذرتين من كل عنصر إلكترونات، وتتحّد الجزيئات بهذه الطريقة. نظراً لأن جزيئات ذرتين أكثر استقراراً من الذرات الفردية. لتأخذ مثال الفلور الذي له التوزيع الإلكتروني $1s^2 2s^2 2p^5$. لكل ذرة فلور سبعة إلكترونات تكافؤ وتحتاج إلكتروناتاً أخرى لتكوين ثمانية. وباقتراب ذرتي فلور ببعضهما البعض، تشارك العديد من القوى عملها كما هو موضح في الشكل 2. تؤثر قوا الإرتداد على الذرات، تنتج أحدهما بفعل إلكترونات الذرة متشابهة الشحنة والأخرى من بروتونات الذرة متشابهة الشحنة. تعمل أيضاً قوة من الجذب، حيث تجذب بروتونات ذرة إلكترونات ذرة أخرى. وباقتراب ذرات الفلور من بعضها البعض في حركتها، يزداد جذب البروتونات في كل نواة إلكترونات الذرة الأخرى حتى الوصول إلى نقطة الحد الأقصى لاصافي الجذب. وعند هذه النقطة، ترتبط الذراتين برابطة تساهمية ويتكوّن الجزيء. إذا تحركتا البعض بالقرب من بعضهما البعض، فإن قوى الإرتداد تزيد وتسرّع من قوى الجذب. ويحدث الترتيب الأكثر استقراراً للذرات في أي رابطة تساهمية عند الوصول إلى المسافة المثالية بين النوى. ويبلغ هذه النقطة، تكون صافي قوة الجذب أكبر من صافي قوة الإرتداد. يوجد الفلور في صورة جزيء ثنائي الذرات، لأن مشاركة زوج واحد من الإلكترونات تمنح كل ذرة فلور شكل التوزيع المستقر للغاز النبيل. كما هو موضح في الشكل 3. تتشكل كل ذرة فلور في جزيء الفلور زوجاً من الإلكترونات المرتبطة تساهمياً (مشتركة) وثلاثة أزواج من الإلكترونات غير المترابطة (غير المشتركة). تعرف أيضاً الأزواج غير المترابطة باسم الأزواج غير الرابطة.



القسم 1 • الرابطة التساهمية 103

التعليم المرئي

الشكل 2: اطلب من الطلاب النظر على الشكل ومناقشة تغير الطاقة المحتملة برغم وصول ذرات الفلورين لكل منهما الآخر فيما يتعلق بقوى التجاذب وقوى التنافر. في نقطة مثالية معينة، تتوازن قوى التجاذب والتنافر وتكون رابطة. إذا كانت قوى التنافر أكبر، لن تتكون رابطة وستبقى الذرات منفصلة. **OL**

سؤال شرح الشكل 2

تكون الرابطة المستقرة مكونة في موقع أقصى انجذاب صافي.

تطور المفهوم

طبيعة الإلكترون من المهم على الطلاب معرفة أن الإلكترونات مماثلة وبعض النظر عن أن مستوى الذرة أو الطاقة موجودين داخلها.

يجب على الطلاب معرفة أيضاً أن الإلكترونات لا تكون ساكنة داخل سحابة الإلكترون. يجب أن يتحركوا فيما يقرب من سرعة الضوء، وبعد أن تنجذب للنواة المشحونة بشحنة موجبة. عندما تتكون الرابطة المتكافئة، تساهم نواة كل ذرة القوى التي تجذب الإلكترونات. لا تكون الذرة المفردة ملكية وحيدة للإلكترونات المشاركة.

التعزيز

الرسم البياني المنقطع راجع الرسم البياني المنقطع للإلكترونات. ارجع للروابط المتكافئة التي يمكن تقديمها بطرق متنوعة.

دفعر الكيمياء

لماذا تتكون الروابط المتكافئة اطلب من الطلاب كتابة فقرة توضح لماذا يمكن للروابط المتكافئة أن تتكون بين ذرة الكلورين وذرة الفلورين. **OL**

تجربة مُصفّرة

تجربة مصفّرة

الغرضيات الطلاب نطق انصهار المركبات بالروابط المتكافئة والمركبات بالروابط الأيونية.

مهارات عملية لاحظ واستنتج وصنف ومقارن وبين الاختلاف وفسر البيانات

معايير السلامة ناقش مخاوف سلامة هذه التجربة قبل بدء العمل. لا تستنشق بخار المواد مباشرة. تأكد من أن المكان جيد التهوية أو يعمل الطلاب تحت غطاء سحب الدخان.

التخلص أزل الغطاء بعناية وضعه في حاوية النفايات.

استراتيجيات التعليم يجب على الطلاب العمل في مجموعات لإجراء هذه التجربة. يمكن استبدال موقد بنزن بالشعلة.

النتائج المتوقعة

- البارافين يذوب أولاً
- يذوب السكر ثانيًا ثم يحترق
- لا يذوب كلوريد الصوديوم

التحليلات

1. ذاب البارافين أولاً. لا تذوب بللورات الملح.
2. البارافين، منخفض؛ السكر، متوسط؛ بللورات الملح، عالي جدًا
3. روابط أيونية؛ روابط تساهمية للملح؛ البارافين والسكر
4. يكون للمركبات الأيونية نقاط انصهار أعلى من المركبات الروابط التساهمية.

المقارنة بين نقاط الذوبان

كيف يمكنك تحديد العلاقة بين نوع الرابطة ونقطة الذوبان؟ تعتمد خصائص أي مركب على إذا ما كانت الروابط في المركب أيونية أم تساهمية.



خطوات التجربة

1. حدد مخاوف السلامة في هذا المختبر قبل بدء العمل.
 2. قم بإنشاء جدول بيانات للتجربة.
 3. باستخدام قلم تعليم ثابت ارسم ثلاثة خطوط على الغفر الداخلي لطبقته 9 بوصة استخدم لمرة واحدة لتكوين ثلاث خانات متساوية. ميز الخانات بعلامات A و B و C.
 4. ضع الطبق على لوح ساخن.
 5. احصل على العينات التالية من معلمك وضعها في الخانات المميّزة كما يلي بلورات السكر (C₁₂H₂₂O₁₁)، أ. بلورات الملح (NaCl)، ب. بارافين (C₂₅H₅₂)، ج.
6. تنبأ بالترتيب الذي ستذوب به المركبات.
 7. اضبط مقبض الحرارة في اللوح الساخن إلى أعلى مستوى. ستسخن المركبات لمدة خمس دقائق. عيّن شخص ما لمراقبة وقت تسخين المركبات.
 8. راقب المركبات خلال فترة 5 دقائق. سجل المركبات الذائبة وترتيب ذوبانها.
 9. وبعد خمس دقائق، قم بإيقاف تشغيل اللوح الساخن وأزل الطبق باستخدام قفازات أو ملاقيط.
 10. دع الطبق يبرد وبعد ذلك ضعه في حاوية النفايات المناسبة.

التحليل

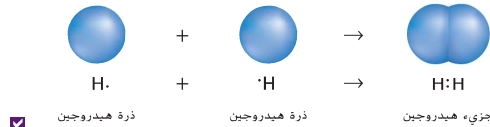
1. حدد الجسم الصلب الذي ذاب أولاً؟ ما الجسم الصلب الذي لم يذوب؟
2. طبق بناءً على ملاحظتك ومياناتك، صف نقطة الذوبان بالترتيب منخفضة أو متوسطة أو مرتفعة جدًا.
3. استدل أي المركبات ترتبط بروابط أيونية؟ أي المركبات ترتبط بروابط تساهمية؟
4. لخص كيفية تأثير نوع الرابطة على نقاط ذوبان المركبات.

روابط تساهمية أحادية

عندما تتم مشاركة زوج واحد فقط من الإلكترونات، كما في جزيء الهيدروجين، تعتبر هذه رابطة تساهمية أحادية. ويُشار إلى زوج الإلكترونات المُشارك بزوج الرابطة. بالنسبة إلى جزيء الهيدروجين، كما هو موضح في الشكل 4 تجذب كل ذرة مرتبطة تساهمياً زوج الإلكترونات المُشاركة بالتساوي. ولهذا، ينتمي الإلكترون المُشارك إلى كل ذرة على بالتزامن، مما يعطي كل ذرة هيدروجين شكل توزيع الغاز النبيل للهيليوم (1s²) وطاقة أقل. ويعتبر جزيء الهيدروجين أكثر استقراراً من ذرة الأكسجين المفردة.

اذكّر أنه يمكن استخدام الرسومات الهيكلية للنقطية للإلكترونات في توضيح إلكترونات التكافؤ للذرات. كما يمكنها تمثيل ترتيب الإلكترونات في الجزيء في هيكل لويس. يمثل خط أو زوج من النقاط العمودية بين رموز العناصر رابطة تساهمية أحادية في هيكل لويس. على سبيل المثال، يكتب جزيء الهيدروجين في صورة H—H أو H.H.

الشكل 4 عندما تشارك ذرة هيدروجين زوجاً من الإلكترونات، تصبح كل ذرة هيدروجين مستقرة لأن مستوى الطاقة الخارجي لها يمتلئ.



104 الوحدة 8 • الرابطة التساهمية

104 الفصل الثامن • الرابطة المتكافئة

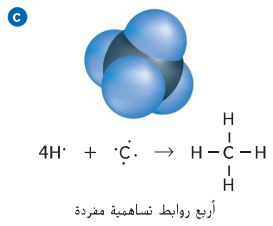
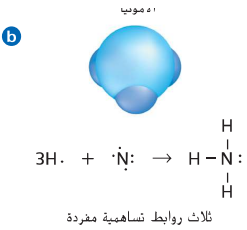
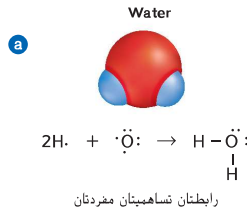
المجموعة 17 والروابط الأحادية البالوجيات - عناصر المجموعة 17، مثل الكلور - لديها سبعة إلكترونات تكافؤ. وعملية تكوين الثنائيات تتطلب إلكترون واحد أو أكثر. ولهذا تكون ذرات عناصر المجموعة 17 روابط تساهمية أحادية بذرات من عناصر لافلزية أخرى، مثل: الكربون. لقد فرأت أن ذرات عناصر المجموعة 17 تكون روابط تساهمية بذرات متطابقة، على سبيل المثال، يوجد الكلور في صورة F_2 والكربون في صورة Cl_2 .

المجموعة 16 والروابط الأحادية يمكن لذرة من عناصر المجموعة 16 مشاركة إلكترونين ويمكن لها تكوين رابطتين تساهميتين. الأكسجين هو عنصر من عناصر المجموعة 16 وله التوزيع الإلكتروني $1s^2 2s^2 2p^4$. يتكون الماء من ذرتي هيدروجين وذرة أكسجين، تمتلك كل ذرة هيدروجين شكل توزيع الغاز النبيل لليثيوم عندما تشارك إلكترونًا واحدًا مع الأكسجين. وللأكسجين بدوره شكل توزيع الغاز النبيل للنيون عندما يشارك إلكترونًا واحدًا مع كل ذرة هيدروجين. الشكل 5a يعرض هيكل لويس لجزء من الماء. تجدر الإشارة إلى أن ذرة الأكسجين لها رابطتين تساهميتين أحاديتين وزوجين من الإلكترونات غير المشتركة.

المجموعة 15 والروابط الأحادية تتكون عناصر المجموعة 15 ثلاث روابط تساهمية مع ذرات من اللافلزات. النيتروجين هو عنصر من عناصر المجموعة 15 له التوزيع الإلكتروني $1s^2 2s^2 2p^3$. الأمونيا له (NH_3) ثلاث روابط تساهمية أحادية. رابطة من ثلاث إلكترونات نيتروجين مع ثلاث ذرات نيتروجين تاركة زوجًا من الإلكترونات غير الرابطة على ذرة النيتروجين. الشكل 5b يوضح هيكل لويس لجزء الأمونيا. يكون النيتروجين أيضًا مركبات مشابهة بذرات لعناصر المجموعة 17، مثل: ثالث فلوريد النيتروجين (NF_3) وثالث كلوريد النيتروجين (NCl_3) و ثالث بروميد النيتروجين (NBr_3) . تشارك كل ذرة من ذرات عناصر المجموعة 17 وذرة النيتروجين زوجًا من الإلكترونات.

المجموعة 14 والروابط الأحادية تتكون ذرات عناصر المجموعة 14 روابط تساهمية رباعية. يتكون جزيء الميثان (CH_4) عند ارتباط ذرة كربون مع أربع ذرات هيدروجين. الكربون هو عنصر من عناصر المجموعة 14 له التوزيع الإلكتروني $1s^2 2s^2 2p^2$ ، الذي له أربعة إلكترونات تكافؤ، إلى أربعة إلكترونات أخرى للوصول إلى التوزيع الإلكتروني للغاز النبيل. ولهذا، عندما يرتبط الكربون مع ذرات أخرى، فإنه يكون روابط رباعية. ونظرًا لأن ذرة الهيدروجين، وهو عنصر من عناصر المجموعة 14، له إلكترون تكافؤ واحد، فهو يحتاج إلى أربع ذرات هيدروجين لتوفير الأربعة إلكترونات التي تحتاجها ذرة الكربون. يظهر هيكل لويس للميثان في الشكل 5c. يكون أيضًا الكربون روابط تساهمية أحادية مع ذرات لافلزية أخرى من بينها تلك الموجودة في المجموعة 17.

■ التأكد من فهم النص صفا: كيف يوضح هيكل لويس الرابطة التساهمية.



■ الشكل 5 تعرض هذه المعادلات الكيميائية كيف تشارك الذرات الإلكترونات وتصبح مستقرة، وكما هو موضح عن طريق هيكل لويس لكل جزيء. فإن جميع الذرات في كل جزيء، تمثل مستوى طاقة خارجي متساو.

صف بالنسبة إلى الذرة المركزية في كل جزيء. صف كيفية تحقيق قاعدة الثمانيات.

■ سؤال الشرح الشكل 5 الماء: إلكترونين من كل رابطة مع الهيدروجين وزوجين من إلكترونات متوحدة: الأمونيوم؛ إلكترونين من كل رابطة مع هيدروجين وزوج واحد من إلكترونات متوحدة؛ الميثان، إلكترونين من كل رابطة مع هيدروجين

ابني نموذجًا

تركيب لويس قدم للطلاب أربعة بطاقات فهرسة متقطعة إلى نصفين لتكون ثمانية قطع. اطلب منهم متابعة الرسومات البيانية المنقطعة على البطاقات، واحدة على (ب) واثنين على (د) وواحدة على (ع) وأربعة على (ح). واخير الطلاب بأنهم سيستخدمون هذه البطاقات ليصف الإلكترونات غير المزدوجة من ذرة البطاقات ليصف الإلكترونات غير المزدوجة من ذرات مختلفة واحدة مع الإلكترونات غير المزدوجة من ذرات مختلفة لتكون روابط تساهمية مفردة. اطلب من الطلاب أن يكونوا المركبات CF_4 and H_2S . **EL BL**

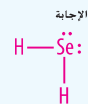
✓ التدريب على القراءة تكون الرابطة التساهمية موضحة زوج من النقاط أو كخط قصير.

وسائل تعليمية مختلفة

تشجيع المعلمين باستخدام قطعة من الخلايا واسم دوائر لتمثيل الذرات. في كل دائرة، اعرض ذرة مفردة باستخدام الرسم البياني المنقطع للإلكترونات. اعرض على الطلاب ذرتين من (ح) وأسألهم أي منهم يحتاج أن تكون مستقرة. **إلكترون واحد** ركب دوائر كي تكون الذرة (ح) لها ثمانية إلكترونات وأسأل الطلاب كم عدد الإلكترونات كل ذرة. **ثمانية** اخبر الطلاب بأن الإلكترونات المشتركة لتكون رابطة تساهمية. ركب الذرات (د) وذرة واحدة من (ض). أسأل الطلاب كم عدد الإلكترونات (ض). **ثمانية** كم عدد الإلكترونات لكل ذرة (د)؟ **اثنين** أسأل الطلاب إذا كان (د) مستقرة مع إلكترونين. **نعم. لأنه له هيكل غاز نبيل من He** أسأل الطلاب كم عدد الروابط المكونة. **رابطتين تساهميتين مفردتين BL**

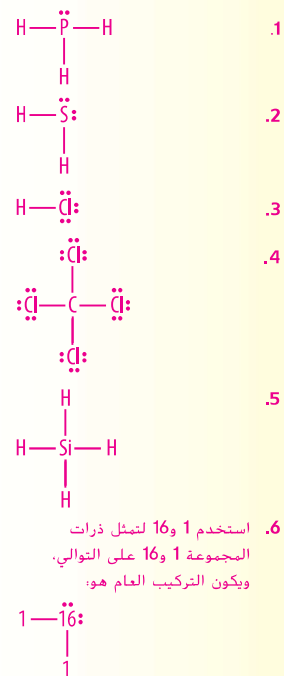
مثال في الفصل

سؤال سيانيد الهيدروجين، H_2Se ، غاز سام وله خصائص مماثله لسلفاته الهيدروجين. اسم تركيب لويس لهذا الجزيء:



مشاكل الممارسة

اطلب من الطلاب الرجوع إلى ملحق الحلول المختارة. للحصول على الحلول الكاملة للمشاكل المرفقة عشوائياً، يمكن الاطلاع على الحلول الكاملة في كتيب الحلول.



مثال مسألة ١

هيكل لويس لجزيء يتم تصنيع الأشكال على الزجاج كما هو موضح في الشكل 6 يحضر سطحها كيميائياً باستخدام فلوريد الهيدروجين (HF). ارسم هيكل لويس لجزيء فلوريد الهيدروجين.



الشكل 6: لو يفس هذا الشكل المتجه أجزاء من هذا الزجاج كيميائياً باستخدام فلوريد الهيدروجين (HF) وهو حمض ضعيف، يتفاعل فلوريد الهيدروجين مع السيليكا، وهو المكون الرئيس للزجاج. ويكوّن رابع فلوريد السيليكون الغازي (SiF₄) والماء.

1. حل المسألة

أعطيت معلومات تفيد أن الهيدروجين والفلور يكوّنا جزيء فلوريد الهيدروجين. ذرة الهيدروجين وهي عنصر من عناصر المجموعة الأولى لديها إلكترون تكافؤ واحد، ويمكنها الارتباط مع أي ذرة لا فلزية عندما تشارك زوجاً واحداً من الإلكترونات. وتحتاج ذرة الفلور وهي عنصر من عناصر المجموعة 17 إلى إلكترونات واحداً للوصول إلى الثمانيات، ولهذا، تكون رابطة تساهمية أحادية عند ارتباط ذرات الهيدروجين مع الفلور.

2. ابحث عن تفسيرات للنقاط غير المعروفة

ارسم هيكل لويس، ارسم أولاً المخطط النظري الإلكتروني لكل ذرة، وبعد ذلك، أعد كتابة الرموز الكيميائية وارسم خطاً بينهم لتوضيح زوج الإلكترونات المشتركة، وبالنهاية، أضف النقاط لتوضيح أزواج الإلكترونات غير المشتركة.



3. قيم الإجابة

ونتلك الآن كل ذرة في الجزيء الجديد توزيع الغاز النبيل وتكون مستقرة.

مسائل للتدوين

ارسم هيكل لويس وفقاً لكل جزيء.

- | | |
|-------------------------|-------------------|
| 1. PH_3 | 4. CCl_4 |
| 2. H_2S | 5. SiH_4 |
| 3. HCl | |

6. التحدي ارسم هيكل لويس عام لجزيء، مكوّن من ذرات عناصر المجموعة 1 والمجموعة 16.

رابطة سيجما روابط تساهمية أحادية يطلق عليها أيضاً روابط سيجما وتُشمل بالحرف اليوناني سيجما (σ). تحدث الرابطة سيجما عندما يتواجد زوج من الإلكترونات المشتركة في المنطقة المتوسطة بين الذرتين. عندما تشارك الذرتان الإلكترونات، تتداخل مدارات التكافؤ الذرية من النهاية إلى النهاية مما حيث تتركز الإلكترونات في مدار الربط بين الذرتين. مدار الربط هو منطقة محددة حيث يمكن على الأرجح العثور على إلكترونات الربط. تتكون رابطة سيجما عندما يتداخل المدار s مع مدار s آخر أو مدار p أو يتداخل مدارا p من النهاية إلى النهاية. تكون جزيئات الماء (H_2O) والأمونيا (NH_3) والميثان (CH_4) روابط سيجما كما هو موضح في الشكل 7.

التأكد من فهم النص أدرج المدارات التي يمكن أن تكون روابط سيجما في مركب تساهمي في قائمة.

المضردات المتعددة الأكاديمية المتداخل (overlap) لتشكل المنطقة نفسها جزئياً يتداخل الطرفين في الشارع بحيث يتم تكوين مدخل مشترك.

106 الوحدة 8 • الرابطة التساهمية

مشروع الكيمياء

الكيمياء في الطب اطلب من الطلاب البحث عن استخدام فوق فلوروكتيل بروهيد ($\text{C}_8\text{F}_{17}\text{Br}$) كحامل للأكسجين الصناعي في دم التركيبي. اطلب منهم أيضاً عمل تقرير عن كيفية عمل المركب في الدم لتغل الأكسجين إلى النسيج. واطلب منهم عمل تقرير عن تركيب جزيئات المركب. ما هي أنواع الروابط التي يشتمل عليها هذا المركب. تكون جميع الروابط من نوع سيجما (روابط تساهمية فردية) كم عدد الأزواج الإلكترونية في ذرات الكربون والفلورين والبرومين التي تشارك في المركب؟ تشارك ذرة الكربون بزواج من الإلكترونات وتكون روابط C-C وروابط C-F وروابط C-Br. يشارك الفلورين بزواج واحد من الإلكترونات ويشارك البرومين بزواج واحد من الإلكترونات. OL

تدريب على القراءة يمكن أن تكون روابط سيجما من تركيب طريق مداري s مع تركيب مداري s آخر أو طريق مداري s مع طريق مداري p آخر أو طريق مداري نهاية إلى نهاية مع طريق مداري p آخر..

106 الفصل الثامن • الرابطة المتكافئة

Program: UAE Project Bridge	Component: Science TE General	PDF Pass
Vendor: MPS Limited	Grade: 10	

سؤال شرح الشكل 7
مياه، 2؛ أمونيوم، 3؛ الميثان، 4

تطور المفهوم:

مشاركة الإلكترونات تأكد من أن الطلاب يفهمون أن الطريق المداري يمكن أن يحتوي فقط على إلكترونين على حدة، المدار مع إلكترون واحد يمكن أن يشارك بالإلكترونية فقط مع مدار إلكترون واحد آخر. تشارك الرابطة التساهمية المزدوجة بمدارين يشاركن بأربعة إلكترونات بين ذرتين. تشارك الرابطة التساهمية المزدوجة بثلاثة مدارات يشاركو بستة إلكترونات بين ذرتين.

ASSESSMENT

المهارة: قسم الطلاب إلى مجموعات، سلم كل

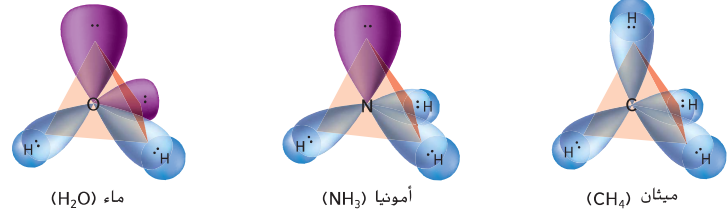
مجموعة مجموع بطاقات تحتوي على رسم بياني منقطع للإلكترونات الذرات، يجب أن تشمل المجموعة على ذرتين كربون وذرتين نيتروجين وذرتين أكسجين وستة ذرات هيدروجين وأربعة ذرات كلور. ضع بطاقة الهيدروجين بجوار بطاقة الكلور، وضع للطلاب أنه يشارك زوج من الإلكترونات من كل ذرة يحصل ترتيب إلكتروني خارجي مستقر. اطلب من الطلاب تحديد تركيب لويس للعديد من الجزيئات بقدر الإمكان من خلال تجميع البطاقات. ذكر الطلاب بأن الروابط المتعددة تكون ممكنة في ذرات الكربون والنيتروجين والأكسجين. **EL OL**

التعليم التعاوني

مطويات®

خلفية المحتوى

يسبب محور الأكسجين الاستثنائي للإلكترونات المفردة في الذرات أو الأيونات مادة ليكون متوازي مغناطيسي لجذب حقل مغناطيسي خارجي. تكون المادة ذات حقل مغناطيسي معاكس ولم يتأثر بالحقل المغناطيسي إذا كانت جميع الإلكترونات مزدوجة. وعلى الرغم من أن هناك رابطة مزدوجة بين الذرتين ويبين الأكسجين تصرف استثنائي في المختبر. حقل مغناطيسي متوازي. الإلكترونات مرتبطة بـ π رابطة غير مزدوجة أو متوازية أو معاكسة.



السفن 7 تتكون روابط سيجما في كل جزيء من هذه الجزيئات عندما تتداخل مدارات ذرة الهيدروجين رأسياً مع مدارات الفرة المركزية.

فسر حدد عدد روابط سيجما في كل جزيء.

الروابط التساهمية المتعددة

في بعض الجزيئات، تتخذ الجزيئات شكل توزيعات الغازات النبيلة عندما يُشارك أكثر من زوج من الإلكترونات مع ذرة أو أكثر. تكون مشاركة أزواج الإلكترونات المتعددة روابط تساهمية متعددة. وتعتبر الرابطة التساهمية الثلاثية والثلاثية أمثلة على الروابط المتعددة، وتكون غالباً ذرات الكربون والنيتروجين والأكسجين والكبريت روابط متعددة مع اللافلزات. كيف تعرف إذا كانت ذرتان ستكونان رابطة متعددة؟ وبوجه عام، يساوي عدد إلكترونات التكافؤ المطلوب لتكون ثمانية عدد الروابط التساهمية التي يمكن أن تتكون.

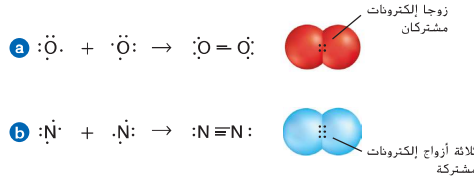
الروابط الثنائية: تتكون الرابطة التساهمية الثنائية عندما تتم مشاركة زوجين من الإلكترونات بين ذرتين. على سبيل المثال، تتواجد ذرات عنصر الأكسجين فقط في صورة جزيئات ثنائية الذرة، لكل ذرة أكسجين ستة إلكترونات تكافؤ وينبغي أن تحصل على إلكتروني إضافيين للوصول إلى توزيع الغاز النبيل كما هو موضح في السفن 8 a. تتكون الرابطة التساهمية الثنائية عندما يُشارك كل ذرة أكسجين إلكترونين؛ ويتم مشاركة إجمالي زوجين من الإلكترونات بين الذرتين.

الروابط الثلاثية: تتكون الرابطة التساهمية الثلاثية عندما تتم مشاركة ثلاثة أزواج من الإلكترونات بين ذرتين. تحتوي جزيئات النيتروجين ثنائي الذرة (N_2) على رابطة تساهمية ثلاثية، يُشارك كل ذرة نيتروجين ثلاثة أزواج من الإلكترونات مكونة رابطة ثلاثية مع ذرة نيتروجين أخرى كما هو موضح في الشكل 8 ب.

الرابطة باي: هي رابطة تساهمية متعددة تتكون من رابطة سيجما مع رابطة باي واحدة على الأقل. تُمثل رابطة باي بالحرف اليوناني π (pi) وهي تتكون عندما تتداخل مدارات متوازية وتشارك الإلكترونات، يشغل زوج الإلكترونات المتشارك في رابطة باي المساحة أعلى وأسفل الخط الذي يمثل الموضع الذي ترتبط فيه الذرتين سوياً.

مطويات®

ادمج معلومات من هذا الجزء في المطوية.

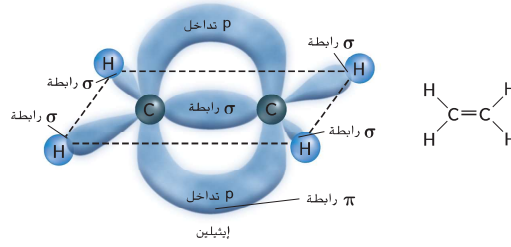


السفن 8 تتكون الروابط التساهمية المتعددة عندما يشارك ذرتان أو أكثر من زوج من الإلكترونات. 8 a. تتكون ذرة أكسجين رابطة ثنائية، 8 b. تتكون رابطة ثلاثية بين ذرتي النيتروجين.

القسم 1 • الرابطة التساهمية 107

107 القسم 1 • الرابطة المتكافئة

■ الشكل 9 لاحظ كيف تتكون الرابطة المتعددة بين ذرتي الكربون في الإيثان (C₂H₆) من رابطة سيجما ورابطة باي. تتكون رابطة سيجما عن طريق تداخل المدارات الرأسية الرأسية مباشرة بين ذرتي الكربون وتكون ذرات الكربون قريبة جداً بحيث تتداخل المدارات p المتجاورة مكونة رابطة باي. وهذا ينتج سخاية على شكل حلقة حول الرابطة سيجما.



تطور المفهوم
فوه الرابطة يكون العامل الأهم في تحديد التفاعلات الكيميائية هو قوة الروابط التساهمية التي تحمل الجزيئات معا. عند مقارنة جزيئين مع تركيب مماثل، تكون الروابط الأضعف هي عادة ما تكون الأكثر تفاعلاً. اطلب من الطلاب مقارنة طاقة الرابطة للجزيئات
CH₃Cl and CH₂Cl₂ 1567 كيلو جول/مول،
1482 كيلو جول/مول اسأل الطلاب أي الجزيئات يبدو أكثر تفاعلاً. OL CH₂Cl₂

ومن المهم ملاحظة أن الجزيئات التي لديها روابط تساهمية متعددة تحتوي على روابط سيجما وباي. تتكون الرابطة التساهمية الثنائية كما هو موضح في الشكل 9 من رابطة باي واحدة ومن رابطة سيجما. تتكون الرابطة التساهمية الثلاثية من رابطتين باي ومن رابطة سيجما واحدة.

قوة الروابط التساهمية

تذكر أن الرابطة التساهمية تشمل قوى جذب وارتداد. في أي جزيء، تجذب النوى والإلكترونات بعضها البعض. إلا أن النوى تطرد النوى الأخرى وتطرد الإلكترونات الأخرى. عند اضطراب هذا التوازن من القوى، تنكسر أي رابطة تساهمية. ونظراً لأن الروابط التساهمية تختلف في القوة، تنكسر بعض الروابط بسهولة مقارنة بالروابط الأخرى. وتؤثر العديد من العوامل الأخرى على قوة الروابط التساهمية.

طول الرابطة تعتمد قوة الرابطة التساهمية على المسافة بين النوى المترابطة. ويُطلق على المسافة بين نواتين مترابطتين في موضع الحد الأقصى للجذب طول الرابطة كما هو موضح في الشكل 10. وهو يحدد بواسطة أحجام ذرتي الربط وعدد أزواج الإلكترونات التي يكتسبها مشاركتها. تُدرج أطوال الرابطة لجزيئات الفلور (F₂) والأكسجين (O₂) والنيتروجين (N₂) في الجدول 1. لاحظ أنه عند زيادة عدد أزواج الإلكترونات المشتركة، يقل طول الرابطة. يرتبط طول الرابطة مع قوتها أيضاً، فكلما كان طول الرابطة قصيراً، زادت قوتها. ولهذا، تكون الرابطة الأحادية، مثل، F₂ أضعف من الرابطة الثنائية كما في O₂. وبالمثل تكون الرابطة الثنائية الموجودة في O₂ أضعف من الرابطة الثلاثية في N₂.

✓ التأكد من فهم النص اربط نوع الرابطة التساهمية بطول الرابطة.

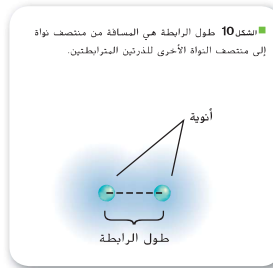
الإثراء
طاقة الرابطة استخدم المعادلة الموضحة أدناه لحساب التغير في المحتوى الحراري للتفاعلات الكيميائية.

$$\Delta H = \sum (\text{طاقة الرابطة للروابط المتكونة}) - \sum (\text{طاقة الرابطة للروابط المكسورة})$$

اطلب من الطلاب تحديد تغير المحتوى الحراري الإجمالي عندما Cl يتفاعل مع CH₄ ليكون CH₃Cl و HCl. يكون التغير في المحتوى الحراري هو -104 كيلو جول. اسأل الطلاب ما هي الإشارات السالبة حول طاقة التفاعل وقوة الروابط المتكونة. يشير التغير في المحتوى الحراري السالب إلى أن التفاعل طارد للحرارة وأن الروابط في جزيئات المنتج أقوى من الروابط في الجزيئات المتفاعلة. اطلب من الطلاب رسم تركيب وليس للجزيئات وتبين أي الروابط التي ستتكون وأنها ستتكون. تكون الروابط المتكسرة Cl-Cl ورابطة C-H؛ والروابط المتكونة؛ رابطة واحدة H-Cl ورابطة C-Cl AL

✓ التدريب على القراءة وكما تزداد نوع الرابطة من الرابطة التساهمية المفردة والمزدوجة والثلاثية، تزداد قوة الرابطة.

جزيء	نوع الرابطة	طول الرابطة
F ₂	تساهمية أحادية	1,43 x 10 ⁻¹⁰ m
O ₂	رابطة ثنائية	1,21 x 10 ⁻¹⁰ m
N ₂	رابطة ثلاثية	1,10 x 10 ⁻¹⁰ m



108 الوحدة 8 • الرابطة التساهمية

وسائل تعليمية مختلفة

تشجيعاً لتعليم اطلب من الطلاب وضع عود أسنان بين قطعتي علقة لتكون رابطة مفردة. وبعد ذلك، اطلب منهم كسر 1 سنتيمتر من كل عودين أسنان وضعهم بين قطعتين علقة لتكون رابطة مزدوجة. واطلب منهم كسر 2 سنتيمتر من كل ثلاثة عود أسنان وضعهم بين قطعتين علقة لتكون رابطة ثلاثية. اطلب من الطلاب تحديد الروابط الأقصر والأطول. اطلب من الطلاب كسر الروابط بعناية لتحديد أي الروابط تكون أسهل وأبها تكون صعبة الكسر. تكون الرابطة الثلاثية أقصر وأصعب في الكسر وتمتلك طاقة رابطة أعلى. وتكون الرابطة المفردة أوى وأسهل في الكسر وتمتلك طاقة رابطة أقل. EL BL

3 التقييم

الفحص لغرض التفهم.

اطلب من الطلاب رسم تركيب لويس للجزيء H_2S .

OL



إعادة التعليم

ارسم المعادلة التركيبية لـ C_2H_2 ، C_2H_4 ، C_2H_6 و C_2H_2 .

اطلب من الطلاب تحديد كافة الروابط سيجما

والروابط باي. استخدم جدول طاقة الروابط وطول

الروابط وقارن بين أطوال الروابط وطاقة رابطة $C-C$

و $C=C$ و $C \equiv C$. وذكر الطلاب كما أن عدد الروابط

الموجودة بين الذرتين يزداد، فإن طول الرابطة تصبح

أقصر وتكون الرابطة نفسها أقوى. BL

ملحق

اطلب من الطلاب المهمين البحث عن ثالث تترات

التولين (TNT) وتحديد طاقة الرابطة المتاحة إذا

كانت الروابط في جزيء المركب مكسورة. AL



الشكل 11 يشرح تفسير الروابط $C-C$ الموجودة في الفحم والروابط $C=O$ الموجودة في الأوكسجين الهوائي كمية من الطاقة. نشبت الطاقة في صورة حرارة وضوء عند تكوّن الروابط. مما ينتج عنه مركب CO_2 . ولهذا، فإن إحراق الفحم هو تفاعل طارد للحرارة.

الجدول 2 طاقة تفكك الرابطة

جزء	طاقة تفكك الرابطة
F_2	kJ/mol 159
O_2	kJ/mol 498
N_2	kJ/mol 945

الروابط والطاقة يحدث تغير في الطاقة عندما تتكون رابطة بين الذرات في أي جزيء أو تتكسر. تبعث الطاقة عند تكوّن أي رابطة، بينما يحتاج كسر أي رابطة إلى طاقة. ويطلق على مقدار الطاقة المطلوب لكسر رابطة تساهمية طاقة تفكك الرابطة وهي ذات قيمة موجبة دوماً. تدرج طاقات تفكك الرابطة الخاصة بالروابط التساهمية في جزيئات الكلور والأوكسجين والنيتروجين في الجدول 2.

وتُشير أيضاً طاقة تفكك الرابطة إلى قوة أي رابطة كيميائية، وذلك بسبب العلاقة العكسية بين طاقة الرابطة وطولها. وكما نمت الإشارة إليه في الجدول 1 والجدول 2 فكلما قل طول الرابطة، زادت طاقة تفكك الرابطة، ويبلغ مجموعة قيم طاقة تفكك الرابطة لجميع الروابط في أي جزيء مقدار الطاقة الكيميائية المحتملة في أي جزيء من ذلك المركب.

ويتم تحديد التغير الإجمالي في الطاقة لأي تفاعل كيميائي من طاقة الروابط المكسورة أو المتكوّنة. يحدث التفاعل الماص للحرارة عندما يتطلب وجود كمية من الطاقة لتفتت الروابط الموجودة في المواد المتفاعلة أكثر من كمية الصادرة عند تكوّن الروابط الجديدة في النواتج. يحدث التفاعل الطارد للحرارة عند إطلاق كمية كبيرة من الطاقة أثناء تكوّن الرابطة مغارة بحجم الطاقة المحطوب لكسر الروابط في المواد المتفاعلة. «مثل»، يوضح تفاعل طارد للحرارة عام. ستدرس التفاعلات الطاردة للحرارة والخاصة للحرارة بمزيد من التفاصيل عند دراسة تغيرات الطاقة في التفاعلات الكيميائية.

القسم 1 مراجعة

ملخص القسم

- تتكون الروابط التساهمية عندما تشارك الذرات زوجاً أو أكثر من الإلكترونات.
- تكوّن مشاركة زوجاً واحداً واثنين وثلاثة من الإلكترونات رابطة تساهمية أحادية وثنائية وثلاثية على التوالي.
- تتداخل المدارات مباشرة في روابط سيجما. تتداخل المدارات المتوازية في روابط باي. الرابطة التساهمية الأحادية هي عبارة عن رابطة سيجما إلا أن الروابط التساهمية المتعددة تتكون من كل من روابط سيجما وباي.
- تقاس طول الرابطة من نواة إلى نواة. يتطلب طاقة تفكك الرابطة لتكسير أي رابطة تساهمية.

7. فكرة أساسية حدد نوع الذرة التي تكوّن الروابط التساهمية بوجه عام.

8. صف كيف تنطبق قاعدة الثمانية على الروابط التساهمية.

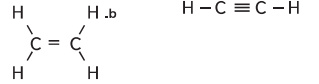
9. وضع تكوّن الروابط التساهمية الأحادية والثنائية والثلاثية باستخدام هياكل لويس.

10. قارن بين الفرق بين الروابط الأيونية والروابط التساهمية.

11. وضع الفرق بين روابط سيجما وروابط باي.

12. تطبيق صمم رسماً بيانياً باستخدام بيانات طاقة تفكك الرابطة الواردة في الجدول 2 وبيانات طول الرابطة الواردة في الجدول 1: صف العلاقة بين طول الرابطة وطاقة تفكك الرابطة.

13. ساطاقات تفكك الرابطة النسبية المطلوبة لكسر الروابط في الهياكل أدناه.



الفصل الأول، مراجعة

11. تكون الرابطة سيجما رابطة تساهمية مفردة مكونة من التركيب المباشر للطرق المدارية. وتكون الرابطة باي عبارة عن تركيب متوازي للطريق المداري p.
12. يجب أن يوضح رسم الطلاب أنه وكما تقل طول الرابطة، فإن طاقة فصل الرابطة تزداد.
13. أ. $C-H$: أقل طاقة من $C \equiv C$
ب. $C-H$: أقل طاقة من $C=C$

7. تكون الكثير من الروابط التساهمية بين العناصر اللافلزية.
8. تشارك الذرات إلكترونات التكافؤ؛ تكمل الإلكترونات المشتركة المجموعة الثمانية لكل ذرة.
9. يجب أن يوضح تركيب لويس للطلاب أن مشاركة زوج الإلكترونات المفردة وزوجين من الإلكترونات وثلاثة أزواج من الإلكترونات على التوالي للروابط التساهمية المفردة والثنائية والثلاثية.
10. تكون إلكترونات التكافؤ مشاركة في كل من نوعي الروابط. وفي الروابط التساهمية/ تشارك الذرات بالإلكترونات حيث أنه في الروابط الأيونية، تكون الإلكترونات منقولة بين الذرات.

تسمية الجزيئات

الفكرة الرئيسية تستخدم قواعد معينة عند تسمية المركبات الجزيئية الثنائية والأحماض والأحماض الأوكسجينية.

دليلاً نتيجة

أنت على الأرجح تعلم أن أم أمك هي جدتك، وأن أخت جدتك هي حالة الأم. ولكن ماذا تسمي أخت أخت جدتك؟ تتطلب تسمية الجزيئات مجموعة من القواعد، تماماً مثل تسمية العلاقات العائلية تتطلب قواعد.

تسمية المركبات الجزيئية الثنائية

تعرف العديد من المركبات الجزيئية بأسماء شائعة ولكن لها أيضاً أسماء علمية تكشف عن تركيبها. لكتابة صيغ وأسماء الجزيئات، ستتعتمد طرقاً شبيهة بتلك الموصوفة للمركبات الأيونية.

ابداً بالمركب الجزيئي الثنائي. لاحظ أن المركب الجزيئي الثنائي يتكون من ذرتين لفلزيتين - ذرات غير فلزية أو أيونات. ومثالاً على ذلك أحادي أكسيد ثنائي النتروجين (NO_2)، وهو مادة مخدرة غازية يعرف أكثر باسم أكسيد النتروجين أو غاز الضحك. يمكن شرح تسمية NO_2 في القواعد التالية.

1. يرد اسم العنصر الأول من الصيغة في البداية. مع استخدام الاسم الكامل لهذا العنصر. **N** هو رمز النتروجين.
 2. ويورد اسم العنصر الثاني من الصيغة باستخدام الجذر مع إضافة اللاحقة -يد. **O** هو رمز الأكسجين وبالتالي فإن الكلمة الثانية هي أكسيد.
 3. تشير البادئات إلى عدد الذرات المكونة لكل عنصر والموجودة في المركب. الجدول 3 يحتوي على قائمة البادئات الأكثر استخداماً. هناك ذرتا نيتروجين وذرة أكسجين. وهكذا فإن الكلمة الأولى هي ثنائي النتروجين والثانية هي أحادي أكسيد.
- هناك استثناءات في استخدام البادئات مبينة في الجدول 3. العنصر الأول في المركب لا يستخدم أبداً البادئ أحادي. على سبيل المثال، CO هو أحادي أكسيد الكربون. وليس أحادي أكسيد أحادي الكربون. كذلك، عند استخدام البادئات، إذا التقى حرفان متحركان يحذف أحدهما لتجنب صعوبة النطق. على سبيل المثال، لاحظ أن ذرة الأكسجين CO تسمى monoxide وليس monooxide.

القسم 2

الأسئلة الرئيسية

- ما القواعد التي تتبعها في تسمية مركب جزيئي ثنائي من صيغة الجزيئية؟
- كيفية تسمية المحاليل الحضية؟

مراجعة على المفردات

الأكسجينية: أيون متعدد الذرات يتكون من عنصر (يكون لا فلزي غالباً) يرتبط مع ذرة أو أكثر من ذرات الأكسجين.

المفردات الجديدة

حمض أكسجيني (Oxyacid)

القسم الثاني

1 ركز

الفكرة الرئيسية

تسمية الجزيئات تأسل طلابك كيف يتعرفون على أو يسمون أخت جدتهم من حيث العلاقة الأسرية. **أخت جدتهم هي عمتهم الكبرى.** اطلب منهم توضيح كيفية تحديدهم لهذا الاسم. وعليهم أن يصفوا الطريقة المنظمة لتسمية الأظارب. **إخوان الأم أو الأب هم الأخوال أو الأعمام. أخوات الأم أو الأب هم الحالات أو العمات.** اشرح أن الجزيئات قد تم تسميتها باستخدام المنهج المنظم. **BL OL**

2 درّس

التعلم المهري

جدول 3 مراجعة أرقام الأكسدة، وتسمية المركبات الأيونية، وكتابة وحدات الصيغ. وعلى عكس المركبات الأيونية. فإن عدد كل ذرة تشكل جزيئاً ما، يتم تحديده بالبادئة. اكتب صيغ جزيئية متعددة على اللوح، واجعل الطلاب يستخدمون الجدول رقم 3 لممارسة تسمية الجزيئات. **OL**

الجدول 3 البادئات في المركبات التساهمية

عدد الذرات	البادئة	عدد الذرات	البادئة
1	أحادي	6	سداسي
2	ثنائي	7	سباعي
3	ثلاثي	8	مئتين
4	رباعي	9	تساعي
5	خماسي	10	عشاري

110 الوحدة 8 • الرابطة التساهمية

التوضيح

تشكيل الرابطة

الهدف

توضيح تشكيل الرابطة الأيونية والرابطة التساهمية

المواد

شريط ماغنسيوم (5سم)، ولغة من الكبريت (2 جم)، وملاقيط، وعبوة معدنية كبيرة، ملعقة احتراق، وموقد مختبر.

احتياطات السلامة

الطرح تخلص من البادئة الصلبة في مكب نفايات معتمد لتلقي النفايات الكيميائية.

الإجراءات

ضع العبوة الكبيرة في الحوض. أمسك شريط المغنسيوم بالملاقيط وأشعله. أمسك الشريط المحترق داخل العبوة. إذا كانت أنوار الغرفة مطفأة، يمكن للطلاب مشاهدة الضوء بأمان.

تحذير ارتد النظارات الواقية عند احتراق المغنسيوم. لا تنظر مباشرة إلى المعدن المحترق. في غرفة مظلمة، ضع قطعة صغيرة من الكبريت في معلقة الاحتراق وسخنها لوقت قصير على شعلة الموقد. سوف يشتعل الكبريت بشعلة منخفضة زرقاء اللون. تحذير استخدم غطاء الدخان؛ حيث أن بخار ثنائي أكسيد الكبريت سام.

110 الفصل الثامن الرابطة التساهمية

مسألة نموذجية 2

تسمية المركبات الجزيئية الثنائية في تنسبة المركب P_2O_5 ، والمستخدم كعامل تجفيف وتجفاف.

1 حل المسألة

أعطيت صيغة لأي مركب، تحتوي الصيغة على عناصر وعدد الذرات لكل عنصر في جزيء المركب. ونظراً لوجود عنصرين مختلفين فقط وكلاهما من الافلزات، يمكن تسمية المركب باستخدام قواعد تسمية المركبات الجزيئية الثنائية.

2 ابحاث عن تفسيرات للنقاط غير المعروفة

أولاً، قم بتسمية العناصر المشتركة في المركب.

فسفور
العنصر الأول، يمثل بالحرف P، هو الفوسفور.

أكسيد
العنصر الأول، يمثل بالحرف O، هو الأكسجين. أضف اللاحقة -ide إلى جذر الأكسجين -ox-

أكسيد الفسفور

ضم الاسمين.

الآن عدل الأسماء للإشارة إلى عدد الذرات الموجودة في أي جزيء.

خامسي أكسيد ثنائي الفوسفات
من الصيغة P_2O_5 أنت تعلم أن ذرتي فوسفور وخمس ذرات أكسجين تكون جزيء المركب. من الجدول 3، أنت تعلم أن -di- هي السابقة للعدد اثنين (pent- هي السابقة للعدد خمسة لا تستخدم الحرف h في pent- لأن كلمة oxide تبدأ بـ h).
يستخدم الحرف 5 في pent- لأن كلمة oxide تبدأ بـ h).

3 قيم الإجابة

يوضح اسم خامسي أكسيد ثنائي الفوسفات أن الجزيء من المركب يحتوي على ذرتين فوسفات وخمسة ذرات أكسجين. وهذا ما يتوافق مع الصيغة الكيميائية للمركب، P_2O_5 .

مسائل للتدريب

اذكر اسم كل مركب من المركبات الثنائية التساهمية الواردة أدناه.

CO₂ -14

SO₂ -15

NF₃ -16

CCl₄ -17

18. تحدي ماهي صيغة ثلاثي أكسيد الأرسينيك الثاني؟

بعض الأسماء الشائعة للمركبات الجزيئية هل سبق لك أن استنعتت بكوب من أول أكسيد ثنائي الهيدروجين البارد في يوم حار؟ على الأرجح أنك جربت ذلك، لذلك سميت باسمه الشائع، الماء. تذكر أن العديد من المركبات الأيونية لها أسماء شائعة إلى جانب مسمياتها العلمية، على سبيل المثال، خميرة الخبز هي كربونات الصوديوم الهيدروجينية وملح المائدة هو كلوريد الصوديوم تم اكتشاف العديد من المركبات الجزيئية، مثل أكسيد النيتروز والماء، وتمت تسميتها بأسماء شائعة قبل ظهور نظام الأسماء الحديث، ومن المركبات الثنائية التساهمية الأخرى المعروفة عموماً بأسمائها الشائعة غير الأسماء العلمية، الأمونيا (N₂H₄)، hydrazine (NH₂)₂، وأكسيد النيتريك (NO).

✓ مراجعة القراءة تطبيق ماهي المسميات العلمية للأمونيا والهيدرازين وأكسيد النيتريك؟

مثال داخل الفصل

سؤال PCI₅ يتميز بأنه يتراوح بين عديم اللون إلى لون باهت، وأصفر سادة مع رائحة نفاذة، ويستخدم بشكل أساسي كعامل كلورة لطيف في صناعة الصبغات والمواد الصيدلانية، ما اسم المركب؟

أجب العنصر الأول P وهو الفوسفور. والعنصر الثاني CL وهو الكلور. أضف اللاحقة -ide (يد) إلى أصل الكلور ليصبح كلوريد والآن عدل الاسم لتشير إلى عدد الذرات الموجودة في الجزيء. ولا يوجد أرقام سفلية مقدمة لعنصر الفوسفور، مشير إلى أن هناك ذرة واحدة موجودة من هذا العنصر. ويحتوي الكلور على الرقم السلفي 5، وهو بادئة بمعنى خامسي-. ولذلك يسمى المركب باسم خامسي كلوريد الفوسفور.

مشكلات الممارسة

اجعل الطلاب يرجعون لملحح الحلول المختارة للحلول الكاملة لمشكلة الأرقام الشاذة. يمكن العثور على الحلول الكاملة في دليل الحلول.

14. ثاني أكسيد الكربون

15. ثاني أكسيد الكبريت

16. ثلاثي فلوريد النيتروجين

17. رباعي فلوريد النيتروجين

18. As₂O₃

التعزيز

هيكل جزيئات متحركاطلب من طلابك عمل هيكل متحرك يمكن استخدامه لتسمية الجزيئات. اعرض الهيكل المتحرك في الصف الدراسي EL BL

✓ مراجعة القراءة ثلاثي هيدريد النيتروجين.

رباعي هيدريد ثنائي النيتروجين، أول أكسيد

النيتروجين

القسم 2 • تسمية الجزيئات 111

ASSESSMENT

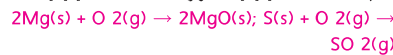
معلومة ما إن كان المغنسيوم يشكل رابطة أيونية، وما إن كان الكبريت يشكل رابطة تساهمية. وأي من الرابطين أقوى؟ ولماذا؟ **الرابطة الأيونية أقوى لأنه يتم انطلاق مزيد من الطاقة خلال تكوينها.** OL

التحليل

اسأل هذه الأسئلة:

1 في العرض التوضيحي، ما هو العامل الذي تفاعل معه المغنسيوم والكبريت؟ **الأكسجين**

2 اكتب المعادلات الكيميائية المتوازنة للتفاعلات الكيميائية.



النتائج

يشعل المغنسيوم بلهب براق أبيض ساخن. يشعل الكبريت بلهب أزرق منخفض. تم إثبات ثبات أكسيد المغنسيوم من خلال المقدار الهائل من الحرارة والطاقة المنبعثين عند تشكيله، مقارنةً بالحرارة والضوء المنبعثين خلال تشكل ثنائي أكسيد الكبريت. ولذلك، فالروابط الأيونية في أكسيد المغنسيوم أقوى (أكثر ثباتاً) من الروابط التساهمية في ثنائي أكسيد الكبريت.

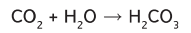
القسم الثاني تسمية الجزيئات 111



معلومة وضح للطلاب رسم بياني يحتوي على الصيغ الجزيئية، واجعلهم يسمون كل جزء أو حمض. استخدم رسم بياني آخر يحتوي على أسماء كلا من الجزيئات والأحماض. اجعل الطلاب يحددون الصيغة الجزيئية الصحيحة لكل مادة. **OL**

اختبار سريع

تشكيل الحمضاضف تغطلين من مؤشر أزرق البروموثيمول إلى 50.0 مل من الماء المقطر في فارورة. يرجى وضع أنبوب ماص في المياه، واجعل الطلاب ينتخون من خلال الأنبوب. سوف يتحول المؤشر من اللون الأزرق إلى الصفير بسبب انبعاث أكسيد الكربون من تفاعل الطلاب مع المياه مشكلاً محلولاً حمضياً.



اكتب صيغة الحمض المتشكل (H_2CO_3) على اللوح، واسأل الطلاب ما إن كان الحمض ثنائياً أم حمضاً أكسجينياً. **حمض أكسجينى** اطلب من الطلاب تسمية الحمض **حمض كربوني** **OL**

تسميات الأحماض

بعض المحاليل المائية للجزيئات تكون حمضية وتسمى الأحماض. الأحماض هي مركبات هامة ولها خواص محددة. إذا كان مركب من المركبات ينتج أيونات الهيدروجين (H^+) في المحلول فهو حامض. مثلاً، ينتج H^+ في المحلول وهو حامض. يوجد نوعان معروفان من الأحماض - الأحماض الثنائية والأحماض الأكسدية.

تسميات الأحماض الثنائية يحتوي الحمض الثنائي على الهيدروجين و عنصر واحد آخر. تشرح القواعد التالية التسمية الشائعة للحمض الثنائي المعروف بحامض الهيدروكلوريك.

1. تضم الكلمة الأولى البادئة hydro التي تشير لمكوّن الهيدروجين من المركب. بقية الكلمة الأولى هي صيغة من صيغ جذر العنصر الثاني مع إضافة اللاحقة -ic. **HCl** (الهيدروجين والكلورين) تصبح **هيدروكلوريك**

2. الكلمة الثانية هي دائماً حامض. وبالتالي فإن **HCl** في محلول الماء يسمى **حامض الهيدروكلوريك**.

رغم أن مفردة ثنائي تشير تحديداً إلى عنصرين، فإن عدداً قليلاً من الأحماض التي تحتوي على أكثر من عنصرين تتم تسميتها وفقاً لقواعد تسميات الأحماض الثنائية. إذا غاب الأكسجين عن صيغة المركب الحمضي، يسمى الحامض بنفس الطريقة التي تسمى بها الأحماض الثنائية، غير أن جذر الجزء الثاني من الاسم هو جذر الأيون متعدد الذرات الذي يتضمنه الحمض. على سبيل المثال، **HCN**، والمكون من الهيدروجين وأيون السيانيد، يسمى حامض الهيدروسيانيك في المحلول.

تسميات الأحماض الأكسجينية الحمض الذي يحتوي على ذرة هيدروجين وأيون أكسجينى يشار إليه باسم حمض **أكسجينى**. تذكر بأن الأيون الأكسجينى هو أيون متعدد الذرات يحتوي على ذرة واحدة أو أكثر من ذرات الأكسجين. تشرح القواعد التالية طريقة تسمية حمض النتريك (**HNO₃**)، وهو حمض أكسجينى.

1. أولاً، تعرّف على الأيون الأكسجينى الموجود. تمثل الكلمة الأولى من اسم حمض أكسجينى في جذر كلمة أيون الأكسجين مع البادئة **per** أو **hypo** إذا كانت جزءاً من اسم الأيون الأكسجينى. تحتوي الكلمة الأولى من اسم الحمض الأكسجينى أيضاً على لاحقة تعتمد على لاحقة الأيون الأكسجينى. إذا كان اسم الأيون الأكسجينى ينتهي بلاحقة **ate**، استبدله باللاحقة **ic**. إذا كان اسم الأيون الأكسجينى ينتهي بلاحقة **ite**، استبدله باللاحقة **ous**. **NO₃⁻**، أيون النترات يصبح **نيتريك**.

2. الكلمة من الاسم الثانية هي دائماً حامض. **HNO₃** (الهيدروجين وأيون النترات) يصبح حمض النيتريك.

الجدول 4 بين كيف أن تسميات العديد من الأحماض الأكسجينية تخضع لهذه القواعد. لاحظ أن الهيدروجين في حمض أكسجينى ليس جزءاً من الاسم.

الجدول 4 تسمية الأحماض الأكسجينية

اسم الحمض	لاحقة الحمض	أيون أكسجينى	مركب
حمض الكلوريك	-ic	كلورات	HClO_3
حمض الكلوروس	-ous	الكلوريت	HClO_2
حمض النترك	-ic	النترات	HNO_3
حمض النترور	-ous	النترت	HNO_2

وسائل التعليم المختلفة

المتعلمون المتقدمون اجعل الطلاب المهتمين أن يقوموا بالبحث وكتابة التقارير أو إعداد عرض تقديمي حول الخصائص الكيميائية والفيزيائية والمصادر والمركبات التي تحتوي على النيتروجين والأكسجين فقط. هذه المكونات هي أول أكسيد النيتروجين وثاني أكسيد النيتروجين وأول أكسيد ثنائي النيتروجين وثالث أكسيد ثنائي النيتروجين ورباعي أكسيد ثنائي النيتروجين وخامس أكسيد ثنائي النيتروجين. **AL**

المشروع الكيميائي

المركبات الكيميائية استخدم شبكة مكونة من عمودين وصفين، واطلب من الطلاب تحديد جميع الجزيئات الممكنة والتي يتم تشكيلها إما بالتفاعلات الكربونية أو الهيدروجينية مع الأكسجين أو الفلورين. اجعلهم يستخدمون حالات الأكسدة +4 للكربون +، للهيدروجين، -2 للأكسجين، و-1 للفلورين. اكتب الصيغة الصحيحة لكل مركب واسمه. **OL**

مشكلات الممارسة

اجعل الطلاب يرجعون لمالحق الحلول المختارة للحلول الكاملة لمشكلة الأرقام الشاذة. يمكن العثور على الحلول الكاملة في دليل الحلول.

- 19 حمض الهيدروكلوريك
20 حمض الكلووريك
21 حمض الكلووروز
22 حمض الكبريتات
23 حمض الهيدروفلوريك
24 HIO_4
25 AgCl
26 H_2O
27 ClF_3
28 P_2O_3
29 S_7F_{10}
30 H_2CO_3

ASSESSMENT

معلومة اجعل الطلاب يكتبون الصيغ الجزيئية، وأسماء الجزيئات، وأسماء الأحماض، وصيغ الأحماض على مقدمة بطاقات الملاحظات. اجعل الطلاب يكتبون الصيغة الصحيحة أو الاسم على نهاية بطاقة الملاحظة. استخدم بطاقات الملاحظة للمراجعة. **EL**

الجدول 5 صيغ وأسماء بعض المركبات التساهمية.

الصفة	الاسم الشائع	اسم المركب الجزيئي
H_2O	الماء	أول أكسيد الهيدروجين
NH_3	الأمونيا	ثلاثي هيدريد النروجين
N_2H_4	الهيدرازين	رباعي هيدريد ثنائي النروجين
HCl	حمض الهيدروكلوريك	حمض الهيدروكلوريك
$\text{C}_2\text{H}_6\text{O}_4$	أسبيرين	2- (acetyloxy) حمض البنزويك

لقد تعلّمت أن تسمية المركبات ذات الترابط التساهمي تخضع لبيوعات مختلفة من القواعد حسب بنية كل مركب. **الجدول 5** يُلخّص صيغ وأسماء العديد من المركبات التساهمية. لاحظ بأن الحمض. إن كان ثنائياً أم أكسجينياً، يمكن أن يكون له اسم شائع بالإضافة لاسم المركب الخاص به.

مسائل للتدريب

اذكر أسماء الأحماض التالية. افترض بأن كل مركب محلول في الماء.

19. HI ، 20. HClO_3 ، 21. HClO_2 ، 22. H_2SO_4 ، 23. H_2S ، 24. تحقّق ما هي صيغة الحمض الدوري؟

كتابة الصيغ انطلاقاً من الأسماء

يكشف اسم المركب الجزيئي عن تركيبته وهو مهم في التعبير عن طبيعة المركب. انطلاقاً من اسم أي جزيء ثنائي، ينبغي أن تكون / تكوني قادراً / قادرة على كتابة الصيغة الكيميائية الصحيحة. تشير البادئات الواردة في أي اسم إلى العدد الصحيح لكل ذرة توجد في الجزيء وتحدد الحروف السفلية المستخدمة في كل صيغة. إذا كنت تواجه صعوبات في كتابة الصيغ انطلاقاً من أسماء المركبات الثنائية، فذّرت في مراجعة قواعد التسميات الواردة على صفحات... في بداية هذا القسم. يمكن اشتقاق صيغة حمض ما من اسمه. من المفيد أن تتذكّر أن كافة الأحماض الثنائية تحتوي على الهيدروجين مع عنصر آخر. بالنسبة للأحماض الأكسجينية-وهي الأحماض التي تحتوي على الأنيونات الأكسجينية- سوف تحتاج لمعرفة أسماء الأنيونات الأكسجينية الشائعة. إذا احتجت لمراجعة أسماء الأنيونات الأكسجينية، انظر الجدول 9 من الوحدة السابقة.

مسائل للتدريب

اذكر صيغة كل مركب من المركبات التالية.

25. كلوريد العضة
26. أول أكسيد الهيدروجين
27. ثالث فلوريد الكلور
28. ثالث أكسيد النوسفور
29. عاشر فلوريد الكبريت
30. تحقّق ما هي صيغة حمض الكربون؟

القسم 2 • تسمية الجزيئات 113

البرنامج الكيميائي

	البروم	الفلورين	الكلور
الكربون	CBr_4 رابع بروم الكربون	CF_4 رابع فلوريد الكربون	CCl_4 رابع كلوريد الكربون
الفسفور	PBr_3 ثالث بروم الفوسفور	PF_3 ثالث فلوريد الفوسفور	PCl_3 ثالث كلوريد الفوسفور
الكبريت	SBr_2 ثنائي بروميد الكبريتات	SF_2 ثنائي فلوريد الكبريتات	SCI_2 ثنائي كلوريد الكبريتات

تشكيل المركبات أعط الطلاب الرسم البياني التالي واطرك مكان الإجابات فارغ. اطلب منهم كتابة صيغة الجزيء واسمه المشكل، في دفاترهم. ذكر الطلاب بأنه عادة ما يتم كتابة الذرة ذات الشحنة الكهربية الأقل. أولاً في المركب. **OL**

القسم الثاني تسمية الجزيئات 113

سؤال توضيحي شكل 12

H_2SO_3 هو حمض أكسيدي، بينما HBr هو حمض ثنائي.

3 قيم

تأكد من فهمهم

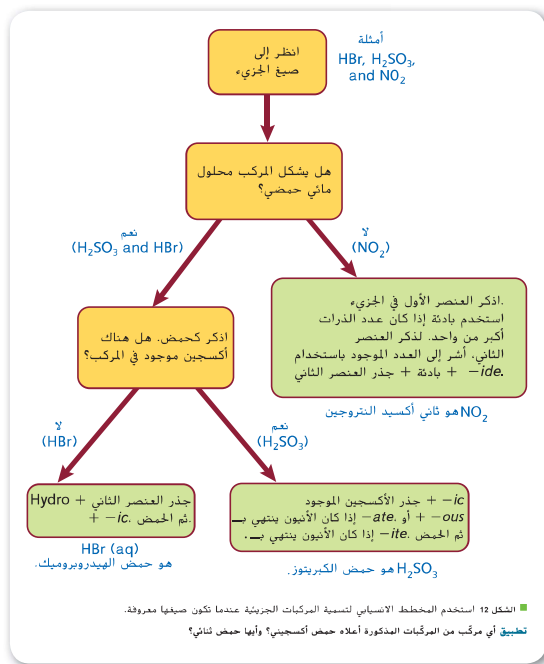
اعرض للطلاب شبكة مكونة من 4 أعمدة و 4 صفوف، تحتوي على ثمان جزئيات وأسمائهم المقابلة وترتيبهم عشوائياً. غط كل مربع والغلب لعبة توصيل الجزئ باسمه الصحيح. **EL BL**

إعادة التدريس

العديد من الملوثات الجوية الشائعة تشكل الأحماض في المياه. اجعل الطلاب ينشئون جدولاً له رؤوس الأعمدة التالية: صيغة الملوث واسم الجزئ وصيغة الحمض واسم الحمض. قدم المعلومات لكل من الملوثات التالية لعمود واحد، واطلب من الطلاب إنهاء الجدول: SO_2 (أول أكسيد الكبريت، H_2SO_3 حمض الكبريتات)، CO_2 (أول أكسيد الكربون، H_2CO_3 حمض الكربونيك)، SO_3 (ثالث أكسيد الكبريتات، H_2SO_4 حمض الكبريتات)، NO_2 (ثاني أكسيد النيتروجين، HNO_3 حمض النيتريك). **BL**

امتداد

اطلب من الطلاب كتابة إجابات وأسئلة للعبة باستخدام فئات الصيغ الجزئية وأسماء الجزئيات وأسماء الأحماض وصيغ الأحماض. **OL**



■ الشكل 12 استخدم المخطط الانسابي لتسمية المركبات الجزئية عندما تكون صيغها معروفة. تطبيق أي مركب من المركبات المذكورة أعلاه حمض أكسجيني؟ وأما حمض ثنائي؟

يمكن أن يساعدك المخطط في الشكل 12 على تحديد اسم المركب الجزئي المتساوي. لاستخدام المخطط، ابدأ من الأعلى إلى الأسفل مع قراءة النص المكتوب في المربعات الملونة. طبق النص في كل مرحلة من مراحل المخطط على صيغة المركب الذي ترغب في تسميته.

القسم 2 مراجعة

ملخص القسم

- أسماء المركبات الجزئية المتساوية تشتمل على بادئات تشير لعدد الذرات الموجودة. يحدد الحرف الأخير من البادئة إذا كان اسم العنصر يبدأ بحرف متحرك.
- الجزئيات التي تنتج H^+ في المحلول هي أحماض. تحتوي الأحماض الثنائية على الهيدروجين مع عنصر واحد آخر. تحتوي الأحماض الأكسجينية على الهيدروجين وأنيون أكسجيني.

31. قيساً بادئة **ع** لخص قواعد تسمية المركبات الجزئية الثنائية.
32. عرّف المركب الجزئي الثنائي.
33. صف الفارق بين الحمض الثنائي والحمض الأكسجيني.
34. طبق صف كيف يمكنك تسمية الجزئ، باستخدام نظام قواعد تسمية المركبات الجزئية N_2O_5 .
35. طبق اكتب الصيغة الجزئية لكل من المركبات التالية: حمض اليوديك، ثالث أكسيد الكبريت، أول أكسيد النيتروجين، وحمض الهيدروكلوريك.
36. اذكر الصيغة الجزئية لكل مركب من المركبات الواردة أدناه.
 - أ. ثالث أكسيد النيتروجين
 - ب. أول أكسيد النيتروجين
 - ج. حمض الهيدروكلوريك
 - د. حمض الكلوريك
 - هـ. حمض الكبريتيك
 - و. حمض الكبريت

القسم الثاني مراجعة

- 31 اذكر اسم العنصر الأول في الصيغة الأولى. اذكر اسم العنصر الثاني باستخدام مكونه الرئيسي إلى جانب اللاحقة -ide (يد). أضف البادئة للإشارة إلى عدد ذرات كل عنصر موجود.
- 32 الجزئ مكون من عنصرين غير معدنيين فقط.
- 33 يحتوي الحمض الثنائي على الهيدروجين وعنصر واحد آخر. يحتوي الحمض الأكسجيني على الهيدروجين وعنصر آخر والأكسجين.
- 34 يوجد نوعين من ذرات النيتروجين، استخدم البادئة ثنائي- مع اسم النيتروجين. يوجد أربع ذرات من الأكسجين، لذا استخدم البادئة رابع بالإضافة إلى عنصر الأكسجين الأصلي والنهاية -يد، والاسم هو رابع أكسيد ثنائي النيتروجين.

Program: UAE Project Bridge	Component: Science TE General	PDF Pass
Vendor: MPS Limited	Grade: 10	

الأداة الرئيسية

- ما هي الخطوات الرئيسية المستخدمة لرسم هيكل لويس؟
- ما سبب حدوث الرنين، وما هي بعض هيكل الرنين؟
- ما الجزيئات التي تعبر بمثابة استثناءات لقاعدة الثمانيات ولماذا تحدث هذه الاستثناءات؟

مراجعة المفردات

رابطة أيونية، قوة إلكتروستاتيكية تربط جسيمات المتضادة الشحنة ببعضها البعض في أي مركب أيوني

مفردات جديدة

صيغة هيكلية
رنين
رابطة تساهمية تناسقية

الكيمياء في حياتنا

عندما كنت طفلاً فربما لعبت بالكميات البلاستيكية التي ترتبط ببعضها فقط بطرق معينة، وإذا حدث ذلك، فربما لاحظت أن شكل الجسم الذي بنيته يعقد على طرق محددة ترتبط بها الكميات. وبمثل هذه الطريقة يتم بناء الجزيئات من الذرات.

صيغة هيكلية

درست سلفاً هيكل المركبات الأيونية - حيث تكوّن المواد من روابط أيونية، ويكون للجزيئات التساهمية التي قرأت عنها في هذه الوحدة هيكل تختلف عن تلك الخاصة بالمركبات الأيونية. في دراسة الهياكل الجزيئية للمركبات التساهمية، يتم استخدام النماذج كيميائية ممثلة للجزيء. نطلعتنا الصيغة الجزيئية والتي تُظهر رموز العنصر والواحد السعوية الرقمية بنوع وعدد كل ذرة في أي جزيء. كما هو موضح في الشكل 13. هناك عدة نماذج مختلفة يمكن استخدامها لتمثيل أي جزيء. ويرجى ملاحظة أنه في نماذج ملء الفراغ والكرة والعصا للجزيء، يتم تمثيل ذرات كل عنصر معين عن طريق كُرَيَات بلون ممثل محدد كما هو موضح في الجدول R-1 في "موارد الطالب". تستخدم هذه الألوان في تحديد الذرات إذا كان الرمز الكيميائي للعنصر غير ممثل.

وأحد أكثر النماذج الجزيئية أهمية هو الصيغة الهيكلية، والتي تستخدم رموز الخطاطب والروابط لعرض الأماكن النسبية للذرات. يمكنك التنبؤ بالصيغة الهيكلية للعديد من الذرات عن طريق رسم هيكل لويس. لقد رأيت بالفعل بعض أمثلة مبسطة على هيكل لويس، ولكن يتطلب توافر الكثير من الهياكل لمساعدتك على تحديد أشكال الجزيئات.

■ الشكل 13 يمكن استخدام جميع هذه الجزيئات لإظهار المواقع النسبية للذرات والإلكترونات الموجودة في جزيء ذرات الفوسفور (الفسفور).

قارن وبين الفرق بين أنواع المعلومات الموجودة في كل جزيء.



1 التركيز

الفكرة الرئيسية

التركيبات الجزيئية اعطى الطلاب مجموعة من مكعبات لعبة التجميع، واطلب منهم بناء هرم. إسألهم عن ما إذا كان هناك نمطا اتبعوه. لقد حدد شكل الكميات الطريقة التي مكنتهم من بناء الهرم. أخبر الطلاب أن الطريقة التي تشارك بها الذرات الإلكترونية هي التي تحدد الأشكال الجزيئية. OL

2 درس

عرض توضيحي سريع

نماذج الثمانيات ضع دائرة مع الرسم البياني لنقاط إلكترونات لذرة الكبريت وداثرتين مع الرسم البياني لنقاط إلكترونات الأوكسجين على كرتون ملبد. اطلب من الطلاب كيف يمكن ترتيب هذه الذرات لتتوافق مع قاعدة الثمانيات. سيستخدم الطلاب أساليب التجربة والخطأ. أخبر الطلاب أن المغاربة المنهجية يمكن أن تستخدم لتحديد تركيب لويس للجزيئات، بما في ذلك تلك التي تظهر استثناءات لهذه القاعدة الثمانيات. EL OL

■ سؤال الشرح رقم 13 تظهر جميع النماذج عدد و نوع كل ذرة. كما يوضح تركيب لويس، الصيغ البنوية . ونماذج الكرة والعصا. ونماذج ملء الفراغ شكل هندسي. و توضح تركيبات لويس توزيع إلكترونات التكافؤ بين أزواج الترابط و الأزواج الوحيدة. توضح نماذج ملء الفراغ الأحجام النسبية للذرات.

التعليم المرئي

بناء النماذج باستخدام طقم نموذج جزيئي وأغصان من الفصيلة الخيازية و خلال الأثنان، و اطلب من الطلاب بناء نماذج NH₄⁺، CH₂O، BCl₃ and HF. اطلب من الطلاب أن رسم مخطط بياني يوضح نموذج الكرة والعصا و تركيب لويس، والصيغة البنوية لكل مادة. EL OL

هياكل لويس على الرغم من أنه يسهل نسبياً رسم هياكل لويس لمعظم المركبات البكوتة من اللافلزات، فإنها فكرة جيدة أن تتبع إجراءاتاً منتظماً. عندما تحتاج إلى رسم هيكل لويس، اتبع الخطوات الموضحة في إستراتيجية حل المشكلات.

إستراتيجيات حل المسائل

رسم هيكل لويس

1. تبدأ بوضع ذرات محددة.

سكنون الذرة التي لها أقل قوة جذب تجاه الإلكترونات المشتركة هي الذرة المركزية في الجزيء. هذا العنصر هو غالباً العنصر الأقرب للجانب الأيسر من الجدول الدوري. تقع الذرة المركزية في وسط الجزيء؛ وتصبح جميع الذرات الأخرى ذرات طرفية.

الهيدروجين هو دوماً ذرة طرفية أو نهائية، ونظراً لأنها يمكن أن تشارك زوج واحد فقط من الإلكترونات، يمكن ربط الهيدروجين بذرة واحدة أخرى فقط.

2. حدد عدد الإلكترونات المتوفرة للربط.

هذا العدد يساوي إجمالي عدد إلكترونات التكافؤ الموجود في الذرات التي تتكون الجزيء.

3. حدد إجمالي عدد أزواج الربط.

لإجراء ذلك قسم عدد الإلكترونات المتوفر للربط على اثنين.

4. ضع أزواج الربط.

ضع زوج ربط واحد (رابطة أحادية) بين الذرة المركزية وجميع الذرات الطرفية.

5. حدد عدد أزواج الإلكترونات المتبقية.

لإجراء ذلك، اطرح عدد الأزواج المستخدمة في الخطوة 4 من إجمالي عدد أزواج الربط المحددة في الخطوة 3. تشمل هذه الأزواج المتبقية أزواجاً غير رابطة وأيضاً أزواجاً مستخدمة في الروابط الثنائية والثلاثية. ضع الأزواج غير الرابطة حول كل ذرة طرفية (عدا ذرات H) مرتبطة بالذرة المركزية لتلبية قاعدة الثمانية. سيتم تخصيص أي أزواج متبقية إلى الذرة المركزية.

6. حدد إذا ما كانت الذرة المركزية تلي قاعدة الثمانية.

هل تحاط الذرة المركزية بأربعة أزواج من الإلكترونات؟ إذا لم يكن الأمر كذلك، فإن تلي قاعدة الثمانية. لتلبية قاعدة الثمانية، حول زوج أو اثنين من الأزواج غير الرابطة في الذرات الطرفية إلى رابطة ثلاثية أو مزدوجة بين الذرة الطرفية والذرة المركزية، ونقل هذه الأزواج مرتبطة بالذرة الطرفية وأيضاً بالذرة المركزية. تفكر أن ذرات الكربون والنيتروجين والأكسجين والكبريت تكون غالباً رابطة ثنائية وثلاثية.

تطبيق الإستراتيجية

أدرس مسائل الأمثلة من 3 إلى 5 لمعرفة كيفية تطبيق الخطوات في إستراتيجية حل المشكلات.

طبق الكيمياء

الأصباغ الأصبغ العضوية هي الجزيئات العضوية التي تمتص أطوال موجية محددة من الضوء المرئي وتعكس جميع الأطوال الموجية الأخرى. تستخدم هذه الأصباغ لإنتاج أقمشة ملونة. كما أنها تستخدم في الأقراص المدمجة القابلة للتسجيل. الأقراص المدمجة القابلة للتسجيل لديها طبقة من اللون. صبغ العضوية تقع بين ظهارة جامدة واضحة وسطح عاكس. يستخدم الليزر لنسخ البيانات على القرص. تمتص الروابط في جزيء الصبغ العضوية ضوء الليزر وتغيير بنية الجزيء وتنتج مادة مبهم. هذا التغيير في البنية لا رجعة فيه. لذلك، لا يمكن كتابة البيانات إلا مرة واحدة على أي جزء من القرص المضغوط.

تطوير المفهوم

تركيب لويس اطلب من الطلاب رسم تركيب

لويس لعدة جزيئات باستخدام المنهجية.

ذكرهم بأن ذرات الكربون يمكن أن تشكل سلاسل مع

ذرات الكربون الأخرى. فإن ذرات الكربون ستتح

برابطة فردية أو مزدوجة أو ثلاثية. بناءً على أزواج

الإلكترونات المتاحة. اطلب من الطلاب رسم

تركيب لويس لإيثان (C₂H₆), ethene (C₂H₄), and

ethyne (C₂H₂). باستخدام الأسلوب المنهجي. **OL**

التعزيز

تمثيل الجزيئات وضح أن كلا من تركيب لويس و

تركيب الصيغ البنوية يستخدمان لإظهار الترتيب

وتنسب الذرات في المركب. يمكن استخدام تركيبات

لويس لتمثيل كلا من المركبات الأيونية والتساهمية.

لا تستخدم الصيغ البنوية إلا لتمثيل الجزيئات.

تستخدم الصيغ الهيكلية خطأ لتمثيل زوج مساهم من

الإلكترونات. ومع ذلك، لا تزال أزواج الإلكترونات غير

المساهمة والمفردة تمثل بنقاط الإلكترون.

مشروع الكيمياء

جيبيرت لويسا طلب من الطلاب البحث عن جيبيرت نيون لويس وتصميم ملصقات تصور هياكل لويس الأصلية. يجب على الطلاب مشاركة الملصقات مع باقي الصف. **EL**

Program: UAE Project Bridge	Component: Science TE General	PDF Pass
Vendor: MPS Limited	Grade: 10	

3 مثال مسألة

هيكل لويس لمركب تساهمي بروابط أحادية الأمونيا هو مادة خام تستخدم في تصنيع الكثير من المنتجات، بما في ذلك الأسمدة ومنتجات التنظيف والمنظفات. ارسم هيكل لويس للأمونيا (NH₃).

1 حل المسألة

تتكون جزيئات الأمونيا من ذرة نيتروجين وثلاث ذرات هيدروجين، ونظراً لأن الهيدروجين ينبغي أن يكون ذرة طرفية، فسيكون النيتروجين هو ذرة المنتصف.

2 ابحث عن تفسيرات للنقاط المجهولة

ابحث عن إجمالي عدد إلكترونات التكافؤ المتوفرة للترابط.

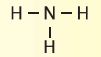
$$1 \text{ N atom} \times \frac{5 \text{ valence electrons}}{1 \text{ N atom}} + \text{H atoms} \times \frac{1 \text{ valence electron}}{1 \text{ H atom}}$$

توفر 8 إلكترونات تكافؤ للترابط.

$$\frac{8 \text{ electrons}}{2 \text{ electrons/pair}} = 4 \text{ pairs}$$

حدد إجمالي عدد أزواج الترابط. لإضافة ذلك، قسم العدد المتوفر من الإلكترونات على اثنين.

توفر أربع أزواج من الإلكترونات للترابط.



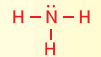
ضع زوج الترابط (رابطه أحادية) بين ذرة النيتروجين في المنتصف وكل ذرة هيدروجين طرفية.

حدد عدد أزواج الترابط المتبقية.

$$\text{pairs totao} - 3 \text{ pairs} = 4 \text{ pairs} \\ \text{used} = 1 \text{ pair available}$$

اطرح عدد الأزواج المستخدمة في هذه الروابط من إجمالي عدد أزواج الإلكترونات المتوفرة.

ينبغي أن يضاف الزوج المتبقي—زوج مفرد—إلى الذرات الطرفية أو الذرة في المنتصف. ونظراً لأن ذرة الهيدروجين يكون لها رابطة واحدة فقط، فليس لديها أزواج غير رابطة.



ضع الزوج غير الرابطة المتبقي على ذرة النيتروجين في المنتصف.

3 قيم الإجابة

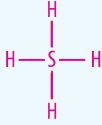
تشارك كل ذرة هيدروجين زوج واحد من الإلكترونات، كما هو مطلوب، وتشارك ذرة النيتروجين في المنتصف ثلاثة أزواج من الإلكترونات ولها زوج غير رابطة واحد بحيث توفر ثمانية مستقرة.

مثال في الفصل

سواءيد السيليكون رباعي السطوح الثلثية غاز في درجة حرارة الغرفة، و يحترق تلقائياً في الهواء.. ماهو تركيب لويس للسيليكون H₄؟

الإجابة.

$$1 \text{ Si atom} \times \frac{4 \text{ valence electrons}}{1 \text{ Si atom}} \\ + 4 \text{ H atoms} \times \frac{1 \text{ valence electron}}{1 \text{ H atom}} \\ = \frac{8 \text{ total electrons}}{2} = 4 \text{ bonding pairs}$$



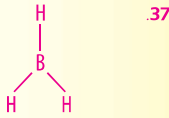
استخدم جميع أزواج الترابط . يمتلك السيليكون ثمانية و يشارك الهيدروجين بزواج واحد فقط. وبذلك يتوافق تركيب لويس مع قاعدة الثمانية.

خلفية المحتوى

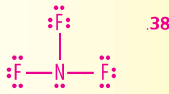
جزيئات المراف توفر جزيئات الغبار سطحاً لحدوث التفاعلات الكيميائية في سحب الغبار في كل أنحاء الكون . ترتبط الذرات معا لخلق الجزيئات الكبيرة. تتر هذه الجزيئات عبر الفضاء و تغيير الطاقة و تصدر الإشعاع في شكل موجات راديو. في مايو 2000، اكتشف العلماء جزيء السكر البسيط الربوز عانها في سحابة غبار يطلق عليها القوس B2. وقد حدد علماء الفلك أكثر من 120 من جزيئات الغضاء.

مشاكل الممارسة

اطلب من الطلاب الإشارة إلى ملحق الحلول المختارة، للحصول على الحلول الكاملة للمشاكل المرقمة عشوائياً. يمكن الاطلاع على الحلول الكاملة في كتيب الحلول.



37.



38.

مسائل للتبرين

37. ارسم هيكل لويس لـ BH₃.

38. تحدي يحتوي جزيء فلوريد النيتروجين على أزواج غير رابطة متعددة. ارسم هيكل لويس الخاص به.

دقت الكيمياء

تركيبات لويس اطلب من الطلاب التنبؤ بتركيبات لويس للجزيئات الشائعة التالية أول أكسيد الكربون، (CO₂). ثاني أكسيد الكربون (SO₂). ثاني أكسيد الكبريت (SO₃). سيانيد الهيدروجين (HCN). أحادي أكسيد ثنائي النيتروجين (N₂O). ثنائي أكسيد النيتروجين and (NO₂) أحادي أكسيد النيتروجين (NO). **OL**

مسائل كيمياء 4

هيكل لويس للمركب التساهمي ذي الروابط المتعددة ثاني أكسيد الكربون هو ناتج التنفس الخلوي. ارسم هيكل لويس لثاني أكسيد الكربون (CO₂).

1 حل المسألة

يتكون جزيء ثاني أكسيد الكربون من ذرة كربون واحدة وذرتي أكسجين. ونظراً لأن الكربون له قوة جذب ضعيفة للإلكترونات المشتركة، فإن الكربون هو الذرة المركزية بينما تمتلكا ذرتي الأكسجين الذرات الطرفية.

2 ابحث عن تفسيرات للنقاط المجهولة

ابحث عن إجمالي عدد الإلكترونات المتوفرة للتربيط.

$$1 \text{ C atom} \times \frac{4 \text{ valence electrons}}{1 \text{ C atom}} + 2 \text{ O atoms} \times \frac{6 \text{ valence electron}}{1 \text{ O atom}}$$

تتوفر 16 إلكترونات تكافؤ للتربيط.

$$\frac{16 \text{ electrons}}{2 \text{ electrons/pair}} = 8 \text{ pairs}$$

حدد إجمالي عدد أزواج الربط عن طريق قسمة رقم الإلكترونات المتوفرة على اثنين.

تتوفر ثمانية أزواج من الإلكترونات للتربيط.



ضع زوج الترابط (رابطة أحادية) بين ذرة الكربون المركزية وكل ذرة هيدروجين طرفية.

حدد عدد أزواج الإلكترونات المتبقية. اطرح عدد الأزواج المستعملة في هذه الروابط من إجمالي عدد أزواج الإلكترونات المتوفرة.

$$8 \text{ pairs total} - 2 \text{ pairs used} = 6 \text{ pairs available}$$

اطرح عدد الأزواج المستعملة في هذه الروابط من إجمالي عدد أزواج الإلكترونات المتوفرة.



أضف ثلاثة أزواج غير رابطة لكل ذرة أكسجين طرفية.

حدد عدد أزواج الإلكترونات المتبقية.

$$6 \text{ pairs available} - 6 \text{ pairs used} = 0 \text{ pairs available}$$

اطرح الأزواج غير الرابطة من الأزواج المتوفرة.

افحص الهيكل غير المكتمل أعلاه (الذي يعرض موضع الأزواج غير الرابطة). لاحظ أن ذرة الكربون ليس لها ثمانية ولا يوجد أكثر من ثلاثة أزواج متوفرة من الإلكترونات. للوصول بذرة الكربون إلى الثمانية، ينبغي أن يتكون الجزيء روابط ثمانية.



استخدم زوج غير رابط من كل ذرة أكسجين (O) لتكوين رابطة ثمانية مع ذرة الكربون (C).

3 قِيم الإجابة

تمتلك كل من ذرة الكربون والأكسجين الآن ثمانية، والتي تليها قاعدة الثمانية.

مسائل للتدرب

39. ارسم هيكل لويس للإيثيلين، C₂H₄.

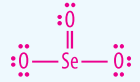
40. تحدي يحتوي جزيء من ثاني كبريتيد الكربون على كل من الأزواج غير الرابطة والروابط التساهمية المتعددة، ارسم هيكل لويس الخاص به.

مثال في الفصل

سؤال يعد السيلينيوم أكسيد مسحوق بلوري أبيض مضفر أن يتحلل بالتسخين وهو مركب سام جداً.. ماهو تركيب لويس للسيلكون H₃؟

الإجابة:

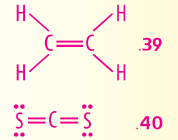
$$1 \text{ Se atom} \times \frac{6 \text{ valence electrons}}{\text{Se atom}} + 3 \text{ O atoms} \times \frac{6 \text{ valence electrons}}{\text{O atom}} = 24 \text{ valence electrons} = 12 \text{ electron pairs}$$



جميع ذرات المرتبطة لديها ثمانية.

مشاكل الممارسة

اطلب من الطلاب الإشارة إلى ملحق الحلول المختارة، للحصول على الحلول الكاملة للمشاكل المرقمة عشوائياً، يمكن الاطلاع على الحلول الكاملة في كتيب الحلول.



طبّق الكيمياء

نضج الفواكه والخضروات تنتج بشكل طبيعي غاز الإيثيلين (C₂H₄) بينما نضج. تسرع عملية النضج –بالنسبة لبعض الفواكه والخضروات– أثناء تعرضها إلى الإيثيلين. يعتمد تأثير الإيثيلين على الفواكه والخضروات على حساسية هذه المادة. أخبر الطلاب أنه يمكن تسريع نضج الثمار في المنزل عن طريق وضع الفواكه غير الناضجة في كيس ورقي مغلق. يسرع غاز الإيثيلين المحتجز عملية النضج.

التعليم المتميز

المعلمون المتقدمون اطلب من الطلاب تصميم ملصقات تسرد خطوات المهارات المنهجية التي تحدد تركيب لويس لوحدة من الجزيئات أو الأيونات التالية: **AL**.OH⁻, PF₆⁻, BF₃, ClO₃⁻, SF₃N, or CH₂Cl₂

ASSESSMENT

مهارة اكتب الصيغة الكيميائية لجزء أو أيون

متعدد الذرات على بطاقة ملاحظة، اطلب من الطلاب رسم تركيب لويس على الجانب الآخر من البطاقة. **OL**

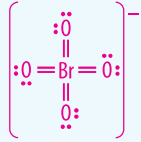
تطوير المفهوم

نموذج الرنين اختراثة طلاب لتمثيل الذرات في أيون متعدد الذرات O_2^- . رتب الطلاب الثلاثة في تسلسل مع جعل ذرة النيتروجين هي الذرة المركزية، رابطة واحدة هي رابطة ثنائية، و الرابطة الأخرى هو رابطة فردية. اطلب من الطلاب تحديد تركيبات الرنين. **EL OL**

مثال في الفصل

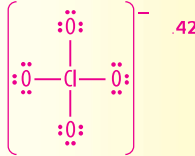
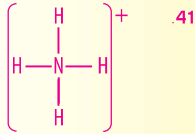
السؤال ما هو تركيب لويس الصحيح للأيون متعدد الذرات BrO_4^- ؟

الإجابة:



مشاكل الممارسة

اطلب من الطلاب الإشارة إلى ملحق الحلول المختارة، للحصول على الحلول الكاملة للمشاكل البرقية عشوائياً. يمكن الاطلاع على الحلول الكاملة في كتيب الحلول.



القسم الثالث • التركيبات الجزيئية 119

هيكل لويس للأيونات متعددة الذرات على الرغم من أن الوحدة تعمل كأيون. فإن الذرات داخل أي أيون متعدد الذرات تكون مترابطة برابطة تساهمية، يتشابه الإجراء الخاص برسم هيكل لويس للأيونات متعددة الذرات مع رسمها للمركبات التساهمية. ويظهر الاختلاف الوحيد في العثور على إجمالي عدد الإلكترونات المتوفرة للربط. وبالمقارنة مع عدد إلكترونات التكافؤ المتوفرة في الذرات التي تتكون الأيون. تتوفر كثير من الإلكترونات إذا كان الأيون سالب الشحنة ويتوفر عدد قليل إذا كان الأيون موجب الشحنة. لإيجاد إجمالي عدد الإلكترونات المتوفرة للربط، اعثر أولاً على العدد المتوفر في الذرات الموجودة في الأيون. وبعد ذلك، اطرح شحنة الأيون إذا كان الأيون موجب الشحنة وأضف شحنة الأيون إذا كان الأيون سالب الشحنة.

مسألة كيمياء 5

هيكل لويس لأيون متعدد الذرات ارمس هيكل لويس الصحيح لأيون فوسفات متعدد الذرات (PO_4^{3-}) .

1 حل المسألة

أعطيت بيانات تفيد بأن أيون الفوسفات يتألف من ذرة فوسفات وأربع ذرات أكسجين وشحنته -3. ونظراً لأن الفوسفور له قوة جذب ضعيفة للإلكترونات المشتركة مقارنة بالأكسجين، فإن الفوسفور هو الذرة المركزية بينما تمثل ذرات الأكسجين الأربعة الذرات الطرفية.

2 ابحث عن تفسيرات للنقاط المجهولة

ابحث عن إجمالي عدد إلكترونات التكافؤ المتوفرة للترابط.

$$1 \text{ P atom} \times \frac{5 \text{ valence electrons}}{\text{P atom}} + 4 \text{ O atoms} \times \frac{6 \text{ valence electron}}{\text{O atom}}$$

$$+ 3 \text{ electrons x from the negative charge} = 32 \text{ valence electrons}$$

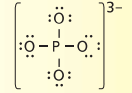
$$\frac{32 \text{ electrons}}{2 \text{ electrons/pair}} = 16 \text{ pairs}$$

حدد إجمالي عدد الترابط.



$$16 \text{ pairs total} - 4 \text{ pairs used} = 12 \text{ pairs available}$$

أضف ثلاثة أزواج غير رابطة لكل ذرة أكسجين طرفية، 12 زوجاً متوفراً - 12 زوجاً غير رابط مستخدمة = 0



3 قيم الإجابة

جميع الذرات لها ثمانية والمجموعة لها صافي شحنة -3.

مسائل للتدوين

41. ارمس هيكل لويس لأيون NH_4^+ .

42. تحدي يحتوي الأيون ClO_4^- على أزواج غير رابطة متعددة. ارمس هيكل لويس الخاص به.

كيمياء من الواقع

الفوسفور والنيتروجين



انتشار الطحالب تعتمد نمو الطحالب على الفوسفور والنيتروجين. ويمكن للخصبر أن يدخل البحيرات والجداول من تسريبات مياه البحاري والخلفات الصناعية وجريان الأسمدة. وفي حالة تراكم المواد في بركة من الماء، يمكن أن يحدث ذواً سريعاً للطحالب، حيث تعرف العملية بانتشار الطحالب مكونة طبقة سميكة من الطين اللزج الأخضر على سطح الماء. عندما تستهلك الطحالب الإمداد من المغذات، فإنها تموت وتتحلل. تنقل هذه العملية مقدار الأكسجين المتحلل في الماء، والمتوفر للأحياء المائية الأخرى.

ارسم روابط أحادية من كل ذرة أكسجين طرفية إلى ذرة الفوسفور المركزية.

اطرح عدد الأزواج المستخدمة من إجمالي عدد أزواج الإلكترونات المتوفرة.

يرهن طرح الأزواج غير الرابطة المستخدمة من الأزواج المتوفرة على عدم وجود أزواج إلكترونات متوفرة لذرة الفوسفور. عرض هيكل لويس لأيون الفوسفور.

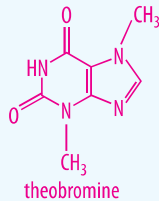
القسم 3 • الهياكل الجزيئية 119

1. اكتب الصيغة الجزيئية لالنيوبرومين. $C_7H_8N_4O_2$

2. حدد عدد روابط سيجما وباي الموجودة

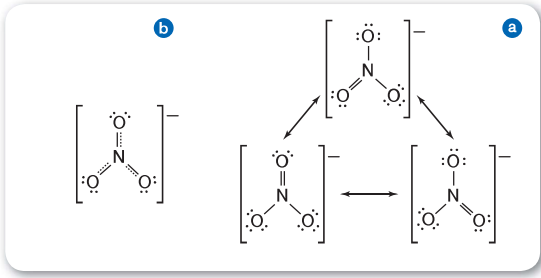
في هذا الجزيء. **سيجما 22 رابطو**

و **باي 4 رابطو**



الإثراء

كماء الشوكولاتة استهلكات حضارتي البايا والأزتيك الشوكولاته. كما يفعل كثير من الناس حول العالم اليوم، يحتوي الكاكاو ومنتجات الشوكولاته على النيوبرومين، والذي يرتبط كيميائياً بمادة الكافيين، على الرغم من غياب تأثير الكافيين كمنبه. **OL**



الشكل 14 أيون النترات (NO_3^-) يظهر خصائص رنين. **a** تختلف هياكل الرنين هذه فقط في موقع الرابطة المزدوجة. مواقع ذرات النيتروجين والأكسجين تبقى كما هي. **b** يشبه أيون النيتروجين الفعلي متوسطاً من ثلاثة هياكل ترزّد في **c**. تُشير الخطوط المنقطّة إلى المواقع الفعلية للرابطة الناتجة.

هياكل الرنين

باستخدام نفس السلسلة من الذرات، من الممكن امتلاك أكثر من هيكل لويس صحيح عندما يكون للجزيء أو الأيون متعدد الذرات رابطة أحادية وزوجية. لتنتظر إلى أيون النترات متعدد الذرات (NO_3^-) المعروض في الشكل 14a. يمكن استخدام ثلاث هياكل التكافؤ لتمثيل أيون النترات. الرنين هي حالة تحدث عندما تكتب أكثر من هيكل لويس صالح لجزيء أو أيون. يُشار إلى هيكلين أو أكثر من هياكل لويس التي تمثل جزيء مفرد أو أيون على أنها هياكل رنين. تختلف هياكل الرنين فقط في موقع زوجي الإلكترونات، وليس في مواقع الذرات. يختلف موقع الأزواج غير الرابطة وأزواج الربط في هياكل الرنين. يظهر لأيونات الجزيء O^{3-} والأيونات متعددة الذرات، NO_3^- ، SO_3^{2-} و CO_3^{2-} جميعها شكلاً من أشكال الرنين. من المهم أن تعلم أن كل جزيء أو أيون يعرض شكلاً من أشكال الرنين ينصرف كما لو كان له هيكل واحد. ارجع إلى الشكل 14b. تُظهر أطوال الرابطة المقاسة تجريبياً أن الرابطة متطابقة مع بعضها البعض. وهي أقصر من الروابط الأحادية ولكن أطول من الروابط الثنائية. طول الرابطة الفعلية هي متوسط الروابط في هياكل الرنين.

المفردات
الاستخدام العلمي مقابل الاستخدام العام
 رنيناً للاستخدام العلمي؛ ظاهرة مرتبطة باستقرار الجزيء؛ امتزاز كبير في النظام الميكانيكي الذي يسبب محفزات دورية صغيرة.
 وكان للجزيء الجديد هياكل رنين متعددة.
 الاستخدام العام؛ جودة من التراء أو التنوع
 كان لصوت الأوركسترا رنين.

خلفية المحتوى

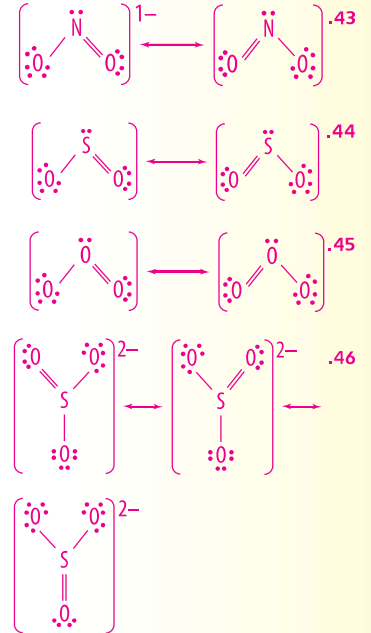
استثناءات قاعدة الثمانية لا تمتلك العديد من المركبات ثمانية إلكترونات حول كل ذرة. غالباً ما تكون المركبات التي تحتوي على البريليوم والبيورون مثل الذرة المركزية ناقصة في الإلكترونات. الثمانية الموسعة - التي لديها أكثر من ثمانية إلكترونات - لا تحدث إلا في جميع أنحاء الذرة الأفلزية المركزية من المجموعة 3 أو أعلى لأن لديها المدارات المتاحة.

ASSESSMENT

للمعرفة بعد الفوسجين غاز عديم اللون وشديد السمية و يستخدم في الحروب. صيغة هذا الجزيء هي Cl_2O . اطلب من الطلاب رسم تركيبين رنين لهذا الجزيء. **OL**

مشاكل الممارسة

اطلب من الطلاب الإشارة إلى ملحق الحلول المختارة، للحصول على الحلول الكاملة للمشاكل المرقمة عشوائياً. يمكن الاطلاع على الحلول الكاملة في كتيب الحلول.



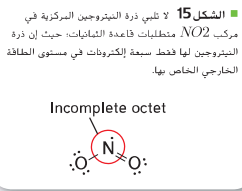
مسائل للتبرين

- ارسم هياكل رنين لويس للجزيئات الآتية.
43. NO_2^- 44. SO_2 45. O_3
46. تحدي ارسم هيكل رنين لويس لـ SO_3^{2-} .

استثناءات لقاعدة الثمانية

تحصل الذرات بوجه عام على ثمانية إلكترونات عندما ترتبط بذرات أخرى. ومع ذلك لا تتبع بعض الجزيئات والأيونات قاعدة الثمانية. هناك عدة أسباب لهذه الاستثناءات.

عدد فردي لإلكترونات التكافؤ أولاً، قد يكون لمجموعة صغيرة من الجزيئات عدد فردي من إلكترونات التكافؤ وتكون غير قادرة على تكوين ثمانية إلكترونات حول كل ذرة. على سبيل المثال، NO_2 له خمسة إلكترونات تكافؤ من النيتروجين و 12 من الأكسجين بحيث يكون الإجمالي 17 إلكترونات والذي لا يمكن أن يكون العدد الدقيق من أزواج الإلكترونات. راجع الشكل 15، مركبا ClO_2 و NO_2 هما مثالان آخرين على الجزيئات التي لها أعداد فردية من إلكترونات التكافؤ.



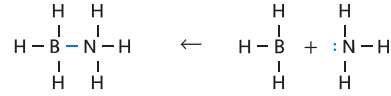
120 الوحدة 8 • الرابطة التساهمية

التعليم المتمايز.

توضّح التركيبات التي صمّمها الطلاب ذرة كربون مركزية، ثلاث ذرات أكسجين طرفية و رابطتين فرديتين، و رابطة ثنائية واحدة. إسأل الطلاب ما إذا يمكن ترتيب الذرات بطريقة أخرى و تملك الثمانية لجميع الذرات. احتمال وجود تركيبين رنين آخرين. يحدد موقع الرابطة الثنائية تركيب الرنين. **EL BL**

الطلاب المتبرين باستخدام بطاقات الفهرسة التي خفضت إلى النصف، اطلب من الطلاب الرسم البياني لتقاط إلكترونات C على بطاقة واحدة و الرسم البياني لتقاط إلكترونات O على ثلاث بطاقات. اطلب من الطلاب استخدام البطاقات لتكوين CO_3^{2-} متعدد الذرات-أيون. أخبر الطلاب توضيح شحنة الأيونات عن طريق وضعه بين أقواس معقوفة كبيرة حول التركيب وكتابة -2 دليل علوي خارج الأقواس. ينبغي أن

■ الشكل 16 في هذا التفاعل بين ترابيهرات البورون (BH₃) والنيتروجين (NH₃)، تنزع ذرة النيتروجين بالكترون اللذان تشاركهما البورون والنيتروجين مكونة رابطة تساهمية متناسقة. تفسير هل تلبى الرابطة التساهمية التناسقية في جزيء المنتج قاعدة الثمانية؟



ذرة النيتروجين تشارك كلا الإلكترونين لتكون رابطة تساهمية متناسقية.

ذرة البورون ليست بها إلكترونات تشارك بها. في حين أن ذرة النيتروجين بها إلكترونان تشارك بهما.

الثمانية الفرعية والروابط التساهمية التناسقية وهناك استثناء آخر لقاعدة الثمانية يرجع إلى عدة مركبات تكوّن الثمانية الفرعية - حيث تكون التوزيعات المستقرة بأقل من ثماني إلكترونات موجودة حول كل ذرة. هذه المجموعة نادرة نسبياً، ويُعدّ BH₃ مثالا على ذلك. البورون، شبه فلز يقع في المجموعة 13 يكون ثلاث روابط تساهمية مع ذرات لافلزوية أخرى.

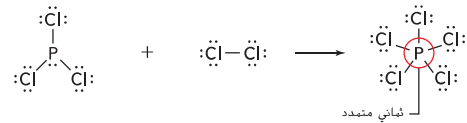


تشارك ذرة البورون ستة إلكترونات فقط - وهو عدد قليل جداً لتكوين ثمانية. نيل مثل هذه المركبات إلى أن تكون شحنة كيميائية ويمكن أن تُشارك زوجاً كاملاً من الإلكترونات التي تنزع بها ذرة أخرى. تتكون رابطة تساهمية تناسقية عندما تنزع ذرة واحدة بكلاً الإلكترونين لتصبح مشتركة مع أي ذرة أو أيون يحتاج إلى إلكترونين لتكوّن ترتيباً إلكترونياً مستقرّاً مع الطاقة المحتملة المنخفضة. ارجع إلى فصل 16. تكوّن الذرات أو الأيونات مع الأزواج غير الرابطة روابط تساهمية تناسقية مع الذرات أو الأيونات التي تحتاج إلى إلكترونين إضافيين.

الثمانية الموسعة تمتلك المجموعة الثالثة من المركبات التي لا تتبع قاعدة الثمانية ذرات مركزية تحتوي على أكثر من ثمانية إلكترونات تكافؤ. ويُشار إلى الترتيب الإلكتروني هذا بالثمانية الموسعة. يمكن شرح قاعدة الثمانية الموسعة بالنظر إلى مدارات d التي تحدث في مستويات طاقة العنصر في الدورة الثالثة أو أعلى. ومن الأمثلة على قاعدة الثمانية الموسعة. كما هو موضح في الفصل 17 تكون الرابطة في جزيء PCl₅ تتكوّن الروابط الخمس من عشرة إلكترونات مشتركة في مدار واحد وثلاث مدارات p ومدار واحد d. ومن الأمثلة الأخرى أيضاً SF₆ والذي يمتلك ست روابط تشارك 12 إلكترونًا في المدار s وثلاثة مدارات p ومدارين d. عند رسم هياكل لويس لهذه المركبات، تتم إضافة إما أزواج غير رابطة إضافية إلى الذرة المركزية أو أكثر من أربعة ذرات ربط موجودة في الجزيء.

■ التأكد من فهم النص لخص الأسباب الثلاث التي تكمن وراء عدم توافق الجزيئات مع قاعدة الثمانية.

■ الشكل 17 قبل تفاعل مركب PCl₅ وCl₂ فإن كل ذرة متماثل تتبع قاعدة الثمانية. بعد التفاعل، يكون للمنتج PCl₆ ثمانية مستويات تحتوي على عشر إلكترونات.



■ سؤال الشرح رقم 16 نعم، كل ذرة تشارك في الرابطة لديها ثمانية كاملة.

التعليم المرئي

الثمانية الموسعة اطلب من الطلاب تحديد موقع اللافلزات في الجدول الدوري الموجودة في المجموعة 3 أو أعلى. ويمكن أن تمتلك هذه العناصر الثمانية الموسعة. اشرح أن الفوسفور- المجموعة 15 لافلزي و تكافؤ إلكترونات 5 - يمكن أن يشارك بكل إلكتروناته. هذا يوسع ثمانية إلى sp³d. a. يمكن تركيبه استيعاب 10 إلكترونات. باستخدام أعشاب من الفصيلة الخبازية لتمثيل الذرات و خيالات الأستنان لتمثيل الرابطة التساهمية الأحادية. اطلب من الطلاب تصميم نماذج AL, PF₅, SCl₆, and ClF₃.

✓ تدريب على القراءة يحتوي الجزيء على عدد فردي من إلكترونات التكافؤ؛ جزيء مستقر مع أقل من ثمانية إلكترونات تكافؤ. جزيء مستقر مع أكثر من ثمانية إلكترونات تكافؤ (الثمانية الموسعة)

3 التقييم

التحقق من الفهم

اكتب عدد قليل من الأسئلة على الصورة. اطلب من الطلاب رسم تركيبين رنين لهذا الجزيء. OL

إعادة تدريس

مراجعة الخطوات المتبعة لرسم هياكل لويس باستخدام جزيئات N₂O and BeF₂. اطلب من الطلاب تحديد ما إذا كانت هذه الجزيئات هي استثناءات لقاعدة الثمانية أو إذا أظهرت الرنين. OL

ملحق

اطلب من الطلاب البحث عن المركبات المكونة من غاز الزينون التبليل. اطلب منهم رسم تركيب لويس الذي يمثل كل جزيء مكون. OL

التعليم المتميز

الطلاب المتميزين استخدام التشابه التالي لتوضيح تنسيق الروابط تساهمية للطلاب. افترض قرص مضغوط من صديق. أثناء استخدام القرص المضغوط، يمكنك التعامل مع القرص المضغوط كما لو أنه ينتمي لك، ولكن في الوقت نفسه يعتبر صديقك أن هذا القرص المضغوط جزء من مجموعة الأقراص المضغوطة الخاصة به/بها. BL

Program: UAE Project Bridge	Component: Science TE General	PDF Pass
Vendor: MPS Limited	Grade: 10	

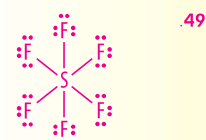
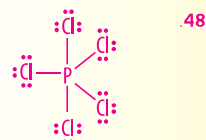
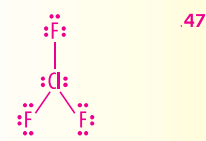
مثال في الفصل

سؤال هل سادس فلوريد السيلينيوم غاز سام يستخدم كعازل كهربائي. ماهو تركيب لويس للسيلكون ؟ H_2

الإجابة يحتوي كل عنصر فلور ثمانية و تحتوي ذرة سي المركزية على ثمانية موسعة.

مشاكل الممارسة

اطلب من الطلاب الإشارة إلى ملحق الحلول المختارة. للحصول على الحلول الكاملة للمشاكل المرقمة عشوائيًا. يمكن الاطلاع على الحلول الكاملة في كتيب الحلول.



مثال مسألة 6

هيكل لويس استثناء قاعدة الثمانية الزينون هو غاز خامل يكون عدة مركبات من اللازمات التي تجذب الإلكترونات بشدة. ارسم هيكل لويس الصحيح لرابع فلوريد الزينون (XeF_4).

1 حل المسألة

أعطيت بيانات مفادها أن جزيء من رابع فلوريد الزينون يتكون من ذرة زينون واحدة وأربع ذرات فلور. يمتلك الزينون قوة جذب ضعيفة للإلكترونات، وبالتالي فهو الذرة المركزية.

2 ابحث عن تفسيرات للنقاط المجهولة

أولاً ابحث عن إجمالي عدد الإلكترونات التكافؤ.

$$1 \text{ Xe atom} \times \frac{8 \text{ valence electrons}}{1 \text{ Xe atom}} + 4 \text{ F atoms} \times \frac{7 \text{ valence electron}}{1 \text{ F atom}} = 36 \text{ valence electrons}$$

حدد إجمالي عدد أزواج الرابطة.

$$\frac{36 \text{ electrons}}{2 \text{ electrons/pair}} = 18 \text{ pairs}$$

استخدم أزواج الرابطة الأربعة لربط أربع ذرات F بذرة Xe المركزية.



حدد عدد الأزواج المتبقية

$$18 \text{ pairs available} - 4 \text{ pairs used} = 14 \text{ pairs available}$$

أضف ثلاثة أزواج لكل ذرة F للوصول إلى قاعدة الثمانية. حدد عدد الأزواج المتبقية.

$$14 \text{ pairs} - 4 \text{ F atoms} \times \frac{3 \text{ pairs}}{1 \text{ F atom}} = 2 \text{ pairs unused}$$



ضع الزوجين المتبقين على ذرة الزينون المركزية.

3 قيم الإجابة

يحدد هذا الهيكل ذرة الزينون بإجمالي 12 إلكترونًا وذلك وفقًا لقاعدة الثمانية الموسعة. مركبات الزينون، مثل XeF_4 المعروضة هنا، وهي سامة لأنها شحنة كيميائية للغاية.

ارسم هيكل لويس وفقًا لقاعدة الثمانية الموسعة لكل جزيء.

47. ClF_3

48. PCl_5

49. تحدي ارسم هيكل لويس للجزيء المتكون من ست ذرات فلور وذرة كبريت واحدة برابطة تساهمية.

القسم 3 مراجعة

ملخص القسم

- يمكن استخدام نماذج مختلفة لتمثيل الجزيئات.
- يحدث الرنين عند وجود أكثر من هيكل صحيح من هيكل لويس لنفس الجزيء.
- تحدث استثناءات لقاعدة الثمانية في الجزيئات نفسها.

50. فكرة أساسية صف المعلومات المضمنة في الصيغة الهيكلية.

51. حدد الخطوات المستخدمة لرسم هيكل لويس.

52. لخص الاستثناءات لقاعدة الثمانية عن طريق إقران هذه الجزيئات والعمارات بشكل صحيح: العدد الفردي للإلكترونات التكافؤ. PCl_5 و ClO_2 و BH_3 وقاعدة ثمانية موسعة أقل من قاعدة ثمانية واحدة.

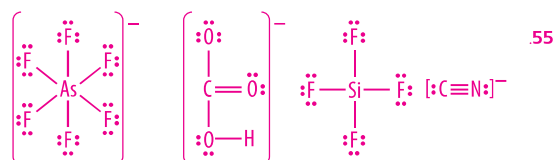
53. قيم زميل دراسة يحدد أن المركب الثنائي لديه روابط سيجما فقط هي التي تظهر الرنين. هل يمكن أن تكون عبارة زميل صحيحة؟

54. ارسم هيكل الرنين لجزيء أكسيد النيتروجين (N_2O).

55. ارسم هيكل لويس لمركبات AsF_6^- و HCO_3^- و SiF_4 و CN^-

القسم الثالث المراجعة

54. $\ddot{N} \equiv N \equiv O:$ or $\ddot{N} = N = \ddot{O}:$ or $N \equiv N - \ddot{O}:$



50. أنواع وعدد الذرات. شكل جزيئي خام

51. تحديد الذرة المركزية والذرات الطرفية؛ تحديد عدد إلكترونات الرابطة. تحديد أزواج الترابط. ربط الذرات الطرفية بالذرة المركزية برابطة أحادية؛ تحديد العدد المتبقي من أزواج الترابط. تطبيق سيادة الثاني وتشكيل روابط ثنائية أو ثلاثية إذا لزم الأمر

52. الثمانية الموسعة PCl_5 ؛ عدد أحادي للإلكترونات التكافؤ. ClO_2 ؛ أقل من ثمانية. BH_3

53. لا. يجب أن يكون جزيء أو أيون متعدد الذرات لديه كلا من رابطة أحادية و رابطة ثنائية من لعرض الرنين.

أشكال الجزيئات

القسم 4

قسم رقم

1 التركيز

الفكرة الرئيسية

الأشكال الجزيئية احضر أربعة بالونات مضخمة إلى الصف و اخبر الطلاب بأن البالونات تمثل أزواج تراكيب الإلكترونات. عقد نهايات اثنين من البالونات معا في المركز واطلب من الطلاب أن يتنبأ شكل الجزيء. خطي إمسك ثلاث بالونات معا في المنتصف واطلب من الطلاب التنبؤ بشكل الجزيء. سطحي ثلاثي التماثل (مثلث) وأخيرا. إمسك كل البالونات الأربعة معا في المنتصف و إسأل عن الشكل. رباعي السطوح OL

2 درس

عرض توضيحي سريع



نموذج مشاركة الإلكترون

باستخدام البالونات صغيرة لتمثيل أزواج الإلكترونات المشاركة و بالونات أكبر لتمثيل أزواج الإلكترونات غير المشاركة . و تصميم نماذج لتمثيل حمض الهيدروكلوريك، H_2O ، HCl ، CH_4 ، and NH_3 استخدم مجموعات البالونات التالية لتصميم النماذج: حمض الهيدروكلوريك، بالونة واحدة صغيرة وثلاث بالونات كبيرة : H_2O ، إثنين صغار وإثنين كبار : NH_3 ، ثلاثة صغار وواحدة كبيرة CH_4 ، أربعة كبار. اربط البالونات معا واطلب من الطلاب ملاحظة شكل الجزيئات الناتجة عن ذلك. EL BL

الفكرة الرئيسية يستعمل نموذج VSEPR لتحديد شكل الجزيء.


الكيمياء في حياتنا

هل قمت يوما بترك بالونين على شريك لتوليد شحنة كهربائية ساكنة عليهما؟ إذا قاربت البالونين من بعضهما، فإن شحنتيهما المتساويتان تتسبان في تنافرهما. الأشكال الجزيئية تتأثر أيضا بقوى التنافر الكهربائية.

نموذج VSEPR

يحدد شكل الجزيء الكثير من خصائصه الكيميائية و الفيزيائية. غالبا ما تحدد أشكال الجزيئات المتفاعلة ما إذا كان بالإمكان الاقتراب من بعضها بما فيه الكفاية لتتفاعل في ما بينها. كثافات الإلكترون المتشكلة من تداخل مدارات الإلكترونات المشتركة هي التي تحدد شكل الجزيء. لقد تطورت النظريات لشرح التداخل في تراكيب المدارات و يمكن استعمالها في توقع شكل الجزيء. يمكن تحديد الهندسة الجزيئية، أو شكل الجزيئي بمجرد رسم بنية لويس. يُعرف النموذج المستعمل في تحديد الشكل الجزيئي باسم تنافر زوج إلكترونات مدار التكافؤ من الانجليزية Valence Shell Electron Pair Repulsion model أو نموذج VSEPR يعتمد هذا النموذج على ترتيب يظل من تنافر أزواج الإلكترونات المشتركة و غير المشتركة حول الذرة المركزية.

زاوية الرباط في نموذج VSEPR بشكل أفضل، تصور بالونات منبوعة بنفس الحجم و مربوطة معا، كما هو مبين في الشكل 18. بحيث يمثل كل بالون منطقة كثيفة الإلكترونات. قوة التنافر في هذه المنطقة كثيفة الإلكترونات تمنع الإلكترونات الأخرى من دخول هذا المجال. عندما تتصل مجموعة من البالونات بنقطة مركزية، و التي تمثل ذرة مركزية، تتكون البالونات شكلا يظل من التفاعلات بين البالونات. و تتناثر أزواج الإلكترونات في جزيء مع بعضها بنفس الطريقة، و تجعل هذه القوى الذرات في الجزيء تنموذج في زوايا ثابتة متناسبة مع بعضها البعض. الزاوية المتشكلة من طرفي الذرتين و الذرة المركزية هي زاوية الرباط زوايا الرباط المنبوعة من طرف VSEPR مُدعّمة بأدلة تجريبية. أزواج الإلكترونات غير المشتركة هي أيضا مهمة في تحديد شكل الجزيء. تشغل هذه الإلكترونات مدارات أكبر قليلا من الإلكترونات المشتركة. وبناء على ذلك، يتم دفع مدارات الروابط المشتركة معا بواسطة الأزواج غير المشتركة.



الشكل 18 تكون أزواج الإلكترونات في جزيء منبوعة أحد ما يُمكن. تماما كما هي مرئية هذه البالونات. زوجان يشكلان شكلا خطيا، ثلاثة أزواج تشكل المستوى ثلاثي الزوايا. أربعة أزواج تشكل الهرم رباعي السطوح

القسم 4 • أشكال الجزيئات 123

الربط بعلم الأحياء
شكل جزيئات الطعام مهمة بالنسبة لحاسة الذوق عندما. فسطح لسانك تقطيه براعم الذوق، كل منها يضم من 50 إلى 100 خلية مستقبلة للذوق، ويمكن للخلايا المستقبلة للذوق التعرف على خمسة أذواق مختلفة - الحلو، المر، الحامض، و اللدني (أذوق الفلوتامات أحادية الصوديوم) - لكن كل خلية مستقبلة تستجيب بشكل أفضل لذوق واحد فقط. يتم تحديد أشكال جزيئات الطعام من خلال بنيتها الكيميائية. فعندما يدخل جزيء برعم الذوق، فإنه يجب أن يكون على الشكل الصحيح للعصب في كل خلية مستقبلة للاستجابة وإرسال رسالة إلى الدماغ. ويقوم الدماغ بعد ذلك بتفسير الرسالة كذوق معين. فعند ربط مثل هذه الجزيئات بمستقبلات البذاق الحلو، يتم تذوقها على أنها حلوة. وكلما زاد عدد جزيئات الطعام التي تناسب خلية مستقبلة للذوق الحلو، كلما زادت حلوة الطعام. والجدير بالذكر أن السكريات والمحليات الاصطناعية ليست هي الجزيئات الحلوة الوحيدة، بل البروتينات الموجودة في الفواكه هي أيضا جزيئات حلوة. لقد تم تبيان بعض الأشكال الجزيئية الشائعة في الجدول 6.

التهجين

ينتج الهجين عندما يتم الجمع بين شيئين، فيكتسب الناتج منهما خصائص كليهما. فعلى سبيل المثال، يُستخدم في السيارات الهجينة الغاز والكهرباء كمصدر للطاقة خلال عملية الترابط الكيميائي. تخضع المدارات الذرية المختلفة للتهجين. ولغرض هذا، النظر الترابط الموجود في جزيء الميثان (CH₄). تحتوي ذرة الكربون على أربعة إلكترونات تكافؤ مع التركيب الإلكتروني 1s²2s²2p² (He). يمكن أن تتوقع ارتباط اثنين من الإلكترونات p المفردة بذرات أخرى والكربونات 2s لبيضي الزوج غير مشترك. ومع ذلك، تخضع ذرات الكربون للتهجين. وهي العملية التي تُنتج فيها المدارات الذرية وتشكل مدارات جديدة، هجينة ومتطابقة.

وتظهر المدارات الهجينة في ذرة الكربون في الشكل 19. لاحظ أن كل مدار هجين يحتوي على إلكترون واحد ويمكن مشاركته مع ذرة أخرى. يسمى المدار الهجين مدار sp³ لأن المدارات الأربعة الهجينة تتشكل من مدار واحد s و 3 مدارات p. الكربون هو العنصر الأكثر خضوعا للتهجين. عدد المدارات الذرية التي تُنتج وتشكل المدار الهجين يساوي العدد الكلي لأزواج الإلكترونات. كما هو مبين في الجدول 6، وبالإضافة إلى ذلك، فإن عدد المدارات الهجينة المشكّلة يساوي عدد المدارات الذرية التي امتزجت. فعلى سبيل المثال، يحتوي كلوريد الألومنيوم AlCl₃ على ما مجموعه ثلاثة أزواج من الإلكترونات و يتوقع نموذج VSEPR أن يكون شكل الجزيئي مستوي ثلاثي الزوايا. وينتج هذا الشكل عند امتزاج مدار s واحد ومداري p مع الذرة المركزية، Al، وتشكيل ثلاثة مدارات متطابقة. sp².

كما تحلل الأزواج المنعزلة المدارات الهجينة، فإن المدارات الهجينة لكل من H₂O و BeCl₂ في الجدول 6، يحتوي كلا المركبين على ثلاث ذرات. لماذا يحتوي جزيء H₂O على مدارات sp³؟ هناك نوعان من الأزواج المنعزلة على ذرة الأكسجين المركزية في H₂O لذلك، يجب أن يكون هناك أربعة مدارات هجينة، اثنان للربط واثنان للأزواج المنعزلة. تذكر أن الروابط التساهمية المتعددة تتكون من رابطة sigma واحدة ورابطة pi واحدة أو أكثر. فقط الإلكترونات في رابطة sigma يحلان المدارات الهجينة مثل sp و sp². المدارات غير الهجينة المتبقية تتداخل لتشكيل روابط pi. من المهم أن نلاحظ أن الروابط التساهمية الأحادية، المزدوجة، والثلاثية تحتوي فقط على مدار هجين واحد فقط، وهكذا، يشكل CO₂ من اثنين من الروابط المزدوجة مدارات sp الهجينة.

التأكد من فهم النص أو كعدد الإلكترونات التي تتوفر للترابط في مدار sp³.

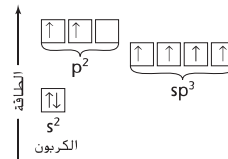
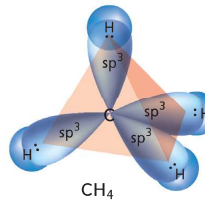
المفردات
أصل الكلمة
مستوي ثلاثي الزوايا.
أصلها لاتيني، وتتكون من كلمتي trigonum، التي تعني ثلاثي، ومستوي التي تعني مسطح.

الرياضيات في الكيمياء

الخواص الهندسية باستخدام مجموعة نماذج جزيئية وبناء الجزيئات بدءاً من H₂. إرسال الطلاب لماذا يعتبر جزيء الهيدروجين خطي.

يمكن رسم خط مستقيم بين الذرتين. بعد ذلك، قم ببناء BeH₂ واطلب من الطلاب تحديد شكله.. **خطي** قم ببناء BH₃. واطلب من الطلاب ملاحظة أن الأربع ذرات جميعهم يقعون في نفس المستوى. اقطع مثلث من طبقة الشفافية الرقيقة، وضعه على رأس الجزيء واطلب من الطلاب تحديد زاوية الرابطة. 120° يشار إلى شكل الجزيئي بأنه سطحي ثلاثي التماثل. قم ببناء جزيء CH₂ واطلب من الطلاب قطع أربعة مثلثات متساوية الأضلاع وتجميعها في النموذج الجزيئي لتشكيل نموذج هندسي. اطلب من الطلاب وصف الشكل. **رباعي السطوح (المثلثية)** قم ببناء NH₃ واطلب من الطلاب تجميع شكل هندسي ليحيط بالجزيء. أخبر الطلاب بأن الشكل معروف بكونه هرمي ثلاثي الزوايا. يجب أن يلاحظ الطلاب عدم وجود نقاط داخلية في هذا الشكل الجزيئي، وأن كل ذرة تحاذي قمة الرأس. قم ببناء جزيء H₂O واطلب من الطلاب تحديد شكله.. **إثني** أشر إلى أن هذا الشكل الجزيئي مستوي. وأن الذرات تشكل زاوية منفرجة. **AL OL**

الشكل 19: الإلكترونات 2s و 2p لذرة كربون تحلل مدارات sp³ الهجينة. لاحظ أن المدارات الهجينة لديها مقدار متوسط من الطاقة الكافية مقارنة مع طاقة مدارات s و p الأصلية. وفقاً لنظرية VSEPR، يظل الشكل الهرمي رباعي السطوح من التناظر بين المدارات الهجينة في جزيء CH₄. **حدد عدد السطوح في الشكل الهرمي رباعي السطوح التي كونتها مدارات sp³؟**



ملحق

الخواص الهندسية المركبة كمر النشاط السابق مع PCl₃ جزيء و SF₆ جزيء. اطلب من الطلاب تحديد الأشكال الهندسية للجزيئات. **هرمية ثنائية ثلاثية التماثل و ثمانية السطوح AL AL**

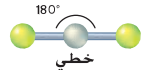
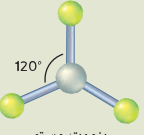
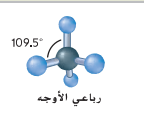
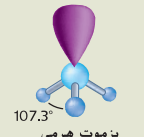
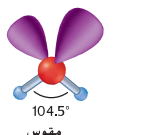
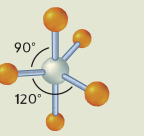
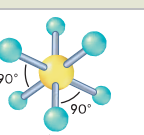
سؤال الشرح الشكل 19 4

تدريب على القراءة 1

التعليم المتميز

المعلمون المتقدمون اطلب من الطلاب البحث في نظرية المدار الجزيئي، توضح هذه النظرية الإلكترونات في الجزيئات باستخدام المدارات الجزيئية بدلاً من المدارات الذرية. يجب على الطلاب استخدام الرسوم البيانية و تقديم تقرير حول نتائجهم إلى باقي الصف. **AL**

الجدول 6 الأشكال الجزيئية

الشكل الجزيئي *	المدارات الهجينة	الأزواج المتمزلة	الأزواج المشتركة	مجموع الأزواج	الجزيء
 <p>خطي 180°</p>	sp	0	2	2	BeCl ₂
 <p>بزموت مستوي 120°</p>	sp ²	0	3	3	AlCl ₃
 <p>رباعي الأوجه 109,5°</p>	sp ³	0	4	4	CH ₄
 <p>بزموت هرمي 107,3°</p>	sp ³	1	3	4	NH ₃
 <p>مقوس 104,5°</p>	sp ³	2	2	4	H ₂ O
 <p>بزموت ثنائي هرمي 90° 120°</p>	sp ³ d	0	5	5	NbBr ₅
 <p>ثماني الأوجه 90°</p>	sp ³ d ²	0	6	6	SF ₆

*الكمرات تمثل الذرات، الأعمود تمثل الروابط، و المصنوع تمثل أزواج الإلكترونات المتمزلة.

يحتوي جزيء BeCl₂ على زوجين فقط من الإلكترونات المشتركة مع ذرة Be المركزية. لهذه الإلكترونات الرابطة الأقمى بزوايا ربط 180°. و شكل جزيئي خطي.

لأزواج الإلكترونات الثلاثة الرابطة في AlCl₃ الباعد الأقمى في شكل مستوي ثلاثي بزوايا ربط 120°.

عندما يكون للذرة المركزية في جزيء أربعة أزواج من الإلكترونات الرابطة، كما هو الشأن مع CH₄ يكون الشكل هرميا رباعيا. زوايا الربط هي 109,5°.

يحتوي NH₃ على ثلاثة روابط تساهمية أحادية و زوج متمركز واحد، الزوج المتمركز يحتل مساحة أكبر من الأزواج المشتركة، هناك تنافر أقوى بين الزوج المتمركز و الأزواج الرابطة أكثر مما هو موجود بين زوجين رابطتين. الشكل الهندسي الناتج هو شكل هرمي ثلاثي، بزوايا رابطة ذات 107,3°.

يحتوي الماء على رابطتين تساهميين اثنين و زوجين متمركزين، التنافر بين الأزواج المتمزلة يجعل الزاوية 104,5°. أقل من الشكل الهرمي رباعي السطوح و الشكل الهرمي الثلاثي. نتيجة لذلك، تكون لجزيئات الماء شكل منحني.

يحتوي جزيء NbBr₅ على خمسة أزواج من الإلكترونات الرابطة، الشكل الهرمي الثلاثي يظل من تنافر أزواج الإلكترونات المشتركة هذه.

كما هو الشأن مع NbBr₅، ليس لسف SF₆ أزواج إلكترونات غير مشتركة على الذرة المركزية.. غير أن ترتيب ستة أزواج مشتركة حول الذرة المركزية يؤدي إلى إنتاج شكل هرمي ثماني السطوح .

ASSESSMENT

الأداء باستخدام نموذج VSEPR. اطلب من الطلاب تصميم نماذج بهذه الأشكال: خطية، و سطحي ثلاثية التماثل و هرمية ثنائية ثلاثية التماثل و ثمانية السطوح. **OL**

3 التقييم

التحقق من الفهم.

اطلب من الطلاب استخدام تركيب لويس H₃ التنبؤ بشكل الجزيء، زاوية الرابطة، والمدارات الهجينة للزرنخ. **OL**

إعادة الشرح

اطلب من الطلاب استخدام كرات من الصلصال لتمثيل الإلكترونات التوئية و عديمة التكافؤ. جالِّ الأَشْئَان الملوثة لتمثيل الإلكترونات المرتبطة و جالِّ الأَشْئَان غير الملوثة لتمثيل الأزواج المفردة . قم ببناء CH₄، واطلب من الطلاب تحديد المدارات الهجينة للكربون و شكل الجزيء. **sp³**. **رباعي السطوح** كرر مع **sp³**، NH₃. **هرمية ثنائية ثلاثية التماثل** اكمل مع **sp³**، H₂O. **ثنائي** **OL**

ملحق

اطلب من الطلاب شرح السبب وراء أن ذرة كربون لديها أربع مواقع ترابط في حين أن التوزيع الإلكتروني [He]2s²2p² يقترح أنه يجب ألا يكون لديها سوى موقعين ترابط. **The 2s²2p²** تخضع المدارات للتهجين مكونة أربعة **sp³** مدارات ترابط..

ASSESSMENT

الأداء اطلب من الطلاب كتابة صيغة جزيء بسيط على ورقة، يملك من طالب آخر رسم نموذج للجزيء و التنبؤ بالخواص الهندسية و التهجين وزاوية الرابطة. **OL**

دفتر الكيمياء.

الشكل الجزيئي هل يتنبأ الطلاب الشكل الجزيئي و زاوية رابطة الجزيئات الشائعة HF، H₂S، H₂O، CCl₄، NO₂، O₂. **OL**

مشروع الكيمياء

السلفورافين يعد مركب السلفورافين عنصرا في البروكلي و اكتشف أنه مضاد قوي للسرطان . اطلب من الطلاب البحث عن السلفورافين (C₅H₁₁OS) و رسم نماذج تمثل هذا الجزيء. **AL**

مثال في الفصل

سؤال ثاني كلوريد الكبريت هو سائل أحمر كروي في درجة حرارة الغرفة، ما هو شكل ثاني كلوريد الكبريت؟ حدد زاوية الرابطة و نوع الهجين.

الإجابة جميع الذرات لديها ثنائية. الشكل منحنى بزوايا رابطة 104.5° و هو sp^3 هجين.

الممارسة مشاكل

اطلب من الطلاب الإشارة إلى ملحق الحلول المختارة، للحصول على الحلول الكاملة للمشاكل المرقمة عشوائيًا. يمكن الاطلاع على الحلول الكاملة في كتب الحلول.

- 56. سطحي ثلاثي التماثل sp^2 ، 120°
- 57. منحنى sp^3 ، 104.5°
- 58. خطي sp ، 108°
- 59. رباعي السطوح sp^3 ، 109°
- 60. رباعي السطوح sp^3 ، 109°

التعزيز

مسألة نموذجية 7

أوجد شكل جزيء الفوسفين وهو غازي عديم اللون، يتم تشكيله عند تعين المواد العضوية. مثل لحم الأسماك. ما هو شكل جزيء الفوسفين؟ توقع زاوية الرابطة و حدد المدارات الهجينة.

1 تحليل المسألة

يحتوي جزيء الفوسفين على ثلاث ذرات هيدروجين مرتبطة بذرة فوسفور مركزية.

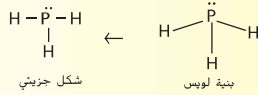
2 ابحث عن تنسيقات للنقاط غير المروقة

أوجد العدد الكلي للإلكترونات التكافؤ وعدد الأزواج الإلكترونية.

$$1P \times 5 \text{ إلكترونات تكافؤ} + 3 \text{ ذرات H} \times \frac{1 \text{ إلكترون تكافؤ}}{1F \text{ ذرة}} = 8 \text{ إلكترونات تكافؤ}$$

حدد العدد الكلي لأزواج الترابط.

$$\frac{8 \text{ إلكترونات}}{2 \text{ إلكترونات/زوج}} = 4 \text{ أزواج.}$$



رسم بنية لويس، وذلك باستخدام زوج واحد من الإلكترونات لربط كل ذرة H مع ذرة P المركزية وتعيين الزوج المتبقي للذرة P

شكل الجزيئي هرمي ثلاثي الزوايا مع رابطة متوقفة قدرها 107° و مدارات sp^3 هجينة.

3 قِّم الإجابة

كل أزواج الإلكترونات مستعملة ولكل الكرون في الذرة تكوين مستقر.

مسائل للتدرب

حدد الشكل الجزيئي، وزاوية الرابطة والمدارات الهجينة لكل جزيء.

- 56. BF_3
- 57. ClO_2
- 58. BeF_2
- 59. CF_4

60. مسألة للتدعي من أجل NH_4^+ أيون. حدد الشكل الجزيئي، زاوية الرابطة، و المدارات الهجينة.

القسم 4 مراجعة

ملخص القسم

- تنص نظرية نموذج VSEPR على أن أزواج الإلكترونات تتنافر مع بعضها البعض و تحدد كلا من شكل و زوايا الرابطة في الجزيء.
- يفسر التنجيم أشكال الجزيئات التي تمت ملاحظتها مع وجود مدارات هجينة مكافئة.

- 61. فكرة أساسية لخص نظرية VSEPR للترابط.
- 62. عرّف المصطلح زاوية الرابطة.
- 63. صف كيف أن وجود زوج من الإلكترونات المنعزلة يؤثر على مسافة مدارات الترابط المشتركة.
- 64. قارن حجم مدار به زوج من الإلكترونات المشتركة بأخر به زوج منعزل.
- 65. حدد نوع المدارات الهجينة الموجودة و زوايا الرابطة لجزيء ذي شكل هرمي رباعي.
- 66. قارن بين أشكال الجزيء و المدارات الهجينة لجزيئات PF_3 و جزيئات PF_5 . فسر لماذا تختلف أشكالها.
- 67. سجل في جدول، بنية لويس، شكل الجزيء، زاوية الرابطة، و المدارات الهجينة للجزيئات التالية CS_2 ، CH_2O ، H_2Se ، CCl_2F_2 و NCl_3 .

القسم 4 مراجعة

- 61. تحدد نظرية تنافر أزواج إلكترونات غلاف التكافؤ الخواص الهندسية للجزيئية استنادا إلى الطبيعة المنعزلة لأزواج الإلكترونات حول ذرة مركزية.
- 62. زاوية الرابطة هي الزاوية التي شكلتها أي ذرتين طرفيتين مع الذرة المركزية.
- 63. زوج وحيد يحتل مساحة أكبر من زوج إلكترون مشترك، وبالتالي وجود الزوج الوحيد يدفع أزواج الترابط للإقتراب من بعضها البعض.
- 64. المدار الذي يحتوي على زوج إلكترون وحيد يحتل مساحة أكبر من نظيره الذي يحتوي زوج إلكترون مشترك.
- 65. sp^3 and 109°
- 66. PF_5 هرمي ثلاثي الزوايا sp^3 مع المدارات الهجينة. PF_5 رباعي السطوح مع sp^3d المدارات الهجينة. يحدد الشكل عن طريق نوع المدار الهجين.
- 67. ارجع إلى كتب الحلول للمخططات المدارية، CS_2 خطي، sp ، 180° ، CH_2O سطحي ثلاثي التماثل sp^2 ، 120° ، H_2Se منحنى sp^3 ، 104.5° ، CCl_2F_2 رباعي السطوح sp^3 ، 109° ، NCl_3 هرمي ثلاثي الزوايا sp^3 ، 107°

Program: UAE Project Bridge	Component: Science TE General	PDF Pass
Vendor: MPS Limited	Grade: 10	

الكهروسالبية والقطبية

القسم 5

الأسئلة الرئيسية

- كيف تُستخدم الكهروسالبية لتحديد نوع الرابطة؟
- ما أوجه الاختلاف بين الروابط التساهمية القطبية وغير القطبية، والجزئيات القطبية وغير القطبية؟ وما أوجه الشبه بينها؟
- ما خواص المركبات ذات الروابط التساهمية؟

مراجعة المفردات

الكهروسالبية (electronegativity): المقدرة النسبية للذرة على جذب إلكترونات الرابطة الكيميائية

المفردات الجديدة

الرابطة التساهمية القطبية (polar covalent bond)

الفكرة الرئيسية تعتمد خاصية الرابطة الكيميائية على مقدار جذب كل ذرة للإلكترونات في الرابطة.

الكيمياء في حياتك

كلما كانت قوتك أكبر، سؤل عليك سحب الأشياء. فكما تختلف قدرة الناس على سحب الأشياء، تختلف قدرة الذرات على جذب (سحب) الإلكترونات في الروابط الكيميائية.

الكهروسالبية وخواص الروابط

يعتمد نوع الرابطة التي تنشأ أثناء التفاعل على قدرة جذب كل ذرة للإلكترونات، الميل الإلكتروني هو مقياس لغالبية الذرة على استيعاب الإلكترون. فيما عدا الغازات النبيلة، يزداد الميل الإلكتروني كلما زاد العدد الذري عبر الدورة، ويقل كلما زاد العدد الذري عبر المجموعة. تساعد قيم الكهروسالبية - الموضحة في الصورة 20 - الكيميائيين على حساب الميل الإلكتروني لبعض الذرات في المركبات الكيميائية، تشير الكهروسالبية إلى المقدرة النسبية للذرة على جذب إلكترونات الرابطة الكيميائية. لاحظ أنه يتم تعيين قيم الكهروسالبية، في حين يتم قياس قيم الميل الإلكتروني.

كهروسالبية (Electronegativity) توضح نسخة الجدول الدوري للعناصر في الصورة 20 قيم الكهروسالبية. لاحظ أن للفلور أكبر قيمة للكهروسالبية (3.98)، في حين أن للفرانسيوم أقل قيمة (0.7). ولأن الغازات النبيلة لا تكون مركبات عادة، لا يتضمن الجدول قيم الكهروسالبية لليهليوم والنيون والأرجون. ومع ذلك، تتحد الغازات النبيلة الكبيرة أحياناً، مثل الزينون، مع الذرات التي لها قيم كهروسالبية عالية مثل الفلور.

الصورة 20 تحسب قيم الكهروسالبية بعبارة فو جذب الذرة للإلكترونات المشتركة إلى قوة جذب ذرة الفلور لهذه الإلكترونات. لاحظ أن قيم الكهروسالبية لسلسلة اللانثانيدات والأكتينيدات، غير الموضحة في الجدول، تتراوح من 1.12 إلى 1.7.

القسم الخامس

1 ركز

الفكرة الرئيسية

الكهربية السالبة والقطبية

اطلب من اثنين من طلابك مساعدتك في عمل تجربة سريعة، اطلب منهما جذب حبل بنض القوة. أخبر طلاب الصف أن الحبل يمثل زوج مشترك من الإلكترونات، أسأل الصف ما الذي يمثل هذا عندما تتشارك الذرات الإلكترونات. **المشاركة المتساوية** للإلكترونات اطلب من أحد الطالبين إن يجذب الحبل بقوة أكبر من قوة الطالب الآخر. ينبغي أن يتم جذب الطالب الآخر نحو الطالب الأول. أسأل الصف ما الذي يمثل هذا عندما تتشارك الذرات الإلكترونات. **المشاركة غير المتساوية** اطلب من الطلاب تحديد أي الذرات التي لديها ميل أكبر نحو اكتساب الإلكترونات. **الذرات التي تجذب بشدة الإلكترونات** أسأل الطلاب ما هو نوع الرابطة الممثلة إذا تم جذب الإلكترون تمامًا بعيداً عن ذرة واحدة. **رابطة أيونية** OL

2 درس

اختبار سريع



الحمية القطبية ذلك قضيب مطاطي بالصفوف أو الحرير لتوليد شحنة وقربه من مجرى مياه من سحاحة مياه. اطلب من الطلاب مراقبة المياه تتحرك نحو القضيب المشحون. كرر العملية باستخدام مرقق الدمان. **لا شيء يحدث** اطلب من الطلاب محاولة تفسير النتائج. عندما يتم مناقشة القطبية في هذا القسم، ارجع للاختبار السريع وأشر إلى أن الماء جزئ قطبي. بينما مرقق الدمان غير قطبي. تنجذب الشحنات الجزئية في جزيئات المياه إلى القضيب المطاطي، والذي لديه شحنة سالبة. **OL**

قيم السالبية الكهربائية لعناصر محددة

1																	5	6	7	8	9
H																	B	C	N	O	F
2.20																	2.04	2.55	3.04	3.44	3.98
3	4															13	14	15	16	17	
Li	Be															Al	Si	P	S	Cl	
0.98	1.57															1.61	1.90	2.19	2.58	3.16	
11	12	20	21	22	23	24	25	26	27	28	29	30	31	32	33	34	35				
Na	Mg	K	Ca	Sc	Ti	V	Cr	Mn	Fe	Co	Ni	Cu	Zn	Ga	Ge	As	Se	Br			
0.93	1.31	0.82	1.00	1.36	1.54	1.63	1.66	1.55	1.83	1.88	1.91	1.90	1.65	1.81	2.01	2.18	2.55	2.96			
37	38	39	40	41	42	43	44	45	46	47	48	49	50	51	52	53					
Rb	Sr	Y	Zr	Nb	Mo	Tc	Ru	Rh	Pd	Ag	Cd	In	Sn	Sb	Te	I					
0.82	0.95	1.22	1.33	1.6	2.16	2.10	2.2	2.28	2.20	1.93	1.69	1.78	1.96	2.05	2.1	2.66					
55	56	57	72	73	74	75	76	77	78	79	80	81	82	83	84	85					
Cs	Ba	La	Hf	Ta	W	Re	Os	Ir	Pt	Au	Hg	Tl	Pb	Bi	Po	At					
0.79	0.89	1.10	1.3	1.5	1.7	1.9	2.2	2.2	2.2	2.4	1.9	1.8	1.8	1.9	2.0	2.2					
87	88	89																			
Fr	Ra	Ac																			
0.7	0.9	1.1																			

القسم 5 - الكهروسالبية والقطبية 127

القسم الخامس الكهربية السالبة والقطبية 127

Program: UAE Project Bridge	Component: Science TE General	PDF Pass
Vendor: MPS Limited	Grade: 10	

خاصية الرابطة	فروق الكهروسالبية
أيونية غالباً	> 1,7
تساهمية قطبية	0,4 - 1,7
تساهمية غالباً	<0,4
تساهمية غير قطبية	0

خاصية الرابطة لا يمكن أن تكون الرابطة الكيميائية بين ذرات العناصر المختلفة رابطة أيونية أو تساهمية بالكامل. وتعتمد خاصية الرابطة على مقدار قوة جذب كل ذرة من الذرات المترابطة للإلكترونات. وبين الجدول 7 إمكانية توقع خاصية الرابطة الكيميائية ونوعها باستعمال فرق الكهروسالبية بين العناصر المكونة للرابطة. ويكون فرق الكهروسالبية بين ذرتين متماثلتين صفراً وهذا يعني أن الإلكترونات موزعة بالتساوي بين الذرتين. وتعد هذا الرابطة تساهمية قطبية أو تساهمية غير قطبية. وفي المقابل، ولأن العناصر لمختلفة لها مقادير كهروسالبية مختلفة، لذا لا يتوزع زوج إلكترونات الرابطة التساهمية بين ذرات العناصر المختلفة بالتساوي، وينتج عن عدم التساوي في التوزيع رابطة تساهمية قطبية (polar covalent bond)، وعندما يكون هناك فرق كبير في الكهروسالبية بين الذرات المترابطة، ينتقل الإلكترون من ذرة إلى أخرى مما يؤدي إلى تكون رابطة أيونية أولاً. أحياناً تكون الرابطة غير واضحة إذا كانت أيونية أو تساهمية. إذا كان فرق الكهروسالبية هو 1,70 فإن ذلك يعني أن الرابطة بنسبة 50% تساهمية وبنسبة 50% أيونية، وكلما زاد فرق الكهروسالبية، زادت الخاصية الأيونية للرابطة. وعادةً تتكون الرابطة الأيونية عندما يكون فرق الكهروسالبية أكبر من 1,70. ومع ذلك، لا يتفق هذا الحد العاقل في بعض الأحيان مع ملاحظات التجارب التي يرتبط فيها لاإتزان معاً. تلخص الصورة 21 مدى الترابط الكيميائي بين ذرتين. ما نسبة أيونية الرابطة التي تنتج عن اتحاد ذرتين فرق الكهروسالبية بينهما 2,00؟ وأين سيكون مكان LiBr على الرسم البياني؟

التأكد من فهم النص. حقل ما نسبة أيونية الرابطة التساهمية المتبقية؟



المفاهيم الخاطئة

هناك خطأ شائع بأن الرابطة بين ذرتين هي إما تساهمية بحتة أو أيونية بحتة.

اكتشف عن المفهوم الخاطئ

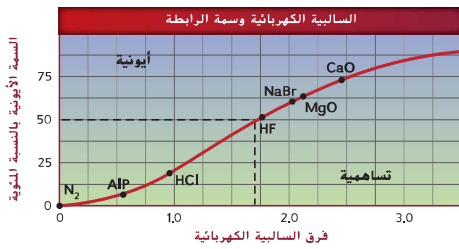
اجعل الطلاب يكتبون مقارنات لتمثيل الروابط التساهمية غير القطبية، والروابط التساهمية القطبية، والروابط الأيونية.

اشرح المفهوم. اطلب من طلابك تخيل أنهم يأكلون في مطعم مع شخص آخر، وكل طلب يحتوي على نوع مختلف من السندوتشات التي تتم مشاركتها. إذا تشاطر كلا منكم السندوتشات مع الآخر بالمساواة، فماذا سيفعلان؟ سيتقسمان السندوتش إلى نصفين، وسيحصل كلا منهما على نصف، وماذا عن المشاركة غير المتساوية؟ فإن الجزئين المتشاركين غير متساويين. إذا أكل شخص واحد السندوتش الخاص به كاملاً وأخذ جزءاً من سندوتش الشخص الآخر، فما الرابطة التي يمثلها هذا المثال؟ الأيونية

قيم المعلومة الجديدة باستخدام رسم لخاصية السالبة الكهربائية والأيونية المئوية في شكل 21. واطلب من الطلاب تحديد نوع الرابطة للأزواج المختلفة للذرات، واطلب منهم كذلك تحديد أي الذرات أكثر احتمالية لوجود الإلكترون بها. الهيدروجين والبروم تساهمية قطبية، البروم والكربون والأكسجين تساهمية قطبية، الأكسجين، الليثيوم والفلورين أيونية، الفلورين، الأكسجين والأكسجين تساهمية غير قطبية، وقت مشاركة الإلكترونات بالتساوي. OL

الصورة 21 يوضح هذا الرسم البياني أن الفرق في الكهروسالبية بين الذرات المترابطة يحدد نسبة الخاصية الأيونية في الرابطة. تكون الرابطة أيونية إذا كانت نسبة الأيونية فيها أكثر من 50%.

اختيار الرسم البياني
حدّد نسبة الأيونية لأكسيد الكالسيوم.



الصورة 21 يوضح هذا الرسم البياني أن الفرق في الكهروسالبية بين الذرات المترابطة يحدد نسبة الخاصية الأيونية في الرابطة. تكون الرابطة أيونية إذا كانت نسبة الأيونية فيها أكثر من 50%.

اختيار الرسم البياني
حدّد نسبة الأيونية لأكسيد الكالسيوم.

128 الوحدة 4 - الرابطة التساهمية

سؤال نصي ما هي نسبة أن تكون الخاصية الأيونية رابطة بين ذرتين لديه فرق كهربية سالبة يقدر 2,00 حوالي 60%؟

أين قد يتعين موقع بروميد الليثيوم على الرسم؟ إلى يسار بروميد الصوديوم على المنحنى، باختلاف كهربية سالبة يعادل 1,98.

مراجعة القراءة 0%

مراجعة الرستمبرنيا 74%

128 الفصل الثامن الرابطة التساهمية

اختبار سريع

الجزيئات القطبية ضع فصيبيين إثارة أو ثلاث مع طلانات غير ملتصقة على سطح مسنوبنغي أن تتباعد الغضبان بعيداً عن بعضها البعض وأن تتوجه توجهات عشوائية. احضر مغناطيساً بالقرب من قضبان إثارة. وسوف تفون قضبان الإثارة بمحاذاة نفسها في المجال المغناطيسي. اخبر الطلاب أن الجزي القطبي يسلك نفس طريقة المجال الكهربائي لأن لديه قطب موجب وآخر سالب.

ASSESSMENT

تجربة وضح للتلاميذ النماذج الجزيئية للجزيئات المشتركة. واجعلهم يحددون نوع الرابطة الموجودة ثم تحديد نوع الجزي بناءً على تماثلها. الجزيئات SO_2 , CS_2 , H_2S , HCl , CH_2O , CH_3Cl يمكن أن يتم استخدامها.



$$\begin{aligned} 3.16 &= CL \\ 2.20 &= H \\ 0.96 &= \text{الفرق} \end{aligned}$$



■ الصورة 22 قيمة الكهروسالبية للكلاور أعلى منها للهيدروجين. ولذلك ينحني زوج الإلكترونات المشترك في الجزيء نحو الكلاور. وتُشبه الرابطة التساهمية القطبية رياضة شد الحبل بين فريقين غير متساويين القوة. وتُشبه الرابطة التساهمية القطبية رياضة شد الحبل بين فريقين غير متساويين القوة. وتُشبه الرابطة التساهمية القطبية رياضة شد الحبل بين فريقين غير متساويين القوة. وتُشبه الرابطة التساهمية القطبية رياضة شد الحبل بين فريقين غير متساويين القوة.

الروابط التساهمية القطبية

كما تعلمت للتو، تتكوّن الروابط التساهمية القطبية نتيجة عدم جذب الذرات لإلكترونات الرابطة المشتركة بالقوة نفسها. وتُشبه الرابطة التساهمية القطبية رياضة شد الحبل بين فريقين غير متساويين القوة. وتُشبه الرابطة التساهمية القطبية رياضة شد الحبل بين فريقين غير متساويين القوة. وتُشبه الرابطة التساهمية القطبية رياضة شد الحبل بين فريقين غير متساويين القوة.

وتستخدم الحرف اللاتيني (δ) ليمثل الشحنة الجزئية. في الرابطة التساهمية القطبية، تمثل δ^- شحنة جزئية سالبة بينما تمثل δ^+ شحنة جزئية موجبة. كما هو موضح في الصورة 22. يمكن إضافة δ^+ و δ^- إلى الشكل الجزيئي لتوضيح قطبية الرابطة التساهمية. تكون الذرة ذات الكهروسالبية الأكبر عند طرف الشحنة الجزئية السالبة. أما الذرة ذات الكهروسالبية الأقل فتكون عند طرف الشحنة الجزئية الموجبة. وغالبًا ما تُعرف الرابطة التساهمية الناتجة بأنها (ثنائية الأقطاب).

القطبية الجزيئية تتكوّن الجزيئات ذات الروابط التساهمية قطبية أو غير قطبية، ويعتمد نوع الرابطة على مكان وطبيعة الروابط التساهمية في الجزيء. ومن الخواص المميّزة للجزيئات غير القطبية أنها لا تتجذب للمجال الكهربائي. إلا أن الجزيئات الكهربائية تتجذب إلى المجال الكهربائي. ولأن الجزيئات القطبية ثنائية الأقطاب ولها شحنات جزئية عند أطرافها، تكون الكثافة الإلكترونية غير متساوية. وينتج عن ذلك تأثير الجزيئات القطبية بالمجال الكهربائي والانتظام داخله.

القطبية والشكل الجزيئي يمكنك معرفة سبب كون بعض الجزيئات قطبية وبعضها الآخر غير قطبي بمقارنة جزيء الماء (H_2O) وجزيء رباعي كلوريد الكربون (CCl_4). حيث إن لكلا الجزيئين روابط تساهمية قطبية. ووفقًا للبيانات الموضحة في الصورة 20، فإن الفرق في الكهروسالبية بين ذرتي الهيدروجين والأكسجين يساوي 1.24. والفرق في الكهروسالبية بين ذرتي الكلاور والكربون يساوي 0.61. وعلى الرغم من وجود اختلاف في الكهروسالبية، إلا أن رابطة $H-O$ ورابطة $C-Cl$ رابطتان تساهميتان قطبيتان.



ووفقًا للصبغ الجزيئية، نجد أن لكلا الجزيئين أكثر من رابطة تساهمية قطبية. ولكن جزيء الماء وحده هو جزيء قطبي. لم قد يكون جزيء واحد ذو روابط تساهمية قطبية جزيئًا قطبيًا. بينما يكون الجزيء الآخر ذو الروابط التساهمية القطبية جزيئًا غير قطبي؛ تكمن الإجابة في أشكال الجزيئات.

مهن في الكيمياء

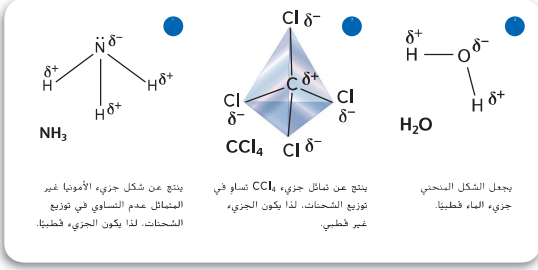
كيميائي التغذية يعب على كيميائي التغذية أو عالم التغذية أن يعرف كيف تتفاعل المواد الكيميائية وتغير تحت الظروف المتنوعة. إن الدرجة العلمية في الكيمياء لها مكانة مرموقة، إلا أنها ليست مطلوبة، حيث يعمل معظم كيميائي التغذية لدى الشركات الصانعة للكيمياء للطعام والشراب، ويتم تدريب المهندسين منهم في مختبرات التغذية لمدة خمس سنوات. وعلمهم اجتياز اختبار شفهي ثم العمل تحت الإشراف لمدة عامين آخرين.

المشروع الكيميائي

الكروماتوغرافيا (التفريق اللوني) اطلب من مجموعة الطلاب البحث عن تقنية الفصل المعروفة باسم كروماتوغرافيا الورق. اطلب منهم أن يصفوا كيفية استخدام الاختلافات القطبية في فصل مجموعة من المواد. على الطلاب تحديد نشاط عملي لتوضيح كيفية عمل الكروماتوغرافيا وتنفيذ التجربة للصف. **OL**

البرنامج الكيميائي

نوع الرابطة تستخدم اختلاف الكهربية السالبة. اجعل الطلاب يحددون ما إن كان الرابطة في الجزيئات التالية تساهمية قطبية أم تساهمية غير قطبية أم أيونية. H_2S , CH_4 , NH_3 , KCl , N_2 , CaO , CO_2 , HCl . **كلاوريد البوتاسيوم وأكسيد الكالسيوم أيونيان. و النيتروجين تساهمي غير قطبي، والباقي جزيئات تساهمي قطبي. OL**



يكون شكل جزيء H_2O ، كما هو محدد من خلال نموذج VSEPR، منحنيًا بسبب وجود زوجين من الإلكترونات غير المرتبطة على ذرة الأكسجين المركزية، كما هو موضح في الصورة 23a. ولأن روابط $H-O$ غير متماثلة في جزيء الماء، يكون لهذا الجزيء طرفان دائمًا، أحدهما موجب والآخر سالب، لذا فهو مركب قطبي.

أما جزيء CCl_4 فهو رباعي الأوجه، لذا فهو متماثل، كما هو مبين في الصورة 23b. لذا يكون مقدار الشحنة الكهربائية من أي مسافة عن المركز مساويًا لمقدار الشحنة عند المسافة نفسها من الجهة المعاكسة، ويكون مركز الشحنة السالبة على كل ذرة كلور، في حين يكون مركز الشحنة الموجبة على ذرة الكربون، ولأن الشحنات الجزئية متساوية، يكون جزيء CCl_4 غير قطبي. لاحظ أن الجزيئات المتماثلة عادة ما تكون غير قطبية، أما الجزيئات غير المتماثلة فتكون قطبية إذا كانت الروابط قطبية. هل جزيء الأمونيا (NH_3) في الصورة 23c قطبي؟ لهذا الجزيء ذرة نيتروجين مركزية وثلاث ذرات هيدروجين جانبية، وله شكل مثلثي هرمي بسبب أزواج الإلكترونات غير المرتبطة التي توجد على ذرة النيتروجين. وباستخدام الصورة 20، نجد أن الفرق في الكهروسالبية بين الهيدروجين والنيتروجين يساوي 0.84، مما يجعل كل روابط $N-H$ تساهمية قطبية. إن توزيع الشحنات غير متساو لأن الجزيء غير متماثل، لذا يكون الجزيء قطبيًا.

قابلية ذوبان الجزيئات القطبية إن الخاصية الفيزيائية المعروفة بقابلية الذوبان هي قدرة المادة على الذوبان في مادة أخرى. ويحدد نوع الرابطة وشكل الجزيئات ومدى القابلية للذوبان. وعادة ما تكون الجزيئات القطبية والمركبات الأيونية قابلة للذوبان في المواد القطبية، أما الجزيئات غير القطبية فتذوب فقط في المواد غير القطبية، كما هو موضح في الصورة 24.

اختبار سريع



أصبحت القطبية واضحة في أربع حاويات زجاجية مميزة، ضع 100 مل من الميثانول والإيثانول والبروبانول-2 (كحول الأيزوبروبيل) والأسيتون، أضف قليل من بلورات صبغة ريتشاردت لكل حاوية ثم قلب. صبغة ريتشاردت هي مركب يشير إلى قطبية المذيبات باللون، ينبغي أن يكون اللون أزرق مخضرًا في الميثانول وبنفسجي أزرق في الإيثانول وبنفسجي أحمر في البروبانول وبرتقالي في الأسيتون. وبينما تتزايد قطبية المذيب، يتغير الضوء المنعكس من الصبغة، الأصفر هو الأكثر قطبية بينما الأزرق المخضر هو الأقل قطبية.

سؤال توضيحي شكل 24

لا، يجب استخدام المنظفات لأن جزيئات المياه القطبية لا تذيب جزيئات الزيت غير القطبية.



الصورة 24 الجزيئات التساهمية المتماثلة، مثل الزيت ومعظم المنتجات البترولية، جزيئات غير قطبية، وعادة ما تكون الجزيئات المتماثلة، مثل الماء، جزيئات قطبية، كما هو موضح في هذه الصورة. لا تختلط المواد القطبية وغير القطبية عادة.

استدل هل يكفي الماء وحده لتنظيف قطعة قماش من الزيت؟

البرامح الكيميائية

لمثيل يذيب المثيلاًضف 20 مل من رباعي كلوريد الكربون (CCl_4) و 20 مل من المياه في حاوية زجاجية. تشكل السوائل طبقات لكنها لا تمتزج. فرباعيكلووريد الكربون أكثر كثافة من المياه ويشكل الطبقة الأدنى. وفي حاوية أخرى، أضف 20 مل من رباعيكلووريد الكربون فقط... وفي حاوية ثالثة، أضف 20 مل من المياه فقط. أضف الظليل من بلورات اليود وقليل من بلورات برمغانات البوتاسيوم إلى الحاويتين، يذوب اليود في المذيب غير القطبي رباعيكلووريد الكربون، وذاب برمغانات البوتاسيوم في الماء القطبي.

جزيء الماء قطبي ويجذب الأيونات الموجودة في المركب الأيوني البوتاسيوم. اطلب من الطلاب رسم جزيء الماء وتحديد الجزء الموجود في جزيء الماء والذي يجذب أيون البوتاسيوم والجزء الذي يجذب أيون البرمغانات. يوجد بذرة الأكسجين المركزية شحنة سالبة جزئية، كما أن ذرة الأكسجين تجذب أيون البوتاسيوم. وتنتش ذرات الأكسجين منطقة موجبة جزئية والتي تجذب أيون البرمغانات. OL

Program: UAE Project Bridge	Component: Science TE General	PDF Pass
Vendor: MPS Limited	Grade: 10	

خواص المركبات التساهمية

ملح الطعام مادة أيونية صلبة، والسكر مادة تساهمية صلبة، لهما نفس المظهر. لكن تختلف خواص هذين المركبين عند التسخين، فالمالح لا يتصهر، أما السكر فيتصهر عند درجة حرارة منخفضة نسبياً. هل يؤثر نوع روابط المركب في خواصه؟

القوى بين الجزيئية تعود الاختلافات في الخواص إلى الاختلاف في قوى الجذب. ففي المركبات التساهمية، تكون الروابط التساهمية بين الذرات في الجزيئات قوية، في حين تكون قوى الجذب بين الجزيئات ضعيفة نسبياً. وتُعرف قوى التجاذب الضعيفة هذه بالقوى بين الجزيئية أو قوى فاندرفال (.....). تختلف هذه القوى في شدتها، ولكنها أضعف من قوى الربط التي تربط بين الذرات في الجزيء أو بين الأيونات في المركب الأيوني.

هناك عدة أنواع من القوى بين الجزيئية، منها القوة الضعيفة بين الجزيئات غير القطبية التي تُسمى قوة التشتت، أو ثنائية القطب المحدث، وكذلك القوة بين الأطراف المشحونة بشحنات مختلفة في الجزيئين القطبيين والتي تُسمى قوة ثنائية الأقطاب. كلما زادت قطبية الجزيء، زادت القوة ثنائية الأقطاب. أما القوة الثالثة فهي الرابطة الهيدروجينية، وهي أقوىها. وتتكون بين ذرة هيدروجين تقع في نهاية أحد القطبين وذرة فلور أو أكسجين أو نيتروجين على القطب الآخر. تستدزس القوى بين الجزيئية بالتصنيف عندما ندرّس حالات المادة.

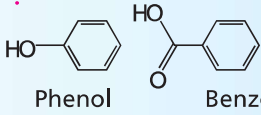
المختبر الكيميائي

يمكن استخدام المختبر الكيميائي الموجود في نهاية الفصل في هذه النقطة من الدرس.

مختبر تحليل البيانات

حول المختبر

- لدى الفينول والبنزويك لديهما تركيبات متشابهة كما هو موضح أدناه.



- للتفاصيل الإضافية حول التجربة الأصلية، يرجى الإطلاع على: ماري في أورتا، الكيمياء، اللون والفن. مجلة التعليم الكيميائي، 78، رقم (2001) 10.
- يرجى ملاحظة أن كلا من الكثافتين القصوتين والوقت المتبقي قبل حدوث كلا من شدة ذروة (حمض الفينول وحمض البنزويك)، يصبحان متساويين بشكل أكبر بينما يقل تركيز المياه في الطور المتحرك.

انقد

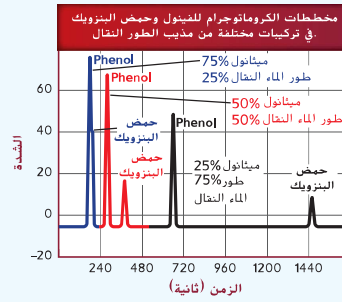
1. للفينول وقت استبقاء أقل بالنسبة لحمض البنزويك لأن لديه جذب أكبر للطور المتحرك مقارنةً بحمض البنزويك. ولأن حمض الفينول وحمض البنزويك هما مركبات عضوية، فإنهما يعتبران أكثر قابلية للذوبان في الميثانول (جزئ عضوي قطبي). ولذلك، فإن أوقات استبقائهما تتناقص بينما يتزايد الميثانول.
2. ويتزايد الفينول لأن لديه ذروة أكبر. وتوافق المنطقة الأقل من الذروة مع مقدار المركب الموجود في الخليط.
3. الفينول مركب قطبي، لديه جذب أكبر للذئب القطبي.
4. سوف تتنوع الإجابات والأسباب. ويستخلص خليط مذيب لطور المتحرك المكون من 50% من الميثانول و50% من المياه، مزيداً من المركبات المختلطة (حمض الفينول وحمض البنزويك) أكثر من غيرهم من المركبات، كما أنه يفصل جيداً بين كثافتها الذروة ويتطلب وقت أقل.

تدليبا ريلمة يتنم

استناداً إلى بيانات حقيقية*

تفسير البيانات

البيانات والملاحظات



*Data obtained from: Joseph, Seema M, and Palasota, J. A. 2001. The combined effects of pH and percent methanol on the HPLC separation of benzoic acid and phenol. *Journal of Chemical Education* 78:1381.

كيف تؤثر قطبية الطور المتحرك في الكروماتوجرام؟ الكروماتوجرافيا هي التقنية التي فيها يقوم الطور المتحرك بنقل مكونات مخلوط ما وفصلها. ويتشأ الكروماتوجراف عن طريق تسجيل كثافة كل مكون في الطور المتحرك مقابل الوقت، وتشير ارتفاعات قيم الكروماتوجراف إلى كميات كل مكونات المخلوط. ويستخدم الكيميائيون التحليليون كروماتوجرافيا السائل العالية الكفاءة أو HPLC. لفصل مكونات المواد البذابة، أثناء كروماتوجرافيا السائل العالية الكفاءة (HPLC). تبقى المركبات المتجذبة بقوة إلى مذيب الفصل في الطور المتحرك لفترة أطول وتظهر هذه المركبات بسرعة على الكروماتوجراف. أجرى عدة علماء كروماتوجرافيا السائل العالية الكفاءة (HPLC) باستخدام مخلوط الميثانول في الماء بوصفه مذيب لفصل لمخلوط الفينول - حمض البنزويك. ويبين الرسم البياني على اليسار النتائج التي توصلوا إليها.

التفكير الناقد

1. اشرح اختلاف أزمنة البقاء في المحلول البيئية على الكروماتوجرام.
2. استند من الرسم البياني هل المادة التي كميتها كبيرة هي حمض البنزويك أم الفينول. اشرح إجابتك.
3. استند أي المكونات في المخلوط لها جزيئات ذات قطبية أعلى.
4. حدّد تركيب الطور المتحرك الأكثر كفاءة (من تلك التركيبات التي تم اختيارها) لفصل الفينول عن حمض البنزويك. اشرح إجابتك.

التنوع الثقافي

البحث الطبيّ تمّ توثيق استخدام العلاج بالأعشاب في الصين على مدار 2500 عام ويبحث العلماء الغربيون وشركات الصيدلة عن مركبات تساهمية موجودة في هذه العلاجات كمصادر للأدوية المحتملة لعلاج السرطان والأيدز. وقد جمع معهد السرطان القومي البيانات التي تصنف التأثيرات الطبية للأعشاب الصينية. وفي عام 1992، أنشأ معهد السرطان القومي مزارع للنبات البديل لتقييم مجموعة العلاجات الطبية، بما في ذلك خمس علاجات متعلقة بطب الأعشاب الصينية. وقد شكلت شركات صيدلة أمريكية متعددة على مرّ العامين الباضين لتقديم الأدوية من المزارع الصينية.

3. قيم

راجع فهمهم

اطلب من الطلاب مقارنة خصائص المواد الصلبة الأيونية بالمواد الصلبة التساهمية والشبكية. **OL**

إعادة التدريس

اطلب من الطلاب عمل رسم بياني ومناقشة خصائص المواد الصلبة الأيونية والمعدنية والتساهمية والشبكية. أشر إلى أن نقطة الذوبان العالية هي نتيجة لجذب ثلاثي الأبعاد للذرة أو الأيون للإلكترونات. ويحدث هذا في المواد الصلبة الشبكية ومعدنية وأيونية. ويتم الاحتفاظ بالمواد الصلبة التساهمية مع من خلال الجذب بين الجزيئات، كما لديها نقاط ذوبان أقل. **OL**

امتداد

اطلب من الطلاب دراسة الروابط بين الجزيئات. على الطلاب استخدام الرسومات لتمثيل كل نوع من قوة فان دير فال، وتقديم مثال. اعرض عمل الطلاب. **OL**

ASSESSMENT

معلومة اكتب عدة صيغ كيميائية على اللوح. اجعل الطلاب يتنبئون بالخصائص الفيزيائية العامة لكل مركب بناءً على رابطته. **OL**



■ صورة 25 عادة ما تستخدم المواد الصلبة الشبكية أدوات للقطع بسبب صلابتها الشديدة. تين الصورة شفرة مشمار مغلقة بالألماس لقطع الحجر.

التوصيل والخواص تُعزى خواص المركبات الجزيئية التساهمية إلى القوى بين الجزيئية الضعيفة نسبياً التي تربط الجزيئات معاً. ولأن هذه القوى ضعيفة، تكون درجات انصهار المواد الجزيئية وغالباً ما منخفضة نسبياً مقارنة بالمواد الأيونية، وهذا يفسر سبب انصهار السكر بالتسخين المعتدل، في حين لا يتصهر الملح.

كما تُنشر القوى بين الجزيئية سبب وجود الكثير من المواد الجزيئية في الحالة الغازية أو سرعة تبخرها عند درجة حرارة الغرفة. ومن أمثلة المركبات التساهمية التي تكون في الحالة الغازية عند درجة حرارة الغرفة الأكسجين (O_2) وثنائي أكسيد الكربون (CO_2) وكبريتيد الهيدروجين (H_2S)، ولأن صلابته المواد تعتمد على القوى بين الجزيئية، يكون الكثير من الجزيئات التساهمية ليماً نسبياً في حالة الصلابة. يُعد البرافين المستعمل في الشمع ومنتجات أخرى مثلاً شائعاً للمواد الصلبة التساهمية. تترتب الجزيئات في الحالة الصلبة لتكوّن شبكة بلورية، وتكون هذه الشبكة الجزيئية شبيهة بالشبكة الأيونية الصلبة، إلا أن قوى الجذب بين جسيماتها أضعف. ويتأثر بناء الشبكة بشكل الجزيء ونوع القوة بين الجزيئية، كما تم تحديد معظم المعلومات عن الجزيئات من خلال دراسة المواد الصلبة الجزيئية.

المواد الصلبة التساهمية الشبكية

هناك بعض المواد الصلبة، غالباً ما تُسمى بالمواد الصلبة التساهمية الشبكية، ترتبط ذراتها بشبكة من الروابط التساهمية. ومن الأمثلة الشائعة على هذه المواد الألماس والكوارتز. مقارنة بالمواد الصلبة الجزيئية، تكون المواد الصلبة الشبكية هشّة وغير موصلة للحرارة والكهرباء وبشدة الصلابة، ويتبرح تحليل بناء الألماس بعض خواصها. ففي الألماس، ترتبط كل ذرة كربون بأربع ذرات كربون أخرى، وهذا الترتيب الرباعي الأوجه المنتظم في الصورة 25، يُشكّل نظاماً بلورياً شديد الترابط له درجة انصهار عالية جداً.

القسم 5 مراجعة

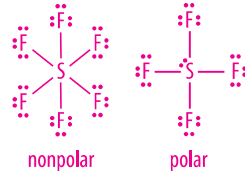
ملخص القسم

- يحدد فرق الكهرسالية خواص الرابطة بين الذرات.
- تتكون الروابط القطبية عندما لا تكون الإلكترونات موزعة بالتساوي لتكوين ثنائي القطب.
- يحدد الترتيب المكاني للروابط القطبية في الجزيء قطبية الجزيء.
- تجذب الجزيئات بعضها بعضاً بقوى ضعيفة، أما في المادة الصلبة التساهمية الشبكية، ترتبط كل ذرة بذرات أخرى بروابط تساهمية.

68. فقرة أساسية لخص كيف يؤثر فرق الكهرسالية في خواص الرابطة.
69. صف الرابطة التساهمية الخطية.
70. صف الجزيء القطبي.
71. اذكر ثلاثاً من خواص المركبات التساهمية في الحالة الصلبة.
72. صف أنواع الروابط مستخدماً الفرق في الكهرسالية.
73. عمّم صف الخواص العامة للمواد الصلبة التساهمية الشبكية.
74. توفّر نوع الرابطة التي ستتكوّن بين أزواج الذرات الآتية:
a. S و H
b. H و C
c. S و Na
75. حدّد ما إذا كان كل جزيء من هذه الجزيئات قطبياً أم غير قطبي، CF_4 و CS_2 .
76. حدّد ما إذا كان المركب يتكون من الهيدروجين والكربون قطبياً أم غير قطبي.
77. ادرج تركيب لويس لكل من الجزيئين SF_6 و SF_4 . حدّد كل تركيب لتحديد هل الجزيء قطبي أم غير قطبي.

القسم الخامس المراجعة

75. $SiCl_4$ قطبية، CS_2 غير قطبية، CF_4 غير قطبية
76. قطبية لأنها غير متماثلة
- 77.



68. كلما كان اختلاف الكهربية السالبة أكبر، كانت الطبيعة الأيونية للرابطة أكبر.
69. تتميز الرابطة التساهمية القطبية بالمشاركة غير المتساوية للإلكترونات. يتم جذب الإلكترونات نحو واحدة من الذرات، مولدة شحنات جزئية في النهاية.
70. ولديها كثافة أكبر من الإلكترونات من جانب واحد من الجزيء.
71. الحالة الصلبة للجزيء بلورية، والمادة الصلبة للجزيء غير موصلة وقاسية ولديها نقطة ذوبان منخفضة.
72. إذ كانت الاختلافات صفر، تعتبر لرابطة تساهمية غير قطبية، وإذا كانت بين 1.7 و 0.4 تكون تساهمية قطبية، أما إذا كانت أعلى من 1.7 فإنها أيونية.
73. جافة وغير موصلة للحرارة والكهرباء وقاسية جداً.
74. أشاركية على الأغلب. تساهمية على الأغلب. تساهمية قطبية

Program: UAE Project Bridge	Component: Science TE General	PDF Pass
Vendor: MPS Limited	Grade: 10	

أقدام لزجة: كيف تلتصق أقدام الجيكو بالجدران "Geckos Grip"

بالنسبة لبرص الجيكو، فإن التعلق بالجدران أو بالأسقف لا يمثل عملاً بطولياً خارقاً بالنسبة له، فالسر في قدرة برص الجيكو المذهلة على الالتصاق بالأسطح تكمن في أصابع رجليه. قرر الباحثون أن قبضة برص الجيكو تعتمد على قوة التصاق الذرات

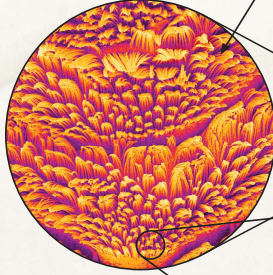


1 أصبع قدم برص

الجيكو قاعدة أصبع قدم برص الجيكو مغطاة بملايين الشعيرات الدقيقة، تسمى كل منها خُنبَة "seta"، وتكون مرتبة في صفوف.

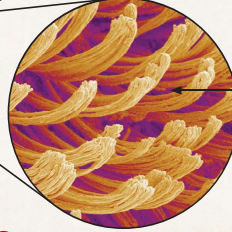


2 خُنبَة الشعر "Setae" خُلب الشعر عبارة عن نبت ميكانيكية معقدة، ويوجد في نهاية كل خُنبَة ترتيبات بالغة دقة تسمى كل منها بلونق.



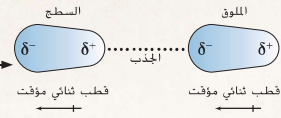
3 البلونق "Spatulae"

يوجد بكل خُنبَة مساحة سطح هائلة نسبياً نظراً لما بها ملاونق بأعداد هائلة.




4 الالتصاق

الالتصاق تتكون قوى فان دير فال Van der Waals بين السطح وبين الملاونق الموجودة على سطح قدم البرص. وعند ضربها في تلك المساحة الهائلة لسطح البلونق، فإن حاصل ضرب قوى فان دير فال Van der Waals الضميمة يكون أكثر مما يكفي لموازنة حركة جذب الجاذبية الأرضية وتثبتت برص الجيكو في مكانه الذي يلتصق به.



الكتابة في الكيمياء

الاحتراع يعكف العلماء حالياً، مستخدمين ما لديهم من معرفة حول طريقة التصاق أقدام الجيكو بالأسطح، على تطوير تطبيقات لمواد تشبه برص الجيكو، من بين التطبيقات الممكنة أجهزة الإنسان الآلي الصغيرة (ميتي روبوت) التي تتسلق الحوائط، والأشرطة اللاصقة التي يمكن لصقها حتى تحت الماء، ما هي الاستخدامات التي يمكنك التفكير فيها للمادة اللاصقة الشبيهة ببرص الجيكو؟



5 الانطلاق

بكل بساطة يلتصق أصابع قدمه عندما يريد أن يتحرك، حيث يظل هذا من مقدار ملاصقة السطح وكذلك قوى فان دير فال Van der Waals، ويحدد الجيكو قبضته الانصافية.

الغرض

سيتعلم الطلاب كيفية تقديم قوات فان دير فالس قوة اللصق لأصابع السحالي.

معلومات عامة

تبدو أصابع السحالي مثل أقماغ الشحط. ولكنها لا تعمل بهذه الطريقة، أستبعدت أقماغ الشحط من أن تكون تفسيراً لكيفية تمسكها بالأسطح عن طريق اختيار أقدام السحالي في الفراغ، كما أستبعدت أفكار أخرى، مثل التماسك الثابت أو الجذب القائم على المياه، بالتجربة.

استراتيجيات التعليم

- يحتوي المخطط البياني على خمس كتل نصية مُرقمة تشرح مصدر طاقة الالتصاق الهائلة للسحالي.
- يظهر رقم 1 تكبير لأصابع السحالي، مما يظهر وجود صفوف تحتوي على مئات الآلاف من شعر صغير أو أشواك.
- يشرح رقم 2 و 3 كيفية تفرغ الأشواك إلى هياكل أصغر تسمى ملونق. تعد الزاوية التي فيها تقابل الأشواك السطح عاملاً هاماً في تحديد قوة المسك.
- يشرح رقم 4 كيفية عمل اتساع المساحة السطحية وقوى فان دير فالس لإنشاء قوة إمساك عظيمة. قوات فان دير فالس عبارة عن قوة بين جزيئية، بمعنى، أنها تعمل بين الجزيئات.
- يوضح رقم 5 كيفية إطلاق السحالي بواسطة تجاعيد أصابعها. يقلل تجعيد الأصابع عدد الأشواك، مما يجعل الاتصال بالسطح عند زاوية مثالية. وهذا يؤدي إلى تناقص قوات فان دير فالس وانخفاض قوة الإمساك.

الكتابة في الكيمياء

اختراع بعض التطبيقات الأخرى التي جرت مناقشتها تشمل ضمامات لاصقة أقل إيلافاً، ومعدات فعاازات التحكم الرياضية، وأدوات لزجة لجراحة النونو

مختبر الكيمياء

أشكال الجسم الجزيئية



التحليل والنتائج

1. التفكير النقدي بناء على المجسمات الجزيئية التي قمت ببنائها ولاحظتها في هذا المختبر. صنف الروابط الأحادية والثنائية والثلاثية بترتيب زيادة الروبوطة وزيادة القوة.
2. لاحظ واسدال اشرح سبب اختلاف أشكال جزيئات H_2O و CO_2 .
3. التحليل والنتائج يخضع أحد الجزيئات من هذا المختبر للرنين. حدد الجزيء الذي يكون به ثلاثة هياكل رنينية. وارسم الهياكل. وشرح سبب حدوث الرنين.
4. تذكر السبب والنتيجة استخدم فرق السالبية الكهربائية لتحديد قطبية الجزيئات في الخطوات 11 - 9. بناء على قطبيات الروابط التي تم حسابها والمجسمات التي تم إنشاؤها في المختبر. حدد القطبية الجزيئية لكل هيكل.

توسيع نطاق الاستفسارات

مجسم استخدام طقم مجسم الجزيئات لبناء هيكل الرنين للأوزون (O_3). ثم استخدم هياكل لويس لتشرح الطريقة التي يمكنك بها التحول بين هيكل الرنين عن طريق مبادلة زوج مفرد برابطة تساهمية.

نبذة مختصرة: تحدث الرابطة التساهمية عندما تشارك الذرات في إلكترونات التكافؤ. في نظرية فيسبر (VSEPR) لتناظر أزواج الإلكترونات في مستوى التكافؤ. فإن الطريقة التي تتوضع بها إلكترونات التكافؤ لذرات الترابط التساهمي هي الأساس للتنبؤ بشكل الجزيئي. كما تعتمد هذه الطريقة لتصور الشكل على تركيب لويس الخاص بالجزيء.

السؤال: كيف يؤثر التركيب الهيكلي للويز ومواقع إلكترونات التكافؤ على شكل المركب التساهمي؟

المواد

طقم مجسم الجزيئات



احتياطات السلامة

الخطوات الإجرائية

1. قم بتحديد المخاوف المتعلقة بالسلامة الخاصة بهذا المختبر قبل البدء في العمل.
2. أنشئ جدولاً لتسجيل بياناتك.
3. لاحظ وسجل اللون المستخدم لتمثيل كل من الذرات الآتية في طقم مجسم الجزيئات: الهيدروجين (H)، والأكسجين (O)، والفسفور (P)، والكربون (C)، والفلور (F)، والكبريت (S)، والنتروجين (N).
4. ارسم التراكيب الهيكلية للويز لجزيئات H_2 و O_2 و N_2 .
5. احصل على ذرتي هيدروجين و رابط واحد من طقم مجسم الجزيئات. وقم بتجميع جزيء هيدروجين (H_2). لاحظ أن مجسمك يمثل جزيء هيدروجين ثنائي الذرة أحادي الرابطة.
6. احصل على ذرتي أكسجين و رابطين اثنين من طقم مجسم الجزيئات. وقم بتجميع جزيء أكسجين (O_2). لاحظ أن مجسمك يمثل جزيء أكسجين ثنائي الذرة ثنائي الرابطة.
7. احصل على ذرتي نتروجين وثلاث روابط من طقم مجسم الجزيئات. وقم بتجميع جزيء نتروجين (N_2). لاحظ أن مجسمك يمثل جزيء نتروجين ثنائي الذرة ثلاثي الرابطة.
8. تذكر أن الجزيئات ثنائية الذرة مثل تلك التي تتكون في هذا العمل تكون دائماً خطية. تتكون الجزيئات ثنائية الذرة من ذرتين فقط ولا يمكن ربط سوى نقطتين (ذرتين) فقط بواسطة خط مستقيم.
9. ارسم التراكيب الهيكلية للويز (H_2O). وقم بإنشاء الجزيء الخاص به.
10. صنف شكل جزيء H_2O مستخدماً المعلومات في الجدول 6.
11. كرر الخطوات 9 و 10 من جزيئات H_2 و CF_4 و CO_2 و SO_3 و HCN و CO .

حقوق الطبع والنشر © مجموعة المناهج التعليمية McGraw-Hill Education

134 الوحدة 4 • الرابطة التساهمية

مختبر الكيمياء

الإعداد

تخصيص الوقت فترة الصف الواحد

مهارات العملية تطبيق المفاهيم ومقارنة النماذج و تباينها و صياغتها

احتياطات السلامة ناقش تدابير السلامة قبل بدء العمل. لهذه التجربة قبل بدء العمل.

الإجراء

- اعرض بوضوح مفتاح رمز اللون المستخدم لتحديد ذرات كل عنصر.
- راجع أمثلة الخواص الهندسية الجزيئية في الجدول رقم 6 مع الطلاب قبل بداية التجربة، أو اطلب منهم مراجعة الجدول بأنفسهم قبل بداية.

التحليل والاستنتاج

1. زيادة الروبوطة: ثلاثة أضعاف، ضعفين ، ضعف ؛ زيادة القوة: ضعف ، ضعفين ، ثلاثة أضعاف
2. الـ H_2O جزيء لديه رابطتين وزوجين مفردين حول الذرة المركزية تأخذ الأزواج المفردة مساحة حول الذرة المركزية و تنفر إلكترونات الرابطة، مما يسبب الشكل المنحني. يحتوي الجزيء CO_2 على روابط ثنائية ولا يحتوي على أزواج فردية. تتناظر إلكترونات الرابطة لتكوين الشكل الخطي، والذي يزيد المسافة بين كثافة الإلكترونات.
3. SO_3 جزيء يظهر الرنين. يضم 5 ذرة مركزية وثلاث ذرات O طرفية. تشكل واحدة من ذرات O الطرفية رابطة مزدوجة. يوجد ثلاثة تركيبات رنين. واحد لكل موقع ممكن للرابطة المزدوجة.
4. الجزيئات التالية قطبية: H_2O ، PH_3 ، NCH_3 ، and CO لاقطبيين.

تبسيط السؤال

يجب على الطلاب تجميع نموذجين. يحتوي كل منهما ذرة أكسجين مركزية منضمة إلى اثنين من ذرات الأكسجين الطرفية. ترتبط ذرة واحدة طرفية برابطة أحادية. والآخرى برابطة ثنائية. يحدد موقع هاتين الرابطتين تركيب الرنين. يجب أن تظهر تركيبات لويس أنه يمكنك التبديل بين تركيب الرنين من خلال تبادل موضع الزوج الفردي والرابطة التساهمية.



134 الفصل الثامن / الرابطة التساهمية

التقسيم 1 الرابط التساهمي

المفردات

- رابطة تساهمية
- الجزيء
- بنية لويس
- رابطة سيجما
- رابطة باي π
- تفاعل فان دير فالس
- تفاعل طاقة الحرارة

فكرة أساسية تكسب الذرات الاستقرار عندما تشارك في الإلكترونات وتكوّن رابطة تساهمية.

- تتكون الروابط التساهمية عندما تشارك الذرات في زوج أو أكثر من الإلكترونات.
- مشاركة زوج واحد من الإلكترونات وزوجين وثلاثة أزواج تتكوّن روابط تساهمية أحادية وثلاثية وثنائية. على التوالي.
- تتداخل الأتلاك تداخلاً مباشراً في الروابط سيجما. تتداخل الأتلاك المتوازية في روابط باي π . الرابطة التساهمية الأحادية عبارة عن رابطة سيجما، ولكن الروابط التساهمية المتعددة تتكون من روابط سيجما وروابط باي.
- يقاس طول الرابطة من النواة إلى النواة، يلزم وجود طاقة تفكك الروابط لكسر الرابطة التساهمية.

التقسيم 2 تسمية الجزيئات

المفردات

- النقص الإلكتروني

فكرة أساسية تُستخدم قواعد معينة عند تسمية المركبات الجزيئية الثنائية والأحماض الثنائية والأحماض الأوكسجينية.

- تشمل أسماء المركبات الجزيئية التساهمية بادئات تمثل رقم كل ذرة موجودة في المركبات. يحذف الحرف الأخير من البادئة إذا كان اسم العنصر يبدأ بحرف متحرك.
- الجزيئات التي تُنتج H^+ عند الذوبان فهي تكون أحماضاً. تحتوي الأحماض الثنائية على الهيدروجين مع عنصر واحد آخر. تحتوي الأحماض الأوكسجينية على الهيدروجين والأكسجين.

التقسيم 3 بُنى الجزيئات

المفردات

- الصيغة البنائية
- الرنين
- رابطة تساهمية تناسفية

فكرة أساسية تُظهر الصيغ البنائية للمواضع النسبية للذرات داخل الجزيء.

- يمكن استخدام نماذج مختلفة لتمثيل الجزيئات.
- يحدث الرنين عند وجود أكثر من بُنى صحيح من بُنى لويس لنفس الجزيء.
- هناك استثناءات لقاعدة الثمانيات في بعض الجزيئات.

التقسيم 4 أشكال الجزيئات

المفردات

- نموذج فيسبر
- التهجين

فكرة أساسية يُستخدم نموذج فيسبر (VSEPR) لتحديد الشكل الجزيئي.

- تنص نظرية نموذج فيسبر (VSEPR) على أن أزواج الإلكترونات تتنافر مع بعضها البعض، وتحدد كلاً من شكل الجزيء وزوايا الروابط في الجزيء.
- يشرح التهجين الأشكال التي نبت ملاحظتها للجزيئات عن طريق وجود أفلاك مهجنة متكافئة.

التقسيم 5 السالبية الكهربية والقوية

المفردات

- رابطة تساهمية قطبية

فكرة أساسية تتصل نوعية الرابطة الكيميائية بعملية جذب كل ذرة من الذرات للإلكترونات الموجودة في الرابطة.

- الاختلاف في السالبية الكهربية يحدد نوعية الرابطة بين الذرات.
- تحدث الروابط القطبية في حالة عدم مشاركة الإلكترونات بالتساوي بحيث تشكل قطب ثنائي.
- يحدد الترتيب الكاتي للروابط القطبية في الجزيء القطبية الكلية لذلك الجزيء.
- تجذب الجزيئات بعضها البعض بواسطة قوى ضعيفة فيما بين الجزيئات. في مجسم شبكي تساهمي، ترتبط كل ذرة برابطة تساهمية مع الكثير من الذرات الأخرى.

الوحدة 4 التقييم

الفصل 8 التقييم

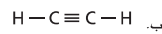
القسم 1

إجادة المفاهيم

78. ما هي قاعدة الثمانية، وكيف تستخدم في الرابطة التساهمية؟
79. صف تكوين الرابطة التساهمية
80. صف الربط في الجزيئات.
81. صف القوة، سواء الجاذبة والطاردة، التي تحدث عندما تتحرك ذرتان قريباً من بعضهما.
82. كيف يمكنك التنبؤ بوجود رابطة سيعما أو رابطة باي في الجزيء؟

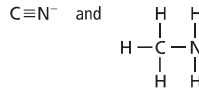
الإلمام بالمشكلات

83. اذكر عدد إلكترونات التكافؤ في العناصر N و As و Br و Se. تنبأ بعدد الروابط التساهمية المطلوبة لكل عنصر من هذه العناصر لتحقيق قاعدة الثمانية.
84. حدد مكان روابط سيعما وباي في كل جزيء من الجزيئات الموضحة أدناه.



85. في الجزيئات CO و CO₂ و CH₂O، أي رابطة C=O هي الأقصر؟ أي رابطة C-O هي الأكثر قوة؟

86. تأمل روابط الكربون - النيتروجين الموضحة أدناه،



- في رابطة أقصر؟ أي رابطة أقوى؟

87. رتب كل جزيء من الجزيئات أدناه وفقاً لطول رابطة الكبريت - الأكسجين الأقصر إلى الأطول.
أ. SO₂ ب. SO₃²⁻ ج. SO₄²⁻

القسم 2

إجادة المفاهيم

88. اشرح طريقة تسمية المركبات الجزيئية.
89. متى تتم تسمية مركب جزيئي كحمض؟
90. اشرح الفرق بين سداسي فلوريد الكبريت ورباعي فلوريد ثنائي الكبريت.
91. الساعات، بلورات الكوارتز المستخدمة في الساعات مصنوعة من ثاني أكسيد السيليكون. اشرح كيف تستخدم الاسم لتحديد الصيغة الخاصة بثاني أكسيد السيليكون.

الإلمام بالمشكلات

92. أكمل الجدول 8.

الاسم	الصيغة
	HClO ₂
	H ₃ PO ₄
	H ₂ Se
	HClO ₃

93. اذكر اسم كل جزيء.

- أ. NF₃ ج. SO₃
ب. NO د. SiF₄

94. اذكر اسم كل جزيء.

- أ. SeO₂ ج. N₂F₄
ب. SeO₃ د. Si₄N₄

95. اكتب الصيغة الخاصة بكل جزيء.

- أ. ثنائي فلوريد الكبريت ج. رباعي فلوريد الكربون
ب. رباعي كلوريد السيليكون د. حمض الكبريتيك

96. اكتب الصيغة الخاصة بكل جزيء.

- أ. ثاني أكسيد السيليكون ج. ثلاثي فلوريد الكلور
ب. حمض البروموز د. حمض الهيدروبروميك

القسم 3

إجادة المفاهيم

97. ما الذي يجب عليك معرفته لكي ترسم بنية لويس لجزيء ما؟
98. عامل التعليم يدرس علماء المادة خواص اللدائن البوليمرية المطعمة بعنصر AsF₅. اشرح السبب وراء كون AsF₅ استثناءً من قاعدة الثمانية.
99. العامل المختزل يستخدم ثلاثي هيدريد البورون (BH₃) في كعامل مختزل في الكيمياء العضوية. اشرح السبب وراء تكوين BH₃ لروابط تساهمية ثنائية مع جزيئات أخرى في الغالب.
100. يمكن للأنتيمون والكلور تكوين ثلاثي كلوريد الأنتيمون أو خامس كلوريد الأنتيمون. اشرح كيف يمكن لهذين العنصرين تكوين مركبين مختلفين.

الإلمام بالمشكلات

101. ارسم ثلاث رنين لويس متعدد الذرات CO₃²⁻.
102. ارسم بنية لويس لهذه الجزيئات، وكل منها له ذرة مركزية لا تتبع قاعدة الثمانية.

- أ. PCl₅ ج. ClF₃
ب. BF₃ د. BeH₂

القسم الأول

إتقان المفاهيم

78. تصعد الذرات الإلكترونية أو تكتسبها أو تشاركها للوصول إلى مجموعة الثماني. وتحدث الرابطة التساهمية عندما تشارك الذرات الإلكترونية للوصول إلى مجموعة الثمانية.
79. تجذب نواة الذرة الواحدة إلكترونات الذرة الأخرى. وتشارك في زوج أو أكثر من الإلكترونات.
80. تترابط الجزيئات تساهمياً.
81. ويوجد وصول الذرات تزداد قوة شبكة الجذب، وتكبر إجمالي قوة الجذب في مسافة مثل معينة بين الذرات. إذا تحركت الذرات إلى مسافة أقرب من المسافة المثلى تتجاوز القوة الطاردة القوة الجاذبة.
82. رابطة تساهمية أحادية؛ رابطة سيعما؛ رابطة سيعما، ورابطة باي، رابطة ثلاثية. ورابطة سيعما، ورابطتين باي.

التحكم بالمشكلات.

83. N: 5, 3, As: 5, 3, Br: 7, 1, Se: 6, 2
a. الروابط الأحادية؛ روابط سيعما؛ رابطة مزدوجة؛ رابطة سيعما واحدة ورابطة باي واحدة
b. الروابط الأحادية؛ روابط سيعما؛ رابطة ثلاثية؛ رابطة سيعما واحدة ورابطتين باي
85. الرابطة الثلاثية في CO، هي الأقصر والأقوى.
86. الرابطة الثلاثية في C≡N⁻ أقصر وأقوى.
87. أ. ج. د

القسم الثاني

إتقان المفاهيم

88. يجب أن تتطابق الإجابات مع الشكل 12.
89. عندما تطلق H⁺ في محلول الماء
90. سادس فلوريد الكبريت. تتحد ذرة واحدة من S، مع 6 ذرات من F، تتحد ذرتان من S، مع 4 ذرات من F. في سادس فلوريد الكبريت.
91. الاسم سيليكون يشير إلى ذرة واحدة من Si البادئة داي- تعني اثنين و أكسيد تشير إلى الأكسجين المتعادلة الصحيح هي SiO₂.

إتقان حل المشاكل

92. HClO₂: حمض الكلوروز؛ H₃PO₄: الحمض الفسفوري؛ H₂Se: حمض السيلينيوم؛ HClO₃: حمض الكلوريك
93. a. نيتروجين ثلاثي الفلور b. أول أكسيد النيتروجين c. ثلاثي أكسيد الكبريت d. سادس فلوريد السيليكون
94. a. ثاني أكسيد السيلينيوم b. ثالث أكسيد السيلينيوم

136 الفصل الثامن • الرابطة التساهمية

136 الوحدة 4 • الرابطة التساهمية

100. يمتلك الأنتيمون خمسة إلكترونات تكافؤ، زوجاً واحداً. وثلاثة مواقع حيث يمكنها مشاركة إلكترون واحد مع ذرة الكلور. سينتج عن ذلك SbCl₃. يُمكن أن يُمدد الأنتيمون مجموعته الثامنة ورباطته بكل إلكترونات التكافؤ الخمسة لتكوين SbCl₅.

إتقان حل المشاكل

101. ارجع إلى كتيب الحلول للمخططات.
102. ارجع إلى كتيب الحلول للمخططات.

- c. سادس فلوريد ثنائي الهيدروجين

- d. ثلاثي نتريد ثلاثي الكبريت

- a. SF₂ b. SiCl₄ c. CF₄ d. H₂SO₃

- a. SiO₂ b. HBrO₂ c. ClF₃ d. HBr

قسم 3

إتقان المفاهيم

97. عدد إلكترونات التكافؤ لكل ذرة.
98. يمتلك الزرنيخ خمس أماكن للروابط، بإجمالي 10 إلكترونات مشاركة. وهذا عدد يفوق الإلكترونات الثمانية التي تحتل وضع الثمانية.
99. BH₃ ت ل. سوف تشارك زوجاً واحداً مع نواة أخرى لتكوين ترتيب الإلكترون.

103. ارسم بُنية رنين للأيون متعدد الذرات HCO_2^-

104. ارسم بُنية لويس لجزيء لكل من هذه المركبات والأيونات.

أ. H_2S ج. SO_2

ب. BF_3 د. SeCl_2

105. ما هي العناصر في القائمة أدناه الفادرة على تكوين جزيئات التي يكون في أي من ذرات ثنائي منسند؟ اشرح إجابتك.

أ. O

ب. Se

ج. P

القسم 4

إجادة المفاهيم

106. ما هو أساس نموذج فيسبر VSEPR؟

107. ما هو أقصى عدد من الأفلاك المهجنة يمكن أن تكونها ذرة الكربون؟

108. ما هو الشكل الجزيئي لكل جزيء؟ قُدِّر زاوية الرابطة لكل جزيء. على فرض عدم وجود زوج مفرد.

أ. $\text{A}-\text{B}$

ب. $\text{A}-\text{B}-\text{A}$

ج. $\begin{array}{c} \text{A}-\text{B}-\text{A} \\ | \\ \text{A} \end{array}$

د. $\begin{array}{c} \text{A} \\ | \\ \text{A}-\text{B}-\text{A} \\ | \\ \text{A} \end{array}$

109. يُستخدم المركب الأم PCl_5 كمركب أم لتكوين عدة مركبات أخرى. اشرح نظرية التهجين وحدد عدد الأفلاك المهجنة الموجودة في جزيء PCl_5 .

الإلمام بالمشكلات

110. أكمل الجدول 9 عن طريق تحديد التهجين المتوقع في الذرة المركزية. قد تجد رسم بنية لويس ذات نفع وفائدة لك في ذلك.

العدد 9. اتمر التهنية	الصيغة	التهنك المهجن	بنية لويس
	XeF_4		
	TeF_4		
	KrF_2		
	OF_2		

111. نبأ بالشكل الجزيئي لكل جزيء.

أ. COS ب. CF_2Cl_2

112. لكل جزيء مذكور أدناه، نبأ بشكله الجزيئي وزاوية الرابطة. وحدد الأفلاك المهجنة، رسم بنية لويس قد يساعدك.

أ. SCl_2 ج. HOF

ب. NH_2Cl د. BF_3

القسم 5

إجادة المفاهيم

113. صف أمياط السالينية الكبريتية في الجدول الدوري.

114. اشرح الفرق بين الجزيئات الغير قطبية، والجزيئات القطبية.

115. قارن موضع إلكترونات الربط في رابطة تساهمية قطبية مع تلك في رابطة تساهمية غير قطبية. اشرح إجابتك.

116. ما هو الفرق بين الجسم الجزيئي التساهمي والجسم الشكلي التساهمي؟ هل تختلف خواصها الجزيئية؟ اشرح إجابتك.

الإلمام بالمشكلات

117. في كل زوج مما يلي، أشر إلى الرابطة الأكثر قطبية عن طريق وضع دائرة على النهاية السالبة لتعطيها الثاني.

أ. $\text{C}-\text{O}$ و $\text{C}-\text{S}$

ب. $\text{C}-\text{N}$ و $\text{C}-\text{F}$

ج. $\text{P}-\text{H}$ و $\text{P}-\text{Cl}$

118. لكل رابطة من الروابط المذكورة أدناه، اذكر الذرة المشحونة بشحنة أكثر سالبية.

أ. $\text{C}-\text{H}$ ج. $\text{C}-\text{S}$

ب. $\text{C}-\text{N}$ د. $\text{C}-\text{O}$

119. نبأ بالرابطة الأكثر قطبية.

أ. $\text{C}-\text{O}$ ج. $\text{C}-\text{Cl}$

ب. $\text{Si}-\text{O}$ د. $\text{C}-\text{Br}$

120. رتب الروابط طبقاً للزيادة في القطبية.

أ. $\text{C}-\text{H}$ د. $\text{O}-\text{H}$

ب. $\text{N}-\text{H}$ هـ. $\text{Cl}-\text{H}$

ج. $\text{Si}-\text{H}$

121. الهيدريد المبرد المعروف باسم الخرون 14، هو مركب مثلث للأوزون وصيغته الكيميائية CF_3 . لماذا يكون جزيء CF_3 غير قطبي حتى وإن احتوى على روابط قطبية.

122. حدد هل هذه الجزيئات والأيون قطبية. علّل إجابتك.

أ. H_3O^+ ج. H_2S

ب. PCl_5 د. CF_4

123. استخدم بُنية لويس لتنبؤ بالقطبية الجزيئية لثنائي فلوريد الكبريت، ورباعي فلوريد الكبريت، وسداسي فلوريد الكبريت.

إتقان حل المشاكل

103. ارجع إلى كتيب الحلول للمخططات.

104. ارجع إلى كتيب الحلول للمخططات.

105. P و Se. لأنهما المرحلة الثالثة، وأعلى.

ولديها d sublevel.

القسم الرابع

إتقان المفاهيم

106. الطبيعة لزوجي الإلكترون حول الذرة المركزية.

المركزية.

107. أربعة.

108. a. طولي، 180°

b. طولي، 180°

c. سطح ثلاثي، 120°

d. سطح رباعي، 109°

109. تشرح نظرية التهجين أشكال الجزيئات عن طريق تكوين مدارات هجينة متطابقة من المدارات الذرية للذرة داخل الجزيء؛ خمس مدارات sp^3d متطابقة.

إتقان حل المشاكل

110. XeF_4 , sp^3d^2 ; TeF_4 , sp^3d ; KrF_2 , sp^3d ؛ OF_2 , sp^3

111. a. خطي. b. رباعي السطوح

112. a. مائل، 104.5° , sp^3

b. هرمي ثلاثي الزوايا، 107° , sp^3

c. مائل، 104.5° , sp^3

b. هرمي ثلاثي الزوايا، 120° , sp^2

القسم الخامس

إتقان المفاهيم

113. تعمل على اليسار إلى اليمين في فترة، وتخفض الغمة إلى القاع في مجموعة.

114. يمتلك الجزيء غير القطبي توزيع متساوي للشحنة، بينما يمتلك الجزيء القطبي تركيزاً للإلكترونات في جانب واحد.

115. تكون الإلكترونات في الرابطة القطبية أكثر سالبة في الشحنة الكهربائية بسبب عدم التبادل غير المتساوي. أما تلك التي ليست في رابطة قطبية، فيتم مشاركتها بشكل متساوي.

116. وتعتبر جزيئات المواد الصلبة ذات الروابط التساهمية لينة، وتنتشر عند درجة حرارة منخفضة، بسبب القوى الضعيفة بين الجزيئات، وتمتلك المادة الصلبة ذات الشبكة التساهمية درجة انصهار عالية، وصلية جداً، بسبب قوة شبكة الروابط التساهمية.

122. a. عدم التناظر القطبي

b. التناظر غير القطبي

c. عدم التناظر القطبي

d. التناظر غير القطبي

123. SF_2 و SF_4 جزيئات غير متناظرة وقطبيين، SF_6 جزيء غير متناظر وغير قطبي.

إتقان حل المشاكل

117. تم تحديد ما يلي في دائرة.

a. O b. F c. Cl

118. a. C b. N c. S d. O

119. $\text{Si}-\text{O}$

120. من أجل زيادة القطبية، c, a, b, e, d

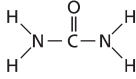
121. توزيع مساوي للشحنة في الجزيء المتناظر.

فكر بشكل ناقد

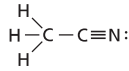
131. نظم صمم خريطة مفاهيم تشرح كيف ترتبط نظرية صودج فيسبر VSEPR ونظرية التهجين، والشكل الجزيئي ببعضها.
132. قارن وبين الفرق بين المركبين التساهمين المحددين بالأسماء أكسيد الزرنيخ (III) وثلاثي أكسيد ثنائي الزرنيخ.
133. أُنشئ واستخدم الجداول استخدم معرفتك بالروابط الأيونية والقطرية والتساهمية لتكامل الجدول 11.

الجدول 11 التماسك والروابط			
صلب	وصف الرابطة	صفة الصلب	مثال
			أيونية
			جزيئية تساهمية
			فلزية
			شبكة تساهمية

134. طبق البوريرا، والتي يظهر هيكلها أدناه، عبارة عن مركب يستخدم في صناعة اللدائن والأسمدة. حدد الروابط سيغما، وباي، والأزواج المفردة، في جزيء البوريرا.



135. حلل لكل خاصية من الخواص المذكورة أدناه، حدد قطبية جزيء به تلك الخاصية.
- أ. صلبة في درجة حرارة الغرفة
- ب. غازية في درجة حرارة الغرفة
- ج. تتجذب للتيار الكهربائي
136. طبق الصيغة البنائية للأستينوتريل، CH₃CN، تظهر أدناه.



- اختر بنية جزيء الأستينوتريل، حدد عدد ذرات الكربون في الجزيء، حدد التهجين الموجود في كل ذرة كربون، وشرح تفسيرك لذلك.

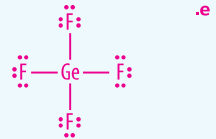
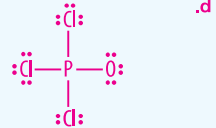
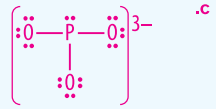
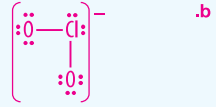
مراجعة مختلطة

124. اكتب الصيغة الخاصة بكل جزيء،
- أ. أول أكسيد الكلور
- ب. حمض الزرنيخ
- ج. خماسي كلوريد الفوسفور
- د. حمض الهيدروكلوريك
125. اذكر اسم كل جزيء،
- أ. PCl₃
- ب. Cl₂O₇
- ج. P₄O₆
- د. NO
126. ارسم بنية لويس لجزيء لكل جزيء، أو أيون.
- أ. SeF₂
- ب. ClO₂⁻
- ج. PO₃³⁻
- د. POCl₃
- هـ. GeF₄
127. حدد أي من الجزيئات قطبي، علّل إجاباتك.
- أ. CH₃Cl
- ب. ClF
- ج. NCl₃
- د. BF₃
- هـ. CS₂
128. رتب الروابط من الأدنى إلى الأكبر بالنسبة للخاصية الخطية.
- أ. C—O
- ب. Si—O
- ج. Ge—O
- د. C—Cl
- هـ. C—Br
129. وقود الصواريخ في الخمسينيات من القرن الماضي (1950)، استخدم تتفاعل الهيدرازين وثلاثي فلوريد الكلور (ClF₃) كوقود للصواريخ. ارسم بنية لويس للعنصر ClF₃ وحدد الأفلاك المهجنة.
130. أكمل الجدول 10، الذي يوضح عدد الإلكترونات المشاركة في الرابطة تساهمية مفردة، ورابطة تساهمية ثنائية، ورابطة تساهمية ثلاثية، حدد مجموعة الذرات التي ستكون كل من هذه الروابط.

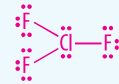
الجدول 10 الأرواح المشتركة		
نوع الرابطة	عدد الإلكترونات المشتركة	الذرات التي تكون الرابطة
تساهمي مفرد		
تساهمي ثنائي		
تساهمي ثلاثي		

مراجعة متنوعة

124. a. ClO . c. PCl₅
- b. H₃AsO₄ . d. H₂S
125. a. ثلاثي كلوريد الفسفور
- b. سباعي أكسيد الكلور
- c. سداسي أكسيد رباعي الفسفور
- b. أول أكسيد النيتروجين
- a. 126.



127. الجزيئات القطبية هي ClF، CH₃Cl، وNCl₃ لأن كل جزيء منها غير متناظر والشحنة غير موزعة بالتساوي.
128. حتى يتم إدراج رمز الرابطة من الأقل إلى الأكثر، e, d, a, c, b.
- 129.

sp³d

130. تساهمية أحادية: إلكترونين مشاركين، أي هالوجين، عنصر مجموعة 17. تساهمية ثنائية: 4 إلكترونات مشاركة، عناصر مجموعة 16. تساهمية ثلاثية: 6 إلكترونات مشاركة، عناصر مجموعة 15.

فكر تفكيراً انتقادياً

131. استغفر خرائط المفاهيم.
132. يوضح اسم الزرنيخ (الثلاثي) أن الزرنيخ له رقم أكسدة مكون من 3+ وأكسيد 2- المعادلة الصحيحة هي As₂O₃. يوضح اسم الزرنيخ الثاني أن هناك ذرتان من الزرنيخ وثلاث ذرات من الأكسجين، المعادلة الصحيحة

134. روابط سيغما هي الروابط بين N—H، C—N، وكذلك الروابط بين C—O، والرابطة الأخرى C=O هي رابطة باي. توجد الأزواج الجيدة في كل من ذرات N، وذرة O.
135. a. قطبي b. غير قطبي c. قطبي
136. ترتبط ذرة الكربون الأولى (مع ثلاثة من ذرات H، وذرة واحدة من C) الذرة تحتوي على sp³ مهجين لأن بها أربع مناطق للترابط. ترتبط ذرة الكربون الثانية (مع ذرة واحدة من C، وذرة واحدة من N) وهي ذات sp مهجين لأنها تحتوي على موضعين للترابط.

- هي As₂O₃. وعلى الرغم من كونها ذو تسميتين مختلفين، إلا أنهما يمثلان نفس الصيغة.
133. العمود الثاني: الجذب الكهربائي بين الأيون الموجب للأيون السالب، وتشارك الإلكترونات بين ذرتان، وجذب الأيون الموجب للإلكترونات غير المتمركزة، تترايط الذرات تساهمياً وتترايط مع عدد من الذرات الأخرى في الشبكة البلورية. العمود 3، صلب، قوي، جاف، بلوري، درجة إنصهاره عالية، عازل للكهرباء، في الحالة الصلبة؛ طري، ذو درجة انصهار منخفضة، وعازل للكهرباء في الحالة الصلبة؛ بلوري يوصل الحرارة والكهرباء وقابل للتطريق، مرن، وذو درجة انصهار عالية؛ بلوري وقوي وجاف وغير موصل، نماذج إجابة للمعمود 4. NaCl، CO₂، Ag diamond

مسألة تحدي

137. افحص طاقات تنكك الروابط بالنسبة للروابط المتعددة المذكورة في الجدول 12.

الرابطة	طاقة تنكك الروابط kJ/mol	الرابطة	طاقة تنكك الروابط kJ/mol
C—C	348	O—H	467
C=C	614	C—N	305
C≡C	839	O=O	498
N—N	163	C—H	416
N=N	418	C—O	358
N≡N	945	C—O	745

أ. ارسم تني لويس الصحيحة لكل من C_2H_2 و $HCOOH$.
ب. حدد مقدار الطاقة اللازمة لفصل كل جزيء من هذه الجزيئات.

مراجعة شاملة

138. الجدول 13 يذكر بيانات كتلة وحجم المسائل. أشتر شليل بياني خلطي لهذه البيانات حيث يكون الحجم على المحور X والكتلة على المحور Y. احسب ميل الخط، ما هي المعلومات التي يمنحها لك المنحنى؟

الحجم	الكتلة
4,1 مل	9,36 جرام
6,0 مل	14,04 جرام
8,0 مل	18,72 جرام
10,0 مل	23,40 جرام

139. اكتب الصيغة الكيميائية الصحيحة الخاصة بكل مركب.

- كربونات الكالسيوم
 - كلورات البوتاسيوم
 - أستات الفضة
 - كبريتات النحاس (II)
 - فوسفات الأمونيوم
140. اكتب الاسم الكيميائي الصحيح الخاص بكل مركب.
- NaI
 - $Fe(NO_3)_3$
 - $Sr(OH)_2$
 - $CoCl_2$
 - $Mg(BrO_3)_2$

الكتابة في الكيمياء

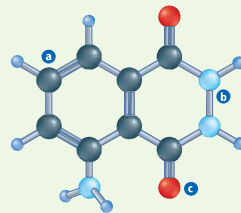
141. فاعف التحدّ ابحث في الفيلكول الإيثيلين لتعرف صيفه الكيميائية. اشرح كيف نجعله ينبت ماع تجمد. ومبرد. نافع ومفيد.

142. المنظفات اأخر منظف غسيل لتبحث فيه واكتب مقالة حول تركيبه الكيميائي. اشرح كيف يزيل المنظف الزيوت والشحوم من الأقمشة.

DBQ أسئلة مبنية على المستندات

اللومينول يستخدم محطو مسرح الجريمة في الغالب مركب اللومينول الضاهمي للعثور على الأدلة المرتبطة بالدم. التفاعل بين اللومينول، وبعض الكيماويات، والهيدروجين، وهو بروتين في الدم، ينتج الضوء. الشكل 26 يوضح نموذج الكرة والعضا الخاص باللومينول.

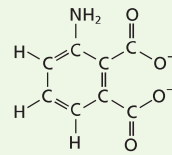
البيانات مأخوذة من: فليمنغ ديلا، 2002. اللسان الكيميائي للومينول، كيمياء لاشيم، الجمعية الملكية للكيمياء.



الشكل 26

143. حدد الصيغة الجزيئية للومينول وارسم بنية لويس الخاصة به.

144. أشتر إلى الجين الموجود في الذرات البرقبة a و b و c في الشكل 26.

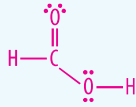


الشكل 27

145. عندما يتلامس اللومينول بأيون الحديد في الهيدروجين APA-Na، والياء، والنترجين، وطاقة الضوء. بالنظر إلى الصيغة البنائية لأيون APA في الشكل 27، اكتب الصيغة الكيميائية لأيون APA متعدد الذرات.

مسألة تحدي

137. a. $H-C \equiv C-H$.



b. $C_2H_2 = 1671 \text{ kJ/mol}$
 $HCOOH = 1986 \text{ kJ/mol}$

مراجعة تجريبية

138. 2.34 جرام/مول : كثافة.

a. $CaCO_3$

b. $KClO_3$

c. $Ag_2C_2H_3O_2$

d. $CuSO_4$

e. $(NH_4)_3PO_4$

a. بوديد الصوديوم

b. نترات الحديد (الثلاثي).

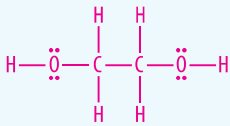
c. هيدروكسيد السترونيوم

d. كلوريد الكوبالت الثاني.

e. برومات الماغنسيوم

الكتابة في الكيمياء

141.



ستختلف الإجابات. قد يلاحظ الطلاب أن وجود مجموعات -OH، يجعل الإيثيلين جليكول غير قابل للامتزاج في الماء، والمساهمة في درجة غلايانها نسبياً، وانخفاض درجة تجمدها نسبياً.

142. يجب أن تَشتمل الإجابات على مناقشة حول النهاية غير العطوية لجزيء المنظف، والنهاية القطبية لنفس الجزيء. مما يسمح لها بجذب المياه والزيت.

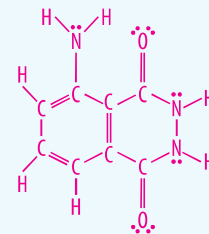
144. A, sp^2 ; B, sp^3 ; C, sp^2

145. $C_8H_5NO_4^{2-}$

DBQ أسئلة معتمدة على المستند

الحصول على البيانات من: فليمنغ ديلاين، 2002. نوحج اللومينول، صونج كيميائي، الجمعية الملكية للكيمياء.

143. $C_8H_7O_2N_3$



الاختبار من متعدد

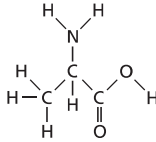
- D .1
- A .2
- B .3
- D .4
- B .5
- C .6
- D .7
- D .8
- A .9
- B .10

اختبار من متعدد

6. ذرة السيليبيوم المركزية في سادس فلوريد السيليبيوم تشكل ثنائي متعدد. كم عدد أزواج الإلكترونات التي تحيط ذرة السيليبيوم المركزية؟
- a. 4
 - b. 5
 - c. 6
 - d. 7
- استخدم الشكل أدناه للإجابة على السؤالين 7 و 8.

طاقة نمك الرابطة بـ 298 K			
الرابطة	kJ/mol	الرابطة	kJ/mol
C-Cl	242	N=N	945
C-C	345	O-H	467
C-H	416	C=O	358
C-N	305	C=O	745
H-I	299	O=O	498
H-N	391		

7. ما هو الغاز ثنائي الذرة الذي توجد به أقصر رابطة بين ذرتين؟
- a. HI
 - b. O₂
 - c. Cl₂
 - d. N₂
8. على وجه التفریب، ما هو مقدار الطاقة اللازم لكسر كل الروابط الموجودة في الجزيء أدناه؟

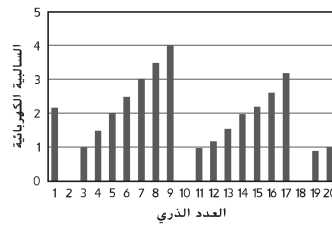


- a. 3024 kJ/mol
 - b. 4318 kJ/mol
 - c. 4621 kJ/mol
 - d. 5011 kJ/mol
9. ما هو المركب الذي ليس له شكل جزيئي منحنى؟
- a. BeH₂
 - b. H₂S
 - c. H₂O
 - d. SeH₂
10. ما هو المركب الغير الغلطي؟
- a. H₂S
 - b. CCl₄
 - c. SiH₃Cl
 - d. AsH₃

1. الاسم الشائع للعنصر SiI₄ هو سيلان رباعي البود (TETRAIODOSILANE). ما هو اسم المركب الجزيئي له؟
- a. رباعي يوديد السيلان "silane tetraiodide"
 - b. رباعي يود السيلان "silane tetraiodine"
 - c. يوديد السيليكون "silicon iodide"
 - d. رباعي يوديد السيليكون "silicon tetraiodide"

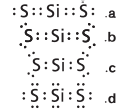
2. ما هو المركب الذي يحتوي على رابطة باي واحدة على الأقل؟
- a. CO₂
 - b. CHCl₃
 - c. AsI₃
 - d. BeF₂

استخدم الشكل أدناه للإجابة على السؤالين 3 و 4.



3. ما هي النسبة المئوية الكهربية للعنصر الذي يحمل العدد الذري 14؟
- a. 1.5
 - b. 1.8
 - c. 2.0
 - d. 2.2
4. أي زوج من العناصر الآتية سوف تتكون بينه رابطة أيونية؟
- a. العدد الذري 3 والعدد الذري 4.
 - b. العدد الذري 7 والعدد الذري 8.
 - c. العدد الذري 4 والعدد الذري 18.
 - d. العدد الذري 8 والعدد الذري 12.

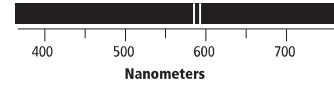
5. ما الذي يمثل بنية لويس لثنائي سلفيد السيليكون.



إجابة مختصرة

11. تحتوي الأحماض الأوكسجينية على الهيدروجين والأنيون الأوكسجيني. هناك حمضان أوكسجيتان مختلفان يحتويان على الهيدروجين والنروجين والأوكسجين. حدد هذين الحمضين الأوكسجيين. كيف يمكن تمييزهما على أساس أسمائهم وصيغهما التركيبية؟

استخدم طيف الانبعاث أدناه للإجابة على السؤالين 12 و 13.



12. قَدِّر طول الموجة للفوتونات التي تنبعث من هذا العنصر؟

13. أوجد تردد الفوتونات التي تنبعث من هذا العنصر.

الإجابة المُفصلة

استخدم الجدول أدناه للإجابة على السؤال 14.

الوفرة بالنسبة المئوية لنظائر السيليكون		
النظير	الكتلة	الوفرة بالنسبة المئوية
²⁸ Si	amu 27.98	92.21%
²⁹ Si	amu 28.98	4.70%
³⁰ Si	amu 29.97	3.09 %

14. يقوم شريكك في العمل بالمختبر بحساب متوسط الكتلة الذرية لنظائر السيليكون الثلاثة هذه. متوسط الكتلة الذرية التي يحصل عليها هي 28.98 amu اشرح السبب وراء كون شريكك في المختبر مخطئاً. ووضح كيفية حساب متوسط الكتلة الذرية الصحيح.

اختبار التعليل الموحد - المادة: الكيمياء

استخدم قائمة طرق الفصل أدناه للإجابة على السؤالين 15 و 17.

- a. التصفية
- b. التقطير
- c. التبلور
- d. الاستشراب (الكروماتوغرافيا)
- e. التسامي

15. ما هي الطريقة التي تفصل مكونات الخليط مع درجات غليان مختلفة؟

16. ما هي الطريقة التي تفصل مكونات الخليط بناء على حجم جسيماته؟

17. ما هي الطريقة التي تعتمد على التجاذب الأكثر قوة لبعض المكونات في طور السكون مقارنة بطور الحركة؟

استخدم الجدول أدناه للإجابة على السؤالين 18 و 19.

النمط الإلكتروني الإلكتروني							
مجموعة	1	2	13	14	15	16	17
مخطط	Li	Be	B	C	N	O	F
	Ne						

18. بناء على تني لويس الموضحة، ما هي العناصر التي ستتحقق مع بعضها بمعدل 2:3؟

- a. الليثيوم والكربون
- b. البريليوم والفلور
- c. البريليوم والنروجين
- d. البورون والأوكسجين
- e. البورون والكربون

19. ما هو عدد الإلكترونات التي ستكون في البريليوم في مستوى الطاقة الخارجي بعد أن يكون أيوناً ليصبح مستقراً كيميائياً؟

- a. 0
- b. 2
- c. 4
- d. 6
- e. 8

إجابة مختصرة

- 11. حمض النتريك (HNO₃) و حمض النتروز (HNO₂). يوضح -ic الدليل السقلي أكبر عدد من ذرات الأوكسجين -ous دليل سقلي يوضح أقل عدد من ذرات الأوكسجين
- 12. 580 نانومتر
- 13. 5.2 × 10¹⁴ Hz

الإجابة المُفصلة

14. بعد شريك التجربة مخطئ لأنه قد أخذ متوسط بسيط من كتل كل نظير. يجب الأخذ في الاعتبار عند حساب متوسط الكتلة الذرية النسبة المئوية لوفرة كل نظير و إيجاد المتوسط المرجح. يكون الجواب الصحيح (28.09 amu) على النحو التالي: + (27.98 amu × 92.21%) + (28.98 amu × 4.70%) + (29.97 amu × 3.09%)

SAT اختبار الجسم: الكيمياء

- B .15
- A .16
- D .17
- D .18
- B .19