

٢٠

وزارة التربية
منطقة الأحمدى التعليمية
مدرسة الصباحية الابتدائية بنين.

الاسم :

الصف :

اختبار الوحدة الأولى للصف الأول الابتدائي

السؤال الأول : الكفاية العامة القراءة والمشاهدة : المعيار ٣ / ٢

٥

اختر الصورة التي تبدأ بحرف الجيم (ج)



WWW.KweduFiles.Com



السؤال الثاني : المعيار ٧ / ٢

١/ ضع دائرة حول الحرف الذي بدأت به الكلمة .

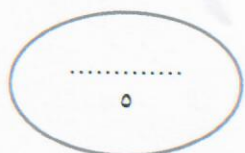
ثعبان (ج ، ب ، ث ، أ)

سجد (ح ، س ، د ، ت)



ثانياً : الكفاية العامة الكتابة : المعيار ٣ - ٢

١ / أمرر بالقلم على الحرف.


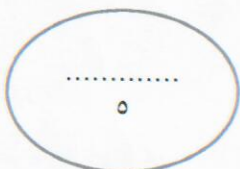


د | دُرر | نِدم | سَجَد



٢ / صل كل حرف بالصورة المناسبة له : المعيار ٣ / ٣


WWW.KweduFiles.Com



ذ



ح

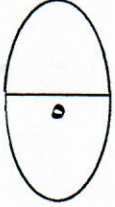


س



الإسم : الصف :

السؤال الأول :-

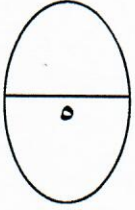


أضع دائرة على الكلمة التي تتضمن حرف (أ) :-

أسد - أرنب - ثعلب - ذرة - موز - أخضر

السؤال الثاني :-

أكتب الحرف الأول لكل صورة مما يأتي :-



WWW.KweduFiles.Com

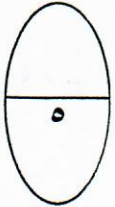


(.....)

(.....)

(.....)

السؤال الثالث :




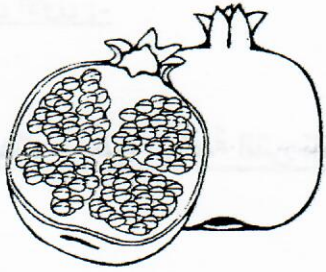
ث	ث	ث	ث
لِبْ	يَبْ	عُبَان	ث

أَنطِقْ

أَمَرِّرْ

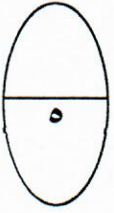
السؤال الرابع :-

أنا أمرر قلمي على حرف (ر) :-



راء
ر

أنا أضع دائرة حول حرف (ج) :-



WWW.KweduFiles.Com