

الاسم : -----

الصف : -----


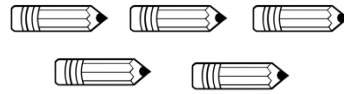
ورقة تقويمية للوحدة الثانية
الصف الأول لمادة الرياضيات
العام الدراسي ٢٠١٩ - ٢٠٢٠

وزارة التربية
الإدارة العامة لمنطقة حولي التعليمية
التوجيه الفني للرياضيات

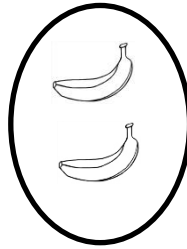

السؤال الأول :

* أكتب رمز العدد.

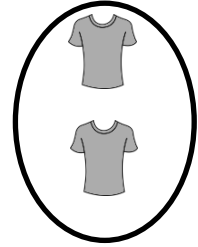

* لون ٤ تفاحات



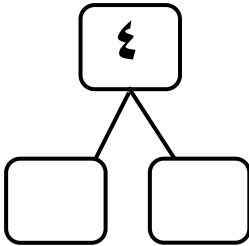
* ارسم مجموعة تفاحات تكافئ مجموعة بائنا



* ضع علامة [X] أسفل المجموعة الأقل.



* أكمل



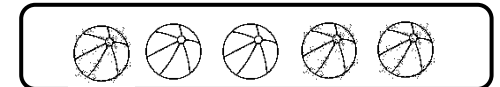

السؤال الثاني :

* استكمل رسم العناصر بحسب العدد الموضح رمزه :





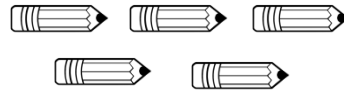

السؤال الثالث

* صل كل مجموعة برمز العدد المناسب.

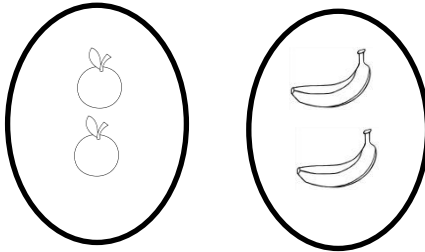


السؤال الأول :


* أكتب رمز العدد.



* ارسم مجموعة تفاحات تكافئ مجموعة

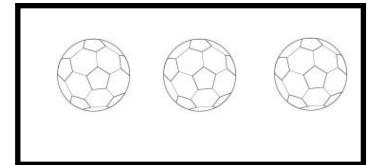
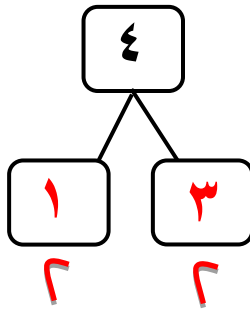


* ضع علامة [X] أسفل المجموعة الأقل.



السؤال الثاني :

* استكمل رسم العناصر بحسب العدد الموضح رمزه :



السؤال الثالث

* صل كل مجموعة برمز العدد المناسب.

