

تم تحميل هذا الملف من موقع ملفات الكويت التعليمية



[com.kwedufiles.www//:https](https://www.kwedufiles.com)

\*للحصول على أوراق عمل لجميع الصفوف وجميع المواد اضغط هنا

\* للحصول على أوراق عمل لجميع مواد الصف الأول اضغط هنا

<https://kwedufiles.com/1>

\* للحصول على جميع أوراق الصف الأول في مادة رياضيات وجميع الفصول, اضغط هنا

<https://kwedufiles.com/1math>

\* للحصول على أوراق عمل لجميع مواد الصف الأول في مادة رياضيات الخاصة بـ الفصل الأول اضغط هنا

<https://www.kwedufiles.com/1math1>

\* لتحميل كتب جميع المواد في جميع الفصول للـ الصف الأول اضغط هنا

<https://www.kwedufiles.com/grade1>

\* لتحميل جميع ملفات المدرس مدرسة الرفعة النموذجية اضغط هنا

[bot\\_kwlinks/me.t//:https](https://t.me/bot_kwlinks)

\* للحصول على جميع روابط الصفوف على تلغرام وفيسبوك من قنوات وصفحات: اضغط هنا

الروابط التالية هي روابط الصف الأول على مواقع التواصل الاجتماعي

مجموعة الفيسبوك

صفحة الفيسبوك

مجموعة التلغرام

بوت التلغرام

قناة التلغرام

رياضيات على التلغرام



السؤال الأول: (أ) اجمع

$$\begin{array}{r} 4 \\ 5 + \\ \hline \end{array}$$

$$\begin{array}{r} 7 \\ 3 + \\ \hline \end{array}$$

$$\square = 4 - 10$$

$$\square = 1 - 7$$

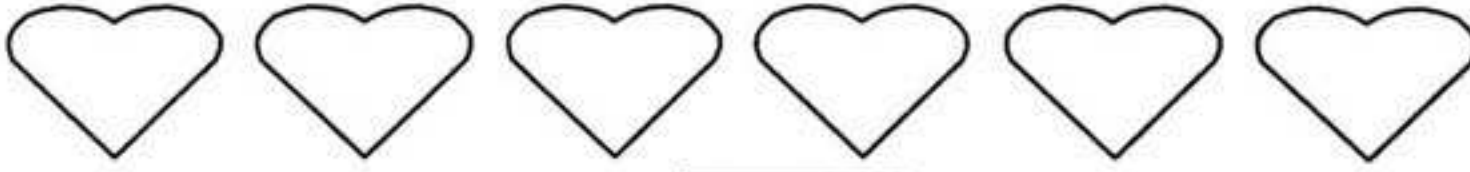
(ب) اطرح :

السؤال الثاني: (أ) اطرح :

$$\square = 1 - 5$$

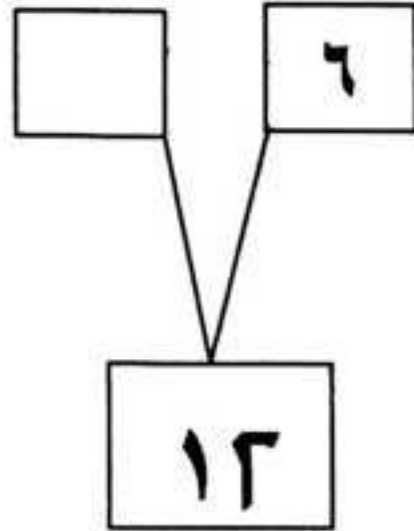
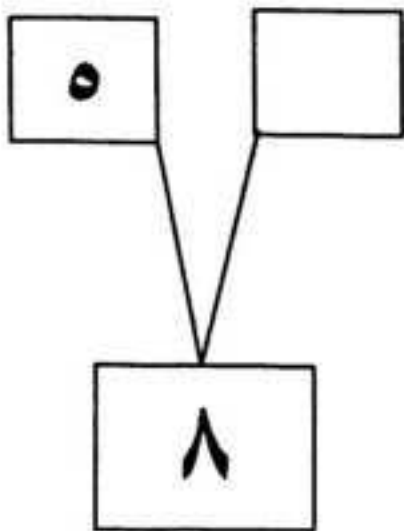
$$\square = 5 - 5$$

ب : اشطب لتطرح :





$$\square = 2 - 6$$

اكمل



السؤال الثالث :

عبارة الجمع المناسبة هي



$$7 = 4 + 3$$

$$4 = 3 - 7$$



السؤال الأول: (أ) اجمع

$$\begin{array}{r} 4 \\ 5 + \\ \hline 9 \end{array}$$

$$\begin{array}{r} 7 \\ 3 + \\ \hline 10 \end{array}$$

$$\boxed{6} = 4 - 10$$

$$\boxed{6} = 1 - 7$$


(ب) اطرح :

السؤال الثاني: (أ) اطرح :

$$\boxed{4} = 1 - 5$$

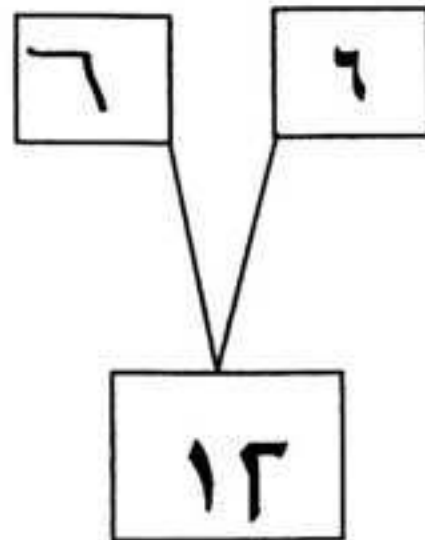
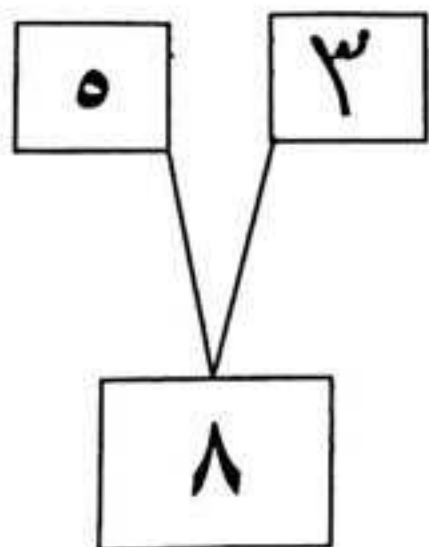
$$\boxed{4} = 5 - 5$$

ب : اشطب لتطرح :



$$\boxed{4} = 2 - 6$$

اكمل



السؤال الثالث :

عبارة الجمع المناسبة هي



$$7 = 4 + 3$$

$$4 = 3 - 7$$

