



وزارة التربية
الإدارة العامة لمنطقة الأحمدية التعليمية
مدرسة هدية الابتدائية بنين



وسائل التوعية



للمصف الأول



• أ. عذاري العازمي

• أ. شيمه المطيري

إعداد المعلمة

إشراف رئيسة القسم

www.zameer.com
الجميع بالحمد لله





بند (٥-١)





أكمل مستعيناً بالصورة



$$\underline{\hspace{2cm}} = \underline{\hspace{2cm}} + \underline{\hspace{2cm}}$$



أكمل مستعينا بالصورة






سمكة _____ = _____ + _____

حل


في الطبق ٩ • 

والطبق الآخر ٤ •  +

كم عدد كل الـ  ؟



حل



WWW.KweduFiles.Com



استكمل رسم العناصر لتمثل عبارة الجمع



$$) \cdot = \Sigma + 1$$



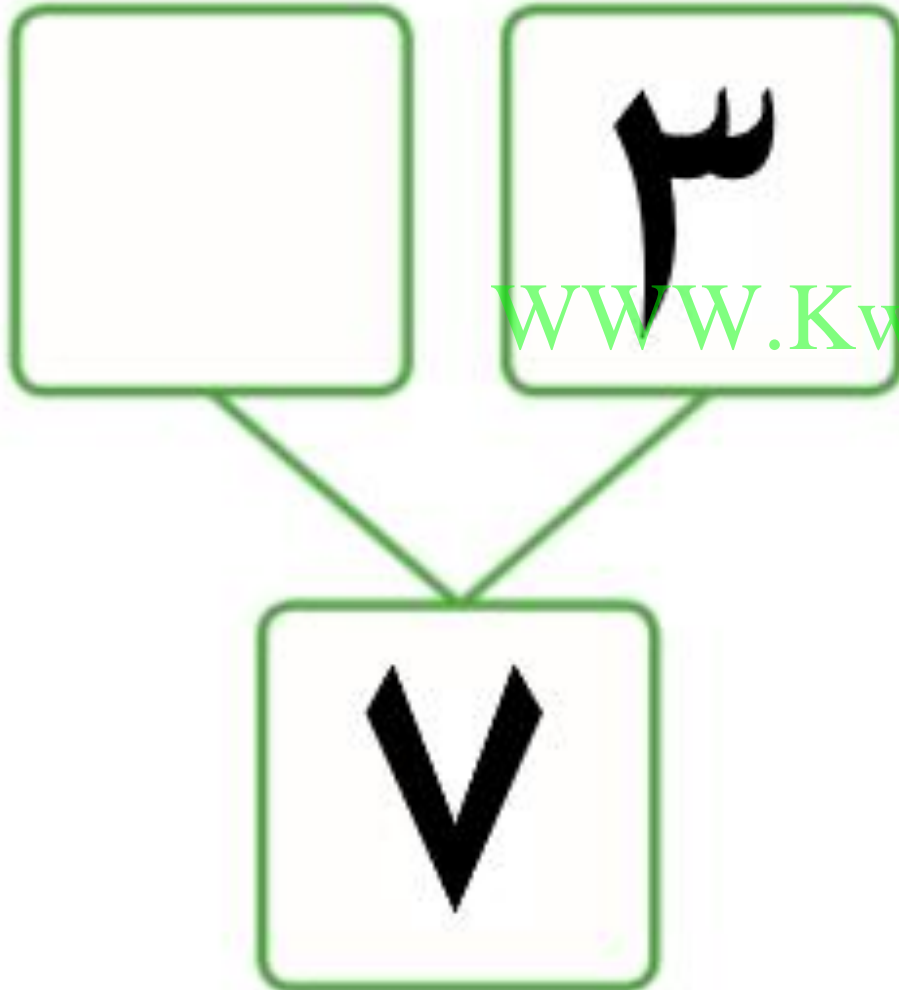
استكمل رسم العناصر لتمثل عبارة الجمع



$$٧ = ٣ + ٤$$



أكمل



WWW.KweduFiles.Com











أكمل



Two boxes at the top: the left one is empty, and the right one contains a black caret symbol (^). Lines connect these two boxes to a larger box below containing two black curved lines (ʾ and ʿ).

www.KweduFiles.Com

أَكْمَل

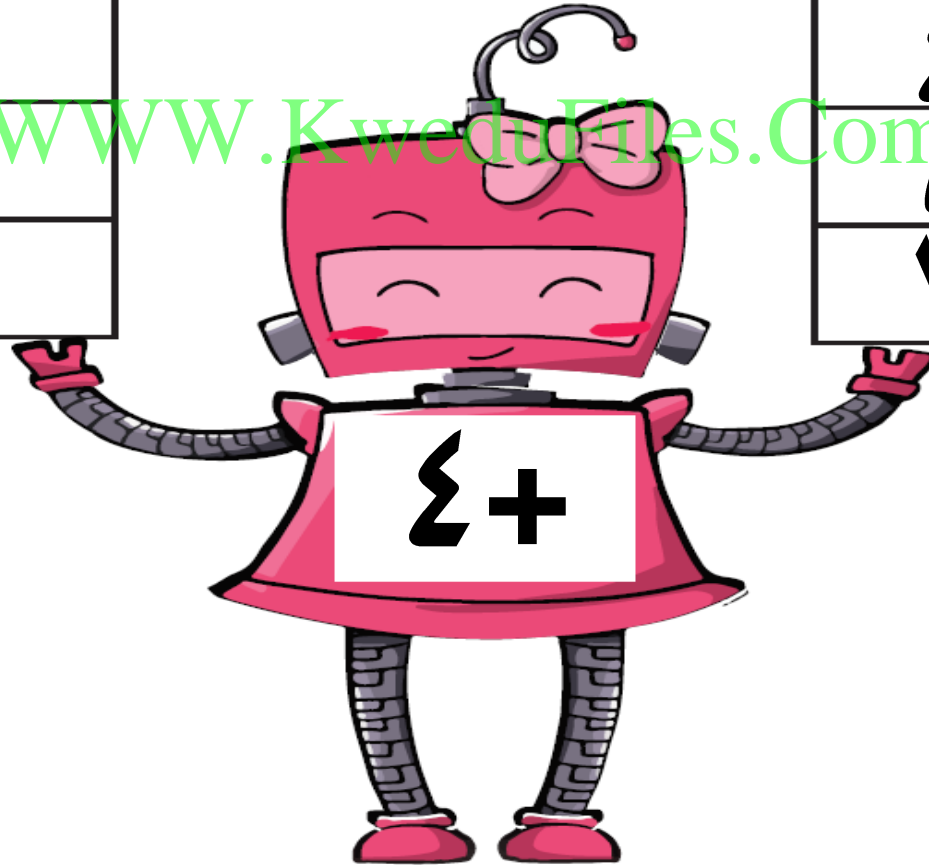


مُخْرَجَاتٌ

مُدْخَلَاتٌ

٢
٤
٥
٧

www.KweduFiles.Com



اجمع . بإمكانك استخدام عناصر

$$\underline{\quad} = \text{ع} + \text{أ}$$



WWW.KweduFiles.Com

$$\underline{\quad} = \text{ع} + \text{هـ}$$



اجمع . بإمكانك استخدام عناصر

$$\begin{array}{r} \text{٨} \\ \text{٤} + \\ \hline \end{array}$$
$$\begin{array}{r} \text{٣} \\ \text{٤} + \\ \hline \end{array}$$



www.KweduFiles.Com

طرح العمدة

www.kweducfiles.com



بند (۲-۵)



أَكْمَلْ مَسْتَعِينًا بِالصُّورِ هـ



www.KweduFiles.Com

$$\underline{\hspace{2cm}} = \underline{\hspace{2cm}} - \underline{\hspace{1cm}} - \underline{\hspace{2cm}}$$

أكمل مستعينا بالصورة



www.KweduFiles.Com



اشطب ثم اطرح



$$\underline{\hspace{2cm}} = 10 - 1 = 9$$

اشطب ثم اطرح

√


www.KweduFiles.Com

—
—

—



أكمل




$$\underline{\hspace{2cm}} = \underline{\hspace{2cm}} + \underline{\hspace{2cm}}$$

$$\underline{\hspace{2cm}} = \underline{\hspace{2cm}} - \underline{\hspace{2cm}}$$



أكمل



$$\underline{\hspace{2cm}} = \underline{\hspace{2cm}} + \underline{\hspace{2cm}}$$

$$\underline{\hspace{2cm}} = \underline{\hspace{2cm}} - \underline{\hspace{2cm}}$$

أَكْمَل




مُخْرَجَاتٌ

مُدْخَلَاتٌ

٥
٧
٨
١٢

www.KweduFiles.Com



الجمع بالضم


WWW.KweduFiles.Com



بند (۳-۵)



أكمل مستعيناً بالصورة



www.KweduFiles.com

$$\underline{\hspace{2cm}} = \underline{\hspace{2cm}} + \underline{\hspace{2cm}}$$



أكمل مستعيناً بالصورة



$$\underline{\hspace{2cm}} = \underline{\hspace{2cm}} + \underline{\hspace{2cm}}$$

استكمل رسم العناصر لتمثيل عبارة الجمع



$$) \cdot = \cup + \cup$$

استكمل رسم العناصر لتمثيل عبارة الجمع



$$٦ = ٥ + ١$$

أكمل



ع



ك



WWW.KweduFiles.Com

ا

و

أَكْمَل




مُخْرِجَات

م

مُدْخَلَات

ع
ك
ب

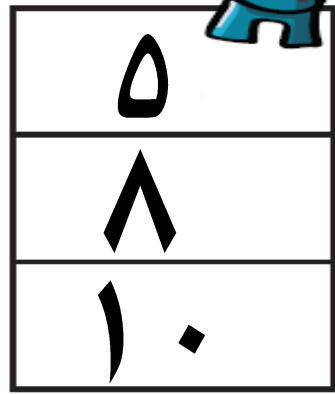


www.KweduFiles.Com



أَكْمَل

www.kwedufiles.com



مُخْرِجَاتُ




مُدْخِلَاتُ

• طرح العدد ٥

WWW.KweduFiles.Com



بند (٤-٥)




أَكْمَلْ مَسْتَعِينًا بِالصُّورِهِ



$$\underline{\hspace{2cm}} = \underline{\hspace{2cm}} - \underline{\hspace{1cm}} - \underline{\hspace{2cm}}$$

أَكْمَلْ مَسْتَعِينًا بِالصُّورِهِ



_____ = _____ - _____

اشطب ثم اطرح



$$\underline{\hspace{2cm}} = 5 - 1$$

اشطب ثم اطرح



www.kwedge.com


بإمكانك الربط بين الجمع والطرح . أكمل

$$\begin{array}{r} \square \\ 5 + \\ \hline \end{array}$$

↓

www.KweduFiles.Com

$$\begin{array}{r} 6 \\ 5 + \\ \hline \square \end{array}$$



أَكْمَل



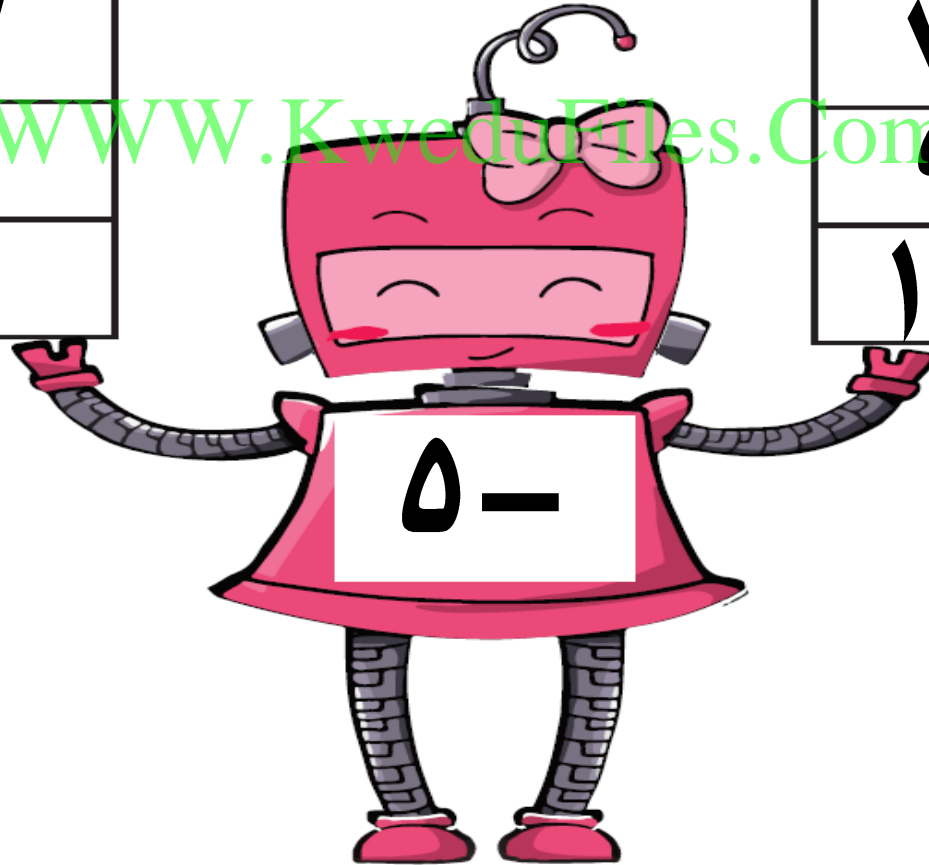
مُخْرَجَاتٌ

٢

مُدْخَلَاتٌ

٥
٧
٩
١١

www.KweduFiles.Com




• مراجعة الوحدة الخامسة

www.kwedaFiles.Com



بند (٥-٥)



اشتری خالد ۸



انفجرت ۵

WWW.KweduFiles.Com



کم بقیت مع خالد ؟





في الطبق ١٢



أكلت ٤

WWW.KweduFiles.Com



بقيت ٣



أَكْمَل




مُخْرَجَاتٌ

٦
٨
٩
١٢

مُدْخَلَاتٌ

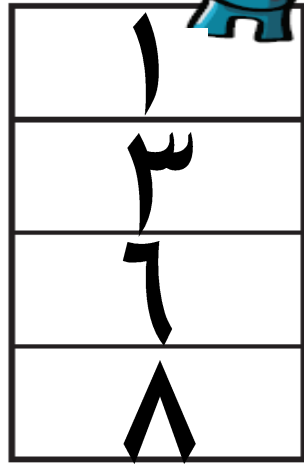
١
٣
٥
٧



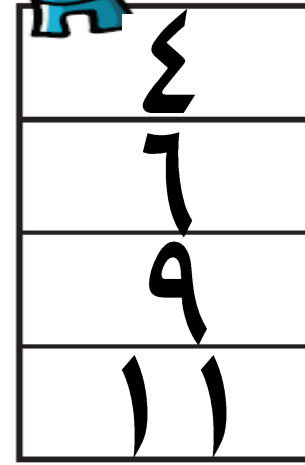
أَكْمَل



www.Kwedufiles.Com



مُخْرِجَاتٌ

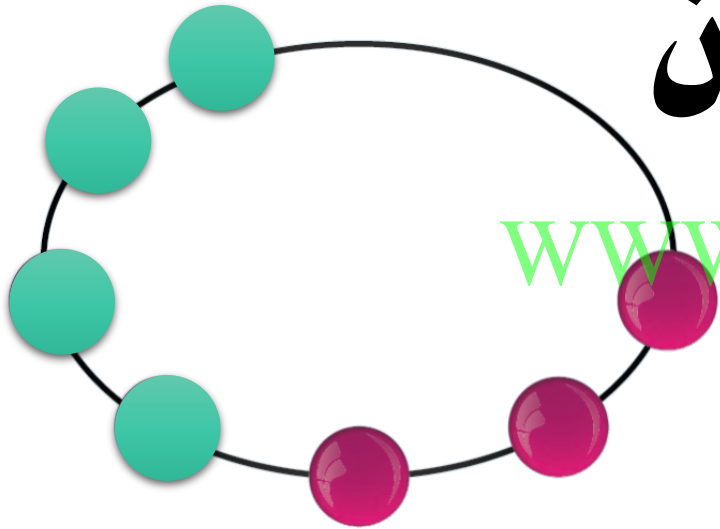


مُدْخِلَاتٌ



اختر الإجابة الصحيحة بوضع


عبارة الجمع التي تعبر عن




WWW.KweduFiles.Com

هي :


$$٧ + ١$$



$$٦ + ٤$$



$$٣ + ٤$$






اختر الإجابة الصحيحة بوضع

عبارة الطرح التي تعبر عن



هي :

$$٦ - ٤ = ٢$$



$$٦ - ٢ = ٤$$



$$٦ - ٦ = ٠$$






اختر الإجابة الصحيحة بوضع

التعبير الذي يكون ناتجه ٢ هو :

WWW.KweduFiles.Com

$٥ + ٧$



$٤ + ٧$



$٣ + ٧$






اختر الإجابة الصحيحة بوضع

إذا كانت $9 = 4 + 5$ ، فإن عبارة الطرح



ذات الصلة هي : WWW.KweduFiles.Com


$$9 = 5 - 4$$



$$9 = 4 - 5$$



$$5 = 4 - 9$$





اختر الإجابة الصحيحة بوضع

التمثيل المناسب للعبارة $5 - 1 = 4$

WWW.KweduFiles.Com

هو :

