




وزارة
التربية
الإدارة العامة لمنطقة الأحمدية التعليمية
مدرسة هدية الابتدائية بنين

• وسائل الوحدة (٨)

www.kwedufiles.com

للمصف الأول



• المعلمة : عذاري العازمي

إعداد


• رئيسة القسم : شيمه المطيري

إشراف




• جمع الأعداد ٠ ← ٢٠
WWW.KweduFiles.Com

بند (٨-١)





اجمع - ضم -






$$\underline{\hspace{2cm}} = 5 + 5$$





اجمع - ضم -



WWW.KweduFiles.Com



$$\underline{\hspace{2cm}} = 5 + 1$$





أوجد الناتج


$$١٢ + ٣ \text{ موضحاً بالرسم}$$

WWW.KweduFiles.Com





أكمل .



$$9 + \square = 3 + 9$$



$$7 + \square = 16 + 7$$





أكمل .

$$^{\wedge} + \square = \Sigma + ^{\wedge}$$

$$6 + 10 = 10 + \square$$





اجمع - استخدم



5

WWW.KweduFiles.Com 13

$$\begin{array}{r} 11 + \\ \hline \square \end{array}$$

$$\begin{array}{r} 4 + \\ \hline \square \end{array}$$

$$\begin{array}{r} 6 + \\ \hline \square \end{array}$$





اجمع . بإمكانك استخدام عناصر.

$$\underline{\hspace{2cm}} = 7 + 11$$


WWW.KweduFiles.Com

$$\underline{\hspace{2cm}} = 4 + 15$$

$$\underline{\hspace{2cm}} = 14 + 3$$

$$16$$


$$2 +$$



• طرح الأعداد ٢٠ ← ٠

WWW.KweduFiles.Com

بند (٢-٨)





اظرح . اشطب



$$\underline{\hspace{2cm}} = 5 - 16$$





اطرح . اشطب



WWW.KweduFiles.Com



١٨

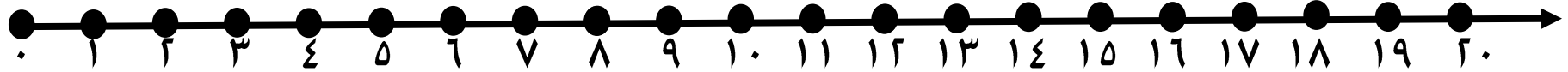
٤ -

—





اطرح . استخدم



١٨

WWW.KweduFiles.Com

١٥

١٢

$$\begin{array}{r} ٢ - \\ \hline \square \end{array}$$

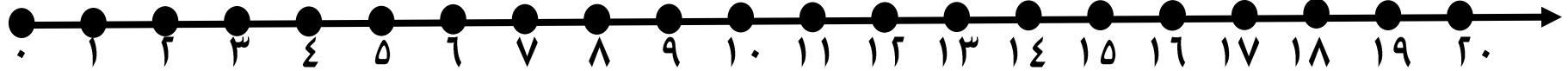
$$\begin{array}{r} ٣ - \\ \hline \square \end{array}$$

$$\begin{array}{r} ١ - \\ \hline \square \end{array}$$





اجمع - استخدم



WWW.KweduFiles.Com

$$\underline{\hspace{2cm}} = 1 - 14$$

$$\underline{\hspace{2cm}} = 3 - 13$$





اشرح . بإمكانك استخدام العناصر

١٥

١٧




١٩

WWW.KweduFiles.Com

٣ -


٦ -

٥ -



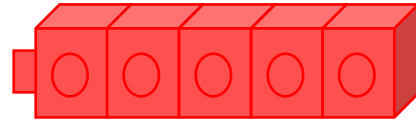
جمع ٣ أعداد
www.KweduFiles.Com

بند (٣-٨)





حوظ العددين اللذين تجمعهما أولا . ثم اكتب المجموع .

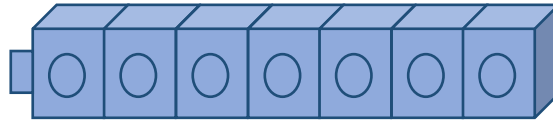


٥





www.kwedufiles.com

٣

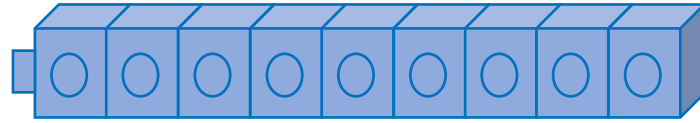


٥ +





حوظ العددين اللذين تجمعهما أولا . ثم اكتب المجموع .

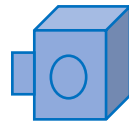


٩



WWW.KweduFiles.Com



٢



) +





أوجد الناتج .

٥

٧

٦

٥

٣

٣

WWW.KweduFiles.Com

٥ +

٦ +

٤ +





أوجد الناتج .

$$\underline{\hspace{2cm}} = ٢ + ٤ + ٨$$

WWW.KweduFiles.Com


$$\underline{\hspace{2cm}} = ٢ + ٥ + ٥$$

$$\underline{\hspace{2cm}} = ١ + ٩ + ٦$$





حل .



٦


عند أحمد



٤



سالم

WWW.KweduFiles.Com



٧

خالد




كم عدد الكمل






حل .



اشترت أسماء ٩



www.KweduFiles.Com



١ □


كم عدد الكل □ طائر



• الجمع بالأكمال للعشرة

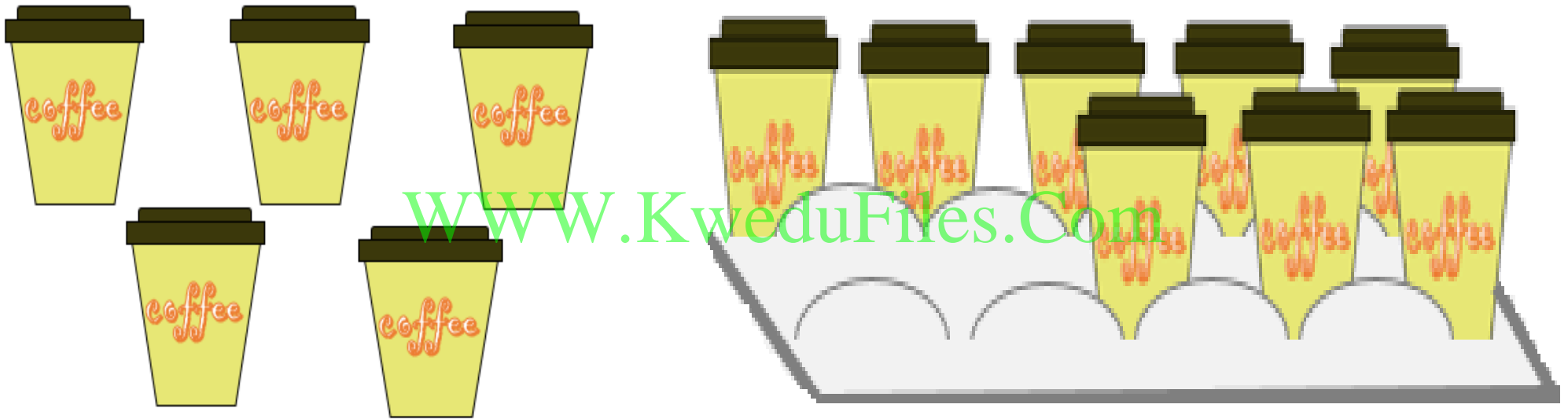
WWW.KweduFiles.Com

بند (٤-٨)



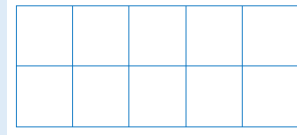


كون عشرة . اجمع .



$$\underline{\hspace{2cm}} = 5 + 8$$




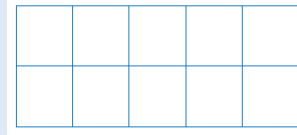


اجمع . استخدم و  

$$\underline{\hspace{2cm}} = 3 + 9$$

WWW.KweduFiles.Com




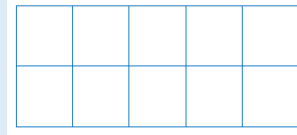


اجمع . استخدم و

$$\underline{\hspace{2cm}} = 5 + 9$$

WWW.KweduFiles.Com



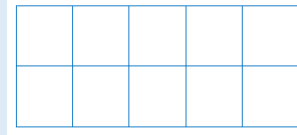


اجمع . استخدم و

$$\underline{\hspace{2cm}} = \wedge + 5$$

WWW.KweduFiles.Com




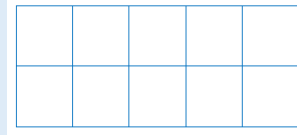


اجمع - استخدم و  

$$\text{————} = \wedge + \wedge$$

WWW.KweduFiles.Com




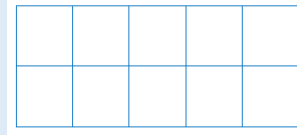


اجمع . استخدم و  

$$\underline{\hspace{2cm}} = \vee + 6$$

WWW.KweduFiles.Com



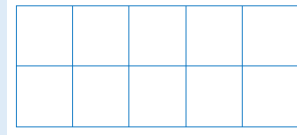


اجمع . استخدم و

$$\underline{\hspace{2cm}} = 1 + 1$$

WWW.KweduFiles.Com






اجمع . استخدم و


$$\underline{\hspace{2cm}} = \vee + \vee$$


WWW.KweduFiles.Com



• الطرح بالإنقاص من العشرة

بند (٨-٥)




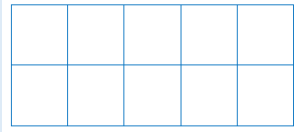


اطرح . بإمكانك استخدم ● و

$$\underline{\hspace{2cm}} = 2 - 11$$

WWW.KweduFiles.Com






اطرح . بإمكانك استخدم ● و

$$\underline{\hspace{2cm}} = 8 - 13$$

WWW.KweduFiles.Com




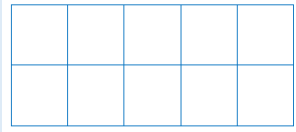


اطرح . بإمكانك استخدم ● و

$$\underline{\hspace{2cm}} = 6 - 15$$

WWW.KweduFiles.Com






اطرح . بإمكانك استخدم ● و

$$\underline{\hspace{2cm}} = 7 - 12$$

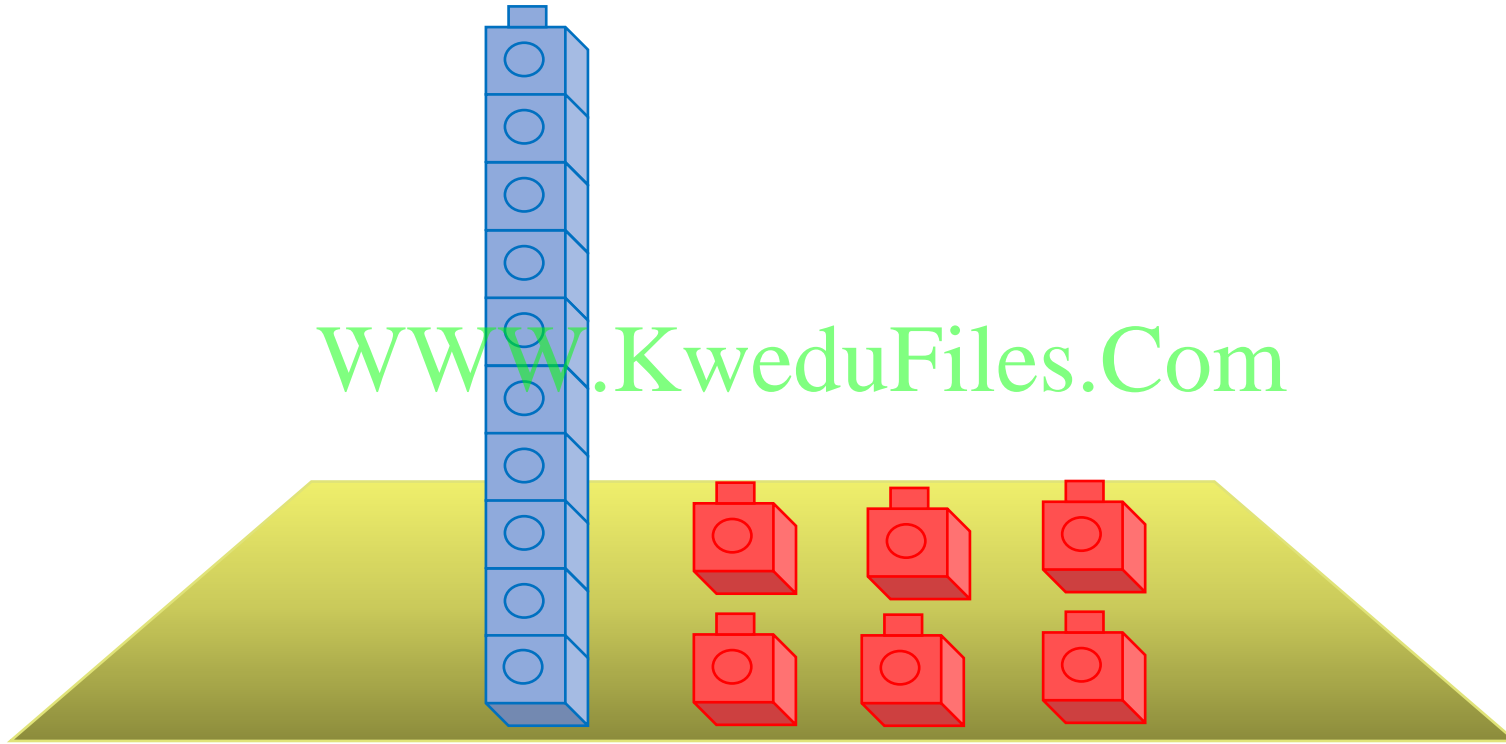
WWW.KweduFiles.Com





اطرح . اشطب

WWW.KweduFiles.Com



$$\underline{\quad} = 10 - 6$$





اطرح . اشطب



WWW.KweduFiles.Com

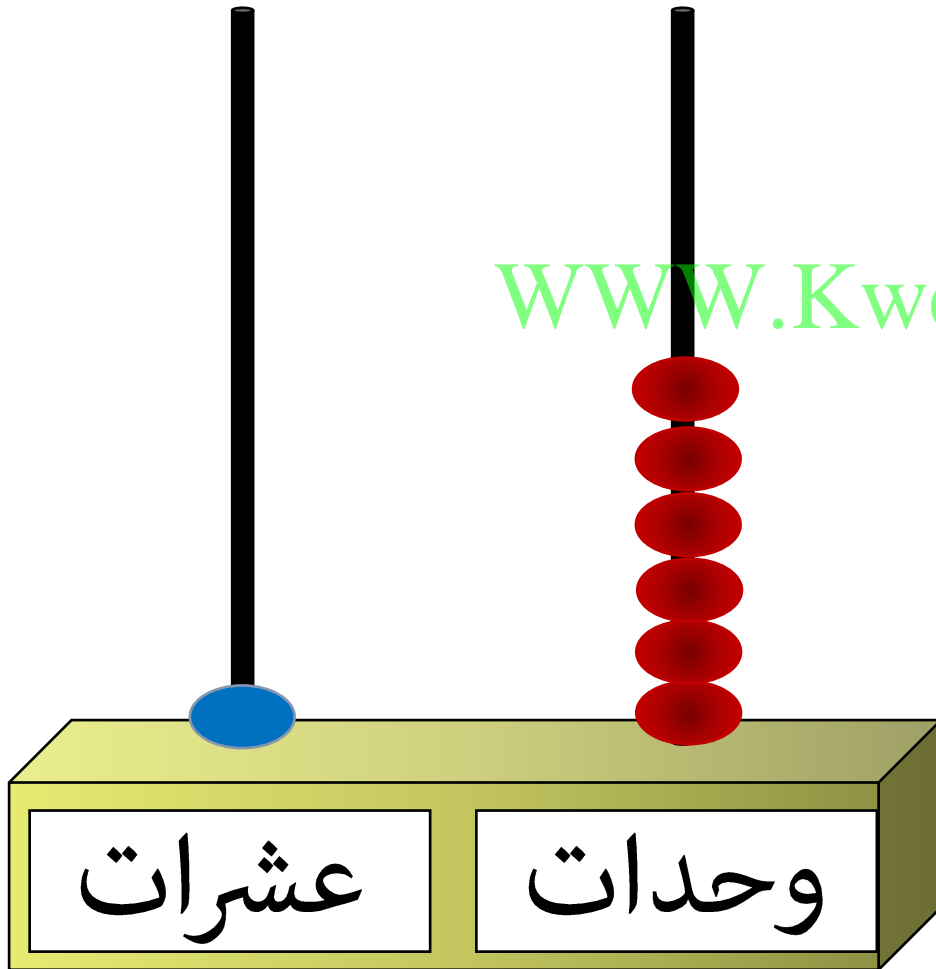


$$\underline{\quad} = 10 - 2$$





أوجد الناتج

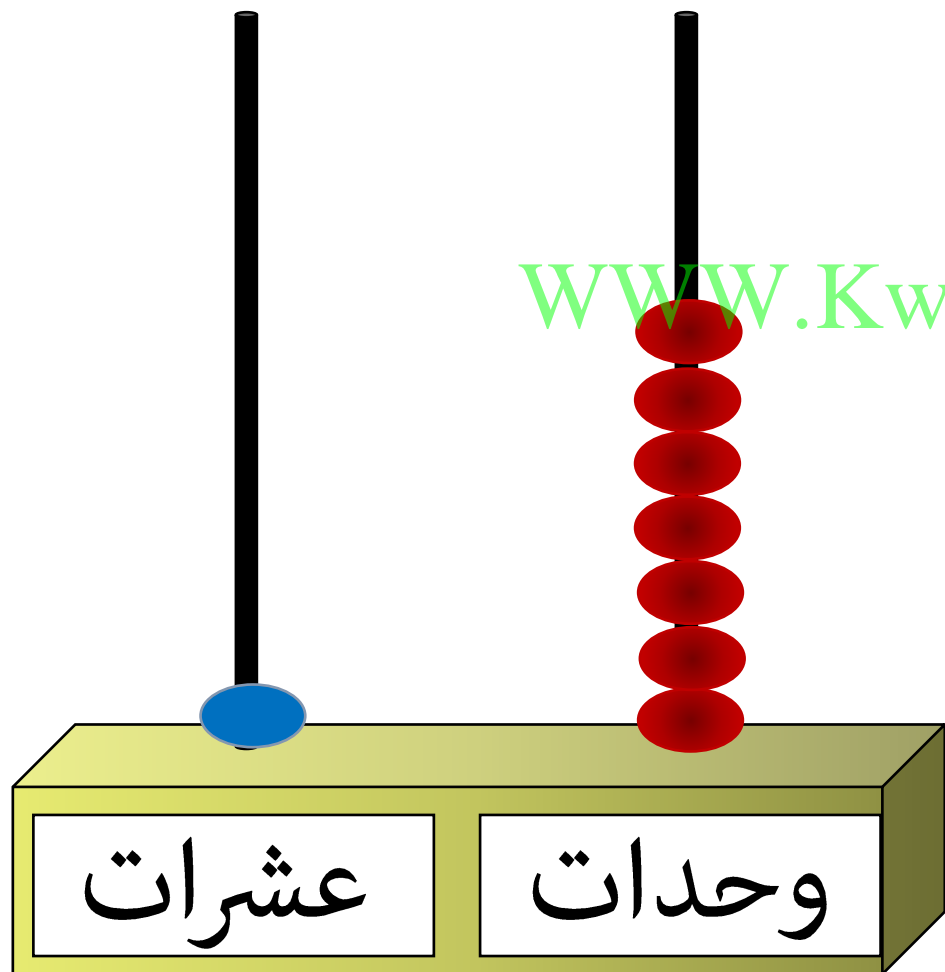


WWW.KweduFiles.Com = 5 - 16





أوجد الناتج





www.KweduFiles.Com = ٨ - ١٧



• العلاقة بين الجمع و الطرح

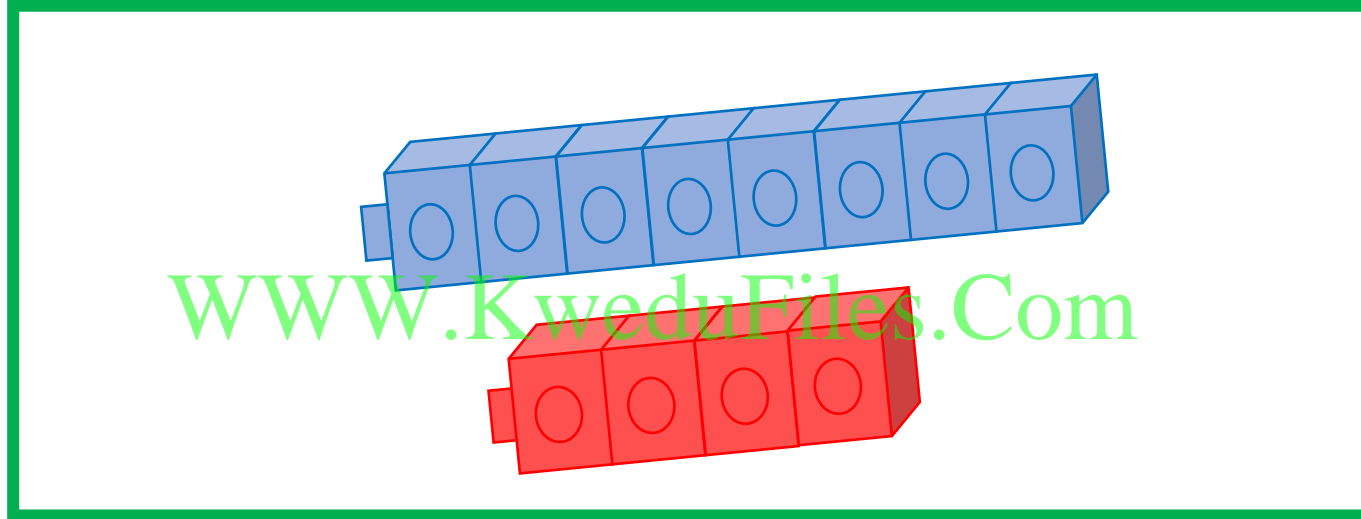
WWW.KweduFiles.Com

بند (٨-٦)






أكمل من خلال المكعبات



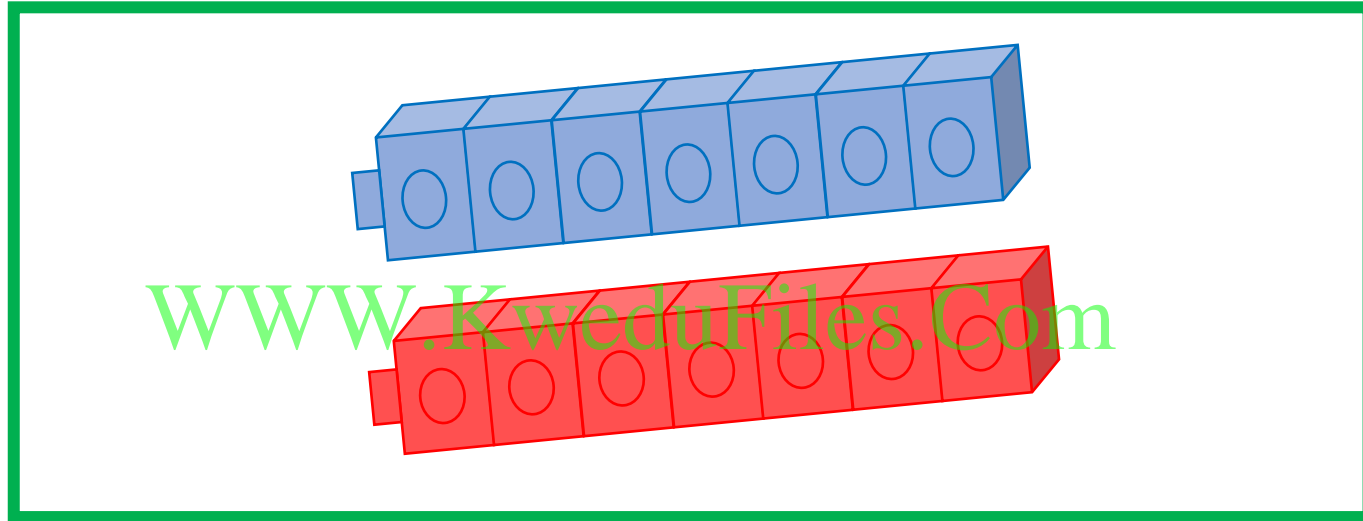
$$\underline{\hspace{2cm}} = ٨ + ٤$$

$$\underline{\hspace{2cm}} = \underline{\hspace{2cm}} - ١٣$$





أكمل من خلال المكعبات



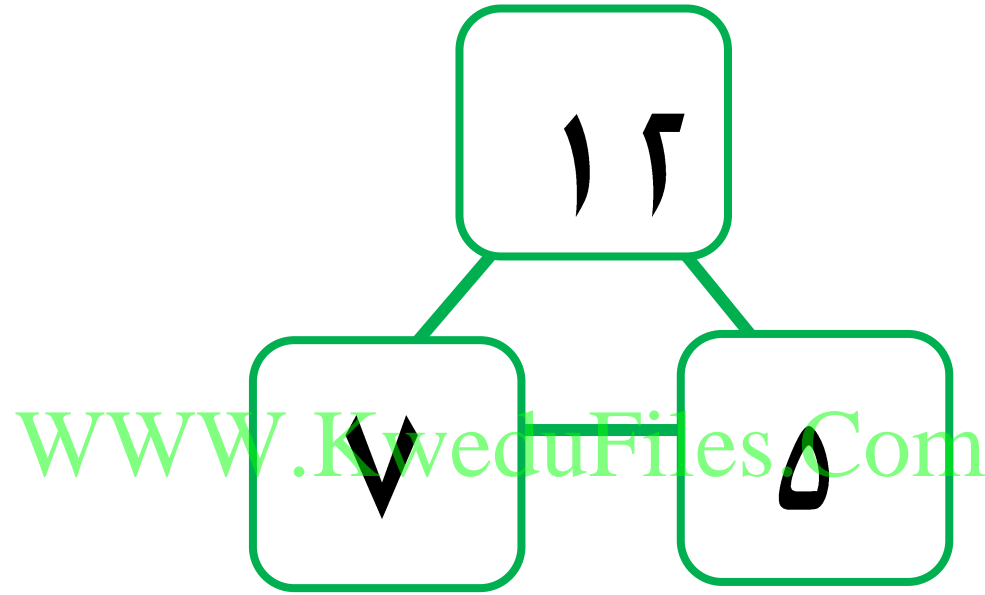
$$\underline{\hspace{2cm}} = ٧ + ٧$$

$$\underline{\hspace{2cm}} = \underline{\hspace{2cm}} - ١٤$$



✿ اكتب عبارات الجمع والطرح ذات الصلة مستخدماً الأعداد

المعطاة .



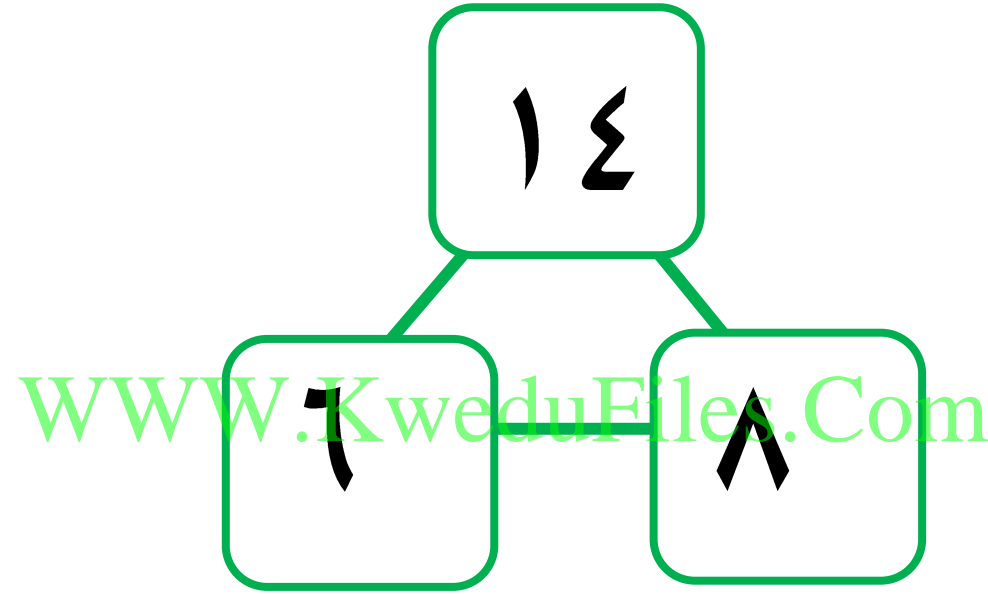
$$\underline{\quad} = \underline{\quad} + \underline{\quad}$$

$$\underline{\quad} = \underline{\quad} - \underline{\quad}$$



✿ اكتب عبارات الجمع والطرح ذات الصلة مستخدماً الأعداد

المعطاة .



$$\underline{\quad} = \underline{\quad} + \underline{\quad}$$

$$\underline{\quad} = \underline{\quad} - \underline{\quad}$$





أوجد الناتج ثم صل بالعبارة ذات الصلة المناسبة

$$\underline{\hspace{2cm}} = ٧ - ١٤$$



$$\underline{\hspace{2cm}} = ٤ + ١١$$

$$\underline{\hspace{2cm}} = ٨ - ١٧$$



$$\underline{\hspace{2cm}} = ٧ + ٧$$

$$\underline{\hspace{2cm}} = ٤ - ١٥$$





$$\underline{\hspace{2cm}} = ٨ + ٩$$



• حل مسائل جمع / طرح
www.KweduFiles.Com


بند (۷-۸)






حل المسألة

مع خلود ١٣ . ومع هدى ٥ .

كم عدد كل الـ  معهما ؟

 _____ = _____ ○ _____





حل المسألة

على الشجرة .



١٧

WWW.KweduFiles.Com



طار منها ٥


بقي على الشجرة ؟



كم



=







حل المسألة

عند سامي ١١  في الحظيرة.

www.kwedufiles.com
١ منها ذهبت لترعى .

كم عدد  التي بقيت بالحظيرة ؟



$$\underline{\quad} = \underline{\quad} \bigcirc \underline{\quad}$$






حل المسألة



٨ و



أطعم علي ٥

WWW.KweduFiles.Com


كم عدد الخراف التي أطعمها علي؟

خروف _____ = _____ ○ _____




• إيجاد العدد المجهول

بند (٨-٨)





اشطب لإيجاد العدد المجهول

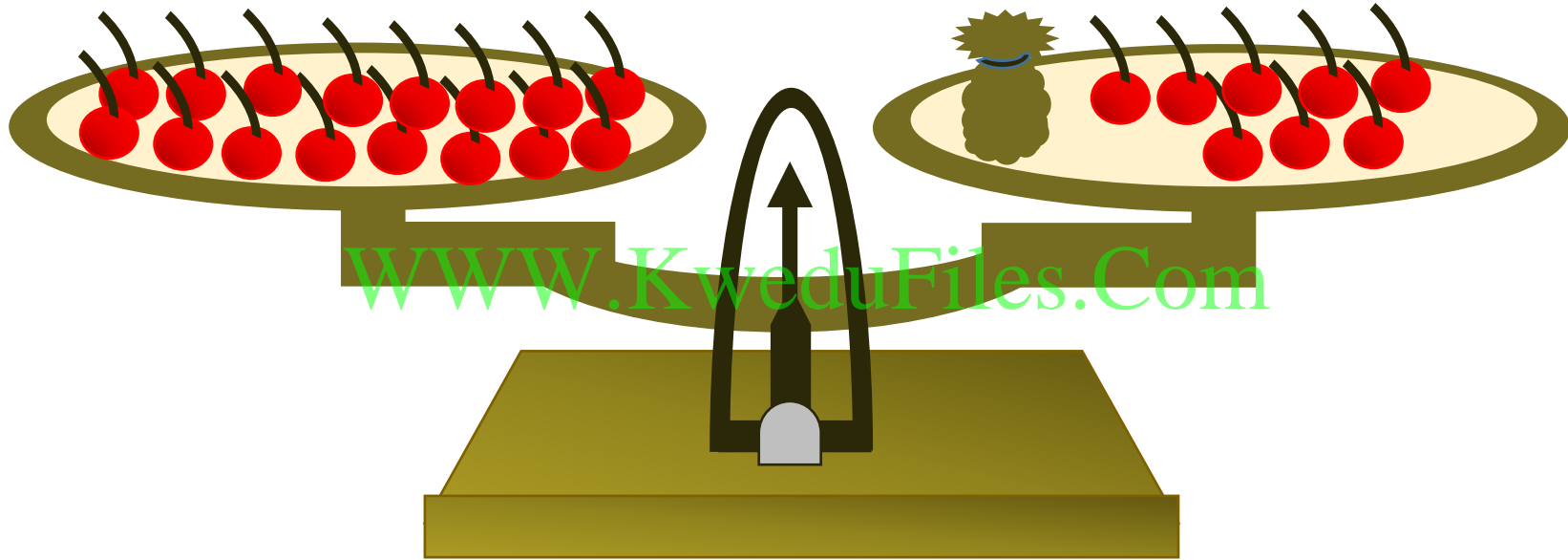


$$14 = \square + 9$$





اشطب لإيجاد العدد المجهول



www.KweduFiles.Com

$$16 = \square + 8$$

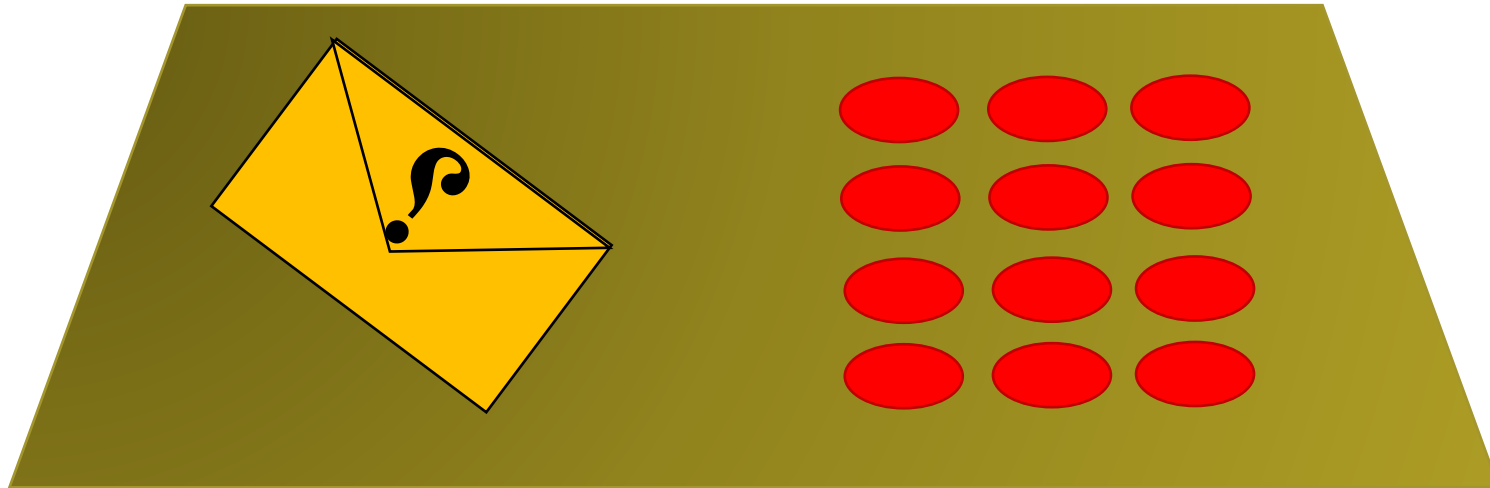




استكمل رسم العناصر لإيجاد العدد المجهول

$$١٤ = \square + ١٢$$

WWW.KweduFiles.Com

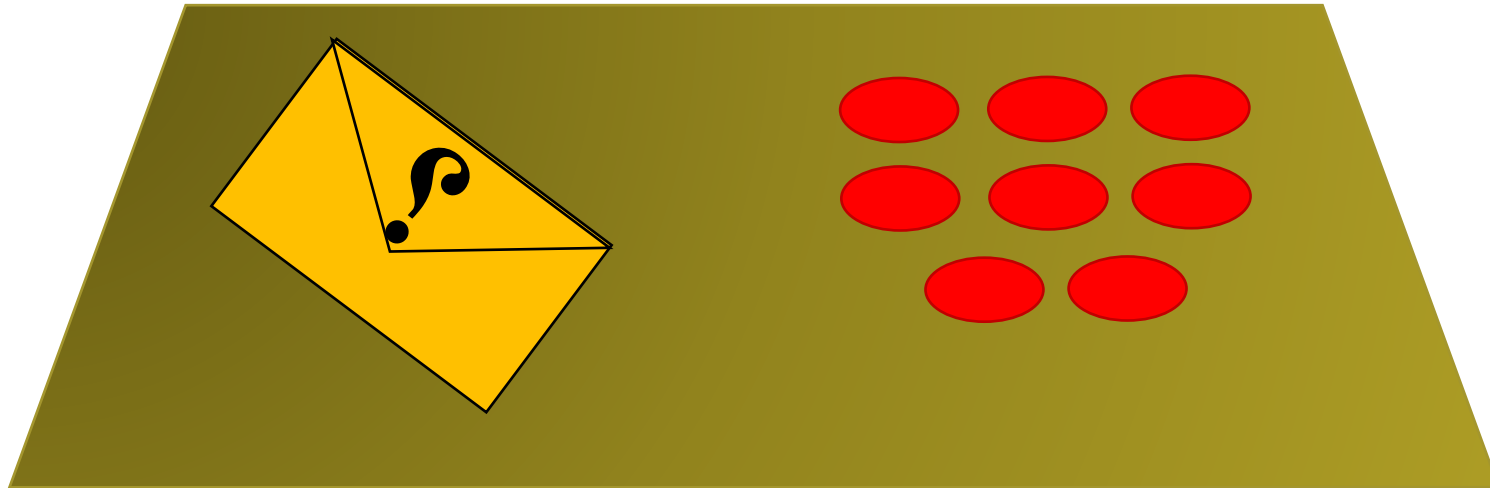




استكمل رسم العناصر لإيجاد العدد المجهول

$$11 = \square + 8$$

WWW.KweduFiles.Com





استخدم الأعداد للحصول على عبارة صحيحة

$$\square + 6 = \square + 8$$

6	8	9	7
---	---	---	---

WWW.KweduFiles.Com

$$\square + \square = \square + \square$$


7	1	7	13
---	---	---	----



• استخدام البيانات

www.kwedufiles.com




بند (٨-٩)






أكمل مستعيناً بالصورة



العدد	علامات العدد	الطائرات الورقية
		
		
		








استخدم جدول العلامات لتصنع التمثيل البياني بالرسم

العدد	علامات العد	الطائرات الورقية
٢	//	
٦	/ + + + +	
٤	////	

(ارسم ○ لكل طائرة) .

WWW.KweduFiles.Com




الطائرات الورقية





استخدم التمثيل البياني بالرسم للإجابة على الأسئلة

الطائرات الورقية									
	○	○							
	○	○	○	○	○	○			
	○	○	○	○					

www.KweduFiles.Com



- حوط الأكثر عدداً .



؟




عدد

على




كم

يزيد



• مراجعة الوحدة الثامنة

بند (٨-١٠)






لون الناتج المناسب




عشرات	آحاد
١	٣
	٢ +





لون الناتج المناسب






عشرات	آحاد
١	٧
	٦ -








أوجد الناتج . ثم لون .

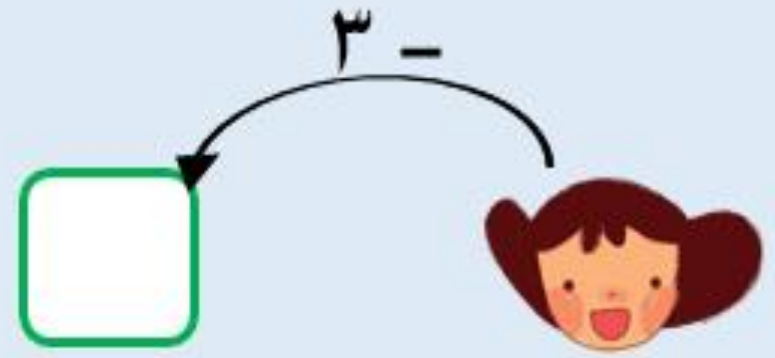
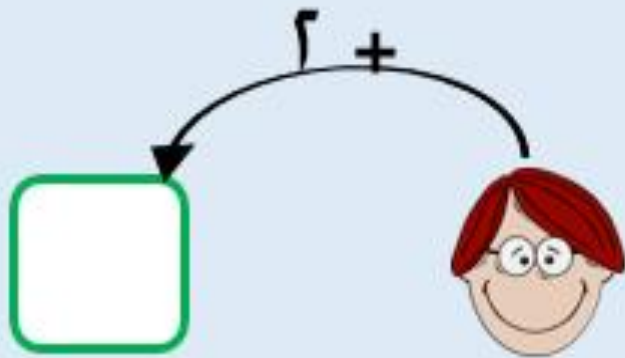


www.kwedufiles.com



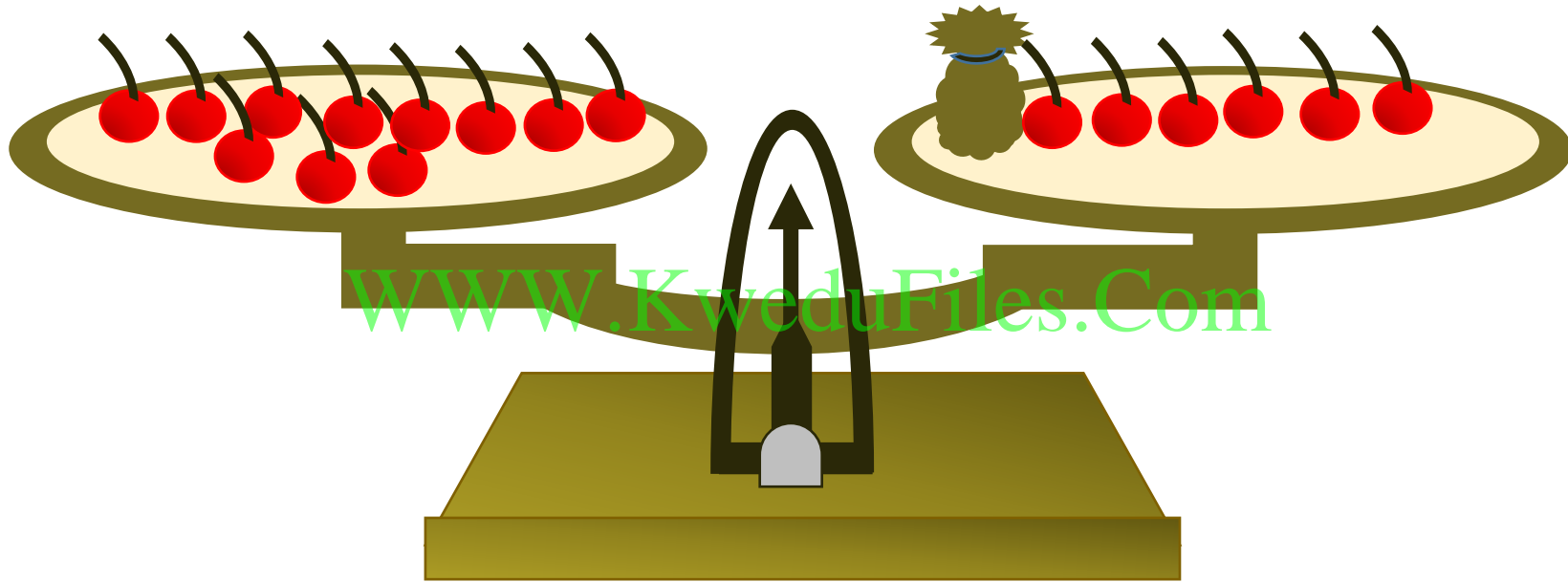


أكمل





اشطب لإيجاد العدد المجهول



$$10 = \square + 6$$





استكمل رسم العناصر لإيجاد العدد المجهول

$$١٣ = \square + ٧$$

WWW.KweduFiles.Com

