

تم تحميل هذا الملف من موقع المناهج الإماراتية



*للحصول على أوراق عمل لجميع الصفوف وجميع المواد اضغط هنا

<https://almanahj.com/eg>

* للحصول على أوراق عمل لجميع مواد الصف الثاني اضغط هنا

<https://almanahj.com/eg/2>

* للحصول على جميع أوراق الصف الثاني في مادة رياضيات ولجميع الفصول, اضغط هنا

<https://almanahj.com/eg/2math>

* للحصول على أوراق عمل لجميع مواد الصف الثاني في مادة رياضيات الخاصة بـ الفصل الأول اضغط هنا

<https://almanahj.com/eg/2math1>

* لتحميل كتب جميع المواد في جميع الفصول للـ الصف الثاني اضغط هنا

<https://almanahj.com/eg/grade2>

جمع البيانات وتمثيلها بالأعمدة

التقويم:

الشهر

العام

التاريخ

سبتمبر ٢٠١٩					
٢٨	٢١	١٤	٧		السبت
٢٩	٢٢	١٥	٨	١	الأحد
٣٠	٢٣	١٦	٩	٢	الاثنين
	٢٤	١٧	١٠	٣	الثلاثاء
	٢٥	١٨	١١	٤	الأربعاء
	٢٦	١٩	١٢	٥	الخميس
	٢٧	٢٠	١٣	٦	الجمعة

اليوم

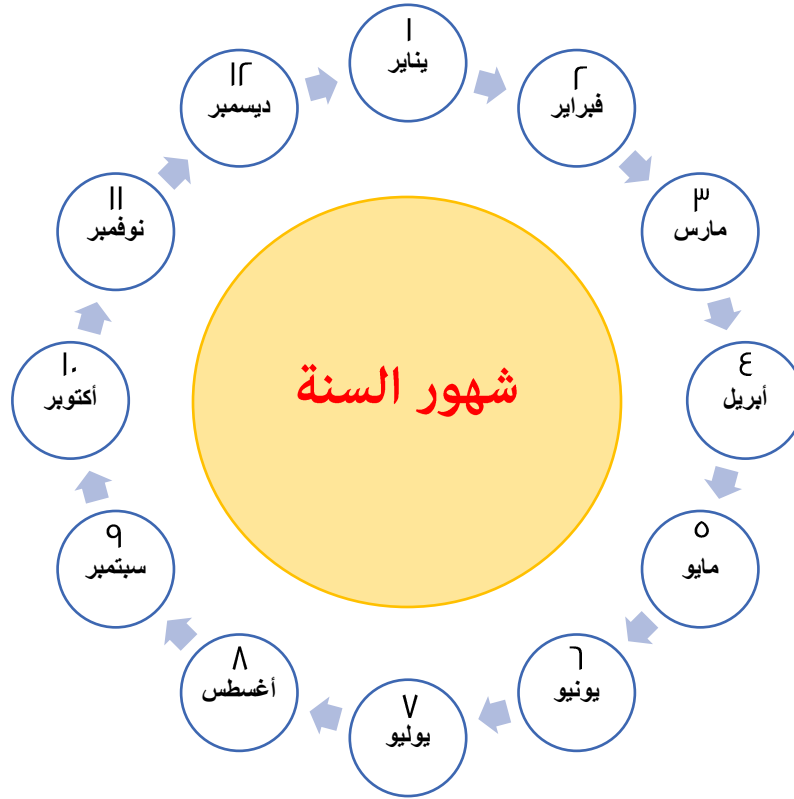
- ← اليوم: الأحد ، التاريخ: ٢٢ ، الشهر: سبتمبر ، العام: ٢٠١٩ ميلادياً
- ← اليوم السابق " أمس " : السبت ، اليوم التالي " غداً " : الاثنين
- ← التاريخ كامل: ٢٢ / ٩ / ٢٠١٩ او ٢٢ من سبتمبر لسنة ٢٠١٩

تدريبات

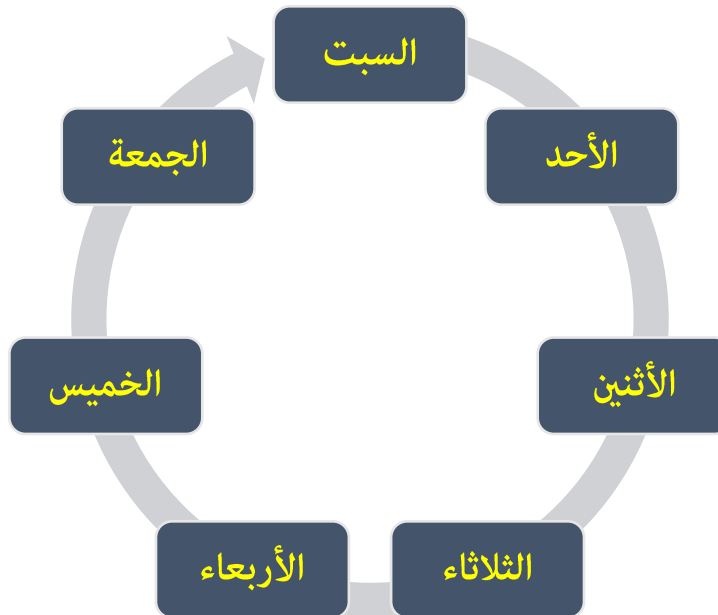
أكتوبر ٢٠٢٠					
٢٨	٢١	١٤	٧		السبت
٢٩	٢٢	١٥	٨	١	الأحد
٣٠	٢٣	١٦	٩	٢	الاثنين
	٢٤	١٧	١٠	٣	الثلاثاء
	٢٥	١٨	١١	٤	الأربعاء
	٢٦	١٩	١٢	٥	الخميس
	٢٧	٢٠	١٣	٦	الجمعة

- اليوم:
- أمس:
- الغد:
- الشهر:
- العام:
- التاريخ:

تعرف على أسماء شهور السنة الميلادية:



تعرف على أسماء أيام الأسبوع:



العُمر	الاسم
٦	أحمد
٣	مريم
٨	مصطفى
٥	مروان

كم عُمر (مريم) :

كم عُمر (مروان) :

كم عُمر (أحمد) :

كم عُمر (مصطفى) :

المانجو	الاسم
	علي
	معاذ
	زياد
	خالد

كم مع (زياد) :

كم مع (علي) :

كم مع (خالد) :

كم مع (معاذ) :

٤ عد وصل:



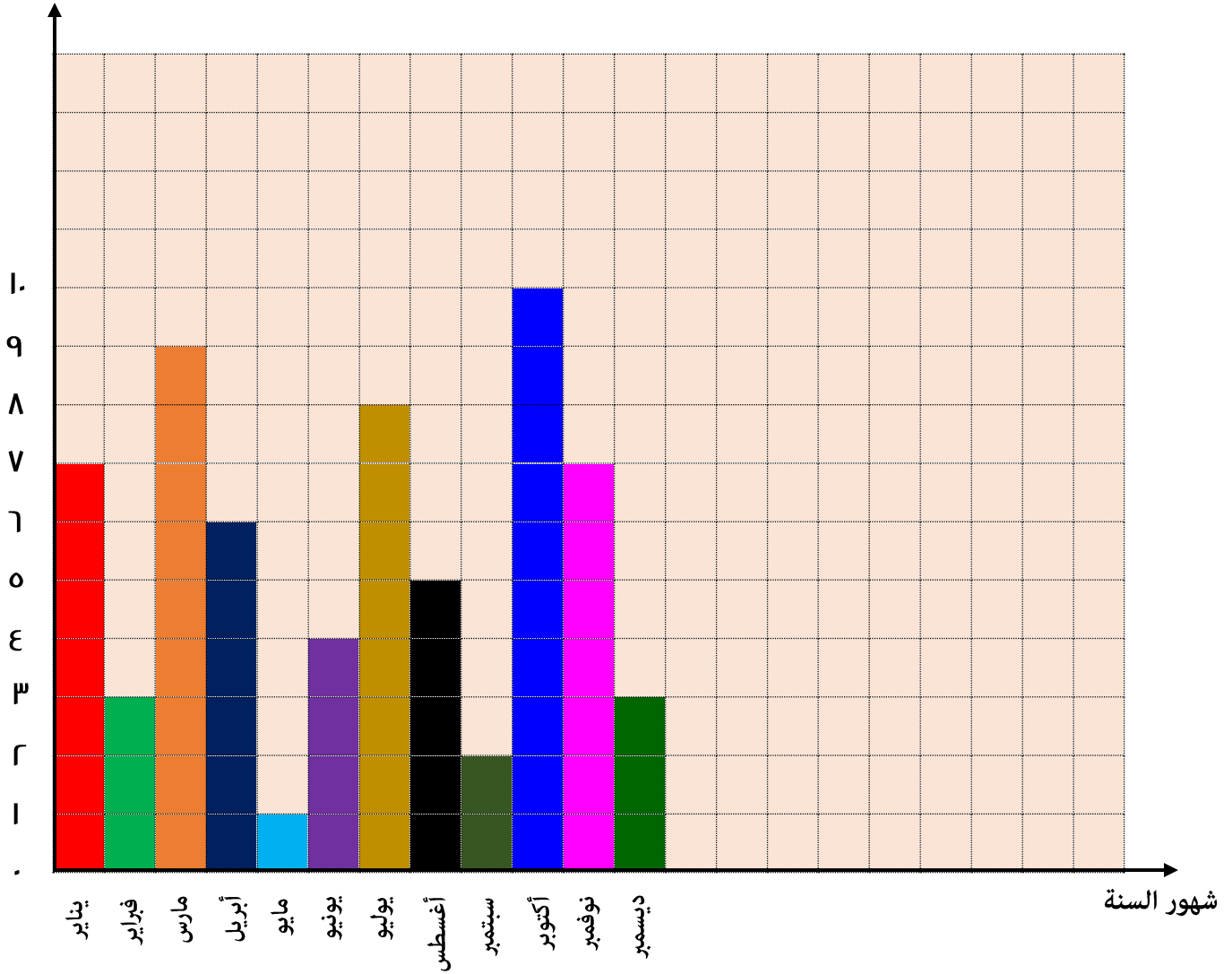
باستخدام الرسم التخطيطي التالي، أجب عن الأسئلة الآتية:

							×				
	×						×				
	×			×			×				
	×			×			×				×
	×		×	×			×			×	×
×	×		×	×		×	×			×	×
×	×		×	×	×	×	×		×	×	×
×	×		×	×	×	×	×	×	×	×	×
ديسمبر	نوفمبر	أكتوبر	سبتمبر	أغسطس	يوليو	يونيو	مايو	أبريل	مارس	فبراير	يناير

- ← كم عدد التلاميذ المولودين في شهر مايو؟
.....
- ← كم عدد التلاميذ المولودين في شهر ديسمبر؟
.....
- ← كم عدد التلاميذ المولودين في شهر أغسطس؟
.....
- ← كم عدد التلاميذ المولودين في شهر نوفمبر؟
.....
- ← كم عدد التلاميذ المولودين في شهر أبريل؟
.....
- ← كم عدد التلاميذ المولودين في شهر يناير؟
.....
- ← كم عدد التلاميذ المولودين في شهر أكتوبر؟
.....
- ← كم عدد التلاميذ المولودين في شهر يوليو؟
.....
- ← كم عدد التلاميذ المولودين في شهر مارس؟
.....
- ← كم عدد التلاميذ المولودين في شهر فبراير؟
.....
- ← كم عدد التلاميذ المولودين في شهر يونيو؟
.....
- ← كم عدد التلاميذ المولودين في شهر سبتمبر؟
.....

باستخدام الرسم التخطيطي التالي، أجب عن الأسئلة الآتية:

عدد التلاميذ



- ← عدد التلاميذ الذين اعياد ميلادهم في شهر أكتوبر =
- ← عدد التلاميذ الذين اعياد ميلادهم في شهر فبراير =
- ← عدد التلاميذ الذين اعياد ميلادهم في شهر يوليو =
- ← الشهر الذي يوجد به أكبر عدد من أعياد الميلاد =
- ← الشهر الذي يوجد به أصغر عدد من أعياد الميلاد =
- ← الشهر الذي به عدد 7 اعياد ميلاد =