

تم تحميل هذا الملف من موقع ملفات الكويت التعليمية



[com.kwedufiles.www//:https](https://www.kwedufiles.com)

\*للحصول على أوراق عمل لجميع الصفوف وجميع المواد اضغط هنا

\* للحصول على أوراق عمل لجميع مواد الصف الثاني اضغط هنا

<https://kwedufiles.com/2>

\* للحصول على جميع أوراق الصف الثاني في مادة علوم وجميع الفصول, اضغط هنا

<https://kwedufiles.com/2science>

\* للحصول على أوراق عمل لجميع مواد الصف الثاني في مادة علوم الخاصة بـ الفصل الأول اضغط هنا

<https://www.kwedufiles.com/2science1>

\* لتحميل كتب جميع المواد في جميع الفصول للـ الصف الثاني اضغط هنا

<https://www.kwedufiles.com/grade2>

[bot\\_kwlinks/me.t//:https](https://t.me/bot_kwlinks)

للحصول على جميع روابط الصفوف على تلغرام وفيسبوك من قنوات وصفحات: اضغط هنا

الروابط التالية هي روابط الصف الثاني على مواقع التواصل الاجتماعي

مجموعة الفيسبوك

صفحة الفيسبوك

مجموعة التلغرام

بوت التلغرام

قناة التلغرام





رياضيات على التلغرام



- أرسم ٤ كائنات حية و ٤ كائنات غير حية في الجدول التالي :

كائنات غير حية	كائنات حية

- ضع علامة √ أو x أمام العينة

العينة				
تتنفس				
تشرب				
تتغذى				

- ارسم 😊 او 😞 تحت الصور التالية :



- أكتب المصطلحات التالية :

تَغْذَى	تَشْرَبُ	تَنْفَسُ
_____	_____	_____

- ارسم نبتة ، ثم دون بيانات أجزائها باستخدام الكلمات التي أمامك

سَاقٌ	زَهْرَةٌ	وَرَقَةٌ	جُذُورٌ

- ارسم جزء النبات تحت كل كلمة

سَاقٌ	زَهْرَةٌ	وَرَقَةٌ	جُذُورٌ



- أكتب المصطلحات التالية :

زَهْرَة	وَرَقَة	سَاق	جَذْر
_____	_____	_____	_____



- ارسم 😊 او 😞 تحت الصور التالية :






- سجل ملاحظتك :

العينة	يوم (1)	يوم (2)	يوم (3)	يوم (4)
 1				
 2				

- ارسم النباتين بعد مرور أربعة أيام

	
_____	_____

- أكتب ( تثبت أو تسقط ) عند كل نبتة :

الملاحظات		العينة
		

- سجل ملاحظتك في الجدول :


يَوْم (3)	يَوْم (2)	يَوْم (1)	ملاحظة لون الزهرة
			
			

- ارسم 😊 او 😞 تحت الصور التالية :

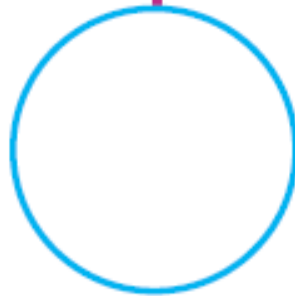


- أكمل الجدول التالي :



عينة	يوم (1)	يوم (2)	يوم (3)
(1)			
(2)			



- أكمل المخطط التالي :



- صل بين شكل النبات و الثمرة المناسبة :



- ارسم 😊 او 😞 تحت الصور التالية :



- اختر الاجابة الصحيحة :

١- الجزء الذي يثبت النبات في التربة و يمتص الماء :



٢- الغذاء الذي تصنعه الورقة للنبات هو .....

تربة

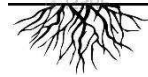
مادة سكرية

٣- جزء في النبات يتحول إلى ثمرة هو ....

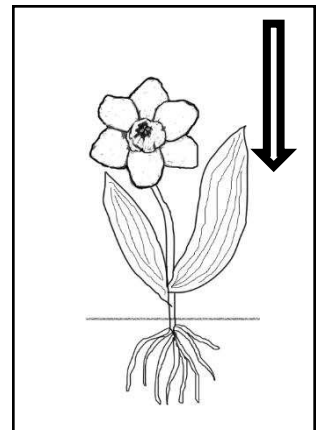
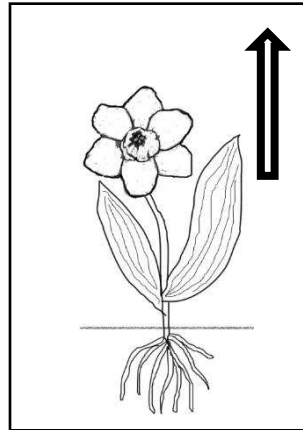
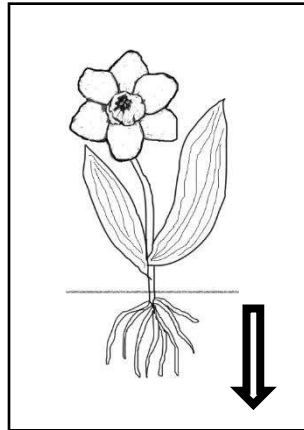
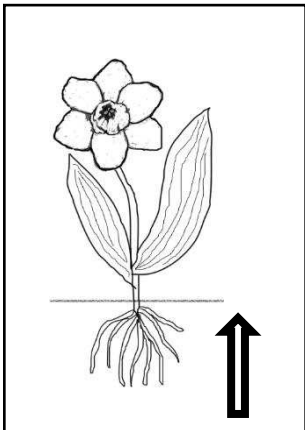
زهرة

ساق

٤- الجزء الذي يصنع الغذاء في النبات هو ...

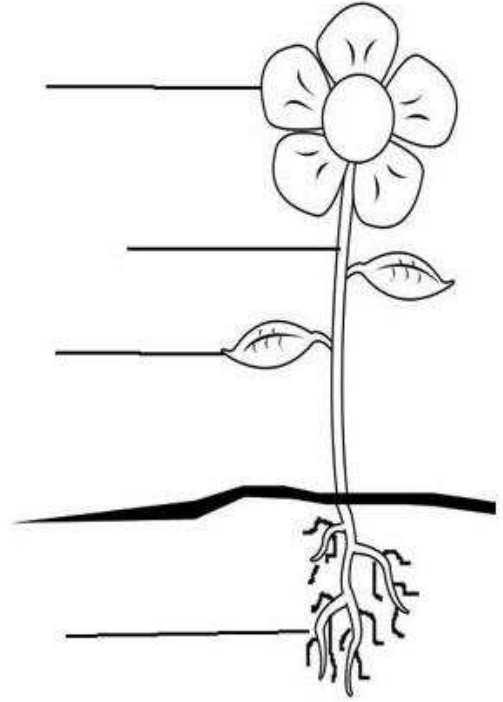


٥- الصور الصحيحة التي تمثل انتقال الماء في النبات هي :






- أكتب أجزاء النبات :



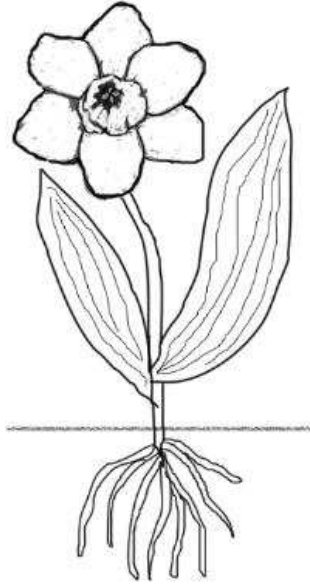
- صل بخط بين جزء النبات والوظيفة التي يقوم بها :

تصنع غذاء النبات		الساق
تتحول إلى ثمرة		الزهرة
تحمل الأوراق و الأزهار		الأوراق

- حوط الصور التي تعبر عن الكائنات الحية فقط :



- صل جزء كل نبات بمكانه المناسب :




ورقة

ساق

جذر

زهرة

- ارسم الجزء الناقص



- ضع علامة  $\checkmark$  أو  $\times$  :

- ١- تعد السيارة من الكائنات الحية التي تنمو و تتكاثر . ( )
- ٢- أجزاء النبات هي : الورقة و الزهرة فقط . ( )
- ٣- عند وضع نبتة كاملة في ماء ملون وتركها لمدة يومين سوف يتغير لون الزهرة . ( )
- ٤- تحتاج الورقة لصنع الغذاء إلى ماء وهواء وضوء الشمس . ( )