

تم تحميل هذا الملف من موقع ملفات الكويت التعليمية



[com.kwedufiles.www//:https](https://www.kwedufiles.com)

\*للحصول على أوراق عمل لجميع الصفوف وجميع المواد اضغط هنا

\* للحصول على أوراق عمل لجميع مواد الصف الثاني اضغط هنا

<https://kwedufiles.com/2>

\* للحصول على جميع أوراق الصف الثاني في مادة علوم ولجميع الفصول, اضغط هنا

<https://kwedufiles.com/2science>

\* للحصول على أوراق عمل لجميع مواد الصف الثاني في مادة علوم الخاصة بـ الفصل الأول اضغط هنا

<https://www.kwedufiles.com/2science1>

\* لتحميل كتب جميع المواد في جميع الفصول للـ الصف الثاني اضغط هنا

<https://www.kwedufiles.com/grade2>

\* لتحميل جميع ملفات المدرس مدرسة النجاة النموذجية اضغط هنا

[bot\\_kwlinks/me.t//:https](https://t.me/bot_kwlinks)

\* للحصول على جميع روابط الصفوف على تلغرام وفيسبوك من قنوات وصفحات: اضغط هنا

الروابط التالية هي روابط الصف الثاني على مواقع التواصل الاجتماعي

مجموعة الفيسبوك

صفحة الفيسبوك





مجموعة التلغرام

بوت التلغرام


قناة التلغرام

رياضيات على التلغرام

السؤال الاول: ضع علامة ( √ ) اسفل الكائنات الحية وعلامة ( x ) اسفل الاشياء غير الحية:-

				العَبِيَّةُ
				تَنْتَفَسُ
				تَشْرَبُ
				تَتَغَذَّى

السؤال الثاني: ضع علامة ( √ ) اسفل السلوك الصحيح وعلامة ( x ) اسفل السلوك الخاطي:-



السؤال الثالث: وصل اجزاء النبات بالاسم المناسب لها :-



ورقة


جزر

ساق

زهرة

الاسم : \_\_\_\_\_

السؤال الأول : أكمل البيانات على الرسم؟



السؤال الثاني: اختار من المجموعة (ب) ما يناسبها من المجموعة (أ):

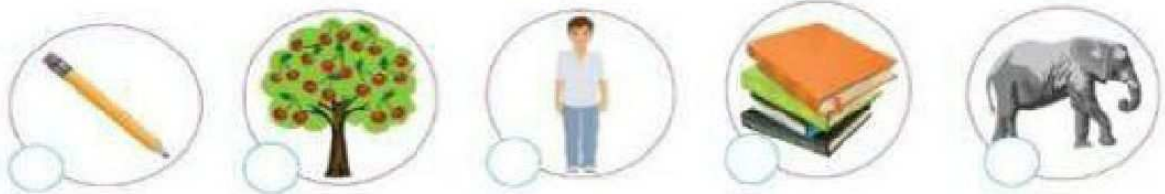
2

الرقم	المجموعة (أ)	المجموعة (ب)
1	جزء من النبات يثبت النبتة	1 الأزهار
2	جزء من النبات ينقل الماء الى الأوراق والأزهار	2 الأوراق
3	جزء من النبات يصنع الغذاء	3 الجذور
4	جزء من النبات يتحول إلى ثمرة	4 الساق

السؤال الثالث: ضعي علامة (√) امام العبارة الصحيحة علميا وعلامة (×) امام العبارة الغير صحيحة

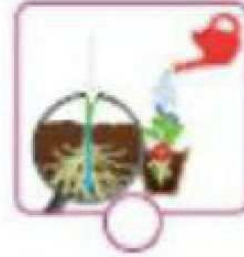
- 1- يصنع الساق الغذاء للنبتة. ( )
- 2- يحتاج النبات لينمو الى الهواء والماء فقط. ( )
- 3- تنمو الجذور  أعلى التربة. ( )
- 4- الثمرة تحتوي على بذرة وتعطينا نباتا جديدا. ( )
- 5-  تمثل الزهرة في النبات. ( )

السؤال الرابع : ضع علامة (√) للكائنات الحية وعلامة (×) للأشياء الغير حية:



السؤال الخامس: اختار الصورة الصحيحة بوضع علامة (√):



1- انتقال الماء في النبات:



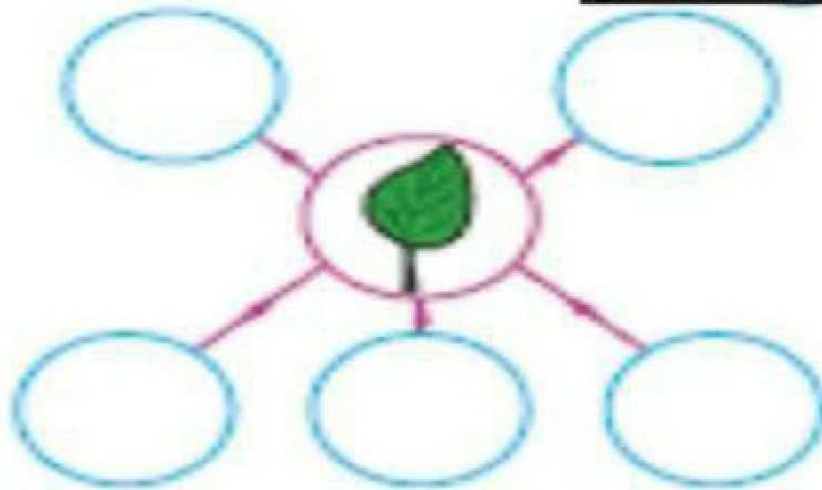
2- النبتة التي تثبت مع وجود الريح :



3 - الجزء من النبات الذي ينتج مادة سكرية وهواء :



السؤال السادس: أكمل المخطط التالي:



السؤال الأول : صلي جزء كل نبات بمكانه المناسب :



ورقة

ساق

جنر

















زهرة

السؤال الثاني :- أكمل الجزء الناقص للنبته .



2

اكتب كلمة [كائن حي] أو كلمة [كائن غير حي] أسفل الصور التالية :-

			
.....	.....	.....	.....
			
.....	.....	.....	.....
			
.....	.....	.....	.....
			
.....	.....	.....	.....

## الدرس 2 : ما وظيفة الجذور ؟

التمرين الأول : صل الكلمة المناسبة للعبارة :

جزء من النبتة يثبت النبتة في التربة



جذور	ساق	أوراق	زهرة
------	-----	-------	------



وزارة التربية

مدرسة فجر الصباح الأهلية

المجال الدراسي : علوم

الإدارة العامة للتعليم الخاص

ورقة عمل

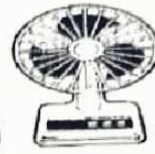
الفصل الدراسي الأول

الاسم : .....

الصف الثاني الابتدائي .....

4

السؤال الأول : ضع علامة ( ) أمام العبارة الصحيحة وعلامة ( ) أمام العبارة الخاطئة:







1- عند وضع مروحة  أمام نبتة لها جذور ستقع النبتة.



2- ثمرة التفاح تحتوي على بذرة تعطينا بدورها نباتًا جديدًا.

السؤال الثاني: صل المجموعة (أ) بما يناسبها من المجموعة (ب):

المجموعة (ب)	المجموعة (أ)
 -2- الجذور  -1- للساق	الجزء المسؤول عن نقل الماء من الجذور إلى باقي أجزاء النبات هو:
 -2  -1	جزء من النبات وظيفته صنع الغذاء بواسطة ضوء الشمس:




المادة : علوم

الاسم : .....

الصف : ٢ : .....

السؤال الأول: صل الصورة بالكلمة بما يناسبها في المربع :-



زهرة	جزر	شئ غير حى	كائن حى
------	-----	-----------	---------

السؤال الثانى : اكمل الفراغات بما يناسبها مما بين القوسين :-

( ورقة - انسان - جزر )

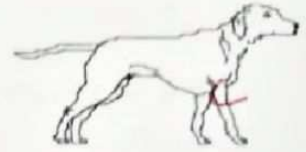
١- ..... كائن حى

٢- ..... تصنع الغذاء

٣- ..... يمتص الماء من التربة

السؤال الأول : اختر الإجابة الصحيحة علمياً لكل من العبارات التالية بوضع علامة (✓) في المربع المقابل لها : (4 = 1x4 درجة)

1- كائن حي يتغذى ويشرب ويتنفس هو :



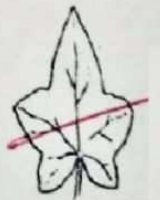
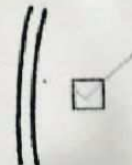
2- النبات الذي سينمو ويكبر :



3- الصورة الصحيحة التي تمثل انتقال الماء في النبات هي :



4- الجزء الذي يصنع الغذاء في النبات هو :



السؤال الثاني : اكتب كلمة (صحيحة) أمام العبارات الصحيحة، وكلمة (خطأ) أمام العبارات غير الصحيحة فيما يلي: (4 = 1x4 لدرجة)

من الكائنات الحية التي تنمو وتتكاثر.



1- تعد السيارة

فقط.



والزهرة



2- أجزاء النبات هي: الورقة



3- عند وضع نبتة كاملة الأجزاء

في ماء ملون وتركها لمدة يومين سوف يتغير لون


الزهرة.



4- تحتاج الورقة لصنع الغذاء إلى ماء وهواء وضوء الشمس.

السؤال الثالث : أكمل بوضع الإجابة المناسبة في الفراغ (2x1=2)

1- الغذاء الذي تصنعه الورقة للنبات هو .....



تربة -




( مادة سكرية )

2- جزء في النبات يتحول إلى ثمرة هو .....



(

ساق -



) زهرة

قسم العلوم



وزارة التربية

الإدارة العامة للتعليم الخاص الصف الثاني الابتدائي

ورقة عمل للصف الثاني الابتدائي للكفاية العامة (١-١)

اسم الطالب / .....


السؤال الأول: ضع علامة (√) أمام الكائنات الحية وعلامة (x) أمام الأشياء غير الحية :-



السؤال الثاني: حوِّط الصور التي تعبرلتي تعبر عن الكائنات الحية :-



الشيء الذي ينفخ وينفخ .....  
الشيء الذي ينفخ وينفخ .....  
الشيء الذي ينفخ وينفخ .....  
الشيء الذي ينفخ وينفخ .....



الشيء الذي ينفخ وينفخ .....  
الشيء الذي ينفخ وينفخ .....





أمام العبارة الصحيحة وعلامة ( ✓ ) وأمام العبارة الغير صحيحة :  
كائن حي يتنفس ويتغذى

( )



( )

كائن حي لا يتحرك ولا يتنفس

( )



كائن حي يتنفس ويتغذى ويتحرك

( )

كائن حي يحتاج للماء والهواء والطعام



( )

كائنات حية تتغذى وتشرب وتنفس

( )

كائنات حية تنمو وتشرب وتنفس



النباتات

( )

لا تحتاج الكائنات الحية للماء والهواء والغذاء لتبقى حية

( )

أ- إيذاء الحيوانات من السلوكيات الصحيحة

السؤال الأول : ضع علامة ( ) أمام العبارة الصحيحة وعلامة ( ) أمام العبارة الخاطئة:

على نقل الماء والغذاء من الجذور إلى الأوراق.



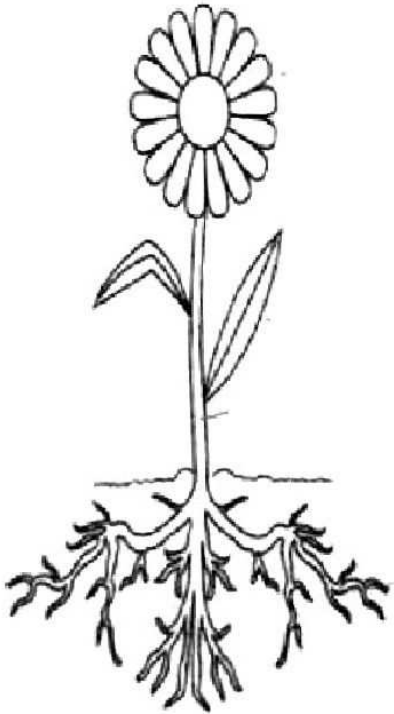
١- يساعد الساق

كائنات حية تنمو وتكبر، تتنفس وتتغذى.



٢- تعتبر النباتات

السؤال الثاني: صل الكلمة بالجزء الدال عليها:



زهرة

ساق

جذور


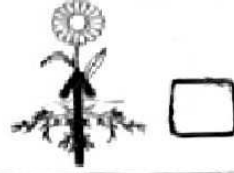

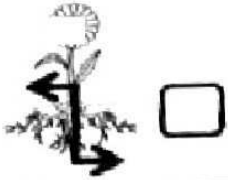
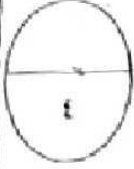
ورقة



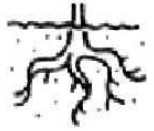
السؤال الاول : اختر الإجابة الصحيحة علميا لكل مما يأتي وعلك بوضع علامة

لها (1×4) = 4 درجة :-

١- الاتجاه الصحيح لنمو جذور النبات :-




٢ جزء من النبات يصنع الغذاء :-



٣) شيء غير حي :-



٤) سلوك غير صحيح :-



الدرس : ما وظيفة الجذور ؟

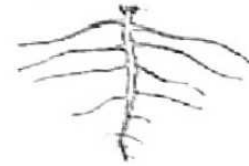
المواز الأول : أضع علامة ( √ ) أمام العبارة الصحيحة وعلامة ( x ) أمام العبارة الغير صحيحة:

( )

استتبت الجذور النباتات في التربة

( )

٢- تنمو الجذور أعلى سطح التربة



( )

٣- تقوم الجذور بصنع الغذاء للنبات

( )

٤- يحتاج النبات إلى الهواء والماء و ضوء الشمس لكي ينمو

( )

٥- الجذور تمتص الماء من التربة

( )

٦- تموت النباتات بدون الجذور ولا يصل لها الماء

السؤال الاول: صل كل جزء من أجزاء النبات بالشكل المناسب له .




ساق

زهرة

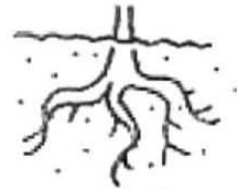


ورقة

جذر

السؤال الاول : ضع علامة (√) في الدائرة التي تحتوي على كائن حي وعلامة (x) للكائن الغير حي



سؤال الرابع : اكتب الكلمة المناسبة أمام كل صورة :

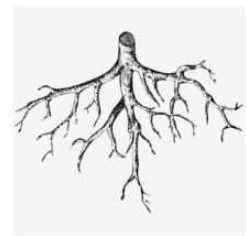


اكتب اسم جزء النبات المناسب

الاسم	الوظيفة
.....	أنا امتص الماء من التربة وأثبت النبات
.....	أنا أقوم بتوصيل الماء للأزهار والأوراق
.....	أنا أصنع الغذاء للنبات
.....	أنا أتحول لثمرة

السؤال الثاني: من تكمّل بالصورة المناسبة :

زهرة



ورقة



ساق



جنور



السؤال الثالث : أكمل المخطط التالي لأجزاء النبات:

