


حوظ الشيء بين

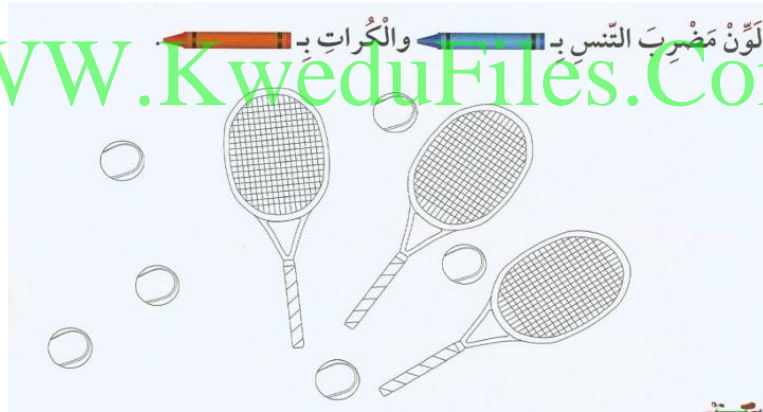


حوظ الكرات الخضراء



مناقشة مثال الكتاب ص ٢٦

لَوْنُ مَضْرِبِ التَّنْسِ بِـ _____ وَالْكَرَاتِ بِـ _____



حوظ الشكل الذي يُكْمَل النمط .



العدد الذي يُكْمَل النمط .

٢ ، ٤ ، ٦ ، _____ ، ١٠

اكتب رمز العدد .

<p>ب</p> <p>٥٠ + ٦</p>	<p>أ</p> <p>١ وَحْدَةٌ وَ ٩ عَشْرَاتٍ</p>
------------------------	---

حوظ



ب (العدد الاصغر

١٧ ٥٢

أ (العدد الاكبر

٣٦ ٤٣

قارن . ضع رمز العلاقة (< أو > أو =)



WWW.KweduFiles.Com

حوظ

ب (العدد الفردي



أ (العدد الزوجي



باستخدام خط الاعداد أكمل بما هو مطلوب



أ وَضَعُ عَلَى الْعَدَدِ الَّذِي يَأْتِي مُبَاشَرَةً بَعْدَ الْعَدَدِ ٥٣ .

ب وَضَعُ عَلَى الْعَدَدِ الَّذِي يَأْتِي مُبَاشَرَةً قَبْلَ الْعَدَدِ ٥٩ .

ج وَضَعُ عَلَى الْعَدَدِ الَّذِي يَأْتِي بَيْنَ الْعَدَدَيْنِ ٥٠ ، ٥٢ .

اكتب عائلة الحقائق للأعداد التالية .

<input type="text"/>		<input type="text"/>
<input type="text"/>	-	<input type="text"/>
<hr/>		
<input type="text"/>		<input type="text"/>

<input type="text"/>		<input type="text"/>
<input type="text"/>	+	<input type="text"/>
<hr/>		
<input type="text"/>		<input type="text"/>

أوجد الناتج ، ثم صل العبارة ذات الصلة المناسبة :-

<input type="text"/> = ٨ + ٨	•
<input type="text"/> = ٥ + ٥	•
<input type="text"/> = ٩ + ٩	•
<input type="text"/> = ٤ + ٤	•

<input type="text"/> = ٤ - ٨	•
<input type="text"/> = ٩ - ١٨	•
<input type="text"/> = ٨ - ١٦	•
<input type="text"/> = ٥ - ١٠	•

WWW.KweduFiles.Com

اكتب رمز العدد ناقص

$$\begin{array}{r} 9 \\ \square + \\ \hline 6 \end{array}$$

$$\begin{array}{r} 9 \\ 6 + \\ \hline \square \end{array}$$

$$\begin{array}{r} \square \\ 6 + \\ \hline 9 \end{array}$$

$$\begin{array}{r} 6 \\ \square + \\ \hline 9 \end{array}$$

مع خالد ١٨ ديناراً أعطاه والده ١٥ ديناراً كم ديناراً أصبح معه ؟

حوظ المسألة التي تحتاج إلي إعادة التسمية . ثم اوجد الناتج .

٥	٦	٧	٨
$\begin{array}{r} 60 \\ + 26 \\ \hline \end{array}$	$\begin{array}{r} 92 \\ - 48 \\ \hline \end{array}$	$\begin{array}{r} 42 \\ + 26 \\ \hline \end{array}$	$\begin{array}{r} 53 \\ - 17 \\ \hline \end{array}$
<input type="text"/>	<input type="text"/>	<input type="text"/>	<input type="text"/>

اختر الإجابة الصحيحة بوضع ✓

١ القاعدة المُستخدمة لإيجاد المُخرجات هي:

إِجْمَع ٣ إِطْرَحْ ٥ إِجْمَعْ ٥

٢ رَمَزُ العَدَدِ الناقصِ هُوَ:

$\begin{array}{r} 51 \\ - 24 \\ \hline \end{array}$ $\begin{array}{r} 56 \\ - 24 \\ \hline \end{array}$ $\begin{array}{r} 24 \\ + 56 \\ \hline \end{array}$ $\begin{array}{r} 24 \\ - 56 \\ \hline \end{array}$

٢٤ ٣٢ ٥٦

٣ = ١٩ - ٧١


حوظ المسألة التي تحتاج إلي إعادة التسمية . ثم اوجد الناتج .

٥	٦	٧	٨
$\begin{array}{r} 60 \\ + 26 \\ \hline \end{array}$	$\begin{array}{r} 92 \\ - 48 \\ \hline \end{array}$	$\begin{array}{r} 42 \\ + 26 \\ \hline \end{array}$	$\begin{array}{r} 53 \\ - 17 \\ \hline \end{array}$
<input type="text"/>	<input type="text"/>	<input type="text"/>	<input type="text"/>

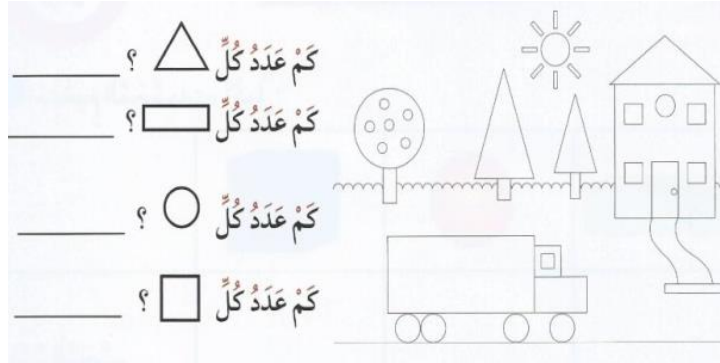
ارسم أكمل الناقص

١	بَدَأْنَا بِهَذَا العَدَدِ	أَرَسَمُ مَا جَمَعْتَهُ	صَارَ مَعَنَا هَذَا العَدَدُ

حوظ الشكل الذي يطابق الشكل الاول .




أجب عن الأسئلة التالية من خلال الرسم الموضح :-



WWW.KweduFiles.Com

عبر عن عدد العناصر في الصورة



= عدد العناصر

أوجد الناتج في كل مما يأتي :-

$$\begin{array}{r} 2 \\ 3 \\ \hline \end{array} \times \quad \underline{\quad} = 2 \times 3$$

أ ٣ مَجْموعاتٍ في كُلِّ مِنْهَا ٢

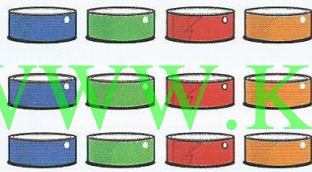


$$\begin{array}{r} 6 \\ 3 \\ \hline \end{array} \times \quad \underline{\quad} = 6 \times 3$$

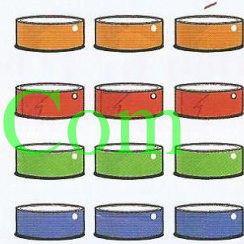
ب ٣ صُفوفٍ في كُلِّ مِنْهَا ٦



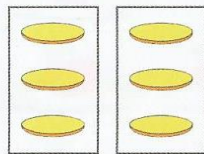
أكتب عبارتي الضرب :



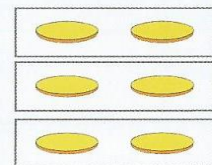
$$\underline{\quad} = \underline{\quad} \times \underline{\quad}$$



$$\underline{\quad} = \underline{\quad} \times \underline{\quad}$$



$$\underline{\quad} = \underline{\quad} \times \underline{\quad}$$



$$\underline{\quad} = \underline{\quad} \times \underline{\quad}$$

أوجد الناتج :-

$$= 0 \times 5$$

$$= 3 \times 3$$

$$= 4 \times 2$$

$$= 2 \times 2$$

$$= 5 \times 2$$

$$= 1 \times 4$$