

تم تحميل هذا الملف من موقع ملفات الكويت التعليمية



[com.kwedufiles.www//:https](https://www.kwedufiles.com)

*للحصول على أوراق عمل لجميع الصفوف وجميع المواد اضغط هنا

* للحصول على أوراق عمل لجميع مواد الصف الثاني اضغط هنا

<https://kwedufiles.com/2>

* للحصول على جميع أوراق الصف الثاني في مادة رياضيات ولجميع الفصول, اضغط هنا

<https://kwedufiles.com/2math>

* للحصول على أوراق عمل لجميع مواد الصف الثاني في مادة رياضيات الخاصة بـ الفصل الثاني اضغط هنا

<https://www.kwedufiles.com/2math2>

* لتحميل كتب جميع المواد في جميع الفصول للـ الصف الثاني اضغط هنا

<https://www.kwedufiles.com/grade2>

* لتحميل جميع ملفات المدرس قسم الرياضيات اضغط هنا

[bot_kwlinks/me.t//:https](https://me.t/bot_kwlinks)

للحصول على جميع روابط الصفوف على تلغرام وفيسبوك من قنوات وصفحات: اضغط هنا

الروابط التالية هي روابط الصف الثاني على مواقع التواصل الاجتماعي

مجموعة الفيسبوك

صفحة الفيسبوك

مجموعة التلغرام

بوت التلغرام

قناة التلغرام


رياضيات على التلغرام



١) وزّع ١٢ زهرة على ٤ مزهريّات بالتساوي ، ثم أكتب عبارتي قسمة .

$$\underline{\quad} = \underline{\quad} \div \underline{\quad}$$

$$\underline{\quad} = \underline{\quad} \div \underline{\quad}$$



٢) أوجد ناتج ما يأتي :

$$\underline{\quad} = 6 \div 6$$

$$\underline{\quad} = 5 \div 5$$

$$\underline{\quad} = 4 \div 4$$

$$\underline{\quad} = 2 \div 14$$


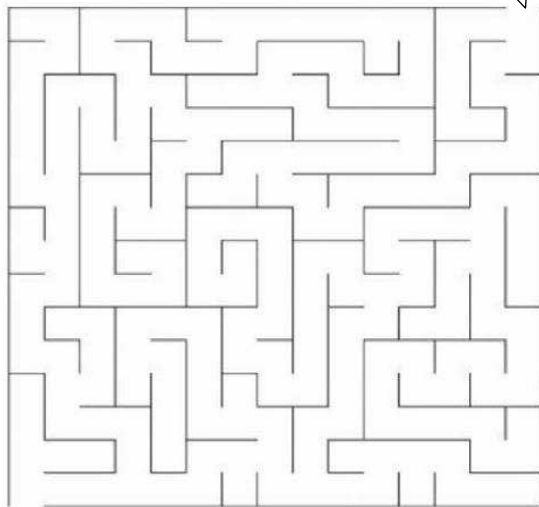
$$\underline{\quad} = 5 \div 10$$

$$\underline{\quad} = 5 \div 15$$

٣) صل بين عبارة القسمة و ناتج القسمة .

$$5 \div 25$$

$$2 \div 18$$



٦

٧

٤

٥

٩