




وزارة التربية
الإدارة العامة لمنطقة الأحمدية التعليمية
مدرسة هدية الابتدائية بنين

وسائل الوحدة (١٢)

WWW.KweduFiles.Com

للمصف الثاني



• قسم الرياضيات


إعداد

• رئيسة القسم : شيمه المطيري

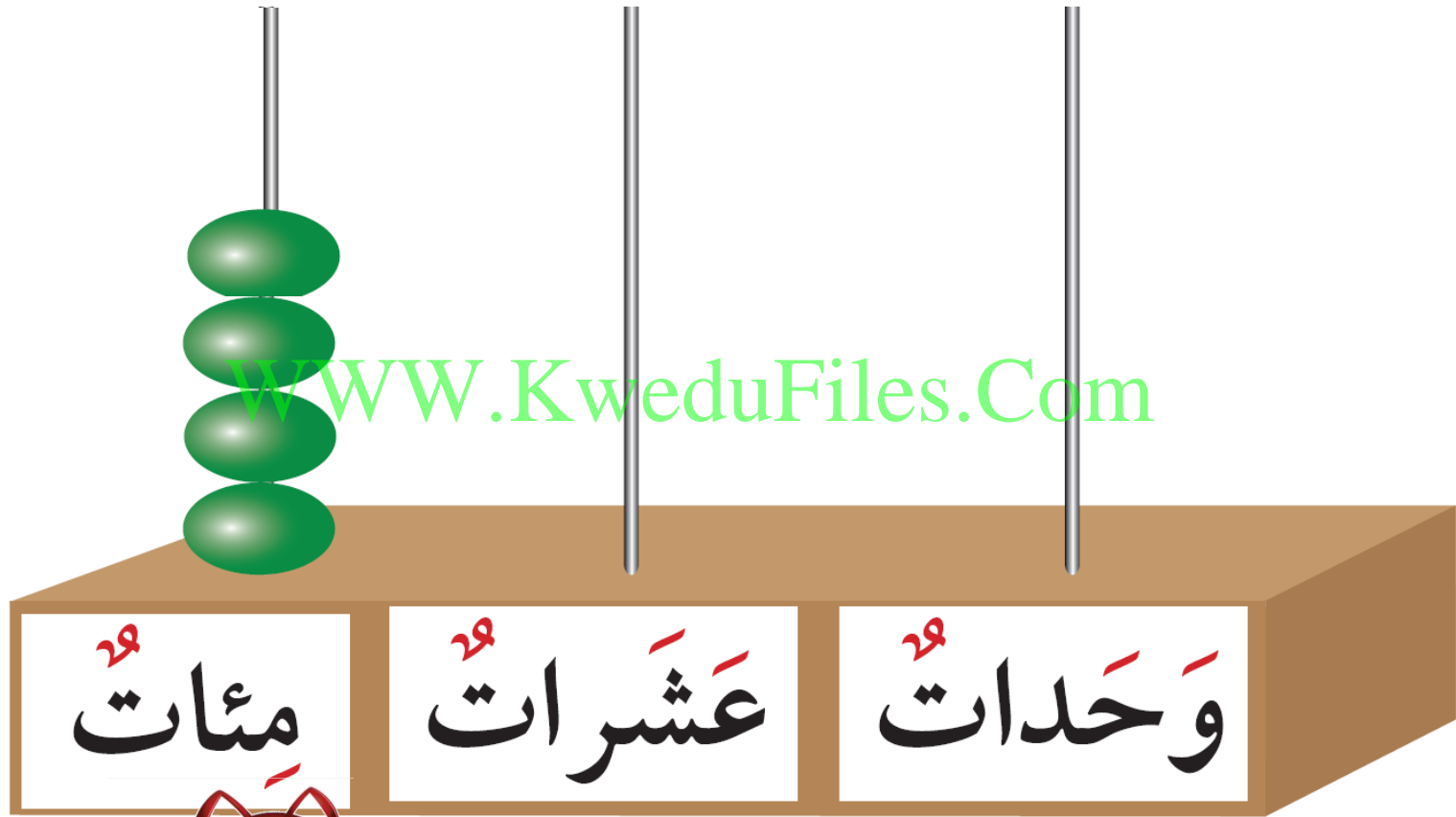
إشراف

• العد بالمئات الكاملة حتى العدد ١٠٠٠



بند (١٢-١)



اكتب رمز العدد




اكتب رمز العدد




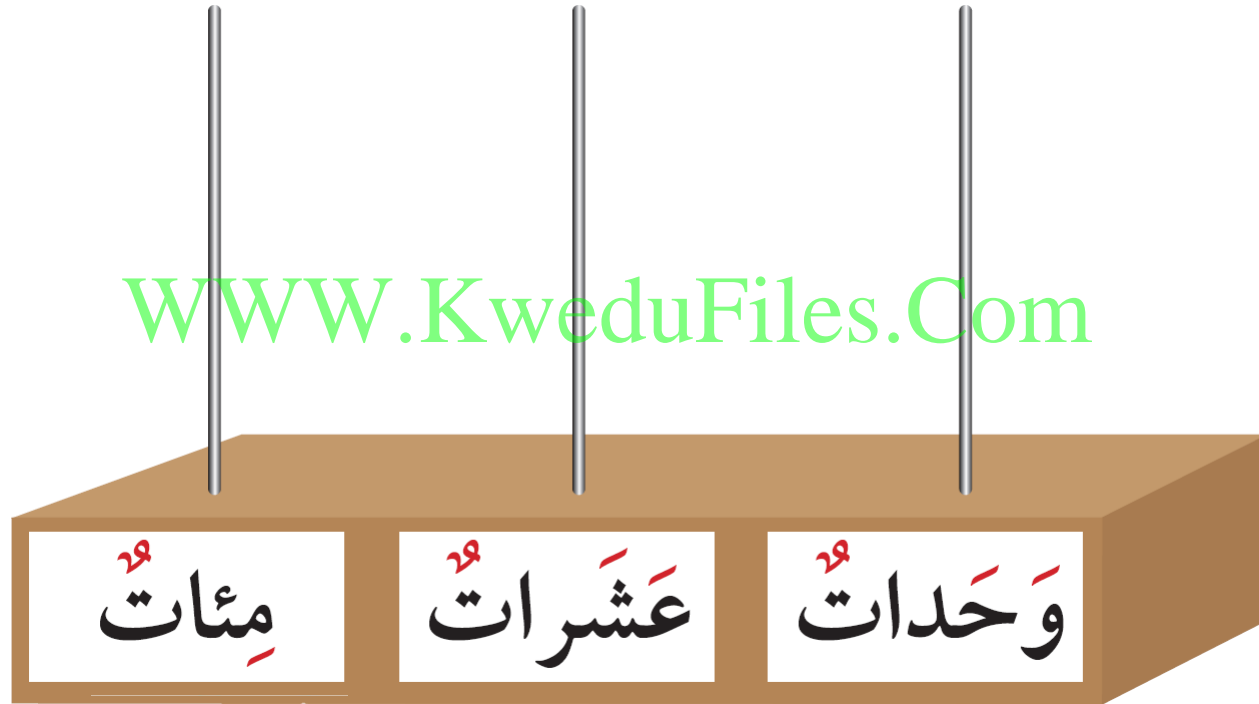
اكتب رمز العدد

WWW.KweduFiles.Com



مِثْلُ الْعِدَدِ عَلَى الْمَعْدَادِ


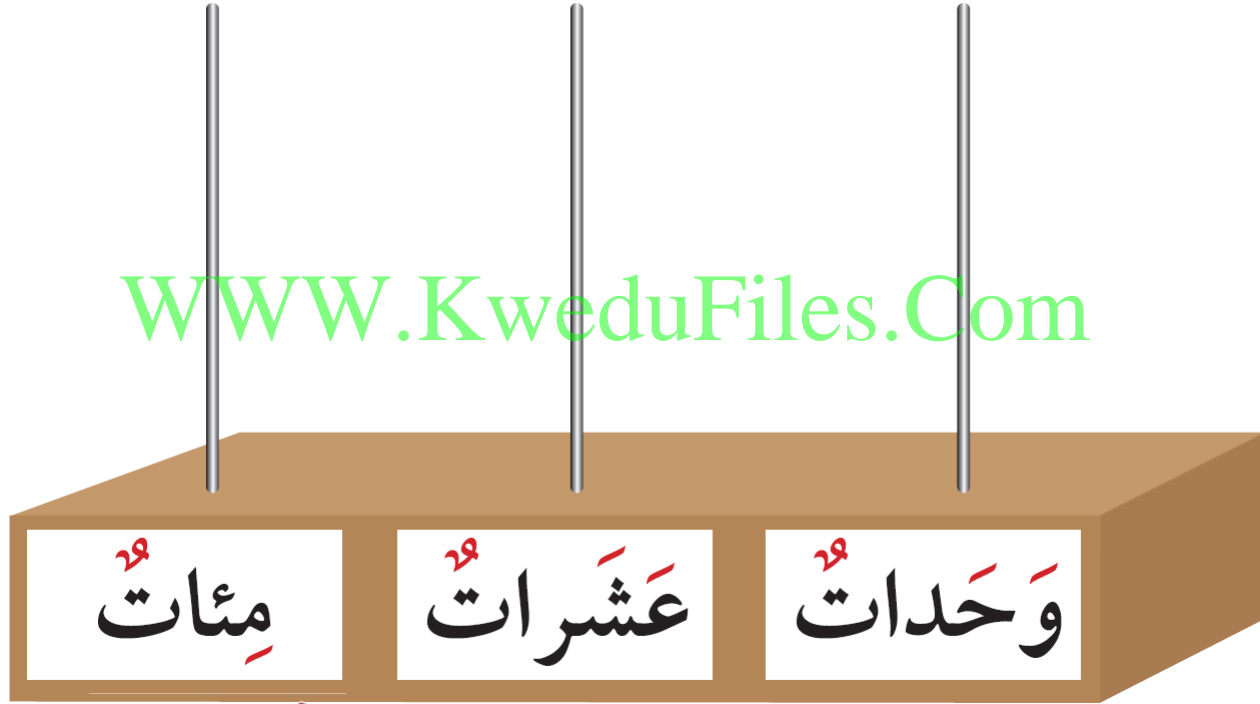
WWW.KweduFiles.Com



٣٠٠

مِثْلُ الْعِدَدِ عَلَى الْمَعْدَادِ


WWW.KweduFiles.Com



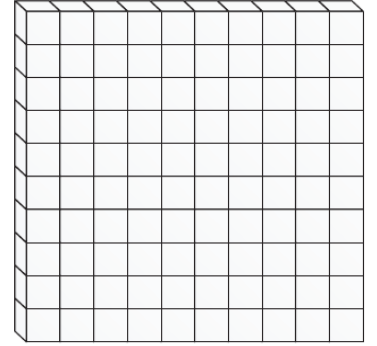
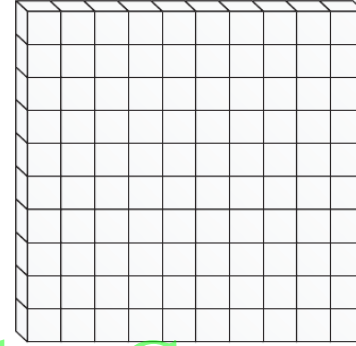
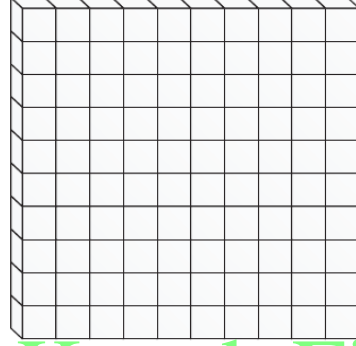
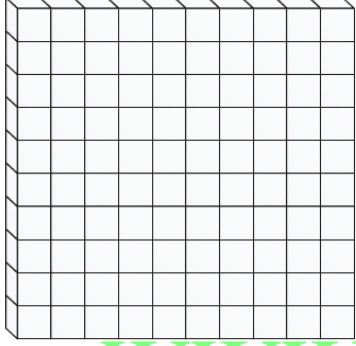
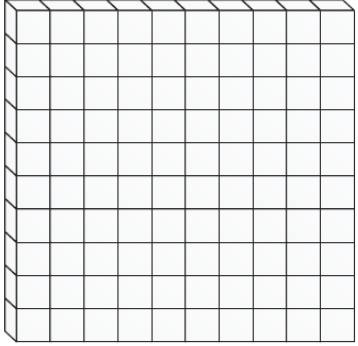
٦٠٠

أكمل سلسلة الأعداد




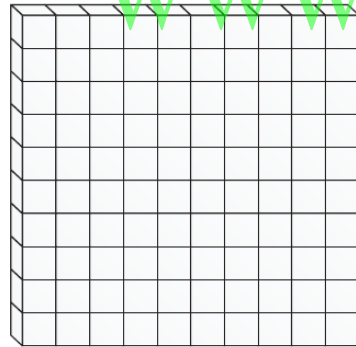
WWW.KweduFiles.Com



نون ما يمثل العدد



www.KweduFiles.Com



۱۰

اكتب الاسم اللفظي للعدد

www.KweduFiles.Com



أكمل

٥ . .

www.KweduFiles.Com

٦ . .

أكمل

٨ . .


www.KweduFiles.Com

٥ . .

الأعداد حتى العدد ١٠٠

WWW.KweduFiles.Com




بند (٢-١٢)





أكمل

مئات ^{٢٩}	عشرات ^{٢٩}	آحاد ^{٢٩}	مئات ^{٢٩}	عشرات ^{٢٩}	وحدات ^{٢٩}
					

www.kwedufiles.com

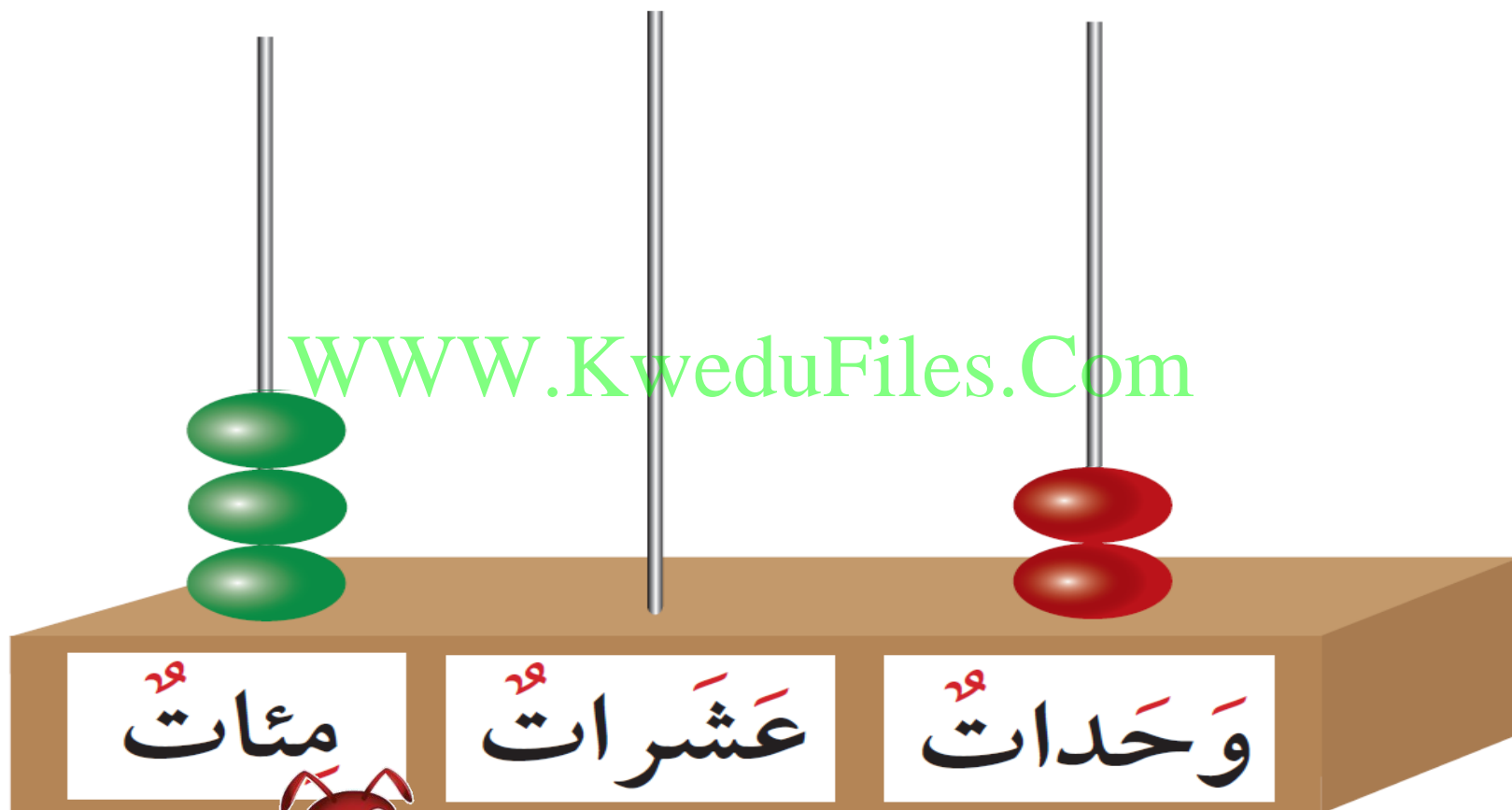
مئات ^{٢٩}	عشرات ^{٢٩}	آحاد ^{٢٩}	مئات ^{٢٩}	عشرات ^{٢٩}	وحدات ^{٢٩}
					

اكتب رمز العدد


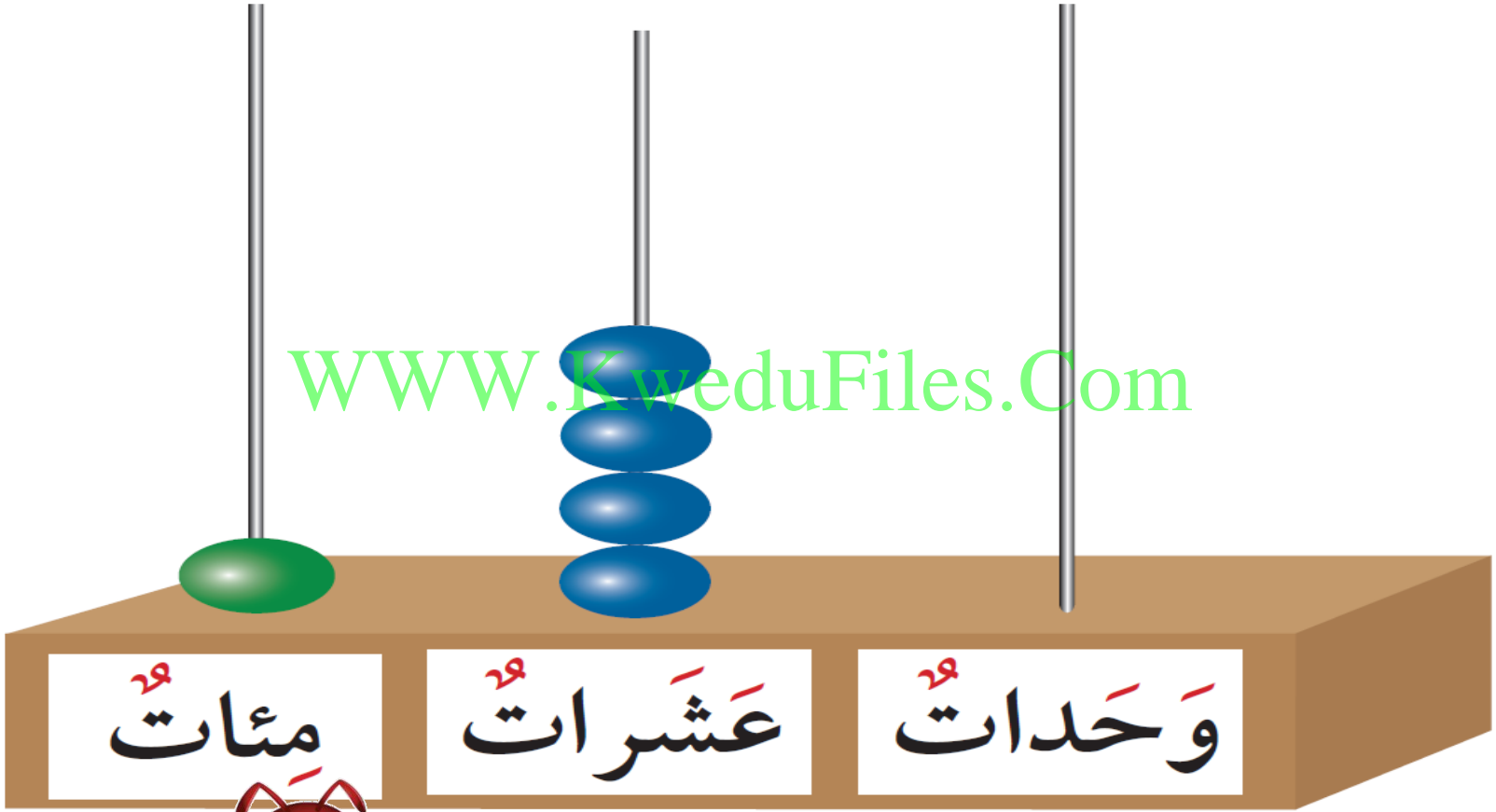


اكتب رمز العدد

WWW.KweduFiles.Com



اكتب رمز العدد



اكتب القيمة المكانية للرقم الذي كتب باللون الأحمر


٧ ٠ ١

١ ٩ ٨

٥ ٤ ٨




(ارسم)



مثل مستخدماً .


مئة و ثلاثة عشر

WWW.KweduFiles.Com



• الاسم المطول للعدد المكون رمزه من ٣ أرقام

بند (٢-٣)


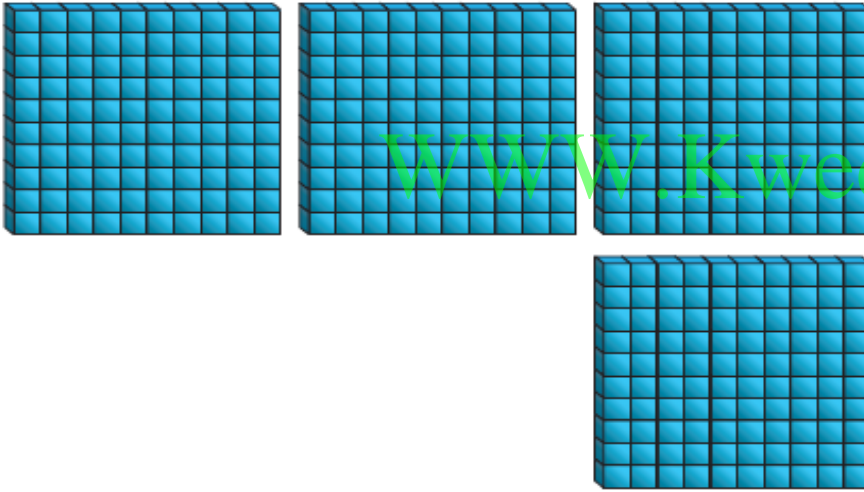


أَكْمَل

مِئَاتٌ

عَشْرَاتٌ

وَحَدَاتٌ



_____ = مِئَاتٌ _____ عَشْرَاتٌ _____ وَحَدَاتٌ _____

_____ = _____ + _____ + _____

أكمل

$$\underline{\hspace{2cm}} + ٢٠ + \underline{\hspace{2cm}} = ٧٣٤$$

WWW.KweduFiles.Com

$$\underline{\hspace{2cm}} + \underline{\hspace{2cm}} + ٨ = ١٠٨$$



أكمل

٩٠٠ + — + — = تسعمئة وخمسة عشر

WWW.KweduFiles.Com

— + ٤٠ + — = مئتان وأربعون



• العدد التسلسلي قبل - بعد - بين

بند (٢-٤)



١ اكتب رموز الأعداد الناقصة.

١١٠	١٠٩	١٠٨	١٠٧	١٠٦	١٠٥	١٠٤	١٠٣	١٠٢	١٠١
١٢٠	١١٩	١١٨	١١٧		١١٥	١١٤		١١٢	١١١
١٣٠		١٢٨	١٢٧	١٢٦	١٢٥		١٢٣	١٢٢	١٢١
١٤٠	١٣٩	١٣٨	١٣٧	١٣٦		١٣٤	١٣٣	١٣٢	
	١٤٩	١٤٨		١٤٦	١٤٥	١٤٤	١٤٣		١٤١
١٦٠		١٥٨	١٥٧	١٥٦	١٥٥			١٥٢	١٥١
١٧٠	١٦٩		١٦٧		١٦٥	١٦٤	١٦٣	١٦٢	
١٨٠		١٧٨	١٧٧	١٧٦		١٧٤	١٧٣		١٧١
	١٨٩	١٨٨		١٨٦	١٨٥		١٨٣	١٨٢	١٨١
٢٠٠	١٩٩		١٩٧	١٩٦	١٩٥	١٩٤		١٩٢	

اكتب رمز العدد الذي يقع قبل العدد مباشرة

٦٢٣ ،

WWW.KweduFiles.Com

١٧٥ ،

٢٤٠ ،




اكتب رمز العدد الذي يقع **بعد** العدد مباشرة

١٢٥ ،

WWW.KweduFiles.Com

٤٢٠ ،

٢٩٩ ،



اكتب رمز العدد الذي يقع بين العددين

٥٧٢ ،

، ٥٧٠

WWW.KweduFiles.Com

٤٩٣ ،


، ٤٩١

٦٧٠ ،


، ٦٦٨

مقارنة الأعداد


بند (٢-٥)



قارن بكتابة رمز العلاقة المناسب < أو > أو =




٢٤




٢٢

قارن بكتابة رمز العلاقة المناسب < أو > أو =




٤٥٢



٤٢٥

قارن بكتابة رمز العلاقة المناسب < أو > أو =


٣٢٧



٥٢١

WWW.KweduFiles.Com


٦٢٠



١٤٩

قارن بكتابة رمز العلاقة المناسب < أو > أو =


٢٤٥



٢٥٤

WWW.KweduFiles.Com


٤١٢



٤٢١

قارن بكتابة رمز العلاقة المناسب < أو > أو =


٦٢٧



٦٢٧

WWW.KweduFiles.Com

١ ♦ ♦ ♦




١ ♦ ♦

ترتيب الأعداد

www.KweduFiles.Com

بند (٢-١-٦)






رتب الأعداد من الأصغر إلى الأكبر

٢٧٩

٣٧٩

٢٥٧

www.KweduFiles.Com




رتب الأعداد من الأكبر إلى الأصغر

٤٥٠

٤٣٧

٤٢٥

WWW.KweduFiles.Com



اختراع أعداد من عندك ورتبها من الأصغر إلى الأكبر

WWW.KweduFiles.Com

1

2

لاحظ الترتيب . اكتب عدداً من عندك

١٢٣

٣١٤

١

WWW.KweduFiles.Com


٥٤٠

٥٠٩

٢

• تقريب الأعداد إلى أقرب ١٠٠

بند (٢-٧)



حدد المئات الكاملة الواقع بينها العدد

٢٤٩



WWW.KweduFiles.Com

واقع بين — ، —

حدد المئات الكاملة الواقع بينها العدد

٧٥٧



www.KweduFiles.Com

واقع بين — ، —

أكمل مستخدماً خط الأعداد

العدد ٢٣٠ مقرباً إلى أقرب مئة

WWW.KweduFiles.Com



٢٠٠ ٢١٠ ٢٢٠ ٢٣٠ ٢٤٠ ٢٥٠ ٢٦٠ ٢٧٠ ٢٨٠ ٢٩٠ ٣٠٠




أكمل مستخدماً خط الأعداد

العدد ٤٧٠ مقرباً إلى أقرب مئة

WWW.KweduFiles.Com



٤٠٠ ٤١٠ ٤٢٠ ٤٣٠ ٤٤٠ ٤٥٠ ٤٦٠ ٤٧٠ ٤٨٠ ٤٩٠ ٥٠٠



أكمل



المئات الكاملة الواقع بينهما

العدد ٥٢٨ —————


WWW.KweduFiles.Com

العدد ٥٢٨ مقرباً إلى أقرب مئة —————







استخدام البيانات

بند (٢-٨)






١ اسْتَعِينُ بِالْجَدْوَلِ. كَوْنِ التَّمْثِيلِ الْبَيَانِيَّ بِالْأَعْمَدَةِ.

				أنواع النمل
٦٠٠	٣٠٠	٥٠٠	١٠٠	العدد

أنواع النمل	أعداد النمل بحسب نوعه في كل قرية						
							
							
							
							

٠ ١٠٠ ٢٠٠ ٣٠٠ ٤٠٠ ٥٠٠ ٦٠٠ ٧٠٠

استعن بالتمثيل البياني بالأعمدة . حوط





أنواع النمل	أعداد النمل بحسب نوعه في كل قرية						
	100	200	300	400	500	600	700
	100	200	300	400	500	600	700
	100	200	300	400	500	600	700
	100	200	300	400	500	600	700

• ١٠٠ ٢٠٠ ٣٠٠ ٤٠٠ ٥٠٠ ٦٠٠ ٧٠٠



النمل الأكثر عدداً

استعن بالتمثيل البياني بالأعمدة . حوط

أنواع النمل	أعداد النمل بحسب نوعه في كل قرية						
	100	200	300	400	500	600	700
	100	200	300	400	500	600	700
	100	200	300	400	500	600	700
	100	200	300	400	500	600	700

٣٠٠

٥٠٠

١٠٠




عدد


• حل المسائل ابحاث عن نمط

www.KweduFiles.Com

بند (۹-۱۲)



أكمل



٤ ٢ ٥




٣ ٢ ٥



٢ ٢ ٥



WWW.KweduFiles.Com



٦ ٥ ٢



٦ ٤ ٢



٦ ٣ ٢



أرى نمطاً في الأعداد

٣١٦، ٣١٨، ٣٢٠

WWW.KweduFiles.Com




النمط هو

٣١٦، ٣١٨، ٣٢٠، —

إذا كان في المجموعة الأولى ١١٧ 

وفي المجموعة الثانية ١٢٧ 

وفي المجموعة الثالثة ١٣٧  www.kwedufiles.com


فما عدد  في المجموعة الرابعة؟

_____ ، ١١٧ ، ١٢٧ ، ١٣٧ ، _____



www.KweduFiles.Com

مراجعة الوحدة (١٢)


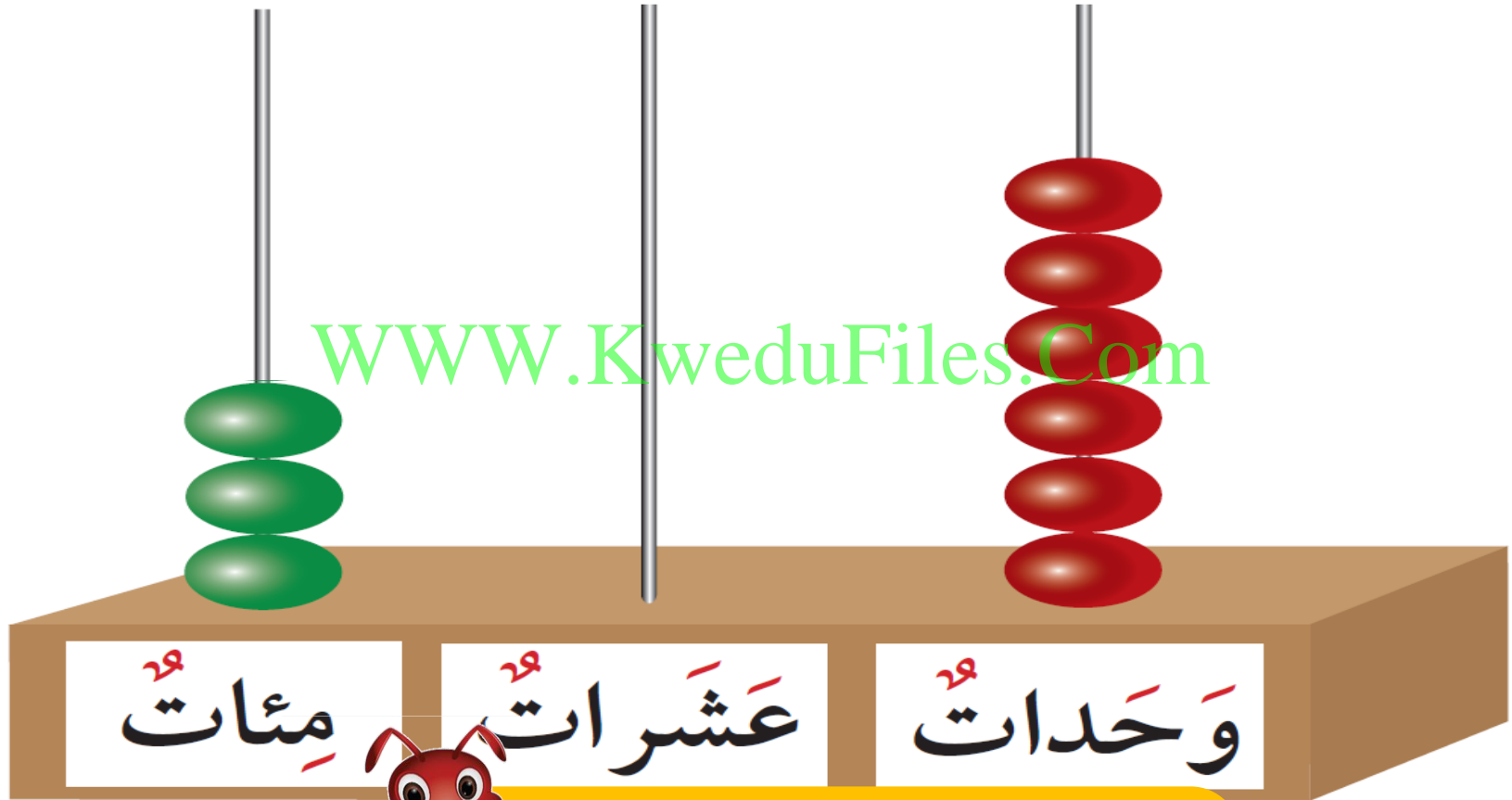
بند (١٢ - ١٠)



اكتب رمز العدد




اكتب رمز العدد



اكتب رمز العدد

WWW.KweduFiles.Com




رتب الأعداد من الأصغر إلى الأكبر

٢٢٠

٤١٩

٥٢٧

www.KweduFiles.Com





رتب الأعداد من الأكبر إلى الأصغر

٢٠١

١٩٩

٢٠٠

www.KweduFiles.Com



أكمل السلسلة

٧٤٩ ٧٤٨

WWW.KweduFiles.Com



أكمل السلسلة

٥ . . ٤٩٩

WWW.KweduFiles.Com






اختر الإجابة الصحيحة بوضع


القيمة المكانية للرقم الملون باللون

الأحمر هي **٤٨٣**


٤٠٠



٤٠



٤






اختر الإجابة الصحيحة بوضع


$$= ٧ \cdot \cdot + ٦ \cdot + ٥$$

WWW.KweduFiles.Com


٧٦٥



٥٦٧



٦٥٧






اختر الإجابة الصحيحة بوضع


عند تقريب العدد ٢١٦ لأقرب منه




30.



20.







١٠.





اختر الإجابة الصحيحة بوضع

في الجدول البياني عدد النملات الحمراء

عَدَدُ النَّمَلَاتِ	أَنْوَاعُ النَّمَلِ
	
	

كُلُّ  تُمَثِّلُ ٣ نَمَلَاتٍ

