

تمارين مادة الرياضيات – الوحدة الثامنة

أكملي:



$$= 2 + 2 + 2$$

$$= 3 \times 2$$

عبري بعبارة الضرب المناسبة:



WWW.KweduFiles.Com
----- = ----- X -----



$$----- = ----- \times -----$$



$$----- = ----- \times -----$$

أوجدني الناتج باستخدام خط الأعداد:

$$= 9 \times 2$$

$$= 3 \times 3$$

$$= 3 \times 4$$

أوجدني الناتج باستخدام الرسم بالصور:

$$= 8 \times 2$$

$$= 5 \times 3$$

عبري عن الصورة بعبارة ضرب كاملة



بنات

=

x

شاهدت أمل في الحديقة أربعة أشجار، في كل شجرة ثلاث تفاحات

كم عدد التفاح؟

٢ X ٦ لها نفس ناتج:

٢ X ٦

٣ X ٣

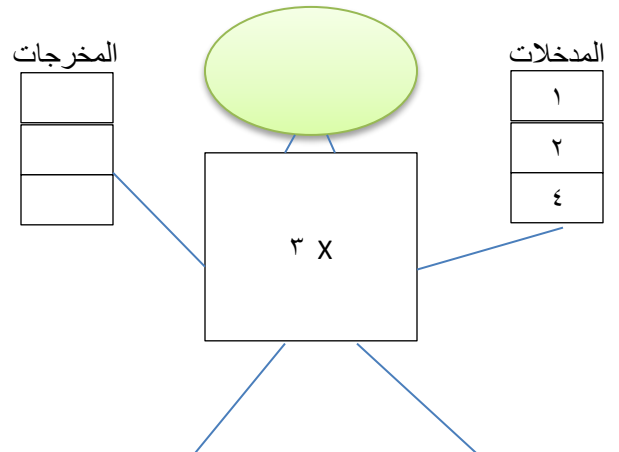
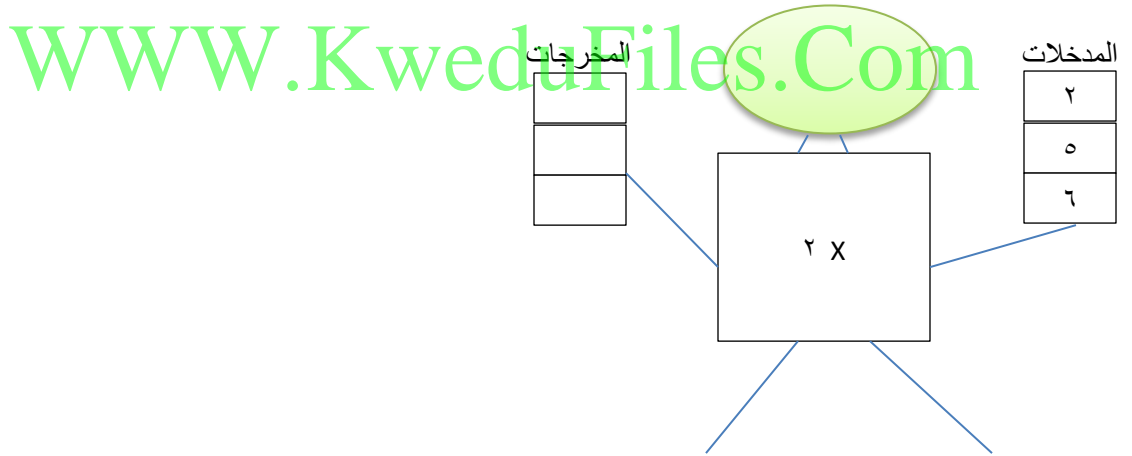
٢ X ٤

باستخدام العناصر لبناء المصفوفات أوجد


٤ X ٥

٨ X ٢


أكمل:



عبري بعبارة الضرب المناسبة



$$\text{○} = \text{○} \times \text{○}$$



WWW.KweduFiles.Com

$$\text{○} = \text{○} \times \text{○}$$

نسقت أجوان 4 مزهريات في كل منها زهرتان، كم عدد الأزهار؟



$$\text{-----} = \text{-----} \times \text{-----} = \text{عدد الأزهار}$$