

قارن بين مملكة الشمال ومملكة الجنوب



وجه المقارنة	مملكة الشمال	مملكة الجنوب
في	الوجه البحري	الوجه القبلي
العاصمة	بوتو	نخب
لون التاج	أحمر	أبيض

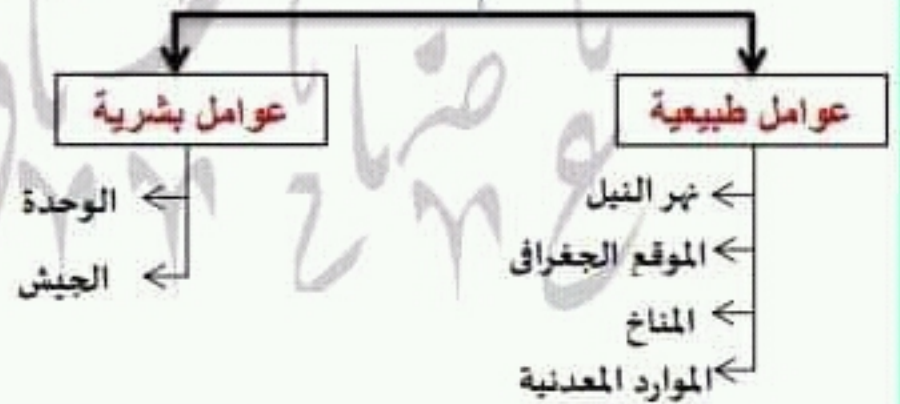
قارن بين الحدود السياسية والحدود الإدارية

الحدود السياسية	الحدود الإدارية
خطوط تحدد الدولة وتفصلها عن جيرانها من الدول وتحفظ حقوقها	خطوط تفصل بين محافظات الجمهورية

قارن بين الهجرة الداخلية والهجرة الخارجية

الهجرة الداخلية	الهجرة الخارجية
انتقال الأفراد من مكان إلى آخر داخل الدولة	انتقال الأفراد من دولة إلى أخرى

عوامل قيام الحضارة المصرية القديمة




توزيع السكان في مصر



وطننا وطننا
وطننا وطننا
وطننا وطننا





اختر الاجابة الصحيحة مما بين القوسين :-

١. يحد مصر من الجنوب..... (جمهورية السودان - ليبيا - البحر الأحمر - البحر المتوسط)
٢. أرض مرتفعة مستوية أو شبه مستوية السطح (البيضا - الجبال - التلال - السهول)
٣. تمتد بطول ساحل البحر الأحمر..... (تلال - جبال - منخفضات - أودية)
٤. تنتشر بالصحراء الغربية..... (المنخفضات - الجبال - الأودية - التلال)
٥. يقع في أقصى جنوب غرب مصر..... (جبل سانت كاترين - جبل العوينات - منخفض الفيوم - جبل علبة)
٦. يحد مصر من الغرب دولة..... (ليبيا - فلسطين - السعودية - جمهورية السودان)
٧. تتمثل الحدود الشرقية الطبيعية لمصر في..... وخليج العقبة (البحر المتوسط - البحر الاحمر - خليج السويس - نهر النيل)
٨. يشتمل سطح مصر على..... (جبال - هضاب - سهول - كل ما سبق)
٩. أرض تحيط بها المياه من جميع الجهات هي..... (بحيرة - جزيرة - شبه جزيرة - خليج)
١٠. الترمومتر يقيس..... (كمية المطر - سرعة الرياح - درجة الحرارة - نوع المطر)
١١. يعد..... من النباتات الطبيعي في مصر (القطن - الصبار - القمح - الذرة)
١٢. دراسة الطقس تفيد في تحديد..... (المحاصيل الزراعية - نوع الصناعات - نوع الملابس التي نرتديها - النشاط السياحي)
١٣. تسقط الأمطار على مصر شتاء وخاصة على السواحل..... (الجنوبية - الشرقية - الشمالية - الغربية)
١٤. تتوسط مصر..... قارات (ثلاث - أربع - خمس - ست)
١٥. تسقط الامطار على السواحل الشمالية لمصر في فصل..... (الصيف - الخريف - الشتاء - الربيع)
١٦. تعد قارة..... إحدى قارات العالم القديم (أستراليا - إفريقيا - أمريكا الشمالية - أمريكا الجنوبية)
١٧. تعد الواحات الموجودة بالصحراء الغربية من المناطق..... السكان (مزدحمة - متوسطة - قليلة - نادرة)
١٨. توجد أعداد متوسطة من السكان في..... (وادي النيل - الصحراء الغربية - سواحل البحر المتوسط - شبه جزيرة سيناء)



❖ تعلم الزراعية والاستقرار والتعاون والانتماء والولاء وقامت الحضارة المصرية

6. معرفة الإنسان الكتابة

❖ سجلوا أحداثهم وأخبارهم وما توصلوا إليه من تقدم وبدأت العصور التاريخية

7. وضوح الحدود المصرية واعتراف دول العالم بها

❖ أدى إلى استقرارها وعدم وجود مشكلات سياسية على الحدود

8. أهمية موقع مصر

❖ زادت الأطماع الاستعمارية في السيطرة على مصر

9. حفر قناة السويس

❖ زادت أهمية موقع مصر
عظمت
في
السياسة
والاقتصاد
والثقافة
والعلم

10. قلة الأمطار في مصر

❖ أدى إلى قلة النبات الطبيعي

11. ارتفاع نسبة المواليد وانخفاض نسبة الوفيات

❖ أدى إلى ارتفاع النمو السكاني في مصر

12. استخدام الإنسان المعادن

❖ أصبح أدواته أكثر صلابه

13. توحيد البلاد على يد الملك مينا

❖ أصبحت مصر دولة موحدة وقوية

14. وجود جيش قوى

❖ أدى إلى حماية البلاد والدفاع عنها

15. وجود نهر النيل في مصر

❖ كان السبب الأول في قيام الحضارة المصرية

16. اعتدال المناخ في مصر

❖ أدى إلى تنوع المحاصيل الزراعية

وطننا زيناكناي شحتونا
ع حياكناي شحتونا

١٩. يزداد عدد السكان في

(الصحراء الشرقية - الصحراء الغربية - وادي النيل ودلتاه - ساحل البحر الأحمر)

٢٠. سجل المصري القديم مظاهر حياته بالكتابة.....

(الفارسية - العبرية - اليونانية - الهيروغليفية)

٢١. بدأت الكتابة بالتعبير عن الشيء برسمه في شكل (صور - حروف - أرقام - نقاط)

٢٢. انتهت عصور ما قبل التاريخ بمعرفة الإنسان..... (الكتابة - النار - الصناعة - الرعى)

٢٣. صنع الإنسان المصري القديم ملابسه من..... (القطن - الصوف - الحرير - الكتان)

٢٤. عاش الإنسان المصري قديما في بداية حياته فوق

(الجبال - البيضا - التلال - السهول)

٢٥. خرج الملك مينا من مدينة ونجح في توحيد مملكة الشمال والجنوب

(منف - من نقر - أون - طيبة)

٢٦. كانت مدينة عاصمة مملكة الجنوب (بوتو - نخب - أون - طيبة)

٢٧. اتخذت مملكة الشمال من نبات شعارا لها (زهرة اللوتس - البردي - القمح - البوص)

٢٨. اتخذت مملكة الجنوب من شعارا لها

(النسر - زهرة اللوتس - ثعبان الكبرا - بنات البردي)

٢٩. كانت مدينة عاصمة مملكة الشمال (بوتو - نخب - أون - طيبة)

٣٠. عاصمة مصر التي أقامها الملك مينا (القاهرة - طيبة - من نقر - الإسكندرية)

ماذا حدث اذا :-

وطننا زيناكناي شحتونا
ع حياكناي شحتونا

١- رسمت الخريطة بدون عنوان

لعدم معرفة بيانات الخريطة

٢- لم يحدد اتجاه الشمال على الخريطة

لعدم معرفة باقي الاتجاهات الأصلية والفرعية

٣- لم يوجد مفتاح الخريطة (دليل الرموز والألوان)

لعدم قراءة وفهم الخريطة

٤- لم تطل مصر على البحر الأحمر والبحر المتوسط

لنقل أهمية موقع مصر



٢٧. نظم المصريون القدماء حياتهم وفق عادات و...**نظم**...و...**قوانين**.....

٢٨. اتخذ المصريون القدماء المعبودات من قوى الطبيعة مثل....**الشمس**....و.....**النيل**.....

٢٩. اتخذت الدولة الموحدة عام ٤٢٤٢ ق.م من مدينة...**أون**.... عاصمة لها

٣٠. سجل مينا انتصاراته على لوحة.....**نارمر**.....

٣١. التضك والضعف يؤديان إلى.....**ضعف الدولة**.....

٣٢. الاتحاد والقوة يؤديان إلى.....**قوة الدولة**.....

٣٣. العامل الرئيسي الذي ساعد على قيام الحضارة المصرية القديمة....**نهر النيل**....

٣٤. تتمتع مصر بمناخ....**معتدل**.... ما بين ارتفاع درجة الحرارة.....**صيفا**..... وانخفاضها

.....**شتاء**.....

٣٥. استقرار الإنسان المصري قديما على ضفاف النيل لممارسة حرفة....**الزراعة**....

٣٦. وجود معادن مثل النحاس والحديد ساعد على قيام.....**الصناعة**....

٣٧. من العوامل البشرية لقيام الحضارة المصرية القديمة الوحدة و....**الجيش**.....

ما النتائج المترتبة على :

١. **الحلمة الفرنسية على مصر**

❖ فشلت في تحقيق أهدافها ورجعت إلى فرنسا ١٨٠١م

٢. **معرفة الإنسان الزراعة**

❖ أدى إلى الاستقرار وقيام الحضارة المصرية

٣. **وفرة الموارد الطبيعية**

❖ أدى إلى قيام صناعات متنوعة

٤. **تنوع المناخ في مصر**

❖ أدى إلى تنوع المحاصيل الزراعية❖

٥. **نزول المصري القديم إلى وادي النيل**



٧. الحدود الشمالية لمصر حدود.... **طبيعية بحرية** ...

٨. تعتبر مدينة.... **القاهرة** عاصمة جمهورية مصر العربية

٩. الحدود الجنوبية لمصر حدود.... **بشرية برية**

١٠. يساعد اتجاه..... **الشمال**..... في تحديد باقى الاتجاهات

١١. الجهة المقابلة لجهة الغرب جهة..... **الشرق**.....

١٢. تقع جمهورية مصر العربية فى قارة.... **أفريقيا**

١٣. يحد مصر من جهة الشمال البحر... **البحر المتوسط**.....

١٤. من النباتات الصحراوية فى مصر.... **التين الشوكى**و.... **الصبار**.....

١٥. تعرف عملية حصر السكان فى اى مكان فى العالم باسم... **التعداد السكاني**.....

١٦. نقيدها التعدادات السكانية بالتنبؤ ب... **أعداد السكان فى المستقبل**..

١٧. الزيادة السكانية إما أن تكون طبيعية نتيجة الفرق بين.. **المواليد**....و... **الوفيات** ... واما

غير طبيعية نتيجة.... **الهجرة**....

١٨. تعد مصر من الدول التى تتميز ب... **ارتفاع**.... معدل نمو السكان

١٩. تعد محافظات... **الصعيد**...و... **الدلتا**..... طاردة للسكان

٢٠. يندر وجود السكان بمصر فى المناطق.... **الصحراوية**.....و... **الجبلية**.....

٢١. ترتفع الكثافة السكانية فى مصر ب... **الوادي**....و... **الدلتا**....

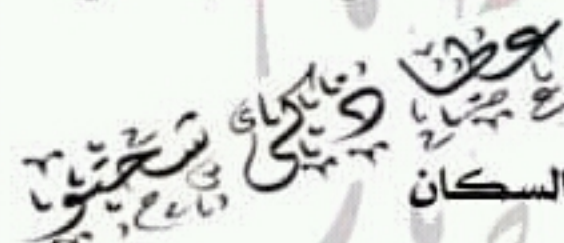
٢٢. توجد أعداد قليلة من السكان فى.... **الواحات**..... المنتشرة بالصحراء الغربية

٢٣. من المحافظات الجاذبة للسكان محافظتا.... **القاهرة**....و... **الإسكندرية**.....

٢٤. انتقال الأفراد من مكان إلى آخر داخل حدود الدولة يسمى بالهجرة.... **الداخلية**....

٢٥. من المناطق الخالية وشبه الخالية من السكان فى مصر.... **الصحراء**.....و... **الجبال**..

٢٦. بدأ استقرار الإنسان المصرى وولأوه لمكانه بعد معرفة.... **الزراعة**.....



بِسبب سقوط الأمطار الشتوية

٣٢. قيام الزراعة في الواحات ؟

بِسبب وجود المياه الجوفية (الآبار - والعيون)

٣٣. أهمية قناة السويس

لأنها تربط البحر الأحمر بالبحر المتوسط ويعبر بها مئات السفن المحملة

بالبترول والبضائع

حفظت
في
البحر
المتوسط
بمئات
السفن
المحملة
بالبترول
والبضائع

٣٤. تسمية قارات العالم القديم بهذا الاسم

لأن الإنسان سكنها وعمرها منذ القدم

٣٥. تسمية قارات العالم الجديد بهذا الاسم

لأن الإنسان اكتشفها حديثا

٣٦. طمع المستعمرين في مصر عبر العصور

بسبب أهمية موقع مصر

٣٧. أهمية الحدود السياسية

تفصل الدولة عن جيرانها من الدول وتحفظ حقوقها

٣٨. عدم وجود مشكلات سياسية بين مصر وجيرانها؟

لأن حدود مصر واضحة ومميزة

أكمل العبارات التالية:-

١. تعد الخريطة من الأدوات المستخدمة في تعلم..... الدراسات الاجتماعية.....

٢. تقع مصر عند ملتقى ثلاث قارات هي... آسيا... وأفريقيا... وأوروبا.....

٣. تطل مصر على بحرين من اهم بحار العالم هما... البحر المتوسط... في الشمال

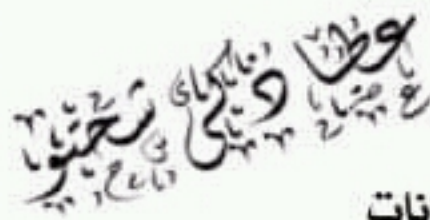
و..... البحر الأحمر.... في الشرق

٤. زادت أهمية موقع مصر بعد حفر.... قناة السويس.....

٥. تقع مصر في الركن الشمالي الشرقي من قارة.... أفريقيا.....

٦. المسافة على الخريطة وما يقابلها على الطبيعية يدل على... مقياس الرسم.....





بسبب معرفة الزراعية

١٩. كان الإنسان القديم دائم التنقل والترحال

بسبب بحث عن الغذاء وصيد الحيوانات

٢٠. أهمية اكتشاف المصري القديم النار

بسبب استخدامها في طهي الطعام - والتدفئة - و أبعاد الحيوانات المفترسة

٢١. أهمية الكتابة الهيروغليفية / أهمية الكتابة عند المصريين القدماء

سجلوا أحداثهم وأخبارهم وما توصلوا إليه من تقدم

٢٢. نزول المصري القديم من فوق الهضاب

بسبب انتشار الجفاف فوق الهضاب

٢٣. أهمية نهر النيل

بسبب السبب الرئيسي في قيام الحضارة المصرية



٢٤. أهمية الجيش

بسبب حماية البلاد والدفاع عنها

٢٥. أهمية الخريطة في حياتنا ؟

تعرفنا على الأماكن وتساعد المعلم في الشرح والتلميذ على المذاكرة

٢٦. وجود دليل الرموز والألوان بالخريطة أو أهمية مفتاح الخريطة

تساعدنا على قرلة وفهم الخريطة

٢٧. وجود سهم في أحد أركان الخريطة

بسبب ليحدد باقي الاتجاهات الأصلية والفرعية

٢٨. أهمية عنوان الخريطة

بسبب يوضح بيانات الخريطة

٢٩. أهمية مقياس الرسم في الخريطة

بسبب يوضح النسبة بين المسافة على الخريطة وما يقابلها على الطبيعة

٣٠. أهمية موقع مصر الجغرافي

بسبب تتوسط قارات العالم القديم - ويوجد بها قناة السويس

٣١. قيام الزراعة بالساحل الشمالي ؟



٧. وجود أعداد متوسطة من السكان على سواحل البحر الأحمر

لأنه بسبب العمل في القرى السياحية والموانئ

لأنه واستخراج البترول والمعادن

٨. جذب شبه جزيرة سيناء لبعض أعداد من السكان

لأنه بسبب قيام الزراعة في شمال سيناء على مياه الأمطار الشتوية

لأنه ووجود المناطق الأثرية والسياحية

٩. ندرة السكان في المناطق الصحراوية والجبلية

لأنه بسبب قلة المياه - وعدم استواء السطح

١٠. ندرة النباتات الطبيعية في مصر

لأنه بسبب قلة مياه الأمطار

١١. أهمية النباتات الطبيعية في مصر

لأنه لها فوائد طبية

١٢. أهمية الطقس

لأنه تحديد نوع الملابس التي نرتديها - وضمان سلامة السفر

١٣. أهمية المناخ

لأنه تحديد نوع المحاصيل الزراعية المناسبة - وتحديد موقع الصناعات

١٤. تنوع المحاصيل الزراعية في مصر

لأنه بسبب تنوع المناخ

١٥. بناء الملك مينا مدينة (من نفر)

لأنه لتكون عاصمة للبلاد

١٦. بناء المصري القديم للمساكن بعد نزوله إلى الوادي

لأنه بسبب استقراره ومعرفته الزراعية

١٧. كان للزراعة أهمية كبيرة في حياة المصري القديم

لأنه تعلم من الزراعة الاستقرار والمسئولية والتعاون والانتماء والولاء وبنى

المساكن

١٨. استقرار المصري القديم على ضفاف النيل

٧. وجود أعداد متوسطة من السكان على سواحل البحر الأحمر

لأنه بسبب العمل في القرى السياحية والموانئ

لأنه واستخراج البترول والمعادن

عوضاً عن هبات
والتي كانت
مستحوالة

٨. جذب شبه جزيرة سيناء لبعض أعداد من السكان

لأنه بسبب قيام الزراعة في شمال سيناء على مياه الأمطار الشتوية

لأنه ووجود المناطق الأثرية والسياحية

٩. ندرة السكان في المناطق الصحراوية والجبلية

لأنه بسبب قلة المياه - وعدم استواء السطح

١٠. ندرة النباتات الطبيعية في مصر

لأنه بسبب قلة مياه الأمطار

١١. أهمية النباتات الطبيعية في مصر

لأنه لها فوائد طبية

عوضاً عن هبات
والتي كانت
مستحوالة

١٢. أهمية الطقس

لأنه تحديد نوع الملابس التي نرتديها - وضمان سلامة السفر

١٣. أهمية المناخ

لأنه تحديد نوع المحاصيل الزراعية المناسبة - وتحديد موقع الصناعات

١٤. تنوع المحاصيل الزراعية في مصر

لأنه بسبب تنوع المناخ

١٥. بناء الملك مينا مدينة (من نفر)

لأنه لتكون عاصمة للبلاد

١٦. بناء المصري القديم للمساكن بعد نزوله إلى الوادي

لأنه بسبب استقراره ومعرفته الزراعية

**١٧. كان للزراعة أهمية كبيرة في حياة المصري القديم**

لأنه تعلم من الزراعة الاستقرار والمسئولية والتعاون والانتماء والولاء وبنى

المساكن

١٨. استقرار المصري القديم على ضفاف النيل



- (٤٢) تبدأ العصور التاريخية بمعرفة الإنسان الكتابة (✓)
- (٤٣) عاش الإنسان المصري القديم عصر الحديد قبل عصر النحاس (✗)
- (٤٤) تبدأ عصور ما قبل التاريخ بمعرفة الإنسان الكتابة (✗)
- (٤٥) قامت الحضارة المصرية القديمة على نهر النيل (✓)
- (٤٦) نجح الملك مينا في توحيد البلاد سنة ٢٣٠٠ قبل الميلاد (✓)
- (٤٧) من العوامل الطبيعية لقيام الحضارة المصرية الوحدة والجيش (✗)
- (٤٨) بدأ استقرار المصري القديم بعد معرفة الكتابة (✗)

وطننا دينا كرامى
ع صناعنا
شحنونا

جميع اسئلة بم تفسر :-

١. **زيادة أعداد السكان في مصر**
بسبب زيادة عدد المواليد وقلة عدد الوفيات
٢. **أهمية التعداد السكاني**
يحدد احتياجاتنا من مدارس ومصانع ومستشفيات والتخطيط للمستقبل تخطيط جيداً
٣. **هجرة السكان من محافظة إلى أخرى**
للبحث عن فرصة عمل ورفع مستوى المعيشة - والتعليم
٤. **زيادة أعداد السكان في الوادي والدلتا**
بسبب وفرة المياه العذبة والتربة الخصبة واستواء السطح - وسهولة المواصلات
٥. **وجود سكان في الواحات رغم وقوعها في الصحراء**
بسبب وجود المياه الجوفية (الآبار - والعيون)
٦. **وجود أعداد متوسطة من السكان على سواحل البحر المتوسط**
بسبب العمل في القرى السياحية والموانئ وقيام الزراعة على مياه الأمطار الشتوية



- (٢١) تقع مصر من الجنوب من البحر الأحمر (x)
- (٢٢) محافظة الاسكندرية من المحافظات الطاردة للسكان (x)
- (٢٣) تربط قناة السويس بين البحر المتوسط والمحيط الأطلنطي (x)
- (٢٤) تقع مصر في الركن الشمالي الغربي لقارة إفريقيا (x)
- (٢٥) زادت أهمية موقع مصر بعد حفر قناة السويس (✓)
- (٢٦) تعد قارة امريكا الشمالية إحدى قارات العالم الجديد (✓)
- (٢٧) يهاجر السكان بحثا عن فرص عمل (✓)
- (٢٨) يوجد السكان بأعداد متوسطة في المناطق الغنية بالثروات المعدنية (✓)
- (٢٩) المناخ يصف حالة الجو لفترة زمنية قصيرة (x)
- (٣٠) النبات الطبيعي كل ما نزرعه في الحقول والمنازل (x)
- (٣١) تعد هجرة المصريين إلى دول الخليج العربي هجرة داخلية (x)
- (٣٢) تقاس الامطار بالترمو متر (x)
- (٣٣) الحدود بين محافظات مصر تسمى حدود سياسية (x)
- (٣٤) عدد الجهات الأصلية خمس جهات (x)
- (٣٥) يوجد على كل خريطة سهم يشير إلى جهة الشمال (✓)
- (٣٦) الحدود البشرية من صنع الإنسان (✓)
- (٣٧) دراسة الطقس تساعدنا في تحديد مواقع الصناعات (x)
- (٣٨) الحيوانات البرية هي التي لا تربي في الحظائر والمنازل (✓)
- (٣٩) الهجرة الداخلية هي انتقال الأفراد من مكان إلى آخر داخل الدولة (✓)
- (٤٠) بدأ التاريخ بصنع الإنسان أدواته من معدن الحديد (x)
- (٤١) صنع الإنسان أدواته في العصر الحجري الحديث من النحاس (x)

عطا زكي شحتو
مستتر / عطا زكي شحتو



ضع علامة (✓) أمام العبارات الصحيحة وعلامة (×) أمام العبارات غير الصحيحة

(✓) (١) الخرائط والكتب من أدوات تعلم الدراسات الاجتماعية

(✓) (٢) جهة الشمال تقابلها جهة الجنوب

(✓) (٣) تتميز مصر بعدم وجود مشكلات سياسية مع جيرانها

(✓) (٤) يفيد التعداد السكاني في تحديد احتياجاتنا من المدارس والمستشفيات

(×) (٥) الشمال والشرق من الجهات الفرعية

(×) (٦) يمكن رسم الخريطة بدون دليل الرموز والألوان

(×) (٧) كل حدود مصر حدود طبيعية

(×) (٨) يمتد السهل الساحلي بطول وادي النيل ودلتاه

(✓) (٩) محافظة القاهرة أكبر محافظات مصر جذباً للسكان

(✓) (١٠) يتركز السكان في وادي النيل ودلتاه

(✓) (١١) تعد منطقة الدلتا من المناطق المزدحمة بالسكان

(✓) (١٢) يندر السكان في الصحاري المصرية لصعوبة الانتقال بها

(×) (١٣) تقوم مصر بعمل تعداد لسكانها كل خمس سنوات

(×) (١٤) يتساوى النمو السكاني في جميع محافظات مصر

(×) (١٥) تقوم حرفة الزراعة على ساحل البحر المتوسط على المياه الجوفية

(×) (١٦) تحدث الزيادة السكانية بسبب الزيادة الطبيعية فقط

(✓) (١٧) مناخ مصر يختلف باختلاف فصول السنة

(✓) (١٨) اللون الأزرق على الخريطة يدل على المسطحات المائية

(✓) (١٩) من البحيرات العذبة في مصر بحيرة ناصر

(✓) (٢٠) حدود مصر مع جيرانها واضحة ومميزة ومعترف بها دولياً

