



وزارة التربية

الإدارة العامة لمنطقة حولي التعليمية

مدرسة أنجفة الابتدائية بنين

(نموذج ٣)

اختبار للصف الثالث

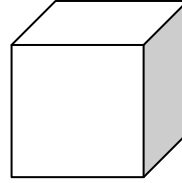
للفصل الدراسي الأول

للعام الدراسي ٢٠١٩ - ٢٠٢٠

الاسم: _____

الصف: _____

أ) أكتب اسم المجسم و عدد الأوجه :




اسم المجسم _____

عدد الأوجه _____

ب) أكتب عدد الأضلاع و عدد الرؤوس :


عدد الأضلاع _____



(ب)

عدد الرؤوس _____

عدد الأضلاع _____



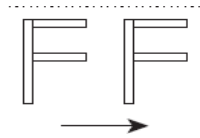
(أ)

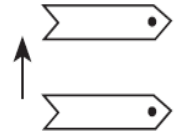
عدد الرؤوس _____



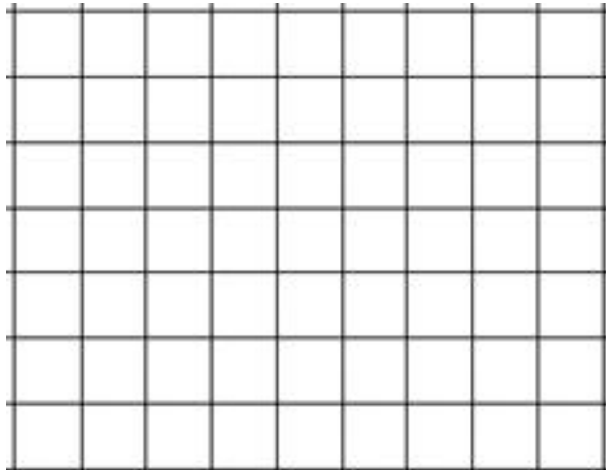
ج) أكتب الكلمة المناسبة لحركة الشكل بالاستعانة بالاتجاهات التالية





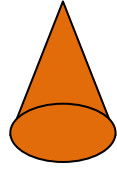
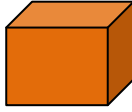


السؤال الثاني: أ) استخدم شبكة مربعات . أرسم شكلين مختلفين مساحة كل منهما ٨ وحدات مربعة :



السؤال الثالث: حوِّط الإجابة الصحيحة :

-المجسم الذي يمكن دحرجته في ما يلي هو :



-أحد أوجه الاسطوانة هو:



مديرة المدرسة
ابتسام ملا جمعة

رئيسة القسم
عبير الجريدان

إعداد
قسم الرياضيات