

السؤال الأول : (أ) اوجد ناتج ما يلي

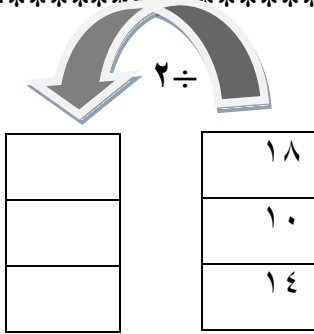
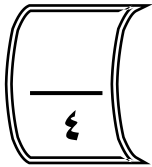


= $8 \div 8$ (٣) = $6 \div 36$ (٢) = $2 \div 16$ (١)

= $3 \div 21$ (٦) = $6 \div 18$ (٥) = $1 \div 7$ (٤)

(ب) لديك ١٥ رسالة ، وضعت ٣ رسالة في كل صندوق ، أوجد عدد الصناديق اللازمة ؟

الحل : عدد الصناديق =

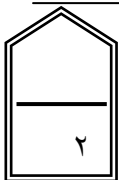


السؤال الثاني

(أ) أكمل الجدول التالي

(ب) لدي جابر ١٦ كرة زجاجية في كيسين يوجد في الكيس الاول ٢ كرة زيادة عما في الكيس الثاني ، كم عدد الكرات في الكيسين ؟

كم ٩ في العدد ٨١ ؟



السؤال الثالث : ظلل (أ) اذا كانت صحيحة و (ب) اذا كانت خاطئة



(أ) $5 = 4 \div 24$



(ب) $30 = \bigcirc \times 5$

