

الوحدة السادسة للصف الثالث

السؤال الأول:

١- لون ما يمثل النصف

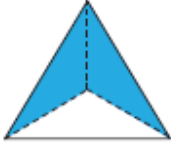


٢- لون ما يمثل الثلث



السؤال الثاني : أكمل

١- عدد الأجزاء الملونة.....أجزاء





من.....أجزاء متطابقة

٢- عدد القبعات المحوطة.....



منقبعات

السؤال الثالث:

لدى عمر  يريد تقسيمها الى اجزاء متطابقة لتوزيعها على ٨ من الأصدقاء الى كم جزء يجب على عمر تقسيم  الواحدة؟

السؤال الرابع:

صل كل شكل بالكلمة المناسبة:

نصف



ثلثان



ثلاثة ارباع