

الوحدة السادسة للصف الثالث

السؤال الأول:

١- لون ما يمثل النصف



يلون ٦ دوائر

٢- لون ما يمثل الثلث

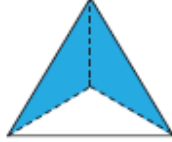


يلون ٥ مثلثات

السؤال الثاني : أكمل

١- عدد الأجزاء الملونة.....٢.....أجزاء

من.....٣.....أجزاء متطابقة





٢- عدد القبعات المحوطة.....٤.....

من.....٨.....قبعات



السؤال الثالث:

لدى عمر  يريد تقسيمها الى اجزاء متطابقة لتوزيعها على ٨ من الأصدقاء الى كم جزء يجب على عمر تقسيم  الواحدة؟

٤ أجزاء

السؤال الرابع:

صل كل شكل بالكلمة المناسبة:



نصف

ثلثان



ثلاثة ارباع