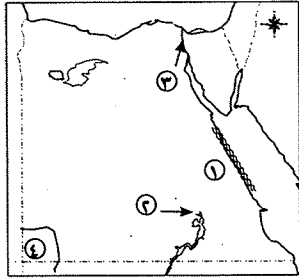


موقع ايجي فاست التعليمي

اختبارات الأضواء على الفصل الدراسي الأول

(مجاب عن بعضها في ملحق الإجابات ص ٢١٤)



اختبار (١)

مجاب عنه ٢١٤

- ١ (١) أمامك خريطة صماء لمصر، وضع ما تدل عليه الأرقام الموقعة عليها:
- ١- جبال ٢- بحيرة
- ٣- قناة ٤- هضبة
- (ب) بم تفسر...؟
- ١- أهمية مفتاح الخريطة. ٢- قلة النبات الطبيعي في مصر.

٢ (١) اختر الإجابة الصحيحة مما بين الأقواس:

- ١- الجهة التي تقع بين الشمال والغرب هي

(الجنوب - الشمال الغربي - الشمال الشرقي - الجنوب الغربي)

٢- يتميز مناخ مصر بأنه معتدل ممطر

(شتاء - صيفاً - ربيعاً - خريفاً)

٣- من قارات العالم القديم قارة

(أمريكا الشمالية - أستراليا - أوربا - أنتاركتيكا)

٤- من العوامل البشرية لقيام الحضارة المصرية القديمة

(الموقع - المناخ - نهر النيل - الوحدة)

(ب) أكمل العبارات الآتية بكلمات مناسبة:

١- كانت عاصمة مملكة الشمال مدينة بينما عاصمة مملكة الجنوب مدينة

٢- عندما استقر المصري القديم بوادي النيل عمل في

٣- صنع المصري القديم ملابسه من

٣ (١) اكتب كلمة (صح) أمام العبارة الصحيحة، وكلمة (خطأ) أمام العبارة غير الصحيحة:

١- تطل مصر من الشرق على البحر الأحمر الذي يعتبر حذاً طبيعياً، ودولة فلسطين المحتلة التي تعتبر حذاً بشرياً. ()

٢- تمتد السهول الفيضية في مصر على سواحل البحر المتوسط. ()

٣- من أنواع الحدود السياسية حدود طبيعية وحدود بشرية. ()

٤- بنى الملك مينا مدينة (من نقر). ()

(ب) ما المقصود بالمفاهيم الآتية...؟ ١- حدود بشرية. ٢- هجرة داخلية.

٤ (١) ضع خطاً تحت الكلمة التي لا تنتمي لكل مجموعة من المجموعات التالية:

١- بحر - جبل - محيط - بحيرة. ٢- الصبار - الخروع - التين الشوكي - القطن.

٣- الجيش - المناخ - نهر النيل - الموقع. ٤- الغرب - الشمال - الشمال الشرقي - الجنوب.

(ب) قارن بين مملكة الشمال ومملكة الجنوب من حيث: العاصمة - لون التاج - الشعار:

وجه المقارنة	مملكة الشمال	مملكة الجنوب
العاصمة
لون التاج
الشعار

١٧٥

٣ أكمل الجمل التالية بكلمة مناسبة:

١- تعد مصر من الدول التي تعاني من معدل النمو السكاني.

٢- تقع مصر عند ملتقى قارات العالم

٣- اتخذت كل قرية وكل مدينة لها.

٤- الوجه القبلي يمثل مملكة

٥- سميت الكتابة المصرية القديمة بالكتابة

٤ (١) بم تفسر...؟

١- كان المصري القديم دائم التنقل والترحال. ٢- يضطر السكان إلى الهجرة من مكان إقامتهم إلى أماكن أخرى.

(ب) قارن بين البحر والخليج من حيث المفهوم مع إعطاء مثال.

اختبار (١٠)

مجاب عنه ص ٢١٤

١ أكمل الجمل التالية بكلمة مناسبة:

١- مناخ مصر حار في فصل وممطر في فصل

٢- ساعدت معرفة الإنسان للزراعة على

٣- يندرج وجود السكان في المناطق

٤- نجح الملك في توحيد البلاد.

٥- تعد من أدوات تعلم الدراسات الاجتماعية.

٢ اختر الإجابة الصحيحة مما بين الأقواس:

١- تمتد بطول نهر النيل

(السهول الفيضية - السهول الساحلية - المنخفضات - الأودية)

٢- أرض شديدة الارتفاع ولها قمة

(بنى سويف - مطروح - أسيوط - القاهرة)

٣- من المحافظات الجاذبة للسكان

(أصفر - أبيض - أحمر - أزرق)

٤- لون تاج مملكة الجنوب

(السودان - البحر الأحمر - ليبيا - البحر المتوسط)

٥- يحد مصر من جهة الشمال

(السودان - البحر الأحمر - ليبيا - البحر المتوسط)

(ب) اكتب كلمة (صح) أمام العبارة الصحيحة، وكلمة (خطأ) أمام العبارة غير الصحيحة:

١- تقدم قدماء المصريين في المجالات المختلفة (الطب، العلوم، الهندسة). ()

٢- كانت حياة المصري القديم فوق الهضاب مملوءة بالخوف والقلق. ()

٣- بعد حياة الاستقرار في الوادي استأنس الإنسان المصري القديم الحيوان. ()

٤- أدت الوحدة بين الأقاليم إلى قيام حكومة مركزية لخدمة الشعب. ()

٥- يزداد السكان في المناطق الغنية بالمعادن. ()

٤ بم تفسر...؟

١- استقرار الإنسان المصري على نهر النيل واشتغاله بالزراعة.

٢- قيام حكومة مركزية في مصر القديمة.

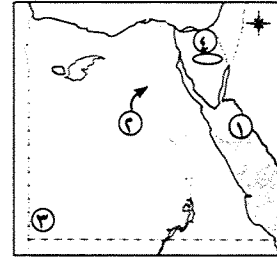
٣- ندرة السكان في مناطق كثيرة من الصحراوات المصرية.

٤- أهمية التعداد السكاني. ٥- الهجرة الداخلية.

١٧٤

اختبار (٢)

مجال عنه ص ٢١٤



(١) أمامك خريطة صماء لمصر، اكتب مدلول الأرقام الموقعة عليها:

- ١- البحر
٢- وادي
٣- جبل
٤- هضبة

(ب) أكمل العبارات التالية بما يناسبها من كلمات:

- ١- تطل مصر على أهم بحرين في العالم هما البحر
والبحر
٢- يستخدم الترمومتر في قياس
٣- توصل المصري القديم إلى اكتشاف الكتابة

(١) اكتب كلمة (صح) أمام العبارة الصحيحة، وكلمة (خطأ) أمام العبارة غير الصحيحة:

- ١- يجرى التعداد السكاني لمصر كل خمس سنوات. ()
٢- قامت الوحدة الأولى في مصر عام ٤٢٤٢ ق.م على يد الملك مينا. ()
٣- الزيادة الطبيعية هي الفرق بين أعداد المواليد والوفيات. ()
٤- تتنوع حدود مصر بين حدود طبيعية وحدود بشرية. ()
(ب) ما المقصود بالمفهومين الآتيين...?
١- التعداد السكاني. ٢- آثار.

(١) اكتب ما تشير إليه كل عبارة من العبارات التالية:

- ١- فواصل طبيعية تفصل بين الدول مثل الجبال.
٢- أرض شديدة الارتفاع لها قمة شديدة الانحدار من الجانبين.
٣- الفترة الزمنية التي عاشها الإنسان بعد الكتابة.
(ب) بم تفسر...?
- تركز السكان في الوادي والدلتا.

(١) تخير الإجابة الصحيحة مما بين الأقواس:

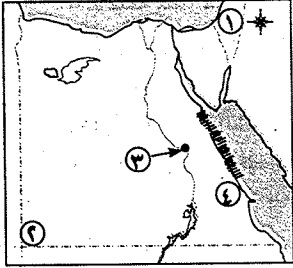
- ١- يحد مصر من جهة الجنوب دولة (ليبيا - جمهورية السودان - فلسطين - المغرب)
٢- يندر السكان في محافظات (الدلتا - الوادي - السواحل - الصحاري)
٣- شيد الملك مينا مدينة (نخب - بوتو - من نقر - طيبة)
٤- سكن المصري القديم في في العصر الحجري الحديث. (المساكن - القرى - القصور - الكهوف)

(ب) أكمل جدول المقارنة التالي:

وجه المقارنة	الجزيرة	شبه الجزيرة
المفهوم
أمثلة لها في مصر

اختبار (٣)

يجيب عنه التلميذ



(١) أمامك خريطة صماء لمصر، اكتب ما تدل عليه الأرقام:

- ١- دولة
٢- جبل
٣- مدينة خرج منها الملك مينا
٤- جبال

(ب) بم تفسر...?

١- أهمية مفتاح الخريطة. ٢- أهمية الجيش في مصر القديمة.

٣- هجرة السكان من الريف إلى المدن.

(١) أكمل العبارات التالية بما يناسبها من كلمات:

- ١- بعد أن استقر المصري القديم في الوادي مارس حرفة
٢- يجرى التعداد السكاني في مصر كل سنوات.
٣- السهم الموجود في الخريطة يشير إلى اتجاه
٤- دراسة حالة الجو في فترة زمنية طويلة يعرف ب.....

(ب) قارن بين مملكة الشمال ومملكة الجنوب من حيث: العاصمة - الشعار:

وجه المقارنة	مملكة الشمال	مملكة الجنوب
العاصمة
الشعار

(١) اكتب كلمة (صح) أمام العبارة الصحيحة، وكلمة (خطأ) أمام العبارة غير الصحيحة:

- ١- يتساوى توزيع السكان في جميع محافظات مصر. ()
٢- الاتجاه الواقع بين الجنوب والغرب هو الجنوب الغربي. ()
٣- يساعد مفتاح الخريطة في تحديد جهة الشمال. ()
٤- قبل تحقيق الوحدة كان لجميع أراضي مصر إله واحد. ()

(ب) اكتب ما تشير إليه العبارات التالية:

١- مساحة واسعة من الأرض المرتفعة مستوية أو شبه مستوية السطح.

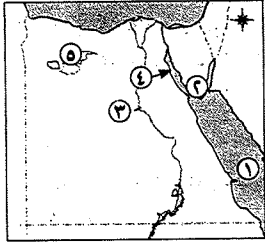
٢- نبات ينمو دون تدخل الإنسان.

٣- قناة تربط البحرين المتوسط والأحمر.

امتحانات بعض المدارس والإدارات للفصل الدراسي الأول لعام ٢٠١٨

تم تعديل هذه الامتحانات وفقاً لتعديلات الوزارة للعام الدراسي ٢٠١٨ / ٢٠١٩.

١- محافظة القاهرة - إدارة شبرا التعليمية (مجاب عنه ص ٢١٤)



السؤال الأول: (١) أتمامك خريطة صماء لمصر. وضع مدلول الأرقام الموضحة عليها:

- ١- البحر
 ٢- جيل
 ٣- وادى نهر
 ٤- خليج
 ٥- منخفض

(ب) ما أهمية الخريطة؟

(ج) ما النتائج المترتبة على...؟

- ١- موقع مصر الجغرافى.
 ٢- وجود حدود واضحة لمصر.

السؤال الثانى: (١) اكتب ما تشير إليه العبارات الآتية:

- ١- أرض منخفضة عما حولها.
 ٢- اسم يطلق على آسيا وإفريقيا وأوربا.
 ٣- متوسط حالة الجوفى فترة زمنية طويلة.
 ٤- مساحة واسعة من اليابس تضم عدداً من الدول.
 ٥- الفرق بين عدد المواليد والوفيات.

(ب) بم تفسر...؟

- ١- أهمية قناة السويس.
 ٢- أهمية التعداد السكانى.

السؤال الثالث: (١) اختر الإجابة الصحيحة مما بين الأقواس:

- ١- تقوم مصر بالتعداد السكانى كل سنوات.
 ٢- يدل اللون على المسطحات المائية فى الخريطة.
 ٣- أرض شديدة الارتفاع ولها قمة
 ٤- من المناطق المزدحمة بالسكان
 ٥- انتقال الأفراد من مكان إلى آخر

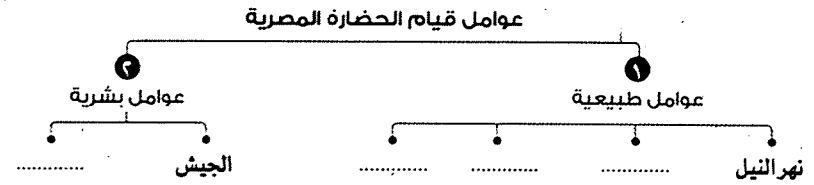
(ب) بم تفسر...؟

- ١- ندرة السكان فى المناطق الصحراوية والجبلية.
 ٢- أهمية مفتاح الخريطة.

(١) اختر الإجابة الصحيحة مما بين القوسين:

- ١- عاصمة مصر هى مدينة
 ٢- الفرق بين المواليد والوفيات
 (طبيعية)
 ٣- لون تاج مملكة الشمال
 ٤- يساعدنا على تحديد المساحة على الخريطة وما يقابلها فى الطبيعة.
 (سهم الشمال - مفتاح الخريطة - مقياس الرسم - عنوان الخريطة)

(ب) أكمل الشكل التالى:



- ٤- يشير السهم الموجود في أحد أركان الخريطة إلى اتجاه الجنوب.
٥- التل أكثر ارتفاعاً من الجبل.
٦- تتساوى أعداد السكان في جميع المحافظات المصرية.

(ب) أكمل العبارتين التاليتين بما يناسبهما:

- ١- تقع مصر في الركن الشمالي الشرقي من قارة
٢- ساعد قيام الوحدة على بناء قوى لحماية البلاد.

السؤال الرابع: (١) بم تفسر...؟

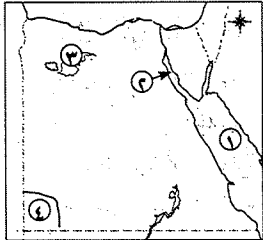
- ١- نزول المصري القديم من فوق الهضاب.
٢- أهمية دراسة الطقس في حياتنا.

٣- ما نتيجة أهمية موقع مصر الجغرافي؟

(ب) أكمل بيانات الجدول الآتي:

وجه المقارنة	العاصمة	الشعار
مملكة الشمال
مملكة الجنوب

٣- محافظة الجيزة - إدارة الدقى التعليمية - مدرسة كوبرى الجلام الخاصة



السؤال الأول: (١) أمامك خريطة صماء لمصر .. وضع مدلول الأرقام الآتية:

- ١- البحر
٢- خليج
٣- منخفض
٤- هضبة

(ب) ما المقصود بما يلي...؟

- ١- تعداد سكاني.
٢- المناخ.

السؤال الثاني: (١) أكمل ما يأتى:

- ١- يحد مصر من جهة الشرق ومن جهة الجنوب دولة
٢- تقاس درجة حرارة الجو بجهاز ، بينما تقاس سرعة الرياح بجهاز
٣- قسم المؤرخون تاريخ الإنسانية إلى عصرين هما و
٤- كان ملك الجنوب يلبس تاجاً لونه ، أما ملك الشمال فيلبس تاجاً لونه

(ب) ما النتائج المترتبة على...؟

- ١- تعرض الهضاب المصرية للجفاف في مصر القديمة.
٢- قلة الأمطار التي تسقط على مصر.

السؤال الثالث: (١) اختر الإجابة الصحيحة مما بين الأقواس:

- ١- من عناصر الخريطة وجود
٢- من الأدوات المهمة في دراسة الدراسات الاجتماعية
٣- عاصمة مصر التي أقامها الملك مينا

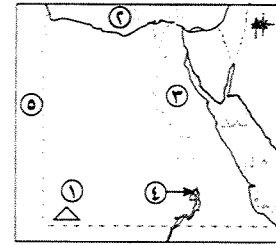
السؤال الرابع: (١) اختر من المجموعة (١) ما يناسب المجموعة (ب):

(ب)	(١)
() الكتان.	١- أحد عوامل قيام الحضارة المصرية القديمة
() يونو.	٢- كان المصري القديم يعيش فوق
() نهر النيل.	٣- عاصمة الوحدة الأولى
() الهضاب.	٤- عاصمة مملكة الشمال
() أون.	٥- صنع المصري القديم ملابسه من
() نخب.	

(ب) اكتب ما تشير إليه العبارات الآتية:

- ١- عصور بدأت قبل معرفة الكتابة.
٢- عصر صنع فيه المصري أدواته من الأحجار ونحتها ببساطة.
٣- من أكون: ارتديت التاج المزودج وقمت بتوحيد مصر؟

٢- محافظة القاهرة - إدارة وسط القاهرة التعليمية - توجيه الدراسات الاجتماعية



السؤال الأول: (١) أمامك خريطة صماء لمصر. اكتب ما تدل عليه الأرقام:

- ١- جبل
٢- البحر
٣- الصحراء
٤- بحيرة
٥- دولة

(ب) صوب ما تحته خط في العبارات التالية:

- ١- يقع البحر المتوسط شرق مصر.
٢- كانت عاصمة مصر في عهد الملك مينا مدينة طيبة.
٣- مساحة صغيرة من الماء العذب أو المالح يحيط بها اليابس من جميع الجهات تسمى البحر.

السؤال الثاني: (١) اختر الإجابة الصحيحة مما بين الأقواس:

- ١- دراسة حالة الجوفي فترة زمنية طويلة تسمى (الطقس - المناخ - التضاريس - الموقع الجغرافي)
٢- يندرج وجود السكان في مصر في (الوادي - الدلتا - القاهرة - الجبال)
٣- من المحافظات الجاذبة للسكان محافظة (أسيوط - شمال سيناء - جنوب سيناء - الإسكندرية)
٤- صنع المصري القديم ملابسه من (القطن - الحرير - الكتان - الصوف)
٥- سكن المصري القديم فوق الهضاب في (الكهوف - الأبراج - الأهرام - القصور)

(ب) اكتب ما تشير إليه كل عبارة مما يلي:

- ١- نبات ينمو بشكل طبيعي دون تدخل من الإنسان.
٢- عملية حصر أعداد السكان مرة كل عدة سنوات.

السؤال الثالث: (١) اكتب كلمة (صح) أمام العبارة الصحيحة، وكلمة (خطأ) أمام العبارة غير الصحيحة فيما يلي:

- ١- الهجرة هي انتقال الأفراد من دولة إلى أخرى. ()
٢- قام الملك مينا بتوحيد مملكتي الشمال والجنوب. ()
٣- الخرائط والصور من أدوات تعلم الدراسات الاجتماعية. ()

(ب) بم تفسر..؟

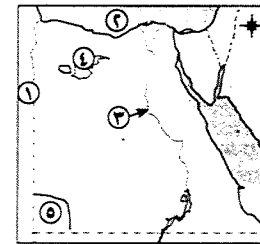
١- تركيز السكان في الوادي والدلتا. ٢- أهمية الخريطة في حياتنا.

السؤال الرابع: (١) اكتب كلمة (صح) أمام العبارة الصحيحة، وكلمة (خطأ) أمام العبارة غير الصحيحة فيما يلي:

- ١- من قارات العالم القديم آسيا وأستراليا. ()
 ٢- نجح الملك مينا في توحيد مصر ٣٢٠٠ ق.م. ()
 ٣- كان نهر النيل من العوامل الطبيعية المهمة في قيام الحضارة القديمة. ()
 (ب) اكتب المفهوم الجغرافي لما يلي:

- ١- النسبة بين المسافة على الخريطة وما يقابلها على الطبيعية.
 ٢- مساحة من الأرض مستوية وقليلة الارتفاع وتتكون من رواسب الأنهار.

٤- محافظة الجيزة - إدارة الهرم - مدارس فضل الحديثة (مجاهاه ص ١١٢)



السؤال الأول: (١) أمامك خريطة صماء لمصر. وضع مدلول الأرقام الآتية:

- ١- دولة
 ٢- البحر
 ٣- نهر
 ٤- منخفض
 ٥- هضبة

(ب) بم تفسر..؟

- ١- أهمية دراسة الطقس.
 ٢- أهمية الخريطة في حياتنا.
 ٣- يقل النبات الطبيعي في مصر.

السؤال الثاني: (١) اكتب ما تشير إليه كل عبارة من العبارات الآتية:

- ١- لقطة لجزء من سطح الأرض باستخدام آلة التصوير.
 ٢- أرض شديدة الارتفاع ولها قمة.
 ٣- حالة الجو في فترة زمنية طويلة.
 ٤- كل ما تركه لنا أجدادنا القدماء ويعبر عن حياتهم.
 ٥- انتقال الأفراد من مكان لآخر.
 ٦- الفترة الزمنية التي عاش فيها الإنسان بعد معرفته الكتابة.

(ب) ما النتائج المترتبة على..؟

- ١- معرفة الإنسان المصري القديم الزراعة.
 ٢- اكتشاف المصري القديم النار.

السؤال الثالث: (١) اكتب كلمة (صح) أمام العبارة الصحيحة، وكلمة (خطأ) أمام العبارة غير الصحيحة فيما يلي:

- ١- تلون المسطحات المائية على الخريطة باللون البنّي. ()
 ٢- الإسكندرية من المحافظات الجاذبة للسكان. ()
 ٣- عاصمة مملكة الجنوب هي بوتو. ()

٤- وادي النيل من المناطق المزدحمة بالسكان.

٥- تعتبر الرحلات والمكتبة من أدوات تعلم الدراسات الاجتماعية.

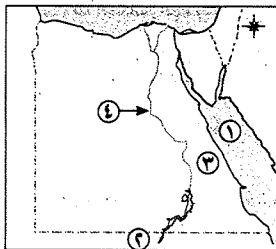
٦- كانت حياة المصري القديم فوق الهضاب مستقرة.

(ب) ماذا يحدث إذا...؟ لم يوجد اتجاه الشمال على الخريطة.

السؤال الرابع: (١) اختر الإجابة الصحيحة مما بين الأقواس:

- ١- عاصمة جمهورية مصر العربية هي
 ٢- تقاس درجة الحرارة ب.....
 ٣- لون تاج مملكة الشمال
 ٤- تعد من قارات العالم القديم
 ٥- يعتبر من النباتات الطبيعية
 ٦- يعد من عناصر الخريطة
 (ب) اذكر أهم أعمال الملك مينا.

٥- محافظة الإسكندرية - إدارة العجمي التعليمية - توجيه الدراسات الاجتماعية (مجاهاه ص ١١٢)



السؤال الأول: (١) أمامك خريطة صماء لمصر. وضع مدلول الأرقام الآتية:

- ١- البحر
 ٢- دولة
 ٣- الصحراء
 ٤- نهر

(ب) اكتب المفهوم الذي تدل عليه العبارات الآتية:

- ١- النسبة بين المسافة على الخريطة وما يقابلها على الطبيعة.
 ٢- الفرق بين عدد المواليد وعدد الوفيات.
 ٣- مساحة من اليابس تحيط بها المياه من جميع الجهات.
 ٤- يلعب دوراً في حماية البلاد والدفاع عنها.

السؤال الثاني: (١) اختر الإجابة الصحيحة مما بين الأقواس:

- ١- يحدد اتجاه الشمال على الخريطة عن طريق
 ٢- مناطق مزدحمة بالسكان
 ٣- سجل المصري القديم مظاهر حياته باللغة
 ٤- يقيس الترمومتر
 ٥- من النباتات الطبيعية في مصر

(ب) بم تفسر..؟

- ١- أهمية موقع مصر.
 ٢- للتعداد السكاني أهمية كبيرة.
 ٣- هجرة بعض سكان المحافظات لمحافظات ومدن أخرى.

موقع ايجي فاست التعليمي

السؤال الثالث: (1) اكتب كلمة (صح) أمام العبارة الصحيحة، وكلمة (خطأ) أمام العبارة غير الصحيحة فيما يلي:

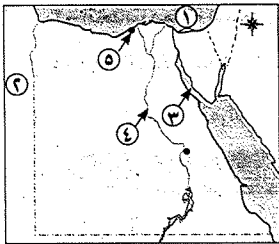
- ١- بنى المصري القديم مسكنه من الطين ثم الطوب اللبن. ()
 - ٢- لون تاج مملكة الشمال أبيض. ()
 - ٣- تنوعت المحاصيل الزراعية بسبب تنوع المناخ. ()
 - ٤- صنع الإنسان أدواته في العصر الحجري الحديث من النحاس. ()
 - ٥- عاش المصري في بداية حياته فوق الهضاب. ()
- (ب) ما النتائج التي تترتب على ...؟
- ١- معرفة المصري القديم الكتابة. ()
 - ٢- وجود نهر النيل في مصر. ()

السؤال الرابع: (1) أكمل العبارات الآتية بكلمة من الكلمات الآتية:

(أون - نخب - الولاء - الزراعة - النار - التعاون)

- ١- عرف المصري القديم في وادي النيل.
 - ٢- عاصمة مملكة الجنوب مدينة
 - ٣- شعور الإنسان بالحب تجاه الأرض يسمى
 - ٤- استخدمها المصري القديم في طهي الطعام
 - ٥- عاصمة الدولة الموحدة ٤٢٤٢ ق.م. مدينة
- (ب) والشعب المصري هو أول شعب حقق الوحدة، في ضوء هذه العبارة أجب:
- ١- من الذي وحد مملكتي الشمال والجنوب عام ٣٢٠٠ ق.م؟
 - ٢- ما أهمية الجيش للبلاد؟

٧- محافظة الفيومية - إدارة قلوب التعليمية



السؤال الأول: (1) أمامك خريطة صماء لمصر .. وضع مدلول الأرقام الآتية:

- ١- البحر
- ٢- دولة تقع غرب مصر
- ٣- خليج
- ٤- وادي
- ٥- محافظة جاذبة للسكان

(ب) اكتب ما تشير إليه كل عبارة من العبارات التالية:

- ١- النسبة بين المسافة على الخريطة وما يقابلها على الطبيعة.
- ٢- مساحة من اليابس تحيط بها المياه من ثلاث جهات.
- ٣- الفترة الزمنية التي عاشها الإنسان بعد معرفته الكتابة.
- ٤- كل ما أتجه لنا أجدادنا القدماء يعبر عن حياتهم.

السؤال الثالث: (1) أكمل العبارات الآتية بكلمة من الكلمات الآتية:

(الصحراوية - المناخ - نبات البردى - الخرائط - إفريقيا)

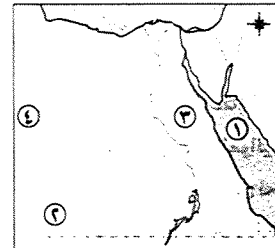
- ١- تقع جمهورية مصر العربية في قارة
 - ٢- شعار مملكة الشمال
 - ٣- من العوامل الطبيعية لقيام الحضارة
 - ٤- من الأدوات المستخدمة في الدراسات الاجتماعية
 - ٥- يندر السكان في المناطق
- (ب) ما الفرق بين الصورة والخريطة؟

السؤال الرابع: (1) اكتب كلمة (صح) أمام العبارة الصحيحة، وكلمة (خطأ) أمام العبارة غير الصحيحة فيما يلي:

- ١- قامت الحضارة المصرية القديمة على ضفاف نهر النيل. ()
- ٢- كل حدود مصر حدود بشرية. ()
- ٣- قام الملك مينا بتوحيد مملكتي الشمال والجنوب عام ٣٢٠٠ قبل الميلاد. ()
- ٤- من المحافظات الطاردة للسكان القاهرة. ()
- ٥- تعد قارة آسيا إحدى قارات العالم القديم. ()

(ب) ما النتائج المترتبة على: معرفة الإنسان الزراعة؟

٦- محافظة الإسكندرية - إدارة وسط التعليمية - توجيه الدراسات الاجتماعية



السؤال الأول: (1) أمامك خريطة صماء لمصر .. وضع مدلول الأرقام الآتية:

- ١- البحر
 - ٢- جبل
 - ٣- الصحراء
 - ٤- دولة
- (ب) اكتب المفهوم الذي تشير إليه كل عبارة:
- ١- النبات الذي ينمو تلقائياً دون تدخل الإنسان.
 - ٢- انتقال الأفراد من مكان إلى آخر داخل الدولة.

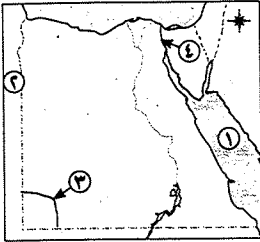
السؤال الثاني: (1) اختر الإجابة الصحيحة مما بين الأقواس:

- ١- يدل اللون على المناطق المرتفعة.
- ٢- تسقط الأمطار على السواحل الشمالية لمصر في فصل
- ٣- مساحة من اليابس تحيط بها المياه من جميع الجهات
- ٤- الزيادة الطبيعية هي الفرق بين عدد المواليد وعدد

(ب) بم تفسر ...؟

- ١- أهمية اتجاه الشمال على الخريطة.
- ٢- أهمية درابسة الطقس.

٨- محافظة المنوفية - إدارة قويسنا التعليمية



السؤال الأول: (١) أمامك خريطة صماء لمصر. وضح مدلول الأرقام الآتية:

- ١- البحر
٢- دولة
٣- جبل
٤- قناة
(ب) ما المقصود بكل من...؟
- ١- الخريطة
٢- التعداد السكاني
٣- عصور تاريخية
٤- القارة

السؤال الثاني: (١) اكتب كلمة (صح) أمام العبارة الصحيحة، وكلمة (خطأ) أمام العبارة غير الصحيحة فيما يلي:

- ١- تقع مصر في الركن الشمالي الغربي من قارة إفريقيا. ()
٢- صنع المصري القديم ملابس من القطن. ()
٣- زادت أهمية موقع مصر بعد حفر قناة السويس. ()
٤- نهر النيل هو العامل الأول في قيام الحضارة المصرية القديمة. ()
٥- توجد زراعة في السواحل الشمالية على المياه الجوفية. ()
(ب) بم تفسر...؟
- ١- يزداد السكان في وادي النيل ودلتاه. ٢- كون الملك مينا جيشاً قوياً.

السؤال الثالث: (١) اختر الإجابة الصحيحة مما بين الأقواس:

- ١- استقر المصري القديم في مصر بعد معرفة
٢- يحد مصر من الجنوب دولة
٣- من العوامل البشرية لقيام الحضارة المصرية القديمة
٤- نقيس اتجاه الرياح بـ
٥- من المحافظات الجاذبة للسكان
(ب) ما النتائج المترتبة على...؟
- ١- معرفة المصري القديم النار.
٢- معرفة اتجاه الشمال.
٣- موقع مصر الجغرافي.

السؤال الرابع: (١) اكتب المفهوم الذي تشير إليه العبارات الآتية:

- ١- مساحة من اليابس تحيط بها المياه من ثلاث جهات.
٢- انتقال الأفراد من مكان إلى آخر داخل حدود الدولة.
٣- مملكة عاصمتها بوتو وتاج الملك لونه أحمر.
٤- الفرق بين عدد المواليد وعدد الوفيات.
٥- عصر صنع الإنسان فيه أدواته من الحجر ونحته ببساطة.

السؤال الثاني: (١) اكتب كلمة (صح) أمام العبارة الصحيحة، وكلمة (خطأ) أمام العبارة غير الصحيحة فيما يلي:

- ١- مفتاح الخريطة يساعدنا في قراءة وفهم الخريطة. ()
٢- الحدود الجنوبية لمصر حدود طبيعية. ()
٣- صنع المصري القديم الأواني الفخارية في العصر الحجري القديم. ()
٤- الجيش من العوامل الطبيعية لقيام الحضارة المصرية القديمة. ()
(ب) بم تفسر...؟
- ١- أهمية دراسة الطقس.
٢- بنى الملك مينا مدينة (من نقر) منف.

السؤال الثالث: (١) اختر الإجابة الصحيحة مما بين الأقواس:

- ١- مساحة واسعة من الأرض مرتفعة مستوية أو شبه مستوية (الجبال - الهضاب - السهول - التلال)
٢- يزداد السكان في (الصحراء الغربية - شبه جزيرة سيناء - وادي النيل ودلتاه - البحر الأحمر)
٣- كانت عاصمة مملكة الجنوب مدينة (بوتو - نخب - طيبة - منف)
٤- من العوامل البشرية لقيام الحضارة المصرية القديمة (المناخ - نهر النيل - الوحدة - الموقع الجغرافي)

(ب) ما النتائج المترتبة على...؟

- ١- أهمية موقع مصر.
٢- قيام الوحدة بين الأقاليم قديماً.

السؤال الرابع: (١) صوب ما تحته خط في العبارات التالية:

- ١- يساعدنا في تحديد باقي الاتجاهات الأخرى عنوان الخريطة. ()
٢- توجد هضبة الجلف الكبير في شبه جزيرة سيناء. ()
٣- اتخذت مملكة الشمال زهرة اللوتس شعاراً لها. ()
٤- نجح الملك مينا في تأسيس ثالث أسرة حاكمة في تاريخ مصر القديمة. ()

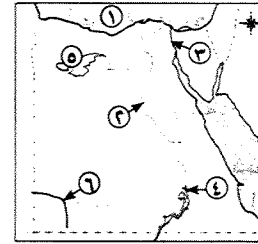
(ب) صنف قارات العالم القديم وقارات العالم الجديد: (أستراليا - آسيا - أمريكا الشمالية - أوروبا - إفريقيا)

قارات العالم القديم	قارات العالم الجديد
١- قارة	١- قارة
٢- قارة	٢- قارة
٣- قارة	٣- قارة

(ب) اقرأ العبارة الآتية ثم أجب: «أشكال السطح متنوعة ولكل منها لون يميزه على الخريطة».

- ١- علام يدل اللون البني على الخريطة؟
- ٢- ما هي أنواع السهول؟

٩- محافظة الغربية - إدارة غرب طنطا التعليمية



السؤال الأول: (١) أمامك خريطة صماء لمصر. وضع مدلول الأرقام الآتية:

- ١- البحر
- ٢- نهر
- ٣- قناة
- ٤- بحيرة
- ٥- منخفض
- ٦- هضبة

(ب) اكتب سببًا واحدًا لكل مما يأتي:

- ١- ندرة السكان في المحافظات الصحراوية والجبلية مثل محافظة الوادي الجديد وجنوب سيناء.
- ٢- أهمية دراسة الطقس والمناخ.
- ٣- أهمية التعداد السكاني.

السؤال الثاني: (١) اختر الإجابة الصحيحة مما بين الأقواس:

- ١- لقطة لجزء من سطح الأرض باستخدام آلة التصوير
- ٢- تعد إحدى قارات العالم القديم
- ٣- تلون المناطق المرتفعة على الخريطة باللون
- ٤- انتقال الأفراد من مكان لآخر داخل حدود الدولة يسمى هجرة
- ٥- يتركز معظم سكان مصر في
- ٦- الحدود الجنوبية لمصر حدود

(ب) ما المقصود بكل من...؟

- ١- النبات الطبيعي.
- ٢- الخريطة.

السؤال الثالث: (١) اكتب كلمة (صح) أمام العبارة الصحيحة، وكلمة (خطأ) أمام العبارة غير الصحيحة فيما يلي:

- ١- كانت حياة المصري القديم غير مستقرة وفي تنقل وترحال من مكان لآخر. ()
- ٢- يتركز السكان على شاطئ البحر المتوسط لاستخراج البترول. ()
- ٣- الحدود السياسية هي حدود تفصل الدولة عن جيرانها. ()
- ٤- تقع مصر في الركن الشمالي الشرقي لقارة إفريقيا. ()
- ٥- يوجد في أي خريطة سهم يشير دائمًا إلى اتجاه الشمال. ()

(ب) اكتب نتيجة واحدة لكل من:

- ١- توحيد البلاد على يد الملك مينا.
- ٢- ارتفاع معدل نمو السكان في مصر.

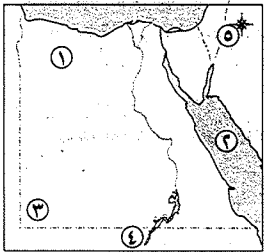
السؤال الرابع: (١) اختر الإجابة الصحيحة مما بين الأقواس:

- ١- بدأت الكتابة الهيروغليفية بالتعبير عن الشيء برسمه في شكل
- ٢- كانت عاصمة مملكة الشمال مدينة
- ٣- العامل الرئيسي لقيام الحضارة المصرية القديمة
- ٤- عرف المصري القديم الحديد في العصر
- ٥- الشعب المصري هو أول شعب حقق
- ٦- نعرف أخبار المصريين القدماء من خلال ما تركوه من

(ب) اكتب سببًا واحدًا لكل من:

- ١- بناء المصري القديم للمساكن بعد نزوله الوادي.
- ٢- إقامة الملك مينا أول حكومة مركزية.

١٠- محافظة الدقهلية - إدارة المطرية التعليمية



السؤال الأول: (١) أمامك خريطة صماء لمصر. وضع مدلول الأرقام الآتية:

- ١- هضبة
- ٢- البحر
- ٣- جبل
- ٤- دولة
- ٥- يشير السهم

(ب) اكتب المفهوم الذي تدل عليه العبارات الآتية:

- ١- امتداد الماء المالح داخل اليابس.
- ٢- مساحة واسعة من اليابس تضم عددًا من الدول داخلها.
- ٣- رسم توضيحي لجزء من سطح الأرض باستخدام مجموعة من الرموز والألوان.
- ٤- حصر عدد السكان للتعرف على أعدادهم وتركيبهم حسب مستوى التعليم وغيره.

(ج) ما النتائج المترتبة على...؟ وضح الحدود المصرية واعتراف دول العالم بها.

السؤال الثاني: (١) اكتب كلمة (صح) أمام العبارة الصحيحة، وكلمة (خطأ) أمام العبارة غير الصحيحة فيما يلي:

- ١- الحدود الجنوبية لمصر حدود برية وبحرية. ()
- ٢- تقوم حرفة الزراعة على ساحل البحر المتوسط على المياه الجوفية. ()
- ٣- تربط قناة السويس بين البحر المتوسط والمحيط الأطلنطي. ()
- ٤- محافظة القاهرة من المحافظات الجاذبة للسكان. ()

(ب) ضع دائرة حول الكلمة التي لا تنتمي للمجموعة:

- ١- إفريقيا - أنتاركتيكا - آسيا - أوروبا.
- ٢- الصيف - الشتاء - مايو - الخريف.
- ٣- العصر الحجري القديم - معرفة الكتابة - عصر المعادن - العصر الحجري الحديث.

السؤال الثالث: (1) اختر الإجابة الصحيحة مما بين الأقواس:

- ١- ليس ملك الشمال تاجًا لونه
 - ٢- صنع المصري القديم ملابسه من
 - ٣- كل ما تركه لنا أجدادنا القدماء وله قيمة عظيمة يسمى
 - ٤- شعور الإنسان بأنه جزء من المجتمع الذي يعيش فيه يسمى
 - ٥- يزداد عدد السكان في
- (ب) اكتب سببًا واحدًا لكل مما يأتي:
- ١- أهمية الخريطة. ٢- تعدد قارتا أمريكا الشمالية وأستراليا من قارات العالم الجديد.

السؤال الرابع: (1) «خرج الملك مينا من مدينة طيبة من مصر ووحد البلاد ولبس التاجين وكون جيشًا قويًا»

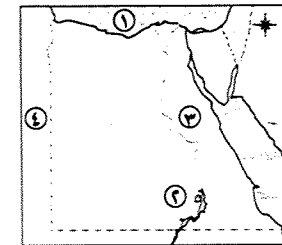
فى ضوء هذه العبارة أجب عما يأتي:

- ١- لماذا كون مينا جيشًا قويًا؟ ٢- ما اسم المدينة التي خرج منها الملك مينا؟
 - ٣- ما اسم العاصمة التي أقامها الملك مينا؟ ٤- ما النتائج المترتبة على معرفة المصري القديم النار؟
 - ٥- بم تفسر: بناء الملك مينا لمدينة من نفر؟
- (ب) ضع الكلمات الآتية فى المكان المناسب بعد نقل الجدول التالي: (المناخ - الجيش - الوحدة - نهر النيل)

من العوامل الطبيعية لقيام الحضارة المصرية القديمة	من العوامل البشرية لقيام الحضارة المصرية القديمة
١-	١-
٢-	٢-

١١- محافظة كفر الشيخ - إدارة دسوق التعليمية

السؤال الأول: (1) أمامك خريطة صماء لمصر .. وضع مدلول الأرقام الآتية:



- ١- البحر
- ٢- بحيرة
- ٣- الصحراء
- ٤- دولة

(ب) بم تفسر...؟

- ١- ارتفاع نمو السكان فى مصر.
- ٢- أهمية الجيش المصرى لقيام الحضارة المصرية.

السؤال الثانى: (1) اكتب كلمة (صح) أمام العبارة الصحيحة، وكلمة (خطأ) أمام العبارة غير الصحيحة فيما يلي:

- ١- الحدود الشمالية لمصر حدود بشرية. ()
- ٢- تعتبر محافظتا سيناء الشمالية والجنوبية من المناطق قليلة السكان. ()
- ٣- خلال العصر الحجري القديم بنى المصري القديم مسكنه من الطوب اللبن. ()
- ٤- ساعدت الزراعة قديمًا الإنسان المصرى على التنقل والترحال بالصحارى. ()

(ب) ما النتائج المترتبة على...؟

- ١- قيام مصر بعمل تعداد لسكانها كل عشر سنوات. ٢- تنوع ثروات مصر الطبيعية.

السؤال الثالث: (1) اختر الإجابة الصحيحة مما بين الأقواس:

- ١- صنع المصري القديم ملابسه من
 - ٢- يتركز السكان فى مصر ب..... (الصحراء الغربية - الصحراء الشرقية - الساحل الشمالى - الوادى والدلتا)
 - ٣- بدأت الكتابة بالتعبير عن الشئ برسمه فى شكل
 - ٤- مجرى مائى عذب
- (ب) ما المقصود بكل من...؟
- ١- السهل الساحلى. ٢- الانتماء.

السؤال الرابع: (1) اكتب ما تشير إليه العبارات الآتية:

- ١- الفترة الزمنية التى عاش فيها الإنسان قبل معرفة الكتابة. ٢- انتقال المصريين للعمل بدول الخليج العربى.
 - ٣- خطوط تحدد الدولة وتفصلها عن جيرانها من الدول. ٤- كل ما تركه لنا أجدادنا القدماء ويعبر عن حياتهم.
- (ب) اقرأ العبارة الآتية:

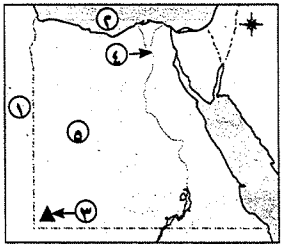
«قامت عدة محاولات لتوحيد مملكة الشمال ومملكة الجنوب فى دولة واحدة، فى ضوء هذه العبارة أجب عما يأتى:

- ١- اذكر اسم مؤسس أول أسرة حاكمة فى تاريخ مصر.

- ٢- متى نجحت مملكة الشمال فى توحيد البلاد؟ وما اسم عاصمتها؟

١٢- محافظة الشرقية - إدارة غرب الزقازيق التعليمية

السؤال الأول: (1) أمامك خريطة صماء لمصر .. وضع مدلول الأرقام الآتية:



- ١- دولة تقع غرب مصر
- ٢- البحر
- ٣- الجبل
- ٤- محافظة جاذبة للسكان
- ٥- الصحراء

(ب) بم تفسر...؟

- ١- تنوع سطح مصر. ٢- الهجرة من الريف إلى المدن. ٣- كون الملك مينا جيشًا قويًا.

السؤال الثانى: (1) اكتب كلمة (صح) أمام العبارة الصحيحة، وكلمة (خطأ) أمام العبارة غير الصحيحة فيما يلي:

- ١- جهة الشرق تقابلها جهة الشرق. ()
- ٢- تربط قناة السويس بين البحر الأحمر والبحر المتوسط. ()
- ٣- حدود مصر حدود طبيعية فقط. ()
- ٤- يتركز السكان فى المناطق الجبلية. ()
- ٥- بنى الإنسان المصرى القديم مسكنه من الطوب اللبن. ()

- السؤال الثاني: (١) اكتب كلمة (صح) أمام العبارة الصحيحة، وكلمة (خطأ) أمام العبارة غير الصحيحة فيما يلي:
- ١- النبات الطبيعي ينمو دون تدخل الإنسان. ()
 - ٢- تقع مصر في الركن الشمالي الشرقي لقارة إفريقيا. ()
 - ٣- عصور ما قبل التاريخ يقصد بها الفترة الزمنية التي عاش فيها الإنسان قبل معرفة الكتابة. ()
 - ٤- أهم إنجازات الملك (مينا) بناء مدينة (من نفر) لتكون عاصمة البلاد. ()
- (ب) بم تفسر؟ كان الإنسان المصري القديم دائم التنقل والترحال.

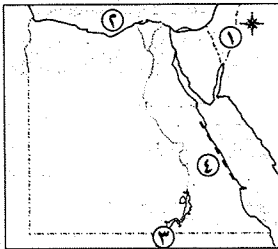
السؤال الثالث: (١) اختر الإجابة الصحيحة مما بين الأقواس:

- ١- تمتد بطول ساحل البحر الأحمر. (التلال - الجبال - الأودية - المنخفضات)
 - ٢- أرض تحيط بها المياه من جميع الجهات. (البحيرة - الجزيرة - شبه الجزيرة)
 - ٣- صنع الإنسان المصري القديم ملابسه من (الكتان - القطن - الصوف - الحرير)
 - ٤- أول شعب حقق الوحدة هو الشعب (السوداني - المصري - السعودي)
- (ب) ما المقصود بالحجرة؟

السؤال الرابع: (١) أكمل العبارات الآتية بكلمات مناسبة:

- ١- المناخ هو حالة الجو في فترة زمنية
 - ٢- تبدأ العصور التاريخية عندما عرف الإنسان
 - ٣- يندرج وجود السكان بمصر في المناطق
 - ٤- كان الإنسان في العصور القديمة يعيش فوق
- (ب) ما هو أول شعب حقق الوحدة؟

١٤- محافظة الفيوم - إدارة شرق الفيوم التعليمية



السؤال الأول: (١) أمامك خريطة صماء لمصر .. وضع مدلول الأرقام الآتية:

- ١- اتجاه
 - ٢- البحر
 - ٣- دولة
 - ٤- جبال
- (ب) بم تفسر؟

- ١- أهمية دراسة الطقس في حياتنا.
- ٢- هجرة السكان من الريف إلى المدن.

السؤال الثاني: (١) اختر الإجابة الصحيحة مما بين الأقواس:

- ١- من قارات العالم الحديث (أوربا - إفريقيا - آسيا - أستراليا)
- ٢- البحر الأحمر وخليج العقبة من حدود مصر (الشمالية - الشرقية - الجنوبية - الغربية)
- ٣- من المناطق مزدهمة السكان بمصر (الوادي والدلتا - الصحراء الشرقية - سيناء - الصحراء الغربية)
- ٤- يدل اللون الأزرق في الخريطة على (الهضاب - الجبال - المسطحات المائية - السهول)

(ب) ما النتائج المترتبة على...؟

- ١- أهمية موقع مصر الجغرافي.
- ٢- وجود مياه جوفية داخل الصحراء الغربية.
- ٣- تحقق الوحدة والاتحاد.

السؤال الثالث: (١) اختر الإجابة الصحيحة مما بين الأقواس:

- ١- يساعدا على قراءة وفهم الخريطة.

(عنوان الخريطة - مقياس الرسم - مفتاح الخريطة - اتجاه الشمال)

- ٢- الاتجاه الواقع بين الجنوب والغرب

(الجنوب الشرقي - الجنوب الغربي - الشمال الشرقي - الشمال الغربي)

- ٣- يشتمل سطح مصر على

(جبال - هضاب - سهول - كل ما سبق)

- ٤- يندر السكان في المحافظات

(الزراعية - الصناعية - الساحلية - الصحراوية)

- ٥- عاش الإنسان المصري قديماً بداية حياته فوق

(الجبال - الهضاب - التلال - السهول)

(ب) ماذا يحدث إذا...؟

- ١- لم يتم حفر قناة السويس.

- ٢- لم يعرف الإنسان الزراعة.

السؤال الرابع: (١) صوب ما تحته خط:

- ١- يوجد على كل خريطة سهم يشير إلى جهة الجنوب.

- ٢- قارة أستراليا من قارات العالم القديم.

- ٣- صنع الإنسان أدواته في العصر الحجري القديم من الحديد.

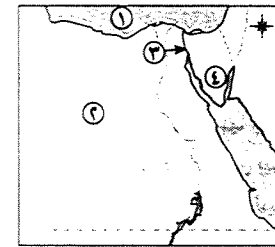
- ٤- بدأت الكتابة بالتعبير عن الشيء برسمه في شكل حروف.

- ٥- كان لون تاج مملكة الشمال اللون الأبيض.

(ب) ما المقصود بكل من...؟

- ١- الخريطة. ٢- هجرة داخلية.

١٣- محافظة شمال سيناء - إدارة رفح التعليمية (مجاب عنه في ٢١٥)



السؤال الأول: (١) أمامك خريطة صماء لمصر .. وضع مدلول الأرقام الآتية:

- ١- البحر

- ٢- الصحراء

- ٣- قناة

- ٤- شبه جزيرة

(ب) ما النتائج المترتبة على...؟ أهمية موقع مصر.

(ب) بم تفسر..؟

- ١- تركيز السكان في الوادي والدلتا.
- ٢- كون الملك مينا جيشاً قوياً.

السؤال الثاني: (١) اكتب كلمة (صح) أمام العبارة الصحيحة، وكلمة (خطأ) أمام العبارة غير الصحيحة فيما يلي:

- ١- يشير السهم المرسوم أعلى الخريطة لاتجاه الجنوب. ()
- ٢- الخرائط والرحلات من أدوات تعلم الدراسات الاجتماعية. ()
- ٣- يتوزع سكان مصر بالتساوي بين محافظاتها. ()
- ٤- تبدأ العصور التاريخية بمعرفة الإنسان الكتابة. ()

(ب) ما النتائج المترتبة على..؟

- ١- موقع مصر الجغرافي.
- ٢- توقف سقوط المطر فوق الهضاب قديماً.

السؤال الثالث: (١) اختر الإجابة الصحيحة مما بين الأقواس:

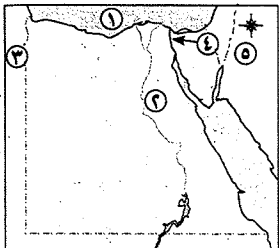
- ١- يحد مصر من الغرب دولة
 - ٢- تسقط الأمطار على الأطراف الشمالية لمصر في فصل
 - ٣- تقوم مصر بعمل تعداد للسكان مرة كل سنوات.
- (ب) ماذا يحدث إذا لم...؟ يجر نهر النيل بمصر.

السؤال الرابع: (١) أكمل العبارات الآتية بكلمات مناسبة:

- ١- النبات الطبيعي هو النبات الذي ينمو دون تدخل
 - ٢- أعلى قمة جبلية في مصر جبل
 - ٣- خرج الملك مينا من مدينة
 - ٤- عاش المصري القديم وتنقل فوق
- (ب) اكتب ما تشير إليه العبارات الآتية:

- ١- الفرق بين عدد الموالي و عدد الوفيات.
- ٢- العامل الرئيسي لقيام الحضارة المصرية القديمة

١٦ - محافظة المنيا - إدارة ملوى التعليمية - مدرسة التحريز بنين الابتدائية



السؤال الأول: (١) أمامك خريطة صماء لمصر .. وضع مدلول الأرقام الآتية:

- ١- البحر
- ٢- نهر
- ٣- دولة
- ٤- قناة
- ٥- اتجاه السهم يشير إلى

(ب) صف الجهات التالية وفقاً للجدول: (جنوب - شمال غرب - جنوب شرق - غرب)

الجهات الغربية	الجهات الأصلية
.....
.....
.....

السؤال الثالث: (١) أكمل العبارات الآتية بكلمات مناسبة:

- ١- تقع جمهورية مصر العربية في قارة
- ٢- الخريطة من الأدوات المستخدمة في تعلم
- ٣- أكبر محافظات مصر جذباً للسكان محافظة
- ٤- أهم البحيرات العذبة في مصر بحيرة

(ب) اكتب ما تشير إليه العبارات الآتية:

- ١- عملية تهدف إلى حصر السكان للتعرف على أعدادهم وتركيبهم.
- ٢- انتقال الأفراد من مكان إلى آخر داخل حدود الدولة.
- ٣- خطوط تحدد الدولة وتفصلها عن جيرانها من الدول.

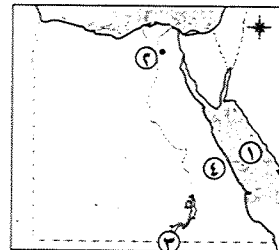
السؤال الرابع: (١) اكتب كلمة (صح) أمام العبارة الصحيحة، وكلمة (خطأ) أمام العبارة غير الصحيحة فيما يلي:

- ١- اكتشف الإنسان المصري النحاس في العصر الحجري الحديث. ()
- ٢- تبدأ عصور ما قبل التاريخ بمعرفة الإنسان الكتابة. ()
- ٣- الولاء شعور الإنسان بالحب والقرب تجاه أرضه. ()
- ٤- السبب الأول في قيام الحضارة المصرية المناخ. ()
- ٥- استطاع الملك مينا توحيد البلاد عام ٣٢٠٠ ق.م. ()

(ب) قارن بين: مملكة الشمال ومملكة الجنوب من حيث (العاصمة - التاج)

وجه المقارنة	مملكة الشمال	مملكة الجنوب
العاصمة
التاج

١٥ - محافظة بني سويف - إدارة الواسطى التعليمية



السؤال الأول: (١) أمامك خريطة صماء لمصر .. وضع مدلول الأرقام الآتية:

- ١- البحر
- ٢- محافظة جاذبة للسكان
- ٣- دولة
- ٤- الصحراء

(ب) ما النتائج المترتبة على ما يأتي...؟

- ١- وجود مفتاح للخريطة. ٢- حدوث جفاف فوق الهضاب المصرية قديماً.

السؤال الثاني: (١) اكتب كلمة (صح) أمام العبارة الصحيحة، وكلمة (خطأ) أمام العبارة غير الصحيحة فيما يلي:

- ١- تعد الدلتا من المناطق نادرة السكان. ()
 ٢- العصور التاريخية هي العصور التي تبدأ بمعرفة الإنسان الكتابة. ()
 ٣- الزيادة الطبيعية هي الفرق بين عدد المواليد وعدد الوفيات. ()
 ٤- عدد الجهات الأصلية خمس جهات. ()
 (ب) بم تفسر...؟

- ١- ندرة النباتات الطبيعي في مصر. ٢- كون الملك مينا جيشاً قوياً.

السؤال الثالث: (١) اختر الإجابة الصحيحة مما بين الأقواس:

- ١- تقوم مصر بحصر عدد السكان مرة كل سنوات.
 ٢- خرج الملك مينا من مدينة
 ٣- الحدود بين الدول تسمى حدوداً
 ٤- تقع مصر في الركن الشمالي الشرقي من قارة
 ٥- من الأدوات التي تستخدم في تعلم الدراسات الاجتماعية
 (ب) اكتب المفهوم الذي تشير إليه العبارتان الآتيتان:

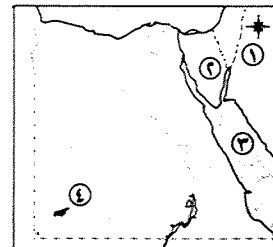
- ١- مساحة واسعة من اليابس تضم عددًا من الدول داخلها. ٢- انتقال الأفراد من مكان لآخر.

السؤال الرابع: (١) صوب ما تحته خط:

- ١- اتجاه الجنوب من الاتجاهات الفرعية.
 ٢- دراسة حالة الجو لفترة زمنية طويلة تسمى الطقس.
 ٣- كان لون تاج مملكة الشمال أبيض.
 ٤- الهجرة الخارجية هي انتقال الأفراد داخل حدود الدولة.
 (ب) رتب من القديم إلى الحديث:

- (أقاليم - مدن - عائلات وقبائل - قرى - وحدة البلاد - تكون مملكة الشمال ومملكة الجنوب)

١٧- محافظة أسيوط - إدارة ديروط التعليمية (مجاب ضمنى ٢١٥)



السؤال الأول: (١) أمامك خريطة صماء لمصر .. وضع مدلول الأرقام الآتية:

- ١- يشير السهم إلى اتجاه
 ٢- شبه جزيرة
 ٣- البحر
 ٤- جبل

(ب) اكتب ما تشير إليه العبارتان الآتيتان:

- ١- مجار مائية عذبة. ٢- النباتات الذي ينمو تلقائياً دون تدخل الإنسان.

السؤال الثاني: (١) اكتب كلمة (صح) أمام العبارة الصحيحة، وكلمة (خطأ) أمام العبارة غير الصحيحة فيما يلي:

- ١- من قارات العالم الجديد قارة أستراليا. ()
 ٢- تحد مصر من جهة الجنوب دولة ليبيا. ()
 ٣- يتوزع السكان بالتساوي على أرض مصر. ()
 ٤- الزيادة الطبيعية هي الفرق بين المواليد والوفيات. ()
 (ب) ما النتائج المترتبة على...؟ معرفة المصري القديم النار.

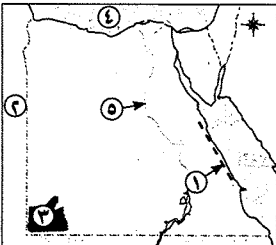
السؤال الثالث: (١) اختر الإجابة الصحيحة مما بين الأقواس:

- ١- من أدوات دراسة الدراسات الاجتماعية
 (الخريطة - الإنترنت - المكتبة - كل ما سبق)
 ٢- تقاس درجة الحرارة ب.....
 (دائرة الرياح - الترمومتر - مقياس المطر - الكمبيوتر)
 ٣- تقع مصر في الركن الشمالي الشرقي لقارة
 (آسيا - أوربا - إفريقيا - أمريكا)
 ٤- عاصمة مملكة الجنوب
 (بوتو - أون - طيبة - نخب)
 (ب) بم تفسر...؟ تركيز السكان في الوادي والدلتا.

السؤال الرابع: (١) أكمل العبارات الآتية بكلمات مناسبة:

- ١- انتقال الأفراد من مكان لآخر داخل حدود الدولة هجرة
 ٢- صنع المصري القديم ملابسه من
 ٣- الفترة الزمنية التي عاش فيها الإنسان قبل معرفة الكتابة
 ٤- ساعد قيام الوحدة على تكوين قوى لحماية البلاد من الأعداء.
 (ب) من أكون...؟ خرجت من مدينة طيبة وقمت بتوحيد مملكتي الشمال والجنوب عام ٣٢٠٠ ق.م.

١٨- محافظة قنا - إدارة فرشوط التعليمية



السؤال الأول: (١) أمامك خريطة صماء لمصر .. وضع مدلول الأرقام الآتية:

- ١- جبال
 ٢- دولة
 ٣- هضبة
 ٤- البحر
 ٥- وادي

(ب) أكمل العبارات الآتية بكلمات مناسبة:

- ١- اللون البنى على الخريطة يدل على، بينما اللون الأزرق يدل على
- ٢- من عناصر الخريطة و
- ٣- تقاس الحرارة ب.....، بينما تقاس الأمطار ب.....
- (ج) اكتب المفهوم الجغرافي لكل مما يأتي:
- ١- المناخ. ٢- الخريطة.
- (د) ماذا يحدث إذا...؟

١- لم تقم مصر بعملية التعداد السكاني. ٢- لم يوجد مفتاح الخريطة.

السؤال الثاني: (١) اختر الإجابة الصحيحة مما بين الأقواس:

- ١- مجموعة الرموز والألوان منها
- ٢- شبه الجزيرة تحيط بها المياه من
- ٣- من أطول أنهار العالم نهر
- ٤- من حدود مصر الجنوبية دولة
- ٥- تعد قارة أستراليا من قارات العالم
- (ب) صنف كلاً مما يأتي بين الحدود الطبيعية والحدود البشرية لمصر وفقاً للجدول التالي:

(البحر الأحمر - ليبيا - البحر المتوسط - دولة السودان)

الحدود البشرية	الحدود الطبيعية

(ج) بم تفسر...؟

- ١- هجرة بعض سكان المحافظات لمحافظات أخرى.
- ٢- من الضروري استخدام مقياس رسم مناسب.
- ٣- أهمية دراسة الطقس.

السؤال الثالث: (١) اكتب كلمة (صح) أمام العبارة الصحيحة، وكلمة (خطأ) أمام العبارة غير الصحيحة فيما يلي:

- ١- بدأ التاريخ بصنع الإنسان أدواته من معدن الحديد. ()
- ٢- تبدأ العصور التاريخية بمعرفة الإنسان الكتابة. ()
- ٣- خرج الملك مينا من مدينة طيبة. ()
- ٤- لم يعرف الإنسان المصري القديم الانتماء للأسرة. ()
- ٥- حضارة مصر من أقدم الحضارات في العالم. ()
- ٦- لم يعتقد المصري القديم في البعث والحساب. ()
- (ب) رتب الأحداث الآتية زمنياً من الأقدم إلى الأحدث:
- (صناعة الأواني الحجرية - معرفة الإنسان الكتابة - استخدام النار - بناء المساكن - استخدام أدواته من الحديد)

(ج) ما النتائج التي تترتب على...؟

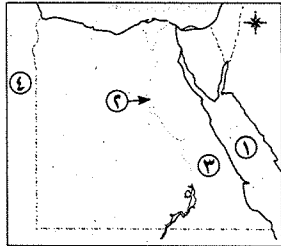
- ١- معرفة الإنسان المصري القديم الكتابة.
- ٢- قيام الوحدة والاتحاد بين الأقاليم.

السؤال الرابع: (١) صوب ما تحته خط:

- ١- الحضارة هي كل ما تركه لنا أجدادنا القدماء ويعبر عن حياتهم.
- ٢- نجحت مملكة الشمال في توحيد البلاد تحت سيطرة حاكم واحد عام ٥٣٢٥ ق.م.
- ٣- اكتشف المصري القديم مادة النحاس في الصحراء الغربية.
- ٤- عُرفت الكتابة المصرية القديمة بالديموطيقية.
- ٥- نجح الملك خوفو في توحيد البلاد عام ٣٢٠٠ ق.م.
- ٦- كان البحر الأحمر شريان الحياة ومصدر الخير عند المصريين القدماء.
- (ب) اكتب اسم الشخصية التي تتحدث عن نفسها:
- ١- قمت ببناء مدينة (من نضر) لتكون عاصمة للبلاد. ٢- كنت السبب الأول في قيام الحضارة المصرية القديمة.
- ٣- تعلمت نحت الحجارة بدقة. ٤- حروفى عبارة عن رسوم لكائنات حية أو أجزاء منها.
- ٥- شعار مملكتى زهرة اللوتس.
- (ج) ما رأيك فى...؟
- ١- الملك مينا. ٢- نهر النيل.

١٩- محافظة سوهاج - إدارة جرجا التعليمية

السؤال الأول: (١) أمامك خريطة صماء لمصر .. وضع مدلول الأرقام الآتية:



- ١- البحر
- ٢- نهر
- ٣- الصحراء
- ٤- دولة

(ب) أكمل العبارتين التاليتين بكلمة مناسبة لكل عبارة:

- ١- تعد الخريطة من الأدوات المستخدمة في تعلم
- ٢- يساعد اتجاه في تحديد باقى الاتجاهات.

(ج) اكتب المفهوم الذى تشير إليه العبارة:

رسم توضيحي لسطح الأرض أو جزء منه باستخدام مجموعة من الرموز والألوان ويمقياس رسم محدود.

السؤال الثاني: (١) اكتب كلمة (صح) أمام العبارة الصحيحة، وكلمة (خطأ) أمام العبارة غير الصحيحة فيما يلي:

- ١- تقع مصر إلى الجنوب من البحر الأحمر. ()
- ٢- تعد قارة أمريكا الشمالية إحدى قارات العالم الجديد. ()
- ٣- يمتد السهل الفيضى لمصر بطول وادى النيل ودلتاه. ()
- ٤- اللون الأزرق على الخريطة يدل على الهضاب. ()

(ب) بم تفسر...؟

١- ندرة النباتات الطبيعية في مصر. ٢- أهمية حفر قناة السويس بالنسبة لمصر.

السؤال الثالث: (١) اختر الإجابة الصحيحة مما بين الأقواس:

- ١- يزداد عدد السكان في
 (الصحراء الشرقية - وادي النيل ودلتاه - ساحل البحر الأحمر)
 ٢- توجد أعداد متوسطة من السكان في
 (وادي النيل - شبه جزيرة سيناء - سواحل البحر المتوسط)
 ٣- تعد الواحات بالصحراء الغربية من المناطق السكان.
 (المتوسطة - النادرة - القليلة)
 (ب) ما المقصود ب...?
 الزيادة الطبيعية للسكان.

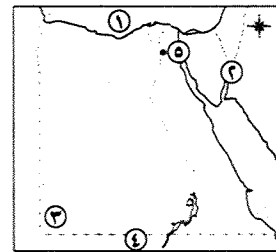
السؤال الرابع: (١) اختر من المجموعة (ب) ما في المجموعة (١) واكتب العبارة بالكامل:

(ب)	(١)
من نقره مصر وقتها (الشرق) من نقره مصر وقتها (الشرق)	١- عاصمة مملكة الشمال بوتو تقع قرب
الجنوب.	٢- كانت عاصمة الدولة الموحدية على يد الملك مينا
دسوق.	٣- الوجه القبلي يمثل مملكة
الشمال.	

(ب) اكتب اسم الشخصية التي تتحدث عن نفسها:

خرجت من مدينة طيبة، ونجحت في سنة ٣٢٠٠ ق.م في توحيد مملكتي الشمال والجنوب، وأسست أول أسرة حاكمة في مصر.

٢٠- محافظة أسوان - إدارة أسوان التعليمية



السؤال الأول: (١) أمامك خريطة صماء لمصر .. وضع مدلول الأرقام الآتية:

- ١- البحر
 ٢- خليج
 ٣- جبل
 ٤- دولة
 ٥- محافظة جاذبة للسكان

(ب) بم تفسر...؟

- ١- أهمية مفتاح الخريطة. ٢- كان للزراعة أهمية كبيرة في حياة المصري القديم.
 (ج) ضع دائرة حول الكلمات التي لا تنتمي للمجموعة:
 ١- رحلات - كمبيوتر - مطر - مكثبات.
 ٢- أستراليا - إفريقيا - آسيا - أوربا.
 ٣- الصبار - الخروع - القطن - التين الشوكي.

السؤال الثاني: (١) اكتب كلمة (صح) أمام العبارة الصحيحة، وكلمة (خطأ) أمام العبارة غير الصحيحة فيما يلي:

- ١- السهم الموجود أعلى الخريطة يشير إلى اتجاه الجنوب. ()
 ٢- كل حدود مصر حدود طبيعية. ()

- ٣- اللون الأزرق على الخريطة يدل على المسطحات المائية. ()
 ٤- تقوم حرفة الزراعة على ساحل البحر المتوسط على المياه الجوفية. ()
 ٥- تبدأ العصور التاريخية بمعرفة الإنسان الكتابة. ()
 (ب) اكتب ما تشير إليه كل عبارة من العبارات الآتية:
 ١- النسبة بين المسافة على الخريطة وما يقابلها على الطبيعة. ٢- وصف لحالة الجو في فترة زمنية طويلة.
 ٣- انتقال الأفراد من مكان إلى آخر.
 ٤- الفترة الزمنية التي عاش فيها الإنسان قبل معرفة الكتابة.
 ٥- العامل الرئيسي الذي ساعد على قيام الحضارة المصرية القديمة.

السؤال الثالث: (١) اختر الإجابة الصحيحة مما بين الأقواس:

- ١- من الأدوات التي تستخدم في تعلم الدراسات الاجتماعية
 (الخريطة - المعادن - الحجر)
 ٢- زادت أهمية مصر بعد حفر
 (بحيرة ناصر - البحر الأحمر - قناة السويس)
 ٣- تمتد بطول ساحل البحر الأحمر
 (التلال - الجبال - المنخفضات)
 ٤- يتركز بعض سكان مصر على سواحل البحر الأحمر للعمل في
 (الزراعة - الرعي - القرى السياحية)
 ٥- أرض مصر مليئة بالمعادن مثل
 (النحاس - القطن - الكتان)
 (ب) صوب الكلمات التي تحتها خط:

- ١- تطل مصر على البحر المتوسط من ناحية الشرق.
 ٢- تقوم مصر بعمل تعداد لسكانها مرة كل خمس سنوات.
 ٣- تعد الواحات الموجودة بالصحراء الغربية من المناطق مزدهمة السكان.
 ٤- في العصر الحجري القديم صنع المصري القديم أدواته من الحديد.
 ٥- من العوامل البشرية لقيام الحضارة المصرية المناخ.

السؤال الرابع: (١) أكمل العبارات التالية بكلمات مناسبة لكل عبارة:

- ١- تقع مصر في الركن الشمالي الشرقي من قارة
 ٢- أرض تحيط بها المياه من جميع الجهات هي
 ٣- تقاس درجات الحرارة ب.....
 ٤- اكتشف المصري القديم معدن النحاس في منطقة
 ٥- بنى المصري القديم مسكنه من

(ب) ما النتائج المترتبة على...؟

- ١- صعوبة الانتقال بالصحارى. ٢- انتشار الجفاف فوق الهضبة.
 (ج) قارن بين: مملكتي الشمال والجنوب مستعينا بالجدول الآتي:

مملكة الجنوب	مملكة الشمال	أوجه المقارنة
نخب		العاصمة
		الشعار