

* النشاط الاقتصادي : هو العمل أو الحرفة التي يمارسها الإنسان لسد احتياجاته بطريق مباشر أو كسب المال لشراء هذه الاحتياجات .

* تختلف الأنشطة التي يمارسها الإنسان على سطح الأرض وذلك بهدف توفير احتياجات المجتمع من ملابس ومسكن وغذاء وباقي مستلزمات الحياة وكذلك لتوفير فائض في الإنتاج لتصديره .

* تعدد الأنشطة الاقتصادية بمصر يؤدي إلى تنوع الكسب والربح

* من الأنشطة الاقتصادية بمصر (الصناعة - التعدين - الزراعة - السياحة - التجارة) بالإضافة إلى أنشطة الخدمات (التي تخدم الأنشطة الأخرى) مثل التعليم والصحة .

* تختلف الأنشطة الاقتصادية من مكان لآخر فبعض المحافظات تشتهر بالزراعة وأخرى بالصناعة وأخرى بالسياحة .

النشاط الزراعي :

* الزراعة : نشاط يقوم به الإنسان منذ القدم في المناطق التي تتوفر فيها موارد المياه ويرتبط تربية الحيوان به .

* أهمية الزراعة : ١- تمدنا بالغذاء .

٢- توفر لنا المواد الخام اللازمة للصناعة .

* عوامل قيام الزراعة : تنقسم إلى عوامل طبيعية وبشرية .

* أولا العوامل الطبيعية : مثل التربة والمناخ وموارد المياه .

١- التربة : تتميز مصر بتربة خصبة في الوادي والدلتا والواحات .

٢- المناخ : ملائم للزراعة طوال العام وتتنوع المحاصيل بتنوع الحرارة صيفا وشتاء

- محاصيل صيفيه : الذرة والأرز وقصب سكر والقطن وبعض الفواكه والخضروات .

- محاصيل شتوية : القمح والشعير والبقول والبرسيم والبصل والموالح والخضراوات .

٣- موارد المياه : وتنقسم إلى:-

أ) نهر النيل: المصدر الرئيسي للمياه وتنقل منه عن طريق الترعة والرياحات .

ب) المياه الجوفية: توجد في الآبار والعيون داخل المناطق الصحراوية وسيناء .

ج) الأمطار : قليلة وتسقط على السواحل الشمالية.

- الترعة : قناة مائية يتم حفرها لتوصيل المياه إلى الأرض الزراعية .

- الرياح : ترعة كبيرة تخرج من النهر مباشرة .

* ثانيا العوامل البشرية : مثل الأيدي العاملة ورأس المال والسوق .

١- الأيدي العاملة : تقوم بحفر الترعة وزراعة الأرض .

٢- رأس المال : شراء البذور والآلات والأسمدة الكيماوية والمبيدات الحشرية .

٣- السوق : بيع المنتجات الزراعية .

* الثروة الحيوانية : تتنوع في مصر حيث تكثر في الوادي والدلتا الماشية مثل البقر والجاموس بينما يوجد في الصحراء

الأغنام والماعز والإبل .

* الثروة السمكية : تتنوع مصادرها فى مصر حيث توجد اسماك المياه العذبة فى النيل وفروعه وبحيرة ناصر وتوجد

اسماك المياه المالحة فى البحرين الأحمر والمتوسط والبحيرات المالحة .

* جهود الدولة لتنمية الثروة الزراعية :-

- ١- استصلاح أراضى زراعية جديدة .
 - ٢- توفير المبيدات والأسمدة واختيار البذور الجيدة لتحسين الإنتاج الزراعى .
 - ٣- توفير الرعاية البيطرية للحيوانات .
 - ٤- الاهتمام بالتعليم الزراعى واستخدام الأساليب الحديثة فى الزراعة .
 - ٥- استيراد وتربية السلالات الحيوانية الجيدة .
 - ٦- رعاية الفلاح المصرى وتحسين أحواله .
- تنمية زراعية : عملية تهدف إلى زيادة الإنتاج الزراعى وتحسينه واستصلاح الأراضى .

الدرس الثانى : التعدين والصناعة والتجارة

التعدين : نشاط اقتصادى يهدف إلى البحث والتنقيب عن المعادن الموجودة فى باطن الأرض واستخراجها

- نستخرج من باطن الأرض (المعادن) مثل الحديد { من الواحات البحرية فى الصحراء الغربية } والفوسفات { من أبوظرطور فى الصحراء الغربية } والمنجنيز { من أم بجمة بشبه جزيرة سيناء } والذهب { من مناجم السكرى بالصحراء الشرقية } أو (مصادر الطاقة) مثل البترول { من خليج السويس وشمال سيناء والبحر المتوسط والصحراء الغربية والفحم { من جبل المغارة بسيناء } والغاز الطبيعى { من حقل أبوماضى بشمال الدلتا والصحراء الغربية } .

الصناعة : عملية الهدف منها تحويل المواد الخام إلى منتجات تصلح للاستخدام .

* عوامل قيام الصناعة :

أولا المقومات الطبيعية :

- ١- المواد الخام : وهى زراعية أو حيوانية أو معدنية .
 - ٢- مصادر للطاقة مثل البترول والغاز الطبيعى والفحم .
- ثانيا المقومات البشرية : الأيدى العاملة ورأس المال ووسائل النقل والأسواق .

* أنواع الصناعة :

- ١- صناعة يدوية : داخل المنازل أو الورش وتعتمد على المهارة اليدوية .
- ٢- صناعة حديثة : داخل المصانع الكبيرة وتضم أعدادا كبيرة من العمال والفنيين .

التجارة : عملية بيع وشراء المنتجات والسلع وانتقال الخدمات .

* أنواع التجارة :

- ١- تجاره داخليه : عملية بيع وشراء المنتجات والسلع داخل الدولة .
 - ٢- تجاره خارجية : عملية بيع وشراء المنتجات والسلع بين مصر والدول الأخرى .
- تنقسم وسائل النقل إلى النقل البرى والنقل المائى والنقل الجوى .
- شجع موقع مصر المتميز وتقدم وسائل النقل على رواج التجارة

الدرس الثالث : السياحة في بلدى .

- السياحة : هى انتقال الفرد لزيارة أماكن معينة داخل وطنه أو خارجه .
 - مصر بلد سياحى يأتى إليه ملايين السائحين من كل بقاع الأرض لما تتميز به من موقع متميز ومناخ معتدل ومناظر طبيعية خلابة وآثار متنوعة ووجود أنواع من الرمال والعيون المائية التى تساعد فى علاج الأمراض .
- *السياحة نوعان :

أ) سياحة داخلية (داخل الدولة) . (ب) سياحة خارجية (لزيارة الدول الأخرى) .

* أهمية السياحة لمصر :

- ١- زيادة الدخل القومى لمصر .
- ٢- توفر فرص عمل للشباب .

* واجبنا نحو السياح والمناطق السياحية :

- ١- المحافظة على نظافة الأماكن السياحية .
- ٢- عدم تشويه المناطق الأثرية بالرسم أو الكتابة عليها .
- ٣- معاملة السياح معاملة حسنة .

* جهود الدولة لتنمية السياحة :

- ١- إنشاء عديد من القرى السياحية والفنادق .
- ٢- الاهتمام بنظافة المناطق السياحية وتجميلها .
- ٣- توفير وسائل النقل والمواصلات والاتصالات .
- ٤- توفير الأمن والأمان للسائح خلال رحلته .
- ٥- توعية المواطنين بأداب التعامل مع السياح .

تنمية سياحية

عملية تهدف إلى العمل على جذب السياح وزيادة أعدادهم بتطوير وزيادة المناطق السياحية

س ١ : اذكر بعض أنشطة الخدمات ؟

س ٢ : اذكر أربعة مجالات يعمل بها السكان فى مصر ؟

س ٣ : اذكر العوامل الطبيعية لقيام الزراعة فى مصر .

س ٤ : اذكر العوامل البشرية لقيام الزراعة فى مصر .

س ٥ : اذكر أمثلة للمحاصيل الشتوية والمحاصيل الصيفية فى مصر ؟

س ٦ : ما هى موارد المياه فى مصر ؟

س ٧ : اذكر جهود الدولة فى مجال التنمية الزراعية ؟

س ٨ : اذكر الحيوانات التى تربي فى :

س ٩ : ما أهم مناطق صيد الأسماك فى مصر ؟

أ) الوادى والدلتا (ب) الصحراء

س ١٠ : ما المقصود بالتعدين ؟

س ١١ : اذكر أمثلة للمعادن ومصادر الطاقة ؟

س ١٢ : ما الفرق بين الصناعة اليدوية والصناعة الحديثة ؟

س ١٣ : ما الفرق بين التجارة الداخلية والتجارة الخارجية ؟

س ١٤ : اذكر أنواع النقل فى مصر ؟

س ١٥ : لماذا يأتى السياح إلى مصر ؟

س ١٦ : ما أنواع السياحة ؟

س ١٧ : ما أهمية السياحة لمصر ؟

س ١٨ : ما واجبنا نحو السياح والمناطق السياحية ؟

س ١٩ : اذكر جهود الدولة لتنمية السياحة ؟

س ٢٠ : ما المقصود بالتنمية السياحية ؟

- ١- من أهم الحرف التي تعرف بالخدمات
- ٢- تهدف ممارسة الأنشطة الاقتصادية إلى سد حاجات الإنسان من
- ٣- تعتبر منطقة من أهم المناطق الصالحة لممارسة حرفة الزراعة في مصر .
- ٤- توجد صناعة بمحافظة شمال سيناء .
- ٥- يعتبر هو المصدر الرئيسي للمياه في مصر .
- ٦- تنقسم الصناعة إلى صناعة وصناعة
- ٧- من مصادر المياه المستخدمة في مصر
- ٨- تنتشر تربية في الدلتا بينما تنتشر تربية ، في صحراء مصر .
- ٩- من مصائد المياه العذبة في مصر
- ١٠- يذهب بعض السياح إلى منطقة عيون حلوان بالقاهرة بهدف
- ١١- عملية تهدف إلى زيادة الإنتاج الزراعي باستصلاح أراضي زراعية جديدة .
- ١٢- من الأماكن السياحية بمحافظة ،
- ١٣- حرفة الهدف منها تحويل المادة الخام من صورتها الأولية إلى منتجات
- ١٤- يدخل الحديد في صناعة
- ١٥- تتميز مصر بوجود تربة
- ١٦- من المحاصيل الصيفية
- ١٧- توجد الأهرامات في محافظة
- ١٨- من مقومات الإنتاج الصناعي في مصر
- ١٩- عملية الهدف منها البحث والتنقيب عن المعادن الموجودة في باطن الأرض
- ٢٠- يتميز الشعب المصري بحسن للسياح
- ٢١- يستخدم في صناعة إطارات السيارات
- ٢٢- تشتهر مدينة بوجود معامل لتكرير البترول .
- ٢٣- كلما تنوعت الأنشطة الاقتصادية تعددت مصادر
- ٢٤- من عوامل قيام التجارة لابد من توافر وسائل
- ٢٥- تسهم السياحة في نمو في مصر .
- ٢٦- تعد أهرامات الجيزة من الآثار
- ٢٧- من واجبي نحو السياح
- ٢٨- من وسائل النقل الحديثة النقل ، النقل ، النقل
- ٢٩- يقصد بحركة البيع والشراء بين القرى والمدن
- ٣٠- تكثر في الوادي والدلتا
- ٣١- من العوامل البشرية لجذب السياحة لمصر
- ٣٢- الصناعة الحديثة تتم في كبيرة تدار بـ
- ٣٣- تسهم الزراعة في توفير اللازمة للصناعة
- ٣٤- يأتي إلى مصر ملايين السياح من أوروبا في فصل
- ٣٥- هي عملية الهدف منها جذب السياح وزيادة أعدادهم لزيارة المناطق السياحية
- ٣٦- زيارة مكان داخل مصر للاستمتاع به يعرف بالسياحة
- ٣٧- من المحاصيل الشتوية
- ٣٨- من مصائد المياه المالحة

س ٢٢ : ضع علامة (√) أمام العبارة الصحيحة وعلامة (×) أمام العبارة الخاطئة :-

- ١- تتنوع الأنشطة الاقتصادية في مصر لتعدد الموارد .
- ٢- من أمثلة أنشطة الخدمات التعليم والصحة .
- ٣- الصناعات اليدوية تتم في المدارس أو الورش .
- ٤- أغلب السياح يأتون إلى مصر في الشتاء .
- ٥- دير سانت كاترين من آثار مصر السياحية .
- ٦- تنتشر حرفة الزراعة في محافظة شمال سيناء .
- ٧- من المحاصيل الصيفية بمصر الموالح .
- ٨- يوجد في النيل وفروعه أسماك المياه المالحة .
- ٩- تقوم حرفة الزراعة في الصحراء الغربية في مصر على مياه الأمطار .
- ١٠- تتركز التربة الخصبة في مصر في الوادي والدلتا .
- ١١- تنتشر الأغنام والماعز والإبل في الوادي والدلتا بمصر .
- ١٢- من مصائد المياه المالحة في مصر بحيرة ناصر .
- ١٣- الحرف التي تعرف بالخدمات هي الصناعة والزراعة .
- ١٤- من المحاصيل الشتوية في مصر الفول والشعير .
- ١٥- تكثر تربية الماشية في الوادي والدلتا في مصر .
- ١٦- من الآثار الإسلامية في مصر الهرم الأكبر .
- ١٧- تقوم حرفة الزراعة في السواحل الشمالية في مصر على المياه الجوفية .
- ١٨- سواحل مصر على البحر المتوسط والبحر الأحمر من أهم المناطق السياحية .
- ١٩- التجارة الداخلية تتم بين مصر والدول الأخرى .
- ٢٠- بحيرة ناصر من مصادر المياه العذبة .
- ٢١- يصنع الخبز من القمح أو الذرة أو الشعير .
- ٢٢- يعد نهر النيل المصدر الرئيسي للمياه العذبة في مصر .
- ٢٣- ساعد موقع مصر الجغرافي على جذب السياح إليها .
- ٢٤- تنتشر المياه الجوفية في مصر بالمناطق الصحراوية وسيناء .
- ٢٥- يتم الحصول على خام الحديد في مصر من الواحات وأسوان .
- ٢٦- البحر المتوسط والبحر الأحمر مصدران لأسماك المياه العذبة .
- ٢٧- تنتشر الزراعة في جنوب سيناء .
- ٢٨- القطن من المحاصيل الشتوية في مصر التي تحتاج لدرجة حرارة منخفضة .
- ٢٩- من أنشطة الخدمات السياحة والتجارة .
- ٣٠- التجارة الخارجية يقصد بها حركة البيع والشراء بين القرى والمدن .
- ٣١- القمح من المحاصيل الصيفية .
- ٣٢- موقع مصر المتميز من أهم مقومات السياحة .
- ٣٣- تقوم الصناعة اليدوية في مصر في المصانع الضخمة .
- ٣٤- القطن يتم غزله وتصنع منه الملابس القطنية .
- ٣٥- من أهم الصناعات اليدوية في مصر صناعة الحديد والصلب .
- ٣٦- يضطر الإنسان إلى ارتداء الملابس الخفيفة في البيئات الحارة .
- ٣٧- تهدف حرفة التعدين إلى البحث والتنقيب على المعادن .
- ٣٨- شجع موقع مصر المتميز على رواج التجارة في مصر .
- ٣٩- تنتشر الزراعة في الصحراء الغربية .
- ٤٠- الفوسفات من مصادر الطاقة المهمة للصناعة .

س ٢٣ : ما النتائج المترتبة على :

- ١- اكتشاف مصادر الطاقة .
- ٢- تنوع الأنشطة الاقتصادية .
- ٣- اهتمام الدولة بإقامة المشروعات السياحية .
- ٤- ازدهار السياحة في مصر .
- ٥- توافر وسائل نقل حديثة بالنسبة للتجارة .
- ٦- اهتمام الدولة بمشروعات التنمية الزراعية .

س ٢٤ : اختر الإجابة الصحيحة من بين القوسين :

- ١- يعتبر من المواد الخام الحيوانية (القطن - الصوف - القصب - الحديد)
- ٢- من العوامل البشرية لجذب السياح إلى مصر (المناخ المعتدل - الآثار المتنوعة - الطبيعة الساحرة - الموقع المتميز)
- ٣- زيارة المصريين لآثار الجيزة و الأقصر سياحة (داخلية - خارجية - كل ما سبق)
- ٤- من العوامل الطبيعية لقيام الزراعة (التربة - الأيدي العاملة - السوق - رأس المال)
- ٥- الآثار اليونانية و الرومانية تنتشر في (الأقصر - أسوان- القاهرة - الإسكندرية)
- ٦- من مقومات السياحة في مصر (تنوع الآثار - مناخ مصر- كل ما سبق)
- ٧- تعتمد الصناعة على مصادر الطاقة ومنها (الحديد - البترول - الفوسفات - المنجنيز)
- ٨- من المحاصيل الشتوية (البرسيم - القطن - الذرة - الأرز)
- ٩- تعتمد الزراعة في السواحل الشمالية على مياه (نهر النيل - الأمطار - الآبار - العيون)
- ١٠- تسهم السياحة في زيادة (النمو السكاني - الآثار - الدخل القومي - الزراعة)
- ١١- من المعادن التي تدخل في الصناعة (البترول - الغاز طبيعي - الفحم - الحديد)
- ١٢- البترول و الغاز الطبيعي (مواد خام معدنية - مصادر طاقة- مواد خام زراعية)
- ١٣- تحويل مواد خام إلى منتجات و سلع (صناعة - زراعة - تجارة - تعدين)
- ١٤- استخراج المعادن من باطن الأرض (زراعة - صناعة - تعدين - تجارة)
- ١٥- من الأنشطة الخدمية (الصناعة - التجارة - السياحة - التعليم)

س ٢٥ : اكتب ما تدل عليه كل جملة من الجمل الآتية :

- ١- العمل الذى يقوم به الإنسان للحصول على ربح معين .
- ٢- عملية تهدف إلى العمل على جذب السياح وزيادة أعدادهم لزيارة المناطق السياحية .
- ٣- البيع والشراء بين مصر والدول الأخرى .
- ٤- تغيير فى شكل المادة الخام إلى شكل يسهل على الإنسان استخدامه .
- ٥- المصدر الرئيسى لقيام الزراعة فى مصر .
- ٦- صناعة تتم فى المنازل أو فى الورش الصغيرة .
- ٧- توجد فى باطن الأرض وعلى أعماق مختلفة يتم الحصول عليها بحفر الآبار .
- ٨- خام تقوم عليه صناعة السيارات والآلات .
- ٩- تبادل المنتجات بالبيع والشراء داخل حدود الدولة .
- ١٠- عملية تهدف إلى زيادة الإنتاج الزراعى وتحسينه بزيادة الإنتاج للفدان .
- ١١- جميع وسائل النقل التى تتحرك على الأرض مثل السيارات والسكك الحديدية .
- ١٢- عملية الهدف منها تحويل أى مادة خام إلى منتجات يستفيد منها الإنسان .

س ٢٦ : بم تفسر :-

- ١- تعدد الأنشطة الاقتصادية فى مصر .
- ٢- أهمية حرفة الزراعة .
- ٣- أهمية الأيدي العاملة فى النشاط الزراعى .
- ٤- اختلاف المحاصيل من مكان لآخر .
- ٥- عوامل جذب السياح لمصر .
- ٦- يأتى إلى مصر ملايين من السياح طوال العام .
- ٧- أهمية حرفة السياحة لمصر .
- ٨- تنوع الثروة السمكية فى مصر .
- ٩- تتنوع المحاصيل الزراعية فى مصر .
- ١٠- يأتى إلى مصر ملايين من السياح من أوروبا فى فصل الشتاء .
- ١١- تتعدد موارد المياه فى مصر .

* أثر البيئة على الإنسان : تؤثر البيئة على الإنسان وسلوكياته فى مأكله وملبسه وحرفته .

- يرتدى الإنسان الملابس الصوفية الثقيلة فى البيئات الباردة والعكس صحيح فى البيئات الحارة .

بيئة زراعية	بيئة ساحلية	بيئة صحراوية	بيئة صناعية
- انتشار حرفة الزراعة وتربية الحيوان كما يعمل سكان الوادى والدلتا .	- أغلب سكانها يعملون بالصيد وأعمال البحر ويشتهر سكانها بتناول الأطعمة البحرية كالأسماك	- تتميز بندرة الماء. - يعمل سكانها بالرعى أو التعدين	- يعمل معظم سكانها بالصناعة والخدمات كالتعليم والصحة

* أثر الإنسان على البيئة

١- حول الإنسان المناطق الصحراوية إلى أراضى زراعية منتجة .

٢- أزال الإنسان مساحات واسعة من الغابات والحشائش للزراعة عليها .

٣- أنشأ القناطر والسدود للتحكم فى الفيضانات ومياه الأنهار .

٤- نجح أن يتحكم فى المناخ (زرع محاصيل فى مناطق لم تكن مناسبة من قبل) .

٥- اخترع الأسمدة والمبيدات لزيادة الإنتاج الزراعى والقضاء على الحشرات الضارة .

- بيئة : هى كل ما يحيط بالإنسان من عناصر طبيعية كالماء والهواء والتربة وعناصر حضارية .

- قنطرة : حاجز مائى أنشئ بغرض رفع المياه لرى الأراضى الزراعية .

- سد : بناء هندسى يشيد على النهر لحجز المياه الزائدة أمامه لاستخدامها عند الحاجة .

الدرس الثانى : دور الإنسان فى ظهور بعض مشكلات البيئة والتصدى لها .

* أولاً : دور الإنسان فى ظهور مشكلات البيئة :

١- تأثير الإنسان السلبى على البيئة الزراعية :

(أ) أدى التوسع العمرانى إلى تناقص مساحة الأرض الزراعية .

(ب) توسع فى استخدام المبيدات الحشرية مما أدى إلى :

- تلوث التربة الزراعية والنبات . - تلوث مياه الرى فى الترع والمصارف . - قتل الطيور صديقة الفلاح مثل أبو قردان .

٢- تأثير الإنسان السلبى على البيئة الصناعية :

(أ) تلوث الهواء نتيجة صعود الأدخنة من المصانع ونشر الملوثات لمسافات طويلة .

(ب) إلقاء المصانع مخلفاتها فى النيل والترع مما يلوث مياه الشرب والأسماك .

(ج) تعدد وسائل النقل والازدحام الشديد أدى إلى تلوث الهواء بسبب عوادم السيارات .

(د) إزالة مساحات واسعة من الحدائق والمساحات الخضراء .

٣- تأثير الإنسان السلبى على البيئة الساحلية :

ظهرت آثار سلبية نتيجة التوسع فى إنشاء القرى السياحية على السواحل منها تلوث الشواطئ وتلوث المياه والإضرار

بالحياة البحرية وخاصة الأسماك والشعاب المرجانية .

ثانياً : دور الإنسان فى التصدى لمشكلات البيئة :

معظم دول العالم والمنظمات الدولية تبذل جهوداً ضخمة للتصدى لمشكلات البيئة .

* جهود مصر فى التصدى لمشكلات البيئة :

١- أنشئت وزارة الدولة لشئون البيئة عام ١٩٩٧ للاهتمام بالبيئة .

٢- جرمت عمليات التخلص من مخلفات المصانع فى مياه نهر النيل .

٣- تشجع الدولة على استخدام مصادر الطاقة النظيفة مثل توليد الكهرباء من الرياح فى منطقة الزعفرانة بمحافظة

السويس ومحطة توليد الكهرباء من الشمس فى منطقة الكريمت بمحافظة الجيزة .

٤- اهتمت الدولة بالمحميات الطبيعية .

- طيور صديقة الفلاح : الطيور التي تساعد الفلاح في تنقية التربة من الحشرات .
- مخلفات المصانع : البقايا التي تنتج من الصناعات المختلفة وهي إما صلبة أو سائلة أو غازية .
- مصادر الطاقة النظيفة : مصادر الطاقة التي لا تلوث البيئة مثل الطاقة الشمسية وطاقة الرياح والغاز الطبيعي .
- محمية طبيعية : منطقة طبيعية واسعة تحافظ على النباتات والحيوانات النادرة داخلها .

س ١: اذكر أمثلة لتأثير البيئة على الإنسان في مأكله وملبسه وحرفته .

س ٢: ما أثر الإنسان على البيئة ؟

س ٣: عرف كلا من : بيئة - قنطرة - سد

س ٤: ما أهم الآثار السلبية للإنسان على البيئة الزراعية ؟

س ٥: ما أهم الآثار السلبية للإنسان على البيئة الصناعية ؟

س ٦: ما أهم الآثار السلبية للإنسان على البيئة الساحلية ؟

س ٧: اذكر أهم الجهود التي تبذلها الدولة في التصدي لمشكلات البيئة ؟

س ٨: ما المقصود بكلا من : مخلفات المصانع - مصادر الطاقة النظيفة - طائر صديق الفلاح

س ٩: اختر الإجابة الصحيحة من بين القوسين :

١. يعمل سكان المدن بـ (الصيد - الصناعة - الرعي - الزراعة)
٢. أنشأها الإنسان للتحكم في الفيضانات ومياه الأنهار (السدود - القناطر - كل ما سبق)
٣. البيئة يعمل فيها الإنسان بحرفة الرعي (الزراعية- الساحلية- الصحراوية- الصناعية)
٤. يعمل بحرفة الصيد وبناء السفن سكان البيئة (الزراعية- الساحلية - الصناعية - الصحراوية)
٥. توجد محمية بحيرة البردويل بشمال سيناء (وادي الريان- الزرانيق- رأس محمد - علبة)
٦. من مصادر الطاقة النظيفة والشمس (البترول - الرياح- الفحم)
٧. تسعى الدولة لإنشاء أول محطة توليد كهرباء من (الطاقة النووية- البترول- الشمس- الفحم)
٨. توسع الإنسان في إنشاء المناطق الزراعية اثر (ايجابي - سلبي - كل ما سبق)
٩. من مصادر الطاقة المتجددة (الفحم - البترول - الرياح - الغاز الطبيعي)
١٠. بناء عظيم في عرض النهر يخزن المياه أمامه (سدود - قناطر - الاثنيين معا)
١١. من أسباب تلوث الهواء (المبيدات الحشرية - مداخل المصانع - الأسمدة - التصحر)
١٢. سكان البيئات الساحلية يشتهرون بتناول (الدجاج - اللحوم - الأسماك)
١٣. تم إنشاء وزارة الدولة لشئون البيئة عام (١٩٧٥م - ١٩٧٩م - ١٩٩٧م - ١٧٩٧م)
١٤. تقام أول محطة لتوليد الكهرباء من بمنطقة الزعفرانة (الماء- الفحم- الشمس- الرياح)
١٥. أنشأ الإنسان لتخزين المياه . (القناطر - الترع - السدود - الرياحات)
١٦. تقع محمية وادي الريان في محافظة (أسوان - السويس- الفيوم - شمال سيناء)
١٧. توجد محمية في جنوب سيناء(الزرانيق - علبة- رأس محمد- وادي الريان)
١٨. توجد محمية وادي العلاقي في محافظة (قنا - أسوان- الوادي الجديد - البحر الأحمر)
١٩. يعمل سكان الوادي و الدلتا بحرفة (الرعي - الصيد - الزراعة)

س ١٠: بم تفسر :-

- ١- أنشأ الإنسان القناطر والسدود .
- ٢- تجريم الدولة لإلقاء مخلفات المصانع في النيل .
- ٣- يرتبط نشاط السكان بطبيعة البيئة التي يعيشون فيها .
- ٤- صناعة الأسمدة والمبيدات الحشرية .
- ٥- اختفاء الطيور الصديقة للفلاح مثل أبو قردان .
- ٦- تلوث الهواء في البيئة الصناعية .
- ٧- اهتمام الدولة بإنشاء المحميات الطبيعية .
- ٨- توسع الفلاح في استخدام المبيدات الحشرية .
- ٩- أنشأت الدولة وزارة الدولة لشئون البيئة عام ١٩٩٧ .

- ١- يعمل أغلب سكان بورسعيد بحرفة فى حين يشتهر سكان شرم الشيخ بالعمل فى
- ٢- تشتهر محافظة المنوفية بحرفة فى حين تنتشر حرفة السياحة بمحافظة
- ٣- البيئة تتميز بندرة المياه ويشتغل معظم السكان فى حرفة
- ٤- تقع محمية الزرانيق فى بحيرة البردويل بـ
- ٥- يعمل أغلب سكان المدن فى ،
- ٦- البيئة يعمل أغلب سكانها بالصيد وأعمال البحر ويشتهرون بتناول
- ٧- يعمل أغلب سكان الوادى والدلتا بحرفة بينما يعمل سكان الواحات بـ
- ٨- أنشأ الإنسان السدود والقناطر للتحكم فى
- ٩- يضطر الإنسان لارتداء الملابس الصوفية فى البيئات
- ١٠- تتميز البيئة الزراعية بانتشار حرفة
- ١١- لزيادة الإنتاج الزراعى والقضاء على الحشرات الضارة صنع الإنسان
- ١٢- تقع محمية فى أسوان .
- ١٣- يعرف طائر بأنه صديق الفلاح .
- ١٤- تتميز البيئة الساحلية بانتشار حرفة
- ١٥- يرتدى سكان الوجه البحرى الملابس الثقيلة فى فصل
- ١٦- تعددت فى المدن مما ساهم فى زيادة نسبة التلوث .
- ١٧- استخدام المبيدات يؤدى إلى التربة
- ١٨- اضطر الإنسان فى بعض المناطق لإزالة مساحات واسعة من لاستخدامها فى الزراعة
- ١٩- أنشأت الدولة وزارة لشئون البيئة وذلك عام ومهمتها
- ٢٠- أنشأت الدولة أول محطة لتوليد الكهرباء من الرياح فى منطقة
- ٢١- تقع محمية فى محافظة الفيوم وتوجد محمية فى محافظة البحر الأحمر .
- ٢٢- من أهم مشكلات التلوث داخل المدن تلوث ،

س ١٢ : ما النتائج المترتبة على :

- ١- بناء السد العالى .
- ٢- التوسع فى استخدام الأسمدة والمبيدات الحشرية .
- ٣- إلقاء معظم المصانع مخلفاتها فى النيل والترع الرئيسية .
- ٤- استصلاح الأراضى الزراعية .
- ٥- انتشار الحشرات الضارة بالزراعة .
- ٦- ارتفاع درجة الحرارة فى البيئات الحارة .
- ٧- وفرة المصايد فى البيئة الساحلية .
- ٨- إنشاء القناطر والسدود .
- ٩- إنشاء الدولة وزارة لشئون البيئة عام ١٩٩٧ م .
- ١٠- إزالة مساحات كثيرة من الغابات والحشائش .

س ١٣ : ضع علامة (√) أمام العبارة الصحيحة وعلامة (×) أمام العبارة الخاطئة :-

- ١- تقع محمية وادى الريان بمحافظة الفيوم .
- ٢- ترتبط أنشطة الإنسان بنوع البيئة التي يعيش فيها .
- ٣- تتميز البيئة الصحراوية بانتشار حرفة الزراعة .
- ٤- الحرف التي تعرف بالخدمات هي الزراعة والصناعة .
- ٥- تنتشر حرفة الصناعة في محافظة جنوب سيناء .
- ٦- توسع الإنسان في إنشاء المدن على المناطق الزراعية له أثر إيجابي .
- ٧- يعمل سكان البيئة الساحلية بحرفة الزراعة بجميع أشكالها .
- ٨- جرمت الدولة عمليات التخلص من مخلفات المصانع في نهر النيل .
- ٩- المحميات الطبيعية هي مناطق يخشى على تدهورها ومن الطبيعي حمايتها .
- ١٠- أنشئت وزارة الدولة لشئون البيئة عام ١٩٩٧ م
- ١١- يعمل أغلب سكان البيئة الساحلية في حرفة صيد الأسماك وأعمال البحر .
- ١٢- يعرف طائر أبو قردان بأنه صديق الفلاح .
- ١٣- محمية وادى دجلة في الصحراء الشرقية من المحميات الطبيعية في مصر .
- ١٤- تتميز البيئة الصحراوية بندرة المياه ويعمل أغلب سكانها في حرفة الرعي .
- ١٥- محمية رأس محمد من أهم المحميات الطبيعية في جنوب سيناء بمصر .
- ١٦- قطع الإنسان للغابات وإحلاله للزراعة مكانها له أثر سلبي .
- ١٧- يعد المناخ من أهم مظاهر البيئة تأثيراً على الإنسان .
- ١٨- يشتهر سكان البيئة الساحلية بتناول الأسماك .
- ١٩- من الطيور صديقة الفلاح البيغاء .
- ٢٠- يساعد دخان المصانع في التخفيف من تلوث الهواء .
- ٢١- لم يستطع الإنسان التحكم في المناخ .
- ٢٢- تقع محمية وادى الريان بمحافظة البحر الأحمر .
- ٢٣- عملت الدولة على الاهتمام بالمحميات الطبيعية .
- ٢٤- تخلص المصانع من مخلفاتها في النيل حل مناسب للقضاء على ظاهرة تلويث البيئة .
- ٢٥- يعد استخدام الإنسان للمبيدات الحشرية من أشكال تأثير البيئة على الإنسان .
- ٢٦- الهدف من إنشاء القناطر والسدود التحكم في مياه الأنهار .
- ٢٧- البيئة الصناعية يعمل معظم سكانها بالصيد والتجارة .
- ٢٨- من الآثار الايجابية للإنسان بالبيئة الزراعية التوسع في استخدام المبيدات الحشرية .
- ٢٩- يعمل معظم سكان البيئة الساحلية بالصناعات والخدمات .
- ٣٠- تشمل الطاقة النظيفة كل من الفحم والبتروول .
- ٣١- يضطر الإنسان إلى ارتداء الملابس الخفيفة في البيئات الحارة .
- ٣٢- ترتبط الأنشطة الاقتصادية التي يمارسها الإنسان بنوع البيئة التي يعيش فيها .
- ٣٣- تعددت وسائل النقل داخل المدن مما أدى إلى زيادة نسبة التلوث .
- ٣٤- يعمل سكان البيئة الزراعية بحرفة قطع الغابات .
- ٣٥- يوجد في مصر خمس محميات طبيعية .
- ٣٦- شجعت الدولة على عمليات التخلص من مخلفات المصانع في مياه نهر النيل .
- ٣٧- شجعت الدولة على استخدام مصادر الطاقة النظيفة .
- ٣٨- يعد استصلاح الأراضي من أشكال تأثير البيئة على الإنسان .

- ١ . بيئة تتميز بندرة المياه و يعمل معظم سكانها بالرعي و التعدين
- ٢ . بناء ضخم الغرض منه حجز المياه أمامه واستخدامها في ري الأراضي الزراعية.
- ٣ . مواد كيميائية تستخدم في القضاء على الحشرات الضارة.
- ٤ . عملية تحويل الأراضي الصحراوية إلى أراضى زراعية منتجة .
- ٥ . الغابات و الحشائش ونباتات الصحارى التي تنمو على سطح الأرض.
- ٦ . طيور تساعد الفلاح في تنقية التربة من الحشرات و هي صديقة للفلاح.
- ٧ . مناطق طبيعية واسعة تحافظ على النباتات و الحيوانات النادرة داخلها.
- ٨ . أنشأتها الدولة عام ١٩٩٧ م للعمل على تحسين البيئة.
- ٩ . تعتبر من مصادر الطاقة النظيفة وأقيمت لها محطة بمنطقة الزعفرانة لتوليد الكهرباء.
- ١٠ . مخلفات تنتج من بقايا الصناعات المختلفة.
- ١١ . مناطق مخصصة للحفاظ على الحيوانات والطيور البرية .
- ١٢ . بناء ضخم يستخدم في حجز المياه أمامه لرى الأراضي الزراعية .
- ١٣ . طيور تساعد الفلاح في تنقية التربة من الحشرات .
- ١٤ . كل ما يحيط بالإنسان على سطح الأرض و فوقها و تحتها.
- ١٥ . بناء ضخم على مجرى مائى يستخدم في حجز المياه الزائدة أمامه لاستخدامها عند الحاجة
- ١٦ . وزارة تهتم بجميع البيئات وتعمل على تحسينها .
- ١٧ . طاقة لا ينتج عنها تلوث البيئة مثل الشمس و الرياح.
- ١٨ . تنظيمات يشترك بها دول العالم و تهتم بالبيئة و تابعة للأمم المتحدة.
- ١٩ . بيئة تتميز بتناول سكانها للأطعمة البحرية و يشتغلون بالصيد.
- ٢٠ . يندر بها المياه و يشتغل معظم سكانها إما بالرعى أو بالبحث عن المعادن .

* أطلق على هذا العصر عصر بناء الأهرام وذلك بسبب ضخامة الأهرامات التي بنيت في هذا العصر والتي تعد من عجائب الدنيا السبع وتدل على تقدم المصريين في مجال العلوم والفنون والعمارة وعلى ثراء الدولة وتقدمها الاقتصادي .
* الهرم : بناء ضخم من الحجر يتكون من بعض الحجرات ويوضع بإحداها تابوت الملك والأشياء التي يعتقد المصريون أن الملك سوف يحتاجها في العالم الآخر .

أشهر ملوك الدولة:-

- ١- الملك زوسر:- صاحب هرم سقارة المدرج ويتكون من ست مصاطب الأكبر في القاعدة ثم الأصغر في الأعلى هذا الهرم يعد أول هرم مدرج في التاريخ ومد حدود البلاد جنوبا إلى النوبة .
- ٢- الملك خوفو: صاحب الهرم الأكبر وهو أحد عجائب الدنيا السبع لضخامة حجمه وبراعة تصميمه
- ٣- الملك خفرع : بناء الهرم الأوسط - بناء تمثال أبي الهول (جسمه مثل جسم الأسد ورأسه مثل رأس الإنسان)
- ٤- الملك منكاورع : صاحب الهرم الأصغر .

الدرس الثاني : شخصيات و أحداث من الدولة الوسطى

في نهاية عصر الدولة القديمة تفككت وحدة البلاد وانهارت سلطة الحكومة ، و لكن الملك منتوحب الثاني استطاع السيطرة على البلاد وأعاد توحيدها مرة أخرى .
- اهتم ملوك هذه الدولة بإقامة المشروعات مثل الري والزراعة والصناعة والتجارة مما أدى إلى قيام نهضة شاملة في البلاد ولذلك سمي بعصر الرخاء الاقتصادي .

أشهر ملوك الدولة الوسطى :-

- ١- منتوحب الثاني : - أعاد استقرار ووحدة البلاد مرة أخرى و نشر الأمن .
- اتخذ من طيبة (الأقصر حاليا) عاصمة للبلاد .
- ٢- سنوسرت الثالث : - اهتم بالجيش وأمن حدود البلاد و دافع عنها .
- أمر بحفر قناة (سيزوستريس) لربط البحر الأحمر بالنيل .
- ٣- أمنمحات الثالث : - اهتم بالزراعة والري فبنى سد اللاهون في الفيوم لحماية أراضيها من الفيضان وزيادة المساحة المزروعة - بنى هرما بالقرب من الفيوم - بنى معبدا كبيرا واسعا سمي بـ (قصر التيه) ..
- نتيجة ضعف الحكام والصراع بينهم عمت الفوضى في نهاية عصر الدولة الوسطى فنجح الهكسوس في احتلال شمال مصر وبنوا مدينة أواريس عاصمة لهم .
- أساء الهكسوس معاملة المصريين فهدموا المعابد وخرّبوا الكثير من الآثار القديمة .
- ٤- الملك أحمس (قاهر الهكسوس) : صمم المصريون على طرد الهكسوس من البلاد وبدأ الكفاح بقيادة (سقنن رع) الذي استشهد أثناء حربه مع الهكسوس فلم تياس زوجته السيدة (إياح حتب) وشجعت ابنها كامس على حرب الهكسوس فاستشهد أيضا فشجعت أحمس ابنها الثاني الذي وحد أقاليم الصعيد وكون جيش قوى وجهزه بالعجلات الحربية وحارب الهكسوس و انتصر عليهم وطردهم خارج حدود مصر .

الدرس الثالث : شخصيات و أحداث من الدولة الحديثة

- ١- الملك أحمس : نجح في طرد الهكسوس من مصر وتوحيد البلاد وتكوين جيش قوى فاعتبره المؤرخون على رأس عصر الدولة الحديثة الذي سمي بعصر المجد الحربي .
- ٢- الملكة حتشبسوت (أشهر ملكات مصر)
- تميز عصرها بالأمن والاستقرار واهتمت بالتجارة ونهضت بالفنون وقامت ببناء معبد الدير البحري وأرسلت بعثة تجارية إلى بلاد بونت (الصومال) لجلب الأحجار الكريمة والبخور والعاج وأرسلت بعثة إلى أسوان لجلب الأحجار الضخمة لبناء المعابد وأخرى إلى فينيقيا لجلب الأخشاب .

٣- الملك تحتمس الثالث (قام ببطولات رائعة يشهد لها التاريخ):

- شن ١٦ حملة علي بلاد سوريا وفلسطين وانتصر عليهم في معركة (مجدو)

- أمن حدود مصر ناحية الجنوب

- كون أسطولا بحريا قويا استولى به على جزر البحر المتوسط

- كون أول إمبراطورية في التاريخ امتدت من نهر الفرات شمالا إلى بلاد النوبة جنوبا

٤- الملك رمسيس الثاني

- بنى المعابد مثل معبد أبي سمبل ومعبد الأقصر وتم أيضا نحت المسلات الكبيرة وانتصر على الحيثيين في معركة قادش ووقع معهم اتفاقية سلام وسمى بطل الحرب والسلام .

- بعثة تجارية : مجموعة من التجار ترسل للقيام بعمل ما يساعد على تقوية العلاقات التجارية بين الدول .

س ١ : اذكر أسماء أربعة من ملوك الدولة القديمة ؟

س ٢: ما أهم أعمال الملك زوسر ؟

س ٣: ما المقصود بالهرم ؟

س ٤: ما أهم أعمال الملك منتوحتب الثاني ؟

س ٥: ما أهم أعمال الملك سنوسرت الثالث ؟

س ٦: ما أهم أعمال الملك أمنمحات الثالث ؟

س ٧: لماذا سمي عصر الدولة الوسطى بعصر الرخاء الاقتصادي ؟

س ٨: لماذا سمي عصر الدولة الحديثة بعصر (المجد الحربي) ؟

س ٩: ما أهم أعمال الملكة حتشبسوت ؟

س ١٠: ما أهم أعمال تحتمس الثالث ؟

س ١١: ما أهم أعمال الملك رمسيس الثاني ؟

س ١٢: ضع علامة (√) أمام العبارة الصحيحة وعلامة (×) أمام العبارة الخاطئة:-

١- يتكون الهرم المدرج في سقارة من ست مصاطب .

٢- أعلن الملك أحمس قيام الدولة الموحدة وأقام حكومة مركزية في البلاد .

٣- لقب الملك رمسيس الثاني ببطل الحرب والسلام .

٤- لقب الملك أمنمحات الثالث ببطل الحرب والسلام .

٥- بنى الملك خوفو تمثال أبو الهول .

٦- يطلق على عصر الدولة القديمة عصر الرخاء الاقتصادي .

٧- تقتصر الحضارة المصرية القديمة على بناء الأهرامات .

٨- قام الملك سنوسرت الثالث بحفر قناة سيزوستريس لربط البحرين الأحمر والمتوسط .

٩- نجح رمسيس الثاني في هزيمة الحيثيين في معركة مجدو .

١٠- قام الملك تحتمس الثالث ببناء سد اللاهون لحماية الأراضي في الفيوم من الفيضان .

١١- اتخذ الهكسوس عاصمة جديدة لهم هي أخيتاتون .

١٢- اهتم المصريون القدماء ببناء القبور لدفن موتاهم .

١٣- أساء الهكسوس معاملة المصريين وقاموا بهدم المعابد .

١٤- تركت الملكة حتشبسوت أثارا عظيمة تدل على نشاطها في إدارة البلاد .

١٥- يعد الهرم الأكبر احد عجائب الدنيا السبع .

١٦- سمي عصر الدولة الوسطى بعصر الرخاء الاقتصادي .

١٧- أرسلت حتشبسوت بعثة تجارية إلى بلاد بونت لجلب الأحجار لبناء المعابد .

١٨- انتصر الملك تحتمس الثالث على أمير قادش في معركة مجدو .

١٩- استطاع الملك رمسيس الثاني على الحيثيين في معركة مجدو .

٢٠- يطلق على عصر الدولة القديمة عصر بناء الأهرامات .

س ١٣ : تخير الإجابة الصحيحة مما بين القوسين :-

- ١- أمر بنحت تمثال أبي الهول الملك (خوفو - خفرع - منكاورع - زوسر)
- ٢- حفر الملك قناة سيزوستريس (أمنمحات الثالث - منتوحتب الثاني - زوسر - سنوسرت الثالث)
- ٣- يطلق على عصر الدولة الحديثة عصر (النصر - الرخاء الإقتصادي - المجد الحربى - بناء الأهرامات)
- ٤- بنى أمنمحات الثالث معبدا كبيرا سمى بقصر (الجوهرة - التيه - عابدين - البارون)
- ٥- يتكون هرم سقارة المدرج من مصاطب (ثلاث - أربع - خمس - ست)
- ٦- اتخذ منتوحتب الثاني مدينة عاصمة لدولته (منف - طيبة - أواريس - بوتو)
- ٧- شجعت الملكة ابنها أحمس على محاربة الهكسوس . (كليوباترا - اياح حتب - نفرتيتى - حتشبسوت)
- ٨- شن تحتمس الثالث على سوريا وفلسطين حملة (٢٦ - ١٦ - ٢٠ - ٢٤)
- ٩- تسمى الآن بلاد بونت باسم (المغرب العربى - فينيقيا - الصومال - لبنان)
- ١٠- قام الملك ببناء سد اللاهون بالفيوم (سنوسرت الثالث - منتوحتب الثاني - أمنمحات الثالث - زوسر)

س ١٤ : أكمل الجمل التالية :-

- ١- ينسب إقامة قصر التيه إلى الملك
- ٢- اهتم المصريون القدماء ببناء لدفن موتاهم .
- ٣- يطلق على عصر الدولة القديمة عصر
- ٤- الملك هو صاحب الهرم المدرج بسقارة .
- ٥- يتكون الهرم المدرج بسقارة من مصاطب .
- ٦- استطاع الملك مد حدود البلاد جنوباً وسيطر على النوبيين .
- ٧- الملك هو صاحب الهرم الأكبر الذى يعد أحد عجائب
- ٨- سمي عصر الدولة بعصر المجد الحربى .
- ٩- سمي عصر الدولة بعصر الرخاء الإقتصادي .
- ١٠- شن الملك تحتمس الثالث على سوريا وفلسطين حملة .
- ١١- انتصر الملك فى معركة مجدو .
- ١٢- الملك هو صاحب أقدام امبرطورية فى التاريخ .
- ١٣- نجح الملك فى طرد الهكسوس من مصر .
- ١٤- أعاد الملك توحيد البلاد مرة أخرى وبه يبدأ عصر الدولة الوسطى .
- ١٥- يعد عصر الدولة عصر بناء الأهرامات .
- ١٦- اتخذ الملك منتوحتب الثاني عاصمة جديدة لدولته هى
- ١٧- انتصر الملك تحتمس الثالث على السوريين فى معركة
- ١٨- يعد هرم أول بناء حجرى فى التاريخ .
- ١٩- قام الملك سنوسرت الثالث بحفر قناة
- ٢٠- قام الملك أمنمحات الثالث ببناء سد
- ٢١- بنى أمنمحات الثالث هرمه بالقرب من ومعبداً ضخماً عرف بقصر
- ٢٢- اتخذ الهكسوس عاصمة جديدة لهم هى
- ٢٣- هزم الملك الحيثيين فى معركة
- ٢٤- نجح الملك زوسر فى السيطرة على
- ٢٥- اهتمت الملكة حتشبسوت بالعمارة والفنون فقامت ببناء معبد
- ٢٦- أرسلت حتشبسوت بعثة تجارية إلى لإحضار البخور والعاج وبعثة إلى لجلب الأحجار .
- ٢٧- الملك خوفو أحد ملوك الدولة

س ١٥ : اكتب ما تدل عليه كل جملة من الجمل الآتية :

- ١- معركة انتصر فيها رمسيس الثانى على الحيثيين .
- ٢- أحد أمراء طيبة ويبدأ به عصر الدولة الوسطى .
- ٣- الأخ الأكبر لأحمس واستشهد فى حرب التحرير ضد الهكسوس .
- ٤- قبائل بدوية أسبوية نجحت فى احتلال شمال مصر .

س ١٦ : إلى من تنسب الأعمال التالية :-

- ١- صاحب الهرم المدرج بسقارة .
- ٢- سيطر أسطوله البحرى على جزر البحر المتوسط .
- ٣- صاحب تمثال أبو الهول .
- ٤- أتخذ طيبة عاصمة جديدة لدولته مع بداية عصر الدولة الوسطى .
- ٥- قام بحفر قناة تصل بين البحر الأحمر ونهر النيل .
- ٦- شجعت أبنائها فى الكفاح ضد الهكسوس .
- ٧- صاحب الهرم الأكبر بالجيزة .
- ٨- انتصر على السوريين فى معركة مجدو .
- ٩- بنى سد اللاهون لحماية الأراضي فى منطقة الفيوم من خطر الفيضان .
- ١٠- انتصر على الهكسوس وطردهم من عاصمتهم أواريس .
- ١١- أرسل بعثة إلى بلاد بونت لجلب البخور والعاج والأحجار الكريمة .
- ١٢- هو صاحب أقدام امبرطورية فى التاريخ امتدت من الفرات إلى بلاد النوبة .
- ١٣- أول من قاد الكفاح ضد الهكسوس .
- ١٤- بناء معبد الدير البحرى .
- ١٥- أمر بحفر قناة سيزوستريس .
- ١٦- صاحب أقدم معاهدة سلام فى التاريخ .
- ١٧- انتصر على الحيثيين فى معركة قادش .

س ١٧ : بم تفسر :-

- ١- سمي عصر الدولة القديمة بعصر بناء الأهرامات .
- ٢- إرسال الملكة حتشبسوت البعثات إلى محاجر أسوان .
- ٣- بناء المصريين القدماء للأهرامات .
- ٤- أطلق على هرم زوسر اسم الهرم المدرج .
- ٥- يعتبر الهرم الأكبر أحد عجائب الدنيا السبع .
- ٦- حفر الملك سنوسرت الثالث قناة سيزوستريس .
- ٧- بناء الملك أمنمحات الثالث سد اللاهون .
- ٨- الملك رمسيس الثانى هو بطل الحرب والسلام .
- ٩- استطاع الهكسوس احتلال مصر فى نهاية عصر الدولة الوسطى .
- ١٠- انتصار الملك أحمس على الهكسوس وطردهم من عاصمتهم أواريس .
- ١١- سمي عصر الدولة الوسطى بعصر الرخاء الاقتصادى .
- ١٢- سمي عصر الدولة الحديثة بعصر المجد الحربى .
- ١٣- إرسال الملكة حتشبسوت بعثة تجارية إلى بلاد بونت .
- ١٤- أرسلت الملكة حتشبسوت بعثة تجارية إلى أسوان .

س١٨ : ماذا يحدث إذا :

- ١- لم تشجع إياح حتب أحمس على محاربة الهكسوس .
- ٢- لم ينتصر رمسيس الثانى فى معركة قاش .
- ٣- لم يتميز الهرم الأكبر بضخامة وروعة تصميمه وهندسته .
- ٤- لم تتوحد البلاد على يد منتوحتب الثانى .
- ٥- لم يهتم ملوك الدولة الوسطى بمشروعات الزراعة والتجارة والصناعة .

س١٩ : ما النتائج المترتبة على :

- ١- البعثات التى أرسلتها الملكة حتشبسوت إلى بلاد بونت .
- ٢- إقامة سد اللاهون .
- ٣- حفر قناة سيزوستريس .
- ٤- عقيدة البعث والخلود عند قدماء المصريين .

الفرعون (الملك) ← الوزير ← الحكومة المركزية ← حكام الأقاليم ← الجيش .

١- الفرعون (الملك) : الحاكم الفعلى الذى تتركز فى يده كل السلطات - اعتقد المصريون أنه ابن الإله على الأرض .

* مسؤولياته : ١- إدارة شئون البلاد والدفاع عنها .

من أسلحة الجيش قديما :
الفاأس والخنجر والسيف

٢- تحقيق العدالة بين الناس والحفاظ على حقوقهم .

٣- بناء المعابد لإقامة الشعائر الدينية .

٢- الوزير: كان الفرعون (الملك) يعين الوزير ليساعده فى إدارة شئون البلاد ويرأس الحكومة المركزية .

- كان يعاون الوزير فى حكم البلاد الحكومة المركزية

٣- الحكومة المركزية : تتكون من إدارة الزراعة وإدارة الصناعة وإدارة التجارة .

٤- حكام الأقاليم : يقابل وظيفة حاكم الإقليم حاليا وظيفة المحافظ ومهمته إدارة شئون الأقليم وحفظ الأمن وتوفير الخدمات .

٥- الجيش : بعد توحيد البلاد اهتم الملوك بالجيش لحماية البلاد .

الدرس الثانى : الحياة الدينية .

- كان لكل إقليم معبود خاص من الطبيعة . بعضهم عبد الصقر وبعضهم العجل ثم عبدوا الآلهة مثل خنوم ورع وآمون .

- أقاموا معابد ضخمة ليعبدوا الآلهة ويقدموا لهم القرابين وقام على خدمتهم الكهنة

- ظهر أمحتب الرابع (إخناتون) ودعا لعبادة إله واحد رمز له بقرص الشمس وأسماه (أتون) وأحدث بذلك أول ثورة

دينية فى التاريخ وأول من نادى بالتوحيد (عبادة إله واحد) .

- اعتقد المصريون القدماء أن الإنسان يبعث بعد الموت ليعيش حياة الخلود لذلك وضعوا مع الميت الطعام والأدوات

ليستخدمها عندما تعود إليه الروح .

- اهتم المصريون القدماء ببناء القبور لدفن موتاهم لاعتقادهم فى البعث بعد الموت وبتحنيط جثث موتاهم لتعود إليها

الروح مرة ثانية وبناء المعابد لإقامة الشعائر (الطقوس) الدينية بها .

- التحنيط : حفظ جثث الموتى لتظل سليمة فترات طويلة .

- اعتقد المصرى القديم فى الحساب بعد الموت ليحاسب الميت عما فعله فى الدنيا .

الدرس الثالث : الحياة الاجتماعية .

- مع استقرار المصرى قديماً على ضفاف النيل كون الأسرة التى تعد النواة الأولى للمجتمع وتميزت بالترابط والتعاون

والاحترام المتبادل بين الزوج والزوجة .

- اهتم المجتمع المصرى قديماً بالمرأة كأم وكملكة .

- مصر صاحبة أول تشريع قانونى فى العالم ينظم علاقة المرأة بأسرتها ومجتمعها فقد أتاح المجتمع فرص العمل للمرأة

فى كل المجالات كالزراعة والكتابة والطب والقضاء .

* أمثلة عن الأدوار العظيمة للمرأة فى التاريخ القديم

أ- الملكة حتشبسوت : ١- عملت على استقرار البلاد ونهضتها أثناء حكمها .

٢- تركت آثار عظيمة تدل على نشاطها فى إدارة البلاد .

ب- الملكة إياح حتب (أم أحمس) : بعد أن سقط زوجها الملك (سقتن رع) شهيداً فى حربه مع الهكسوس شجعت ابنها

كأمس على مقاومة العدو ولكنه استشهد فشجعت ابنها الأصغر أحمس على مقاومة العدو حتى طرده .

- يدل موقفها على الولاء والانتماء والمسئولية والتضحية الغالية من أجل الوطن .

- بنى المصرى القديم مسكنه من الطوب اللبن وتميز بالبساطة واختلف شكله باختلاف طبقات المجتمع .

- من أعياد المصريين القدماء عيد التتويج وعيد الفيضان وعيد الحصاد .

- اهتم المصرى القديم بالزينة ولبس الحرير والحلى بأنواعها . كذلك اهتم بالتسلية ومارس بعض الألعاب الرياضية .

الدرس الرابع : الحياة الاقتصادية .

* الحياة الاقتصادية تشمل مجالات متعددة مثل : الزراعة – الصناعة – التجارة .

- ١- الزراعة :- العامل الرئيسى لقيام الحضارة المصرية نهر النيل الذى ساعد على استقرار الإنسان وعمل بالزراعة وأقام السدود لاستغلال المياه فى الزراعة .
- قسم السنة الزراعية إلى فصول : فصل الفيضان - فصل الزراعة - فصل الحصاد
- ٢- الصناعة : صنع المصرى القديم أدواته من الحجر ثم صنعها من النحاس والحديد كما صنع الأوانى من الفخار وصنع الحلى والزينة من المعادن النفيسة والأحجار الكريمة واستخدم الخشب فى صناعة التوابيت والسفن .
- الدليل على ذوق وفن وبراعة الصناع المصريين قديمًا مجموعات حلى توت عنخ آمون التى أدهشت العالم وتجذب السياح من مختلف أنحاء العالم
- ٣- التجارة : كانت تتم عن طريق المقايضة إلى أن ظهرت العملة (النقود)
- المقايضة هى تبادل سلعة بسلعة أخرى .
- أ) التجارة الداخلية : تبادل المنتجات بالبيع والشراء داخل حدود الدولة .
- ب) التجارة الخارجية : تبادل المنتجات بالبيع والشراء خارج حدود الدولة .
- قامت مصر بتجارة خارجية مع فينيقيا (لبنان) وبلاد بونت (الصومال) والنوبة والسودان فكانت السفن تحمل بضائع مصرية كالقمح والشعير وتعود بالخشب والعاج والزيوت .

س ١ : مم يتكون نظام الحكم فى مصر القديمة ؟

س ٢ : ما أهم مسئوليات الفرعون ؟

س ٣ : مما تتكون الحكومة المركزية ؟

س ٤ : لماذا أهتم المصريون القدماء ببناء القبور ؟

س ٥ : لماذا بنى المصرى القديم المعابد ؟

س ٦ : ما هو التحنيط ؟

س ٧ : من أى شئ بنى المصرى القديم مساكنه ؟

س ٨ : اذكر بعض الأعياد عند المصرى القديم ؟

س ٩ : اذكر فصول السنة الزراعية عند المصرى القديم ؟

س ١٠ : مم صنع الإنسان المصرى القديم أدواته ؟

س ١١ : ما الدليل على ذوق وفن وبراعة الصناع المصريين ؟

س ١٢ : كيف كانت تتم التجارة قديمًا ؟

س ١٣ : ما أقسام التجارة ؟

س ١٤ : ما النتائج المترتبة على :

١- البعثات التى أرسلتها حتشبسوت إلى بلاد بونت .

٢- اهتمام المجتمع المصرى القديم بالمرأة .

٣- عدم معرفة المصريين القدماء فى أول الأمر للعملة .

٤- اعتقاد المصريين القدماء أن الفرعون ابن الإله على الأرض .

٥- ازدياد مهام ومسئوليات الفرعون فى مصر القديمة .

٦- عقيدة البعث والخلود عند قدماء المصريين .

٧- اتحاد الوجهين القبلى والبحرى على يد الملك مينا .

س ١٥ : ماذا يحدث إذا :

١- لم تقم أم أحمس على تشجيع ابنها على طرد الهكسوس .

٢- لم يكتشف المصرى القديم النحاس .

٣- لم يتوصل المصريون القدماء إلى معرفة العملة المعدنية .

٤- لم تتعدد طبقات المجتمع المصرى القديم .

٥- لم يتميز الهرم بضحامته وروعة تصميمه وهندسته .

٦- لم يوجد نهر النيل على أرض مصر .

- ١- تعيين الفرعون للوزير .
- ٢- إقامة علاقات بين مصر قديما وبلاد بونت وفينيقيا .
- ٣- إتاحة المجتمع المصرى القديم فرص العمل للمرأة فى مختلف المجالات .
- ٤- الفرعون هو الحاكم الفعلي الذى تتركز فى يده كل السلطات (أهم مسئوليات الفرعون)
- ٥- اهتم المجتمع المصرى قديما بالمرأة .
- ٦- اهتمام ملوك مصر الفرعونية ببناء جيش قوى .
- ٧- تقسيم المصرى القديم السنة الزراعية إلى فصول .
- ٨- اهتمام المصريون القدماء ببناء المعابد .
- ٩- اهتمام المصريون القدماء بتحنيط جثث موتاهم .
- ١٠- اعتقاد المصرى القديم بأن الإنسان سوف يبعث مرة أخرى .
- ١١- مصر صاحبة أول تشريع قانوني في العالم ينظم علاقة المرأة بأسرتها ومجتمعها
- ١٢- كان المصرى القديم يزرع الأرض مرة واحدة فى العام .
- ١٣- نعمت الأسرة المصرية في مصر الفرعونية بنصيب كبير من الأمن والاستقرار .
- ١٤- تزويد الميت فى القبر بالماء والطعام قديما .
- ١٥- اهتمام المصريون القدماء بنهر النيل وحرصوا على عدم تلويث النهر .
- ١٦- تعدد الصناعات التى صنعها المصرى القديم .
- ١٧- الحرص على تلقى الوزير التوجيهات فى حفل تنصيبه .
- ١٨- اهتمام المصريون القدماء ببناء القبور .
- ١٩- سميت دعوة الملك إخناتون بالثورة الدينية .
- ٢٠- اهتمام المصرى قديما ببناء السدود .
- ٢١- عبادة الناس لبعض الحيوانات وبعض مظاهر الطبيعة قديما .
- ٢٢- بناء المصرى القديم مسكنه من الطوب اللبن .
- ٢٣- تعدد الآلهة فى مصر القديمة .

س ١٧ : تخير الإجابة الصحيحة مما بين القوسين :

- ١- تعد النواة الأولى للمجتمع المصرى القديم (الأسرة - المدرسة - المسجد - المجتمع)
- ٢- كان المصريون القدماء يحتفلون بالأعياد مثل (الجلاء - الأم - الفيضان - شم النسيم)
- ٣- قسم المصرى القديم السنة الزراعية إلى فصول (ثلاثة - أربعة - خمسة - ستة)
- ٤- شجعت ابنها الأكبر كامس على محاربة الهكسوس (كليوباترا - إياح حتب - نفرتيتى - حتشبسوت)
- ٥- العامل الرئيسى لقيام الحضارة المصرية وساعد على الاستقرار . (الجيش - الموقع - المناخ - نهر النيل)
- ٦- دعا الملك أمنحتب الرابع إلى عبادة الإله (أتون - رع - أمون - بتاح)
- ٧- كانت التجارة قديما تتم عن طريق (الدرهم - العملة - المقايضة - الجنيه)
- ٨- تسمى الآن بلاد بونت باسم (المغرب العربى - فينيقيا - الصومال - لبنان)
- ٩- كان الأطفال عند قدماء المصريين يتلقون تعليمهم فى (القصور - المدارس - المنازل - المعابد)
- ١٠- عملية البيع والشراء يقصد بها (الزراعة - الصناعة - التجارة - التعدين)
- ١١- اتخذ منتوحتب الثانى مدينة عاصمة لدولته (منف - طيبة - أواريس - بوتو)
- ١٢- كان يقومون على خدمة الآلهة (الكهنة - الوزراء - الكتبة - الموظفين)
- ١٣- تحتفل مصر والعالم بتعامد الشمس على وجه الملك فى يوم عيد ميلاده وجلسه على العرش من كل عام (سقن رع - تحتتمس - أمنمحات الأول - رمسيس الثانى)

- ١- هو ابن الإله على الأرض وهو الحاكم الفعلى الذى تتركز في يده كل السلطات .
- ٢- أهم مسؤوليات الفرعون ،
- ٣- كان الفرعون يعين ليساعده في إدارة ويرأس
- ٤- من الشروط التي يجب توافرها في الوزير ،
- ٥- كان يعاون الوزير في إدارة شئون البلاد ،
- ٦- ساعد نهر النيل على استقرار الإنسان فعمل به
- ٧- دقة وبراعة الصانع المصرى قديما أدهشت العالم ويدل على ذلك حلى
- ٨- يقابل منصب الفرعون قديما منصب حالياً .
- ٩- نهر النيل كان الأساس فى
- ١٠- هزم تحتمس الثالث السوريين فى معركة بينما هزم الحثيين فى معركة قادش
- ١١- اتحدت أقاليم الوجه البحرى وكونت مملكة
- ١٢- من أسلحة الجيش فى مصر الفرعونية ، ،
- ١٣- اعتقد المصرى القديم فى بعد الموت ليسأل عما فعله فى الدنيا .
- ١٤- دعا إلى عبادة اله واحد بدلاً من تعدد الآلهة ورمز إليه ب
- ١٥- اشتهر المصريون القدماء ب جثث موتاهم لاعتقادهم فى البعث والخلود .
- ١٦- تكونت الأقاليم من قرى و
- ١٧- نجح الملك فى توحيد مملكتى الشمال والجنوب .
- ١٨- هى النواة الأولى للمجتمع فى مصر الفرعونية .
- ١٩- بنى المصري القديم مسكنه من
- ٢٠- إدارة الصناعة فى مصر القديمة يقابلها حالياً وزارة ويقابل إدارة التجارة الآن
- ٢١- اهتم المصريون القدماء ببناء لدفن موتاهم .
- ٢٢- مصر هى صاحبه أول فى العالم ينظم علاقة المرأة بأسرتها ومجتمعها .
- ٢٣- اهتم المجتمع المصرى قديما ب كأم وكملكة .
- ٢٤- استقر المصرى قديما على وكون التى تعد للمجتمع .
- ٢٥- من الأعياد القديمة فى مصر الفرعونية ، ،
- ٢٦- حكمت الملكة مصر وعملت على استقرار البلاد ونهضتها فى مختلف المجالات .
- ٢٧- قسم المصرى القديم السنة الزراعية إلى فصل ، فصل ، فصل
- ٢٨- من أهم المحاصيل فى مصر الفرعونية ، ،
- ٢٩- اهتم المصريون القدماء ببناء المعابد لـ
- ٣٠- صنع المصري القديم أدواته فى البداية من ثم استخدم
- ٣١- كانت الحكومة المركزية قديما تتكون من
- ٣٢- من مسؤوليات الفرعون تحقيق بين الناس والحفاظ على
- ٣٣- أقام المصرى القديم لعبادة الآلهة وتقديم القرابين .
- ٣٤- عملية برع فيها المصرى القديم للحفاظ على جثث موتاهم سليمة لفترة طويلة .
- ٣٥- اتحدت أقاليم الوجه القبلى وكونت مملكة قديما واتخذوا معبودهم من
- ٣٦- هى عملية تبادل السلع والمنتجات بين المدن والقرى والأقاليم داخل حدود الدولة
- ٣٧- كانت التجارة قديماً تتم عن طريق إلى أن عرف الإنسان العملة .
- ٣٨- قامت علاقات تجارية بين مصر والدول المجاورة حيث كانت السفن المصرية تحمل بضائع مصرية مثل وتعود محملة ببضائع مثل ، ويطلق عليها تجارة

س ١٩: ضع علامة (√) أمام العبارة الصحيحة وعلامة (×) أمام العبارة الخاطئة :-

- ١- الوزير هو الحاكم الفعلي الذي تتركز في يده جميع السلطات في مصر الفرعونية .
- ٢- كان من مهام الفرعون في مصر الفرعونية بناء المعابد لإقامة الشعائر الدينية .
- ٣- أهمل المجتمع المصري قديماً المرأة .
- ٤- يقابل منصب الفرعون في مصر الفرعونية منصب رئيس الوزراء حالياً .
- ٥- استورد المصريون خشب الأرز من فينيقيا والبخور والعاج من بلاد بونت .
- ٦- دعا الملك تحتمس الثالث إلى التوحيد وإلى عبادة إله واحد .
- ٧- كان الفرعون يعين الوزير ليساعده في إدارة شؤون البلاد .
- ٨- التحنيط عملية يقصد بها مساعدة الميت على أداء العبادات .
- ٩- من الشروط التي كان يجب توافرها في الوزير في مصر الفرعونية الحكمة والعدل .
- ١٠- كان يعاون الوزير في إدارة شؤون البلاد مديرو الإدارات والحكومة المركزية .
- ١١- عبد المصري القديم في القرى والمدن والأقاليم منذ نشأتها آلهة متعددة .
- ١٢- نجح الملك نارمر في توحيد مملكة الشمال ومملكة الجنوب وأعلن قيام الدولة الموحدة .
- ١٣- بعد توحيد البلاد لم يهتم ملوك مصر الفرعونية بالجيش وتسليحه .
- ١٤- انتصر الملك تحتمس الثالث على الحيثيين في معركة قادش .
- ١٥- من أسلحة الجيش في مصر الفرعونية الفأس والسهام والرمح .
- ١٦- تميزت الحياة الدينية عند الفراعنة بتعدد الآلهة والاعتقاد في البعث بعد الموت .
- ١٧- ساعد توحيد مصر على إقامة نظام حكم أدى إلى استقرارها .
- ١٨- إخناتون صاحب أول ثورة دينية في التاريخ .
- ١٩- استعان المزارع المصري قديماً بمزارعين من فينيقيا لزراعة الأرض .
- ٢٠- اعتقد المصريون القدماء في البعث بعد الموت ولذلك لم يهتموا بتحنيط الجثث .
- ٢١- اهتم المصري القديم ببناء المقابر لدفن جثث موتاهم لاعتقاده في البعث والخلود .
- ٢٢- اكتشفت مقبرة توت عنخ أمون عام ١٩٢٢ م .
- ٢٣- المرأة هي النواة الأولى للمجتمع في مصر الفرعونية .
- ٢٤- أعطت الملكة أياح حتب المثل الأعلى والقدوة لأمهات مصر العظيمة .
- ٢٥- ازدهرت التجارة قديماً بين مصر وبلاد أوربا عبر نهر النيل .
- ٢٦- نعمت الأسرة في مصر الفرعونية بنصيب كبير من الاستقرار والأمان .
- ٢٧- أتاح المجتمع في مصر القديمة الفرص للمرأة للعمل في مختلف المجالات .
- ٢٨- مصر صاحبة أول تشريع قانوني في العالم ينظم علاقة المرأة بأسرتها ومجتمعها .
- ٢٩- كان المصري القديم يزرع الأرض مرة واحدة في العام .
- ٣٠- أعلن الملك أحمس قيام الدولة الموحدة وأقام حكومة مركزية في البلاد .
- ٣١- احتفل المصري القديم بأعياد كثيرة منها الاحتفال بعيد الفيضان وعيد الحصاد .
- ٣٢- بنى المصري القديم مسكنه من الطوب الأحمر .
- ٣٣- يعتبر نهر النيل هو العامل الرئيسي لقيام الحضارة المصرية القديمة .
- ٣٤- اعتقد المصري القديم بعودة الروح إلى الجسد بعد الموت .
- ٣٥- زرع المصري القديم القطن - القمح - الشعير .
- ٣٦- قسم المصري القديم السنة إلى أربعة فصول .
- ٣٧- حرص المصري القديم على المحافظة على مياه النيل .
- ٣٨- صنع المصري القديم أدواته أولاً من الحجر ثم استخدم المعادن .
- ٣٩- تميزت الصناعة في مصر القديمة بالفن والذوق والروعة .
- ٤٠- كانت التجارة قديماً في مصر الفرعونية تتم عن طريق المقايضة قبل استخدام العملة .
- ٤١- لم تأخذ المرأة حقها في المجتمع المصري القديم .
- ٤٢- كان مديرو الإدارات يرأسوا الحكومة المركزية .
- ٤٣- التجارة الخارجية هي عملية البيع والشراء داخل القرى والمدن والأقاليم .
- ٤٤- كانت السفن المصرية قديماً تحمل الأخشاب والعاج إلى الدول المجاورة .
- ٤٥- استورد المصري القديم خشب الأرز من بلاد بونت .
- ٤٦- ازدهرت التجارة قديماً بين مصر وبلاد النوبة عبر نهر النيل .

- ١- مبادلة سلعة بسلعة أخرى .
- ٢- اشتهروا بتحنيط جثث موتاهم لتعود إليها الروح مرة ثانية .
- ٣- نجح فى توحيد مملكتى الشمال والجنوب .
- ٤- مواسم حددها المصرى القديم للعمليات الزراعية المختلفة .
- ٥- البيع والشراء بين مصر والدول الأخرى .
- ٦- شجعت زوجها وأبناءها على محاربة الهكسوس .
- ٧- عودة الروح إلى الإنسان وعودته للحياة مرة أخرى .
- ٨- ابن الإله على الأرض وهو الحاكم الفعلى للبلاد .
- ٩- أقام معبد الدير البحرى بالأقصر .
- ١٠- اجتماع الناس على عبادة إله واحد بدلا من تعدد الآلهة .
- ١١- الأخ الأكبر لأحمس الذى استشهد فى حرب التحرير ضد الهكسوس .
- ١٢- أقام أول حكومة مركزية فى البلاد .
- ١٣- مجالس تتولى وضع القوانين مثل مجلس الشعب فى مصر .
- ١٤- رئيس الحكومة المركزية .
- ١٥- أول من قاد الكفاح ضد الهكسوس .
- ١٦- كل ما أنتجه عقل الإنسان سواء كان ماديا أو ثقافيا .
- ١٧- تولت حكم مصر وعملت على استقرار البلاد ونهضتها فى مختلف المجالات .
- ١٨- يرأس الحكومة المركزية ويساعد الملك على إدارة شئون البلاد .
- ١٩- معركة انتصر فيها رمسيس الثانى على الحيثيين .

الامتحان رقم ١

س١: ضع علامة (√) أمام العبارات الصحيحة وعلامة (×) أمام العبارات الخاطئة

- (أ) يلقب الملك رمسيس الثاني (بطل الحرب والسلام) ()
(ب) أعلن قيام الدولة الموحدة في مصر القديمة عام ٣٢٠٠ ق.م ()
(ج) أمر الملك خوفو بنحت تمثال أبو الهول . ()
(د) اخترع الإنسان الأسمدة والمبيدات لزيادة الإنتاج الزراعي ()
(هـ) كان الوزير في مصر القديمة هو الحاكم الفعلي للبلاد ()

س٢: أكمل ما يأتي (أ) تنتشر حرفة بين سكان الوادي والدلتا
(ب) اتخذ الملك منتوحتب الثاني مدينة عاصمة للبلاد
(ج) دير سانت كاترين من الآثار في مصر
(د) استخدم أحسن في طرد الهكسوس من مصر
(هـ) من مصادر الطاقة النظيفة في مصر

س٣: اكتب ما تشير إليه كل عبارة :-

- (أ) عملية استخراج المعادن من باطن الأرض ()
(ب) رفض تعدد الآلهة والدعوة إلى عبادة إله واحد ()
(ج) تبادل المنتجات بالبيع أو الشراء خارج حدود الدولة ()
(د) يعتبر أول بناء حجري في التاريخ ()
(هـ) كل ما يحيط بالإنسان على سطح الأرض فوقها أو تحتها ()

س٤: يم تفسر (أ) تلوث الهواء

- (ب) تسمية قصر التيه بهذا الاسم
(ج) أهمية الزراعة في مصر
(د) تكوين جيش قوى للبلاد .

الامتحان رقم ٢ (مدرسة الواصفية ببورسعيد)

س١: أكمل العبارات الآتية بكلمة مناسبة

- ١- اهتم الملك أمنمحات الثالث بشئون الزراعة فقام ببناء سد في منطقة
٢- الصناعة الحديثة تتم في كبيرة تدار بـ
٣- دعا الملك إلى عبادة إله واحد واتخذ من عاصمة له.
٤- تنقسم التجارة إلى نوعين هما و
٥- يعرف طائر بأنه صديق الفلاح

س٢: ضع علامة (√) أو (×)

- ١- سكان الوادي والدلتا يعملون بحرفة الزراعة () .
٢- قطع الإنسان وإزالته للغابات له تأثيره السلبي () .
٣- التحنيط عملية يقصد بها مساعدة المصري على أداء العبادات () .
٤- يعد الوزير في مصر القديمة هو الحاكم الفعلي للبلاد () .
٥- أنشئت وزارة الدولة لشئون البيئة في عام ١٩٠٠ ()

س٣: اختر الإجابة الصحيحة مما بين القوسين:

- ١- من مصادر المياه العذبة بحيرة (البرلس - المنزلة - اكو - ناصر)
٢- أقيمت أول محطة لتوليد الكهرباء من الرياح في (المنيا- الزعفرانة - قنا- دمياط)
٣- قسم المصري القديم فصول السنة إلى (فيضان- زراعة- حصاد- كل ما سبق)
٤- ساعد على تلوث الهواء (الطائرات - دخان المصانع - السفن - القطارات)
٥- أنشأت الدولة وزارة الدولة لشئون البيئة عام م (١٩٩٧ - ١٩٩٦ - ١٩٩٩ - ٢٠٠٠)

س٤: اكتب ما تشير إليه كل عبارة من العبارات الآتية:

- ١- صاحب الهرم المدرج في سقارة
٢- منتج زراعي يصنع منه إطارات السيارات
٣- البحث والتنقيب واستخراج المعادن من باطن الأرض
٤- أقام أول وأقدم إمبراطورية في التاريخ
٥- تحويل الخامات إلى منتجات تصلح للاستخدام

س ١ : أكمل العبارات الآتية :-

١. نجح الملك زوسر في مد حدود مصر وسيطر على النوبيين .
٢. توجد المياه الجوفية بمصر في المناطق وسيناء .
٣. يتم قتل الطيور صديقة الفلاح بسبب توسعه في استخدام
٤. كان يساعد الفرعون في إدارة شئون البلاد .
٥. أقامت مصر علاقات تجارية مع بلاد وهي الصومال حالياً .

س ٢ : ضع علامة (√) أو علامة (×) أمام العبارات الآتية:

١. تنتهي السنة الزراعية عند المصريين القديماً بفصل الفيضان () .
٢. يرتبط نشاط السكان بطبيعة البيئة المحيطة. () .
٣. من مصادر الطاقة بمصر الحديد والنحاس والمنجنيز. () .
٤. دعا الملك أمنحتب الرابع إلى عبادة إله واحد. () .
٥. أقام الملك أمنمحات الثاني معبداً كبيراً سمي بقصر التيه. () .

س ٣ : أكتب المصطلح العلمي :-

١. مدينة اتخذها الهكسوس عاصمة لهم في شمال مصر ()
٢. معركة انتصر فيها الملك رمسيس الثاني على الحيثيين ()
٣. منتج زراعي يستخدم في صناعة إطارات السيارات. ()
٤. أنشطة يمارسها الإنسان مثل التعليم والصحة. ()
٥. اجتماع الناس على عبادة إله واحد ورفض تعدد الآلهة. ()

س ٤ : أ) ما المقصود بكل من:

- ب) وضح مظاهر اهتمام المصري القديم بالمرأة .

الامتحان رقم ٤ (إدارة أجا التعليمية ٢٠١٠م)

السؤال الأول : أكمل ما يأتي :-

- ١- يطلق على عصر الدولة القديمة عصر بناء
- ٢- تعتبر دلتا النيل أهم المناطق الصالحة لممارسة حرفة
- ٣- يرتدى سكان الوجه البحرى الملابس الثقيلة فى فصل
- ٤- أنشأت الدولة أول محطة لتوليد الكهرباء من الرياح فى منطقة
- ٥- أقام الملك أمنمحات الثالث سد
- ٦- إدارة الصناعة فى مصر قديماً يقابلها حالياً

السؤال الثانى : ضع علامة (√) أمام العبارات الصحيحة و علامة (×) أمام الخاطئة :-

١. ساعد موقع مصر الجغرافى على جذب السياح إليها . ()
٢. التجارة الخارجية يقصد بها البيع والشراء بين المدن والقرى. ()
٣. ترتبط أنشطة الإنسان بتنوع البيئة التى يعيش فيها . ()
٤. سمي عصر الدولة الوسطى بعصر الرخاء الاقتصادى . ()
- ٥- مينا صاحب هرم سقارة المدرج . ()
- ٦- البيئة الزراعية تتميز بانتشار حرفة الزراعة بين سكانها . ()

السؤال الثالث : من أكون :-

- ١- أقام أول وأقدم إمبراطورية عرفها التاريخ .
- ٢- دعا إلى عبادة إله واحد رمز له بقرص الشمس.
- ٣- جاء إلى مصر وهزم الفرس وأسس مدينة الإسكندرية.
- ٤- طرد الهكسوس من مصر .
- ٥- الانتصار على الحيثيين فى معركة قادش
- ٦- بناء معبد الدير البحرى .

السؤال الرابع : أعط كلمة واحدة بدلا من كل عبارة :-

- ١- حفظ الموتى سليمة لتعود إليها الحياة مرة أخرى .
- ٢- كل ما يحيط بالإنسان من عناصر طبيعية وحضارية .
- ٣- بناء ضخ من الحجر توجد أسفله بعض الحجرات يوضع فى إحداها تابوت الملك .

- ٤- تحويل المادة الخام إلى منتجات .
٥- مجالس تتولى وضع القوانين مثل مجلس الشعب .
٦- طائر يساعد الفلاح في تنقية الديدان من الأرض .

السؤال الخامس : اختر من المجموعة (ب) ما يناسبها من المجموعة (أ) :-

- ١- البحث والتنقيب عن المعادن - بناء الملك رمسيس الثانى
٢- أبو الهول - ساعد على استقرار الإنسان وعمله بالزراعة
٣- معبد أبو سمبل - تمثال رأسه رأس إنسان وجسمه جسم حيوان .
٤- نهر النيل - الصناعات التى تعتمد على مصادر الطاقة
٥- تنمية سياحية - عملية تهدف إلى جذب السياح وزيادة أعدادهم
٦- صناعات حديثة - التعدين

الامتحان رقم ٥

السؤال الأول ضع علامة (√) أمام العبارات الصحيحة وعلامة (×) أمام الخطأ

- ١- أمر الملك منكاورع بنحت تمثال أبو الهول ()
٢- يلقب الملك رمسيس الثانى ببطل الحرب والسلام ()
٣- القطن من المحاصيل الشتوية ()
٤- ساعد موقع مصر الجغرافي على جذب السياح إليها ()
٥- أغلب سكان البيئة الساحلية يشتغلون بالصيد وأعمال البحر ()

السؤال الثانى : أكمل ما يأتى

- ١- انشىء سد اللاهون فى عهد الملك
٢- يعد عصر الدولة عصر بناء الأهرامات
٣- تعتبر دلتا النيل أهم المناطق الصالحة لممارسة حرفة
٤- يرتدى سكان الوجه البحري الملابس الثقيلة فى فصل
٥- تشتهر البيئة بندرة المياه

السؤال الثالث : اختر الإجابة الصحيحة من بين القوسين :

- ١- حفر قناة سيزوستريس (منتوحب الثانى - سنوسرت الثالث- أمنمحات الثالث)
٢- غزا الهكسوس مصر من جهة (الغرب - الشمال - الجنوب - الشرق)
٣- من أهم مصايد اسماك المياه العذبة بمصر بحيرة (ناصر- المنزلة- البرلس)
٤- يعمل أغلب سكان مدينة بورسعيد بحرفة (الزراعة - الصناعة - الصيد)
٥- ساعد دخان المصانع على تلوث (المياه - البحار - الهواء)

السؤال الرابع : أعط مفهوما لكل عبارة من العبارات الآتية

- ١- هى الطيور التى تساعد الفلاح فى تنقية التربة من الحشرات
٢- قصد به وسائل النقل التى تتحرك على الأرض مثل السيارات والقطارات
٣- هو العامل الرئيسى لقيام الحضارة المصرية وساعد على الاستقرار
٤- حرفة عمل بها المصري القديم بعد نزوله إلى الوادى
٥- عملية البيع والشراء

السؤال الخامس: (أ) من هو

- ١- صاحب المعبد الكبير الذى أطلق عليه قصر التيه ()
٢- الملك الذى أمر بنحت تمثال أبو الهول ()
٣- صاحب الانتصار العظيم على الحيثيين فى معركة قادش ()

(ب) بم تفسر

- ١- إقبال السياح على زيارة مصر طول العام
٢- إنشاء القناطر والسدود

الامتحان رقم ٦



س ١: أ) أمامك صورة ، أكتب مدلول الأرقام الآتية:-

- ١- اسم الهرم
 ٢- اسم الملك الذي بناه
 ٣- عدد درجات الهرم.
 ٤- بنى فى عصر الدولة
 ب) لمن تنسب الأعمال الآتية :
 ١- هزم الهكسوس وطردهم خارج مصر
 ٢- صاحب الهرم الأكبر
 ٣- صاحب أول ثورة دينية فى التاريخ

س ٢: أ) أكمل العبارات الآتية :

- ١- استطاع الملك رمسيس الثانى هزيمة الحيثيين فى معركة
 ٢- تعد دلتا النيل من أهم المناطق الصالحة لممارسة حرفة
 ٣- بناء المعابد لإقامة الشعائر الدينية من واجبات
 ب) أكتب ما تشير إليه كل عبارة من العبارات الآتية :
 ١- البحث والتنقيب عن المعادن الموجودة فى باطن الأرض واستخراجها
 ٢- العمل الذى يقوم به الإنسان من زراعة أو صناعة أو تجارة

س ٣: أ) ضع علامة (√) أمام العبارات الصحيحة وعلامة (×) أمام العبارات الخاطئة:

- ١- أمر الملك منكاورع بنحت تمثال أبو الهول ()
 ٢- أرسلت الملكة حتشبسوت بعثات تجارية إلى بلاد بونت ()
 ٣- توجد أسماك المياه العذبة فى البحرين الأحمر والمتوسط ()
 ٤- تساعد السياحة على نمو الدخل القومى ()
 ٥- العدل من الشروط الواجب توافرها فى من يشغل منصب الوزير ()
 ب) بم تفسر:-
 ١- اهتمام المصريين القدماء ببناء القبور .
 ٢- الاهتمام ببناء جيش قوى فى كل العصور .

س ٤ : اختر الإجابة الصحيحة مما بين القوسين :

- ١- يطلق على عصر الدولة الحديثة عصر [المجد الحربى - بناء الأهرام - الرخاء الاقتصادى]
 ٢- قام الملك ببناء سد اللاهون [أحمس - أمنمحات الثالث - خفرع]
 ٣- من المحاصيل الصيفية فى مصر [القطن - الشعير - القمح]
 ٤- طائر يعرف بصديق الفلاح [الصقر - أبو قردان - النورس]
 ٥- أنشئت وزارة الدولة لشئون البيئة عام [١٩٩٥م - ١٩٩٦م - ١٩٩٧م]
 ٦- من الآثار الإيجابية للإنسان على البيئة [إزالة الغابات - استصلاح الصحراء - استخدام المبيدات الحشرية]

الامتحان رقم ٧

س ١: أ) ضع علامة (√) أمام العبارة الصحيحة وعلامة (×) أمام العبارة الخطأ.

- ١- يطلق على عصر الدولة الحديثة عصر الرخاء الاقتصادى ()
 ٢- الملك زوسر صاحب أول قبر حجرى فى التاريخ ()
 ٣- أمر خوفو بنحت تمثال الكاتب ()
 ٤- أقيم سد اللاهون فى منطقة الفيوم ()
 ٥- اهتم الملك اخناتون بأمور السياسة والحرب ()

ب) بم تفسر :

- ١- كره المصريين للهكسوس
 ٢- إنشاء قناة سيزوستريس.
 ٣- أقام أمنمحات الثالث سد اللاهون .

س ٢: أ) أكمل العبارات الآتية :

- ١- يعتبر الملك مؤسس الدولة الوسطى .
 ٢- عقد الملك أول معاهدة سلام فى التاريخ .
 ٣- استطاع الملك طرد الهكسوس من مصر .

ب) اذكر معنى ما يلى :

- ١- الهرم
 ٢- نقل برى

س ٣: أ) اختر الإجابة الصحيحة مما بين القوسين:

- ١- تم اكتشاف مقبرة توت عنخ أمون عام (١٩٢٢ - ١٩٢٣ - ١٩٢٤ - ١٩٢٥)
 - ٢- صنع المصري القديم أدواته من (الحديد - الحجر - النحاس - الخشب)
 - ٣- قسم المصري القديم فصول السنة إلى (الفيضان - الزراعة - الحصاد - كل ما سبق)
 - ٤- تعد النواة الأولى للمجتمع المصري (الأسرة - المدرسة - المعبد - القبيلة)
 - ٥- استطاع الملك هزيمة الهكسوس (اخناتون - أحمس - خوفو - زوسر)
- ب) ماذا يحدث إذا لم يهتم ملوك الدولة القديمة ببناء الأهرام.

س ٤: أ) إلى من تنسب الأعمال الآتية :

- ١- بناء هرم سقارة المدرج .
 - ٢- إرسال البعثات التجارية إلى بلاد بونت .
 - ٣- العمل الذي يمارسه الإنسان ليرتق منه .
 - ٤- الحرفة الرئيسية في دلتا النيل .
- ب) " الحياة الاقتصادية من مظاهر الحضارة المصرية القديمة وشملت مجالات متعددة مثل الزراعة والصناعة والتجارة " في ضوء هذه العبارة أجب عما يأتي :
- ١- كم عدد فصول السنة الزراعية قديماً ؟
 - ٢- تنقسم التجارة إلى نوعين تجارة وتجارة

الامتحان رقم ٨ (مدرسة الشهيد عبدالمنعم رياض ببورسعيد)

السؤال الأول : اختر الإجابة الصحيحة مما بين الأقواس :

- ١- صاحب الهرم المدرج (سقارة) الملك (خوفو - زوسر - منكاورع - خفرع)
- ٢- استطاع الملك رمسيس الثاني هزيمة في معركة قادش (الفرس - الهكسوس - النوبيين - الحيثيين)
- ٣- يعتبر القطن من محاصيل فصل (الصيف - الشتاء - الربيع - الخريف)
- ٤- المصدر الرئيسي لمياه في مصر (المياه الجوفية - نهر النيل - مياه الأمطار - الثلوج)

السؤال الثاني : ضع علامة (√) أو (×) أمام كل عبارة مما يأتي :

- ١- دعا الملك خوفو إلى التوحيد وعبادة اله واحد () .
- ٢- تم اكتشاف مقبرة توت عنخ أمون عام ١٩٢٢ م () .
- ٣- يعتبر التعليم والصحة من أنشطة السكان في مجال الخدمات () .
- ٤- ساعد الموقع الجغرافي لمصر على جذب السياح () .

السؤال الثالث : اذكر سبباً واحداً لكل مما يأتي:

- ١- تسمية عصر الدولة القديمة بعصر بناء الأهرام.
- ٢- نجاح الهكسوس في احتلال شمال مصر.
- ٣- تعدد الأنشطة الاقتصادية في مصر.
- ٤- اهتمام الدولة بالتنمية الزراعية.

السؤال الرابع : إلى من تنسب الأعمال الآتية ؟

- ١- حفر قناة سيزوستريس
- ٢- تشييد الهرم الأكبر.
- ٣- نشر الأمن وأعاد الاستقرار واتخذ من طيبة عاصمة للبلاد.
- ٤- أمر بنحت تمثال أبو الهول.

السؤال الخامس : أ) اختر من المجموعة (ب) العبارة المناسبة لاستكمال كل عبارة في المجموعة (أ)

- | | |
|---------------------------------|---------------------|
| (أ) | (ب) |
| ١- تكثر تربية الماشية | من القطن |
| ٢- بعض الملابس تصنع | من المحاصيل الشتوية |
| ٣- تنتشر الأغنام والماعز والابل | من المطاط |
| ٤- قصب السكر | في الصحراء |
| | من المحاصيل الصيفية |
| | في الوادي والدلتا |

ب) ما المقصود بكل من

- ١- الصناعة
- ٢- التعدين

س ١ : أ) أكمل العبارات الآتية بكلمة مناسبة:

- ١- من المحاصيل الصيفية بمصر و
 - ٢- يعمل سكان البيئة الصحراوية ب- ويعمل أهل الريف ب-
- ب) من أنا:
- ١- أرسلت البعثات لبلاد بونت لإحضار البخور والعاج .
 - ٢- انتصرت على الحيثيين فى معركة قادش وعقدت معهم معاهدة سلام
 - ٣- طائر صديق الفلاح
 - ٤- قمت بطرد الهكسوس من مصر

س ٢ : ضع علامة (√) أو (×) :

- ١- تنتشر الأغنام والماعز والإبل فى الوادى والدلتا () .
- ٢- اتخذ المصريون القدماء من قوى الطبيعة آلهة لهم () .
- ٣- قام الملك أمنمحات الثانى بحفر قناة سيزوستريس () .
- ٤- تمثال أبى الهول رأسه رأس أسد () .
- ٥- دعا الملك أمنحتب الرابع إلى عبادة إله واحد () .
- ٦- القطن من المحاصيل الشتوية التى تحتاج إلى درجة حرارة منخفضة () .

س ٣ : أ) اختر الإجابة الصحيحة مما بين القوسين:

- أ) أرسلت الملكة حتشبسوت بعثة تجارية لبلاد [فينقيا - النوبة - بونت]
- ب) تربي فى الوادى والدلتا [الأغنام - الماشية - الإبل]
- ج) توجد محمية رأس محمد فى [شمال سيناء - جنوب سيناء - الوادى الجديد]
- د) استخدم المصرى القديم فى صناعة التوابيت والسفن [الحجر - الخشب - النحاس]
- هـ) كان لباس المصرى القديم من نسيج [الكتان - القطن - الصوف]
- ب) اكتب ما تشير إليه كل عبارة من العبارات الآتية :
 ١- تحويل المواد الخام إلى منتجات .
 ٢- كل ما يحيط بالإنسان من عناصر طبيعية وأشياء حضارية

س ٤ : أ) صل :

- | | |
|----------------|--|
| *الوزير | - الحفاظ على وحدة البلاد والدفاع عنها. |
| *الفرعون | - إدارة شئون الإقليم. |
| *حكام الأقاليم | - قام على خدمة المعابد. |
| *الجيش | - يساعد الفرعون فى إدارة شئون البلاد. |
| | - إقامة المعابد والشعائر |

ب) قارن بين كلا من: التجارة الداخلية ، التجارة الخارجية.

س ٥ : أ) بم تفسر :

- ١- يعتبر الهرم الأكبر من عجائب الدنيا السبع
 - ٢- تنوع المحاصيل الزراعية فى مصر.
- ب) ما النتائج المترتبة على:
- ١- بناء السد العالى فى العصر الحديث
 - ٢- استخدام المبيدات الحشرية فى الزراعة

الإمتحان رقم ١٠ (مدرسة المنصورية بحرى بأسوان)

س ١ : أ) أكمل :

- ١- كان يعين الوزير ليساعده على إدارة
- ٢- من الحرف التى تعرف بالخدمات و
- ٣- من أهم مشكلات التلوث بالمدن و
- ٤- من البيئات المصرية و و
- ٥- من الآلهة المصرية القديمة و و

ب) بم تفسر : تزويد الميت فى القبر بالماء والطعام قديماً

س ٢ : أ) ضع علامة (√) أمام العبارة الصحيحة وعلامة (×) أمام العبارة الخاطئة .

- ١- التحنيط عملية يقصد بها مساعدة الميت على أداء العبادات ()
 - ٢- أنشئت وزارة الدولة لشئون البيئة فى مصر عام ١٩٧١م ()
 - ٣- ترتبط أنشطة الإنسان بنوع البيئة التى يعيش فيها ()
 - ٤- ساعد موقع مصر الجغرافى على جذب السياح إليها ()
 - ٥- ازدهرت التجارة قديماً بين مصر وأوروبا عن طريق نهر النيل ()
- ب) بم تفسر : تنوع المحاصيل الزراعية

س ٣: أ) اختر الإجابة الصحيحة من بين القوسين .

- ١- من الآثار الإسلامية (معبد فيله * دير سانت كاترين * مسجد السلطان حسن)
 - ٢- من مصادر الطاقة (البترول * الحديد * النحاس)
 - ٣- من فصول السنة الزراعية قديماً (فصل الربيع * فصل الحصاد * فصل الشتاء)
 - ٤- من المحاصيل الصيفية (القمح * الذرة * البرسيم)
 - ٥- من المحميات الطبيعية فى أسوان (رأس محمد * وادى العلاقى * وادى الريان)
- ب) بم تفسر : لقب رمسيس الثانى ببطل الحرب والسلام

س ٤: أ) اكتب ما تدل عليه كل جملة من الجمل الآتية :

- ١- تحويل المواد الخام إلى منتجات { }
 - ٢- كل ما يحيط بالإنسان من عوامل طبيعية وحضارية { }
 - ٣- طائر يعرف بصديق الفلاح { }
 - ٤- استخراج المعادن من باطن الأرض { }
 - ٥- اجتماع الناس على عبادة اله واحد فى مقابل تعدد الآلهة { }
- ثانياً : بم تفسر : نجاح الهكسوس فى احتلال شمال مصر .

س ٥: أ) إلى من تنسب الأعمال الآتية :-

١. الملك الذي أمر بنحت تمثال أبو الهول. ()
 ٢. أعاد وحدة البلاد وبدأ عصر الدولة الوسطى. ()
 ٣. بدأ حركة الكفاح ضد الهكسوس حتى استشهد فى الحرب. ()
 ٤. أقام أول وأقدم إمبراطورية عرفها التاريخ فى الدولة الحديثة. ()
 ٥. مقبرة فرعونية اكتشفت بمصر عام ١٩٢٢م بها كنوز أثرية. ()
- ب) ما مقترحاتك للتنمية الزراعية فى مصر ؟

الامتحان رقم ١١

س ١ أكمل العبارات التالية بكلمات مناسبة:

- ١- أنشئت أول محطة توليد كهرباء من الرياح فى مصر بمنطقة
- ٢- يشتهر سكان البيئات الساحلية بتناول الأطعمة
- ٣- يعمل سكان شرم الشيخ فى مجال
- ٤- ساعد دخان المصانع على تلوث

س ٢ ضع علامة (✓) أو (×)

- ١- قام الملك (الفرعون) بتعيين الوزير ليساعده فى إدارة شئون البلاد () .
- ٢- لعب نهر النيل دوراً رئيسياً فى قيام الحضارة المصرية ()
- ٣- صنع الإنسان المصرى قديماً أدواته من المعدن () .
- ٤- أول ملك دعا إلى ثورة دينية فى التاريخ هو أمنحتب الرابع () .

س ٣: من أكون :

- ١- شجعت ابنى أحمس فى قيادة الجيش حتى انتصر على الهكسوس.
- ٢- انتصرت فى معركة مجدو وسيطر الأسطول البحرى على شواطئ البحر المتوسط.
- ٣- هزمت الحيثيين فى معركة قادش .

س ٤: أ) اختر الإجابة الصحيحة مما بين الأقواس :

- ١- توجد محمية فى أسوان (وادى الحيتان - رأس محمد- الزرانيق - وادى العلاقى)
 - ٢- توجد محمية سالوجا فى (أسوان - الفيوم - الوادى الجديد - سيناء)
- ب) قارن بين كل من : البيئة الزراعية - البيئة الصحراوية.

السؤال الرابع : بم تفسر :-

١. إنشاء القناطر والسدود
٢. رواج التجارة فى مصر
٣. تنوع حيوانات الرعى فى مصر من مكان لآخر
٤. كان للمرأة المصرية فى مصر الفرعونية دوراً عظيماً كزوجة وكأم

السؤال الأول : أكمل العبارات الآتية :

- ١- من الأنشطة الخدمية
- ٢- من أهم مصايد أسماك المياه العذبة في مصر بحيرة
- ٣- رفض الملك تعدد الآلهة
- ٤- بنى المصري القديم مسكنه من

السؤال الثاني : ضع علامة (√) أو علامة (×) أمام العبارات التالية :

- ١- تتعدد الأنشطة الاقتصادية وتتنوع حسب البيئة التي يعيش فيها الإنسان . ()
- ٢- البحرين الأحمر والمتوسط من مصادر أسماك المياه العذبة . ()
- ٣- يشتغل سكان البيئة الزراعية بحرفة قطع الغابات . ()
- ٤- استخدم المصري القديم المقايضة في البيع والشراء بعد معرفة العملة . ()

السؤال الثالث : اختر الإجابات الصحيحة مما بين القوسين :

- ١- يعمل سكان الوادي والدلتا بحرفة (الرعي- الصيد- الزراعة)
- ٢- استخدم الإنسان الأسمدة والمبيدات لزيادة الإنتاج (الحيواني- المعدني- الزراعي)
- ٣- كان الأطفال في مصر القديمة يتلقون تعليمهم في (المدارس- المعابد- المنازل)
- ٤- قسم المصري القديم السنة الزراعية إلى (٣ فصول- ٤ فصول- ٥ فصول)

السؤال الرابع : أكتب ما تشير إليه كل عبارة

- ١- كل ما يحيط بالإنسان على سطح الأرض
- ٢- محاصيل تزرع في فصل الشتاء مثل القمح والفول والبرسيم
- ٣- عملية البحث والتنقيب عن المعادن في باطن الأرض
- ٤- عودة الروح إلى الجسد وبيعت مرة أخرى بعد الموت

السؤال الخامس : بما تفسر

- ١- مقتل الطيور صديقة الفلاح مثل أبو قردان
- ٢- اهتمام ملوك مصر القديمة بتكوين جيش قوى

الامتحان رقم ١٣ (السلاهي ٢٠١٠م)

س١ ضع علامة (√) أمام العبارة الصحيحة وعلامة (×) أمام العبارة الخاطئة :

- (أ) يطلق على عصر الدولة القديمة عصر بناء الأهرامات ()
- (ب) من المحاصيل الصيفية بمصر القطن ()
- (ج) كانت وظيفة الكاتب في مصر القديمة وظيفه لا قيمة لها ()
- (د) ساهمت الصناعة في نظافة البيئة بصورة واضحة ()
- (هـ) كره المصريون القدماء الهكسوس ()

س٢ أكمل النقط الآتية بكلمة مناسبة :

- (أ) من الآثار المسيحية بمصر
- (ب) يمتاز مناخ مصر بأنه معتدل طوال العام وهو دافئ في فصل
- (ج) اهتم الملك امنمحات الثالث بشئون الزراعة فقام ببناء سد
- (د) بناء ضخ من الحجر يتكون من عدة حجرات
- (هـ) يعمل سكان الوادي والدلتا بحرفة

س٣ تخير الإجابة الصحيحة مما بين الأقواس :

- (أ) شن تحتتمس الثالث حملات حربية على سوريا وفلسطين عددها (١٤-١٥-١٦-١٨)
 - (ب) يتم غزله ونصنع منه خيوط الملابس الصوفية (الصوف- الكتان- القطن- الحرير)
 - (ج) من مصادر الطاقة النظيفة (الفحم - البترول- الغاز الطبيعي- الرياح)
 - (د) استورد المصري القديم الحرير من بلاد (بونت - العراق - فلسطين- سوريا)
 - (هـ) أعلن قيام الدولة الموحدة في مصر على يد (رمسيس- مينا- خوفو- خفرع)
- س٤ اختر من العمود (ب) ما يناسبه من العمود (أ)

- | | |
|--|----------------|
| (أ) | (ب) |
| ١- ساعد على تلوث الهواء ونشر الملوثات | - التعدين |
| ٢- بنى المصرى القديم مسكنه من | - دخان المصانع |
| ٣- كل ما يحيط بالإنسان من عناصر طبيعية وحضارية | - الطوب اللبن |
| ٤- استخراج المعادن من باطن الأرض | - البيئة |

س ٥ بم تفسر :

- (أ) أهمية السياحة لمصر .
(ب) احتلال الهكسوس مصر

الامتحان رقم ١٤ (مدرسة فاطمة الزهراء)

السؤال الأول أكمل العبارات الآتية :

- ١- يلحق بالهرم لإقامة الصلوات على روح الملك.
- ٢- الصناعة هي عملية تحويل المادة الخام إلى
- ٣- يعمل سكان البيئة الصحراوية بحرفة
- ٤- كان يساعد الفرعون في إدارة شئون البلاد.
- ٥- تعتبر دلتا النيل من أهم المناطق الصالحة لممارسة حرفة
- ٦- بنى المصرى القديم مسكنه من

السؤال الثانى : اكتب المصطلح العلمى :

- ١- أنشئت عام ١٩٩٧م لتعمل على تحسين البيئة.
- ٢- مواد كيميائية تستخدم في القضاء على الحشرات الضارة
- ٣- يقصد به جميع وسائل النقل التي تتحرك على الأرض مثل السيارات.
- ٤- مقبرة فرعونية اكتشفت بمصر عام ١٩٢٢م بها كنوز أثرية.
- ٥- عملية حفظ الجسم سليم بعد الموت
- ٦- عملية تحويل المواد الخام إلى منتجات تصلح للاستخدام

السؤال الثالث : بم تفسر:

- ١- يعد الهرم الأكبر أحد عجائب الدنيا السبع
- ٢- اهتمام الملك سنوسرت الثالث بحفر قناة سيزوستريس
- ٣- صناعة الأسمدة والمبيدات الحشرية
- ٤- اهتمام المصريون القدماء بتحنيط جثث الموتى
- ٥- إنشاء القناطر والسدود
- ٦- تنوع المحاصيل الزراعية

السؤال الرابع : ضع علامة (√) أو علامة (×)

- ١ - دعا الملك أمنحتب الرابع إلى عبادة إله واحد. ()
- ٢- يعمل سكان البيئة الساحلية بحرفة التعدين. ()
- ٣- بنى الملك تحتمس الثالث تمثال أبالهول. ()
- ٤- كان الوزير فى مصر قديما هو الحاكم الفعلى للبلاد. ()
- ٥- أغلب سكان المناطق الساحلية يشتغلون بالصيد وأعمال البحر. ()
- ٦- تشجع الدولة علي استخدام مصادر الطاقة النظيفة ()

السؤال الخامس (أ) من أنا :

- ١- أول من دعا إلى عبادة أله واحد .
 - ٢- ملك فرعونى بطل الحرب والسلام .
- (ب) رتب من الأقدم إلى الأحدث : رمسيس الثانى- خفرع- أحمس- سنوسرت الثالث.

الامتحان رقم ١٥

س ١ ضع علامة (✓) أمام العبارة الصحيحة وعلامة (✕) أمام العبارة الخاطئة :

- (أ) الفوسفات من المواد الخام الزراعية . ()
(ب) تسقط الأمطار على السواحل الشمالية لمصر في فصل الشتاء . ()
(ج) يعد استصلاح الأراضي من أشكال تأثير البيئة على الإنسان . ()
(د) تقع محمية وادي الريان في محافظة البحر الأحمر . ()
(هـ) يصنع الخبز من القمح أو الذرة أو الشعير . ()

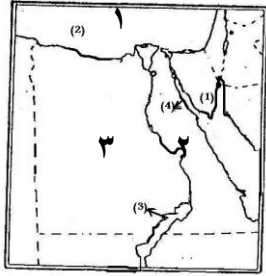
س ٢ أكمل النقط الآتية بكلمة مناسبة :

- (أ) الصوف يغزل ويصنع منه خيوط الملابس
(ب) يعمل بحرفة الصيد وبناء السفن سكان البيئة
(ج) لزيادة الإنتاج الزراعي والقضاء على الحشرات الضارة صنع الإنسان
(د) يهتم بالبيئة المصرية والعمل على تحسينها وزارة
(هـ) تصنع إطارات السيارات من منتج زراعي هو

س ٣ تخير الإجابة الصحيحة مما بين الأقواس :

- (أ) من المحاصيل الصيفية (البرسيم - القمح - القطن - الفول)
(ب) من مصادر أسماك المياه العذبة بحيرة (البرلس - المنزلة - إدكو - ناصر)
(ج) يرتدى سكان الوجه البحري الملابس الثقيلة في فصل (الصيف - الشتاء - الربيع - الخريف)
(د) كانت عبادة الآلهة في مصر القديمة تتم داخل (القصور - المعابد - القبور - الوادي)
(هـ) البيئة التي يعمل فيها السكان بالزراعة هي (الزراعية - الصحراوية - الساحلية - الصناعية)

س ٤ أمامك خريطة صماء لمصر . اكتب مدلول الأرقام التي عليها .



١- البحر

٢- نهر

٣- الصحراء

(ب) اكتب المصطلح العلمي :

- ١- طائر يساعد الفلاح في تنقية الأرض من الديدان .
٢- مناطق طبيعية واسعة نحافظ على النباتات والحيوانات النادرة داخلها .

س ٥ أ) بم تفسر : ١- أثر نهر النيل في قيام الزراعة والحضارة .

٢- اهتمام المصري القديم ببناء القبور والمعابد

(ب) من أنواع البيئات في مصر و و

الامتحان رقم ١٦

السؤال الأول : أكمل ما يأتي :

- ١- قام الملك زوسر ببناء هرم في دهشور .
٢- يعد أحد عجائب الدنيا السبع .
٣- الملك هو الذي أمر بنحت تمثال أبو الهول .
٤- اتخذ الملك منتوحتب الثاني مدينة عاصمة للبلاد .
٥- حفر الملك سنوسرت الثالث قناة سيزوستريس لتربط بنهر النيل

السؤال الثاني : ضع علامة (✓) او (✕) أمام كل عبارة

- ١- أقام الملك أمنمحات الثالث سد اللاهون عند مدخل الفيوم ()
٢- قام الملك أحمس بطرد الهكسوس من مصر ()
٣- أرسلت الملكة حتشبسوت رحلة تجارية لبلاد النوبة لجلب العاج والبخور ()
٤- أسس أمنحتب الرابع مدينة أخيتاتون ()
٥- يطلق على عصر الدولة الحديثة عصر المجد الحربى ()
السؤال الثالث : اختر الإجابة الصحيحة لما بين القوسين :-

- ١- قامت الملكة حتشبسوت ببناء معبد (الدير البحري - أبو سمبل - الكرنك)
- ٢- انتصر الملك تحتمس الثالث على السوريين فى معركة (قادش - حطين - مجدو)
- ٣- دعا الى عبادة اله واحد وهو اتون الملك (اخناتون - زوسر - خوفو)
- ٤- أمر بنحت تمثال أبو الهول الملك (خوفو - خفرع - منكاورع)
- ٥- هزم الملك رمسيس الحيثيين فى معركة (حطين - مجدو - قادش)

السؤال الرابع : اكتب ما تشير إليه العبارات الآتية :-

- ١- هى تحويل المواد الخام إلى منتجات تصلح للاستخدام بواسطة الإنسان
- ٢- هى استخراج المعادن ومصادر الطاقة من باطن الأرض
- ٣- نقل المنتجات من مناطق الإنتاج لمناطق الاستهلاك
- ٤- وهى نوع من انواع التجارة يتم داخل حدود الدولة
- ٥- تمثال رأسه رأس إنسان (رمز للعقل) وجسمه جسم أسد (رمز للقوة)

الامتحان رقم ١٧

السؤال الأول : ضع علامة (صح) أو (خطأ) :

- ١- دعا الملك أمنحتب الرابع إلى عبادة إله واحد
- ٢- القطن من المحاصيل الشتوية التى تحتاج إلى درجة حرارة منخفضة
- ٣- أغلب سكان المناطق الساحلية يشتغلون بالصيد وأعمال البحر
- ٤- التحنيط عملية يقصد بها مساعدة الميت على أداء العبادات

السؤال الثانى : أكمل العبارات الآتية بكلمة مناسبة :

- ١- يطلق على عصر الدولة القديمة عصر بناء
- ٢- سمي عصر الدولة الوسطى بعصر
- ٣- تعتبر دلتا النيل أهم المناطق الصالحة لممارسة حرفة
- ٤- تسهم السياحة فى نمو لمصر .

السؤال الثالث : اختر الإجابة الصحيحة مما بين القوسين :

- ١- تم اكتشاف مقبرة الملك توت عنخ أمون عام م (١٩٢٢ - ١٩٢٣ - ١٩٢٤ - ١٩٢٥)
- ٢- صنع الإنسان المصرى القديم أدواته من (الحديد - الحجر - النحاس - الخشب)
- ٣- قسم المصرى القديم السنة الزراعية إلى (فصل الفيضان - فصل الزراعة - فصل الحصاد - كل ما سبق)
- ٤- أنشأت الدولة وزارة الدولة لشئون البيئة عام م (١٩٩٧ - ١٩٩٦ - ١٩٩٩ - ٢٠٠٠)

السؤال الرابع : أ) اذكر معنى ما يلى :

- ١- الهرم
 - ٢- نقل برى
- ب) قارن بين كلا من : التجارة الداخلية ، التجارة الخارجية .

السؤال الخامس : أ) من أنا :

- ١- طائر صديق الفلاح .
 - ٢- قمت بطرد الهكسوس من مصر .
- ب) بم تفسر: كره المصريين للهكسوس .

الامتحان رقم ١٨

السؤال الأول : أ) ضع علامة (√) أو علامة (×) أمام الجمل الآتية :

- ١- تتعدد الأنشطة الاقتصادية في مصر ()
 - ٢- ساعد موقع مصر الجغرافي على قلة زيارة السياح لها ()
 - ٣- تشجع الدولة على استخدام مصادر الطاقة النظيفة ()
- (ب) أكمل ما يأتي : ١- من أهم الحرف التي تعرف بالخدمات
٢- يعتبر القمح من المحاصيل التي تزرع في فصل

السؤال الثاني : أ) اختر الإجابة الصحيحة مما بين القوسين :

- ١- المصدر الرئيسي للمياه في مصر (الأبار - العيون - نهر النيل - الأمطار)
 - ٢- يعمل أغلب سكان كفر الشيخ في (السياحة - الصناعة - الزراعة - التعدين)
 - ٣- استخدم الإنسان الأسمدة لزيادة الإنتاج (الحيواني - الزراعي - المعدني - الصناعي)
- (ب) أكتب المفهوم الذي تدل عليه كل عبارة :
١- عملية استخراج المعادن من باطن الأرض
٢- صناعة تتم في المنازل أو الورش الصغيرة

السؤال الثالث : أ) اختر من عبارات المجموعة (ب) بما يناسب عبارات المجموعة (أ)

- | | |
|------------|------------------------|
| (أ) | (ب) |
| ١- زوسر | - الحاكم الفعلي للبلاد |
| ٢- الفرعون | - صاحب الهرم المدرج |
| ٣- التحنيط | - الحياة بعد الموت |
| | - حفظ الجثة سليمة |
- (ب) بم تفسر : ١- يعد الهرم الأكبر أحد عجائب العالم القديم
٢- أقام الملك (أمنمحات الثالث) سد اللاهون

السؤال الرابع :

- أ) " رغم استشهاده والد أممس وأخيه الأكبر استمرت أمه العظيمة تشجعه لقيادة الجيوش حتى انتصر على الهكسوس "
- ١- ما اسم هذه الأم العظيمة ؟
 - ٢- ما أسباب انتصار أممس على الهكسوس ؟
- (ب) اذكر اسم من قام بالأعمال الآتية :
١- أول من دعا إلى التوحيد في العبادة في مصر القديمة
٢- أمر بنحت تمثال أبي الهول
٣- صاحب النصر على الحيثيين في معركة قادش

الامتحان رقم ١٩

السؤال الأول : أكمل العبارات الآتية بالكلمات المناسبة :

- ١- يستخدم القطن في صناعة
- ٢- بني المصري القديم مسكنه من
- ٣- تعتبر دلتا النيل من أهم المناطق الصالحة لممارسة حرفة
- ٤- مصر بلد سياحي يأتي إليها ملايين من كل بقاع الأرض

السؤال الثاني : اكتب المصطلح العلمي التي تدل عليه كل عبارة من العبارات الآتية :

- ١- المكان الذي يعيش فيه الإنسان يؤثر فيه ويتأثر
- ٢- عملية حفظ الجسم سليم بعد الموت
- ٣- وزارة أنشئت لتكون خاصة للبيئة ووزارة
- ٤- عملية تحويل المواد الخام إلي منتجات تصلح للاستخدام

السؤال الثالث : ضع علامة (√) أمام العبارة الصحيحة وعلامة (×) أمام العبارة الخاطئة :

- ١- استطاع أحمرس هزيمة الهكسوس وطردهم من مصر ()
- ٢- يساعء ءءان المصنع على التءفیف من تلوث البینة ()
- ٣- تشجع الءولة على اسءءءام مصادر الطاقة النظيفة ()
- ٤- البینة الزراعیة تمیزت بانتشار حرفة الزراعة بین سكانها ()

السؤال الرابع : اختر الإجابة الصحیحة مما بین القوسین فیما یلی :

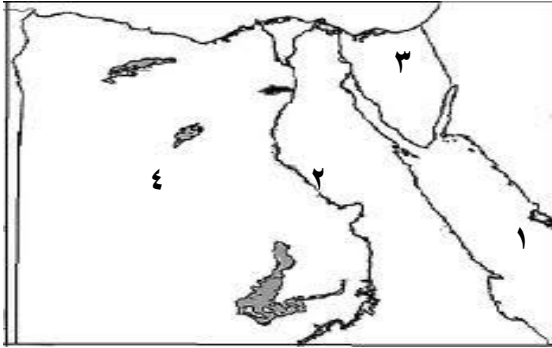
- ١- یعتبر..... من المحاصیل الصیفیة . (القمح - الشعیر - القطن)
- ٢- عملیة البیع والشراء یقصد بها (التجارة - التعدین - الصنائة)
- ٣- معبد الكرنك من الآثار (الیونانیة - الرومانیة - الفرعونیة)
- ٤- النواة الأولى للمجتمع المصری قدیما هی (الأسرة - المجتمع - المدرسة)

السؤال الخامس : بم تفسر :

- ١- إنشاء القناطر والسدود
- ٢- تنوع المحاصیل الزراعیة
- ٣- إقبال السیاح على زیارة مصر طول العام

الامتحان رقم ٢٠

السؤال الأول : أ) اكتب مءلول الأرقام على الخریطة التالیة :



- ١- البحر.....
- ٢- نهر.....
- ٣- شبه جزیرة.....
- ٤- الصحراء.....

ب) أكمل العبارات الآتیة بكلمات مناسبة:

- ١- من المحاصیل الصیفیة.....
- ٢- یطلق على عصر الءولة القدیمة عصر بناء.....
- ٣- یرتءى سكان الوجه البحرى الملابس الثقیلة فی فصل.....

السؤال الثانى : أ) ضع علامة (✓) أمام العبارة الصحیحة وعلامة (x) أمام العبارة غیر الصحیحة :

- ١- تقوم الزراعة فى السواحل الشمالیة لمصر على المیاء الجوفیة ()
- ٢- التجارة الءاخلیة بین مصر والءول الأخرى ()
- ٣- أغلب سكان البینة الساحلیة یشتغلون بالصیء وأعمال البحر . ()
- ٤- أنشأ الملك زوسر الهرم الأوسط ()
- ٥- تهءف حرفة التعدین الى البءء والتقیب عن المعادن ()

السؤال الثالث : اختر الإجابة الصحیحة مما بین القوسین :

- ١- من مصایء المیاء العذبة فى مصر بحیرة..... (اءكو - المنزلة - ناصر - البیرءویل)
- ٢- استطاع الملك زوسر السیطرة على..... (النوبیین - اللیبیین - السوریین - المغول)
- ٣- یعمل أغلب سكان الریف بحرفة..... (الصنائة - الزراعة - التجارة - الصیء)
- ٤- من المواد الخام الزراعیة..... (الصوف - الألبان - القطن - الجلوء)
- ٥- أمر الملك..... بنءء تمثال أبو الهول (مینا - خوفو - زوسر - خفرع)

السؤال الرابع : أ) اكتب المصطلح الءال على كل عبارة من العبارات الآتیة :

- ١- العمل الءى یقوم به الإنسان لیرتزق منه
- ٢- هی ءءویل المادة الخام إلى منتءات تصلح للاستءءام بواسطة الإنسان
- ٣- فترة زمنیة من فترات التاریخ تتمیز بخصائص معینة عن غیرها .

ب) بم تفسر : (یكتفى بسبب واحد)

- ١) تنوع المحاصیل الزراعیة فى مصر
 - ٢) یءء الهرم الأكبر إحدى عجائب الءنیا السبع .
- الامتحان رقم ٢١ (للمتفوقین)

السؤال الأول : أكمل العبارات الآتية

١. من أشهر ملوك الدولة القديمة
٢. يتكون هرم زوسر من مصاطب
٣. أقام الملك أمنمحات الثالث قصر
٤. تصل قناة سيزوستريس بين و
٥. اتخذ الهكسوس مدينة عاصمة لهم في مصر
٦. دلتا النيل تصلح لممارسة حرفة
٧. من المحاصيل الصيفية
٨. يدخل الحديد في صناعة
٩. تعتمد الزراعة في السواحل الشمالية لمصر على مياه
١٠. العمل بالتعليم من الأنشطة التي تسمى بـ

السؤال الثاني : بم تفسر

- ١- يسمى عصر الدولة القديمة عصر الأهرامات
- ٢- يعتبر الهرم الأكبر من عجائب الدنيا السبع
- ٣- يسمى عصر الدولة الوسطى عصر الرخاء الاقتصادي
- ٤- كره المصريين للهكسوس
- ٥- يعتبر الملك رمسيس الثاني بطل حرب وسلام

السؤال الثالث : اكتب ما تشير إليه العبارات الآتية :

- ١- أقامت معبد الدير البحرى غرب الأقصر
- ٢- شجعت ابنها على محاربة الهكسوس
- ٣- أمر بنحت تمثال أبى الهول
- ٤- أمر بحفر قناة سيزوستريس
- ٥- أنشأ سد اللاهون
- ٦- اتخذ من مدينة طيبة عاصمة للبلاد
- ٧- الملك الذى دعا الى توحيد الآلهة
- ٨- صاحب الهرم الأكبر
- ٩- صاحب الهرم المدرج
- ١٠- مادة خام يصنع منها إطارات السيارات
- ١١- تحويل أى مادة خام إلى منتجات
- ١٢- المصدر الرئيسى لرى الزراعة فى مصر
- ١٣- صناعات تتم فى المنازل أو الورش الصغيرة
- ١٤- حيوانات تربي فى الصحراء

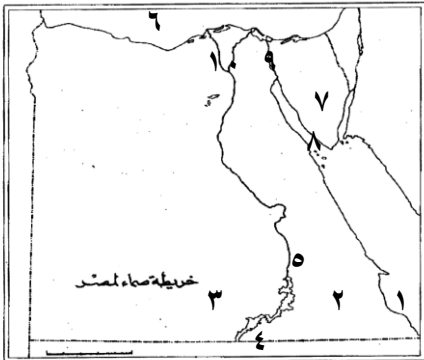
السؤال الرابع : رتب الأحداث التاريخية الآتية من القديم إلى الحديث

عقد أول معاهدة سلام فى التاريخ - إنشاء سد اللاهون - حفر قناة سيزوستريس - بناء هرم زوسر

السؤال الخامس : اذكر أهم أعمال الملوك الآتية :

- الملك منتوحتب الثانى
- الملك خفرع
- الملكة حتشبسوت
- الملك أمنمحات الثالث

السؤال السادس : أمامك خريطة صماء لمصر حدد ما تدل عليه الأرقام



- ١- البحر
- ٢- الصحراء
- ٣- الصحراء
- ٤- بحيرة
- ٥- نهر
- ٦- البحر
- ٧- شبه جزيرة
- ٨- خليج
- ٩- قناة
- ١٠- أرض خصبة